



مديرية التربية والتعليم للواء الأغوار الجنوبية

الاختبار النهائي للفصل الدراسي الثاني للعام الدراسي 2017-2018

في مبحث الاجتماعيات للصف الثاني الأساسي

اليوم / التاريخ :

الزمن : ساعة

مدرسة عثمان بن عفان الأساسية المختلطة

الاسم :

ملاحظة : أجبني عن جميع الأسئلة الآتية علماً أن عددها (4) وعدد الصفحات (2) والإجابة على نفس الورقة.

السؤال الأول: ضع إشارة (√) أمام العبارة الصحيحة وإشارة (×) أمام العبارة الخاطئة
(12 علامة)

- 1- قائد الثورة العربية الكبرى الشريف الحسين بن علي ()
- 2- مؤسس إمارة شرق الأردن الملك عبدالله الثاني حفظه الله ()
- 3 - ألوان علم المملكة الأردنية الهاشمية على الترتيب الأسود و الأخضر و الأبيض والأحمر ()
- 4- ملك المملكة الأردنية الهاشمية الملك عبدالله ابن الحسين الثاني حفظه الله ورعاه ()
- 5-عاصمة الأردن هي الكرك ()
- 6- أهم انجازات الجيش العربي الأردني معركة الكرامة الخالدة ()

السؤال الثاني : اكتب ثلاث خدمات يحرص رجال الدفاع المدني على تقديمها (4,5 علامات)

(إطفاء الحرائق , تعليم القراءة والكتابة , نقل المرضى الى المستشفيات , إنقاذ المحاصرين في الثلوج ,
نسيج الملابس)

1 -

2

3 -

السؤال الثالث : اكتب ثلاث خدمات يقدمها الجيش العربي الأردني (6علامات)

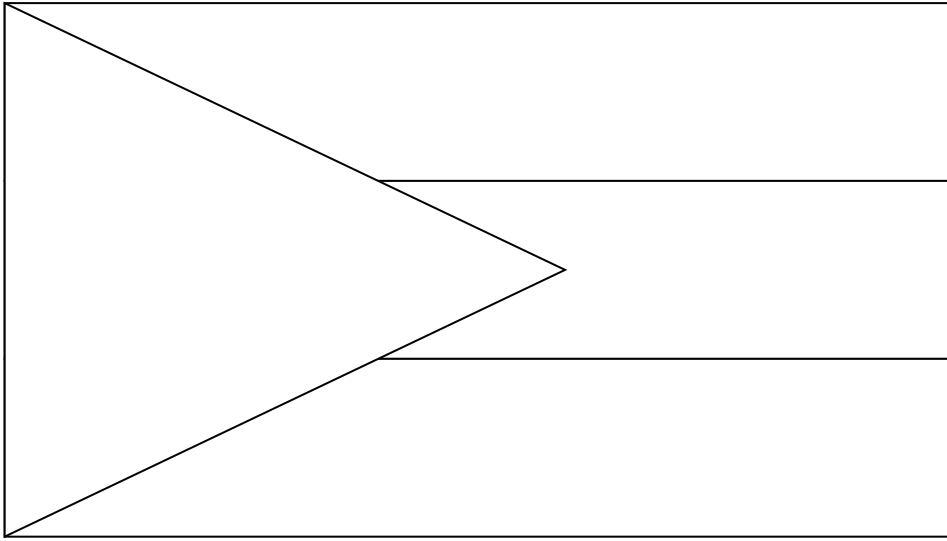
(الأمن , حماية الوطن , نسج الملابس , تقديم الخدمات للمواطنين)

_____ -1

_____ -2


_____ -3

السؤال الرابع : ألون علم الثورة العربية الكبرى (2,5 علامة)



انتهت الأسئلة مع تمنياتي للجميع بالنجاح

معلمات المادة : منى الدغيمات , صابرين الجعارات , سلسبيل العجالين



Abdullah Bin Abbas Girls' School
Final worksheet Date: _/ _/2018
Second Grade

Listen and write:



Listen and write:



grandmother
 dad
 mum
 grandfather
 brother
 cousin

Read and colour:



green candles



red presents

Read and circle:

1) She's from Jerusalem / Haifa.



2) These cars is / are fast.



3) He feels happy / sad.



4) Crayon is between / on nuts and dates.





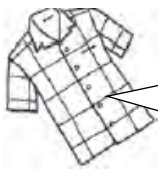
Read and write:

1) small. / car / This / is _____

2) reading / We / like _____

Find and write :

shirt	town	mountain	pyjamas	mouse	swimming
-------	------	----------	---------	-------	----------



Match:



1) He likes playing with friends.

2) She's from Jerusalem .

3) She has a ruler .

4) She's dancing .

5) a keyboard .

6) The hat is in the bag.



Circle and Write :



This is my / .

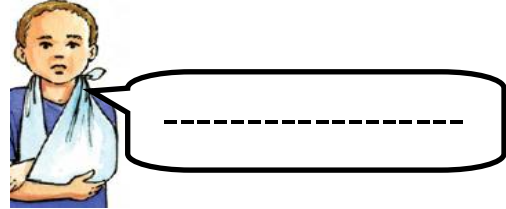

He has / hair .

He's from / .

Complete:

How do you feel ?

I / feel / happy / sad



Complete:

A _____ D _____ G .

_____ o _____ r _____ u _____ x .

10 _____ 13 _____ 17 _____ 20.

Write:

His pyjamas are blue and brown



مديرية التربية والتعليم للأغوار الجنوبية

الاختبار النهائي للفصل الدراسي الثاني للعام الدراسي 2017-2018

في مبحث . التربية الإسلامية. للصف الثاني

اليوم / التاريخ :

الزمن : ساعة

مدرسة عثمان بن عفان الأساسية المختلطة

الاسم :

ملاحظة : أجبني عن جميع الأسئلة الآتية علما أن عددها (4) وعدد الصفحات (2) والإجابة على نفس الورقة.

السؤال الأول :- أملأ الفراغ بالكلمة المناسبة من الصندوق (4 علامات)

(صدرك، يسرا، انقض، ربك)

- الم نشرح لك _____ و⁽¹⁾نمنا عنك وزرك ⁽²⁾_____ ظهرك ⁽³⁾فمنا لك ذكرك ⁽⁴⁾
- فان مع العسر _____ ⁽⁵⁾مع العسر يسرا ⁽⁶⁾ذا فرغت فانصب ⁽⁷⁾لى ربك فارغب ⁽⁸⁾

السؤال الثاني :- ضع دائرة حول رمز الإجابة الصحيحة في ما يأتي : (8 علامات)

1-صلة القرابة بين عبدالله بن عباس ورسولنا محمد صلى الله عليه وسلم:

- أ- ابن خاله ب- ابن عمه ج- ابن خالته

2-عند الاعتدال من الركوع في الصلاة أقول:

- أ- سمع الله لمن حمده ب- سبحان ربي الأعلى ج- سبحان ربي العظيم

3-من صفات المعلم الأمين:

- أ- لا يغش في سلعته ب- يحافظ على ممتلكات مدرسته ج- يدرس بجد ونشاط

4-واحدة من الآتية ليست من أركان الإيمان:

- أ- الإيمان بالله ب- إيتاء الزكاة ج- الإيمان بالرسول

السؤال الثالث :- أضع الكلمة المناسبة في الفراغ (8 علامات)

(الطريق ، الأذى ، الجنة ، تنفع ، رداء ، الأمن ، صدقة)

1- بسط نبينا محمد صلى الله عليه وسلم _____ ووضع الحجر الأسود عليه

2- من النعم التي انعم بها الله تعالى على قريش الرزق و _____ والاستقرار

3- دعا نبينا محمد (ص) قومه الى ترك عبادة الأصنام لأنها لا تضر ولا _____

4- قال رسول الله صلى الله عليه وسلم :إماطتك _____ عن _____

5- جزاء المؤمنين بالله تعالى هو _____

السؤال الرابع : ضع إشارة (√) (إمام السلوك الدال على خلق الأمانة (5علامات)

أ- أعطى علي النقود التي وجدها في ساحة المدرسة لمعلمه ()

ب- عندما ازور أحدا في بيته اجلس في المكان الذي يختاره ()


ج- أحافظ على ممتلكات مدرستي ()

ج- كسرت سعاد قلم زميلتها الذي استعارته منها ()

د- لا أطيل الجلوس إذا زرت صديقي ()

انتهت الأسئلة مع تمنياتي للجميع بالنجاح

معلمة المادة :- ماجدة الخنازرة



مديرية التربية والتعليم للواء الأغوار الجنوبية
الاختبار النهائي للفصل الدراسي الثاني للعام الدراسي 2017-2018
في مبحث الرياضيات للصف الثاني الأساسي
مدرسة عثمان بن عفان الأساسية المختلطة
الاسم :
اليوم / التاريخ :
الزمن : ساعة

ملاحظة : أجبني عن جميع الأسئلة الآتية علماً أن عددها (6) وعدد الصفحات (3) والإجابة على نفس الورقة.

السؤال الأول: اوجد ناتج جمع الإعداد الآتية : (3 علامات)

$$\begin{array}{r} 509 \\ 139 \\ \hline \end{array} + \boxed{} = 502 + 376$$

$\boxed{}$

السؤال الثاني: اوجد ناتج طرح الإعداد الآتية: (2 علامات)

$$\begin{array}{r} 507 \\ 203 \\ \hline \end{array} - \boxed{} = 314 - 431$$

$\boxed{}$

السؤال الثالث: اجد ناتج الضرب للأعداد التالية: (6 علامات)

$$\boxed{} = 5 \times 5$$

$$\boxed{} = 10 \times 2$$

$$\begin{array}{r} 7 \\ 3 \times \\ \hline \end{array}$$

$$\begin{array}{r} 2 \\ 4 \times \\ \hline \end{array}$$

$$\begin{array}{r} 3 \\ 4 \times \\ \hline \end{array}$$

$$\begin{array}{r} 5 \\ 10 \times \\ \hline \end{array}$$

$\boxed{}$

$\boxed{}$

$\boxed{}$

$\boxed{}$

السؤال الرابع: اوجد ناتج القسمة : (4 علامات)

$$\square = 5 \div 20$$

$$\square = 2 \div 6$$

$$\square = 5 \div 15$$

$$\square = 3 \div 9$$

السؤال الخامس :

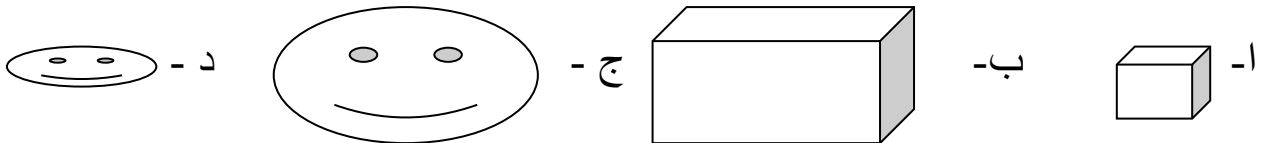
فرع (أ) اكتب الوقت بالأرقام من خلال الصور المعطاة (3 علامات)



فرع (ب) أضع دائرة حول زمر الإجابة الصحيحة (4 علامات)
1- الشكل الذي كتلته اكبر

ا- كرة القدم ب- مبني المدرسة ج- شجرة الزيتون د- العصفور

2- الجسم الذي حجمة اكبر



3- استخدام المسطرة لمعرفة طول المساحة المعطاة

د- 9سم

ج- 6سم

ب- 5سم

ا- 3سم

4- ايهما اطول في الاشياء الاتية :

- ا- السبورة الموجودة في صفك ب- قلم الرصاص الذي معك ج- علبة البسكويت
د- كتاب اللغة العربية

السؤال السادس: أضع مجموع كل من فئات النقود التالية : (3 علامات)





انتهت الأسئلة مع تمنياتي للجميع بالنجاح

مديرية التربية والتعليم للواء الأغوار الجنوبية
الاختبار النهائي للفصل الدراسي الثاني للعام الدراسي 2017-2018
في مبحث اللغة العربية للصف الثاني الأساسي
مدرسة عثمان بن عفان الأساسية المختلطة
الاسم :
اليوم / التاريخ :
الزمن : ساعة

ملاحظة : أجبني عن جميع الأسئلة الآتية علماً أن عددها (8) وعدد الصفحات (3) والإجابة على نفس الورقة.

السؤال الأول :- استخرج من درس القراءة الكلمات الآتية واكتبها : (7 علامات)

قال رسول الله صلى الله عليه واله وسلم :
(من سلك طريقاً يلتمس فيه علماً سهل الله له طريقاً إلى الجنة) وان الملائكة لتضع أجنحتها رضا لطالب العلم ,
وان طالب العلم يستغفر له من في السماء والأرض , حتى الحيتان في الماء , وان فضل العلم على العابد كفضل
القمر على سائر الكواكب)

أ- كلمة فيها لامٌ قمرية _____

ب- كلمة تنتهي (ة) _____

ج- كلمة تنتهي ب (هـ) _____

د- كلمة تنتهي ب (ي) _____

و- كلمة تنتهي ب (اء) _____

هـ- كلمة تنتهي بتنوين فتح _____

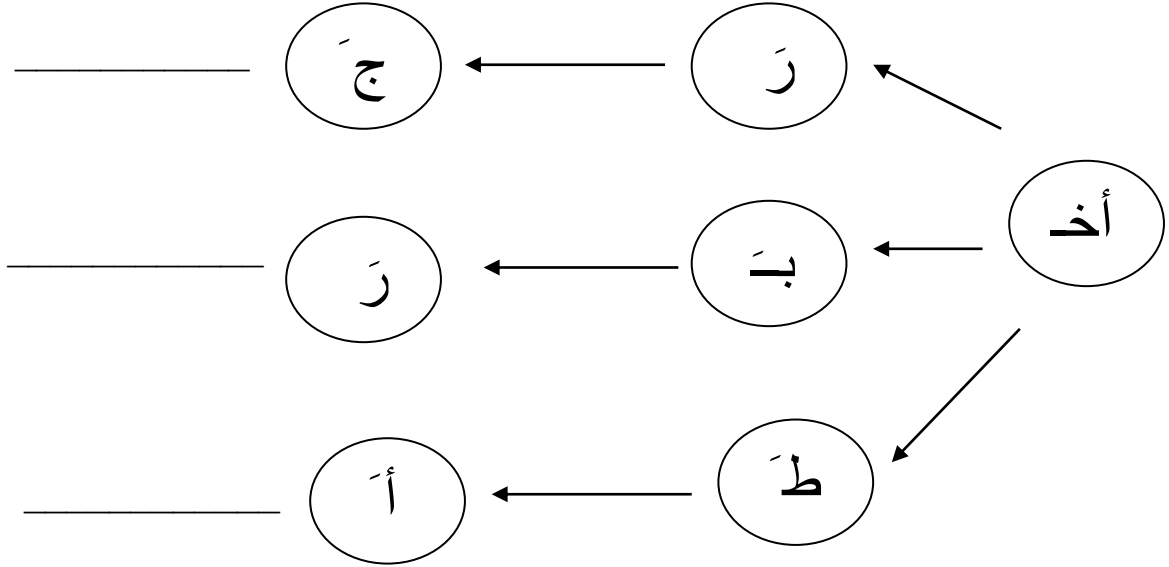
ي- كلمة فيها شدة _____

السؤال الثاني :- احلل الكلمات الى مقاطع :- (3 علامات)

يَشْرَبُ

نَشِيطٌ

السؤال الثالث:- اركب من المقاطع كلمات :- (3 علامات)



السؤال الرابع : اضع حرف (أ) مرة، وحرف (ع) مرة في الفراغ : (3 علامات)

تقر..

تقر..

لم..

لم..

ر .. ي

ر .. ي

السؤال الخامس: أصل الكلمة بضدها في المعنى : (1,5 علامة)

انهزم

الأعداء

الأصدقاء

الأسر

الحرية

انتصر

السؤال السادس: أعيد ترتيب الكلمات لأكون منها جملتين مفيدتين : (2 علامات)

شاركت , في , وفاء , المدرسة , احتفال

شاركت

وفاء

السؤال السابع: أملأ الفراغ مما بين القوسين : (أهلاً وسهلاً , أسف , من فضلك) (3 علامات)

أقول ----- عندما اطلب شيئاً

أقول ----- عندما أستقبل الضيوف

أقول ----- عندما أعتذر

السؤال الثامن: أكتب بخط جميل: (2,5 علامة)

نجد أديسون في صنع المصباح الكهربائي

انتهت الأسئلة مع تمنياتنا بالنجاح

مديرية التربية والتعليم للواء الأغوار الجنوبية
الاحتياز النهائي للفصل الدراسي الثاني للعام الدراسي 2017-2018
في مبحث العلوم للصف الثاني الأساسي

اليوم / التاريخ :
الزمن : ساعة

مدرسة عثمان بن عفان الأساسية
الاسم:

ملاحظة: أجيب عن جميع الأسئلة الآتية علماً إن عددها (4) وعدد الصفحات (2) والإجابة على نفس الورقة (8 علامات)

السؤال الأول: أملأ الفراغ في الجمل الآتية:

(الساق ، الهواء ، اهتزاز ، البذرة ، الجذور)

- 1- سماع صوت الأذان دليل على أن الصوت ينتقل _____
- 2- تنتج الأصوات عن _____ الأجسام
- 3- أول جزء ينمو من البذرة بعد زراعتها هو _____
- 4- يبدأ النبات الزهري حياته من _____

السؤال الثاني: صنف المواد الآتية إلى حالاتها الثلاث: (5 علامات)
(عصير ، تفاحة ، بخار ماء ، قهوة ، حجر)

مواد صلبة	مواد سائلة	مواد غازية

السؤال الثالث: أصل بين الحيوان وطعامه: (6 علامات)

الحيوان	طعامه
سمكة القرش	دجاجة
ذئب	أعشاب
ضفدع	حشرة
خروف	سمكة صغيرة

السؤال الرابع : أضع إشارة (√) إمام العبارات الصحيحة وإشارة (×) إمام العبارات الخاطئة في ما يأتي :
(6 علامات)

- 1- الهواء من مكونات البيئة غي الحية ()
- 2- يعيش الحوت في البحر ()
- 3- يتغذى الأرنب على الغزال ()
- 4- يسبب دخان المصانع إمراضا للإنسان ()
- 5- موطن الجمل هو الغابة ()
- 6- شجرة النخيل موطنها الصحراء ()

انتهت الأسئلة
مع تمنياتي للجميع بالنجاح