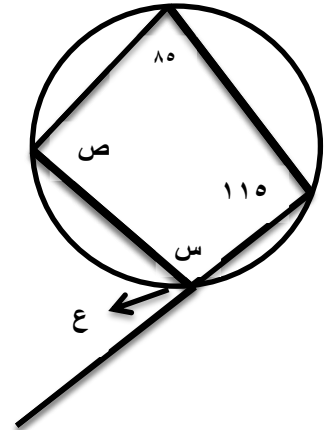


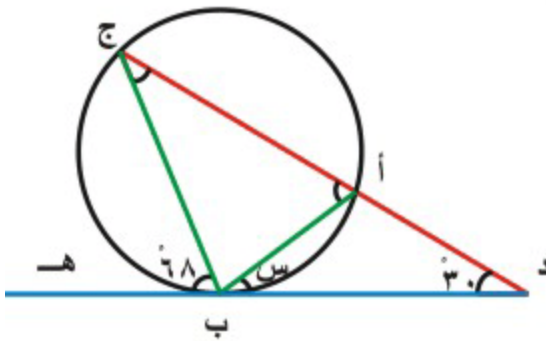
(۳) طول ب س =

السؤال الرابع : جدي قيمة س ، ص ، ع في كل شكل من الاشكال التالية مع التبرير : (١٢ علامة)

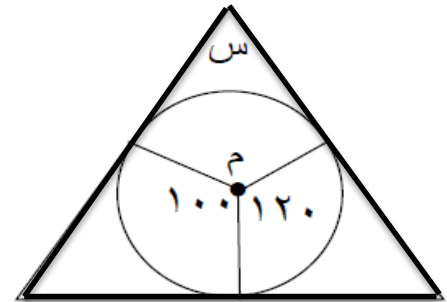
(١)



(٤)



(٣)



أكتبى سؤالاً تمنيتي مجيئه في الاختبار وأجيبى عنه .

السؤال الخامس: اثبتي أن : قياس الزاوية الخارجة في الشكل الرباعي الدائري يساوي قياس الزاوية المقابلة للمجاورة لها . (٣علامات)

لكي تتفوقي يجب أن تؤمني أولا بأنك تستطيعين ذلك



بالتوفيق



أسماء مصطفى