

امتحان تجريبي لقبول الطلبة

المرشحين لمدارس الملك عبدالله للتميز

مدة الامتحان : ساعتين

يتكون الامتحان من أسئلة اختيار من متعدد

١) ليس من عوامل العدد (٥٤) هو :

أ (٣) ب (٨) ج (٩) د (٦)

٢) واحد من مايلي من ضمائر المخاطب :

أ (هو) ب (نحن) ج (أنت) د (هم)

٣) حدثت معركة الكرامة في منطقة :

أ (عكا) ب (الضفة الغربية) ج (الكرامة) د (يافا)

٤) تمتلك جميع الأجسام المتحركة :

أ (طاقة حركية) ب (غذاء صحي) ج (قوة مغناطيسية) د (قوة كهربائية)

٥) ثالث الخلفاء الراشدين هو :

أ (عثمان بن عفان) ب (عمر بن الخطاب) ج (أبوبكر الصديق) د (حمزة بن عبدالمطلب)

٦) العدد العشري الذي يساوي $(\frac{3}{5})$ هو :

أ (٥,٣) ب (٣,٥) ج (١,٣) د (٠,٦)

٧) المحافظة التي عرفت قديما باسم (توفل) هي :

أ (معان) ب (عمان) ج (العقبة) د (الطفيلة)

٨) المادة الموصلة التي صنعت منها معظم أسلاك التوصيل في الدارة هي :

أ (الألمنيوم) ب (البلاستيك) ج (النحاس) د (الحديد)

٩) العدد الذي يكمل النمط الآتي { ٧ ، ١٠ ، ١٥ ، ٢٢ ، □ } هو :

أ (٢٥) ب (٢٧) ج (٢٩) د (٣١)

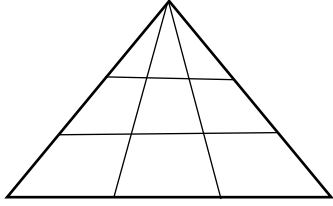
١٠) مصدر الفعل الثلاثي (نزل) هو :

أ (نزال) ب (نزول) ج (نزيل) د (إنزال)

١١ (الصحابي الذي لقب بذئ النورين هو :

أ (عمر بن الخطاب ب (عثمان بن عفان ج (علي بن ابي طالب د (ابوبكر الصديق

١٢ (كم عدد المثلثات في الشكل التالي :



أ (٦ ب (١٦

ج (١٨ د (٢٢

١٣ (اكتب العدد المناسب في المربع حسب النمط الآتي :

$$٧ = ٥٦$$

$$٦ = ٤٢$$

$$٥ = ٣٠$$

$$٤ = ٢٠$$

$$٢ = \square$$

أ (١٢ ب (٨

ج (٧ د (٦

١٤ (استقلت المملكة الأردنية الهاشمية في عام :

أ (١٩٤٤ م ب (١٩٤٥ م ج (١٩٤٦ م د (١٩٤٧ م

١٥ (عدد الرجال الذين بايعوا الرسول صلى الله عليه وسلم في بيعة العقبة الأولى :

أ (١٢ ب (١٣ ج (١٤ د (١٥

١٦ (عند سقوط الصوت على طاولة خشبية فإن معظمه :

أ (ينعكس ب (يمتص ج (ينفذ د (ينعكس

١٧ (اسم الاستفهام (أين) يسأل به عن :

أ (العاقل ب (غير العاقل ج (المكان د (الزمان

١٨ (المعركة التي تكبد فيها العدو الصهيوني خسائر مادية وبشرية هي معركة :

أ (اليرموك ب (الكرامة ج (اللطونة د (لاشيء مما ذكر

١٩ (كم ساعة في (٣٠٠) أسبوع :

أ (٧٠٠ ب (٢١٠٠ ج (١٢٨٥ د (٥٠٤٠٠

٢٠ (من مصادر الطاقة المتجددة :

أ (النفط ب (الفحم الحجري ج (الشمس د (الغاز الطبيعي

٢١ (استشهد علي بن أبي طالب سنة :

أ (٤٠ هـ ب (٤١ هـ ج (٤٢ هـ د (٤٣ هـ

٢٢ (عرفت عاصمة المملكة الأردنية الهاشمية قديما باسم :

أ (جراسا ب (ربة عمون ج (مدينة الفسيفاء د (ارابيلا

٢٣ (واحد من مايلي لا يأتي مجرورا :

أ (الصفة ب (المفعول به ج (المضاف إليه د (الاسم المجرور

٢٤ (إذا كانت س = ٢ ، ص = ٥ ، فإن قيمة المقدار التالي (٢س + ص) تساوي :

أ (٥ ب (٧ ج (٩ د (١٢

٢٥ (إذا كانت نسبة الحضور في أحد المدارس ٩٥% ، وكان عدد طلاب أحد الصفوف (٤٠) طالبا فإن عدد الطلاب الغياب يكون :

أ (٢ ب (٤ ج (٥ د (٣٨

٢٦ (واحدة من الآتية لا يستخدم النفط في تصنيعها :

أ (البلاستيك ب (الأدوية ج (الدهانات د (الأسمدة

٢٧ (ضع الاسم الموصول المناسب في الفراغ (شاهدنا الأطفال يلعبون في الحديقة) :

أ (الذي ب (الذين ج (التي د (اللذان

٢٨ (الصحابي الذي تزوج ابنتي الرسول عليه الصلاة والسلام رقية ثم أم كلثوم هو :

أ (عمر بن الخطاب ب (عثمان بن عفان ج (علي بن أبي طالب د (عبدالله بن عباس

٢٩ (أكبر محمية في الأردن هي :

أ (محمية ضانا ب (محمية الأزرق ج (محمية الشومري د (محمية وادي رم

٣٠ (إذا كان أربع أمثال عدد هو ٤٨ ما هو ثلث هذا العدد :

أ (٤ ب (٨ ج (١٢ د (١٦

٣١ (تحول المادة من الحالة الصلبة إلى الحالة السائلة يسمى :

أ (غليان ب (ذوبان ج (انصهار د (تكاثف

٣٢ (وحدة قياس القوة هي :

أ (غرام ب (كيلوغرام ج (نيوتن د (لاشيء مما ذكر

٣٣ (الفعل المضارع من (حرث) هو :

أ (أحرث ب (حارث ج (محروث د (يحرث

٣٤ (الكلمة التي تحتوي على لام قمرية هي:

أ (الدفتر ب (الساق ج (السماء د (الليل

٣٥ (من أبرز المعالم الأثرية في جرش :

أ (جبل نيبو ب (المسرح الجنوبي ج (السيق د (المدرج الروماني

٣٦ (عدد مضافا إليه (٥) يصبح الناتج ٩ :

أ (٥س + ٩ ب (٥س = ٩ ج (٩ = ٥ + ٩ د (٥ = ٩ + ٥

٣٧ (العدد (٦) يكتب كنسبة مئوية :

أ (٠,٠٦% ب (٦% ج (٦٠% د (٦٠٠%

٣٨ (أي من الأعداد الآتية يقع بين (٠,٠٧) و (٠,٠٨) :

أ (٠,٧٥ ب (٠,٠٧٥ ج (٠,٠٠٧٥ د (٠,٠٠٠٧٥

٣٩ (مجموعة المكونات الحية وغير الحية التي توجد معا في مكان وبينها علاقات :

أ (النظام البيئي ب (المستهلكات ج (ائزان بيئي د (المنتجات

٤٠ (من مميزات الطاقة الشمسية :

أ (مهددة بالانفاذ ب (ذات تكلفة عالية ج (ملوثة للبيئة د (غير ملوثة للبيئة

٤١ (حكم صلاة الوتر هو :

أ (فرض ب (واجب ج (سنة مؤكدة د (مباح

٤٢ (المضاف إليه في الجملة الآتية (ألوان الطيف في السماء جذابة) هو :

أ (ألوان ب (الطيف ج (السماء د (جذابة

٤٣ (الاسم المعرفة الوحيد بين الأسماء الآتية :

أ (علم ب (صف ج (مدرسة د (الحق

٤٤ (إحدى ألوان العلم الأردني يدل على راية الثورة العربية الكبرى :

أ (الأحمر ب (الأبيض ج (الأخضر د (الأسود

٤٥ (المكعب الكامل الذي يقع بين الـ (١٠) و (٣٠) هو :

أ (١٦ ب (٢٠ ج (٢٥ د (٢٧

٤٦ (قطعة أرض مساحتها (١٨ دونم) زرع ثلثها بطاطا ، ونصفها بندورة ، والباقي خيار

كم دونما المساحة المزروعة للخيار :

أ (١ دونم ب (٣ دونم ج (٦ دونم د (٩ دونم

٤٧ (إحدى الآتية تعد من الصفات الوراثية :

أ (القدرة على الكلام ب (النمش ج (طول الشعر د (الصوت الجميل

٤٨ (أكثر القارات تأثرا بالتصحّر هي :

أ (إفريقيا ب (آسيا ج (أوروبا د (أمريكا الشمالية

٤٩ (واحد من الآتي لا يجوز التيمم به :

أ (الماء ب (الطين ج (الحصى د (الرمل

٥٠ (واحدة مما يلي ليست من حروف النصب :

أ (لن ب (أن ج (كي د (عن

٥١ (ضد كلمة (النصر) هو :

أ (الفوز ب (الهزيمة ج (الربح د (الشجاعة

٥٢ (المتوسط الحسابي للقيم الآتية { ٨ ، ٥ ، ٧ ، ٣ ، ٢ } هو :

أ (٤ ب (٥ ج (٦ د (٧

٥٣ (المضاعف الخامس للعدد (٩) هو :

أ (٣٦ ب (٤٠ ج (٤٥ د (٥٤

٥٤ (جدارا هو الاسم القديم لـ :

أ (جرش ب (عمان ج (العقبة د (أم قيس

٥٥ (كانت مهنة نبي الله داود عليه السلام :

أ (الحدادة ب (النجارة ج (التجارة د (الرعي

٥٦ (يخرج الأكسجين من الجسم عن طريق :

أ (الزفير ب (الشهيق ج (الشهيق والزفير د (لاشيء مما ذكر

٥٧ (توجد حاسة الشم لدى الثعبان في :

أ (عينيه ب (أنفه ج (لسانه د (ذيله

٥٨ (علامة الترقيم المناسبة في الفراغ الآتي (قال أخي ___) هي :

أ (، ب (؟ ج (؛ د (:

٥٩ (مرادف كلمة (يهجر) هو :

أ (يحب ب (يقطع ج (يكره د (يطلب

٦٠ (ناتج ($1 + 1 + 1 \div 1 + 1 \times 1 - 1$) يساوي :

أ (١ ب (٢ ج (٣ د (٤

٦١ (قيمة (س) في المعادلة ($35 \div س = 7$) تساوي :

أ (٥ ب (٦ ج (٧ د (٨

٦٢ (إذا كانت إحدى زوايا المعين قائمة فإنه يسمى :

أ (شبه منحرف ب (مربع ج (مستطيل د (مثلث

٦٣ (يقع الأردن في قارة :

أ (إفريقيا ب (أوروبا ج (آسيا د (أمريكا الشمالية

٦٤ (أول من آمن بالرسول صلى الله عليه وسلم :

أ (عمر بن الخطاب ب (عثمان بن عفان ج (علي بن أبي طالب د (أبوبكر الصديق

٦٥ (من طرائق ري المزروعات التي تساهم في ترشيد استهلاك المياه :

أ (التنقيط ب (القنوات ج (الرشاشات د (لاشيء مما ذكر

٦٦ (وظيفة صيوان الأذن هي :

أ (تمرير الصوت ب (الإهتزاز ج (تجميع الصوت د (نقل الصوت للدماغ

٦٧ (من حروف الجر :

أ (أن ب (مع ج (لن د (حتى

٦٨ (مرادف كلمة (نثر) هو :

أ (رمى ب (وقع ج (أخذ د (أصاب

٦٩ (العدد الذي يكمل النمط الآتي { ١٠٢٤ ، ٢٥٦ ، ٦٤ ، ١٦ ، □ } هو:

أ (٢ ب (٤ ج (٦ د (٨

٧٠ (عدد خطوط التماثل للمضلع السباعي المنتظم هو :

أ (صفر ب (٦ ج (٧ د (١٤

٧١ (يضع عامل في كل صندوقين (٦٠) علبة حلوى ، كم علبة حلوى يضع في (٢١) صندوق :

أ (٦٠٠ ب (٦١٥ ج (٦٢٠ د (٦٣٠

٧٢ (أكبر محافظات الأردن من حيث المساحة :

أ (عمان ب (المفرق ج (الزرقاء د (معان

٧٣ (وقعت غزوة أحد سنة :

أ (١ هـ ب (٢ هـ ج (٣ هـ د (٤ هـ

٧٤ (ماهو العدد المجهول في الشكل المجاور :

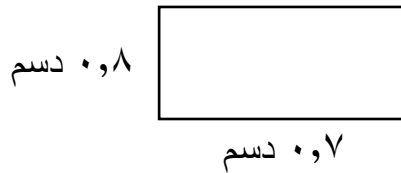


أ (٨ ب (١٢ ج (١٦ د (٢٠

٧٥ (أي الأعداد الآتية يعتبر أوليا :

أ (١٦ ب (١٩ ج (٢٧ د (٣٢

٧٦ (مساحة الشكل المجاور :



أ (٢٨ سم^٢ ب (٣٠ سم^٢

ج (٤٢ سم^٢ د (٥٦ سم^٢

٧٧ (مصدر الفعل (أحسن) هو :

أ (إحسانا ب (حسنا ج (تحسينا د (تحسن

٧٨ (تتحول الطاقة المخزنة في الغاز الموجود في أسطوانة الغاز لفرن طهي من :

أ (كيميائية إلى حركية

ب (حرارية إلى حركية

ج (كيميائية إلى حرارية

د (حرارية إلى كيميائية

٧٩ (أفضل المناطق في الأردن لاستغلال طاقة الرياح في توليد الطاقة الكهربائية هي :

أ (البحر الميت

ب (الشوبك

ج (وادي عربة

د (الأغوار الشمالية

٨٠ (عدد محافظات المملكة الأردنية الهاشمية :

أ (١٢

ب (١٣

ج (١٤

د (١٥

٨١ (بعد وفاة النبي صلى الله عليه وسلم شارك الزبير بن العوام رضي الله عنه في :

أ (فتح العراق

ب (فتح بلاد الشام

ج (فتح بلاد فارس

د (فتح مصر

٨٢ (ناتج تحويل (٩٨ م^٢ = سم^٢) يساوي :

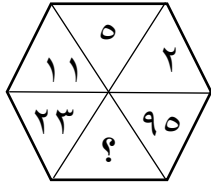
أ (٩٨٠

ب (٩٨٠٠

ج (٩٨٠٠٠

د (٩٨٠٠٠٠

٨٣ (ما قيمة العدد المجهول :



أ (٤٦

ب (٤٧

ج (٤٨

د (٤٩

٨٤ (أحد الكسور الآتية بأبسط صورة :

أ ($\frac{5}{30}$

ب ($\frac{12}{24}$

ج ($\frac{7}{22}$

د ($\frac{3}{33}$

٨٥ (أحد الآتي هو جمع مذكر سالم :

أ (كراسي

ب (طالبات

ج (مهندسون

د (علماء

٨٦ (الرمز الكيميائي لعنصر الكربون هو :

أ (C

ب (O

ج (N

د (F

٨٧ (في أي جزء من النباتات الزهرية يتم التكاثر :

أ (الساق

ب (الزهرة

ج (الورقة

د (الجذور

٨٨ (حدثت معركة اللطرون سنة :

أ (١٩٤٥ م

ب (١٩٤٦ م

ج (١٩٤٧ م

د (١٩٤٨ م

٨٩ (أول مسجد بني في الإسلام هو :

أ (المسجد النبوي ب (مسجد قباء ج (المسجد الأقصى د (لاشيء مما ذكر

٩٠ (في رحلة مدرسية كان هناك معلم واحد لكل (١٨) طالب ، فإذا ذهب (٩) معلمين في هذه الرحلة فإن عدد الطلاب في الرحلة يساوي :

أ (١٦٢ طالب ب (١٧١ طالب ج (١٧٢ طالب د (١٨٢ طالب

٩١ (ثلاث وعشرون صحيح وثلاث وأربعون من ألف يكتب بالصيغة القياسية :

أ (٤٣,٣٢ ب (٢٣,٤٣ ج (٢٣,٠٤٣ د (٤٣,٠٢٣

٩٢ (قائل قصيدة (الأسد والصفدع) هو :

أ (إبراهيم طوقان ب (عبدالمنعم الرفاعي ج (أحمد شوقي د (حافظ إبراهيم

٩٣ (أي من الصخور التالية يعتبر من الصخور الرسوبية :

أ (الغرانيت ب (البازلت ج (الرخام د (الحجر الرملي

٩٤ (استخدم العلماء إحدى الآتية لتوضيح تعاقب الليل والنهار :

أ (النمذجة ب (التخمين ج (التجربة د (الصور

٩٥ (يحد المملكة الأردنية الهاشمية من الغرب :

أ (سوريا ب (فلسطين ج (العراق د (السعودية

٩٦ (أول سفير في الإسلام هو :

أ (مصعب بن عمير ب (عبدالله بن عباس ج (عبدالله بن مسعود د (سعد بن معاذ

٩٧ (المثلث قائم الزاوية تكون فيه زاوية :

أ (حادة ب (قائمة ج (منفرجة د (مستقيمة

٩٨ (ناتج تحويل (٣ طن = كغ) يساوي :

أ (٣٠ ب (٣٠٠ ج (٣٠٠٠ د (٣٠٠٠٠

٩٩ (ماعدد المربعات التي يجب تضليلها للحصول على الكسر ($\frac{1}{5}$) :

أ (١ ب (٢ ج (٣ د (٤

١٠٠ (أحد الأفعال الآتية هو فعل معتل :

أ (قال ب (درس ج (جلس د (كتب

١٠١ (قوة تعيق حركة الأجسام هي :

أ (قوة التلامس ب (قوة دفع ج (قوة سحب د (قوة الاحتكاك

١٠٢ (عدد الأيام التي تستغرقها الأرض في الدوران حول محورها خلال (٧٢) ساعة يساوي :

أ (٤ أيام ب (٢ يوم ج (٣ أيام د (يوم واحد

١٠٣ (يتم انتخاب مجلس النواب كل :

أ (٤ سنوات ب (٥ سنوات ج (٦ سنوات د (٧ سنوات

١٠٤ (حكم التجويد فيما تحته خط في قوله تعالى (ألم نشرح لك صدرك) هو :

أ (إقلاب ب (إظهار شفوي ج (إدغام د (إخفاء

١٠٥ (مكعب طول ضلعه (٥) م ، فإن مساحته الكلية تساوي :

أ (١٠٠ م^٢ ب (١٥٠ م^٢ ج (٢٠٠ م^٢ د (٢٥٠ م^٢

١٠٦ (معدل علامات طلاب في امتحان الشهر الأول لخمس مواد هو (١٩) ما مجموع علاماته :

أ (٢٤ ب (٣٨ ج (٧٦ د (٩٥

١٠٧ (المضاعف المشترك الأصغر للعددين (٣٧) ، (١) هو :

أ (صفر ب (١ ج (٣٧ د (٣٨

١٠٨ (إعراب (متحمسا) في الجملة الآتية (شارك بلال في العمل متحمسا) هو :

أ (فاعل ب (حال ج (مفعول به د (مضاف إليه

١٠٩ (جميع الكلمات كتبت بصورة صحيحة باستثناء :

أ (بكى ب (قضى ج (لما د (رما

١١٠ (المعنى المناسب لـ (دبر كل صلاة) هو :

أ (قبل الصلاة ب (أثناء الصلاة ج (بعد الصلاة د (لاشيء مما ذكر

١١١ (يثرب هو الاسم القديم لـ :

أ (مكة المكرمة ب (الطائف ج (المدينة المنورة د (لاشيء مما ذكر

١١٢ (الجهة المسؤولة عن تنفيذ قوانين الدولة هي السلطة :

أ (التنفيذية ب (التشريعية ج (القضائية د (لاشيء مما ذكر

١١٣ (المسار الذي يأخذه جسم ما أثناء دورانه حول جسم آخر يسمى :

أ (محور ب (مدار ج (مستوى د (خط

١١٤ (في السلسلة الآتية (جزر — أرانب — ثعالب — أسد)

إذا تم اصطياد الأرانب ماذا يحدث للثعالب :

أ (تزداد ب (تقل ج (لا تتأثر د (لاشيء مما ذكر

١١٥ (ما هي الطريقة التي يمكن أن نصنع بها مغناطيس :

أ (الطرق ب (التسخين ج (التنافر د (الدلك

١١٦ (ينتقل الصوت في الأوساط :

أ (الصلبة فقط ب (السائلة فقط ج (الفراغ د (جميع الأوساط

١١٧ (أي الأعضاء التالية تحميه عظام القفص الصدري :

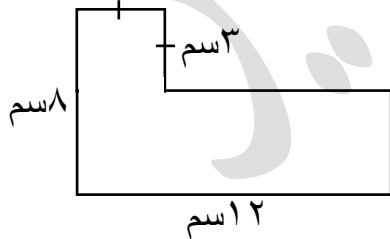
أ (النخاع الشوكي ب (الدماغ ج (الرئة د (الكلية

١١٨ (رقم إذا ضربته بنفسه مرة واحدة ثم أضفت إليه (٥) أصبح الناتج (٣٠) هو :

أ (٣ ب (٤ ج (٥ د (٦

١١٩ (مساحة مثلث طول قاعدته (١٢ سم) وارتفاعه (٧٠ مم) تساوي :

أ (١٩ سم^٢ ب (٤٢ سم^٢ ج (٧٢ سم^٢ د (٨٤ سم^٢



١٢٠ (مساحة الشكل المجاور تساوي :

أ (٦٦ سم^٢ ب (٦٩ سم^٢ ج (٨١ سم^٢ د (٩٦ سم^٢

انتهت الأسئلة

٩	٨	٧	٦	٥	٤	٣	٢	١	رقم السؤال
د	ج	د	د	أ	أ	ج	ج	ب	رمز الإجابة

١٨	١٧	١٦	١٥	١٤	١٣	١٢	١١	١٠	رقم السؤال
ب	ج	ب	أ	ج	د	ج	ب	ب	رمز الإجابة

٢٧	٢٦	٢٥	٢٤	٢٣	٢٢	٢١	٢٠	١٩	رقم السؤال
ب	د	أ	ج	ب	ب	أ	ج	د	رمز الإجابة

٣٦	٣٥	٣٤	٣٣	٣٢	٣١	٣٠	٢٩	٢٨	رقم السؤال
ج	ب	د	د	ج	ج	أ	أ	ب	رمز الإجابة

٤٥	٤٤	٤٣	٤٢	٤١	٤٠	٣٩	٣٨	٣٧	رقم السؤال
د	أ	د	ب	ج	د	أ	ب	د	رمز الإجابة

٥٤	٥٣	٥٢	٥١	٥٠	٤٩	٤٨	٤٧	٤٦	رقم السؤال
د	ج	ب	ب	د	ج	أ	ج	ب	رمز الإجابة

٦٣	٦٢	٦١	٦٠	٥٩	٥٨	٥٧	٥٦	٥٥	رقم السؤال
ج	ب	أ	ب	ب	د	ج	أ	أ	رمز الإجابة

٧٢	٧١	٧٠	٦٩	٦٨	٦٧	٦٦	٦٥	٦٤	رقم السؤال
د	د	ج	ب	أ	ب	ج	أ	د	رمز الإجابة

٨١	٨٠	٧٩	٧٨	٧٧	٧٦	٧٥	٧٤	٧٣	رقم السؤال
د	أ	ب	ج	أ	د	ب	ج	ب	رمز الإجابة

٩٠	٨٩	٨٨	٨٧	٨٦	٨٥	٨٤	٨٣	٨٢	رقم السؤال
أ	ب	د	ب	أ	ج	ج	ب	د	رمز الإجابة

٩٩	٩٨	٩٧	٩٦	٩٥	٩٤	٩٣	٩٢	٩١	رقم السؤال
ب	ج	ب	أ	ب	أ	د	ج	ج	رمز الإجابة

١٠٨	١٠٧	١٠٦	١٠٥	١٠٤	١٠٣	١٠٢	١٠١	١٠٠	رقم السؤال
ب	ج	د	ب	ب	أ	ج	د	أ	رمز الإجابة

١١٧	١١٦	١١٥	١١٤	١١٣	١١٢	١١١	١١٠	١٠٩	رقم السؤال
ج	د	د	ب	ب	أ	ج	ج	د	رمز الإجابة

١٢٠	١١٩	١١٨	رقم السؤال
ب	ب	ج	رمز الإجابة