

العلوم الحياتية

الصف العاشر - كتاب الطالب

الفصل الدراسي الثاني

10

فريق التأليف

موسى عطا الله الطراونة (رئيساً)

عطاف عايش الهباهبة وفاء محمد لصوي ختام خليل سالم

روناهي "محمد صالح" الكردي (منسقاً)

إضافة إلى جهود فريق التأليف، فقد جاء هذا الكتاب ثمرة جهود وطنية مشتركة من لجان مراجعة وتقييم علمية وتربوية ولغوية، ومجموعات مُركّزة من المعلمين والمُشرّفين التربويين، وملاحظات مجتمعية من وسائل التواصل الاجتماعي، وإسهامات أساسية دقيقة من اللجنة الاستشارية والمجلس التنفيذي والمجلس الأعلى في المركز، ومجلس التربية والتعليم ولجانه المتخصصة.

الناشر

المركز الوطني لتطوير المناهج

يسر المركز الوطني لتطوير المناهج، ووزارة التربية والتعليم - إدارة المناهج والكتب المدرسية، استقبال آرائكم وملحوظاتكم على هذا الكتاب

عن طريق العناوين الآتية: هاتف: 4617304/5-8، فاكس: 4637569، ص. ب: 1930، الرمز البريدي: 11118،

أو بوساطة البريد الإلكتروني: scientific.division@moe.gov.jo

قرّرت وزارة التربية والتعليم تدرّيس هذا الكتاب في مدارس المملكة الأردنية الهاشمية جميعها، بناءً على قرار المجلس الأعلى للمركز الوطني لتطوير المناهج في جلسته رقم (2020/7)، تاريخ 2020/12/1م، وقرار مجلس التربية والتعليم رقم (2020/167)، تاريخ 2020/12/17م، بدءاً من العام الدراسي 2020 / 2021م.

© Harper Collins Publishers Limited 2020.

- Prepared Originally in English for the National Center for Curriculum Development. Amman - Jordan
- Translated to Arabic, adapted, customised and published by the National Center for Curriculum Development. Amman - Jordan

ISBN: 978 - 9923 - 41 - 053 - 0

المملكة الأردنية الهاشمية
رقم الإيداع لدى دائرة المكتبة الوطنية:
(2020/8/2986)

373,19

الأردن. المركز الوطني لتطوير المناهج

العلوم الحياتية: كتاب الطالب (الصف العاشر) / المركز الوطني لتطوير المناهج. - عمان: المركز، 2020،

ج2 (84) ص.

ر.إ.: 2020/8/2986

الواصفات: / العلوم الحياتية / التعليم الإعدادي / المناهج /

يتحمّل المؤلّف كامل المسؤولية القانونية عن محتوى مُصنّفه، ولا يُعبّر هذا المُصنّف عن رأي دائرة المكتبة الوطنية.

All rights reserved. No part of this publication may be reproduced, stored in retrieval system, or transmitted in any form by any means, electronic, mechanical, photocopying, recording or otherwise, without the prior written permission of the publisher or a license permitting restricted copying in the United Kingdom issued by the Copyright Licensing Agency Ltd, Barnard's Inn, 86 Fetter Lane, London, EC4A 1EN.

British Library Cataloguing - in- Publication Data

A catalogue record for this publication is available from the Library.

1442هـ / 2020م

الطبعة الأولى (التجريبية)

قائمة المحتويات

الموضوع	الصفحة
المقدمة	5
الوحدة الثالثة: تصنيف الكائنات الحية Taxonomy of Living Organisms	7
الدرس 5: النباتات اللاوعائية والنباتات الوعائية اللابذرية Nonvascular Plants and Vascular Seedless plants	10
الدرس 6: النباتات الوعائية البذرية Vascular Seed Plants	15
الدرس 7: خصائص الحيوانات وأسس تصنيفها Characteristics of Animals and its Bases of Classification	31
الدرس 8: اللافقاريات Invertebrates	35
الدرس 9: الفقاريات Vertebrates	45
مراجعة الوحدة	52



55الوحدة الرابعة: البيئة Environment

58 الدرس 1: الكائنات الحية في بيئاتها Living Organisms in their Invironments


65 الدرس 2: الجماعات الحيوية والعوامل المؤثرة فيها Populations and Factors Affecting them

70 الدرس 3: التعاقب البيئي Ecological Successions

75 مراجعة الوحدة

77 مسرد المصطلحات

83 قائمة المراجع



بِسْمِ اللَّهِ الرَّحْمَنِ الرَّحِيمِ

المقدمة

انطلاقاً من إيمان المملكة الأردنية الهاشمية الراسخ بأهمية تنمية قدرات الإنسان الأردني، وتسليحه بالعلم والمعرفة؛ سعى المركز الوطني لتطوير المناهج، بالتعاون مع وزارة التربية والتعليم، إلى تحديث المناهج الدراسية وتطويرها، لتكون معيّنًا للطلبة على الارتقاء بمستواهم المعرفي، ومجاراة أقرانهم في الدول المتقدمة.

يُعدُّ هذا الكتاب واحداً من سلسلة كتب المباحث العلمية التي تُعنى بتنمية المفاهيم العلمية، ومهارات التفكير وحلّ المشكلات، ودمج المفاهيم الحياتية والمفاهيم العابرة للمواد الدراسية، والإفادة من الخبرات الوطنية في عمليات الإعداد والتأليف وفق أفضل الطرائق المُتبَّعة عالمياً؛ لضمان انسجامها مع القيم الوطنية الراسخة، وتلبيتها لحاجات أبنائنا الطلبة والمعلمين.

جاء هذا الكتاب مُحققاً لمضامين الإطار العام والإطار الخاص للعلوم، ومعاييرها، ومؤشرات أدائها المُتمثلة في إعداد جيل محيط بمهارات القرن الواحد والعشرين، وقادر على مواجهة التحديات، ومُعزّز - في الوقت نفسه - بانتمائه الوطني. وتأسيساً على ذلك، فقد اعتُمدت دورة التعلُّم الخماسية المنبثقة من النظرية البنائية التي تمنح الطالب الدور الأكبر في العملية التعلُّمية التعليمية، وتوفّر له فرصاً عديدة للاستقصاء، وحلّ المشكلات، والبحث، واستخدام التكنولوجيا وعمليات العلم، فضلاً عن اعتماد منحنى STEAM في التعليم الذي يُستعمل لدمج العلوم والتكنولوجيا والهندسة والفن والعلوم الإنسانية والرياضيات في أنشطة الكتاب المتنوعة، وفي قضايا البحث.

يتألّف الكتاب من وحدتين، يتَّسِمُ محتواهما بالتنوع في أساليب العرض، هما: تصنيف الكائنات الحية، والبيئة. يضم الكتاب أيضاً العديد من الرسوم، والصور، والأشكال التوضيحية، والأنشطة، والتجارب العملية التي تُنمّي مهارات العمل المخبري، وتساعد الطلبة على اكتساب مهارات العلم، مثل: الملاحظة العلمية، والاستقصاء، ووضع الفرضيات، وتحليل البيانات، والاستنتاج القائم على التجربة العلمية المضبوطة، وصولاً إلى المعرفة التي تُعين الطلبة على فهم ظواهر الحياة من حولنا.

روعي في تأليف الكتاب التركيز على مهارات التواصل مع الآخرين، ولا سيما احترام الرأي والرأي الآخر، وتحفيز الطلبة على البحث في مصادر المعرفة المختلفة؛ فلغة الكتاب تُشجّع الطالب أن يتفاعل مع المادة العلمية، وتحثّه على بذل المزيد من البحث والاستقصاء. وقد تضمّن الكتاب أسئلة متنوعة تراعي الفروق الفردية، وتُنمّي لدى الطلبة مهارات التفكير وحلّ المشكلات.

أُلحِقَ بالكتاب كتابٌ للأنشطة والتجارب العملية، يحتوي على جميع التجارب والأنشطة الواردة في كتاب الطالب؛ لتساعده على تنفيذها بسهولة.

ونحن إذ نُقدّم الطبعة الأولى (التجريبية) من هذا الكتاب، فإننا نأمل أن يُسهم في تحقيق الأهداف والغايات النهائية لبناء شخصية المُتعلّم، وتنمية اتجاهات حُبّ التعلّم ومهارات التعلّم المستمر، فضلاً عن تحسين الكتاب؛ بإضافة الجديد إلى المحتوى، والأخذ بملاحظات المعلّمين، وإثراء أنشطته المتنوعة.

والله ولي التوفيق

المركز الوطني لتطوير المناهج

تصنيف الكائنات الحية

Taxonomy of Living Organisms

الوحدة

3

قَالَ تَعَالَى: ﴿وَاللَّهُ خَلَقَ كُلَّ دَابَّةٍ مِّن مَّاءٍ فَمِنْهُمْ مَّن يَمْشِي عَلَى بَطْنِهِ وَمِنْهُمْ مَّن يَمْشِي عَلَى رِجْلَيْنِ وَمِنْهُمْ مَّن يَمْشِي عَلَى أَرْبَعٍ يَخْلُقُ اللَّهُ مَا يَشَاءُ إِنَّ اللَّهَ عَلَى كُلِّ شَيْءٍ قَدِيرٌ﴾ (النور، الآية 45).

أتأمل الصورة

اكتشف العلماء وجود حيوانٍ لافقاريٍّ صغير الحجم، يُسمَّى خروف الأوراق *Costasiella kuroshimae*، ويتغذى بالطحالب، ويحتفظ ببلاستيدياتها الخضراء؛ ليستفيد منها في عملية البناء الضوئي، وقد صنّف هذا الحيوان من الرخويات. فما أسس تصنيف النباتات والحيوانات؟

الفكرة العامة:

تُصنَّفُ النباتاتُ والحيواناتُ إلى مجموعاتٍ اعتمادًا على خصائصها.

الدرس الخامس: النباتات اللاوعائية والنباتات الوعائية الالبذرية.

الفكرة الرئيسة: تختلفُ النباتاتُ بعضها عن بعضٍ في خصائصٍ عدَّةٍ اعتمدتُ أساسًا لتصنيفها.

الدرس السادس: النباتات الوعائية البذرية.

الفكرة الرئيسة: تتكاثرُ النباتاتُ البذرية بالبذور، وتنتقلُ فيها الموادُّ عن طريق الأنسجة الوعائية.

الدرس السابع: خصائص الحيوانات وأسس تصنيفها.

الفكرة الرئيسة: تختلفُ الحيواناتُ بعضها عن بعضٍ في خصائصٍ عدَّةٍ، ويُعدُّ هذا الاختلافُ أساسًا لتصنيفها.

الدرس الثامن: اللافقاريات

الفكرة الرئيسة: تضمُّ اللافقارياتُ عددًا من القبائل، لكلٍّ منها خصائصٌ تميِّزها.

الدرس التاسع: الفقاريات

الفكرة الرئيسة: تضمُّ الفقارياتُ عددًا من فوق الصفوف التي تتباينُ في خصائصها.

تجربة استعملية

النباتات ذات الفلقة والنباتات ذات الفلقتين




الشكل (1 / أ): ورقة للنبات ذي الفلقة ذات العروق المتوازية.



الشكل (1 / ب): ورقة للنبات ذي الفلقتين ذات العروق الشبكية.

زهرة النبات ذي الفلقة.



زهرة النبات ذي الفلقتين.



تُصنَّف النباتات مُغطَّاةُ البذورِ وَفَقًا لِمَعَايِيرَ عِدَّةٍ، مِنْهَا: عُرُوقُ أَوْرَاقِهَا، وَعَدَدُ بَتَلَاتِ أَزْهَارِهَا.

الموادُّ والأدواتُ: أَوْرَاقُ نَبَاتَاتٍ مُخْتَلِفَةٍ (مِثْلُ: الليمون، والمشمش، والأعشابِ الصَّغِيرَةِ، والقمح، والذُّرَّة)، أَزْهَارُ نَبَاتَاتٍ مُخْتَلِفَةٍ، عَدْسَةٌ مُكَبَّرَةٌ.

ملحوظة: يُمكنُ اسْتِعْمَالُ صُورِ أَزْهَارِ لِنَبَاتَاتٍ مُخْتَلِفَةٍ فِي حَالِ عَدَمِ تَوَافُرِهَا.

إرشادات السلامة:

- الحذرُ مِنْ أَشْوَاكِ النَبَاتَاتِ عِنْدَ دِرَاسَةِ الْعَيِّنَاتِ.

- غَسْلُ الْيَدَيْنِ جَيِّدًا بَعْدَ انْتِهَاءِ التَّجَرِبَةِ.

خطوات العمل:

1 **أَتَفَحَّصُ** شَكْلَ عُرُوقِ (خَطُوطِ) أَوْرَاقِ النَبَاتَاتِ بِاسْتِعْمَالِ الْعَدْسَةِ الْمُكَبَّرَةِ.

2 **أُقَارِنُ** شَكْلَ عُرُوقِ أَوْرَاقِ كُلِّ نَبَاتٍ بِشَكْلِ الْعُرُوقِ فِي الشَّكْلَيْنِ (1 / أ) وَ (1 / ب)، ثُمَّ أُدَوِّنُ أَمَامَ اسْمِ كُلِّ نَبَاتٍ شَكْلَ عُرُوقِ أَوْرَاقِهِ.

3 **أُرَسِّمُ** شَكْلَ الْعُرُوقِ لِكُلِّ وَرَقَةٍ مِنْ أَوْرَاقِ النَبَاتَاتِ.

4 **أُلَاحِظُ** عَدَدَ بَتَلَاتِ كُلِّ زَهْرَةٍ ثُمَّ أُدَوِّنُهُ؛ فَإِذَا كَانَ عَدْدُهَا ثَلَاثَ بَتَلَاتٍ، أَوْ مِنْ مِضَاعَفَاتِهَا فَهِيَ زَهْرَةُ النَبَاتِ ذِي الْفَلْقَةِ، أَمَّا إِذَا كَانَ عَدْدُهَا أَرْبَعَ بَتَلَاتٍ أَوْ خَمْسًا، أَوْ مِنْ مِضَاعَفَاتِهَا فَهِيَ زَهْرَةُ النَبَاتِ ذِي الْفَلْقَتَيْنِ، أَنْظُرِ الشَّكْلَ (2).

5 **أُدَوِّنُ** نَتَائِجِي فِي جَدُولٍ يَتَضَمَّنُ اسْمَ النَبَاتِ، وَشَكْلَ الْعُرُوقِ، وَعَدَدَ الْبَتَلَاتِ.

التحليل والاستنتاج:

أُصَنِّفُ النَبَاتَاتِ الَّتِي دَرَسْتُهَا إِلَى ذَاتِ الْفَلْقَةِ، وَذَاتِ الْفَلْقَتَيْنِ. أَقْتَرِحُ مَعْيَارًا آخَرَ لِتَصْنِيفِ النَبَاتَاتِ مُغَطَّاةِ الْبُذُورِ إِلَى ذَاتِ الْفَلْقَةِ، وَذَاتِ الْفَلْقَتَيْنِ.

النباتات اللاوعائية والنباتات الوعائية الالبذرية

Nonvascular Plants and Vascular Seedless Plants

الدرس 5

الخصائص العامة للنباتات Characteristics of Plants

النباتات كائناتٌ حيّةٌ عديدةُ الخلايا، وحقيقيةُ النوى، وخلاياها تمتازُ بوجودِ جدارٍ خلويٍّ يتكوّنُ من السيليلوز، ويدعمُ الخلية، ويحافظُ على شكلها، ويفصلُها عن الخلايا المجاورة. وهي تنظمُ مُشكّلةً الأنسجة النباتية التي تُكوّنُ الأجزاء المختلفة للنباتات، أنظر الشكل (3).

يوجدُ في النباتات فجواتٌ كبيرة الحجم تُخزّنُ فيها موادٌ مختلفة، مثل: الماء، والفضلات، والغذاء. وتحتوي النباتات ذاتية التغذية على صبغة الكلوروفيل في بلاستيداتها الخضراء التي تُمكنها من صنع غذائها بنفسها، في ما يُعرفُ بعملية البناء الضوئي.

✓ **أنحقّق:** ما الخصائص العامة للنباتات؟

الشكل (3): نباتاتٌ وخلاياها.



الفكرة الرئيسة:

النباتات كائناتٌ حيّةٌ ذاتُ خصائصٍ تركيبيةٍ تُمكنها من العيش في بيئاتها.

تأجّاتُ التعلّم:

- أ حدّدُ الخصائص العامة للنباتات.
- أصنّفُ النباتات إلى مجموعاتها الرئيسة.
- أصفُ دورة حياة نباتٍ حزازيٍّ.
- أوضّحُ دورة حياة نباتٍ سرخسيٍّ.

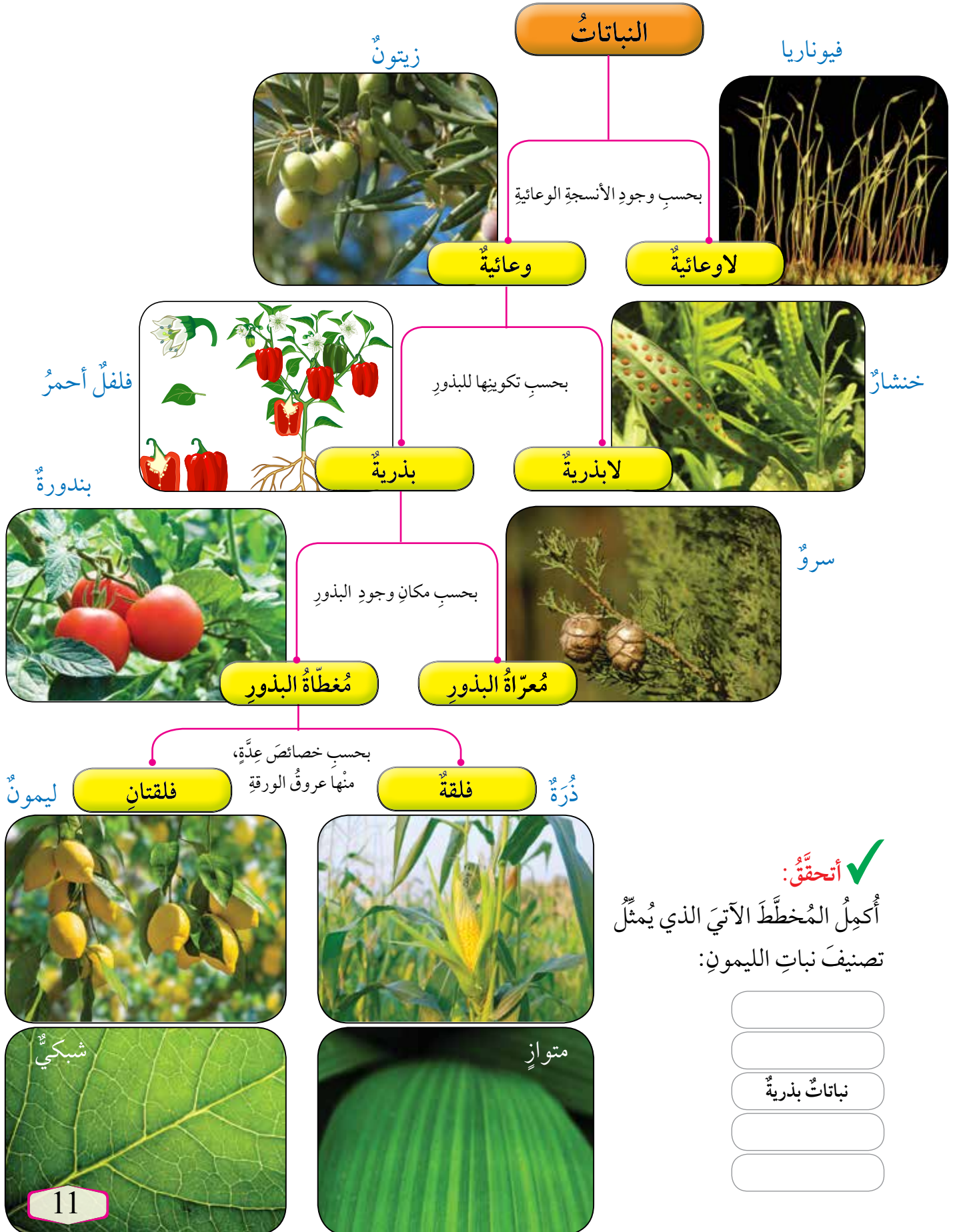
المفاهيم والمصطلحات:

الحزازيات	Moss
أحادي المجموعة الكروموسومية	Haploid
ثنائي المجموعة الكروموسومية	Diploid
تبادل الأجيال	Alternation of Generation
الطور الجاميتي	Gametophyte
الطور البوغي	Sporophyte
السرخسيات	Ferns

تصنيف النباتات Classification of Plants

درستُ سابقاً تصنيفَ النباتاتِ، ألاحظُ الشكلَ (4).

الشكل (4): تصنيفُ النباتاتِ.



• النباتات اللاوعائية Nonvascular Plants

نباتات صغيرة الحجم، تخلو من الأنسجة الوعائية، ويعيش بعضها قريباً من بعض في المناطق الرطبة الظليلة، ومن أمثلتها **الحزازيات Mosses** التي يُعدُّ نباتُ الفيوناريا مثلاً عليها، أنظر الشكل (5). للفيوناريا طوران؛ أحدهما **جاميتي Gametophyte** أحادي المجموعة الكروموسومية (N1) Haploid، والآخر **بوعي Sporophyte** ثنائي المجموعة الكروموسومية (N2) Diploid. ويتعاقب هذان الطوران في دورة الحياة، في ما يُعرف **بتبادل الأجيال Alternation of Generation**.

يتكوّن الطورُ الجاميتي من أشباه جذور، وأشباه أوراق، وأشباه سيقان. ويحوي الطورُ الجاميتي الأنثوي عضو تانيث تتكوّن فيه البويضات، في حين يحوي الطورُ الجاميتي الذكري عضو تذكير تتكوّن فيه الجاميتات الذكرية. أمّا الطورُ البوعي فيتكوّن من محفظة الأبواغ، وحامل محفظة الأبواغ، أنظر الشكل (6).

تقضي الفيوناريا معظم دورة حياتها في الطور الجاميتي؛ لذا يُعدُّ هذا الطور سائداً فيها، ويعتمد الطور البوعي في تغذيته على الطور الجاميتي.



الشكل (5): نباتُ الفيوناريا.



أبحث في مصادر

المعرفة المناسبة عن دور الحزازيات في تخلص البيئة من الملوثات، مثل الرصاص، ثم أعدّ فلماً قصيراً باستخدام برنامج (movie maker) عن ذلك أعرضه أمام زملائي.

افكر أحدّد موضع الخطأ في

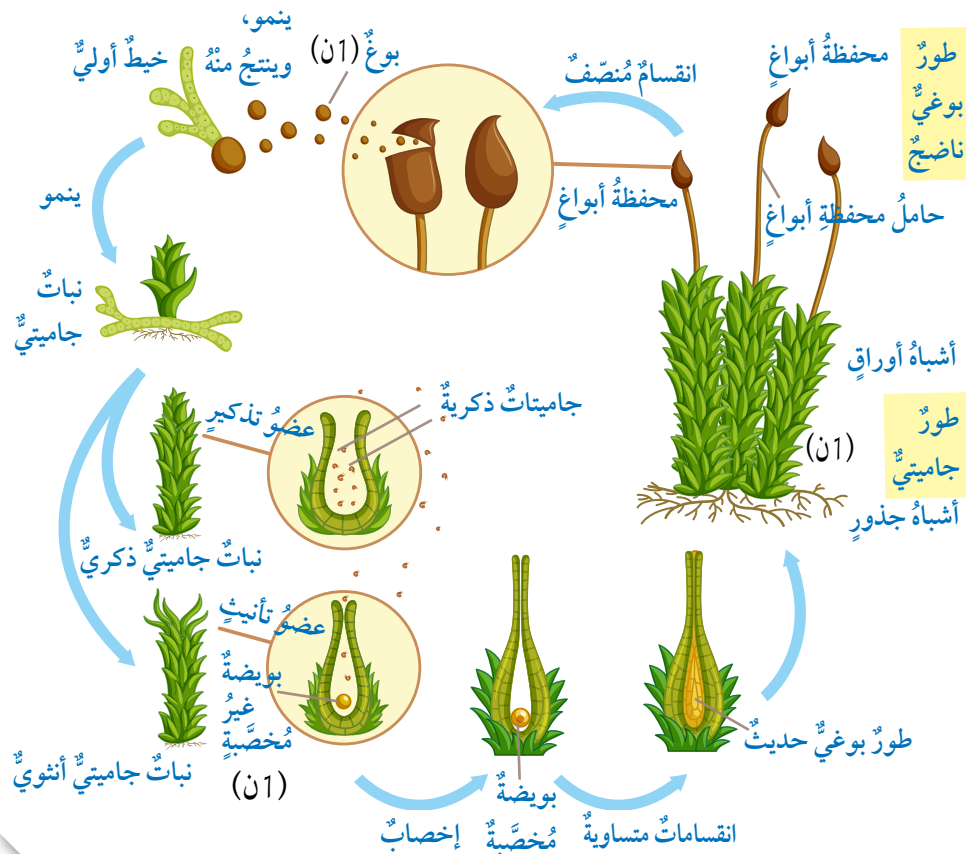
ما يأتي:

- تنمو البويضة المُخصَّبة لتكوين الطور الجاميتي.
- تنتج الجاميتات في الفيوناريا من الانقسام المُنصف.

✓ **أتحقّق:** أقرّن بين الطور البوعي والطور الجاميتي من حيث التركيب، وعدد المجموعة الكروموسومية.

الشكل (6): دورة حياة الفيوناريا.

أتبّع دورة حياة الفيوناريا.



• النباتات الوعائية اللابذرية Vascular Seedless Plants

تُعدُّ السرخسيات Ferns مثالاً على النباتات الوعائية اللابذرية؛ فهي نباتات تتكاثر بالأبواغ، وتحوي أنسجةً وعائيةً تتكوّن من خشبٍ ولحاءٍ، ومن أمثلتها نبات الخنشار. يتكوّن الطور البوغيّ ثنائيّ المجموعة الكروموسومية (2ن) في الخنشار من ساق ريزومية تنمو تحت سطح التربة، وجذورٍ، وأوراقٍ، ويوجد على السطح السفليّ من أوراق الطور البوغيّ الناضج محفظةٌ داخلها أبواغٌ، أنظر الشكل (7).

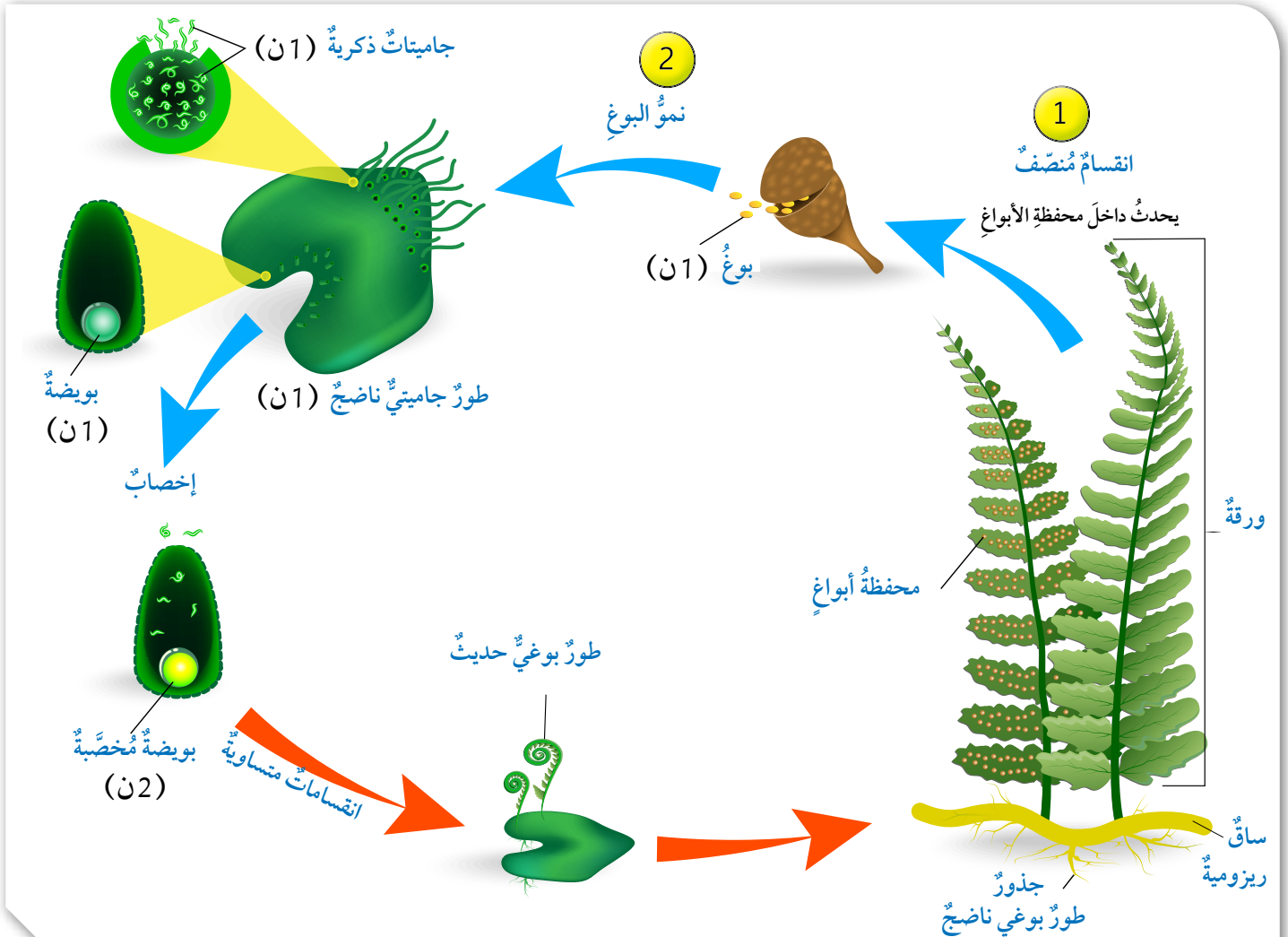
أمّا الطور الجاميتي أحاديّ المجموعة الكروموسومية (1ن) فيحوي العضو الجاميتي المُذكر، والعضو الجاميتي المؤنث. ويقضي هذا النبات معظم دورة حياته في الطور البوغيّ؛ فهو الطور السائد في هذا النوع. أدرس الشكل (8)، مُتّبِعاً دورة حياة نبات الخنشار.

محفظة أبواغ على السطح السفليّ لورقة نبات الخنشار.

الشكل (7): نبات الخنشار.

الشكل (8): دورة حياة الخنشار.

ما العمليات التي تنتج منها أبواغ (1ن)، وبويضة مُخصّبة (2ن)، وطور بوغيّ حديث (2ن)؟

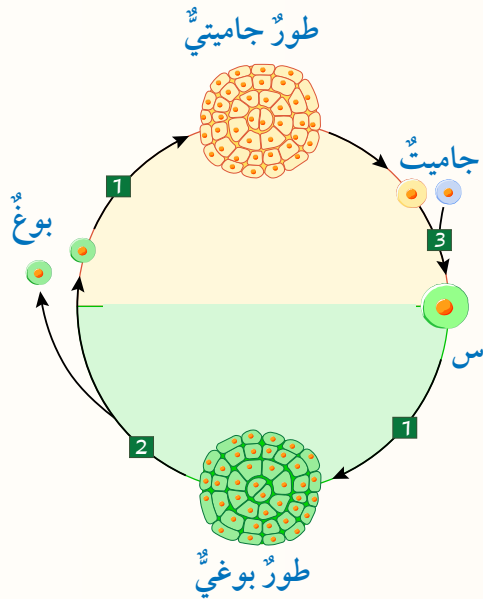


الربط بالبيئة التكنولوجيا الحيوية: يتلوّث هواء العديد من المدن نتيجة ازدياد مسببات تلوثه من دخان المصانع، وعوادم السيارات، وانخفاض نسبة الأراضي المزروعة بالأشجار؛ لذا أخذ العلماء يفكرون في صناعة أدوات تُنقي الهواء بصورة طبيعية، باستعمال مصفاة (فلتر) هواء ذكية مصنوعة من الحزازيات، يُمكنها توفير هواء نقي في الأماكن الخالية من المساحات الخضراء، أنظر الشكل (9)؛ إذ يُمكن للحزازيات استخدام الغازات الضارة في عمليات الأيض؛ ما يُنقي الهواء. يستفاد من التكنولوجيا في توفير الظل اللازم للحزازيات الموجودة في المرشح، وما يلزمه من صيانة دورية، وماء، ومغذيات. تخضع أجزاء المرشح الداخلية لنظام مراقبة دقيق يحوي مجسات مثبتة بهيكل المرشح الذي يُزوّد بالمياه والمغذيات عند الحاجة. ويُعد استعمال مرشحات الهواء المعتمدة على التكنولوجيا الحيوية عنصراً مهماً في تخطيط المدن مستقبلاً.



الشكل (9): مصفاة (فلتر) هواء ذكية مصنوعة من الحزازيات.

مراجعة الدرس



1. يُمثّل الشكل المجاور مخططاً لظاهرة تبادل الأجيال:
أ - أكتب أسماء العمليات المشار إليها بالأرقام (1، 2، 3) والتركيب (س).
ب - أصف التراكيب في الشكل إلى أحادية المجموعة الكروموسومية، وثنائية المجموعة الكروموسومية.
2. أوضّح الخصائص العامة للنباتات.
3. أصف تركيب الطور الجاميتي في كل من الفيوناريا، والخنشار.
4. أقرّن بين الطور البوغي في الفيوناريا والخنشار من حيث: التركيب، وعدد المجموعة الكروموسومية.

Vascular Seed Plants النباتات الوعائية البذرية

تُمثِّل النباتات البذرية النسبة الكبرى من النباتات، ومن أمثلتها: السرو، والأرز، والتفاح، والقطن، والنعنع، والزيتون، أنظر الشكل (10).

تحتوي النباتات البذرية أنسجة وعائية في جذورها وسيقانها وأوراقها؛ ما يجعلها تتكيف للعيش على اليابسة، فتتقل هذه الأنسجة المواد اللازمة إلى كل خلية من الخلايا.

الفكرة الرئيسة:

تتكاثر النباتات البذرية بالبذور، وتُصنَّف إلى مُعرّاة البذور ومُغطّاة البذور.

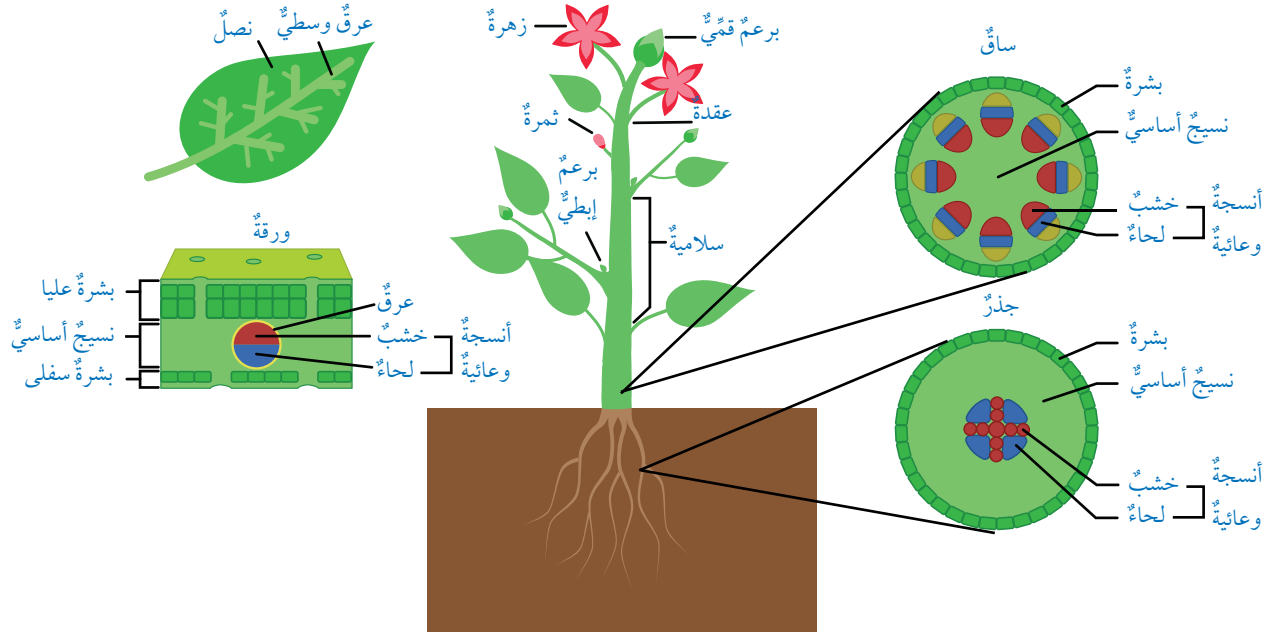
نتائج التعلم:

- أوضح التركيب العام للنباتات مُعرّاة البذور.
- استكشف التركيب العام للنباتات مُغطّاة البذور.
- استقصي أهمية النبات الزهري.

المفاهيم والمصطلحات:

Coniferophyta	المخروطيات
Ginkgophyta	الجنكيات
Gnetophyta	الجنتيات
Cycadophyta	السايكاديات
Parenchyma	الخلايا البرنشيمية
Collenchyma	الخلايا الكولنشيمية
Sclerenchyma	الخلايا الإسكلرنشيمية
Epidermis	البشرة

الشكل (10): نباتات وعائية.



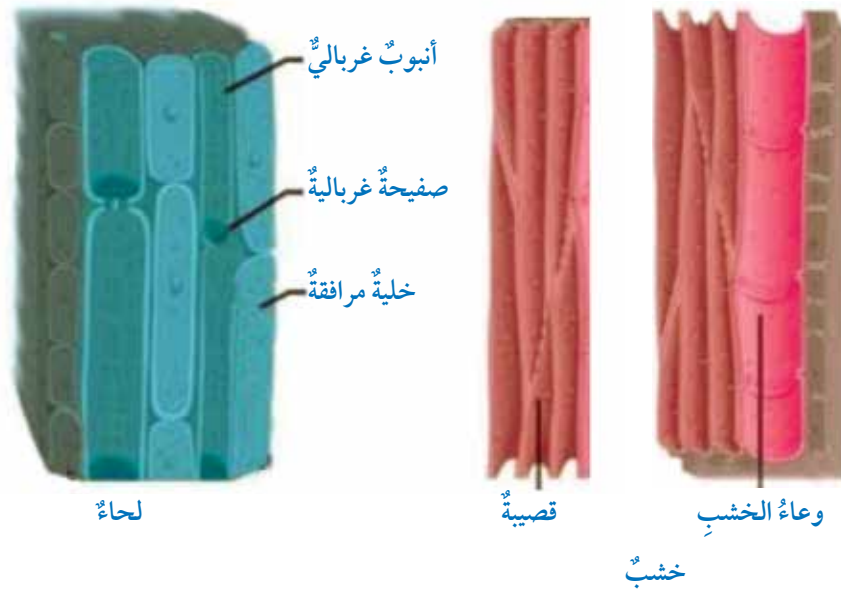
الأنسجة النباتية Plant tissues

تتكوّن أجزاء النبات من أنسجة نباتية هي: **النسيج المُولّد meristematic tissue**، و**نسيج البشرة epidermis**، و**الأنسجة الوعائية Vascular tissues**، و**النسيج الأساسي Ground tissue**، أنظر الشكل (11).
النسيج المُولّد: يوجد هذا النسيج في القمم النامية للجذر والساق، وفي البراعم، وأماكن النمو في النبات، وتنقسم خلاياه مُنتجة خلايا جديدة. نسيج البشرة: يُمثّل هذا النسيج الطبقة الخارجية في كل من الساق، والجذر، والورقة، وتنشأ عنه في الجذور تراكيب تُسمى الشعيرات الجذرية.

الأنسجة الوعائية: يُقصدُ بها الخشب واللحاء اللذان يوجدان في جذر النبات، وساقه، وأوراقه. ويختلف بعضهما عن بعض من حيث التركيب، والوظيفة، أنظر الشكل (12)؛ فالخشب يُشكّل دعامة للنبات، وينقل الماء والأملاح المعدنية التي امتصّها الجذر إلى الساق، فالأوراق؛ للاستفادة منها في عملية البناء الضوئي، في حين ينقل اللحاء الغذاء الجاهز من مكان إنتاجه إلى جميع أجزاء النبات؛ بُعْية استهلاكه، أو تخزينه.

الشكل (11): الأنسجة النباتية وأماكن وجودها في النباتات مُغطاة البذور. أُحدّد موقع الأنسجة النباتية المختلفة في النبات.

✓ **أتحقّق:** ما أهمية خلايا النسيج المُولّد؟



الشكل (12): تركيب الخشب واللحاء.

أفكر يعمل النسيج الأساسي على دعم أجزاء النبات، وتخزين المواد، وتسهيل مرورها بين الخلايا. أربط بين نوع الخلية في هذا النسيج والوظيفة التي تؤديها.

النسيج الأساسي: يتكوّن هذا النسيج من خلايا **برنشيمية** Parenchyma، و**كولنشيمية** Collenchyma، و**إسكلرنشيمية** Sclerenchyma. تختلف هذه الخلايا بعضها عن بعض، أنظر الجدول (1).

الجدول (1): خلايا النسيج الأساسي.

مقارنة بين خلايا النسيج الأساسي			
من حيث:	البرنشيمية	لكولنشيمية	الإسكلرنشيمية
سمك الجدار الخلوي:	رقيق.	وجود تغلّطات غير منتظمة فيه.	أكثر سمكاً من جدر الخلايا البرنشيمية والكولنشيمية.
وجود النواة:	موجودة.	موجودة.	غير موجودة.
وجود الفراغات بين الخلايا:	موجودة.	موجودة.	غير موجودة.
	فراغ بين خلوي فجوة جدار خلوي نواة	جدار خلوي نواة	تجويف جدار خلوي

تصنيفُ النباتاتِ البذرية Seed Plants Classification

تُصنَّفُ النباتاتُ البذرية، تبعًا لمكانِ وجودِ البذور، إلى نباتاتٍ مُعرّاةٍ البذور، ونباتاتٍ مُغطّاةٍ البذور.

• النباتاتُ مُعرّاةُ البذور *Gymnosperms*

تُصنَّفُ النباتاتُ مُعرّاةُ البذور إلى أربعِ مجموعاتٍ. المخروطيات *Coniferophyta*: تمتازُ المخروطياتُ بشكلِها، ومن أمثلتها الصنوبريات، وهي أحادية المسكن؛ أي إنّ المخاريطَ الذكورية والمخاريطَ الأنثوية التي تُمثّل أعضاء التكاثر في النبات توجد على الشجرة نفسها، ولكنّ المخاريطَ الذكورية تكونُ أصغرَ حجمًا من المخاريطَ الأنثوية، أنظر الشكل (13).

✓ **أتحقّق:** أُقارنُ بينَ المخاريطِ الذكورية والمخاريطِ الأنثوية.

الجنكيات *Ginkgophyta*: أشجارٌ متساقطة الأوراق، وذاتُ جذوعٍ سميكة، وجذورٍ عميقة، ينتمي إليها نوعٌ واحدٌ الآن هو الجنكة بيلوبا *Ginkgo biloba* الموجودة في الصين، أنظر الشكل (14).



مخاريطُ أنثوية



مخاريطُ ذكورية

الشكل (13): نبات الصنوبر الحلبيّ.

أفكر فيمَ تستفيدُ المخروطياتُ من شكلِها المخروطي؟

الشكل (14): شجرة *Ginkgo biloba*.





الجبتياتُ *Gnetophyta*: أشجارٌ أو شجيراتٌ تحوي مخاريطَ، ومن أمثلتها نباتُ الفلفيتشيا ميرابيليس *Welwitschia mirabilis* الذي يمتازُ بساقٍ ملتصقةٍ بالأرضِ، وأوراقٍ يصلُ طولُها إلى نحو 9 أمتارٍ، أنظرُ الشكلَ (15). تعيشُ بعضُ الجبتياتِ في الصحراءِ، ويعيشُ بعضُ آخرٍ في الغاباتِ الاستوائية.

الشكلُ (15): أحدُ أنواعِ الجبتياتِ *Welwitschia mirabilis*.

السايكايدياتُ *Cycadophyta*: تمتازُ السايكايدياتُ بجذوعِها الخشبية السميكة، وأوراقِها ريشية الشكل، ومخاريطِها كبيرة الحجم، وتوجدُ في الغاباتِ الاستوائية، والمناطقِ شبه الاستوائية. وهي أشجارٌ دائمة الخضرة، وثنائية المسكن؛ أي إنَّ الشجرة الواحدة تحملُ مخاريطَ ذكرية تُنتِجُ حبوبَ اللقاح كما في الشكل (16)، أو مخاريطَ أنثوية تُنتِجُ البويضاتِ كما في الشكل (17).

الشكلُ (16): مخروطانِ ذكريانِ.

الشكلُ (17): مخروطٌ أنثويٌّ.



• النباتات مُغطّاةُ البذور (النباتاتُ الزهرية) Angiosperms

تمتازُ هذه النباتاتُ عن بقية النباتات البذرية بأنَّ عضوَ التكاثر فيها هو الزهرة؛ لذا، فإنَّها تُسمَّى **النباتاتُ الزهرية** **Flowering Plants**، وهي تُصنَّفُ إلى النباتات ذات الفلقة، والنباتات ذات الفلقتين.

أجزاء النبات الزهري Flowering Plants Parts

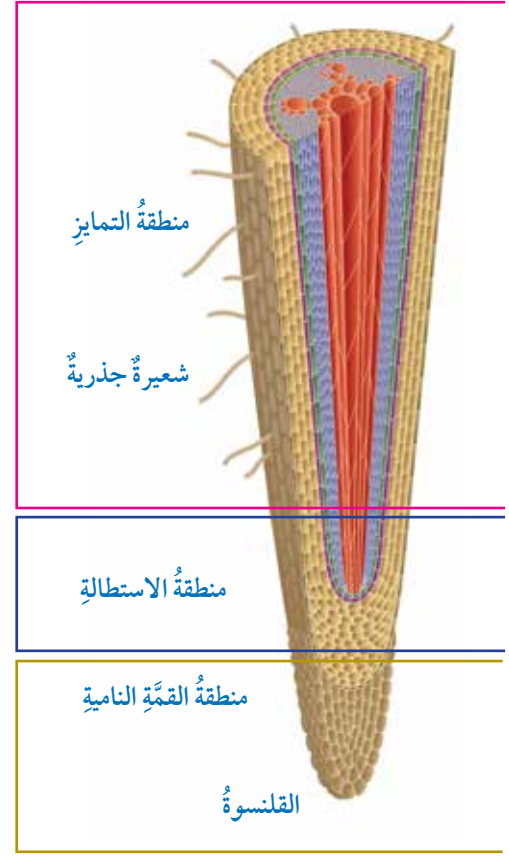
يتكوَّن النباتُ الزهريُّ من الأجزاء الآتية:

• الجذر Root

جزءٌ من النبات ينمو غالباً تحت التربة، ويُثبَّت النبات في التربة، ويمتصُّ الماء والألاح منها. وبعض الجذور تُخزِّن الغذاء، من مثل جذور نبات الفجل. مناطق الجذر الخارجية: يُظهر الشكل (18) مناطق الجذر الخارجية، وهي: منطقة الانقسام (القمة النامية)، ومنطقة الاستطالة، ومنطقة التمايز.

تحتوي منطقة **القمة النامية Apical meristem** على خلايا مُولَّدة تنقسمُ انقساماتٍ متساوية، ويُعطِّي هذه المنطقة تركيب يُسمَّى **القلنسوة Root cap**، وهو يحميها في أثناء اختراق الجذر للتربة. أمَّا منطقة **الاستطالة Elongation zone** فتتمو فيها الخلايا الناتجة من الانقسام، وتستطيلُ، في حين تتمايز الخلايا في منطقة **التمايز Differentiation zone** وتتكوَّن فيها الأنسجة المختلفة. ينشأ عن طبقة البشرة في الجذر امتداداتٌ دقيقة تُسمَّى **الشعيرات الجذرية Root Hair**، وهي تزيد من مساحة السطح المُعرَّض لامتصاص الماء والألاح من التربة.

✓ **أتحقَّقُ:** ماذا يُسمَّى عضو التكاثر في النباتات مُغطّاةُ البذور؟



الشكل (18): مناطق الجذر الخارجية.

أبحثُ:



أبحثُ في مصادر المعرفة المناسبة عن نباتات جذورها هوائية، ولا تنمو تحت التربة، ثمَّ أعرِّض النتائج التي أتوصلُ إليها أمام زملائي.

افكر هل الجدار الخلوي

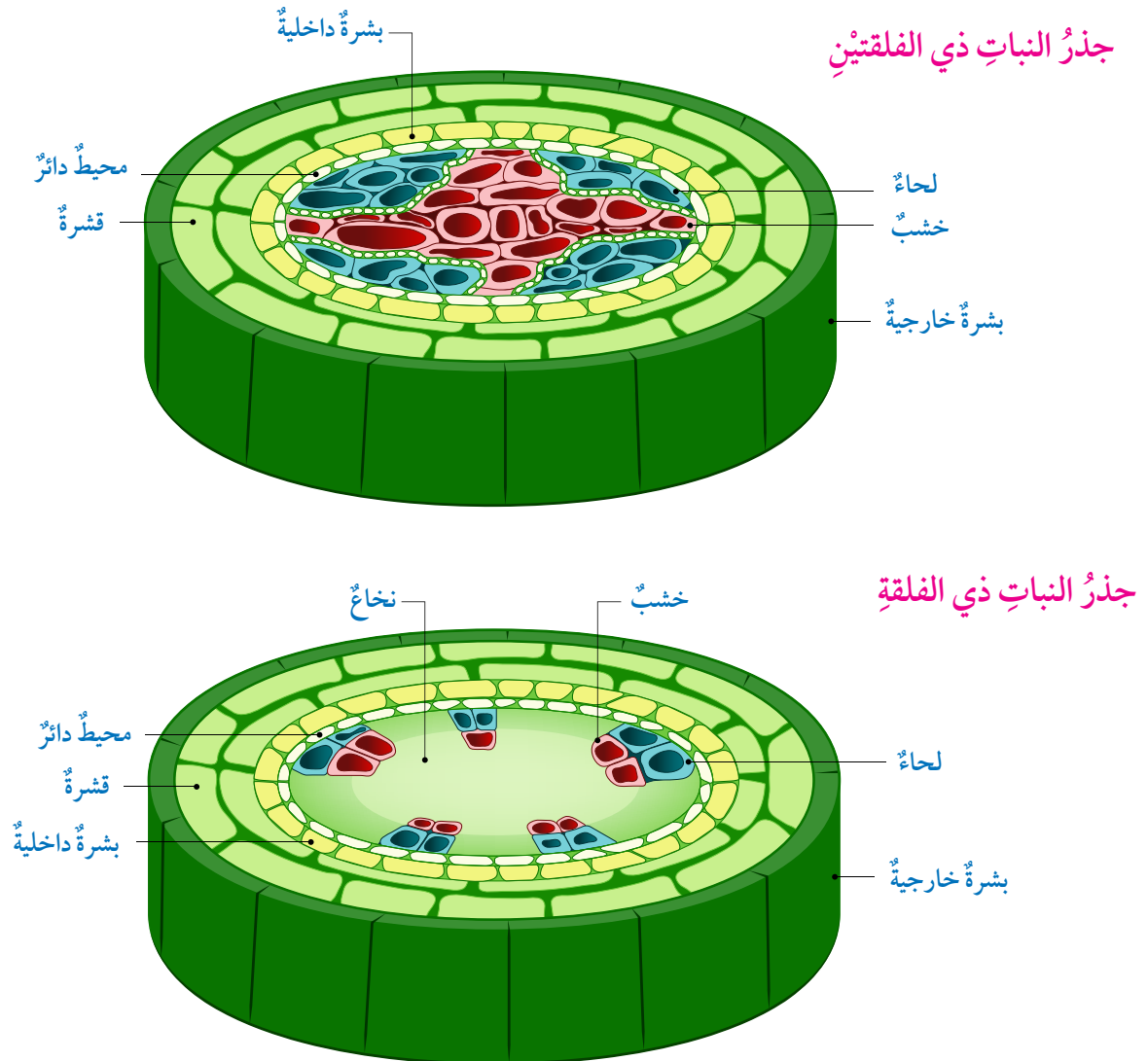
للشعيرة الجذرية رقيق أم سميك؟ أفسِّر إجابتي.

التركيب الداخلي للجذر: عند دراسة مقطع عرضي يُمثل التركيب الداخلي لجذر النبات ذي الفلقتين، يُمكن مشاهدة طبقة البشرة الخارجية التي تتكوّن من صف واحد من الخلايا، وتنشأ عنها الشعيرات الجذرية، ثم طبقة القشرة التي تتكوّن من صفوف عدّة من خلايا النسيج الأساسي، ثم طبقة البشرة الداخلية، ثم المحيط الدائر والأنسجة الوعائية.

تنشأ **الجذور الجانبية** Lateral root عن طبقة المحيط الدائر، ويمتدّ الخشب ليصل مركز الجذر في جذر النباتات ذات الفلقتين. أما في جذر النباتات ذات الفلقة فتشغل الخلايا البرنشيمية مركز الجذر مُشكّلة **النخاع** pith، أنظر الشكل (19).

✓ **أتحقّق:** ما أهمية كلّ من الجذر، والقمة النامية؟


الشكل (19): التركيب الداخلي للجذر. أقرّن بين التركيب الداخلي لجذر النباتات ذات الفلقة والنباتات ذات الفلقتين.



• الساقُ Stem

الساقُ جزءٌ من النبات، ينمو غالباً فوق سطح التربة، ويمثل دعامةً للنبات، وينقل المواد من الجذور إلى الأوراق وبالعكس. تُخزن بعض السيقان المواد، كما في نبات البطاطا، ونبات الصبار، أنظر الشكل (20) الذي يُبين الأجزاء الخارجية للساق.

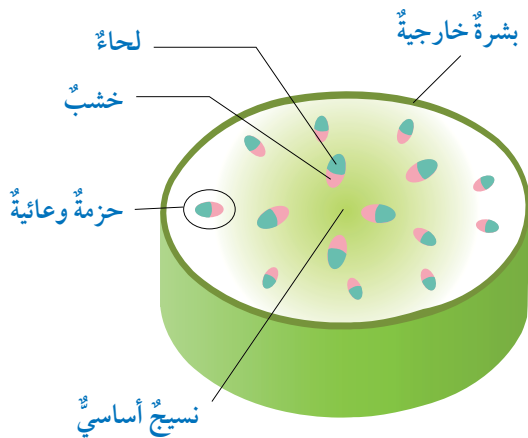
التركيب الداخلي للساق: عند دراسة مقطع عرضي يمثل التركيب الداخلي لساق النبات ذي الفلقتين، يمكن مشاهدة **البشرة** الخارجية التي تغطيها طبقة شمعية تُسمى الكيوتكل، وتتكون البشرة من صف واحد من الخلايا، ثم مشاهدة **القشرة Cortex** التي تتكون من خلايا النسيج الأساسي، ثم الحزم الوعائية مُرتبة على شكل محيط دائرة تحوي الخشب واللحاء، ويشغل الحيز بينهما نسيجاً يتكون من خلايا مُولدة، ويُسمى **الكامبيوم Cambium**. يفصل بين الحزم الوعائية **أشعة نخاعية Pith Ray** تتكون من خلايا برنشيمية تؤدي وظائف عدة، منها نقل المواد من القشرة إلى النخاع. يختلف التركيب الداخلي لساق الفلقة؛ إذ لا يكون النسيج الأساسي الذي يملأ الحيز بين البشرة والحزم الوعائية مُميزاً إلى طبقات، وتكون الحزم الوعائية التي تخلو من الكامبيوم مبعثرة في النسيج الأساسي، أنظر الشكل (21).



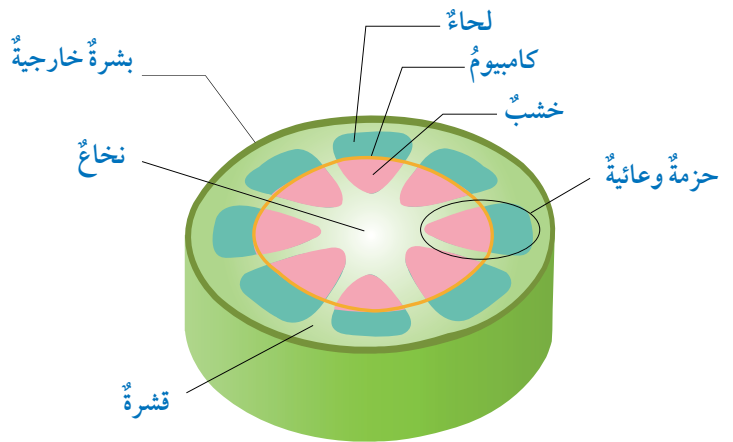
الشكل (20): الأجزاء الخارجية للساق.

الشكل (21): رسمٌ تخطيطي يوضح التركيب الداخلي لساق النبات ذي الفلقة، النبات ذي الفلقتين. أُقارن بين النباتات ذات الفلقة والنباتات ذات الفلقتين من حيث التركيب الداخلي للساق.

ساق النبات ذي الفلقة

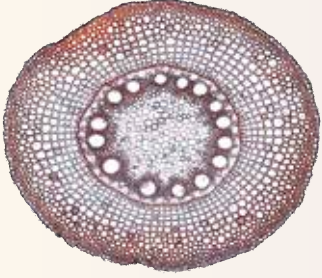


ساق النبات ذي الفلقتين

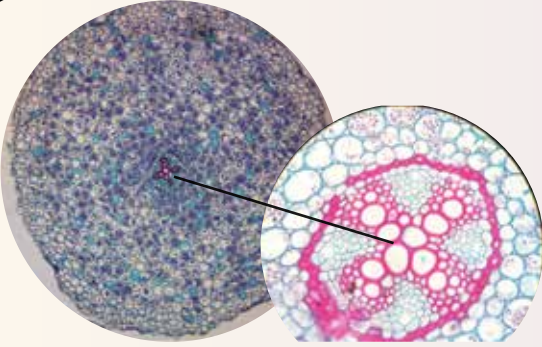


مقارنة بين التركيب الداخلي للجذر والساق في النباتات مُغطاة البذور (الزهرية).

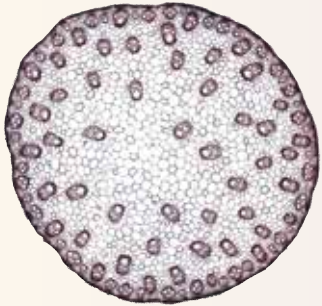
جذر النبات ذي الفلقة



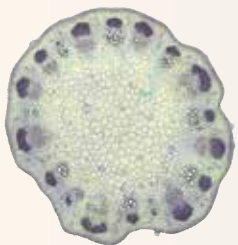
جذر النبات ذي الفلقتين



ساق النبات ذي الفلقة



ساق النبات ذي الفلقتين



يتباين التركيب الداخلي لكل من الساق والجذر في النباتات ذات الفلقة والنباتات ذات الفلقتين، ويمكن ملاحظة هذا التباين عند دراسة مقاطع عرضية لهما تحت المجهر.

المواد والأدوات:

شرائح زجاجية جاهزة لمقاطع عرضية في جذر النبات ذي الفلقة، جذر النبات ذي الفلقتين، ساق النبات ذي الفلقة، ساق النبات ذي الفلقتين، مجهر ضوئي مركب.

إرشادات السلامة:

استعمال الشرائح الزجاجية بحذر.

خطوات العمل:

1 أغطي اسم المقطع المكتوب على الشريحة

الزجاجية باستعمال ورقة بيضاء ولاصق.

2 أرقم الشرائح (1، 2، 3، 4)، ثم **أنفحصها** تحت المجهر.

3 **ألاحظ** وجود البشرة الداخلية، وترتيب الحزم الوعائية، ووجود النخاع.

4 **أدون** ملاحظاتي في جدول.

5 **أقارن** نتائجي التي توصلت إليها بالشكل (22).

التحليل والاستنتاج:

أصنف المقاطع التي درستها إلى مقطع في جذر النبات ذي الفلقة، ومقطع في جذر النبات ذي الفلقتين، ومقطع في ساق النبات ذي الفلقة، ومقطع في ساق النبات ذي الفلقتين.

الشكل (22): التركيب الداخلي للجذر والساق في النباتات مُغطاة البذور (الزهرية).

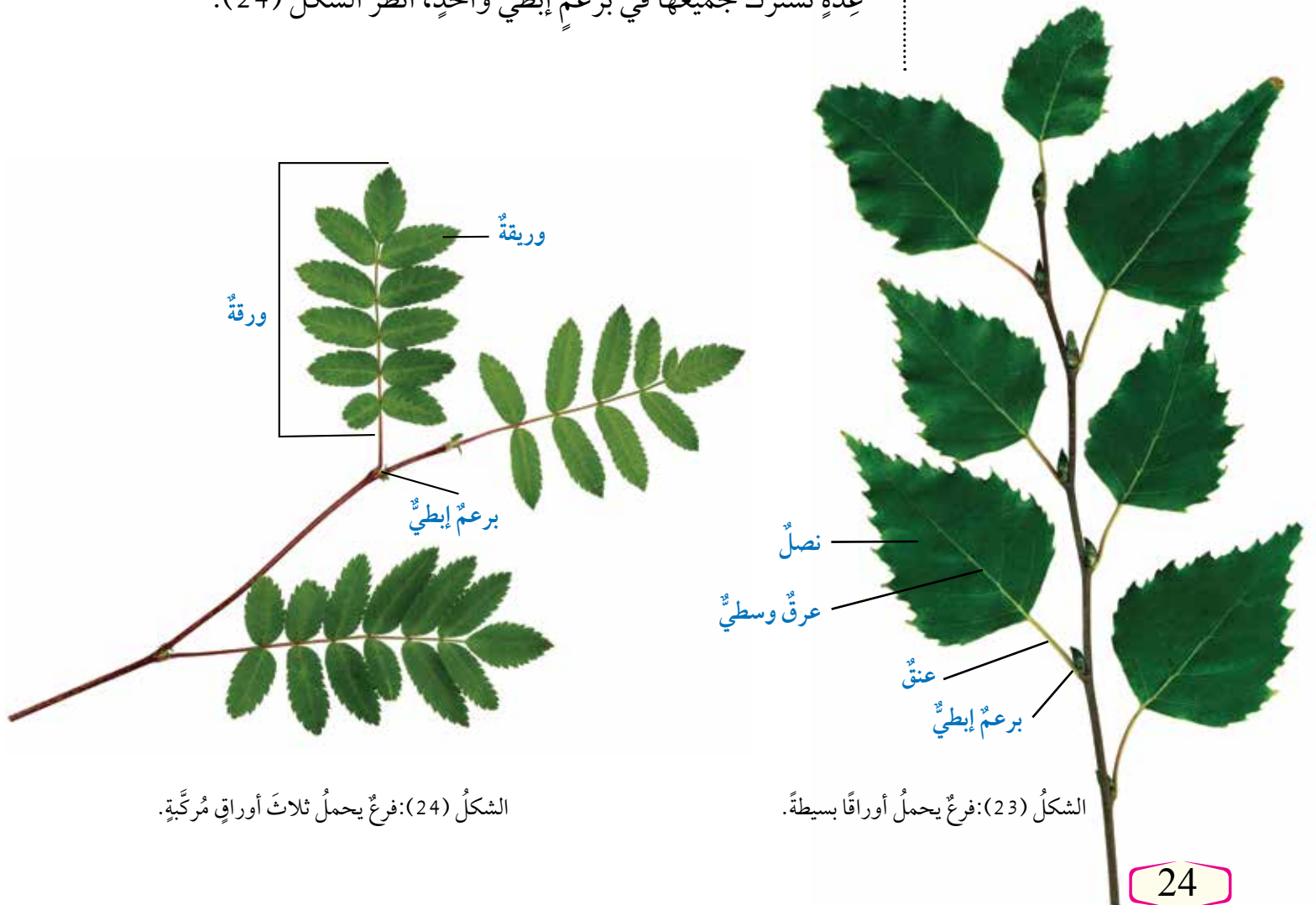
• الورقة Leaf

درست سابقاً أنّ عملية البناء الضوئي تحدث في الأوراق، وأنّ الورقة جزء من النبات تحمل الساق، وأنّ الورقة تنتج من برعم إبطي.

تؤدي الأوراق في النبات عمليات عدّة، منها: **تبادل الغازات** **Gas Exchange** التي أهمّها الأكسجين وثنائي أكسيد الكربون، **وعملية التبخّر Transpiration**؛ إذ يفقد الماء من النبات في صورة بخار ماء. ومن هذه العمليات أيضاً عملية البناء الضوئي.

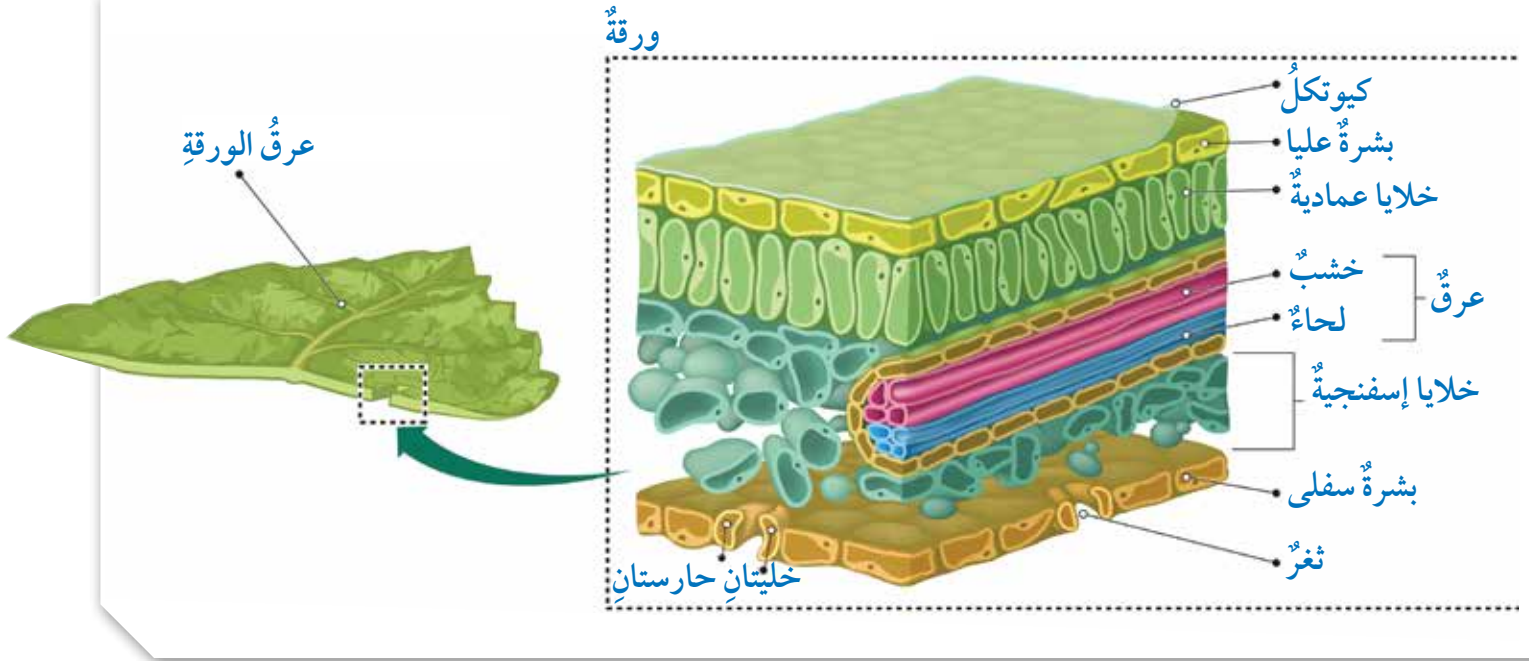
تتكوّن الورقة من نصل؛ وهو الجزء المبسط منها، وبعضها له عنق، وهي تُصنّف إلى أوراق **بسيطة Simple leaf**، وأخرى **مركبة Compound leaf**. تختلف الورقة البسيطة عن الورقة المركبة في أنّ نصلها يتكوّن من جزء واحد، وأنّها تنتج من برعم إبطي، أنظر الشكل (23)، في حين يتكوّن نصل الورقة المركبة من وريقات عدّة تشترك جميعها في برعم إبطي واحد، أنظر الشكل (24).

✓ **أتحقّق:** أقرّن بين الورقة البسيطة والورقة المركبة من حيث التركيب.



الشكل (24): فرع يحمل ثلاث أوراق مركبة.

الشكل (23): فرع يحمل أوراقاً بسيطة.



الشكل (25): رسمٌ تخطيطيٌ لتركيب الورقة.
أصفُ التركيبَ الداخليَّ لورقة نبات.

التركيبُ الداخليُّ للورقة: تحدثُ عمليةُ البناءِ الضوئيِّ في أجزاءِ النباتِ التي تحوي الكلوروفيل، وأهمُّها الورقةُ التي تتكوَّنُ من تراكيبٍ يُمكنُ مشاهدتها تحت المجهر، أنظر الشكل (25). وهذه التراكيبُ تساعدُ الورقةَ على أداءِ وظائفها المختلفة، وهي:

طبقةُ البشرةِ شفّافة؛ ما يسمحُ بنفاذِ الضوءِ إلى الخلايا المسؤولة عن عملية البناءِ الضوئيِّ.

وجودُ طبقةٍ شمعيةٍ تُسمَّى الكيونكل، ويكونُ سُمكُها في البشرةِ العليا أكبرَ منه في البشرةِ السفلى؛ ما يقلِّلُ فقدانَ الماءِ من خلايا البشرةِ.

الخلايا المُكوِّنة للطبقةِ الإسفنجيةِ تحدثُ فيها عمليةُ البناءِ الضوئيِّ على نحوٍ أقلَّ منه في الخلايا العمادية، وتوجدُ بينها فراغاتٌ هوائيةٌ كبيرةٌ؛ ما يُوفِّرُ مساحةً سطحٍ واسعةً لتبادلِ الغازاتِ بين الخلايا والهواءِ في الورقةِ.

الخلايا العمادية مُتراصةٌ وقريبةٌ من البشرةِ العليا؛ ما يتيحُ لها امتصاصَ أكبرِ كميةٍ ممكنةٍ من الضوءِ اللازمِ لحدوثِ البناءِ الضوئيِّ فيها.

الخشبُ ينقلُ الماءَ والأملاحَ المعدنيةَّ من الجذرِ إلى الساقِ، فالأوراقِ.

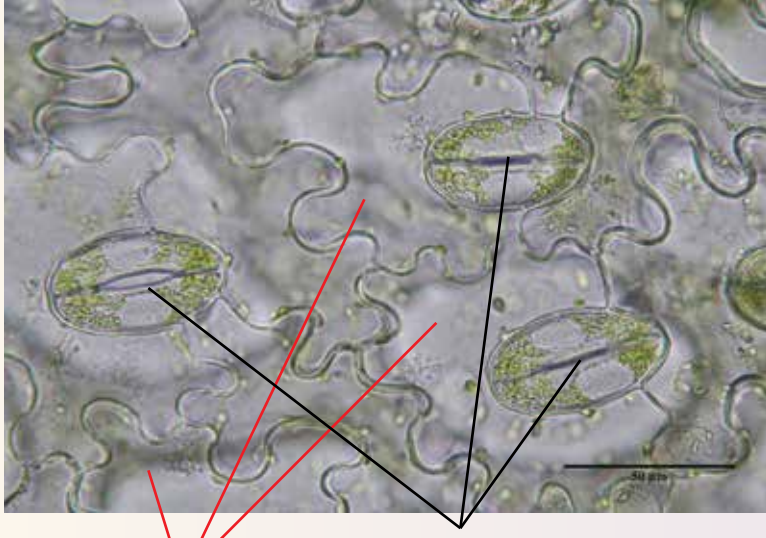
اللحاءُ ينقلُ السكروزَ الناتجَ من عمليةِ البناءِ الضوئيِّ من مكانٍ تصنيعه إلى بقيةِ أجزاءِ النباتِ.

البلاستيداتُ الخضراءُ التي تحوي الكلوروفيلَ تتركّزُ بصورةٍ أكبرَ في الخلايا العمادية..

الثغورُ في الورقةِ تسمحُ بالنتح، وتبادلِ الغازاتِ بين الورقةِ والهواءِ الجوّيِّ.

الثغور في ورقة النبات

الثغور فتحات توجد في طبقة البشرة بورقة النبات، وتحاط بخليتين حارستين، وتحدث عن طريقها عملية تبادل الغازات.



خلايا البشرة

ثغور

الشكل (26): الثغور وخلايا البشرة تحت المجهر.

المواد والأدوات:

عينّة من ورقة نبات، شرائح زجاجية،
أغطية شرائح، طلاء أظافر شفاف،
مجهر ضوئي مركّب، ملقط.

إرشادات السلامة:

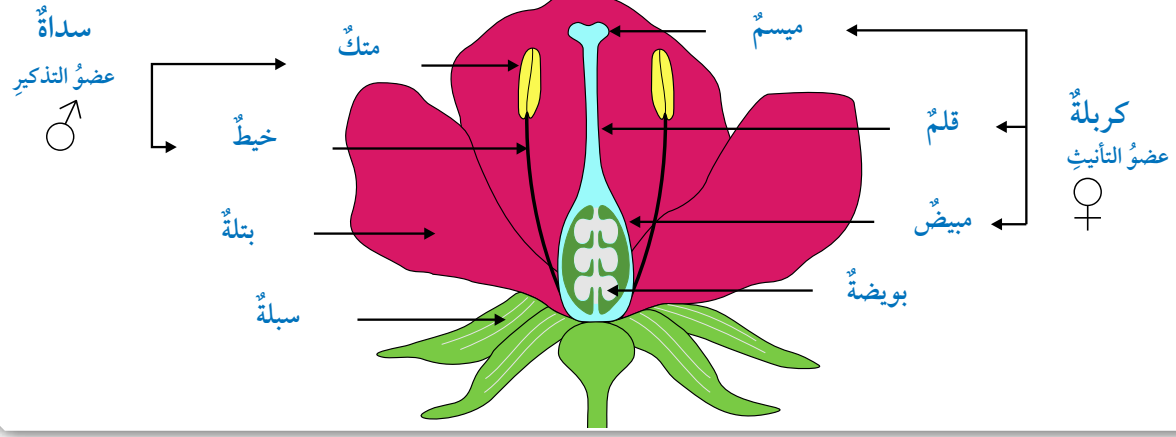
استعمال الشرائح الزجاجية وطلاء
الأظافر بحذر.

خطوات العمل:

- 1 أجرب:** أضع طبقة رقيقة من طلاء الأظافر على السطح العلوي لورقة النبات، وعلى سطحها السفلي، ثم أتركه قليلاً ليحفظ.
- 2 أعمل نموذجاً:** أنزع طبقة طلاء الأظافر عن السطح العلوي بالملقط، ثم أضعها على شريحة زجاجية نظيفة، ثم أضيف قطرة ماء إليها، ثم أضع غطاء الشريحة.
- 3 أتفحص** الشريحتين باستعمال المجهر.
- 4 ألاحظ** الثغور في الشريحتين، مستعيناً بالشكل (26).
- 5 أقارن** بين عدد الثغور على سطح الورقة العلوي وعددها على سطح الورقة السفلي (أستعمل قوة التكبير نفسها).

التحليل والاستنتاج:

أفسر سبب الفرق في عدد الثغور بين البشرة العليا والبشرة السفلى.



الشكل (27): أجزاء الزهرة.

أين تتكوّن الجاميتات الذكورية والجاميتات الأنثوية في الزهرة؟

أبحث:



أبحث في مصادر المعرفة المناسبة عن تصاميم مخازن حفظ البذور التي تحافظ على مادتها الوراثية عند حدوث كوارث طبيعية تقضي على الغطاء النباتي في العالم، ثم أكتب تقريراً عن ذلك، ثم أقرأه أمام زملائي.

الشكل (28): تركيب البذور.

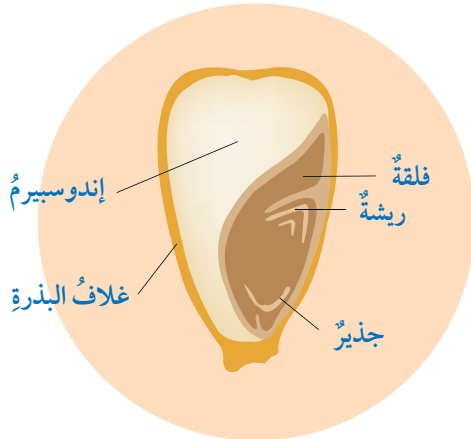
• الزهرة Flower

درست سابقاً تركيب **الزهرة** كما في الشكل (27). وهي تنشأ عن البرعم، ويلاحظ وجود أوراق خضراء اللون أول نموها تُسمى السبلات التي تعمل على حماية بقية أعضائها. وعند تفتح السبلات تظهر الأوراق الملونة للزهرة التي تُسمى البتلات. تتكوّن الجاميتات في الزهرة؛ فتنشأ الجاميتات الذكورية (حبوب اللقاح) في أعضاء الذكّر، وتنشأ البويضات في عضو الأنثى. تختلف الأزهار في ما بينها من حيث الشكل واللون والحجم، ولكنها تشابه في أنها عضو التكاثر الجنسي في النبات، وحدث الإخصاب داخلها.

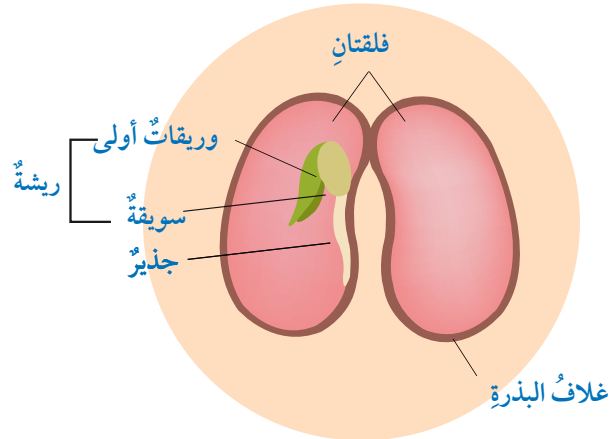
• البذرة Seed

تنقسم البويضة المُخصَّبة انقسامات متساوية لتكوين الجنين داخل غلاف البذرة، وتُخزن البذور الغذاء في النباتات ذات الفلقة في نسيج يُسمى **الإندوسبيرم Endosperm**، في حين تُخزن بذور النباتات ذات الفلقتين الغذاء في الفلقتين. أدرس الشكل (28)؛ لتعرف تركيب البذرة في النباتات ذات الفلقة والنباتات ذات الفلقتين.

✓ **أتحقّق:** أقرّن بين بذور النباتات ذات الفلقة وبذور النباتات ذات الفلقتين.



بذرة الدرة (ذات الفلقة)



بذرة الفاصولياء (ذات الفلقتين)



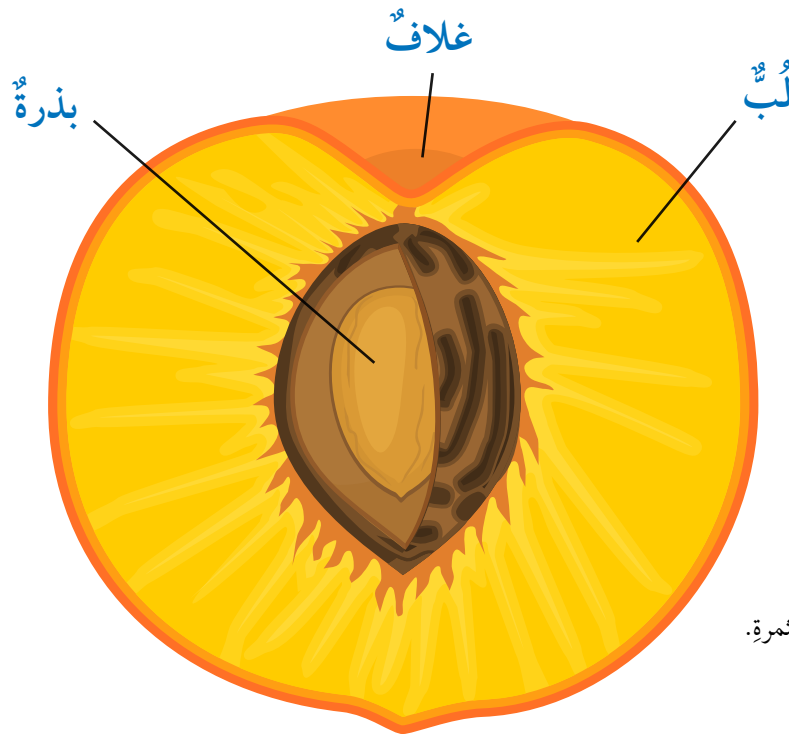
عكف علماء النبات على دراسة النباتات في المحطات الفضائية. ومن ذلك دراسة تأثير إشعاعات الفضاء في إنبات البذور، وذلك بوضع عدد كبير من بذور البندورة في قمر صناعي دار حول الأرض مدّة ست سنوات (1984-1990م)، ثمّ زراعة هذه البذور مع بذور أخرى لم تكن في القمر الصناعي؛ لمقارنة النتائج، فكان معدل نموّ النباتات في الأسابيع الأولى أسرع من تلك التي لم تتعرّض لأحوال الفضاء، ولكن نوعية الثمار كانت واحدة في نهاية التجربة.

• الثمرة Fruit

تحدث انقسامات متساوية للبويضة المُخصَّبة داخل مبيض الزهرة بعد حدوث الإخصاب، فينضج المبيض لتكوين الثمرة. تختلف الثمار في أشكالها وألوانها وطعمها، لكنّها تشابه في تركيبها العام؛ إذ تتكوّن من غلاف، ولُب، وبذرة، أنظر الشكل (29). وقد تحوي الثمرة بذرة واحدة مثل ثمار الدراق والخوخ، وقد تحوي بذوراً عدّة مثل ثمار البندورة والفلفل والباميا.

✓ **أنحقّق:** أصف التركيب العام للثمرة.

أفكر إذا اختلفت النباتات الزهرية عن سطح الأرض، فماذا سيحدث؟



الشكل (29): التركيب العام للثمرة.

تَكْيُفُ النَبَاتِ لِلْعِيشِ فِي بَيَاتِهَا

أَبْحَثُ:



أَبْحَثُ فِي مَصَادِرِ الْمَعْرِفَةِ
الْمُنَاسِبَةِ عَنْ تَكْيُفِ النَبَاتِ
الطَافِيَةِ وَالنَبَاتِ الْمَغْمُورَةِ
فِي الْمَاءِ لِلْعِيشِ فِي بَيَاتِهَا، ثُمَّ
أُنَاقِشُ زَمَلَائِي فِي مَا أَتَوَصَّلُ
إِلَيْهِ.

الشكل (30): نبات الصَّبَّارِ.

1. زهرة.

2. أوراق.

يُؤَثِّرُ تَوَافُرُ الْمَاءِ وَدَرَجَاتِ الْحَرَارَةِ فِي الْبَيَّةِ فِي خَصَائِصِ النَبَاتِ؛ فَالظُرُوفُ الَّتِي تَعِيشُ فِيهَا النَبَاتُ الْمَائِيَّةُ، مِثْلُ نَبَاتِ زَنْبِقِ الْمَاءِ، تَخْتَلِفُ عَنْهَا فِي النَبَاتِ الَّتِي تَعِيشُ فِي الْبَيَّاتِ الْحَارَةِ الْجَافَةِ، مِثْلُ نَبَاتِ الصَّبَّارِ. تَمْتَازُ النَبَاتُ الَّتِي تَعِيشُ فِي الصَّحْرَاءِ بِجُذُورٍ وَسِيقَانٍ وَأَوْرَاقٍ تَحْمَلُ شَحَّ الْمَاءِ، وَشِدَّةَ الضَّوْءِ الْعَالِيَةِ فِي النَّهَارِ، وَارْتِفَاعَ دَرَجَاتِ الْحَرَارَةِ نَهَارًا وَانْخِفَاضَهَا لَيْلًا؛ فَجُذُورُ هَذِهِ النَبَاتِ تَخْتَرُقُ مِسَاحَاتٍ كَبِيرَةً مِنْ التُّرْبَةِ أَفْقِيًّا وَعَمُودِيًّا، لِمَتَصَاصِ أَكْبَرِ كَمِيَّةٍ مُمْكِنَةٍ مِنَ الْمَاءِ. وَهِيَ تُخْزِنُ الْمَاءَ فِي أَوْرَاقِهَا وَسِيقَانِهَا.

يَسَاعِدُ تَرْكِيبُ الْأَوْرَاقِ وَشَكْلُهَا عَلَى التَّقْلِيلِ مِنْ عَمَلِيَةِ النَّتْحِ، أَنْظُرِ الشَّكْلَ (30)؛ ففِي بَعْضِ النَبَاتِ تَتَحَوَّرُ الْأَوْرَاقُ إِلَى أَشْوَكَ، يُسْتَعَاضُ عَنْهَا بِالسِّيقَانِ الْخَضِرَاءِ لِلْبِنَاءِ الضَّوئِيِّ، وَفِي نَبَاتٍ أُخْرَى تَكُونُ الْأَوْرَاقُ صَغِيرَةً الْحَجْمِ، وَتُغَطِّي الْبَشْرَةَ فِي كُلِّ مِنَ السَّاقِ وَالْأَوْرَاقِ طَبَقَةً سَمِيكَةً مِنَ الْكِوَتِكْلِ.

✓ **أَتَحَقَّقُ:** كَيْفَ تَكْيُفُ نَبَاتَاتِ الصَّحْرَاءِ عَلَى الْعِيشِ فِيهَا؟

مراجعة الدرس

ذات الفلقة	ذات الفلقتين	
عدّد فلقات البذرة		
عدّد الأوراق في الزهرة		
شكل العروق في الورقة		
ترتيب الحزم الوعائية في الساق		
وجود النخاع في الساق		

1. أقرّن بين النباتات ذات الفلقة والنباتات ذات الفلقتين كما في الجدول المجاور.
2. أصنّف النباتات مُعرّاة البذور إلى مجموعاتها الأربع.
3. أصفّ تركيب الزهرة.
4. أتوقّع بعض خصائص نبات الشّيح *Artemisia jordanica* الذي ينمو في مناطق عدّة من الأردنّ، مثل الصحراء الشرقية.

الساعة	درجة الحرارة	نسبة الرطوبة	معدل التبخر لكل ساعة
8(AM)	14	88	57
9	14	82	72
10	21	86	83
11	26	87	125
12(PM)	27	87	161
1	33	65	199
2	31	61	186
3	30	70	107
4	29	69	137

5. تحليل البيانات: أدرُس الجدول المجاور الذي يُمثّل نتائج تجربة لدراسة بعض العوامل المؤثّرة في عملية النتح، ثمّ أجيب عن السؤالين الآتيين:
 - أ- أرسم بيانيًا العلاقة بين الوقت في أثناء اليوم ومعدل النتح.
 - ب- أفسّر سبب انخفاض قيمة معدل النتح عند الساعة 3.

خصائص الحيوانات وأسس تصنيفها

Characteristics of Animals and its Bases of Classification

7

الدرس

Characteristics of Animals خصائص الحيوانات

الحيوانات كائنات حية حقيقية النوى، وعديدة الخلايا تحاط بأغشية، ولا يحيط بها جدار. وتُشكّل الخلايا المتشابهة في الشكل والوظيفة أنسجة، مثل: الأنسجة العضلية والعصبية.

تُصنّف المملكة الحيوانية إلى فقاريات، ولا فقاريات، وتُمثّل اللا فقاريات ما يزيد على 95٪ من مجموع الأنواع الحيوانية المعروفة، وتشارك مع بقية أفراد مملكة الحيوان في خصائص عدّة.

الحيوانات كائنات حية غير ذاتية التغذية، أنظر الشكل (31)، ومعظمها يتكاثر جنسياً بإخصاب الجاميت الذكري (1ن) للجاميت الأنثوي (1ن). والجاميت الذكري يكون غالباً صغير الحجم، ويمتلك أسواطاً للحركة. أمّا البويضة فتكون أكبر حجماً، وغير متحركة.

ينتج من الإخصاب بويضة مُخصّبة (Zygote) (2ن)، تنقسم انقسامات متساوية لتكوين الجنين الذي يظهر في إحدى مراحل نموه المبكرة على شكل كرة مُجوّفة من الخلايا تُسمى البلاستولة (Blastula)، ثم يبدأ تشكّل طبقات مُولدة تتكوّن منها أعضاء الجسم المختلفة، أنظر الشكل (32).

الفكرة الرئيسة:

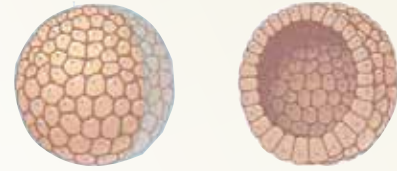
تختلف الحيوانات في خصائصها التركيبية، وتُعتَمَدُ أسس عدّة في تصنيفها.

نتائج التعلم:

- أ حدّد الخصائص العامة للحيوانات.
- أ وضح أسس تصنيف الحيوانات.

المفاهيم والمصطلحات:

Germ Layers	الطبقات المُولدة
Body Symmetry	تماثل الجسم
Coelom	تجويف الجسم



الشكل (32): جنين في مرحلة البلاستولة.

✓ **أتحقّق:** ما الخصائص العامة للحيوانات؟


الشكل (31): حيوانات عاشبة.





الفراشة

جانبية التماثل؛ ويمكن الحصول على جزأين متماثلين للجسم عند مستوى واحد.



شقائى نعمان البحر

شعاعية التماثل؛ ويمكن الحصول على جزأين متماثلين للجسم عند مستويات عدة.



الإسفنج

عديم التماثل؛ ولا يمكن الحصول على جزأين متماثلين؛ لأن شكل الجسم غير منتظم.

الشكل (33): أنواع التماثل في أجسام الحيوانات.

أسس تصنيف الحيوانات Bases of Animal Classification

تُصنّف الحيوانات وفق أسسٍ عدّة، منها:

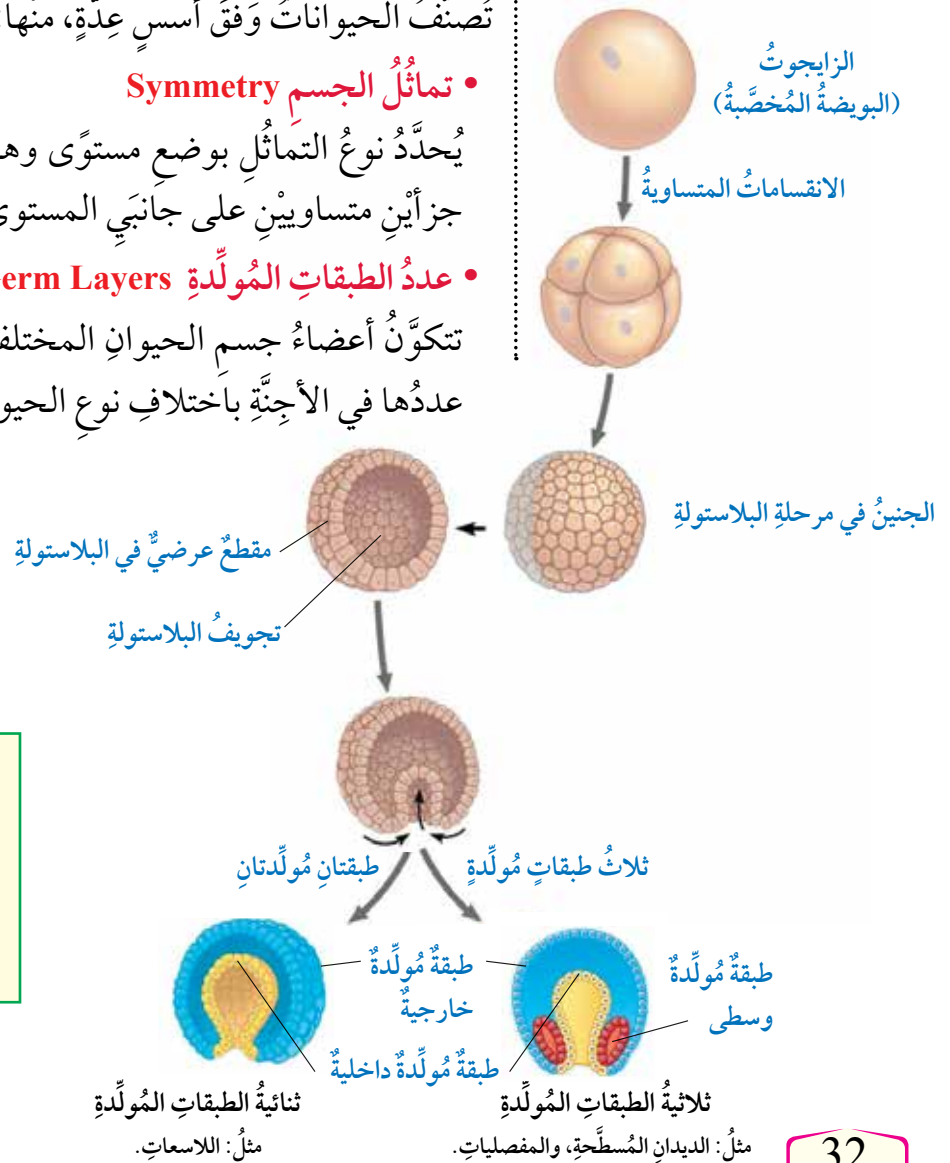
• تماثل الجسم Symmetry

يُحدّد نوع التماثل بوضع مستوى وهمي يقسم جسم الحيوان إلى جزأين متساويين على جانبي المستوى، أنظر الشكل (33).

• عدد الطبقات المولدة Number of Germ Layers

تتكوّن أعضاء جسم الحيوان المختلفة من طبقات مولدة، يختلف عددها في الأجنّة باختلاف نوع الحيوان، أنظر الشكل (34).

الشكل (34): مراحل تكوّن الطبقات المولدة.



أفكر ما العلاقة بين عدد الطبقات المولدة ومستوى التعقيد في جسم الحيوان؟

• تجويفُ الجسمِ Coelom

أَبْحَثُ:



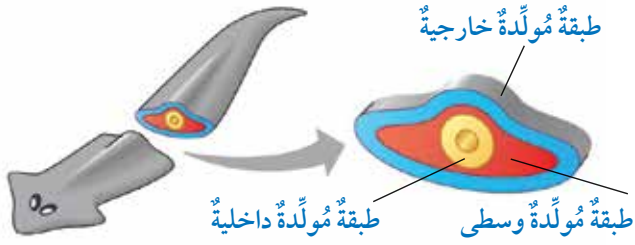
أَبْحَثُ فِي مَصَادِرِ الْمَعْرِفَةِ
الْمُنَاسِبَةِ عَنِ الْأَعْضَاءِ الَّتِي
تَتَكَوَّنُ مِنَ الطَّبَقَاتِ الْمُؤَلَّدَةِ،
ثُمَّ أَعِدُّ عَرْضًا تَقْدِيمِيًّا عَنْهَا، ثُمَّ
أَعْرِضْهُ أَمَامَ زَمَلَائِي.

يُوجَدُ حَيِّزٌ بَيْنَ الْقَنَاةِ الهَضْمِيَّةِ، وَأَعْضَاءٍ أُخْرَى مِنَ الْجِسْمِ، وَالْجِدَارِ
فِي الْحَيَوَانَاتِ الَّتِي تَتَأَلَّفُ أَجْزَأُهَا مِنْ ثَلَاثِ طَبَقَاتٍ مُؤَلَّدَةٍ.
تُصَنَّفُ الْحَيَوَانَاتُ بِحَسَبِ تَجْوِيفِ الْجِسْمِ إِلَى: عَدِيمَةِ التَّجْوِيفِ،
وَكَاذِبَةِ التَّجْوِيفِ، وَحَقِيقَةِ التَّجْوِيفِ، أَنْظِرُ الشَّكْلَ (35).

تصنيفُ الحيواناتِ بِحَسَبِ تَجْوِيفِ الْجِسْمِ:

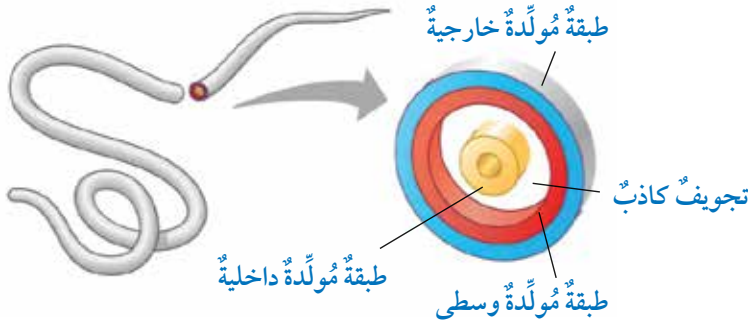
1 حيواناتٌ عَدِيمَةُ التَّجْوِيفِ

لَا يُوْجَدُ فِيهَا تَجْوِيفٌ؛ لِأَنَّ الطَّبَقَةَ
الْوَسْطَى كَوْنَتْ نَسِيجًا يَمْلَأُ حَيِّزَ
الْجِسْمِ. وَمِنْ أَمْثَلِهَا الدِّيدَانُ
الْمُسَطَّحَةُ (دَوْدَةُ الْبَلَانَارِيَا).



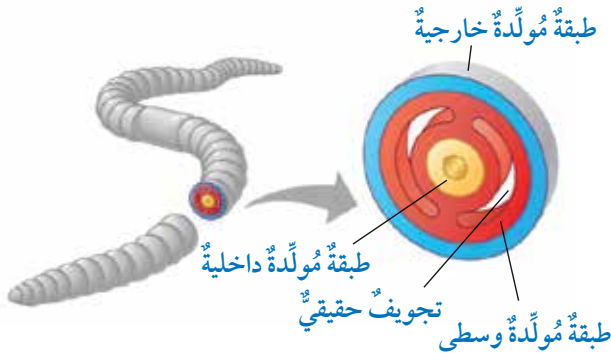
2 حيواناتٌ كَاذِبَةُ التَّجْوِيفِ

يُوْجَدُ فِيهَا تَجْوِيفٌ كَاذِبٌ، غَيْرُ
مَحَاطٍ بِالطَّبَقَةِ الْمُؤَلَّدَةِ الْوَسْطَى
مِنَ الْجِهَاتِ جَمِيعِهَا. وَمِنْ
أَمْثَلِهَا الدِّيدَانُ الْأَسْطَوَانِيَّةُ (دَوْدَةُ
الْإِسْكَارِس).



3 حيواناتٌ حَقِيقَةُ التَّجْوِيفِ

يُوْجَدُ فِيهَا تَجْوِيفٌ حَقِيقِيٌّ مَحَاطٌ
بِالطَّبَقَةِ الْمُؤَلَّدَةِ الْوَسْطَى مِنْ
الْجِهَاتِ جَمِيعِهَا. وَمِنْ أَمْثَلِهَا
الْحَلَقِيَّاتُ (دَوْدَةُ الْأَرْضِ).



الشَّكْلُ (35): تَصْنِيفُ الْحَيَوَانَاتِ بِحَسَبِ تَجْوِيفِ الْجِسْمِ.

مراجعة الدرس

1. أعدّد الخصائص العامة للحيوانات.
2. أوضّح المقصودَ بتمائل الجسم، وكيف يُمكنُ تحديده.
3. أفسّر: لماذا يوصفُ تجويفُ الجسمِ في دودة الإسكارسِ بأنّه تجويفٌ كاذبٌ؟
4. درس أحدُ الطلبةِ مقطعينِ عرضيينِ في جنينِ كلٍّ من حيوانٍ لاسعٍ، ودودةِ البِلاناريا المُسطّحةِ:
 - أيُّ المقطعينِ يُمثّلُ جنينَ حيوانٍ لاسعٍ: (أ) أم (ب)؟
 - أيُّ المقطعينِ يُمثّلُ جنينَ دودةِ البِلاناريا المُسطّحةِ؟ أفسّرِ إجابتي.



(ب)



(أ)

5. أقارنُ بينَ الإسفنج، وشقائق نعمان البحر، والنحلِ كما في الجدولِ الآتي:

النحل	شقائق نعمان البحر	الإسفنج	
			تمائلُ الجسم:
			تجويفُ الجسم:
			عدّد الطبقاتِ المولّدة:

قبائل اللافقاريات Invertebrates Phyla

صنّف العلماء اللافقاريات إلى قبائل عدّة اعتماداً على خصائصها المظهرية، وتركيبها الجزيئي، أنظر الشكل (36) الذي يبيّن أبرز هذه القبائل.



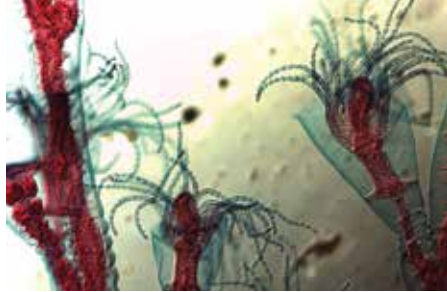
قبيلة الحلقيات.



قبيلة المثقبات.



قبيلة الرخويات.



قبيلة اللاسعات.



قبيلة المفصليات.



قبيلة الديدان المسطحة.



قبيلة شوكيات الجلد.



قبيلة الديدان الأسطوانية.

الفكرة الرئيسة:

تختلف اللافقاريات في خصائصها التركيبية والمظهرية، وتكيف مع بيئاتها بأنماط مختلفة.

نتائج التعلم:

- أصف التراكيب والأجهزة لبعض الحيوانات اللافقارية.
- أربط بين أجزاء بعض اللافقاريات ووظائفها.
- أستقصي بعض أنماط التكيف التركيبي، والوظيفي، والسلوكي.

المفاهيم والمصطلحات:

Porifera	مثقبات
Choanocytes	خلايا دورقية موطّقة
Amoebocytes	خلايا أميبية
Annelida	حلقيات
Arthropoda	مفصليات
Echinoderms	شوكيات الجلد

الشكل (36): أبرز قبائل اللافقاريات.

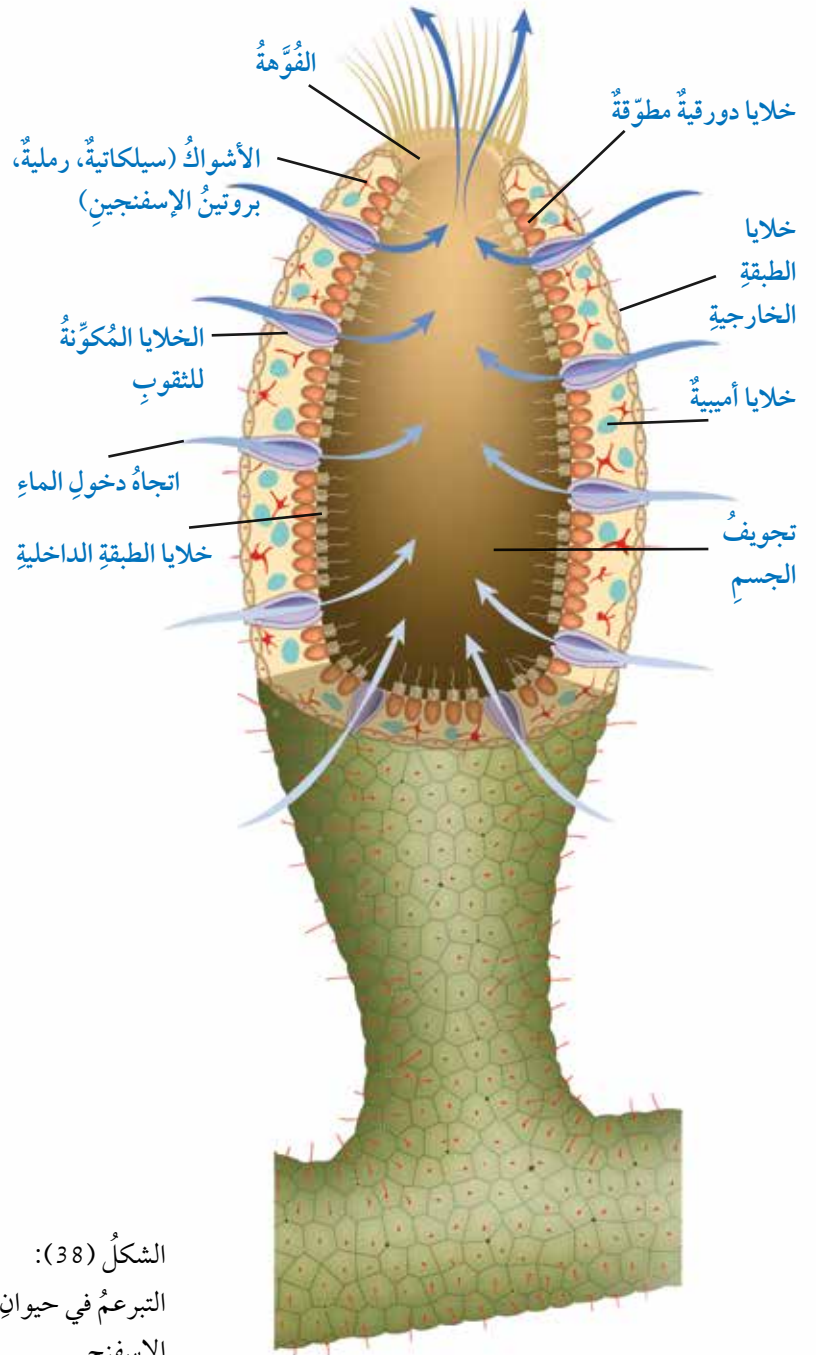
• قبيلة المثقبات (الإسفنجيات) Porifera

يتكوّن جسم حيوان الإسفنج من طبقتين من الخلايا: داخلية، وخارجية. أما الطبقة الداخلية فتُبطنها خلايا دورقية مُطوّقة Choanocytes يمتلك كل منها سوطاً واحداً. وأما الطبقة الخارجية فتتكوّن من خلايا رقيقة. ويفصل بين الطبقتين مادة تُعرف بالهلام المتوسط Mesophyl. يُذكر أنّ جسم الإسفنج يحوي أشواكاً تُوفّر الدعم والإسناد له، أنظر الشكل (37).

أفكر أجرى عالمٌ تجربةً، قطعَ فيها حيوان الإسفنج، بإمراره من مصفاةٍ، وقد لاحظَ نموَّ حيوانٍ جديدٍ من كل قطعة. كيف أفسّر ذلك؟

الشكل (37): تركيب جسم الإسفنج.

تتغذى الإسفنجيات بالعوالق النباتية والحيوانية، وتتسبّب حركة الأسواط في الخلايا الدورقية المُبطّنة لتجوير الإسفنج في نشوء تيارٍ مائيٍّ يؤدي إلى دخول الماء في التجويف عن طريق الثقوب، فتحتجّز العوالق داخل الخلايا الدورقية حيث تُهضم، ثم تُوزّع الخلايا الأميبية Amoebocytes الغذاء المهضوم على بقية خلايا الجسم. تحدث عمليتا التخلص من الفضلات وتبادل الغازات في الإسفنج بخاصية الانتشار. يتكاثر حيوان الإسفنج إمّا جنسياً، وإمّا لاجنسياً بالتجدد Regeneration، أو عن طريق التبرعم Budding، أنظر الشكل (38).



الشكل (38):

التبرعم في حيوان الإسفنج.



• قبيلة اللاسعات Cnidaria

تتكوّن أجسام اللاسعات من طبقة داخلية وأخرى خارجية بينهما طبقة هلامية. وتضمّ قبيلة اللاسعات عدداً من الأنواع، أنظر الشكل (39). لجميع اللاسعات **لوامس** Tentacles مغطاة **بخلايا لاسعة** Cnidocytes، أنظر الشكل (40). فحين تتحرّك الفريسة قرب اللوامس، تحقن الخلايا اللاسعة سُمّاً في جسم الفريسة يشلّ حركتها، ثم تدفع اللوامس الفريسة إلى تجويف مركزي يُسمى **التجويف المعديّ الوعائي** Gastrovascular Cavity، فتفرز الخلايا المبطنّة لهذا التجويف إنزيمات تهضمّ المادة الغذائية هضمّاً جزئياً داخله، ثم تنتقل نواتج هذه العملية إلى الخلايا التي تستكمل عملية الهضم. ولهذا يكون الهضم في اللاسعات خارجياً وداخلياً، ويُتخلّص من الفضلات الناتجة بدفعها إلى الخارج عن طريق فتحة واحدة تعمل عمل الفم والشرج. يوجد في جسم الحيوان اللاسع شبكة عصبية تُمكنه من الاستجابة للمؤثرات في البيئة.



الهيدرا.



الأوبيليا.



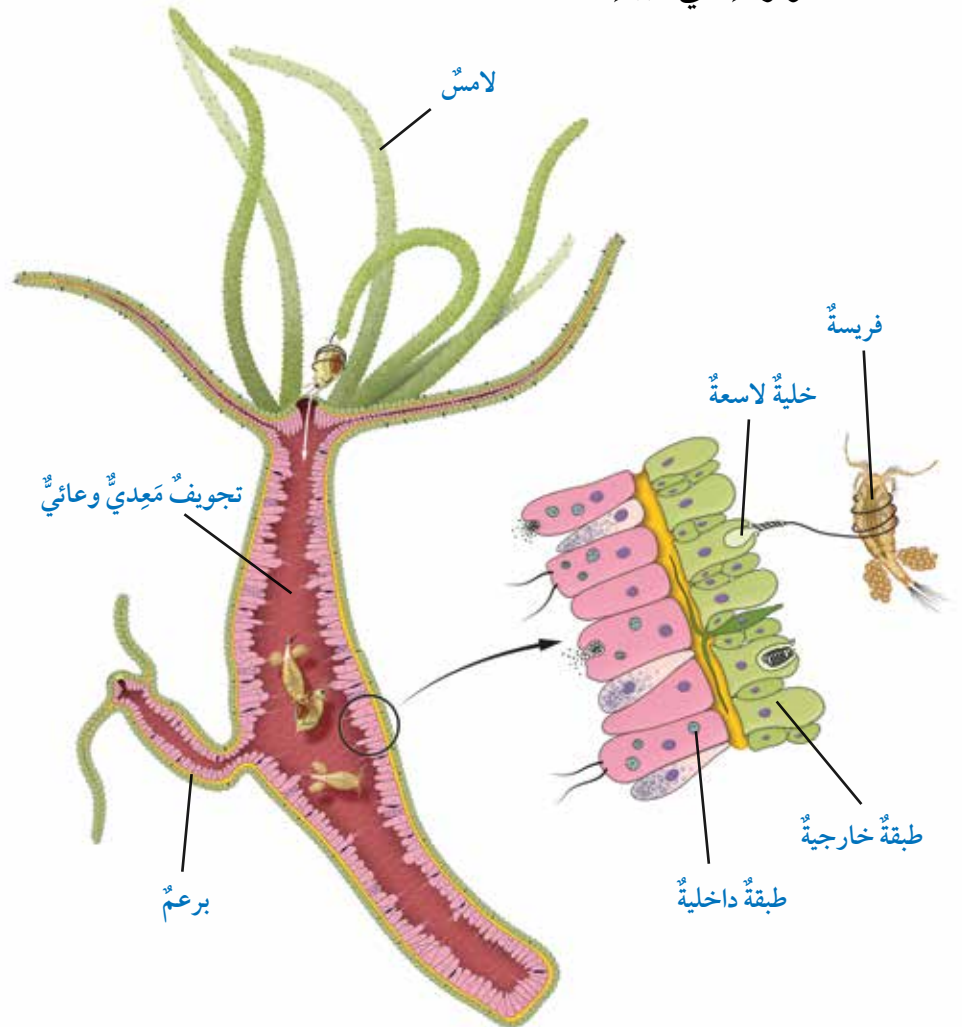
قنديل البحر.



شقائق نعمان البحر.

الشكل (39): بعض أنواع اللاسعات.

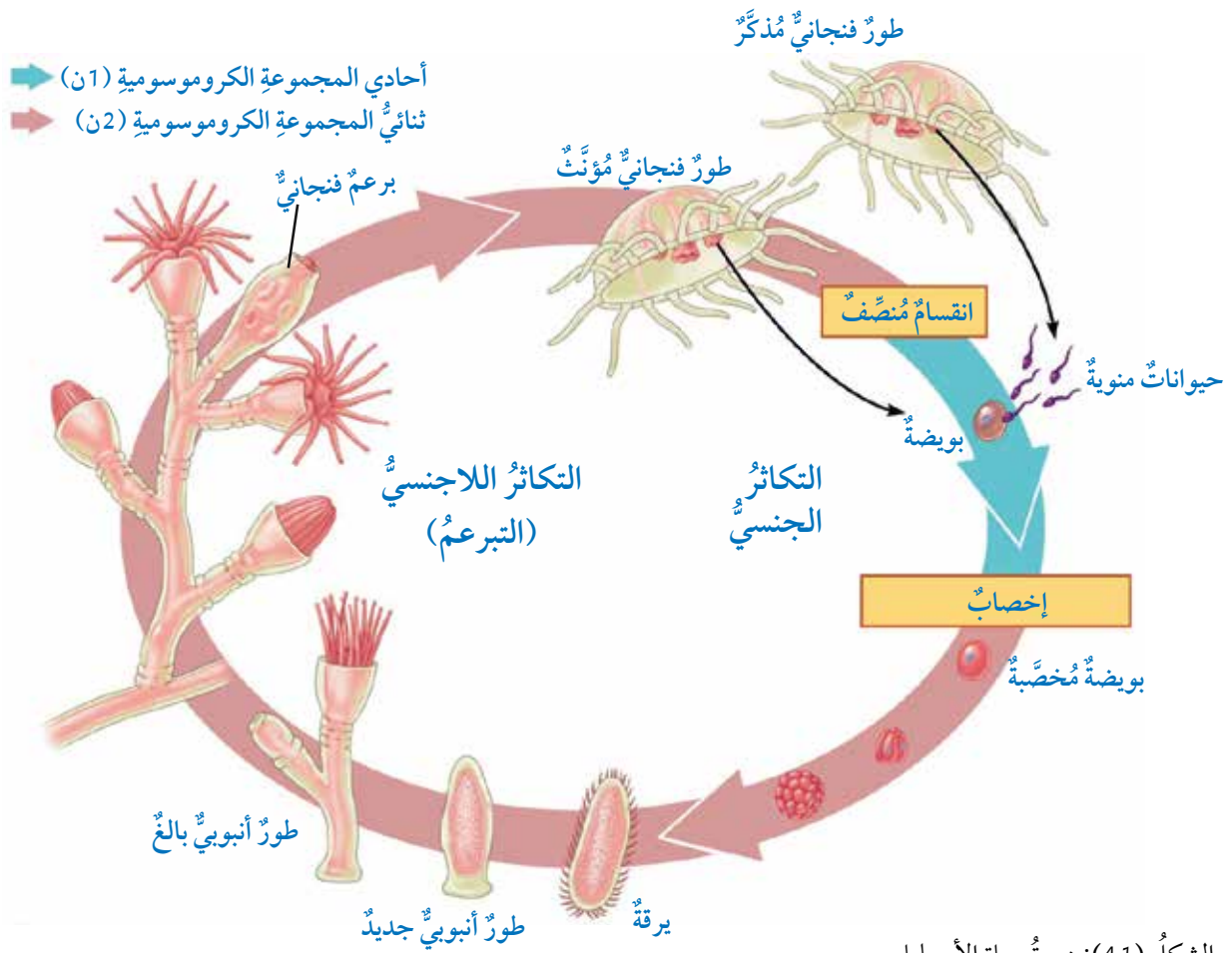
الشكل (40): الخصائص التركيبية للاسعات.



يتكاثر الحيوان اللاسع جنسياً ولا جنسياً بالتجدد أو التبرعم. ومن أمثله الأوبيليا التي تمرُّ دورة حياتها بطورين متعاقبين، هما: **الطور الأنبوبي** / **البوليبي** Polyp، و**الطور الفنجاني** / **الميدوزي** Medusa. أتتبع مراحل التكاثر الجنسي في الأوبيليا كما في الشكل (41).

أفكر تفرسُ الالاسعات كائنات حية أخرى، ما حجم هذه الكائنات؟ أذكر أمثلة عليها.

✓ **أتحقق:** أصف تركيب جسم الالاسعات.



الشكل (41): دورة حياة الأوبيليا.

أبحث: تشير بعض الدراسات إلى أن للسموم التي تُفرزها بعض الالاسعات تأثيراً مضاداً للسرطان. أبحث في مصادر المعرفة المناسبة عن التطبيقات الطبية للالاسعات، ثم أكتب تقريراً عنها، ثم أقرأه أمام زملائي في الصف.



تتسمي الديدان

المُسَطَّحة إلى اللاقاريات، ومن أمثلتها الديدان الشريطية التي تعيش مُتطفِّلةً على الإنسان. أبحث في مصادر المعرفة المناسبة عن دورات حياتها، وطرائق الوقاية من الإصابة بها، ثم أعدّ فلماً قصيراً باستخدام برنامج (movie maker) عن ذلك أعرضه أمام زملائي.



دودة العلق



دودة الأرض



الدودة الأنبوبية

الشكل (43): بعض أنواع الحلقيات.

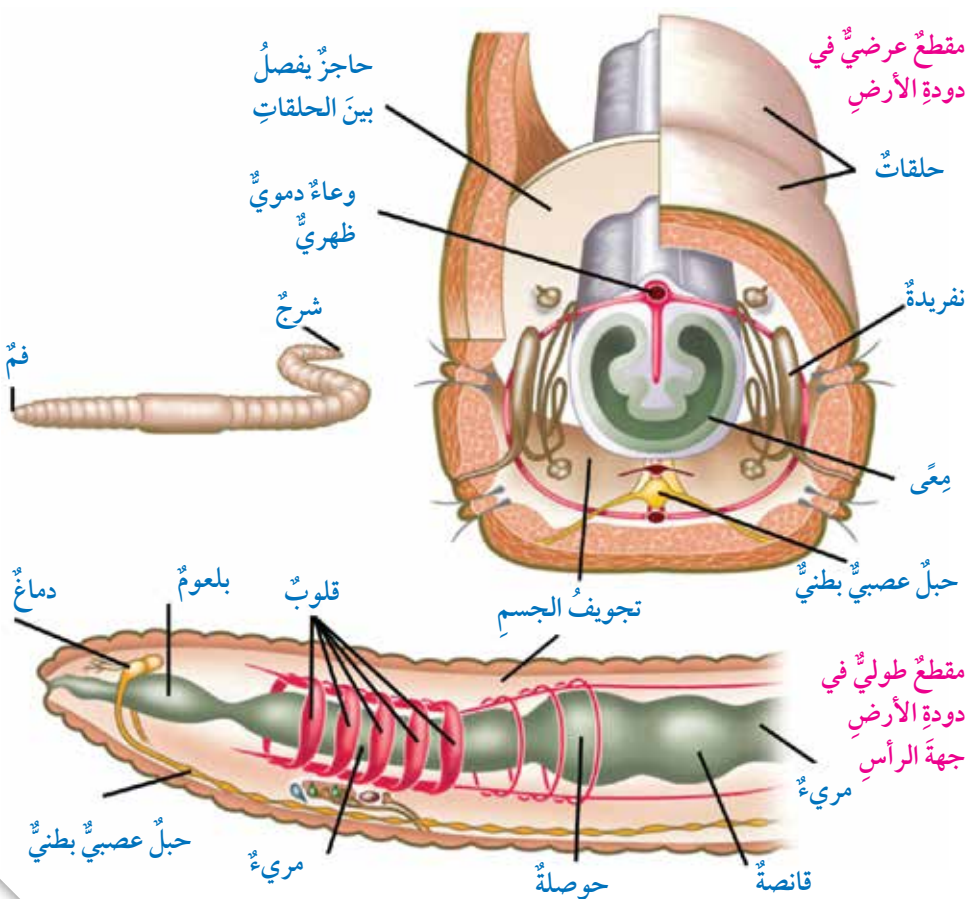
الشكل (42): تركيب دودة الأرض.

• قبيلة الحلقيات Annelida

الحلقيات حيوانات حقيقية التجويف الجسمي، تتكوّن أجسامها من حلقاتٍ عدّة، ينفصل بعضها عن بعضٍ بحواجز. تبدأ القناة الهضمية في دودة الأرض بفتحة الفم، وتنتهي بفتحة الشرج، أنظر الشكل (42)، وتحدث عملية تبادل الغازات فيها عن طريق جلدها الرطب الغنيّ بالأوعية الدموية.

لدودة الأرض جهازٌ دورانٍ مغلق، يجري فيه الدّم في أوعية دموية يكون محصوراً فيها، ويتكوّن جهازها العصبي من عقدتين عصبيتين في منطقة الرأس يتشكّل منهما الدماغ، الذي يمتدّ منه حبلان عصبيان على طول الجسم. أمّا جهاز الإخراج فيحوي تراكيب تُسمّى النفريداً Metanephrids، ويستفاد منها في التخلص من الفضلات النيتروجينية. تعيش الحلقيات في بيئاتٍ مختلفة؛ فبعضها يعيش في مياه البحار المالحة مثل الدودة الأنبوبية، وبعض آخر يعيش في المياه العذبة مثل دودة العلق، في حين تعيش دودة الأرض في التربة الرطبة، أنظر الشكل (43).

✓ **أتحقّق:** أصفّ تركيب جسم دودة الأرض.



التركيب الداخلي لدودة الأرض (الحلقيات)

المواد والأدوات:

شرائح زجاجية جاهزة لمقاطع عرضية في دودة الأرض، مجهر ضوئي مُركَّب.

إرشادات السلامة:

استعمال الشرائح المجهرية بحذر.

خطوات العمل:

- 1 أدرس شرائح المقاطع العرضية في دودة الأرض باستعمال المجهر.
- 2 **ألاحظ** الأجزاء الظاهرة في كل مقطع، مثل: تجويف الجسم، والأوعية الدموية، والمعى، والنفريات.
- 3 **أعمل نموذجًا**: أرسم رسمًا تخطيطيًا للمقطع العرضي الذي أشاهدته تحت المجهر.
- 4 **أتواصل**: أبادل الرسوم مع زملائي في الصف.

التحليل والاستنتاج:

أستنتج كيف أحدد الجهة الظهريّة للمقطع الذي درسته باستعمال المجهر، مستعينًا بالشكل (42).

الربط بالتكنولوجيا إنتاج أشباه موصلات باستعمال ديدان الأرض استطاع فريق من العلماء إنتاج أشباه موصلات دقيقة جدًا تستعمل بوصفها أصباغًا في التصوير الطبي. وقد لاحظ فريق من العلماء أنه عند وضع ديدان الأرض في تربة تحوي نسبة من أملاح كلوريد الكاديوم ($CdCl_2$) وتيلوريت الصوديوم (Na_2TeO_3) أيامًا عدّة، فإنّ الديدان تُراكم الكاديوم في أجسامها، ثمّ تستعمل بروتينات مُحدّدة لنقله إلى خلايا خاصة تحيط بقنواتها الهضمية، وتعمل مثل الكبد على تفكيك السموم التي تتناولها. وفي أثناء عملية إزالة السُميّة، يُختزل التيلوريت ليتفاعل - في نهاية المطاف - مع أيونات الكاديوم (Cd^{2+}) لإنتاج تيلوريد الكاديوم ($CdTe$) الذي يشعُّ لونًا أخضر يُستخدم في التصوير الطبي للخلايا.



أبحث:

توصّل فريق من العلماء إلى صناعة مُستخلص من ديدان الأرض يساعد على التئام الجروح المُحدّثة في الحيوانات المخبرية. أبحث في مصادر المعرفة المناسبة عن آلية عمل هذه المواد، ثمّ أعرض ما أتوصّل إليه أمام زملائي في الصف.

• قبيلة المفصليات Arthropods

تعيّش المفصليات في بيئاتٍ مختلفةٍ بسببِ خصائصها التركيبية، وتُصنّفُ إلى أربعِ مجموعاتٍ، ويشاركُ معظمها في أربعِ خصائصٍ، هي: تقسيمُ الجسمِ إلى أجزاءٍ، والأرجلُ المتمفصلة، وتكوّنُ الهيكلِ الخارجيِّ من مادةٍ الكايتين، والعيونُ المركّبةُ كما في الذباب، أنظرُ الشكل (44).

الشكل (44): مجموعاتُ المفصليات.

الحشرات Insects

مثال



النحلة.

ثلاثة أجزاء: رأس، صدر، بطن.

ست أرجل،
واثنان من قرون الاستشعار.

عديدات الأرجل Myriapods

مثال



أم أربع وأربعين.

يتكوّن الجسم من أجزاءٍ عدّة.

زوج من الأرجل لكلّ جزء (ذوات المئة قدم)،
وزوجان من الأرجل لكلّ جزء (ذوات الألف قدم)،
واثنان من قرون الاستشعار.

العنكبيات Arachnids

مثال



العقرب.

جزءان: رأس - صدر، وبطن.

ثمانية أرجل،
ولا توجد قرون استشعار.

القشريات Crustacean

مثال



سرطان الماء.

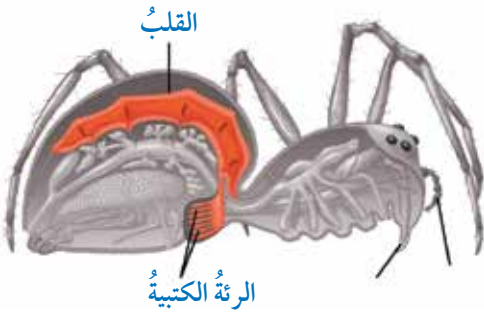
جزءان: رأس - صدر، وبطن.

ثمانية أرجل فأكثر،
وأربعة قرون استشعار.

أجزاء الجسم

الزوائد المفصليّة

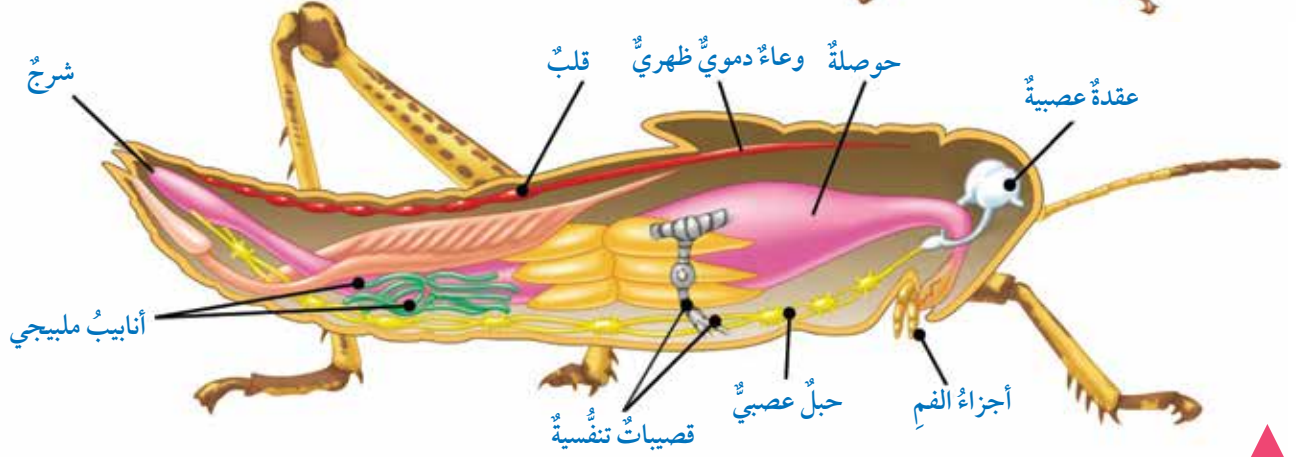
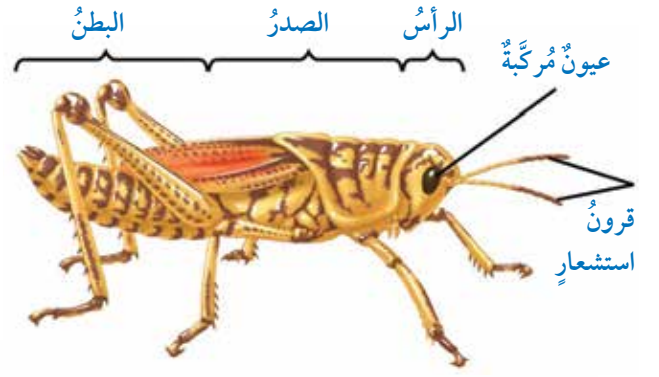
يبدأ الجهاز الهضمي في المفصليات بالفم، وينتهي بفتحة الشرج. وتوجد مجموعات منها تتنفس عن طريق تراكيب تُسمى القصبيات التنفسية، مثل الحشرات. أما العنكبيات فتتنفس باستعمال تراكيب تُسمى الرئة الكتيبة، أنظرُ الشكل (45)، في حين تتنفس المفصليات المائية بالخياشيم.



الشكل (45): الرئة الكتيبة في العنكبيات.



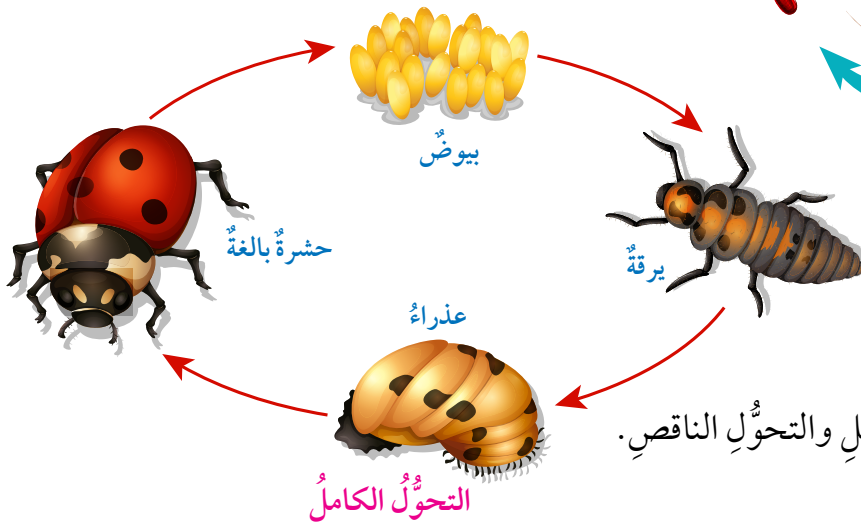
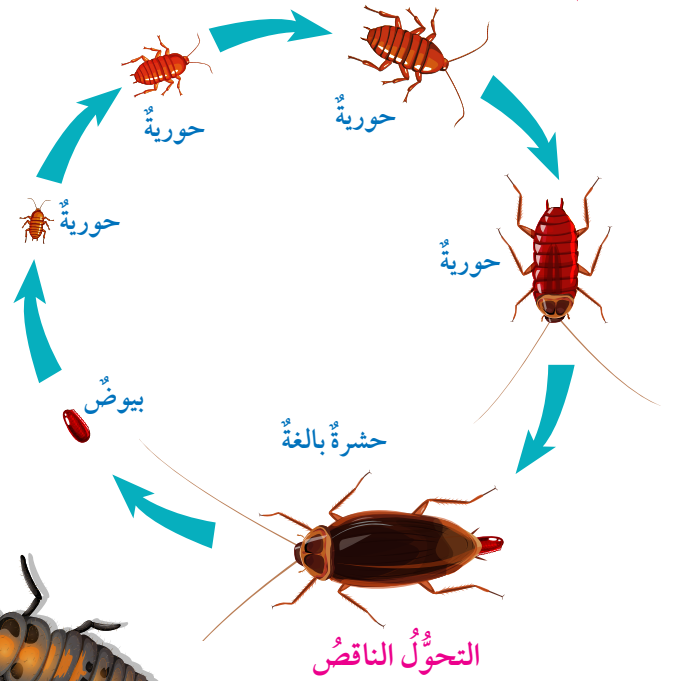
للمفصليات جهازٌ دورانٍ مفتوح، يجري فيه الدَّم داخلَ تجاويفِ الجسمِ. وهي تتخلَّصُ مِنَ الفضلاتِ النيتروجينية عن طريق تراكيبٍ خاصّة تُعرَفُ بأنابيبِ ملبيجي، أنظرُ الشكلَ (46).



الشكل (46): تركيب الحشرات (المفصليات).

الشكل (47): التحول في الحشرات.

تتكاثر الحشرات جنسيًا، وتمرُّ في أثناء نموّها بمراحلٍ مختلفة تُعرَفُ **بالتحول** Metamorphosis، وتختلفُ صغارُ بعضها عن الآباء (مثل: الفراش، والبعوض، والدعسوقة)، في ما يُعرَفُ **بالتحول الكامل** Complete Metamorphosis، في حين تُشبه الصغارُ أبويها في بعض الأنواع الأخرى (مثل: الجراد، والصراصير)، في ما يُعرَفُ **بالتحول الناقص** Incomplete Metamorphosis، أنظرُ الشكلَ (47).



✓ **أتحقّق:** أقارنُ بين التحول الكامل والتحول الناقص.



الشكل (48): يرقة حشرة العث.

تتكيف حشرة العث من نوع *Acraga coa* بإنتاج يرقات تحوي مادة تعمل بوصفها غراء، وتلتصق بفكوك المفترس؛ ما يحافظ على بقائها، أنظر الشكل (48).

• قبيلة شوكلات الجلد Echinodermata

شوكلات الجلد حيوانات حقيقية التجويف، أنظر الشكل (49) الذي يبين ثلاث مجموعات منها.

الخياريات
Holothuroidea
مثال



خيار البحر.

القنفذيات
Echinoidea
مثال



قنفذ البحر.

النجميات
Asteroidea
مثال

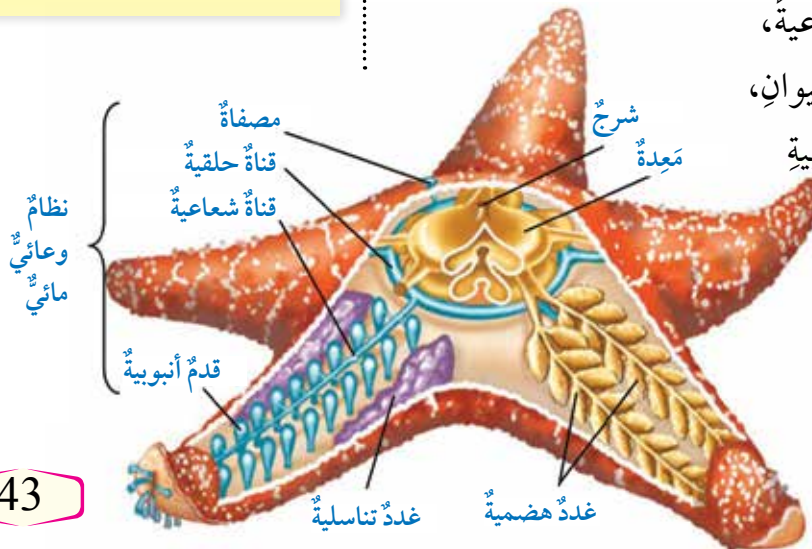


نجم البحر.

الشكل (49): بعض أنواع شوكلات الجلد.

يبدأ الجهاز الهضمي لنجم البحر بفتحة فم توجد على الجهة البطنية من جسمه، وينتهي بفتحة شرج توجد على الجهة الظهرية من جسمه. وله جهاز عصبي بسيط يتكون من حلقة عصبية يتفرع منها حبل عصبي يمتد في كل ذراع من أذرعه، وهو يتكاثر جنسياً.

تمتاز شوكلات الجلد من بقية القبائل الحيوانية بامتلاكها نظاماً وعائياً مائياً Water Vascular System، يتكون من مصفاة موجودة على الجزء العلوي من الجسم، ويتدفق الماء خلال قناة حلقية تحيط بالفم، ويتفرع من هذه القناة قنوات شعاعية، يمتد كل منها في ذراع من أذرع الحيوان، وتتصل هذه القنوات بالأقدام الأنبوبية التي يستعملها الحيوان للحركة، والتقاط الغذاء، وتبادل الغازات، أنظر الشكل (50).



الشكل (50): التركيب العام لنجم البحر.

مراجعة الدرس

1. أَوْضِّحْ كَيْفَ يَتَغَذَّى حَيَوَانُ الإسْفَنْجِ.

2. أُبَيِّنُ وَظِيفَةَ الأجزاء الآتية:

أ - الأشواك في حيوان الإسفنج.

ب - الخلايا الأميبيّة في حيوان الإسفنج.

ج - الخلايا اللاسعة في الهيدرا.

د - النفريدات في الحلقيّات، مثل دودة الأرض.

هـ - الرئّة الكتيبة في العنكبوت.

و - النظام الوعائي المائي في نجم البحر.



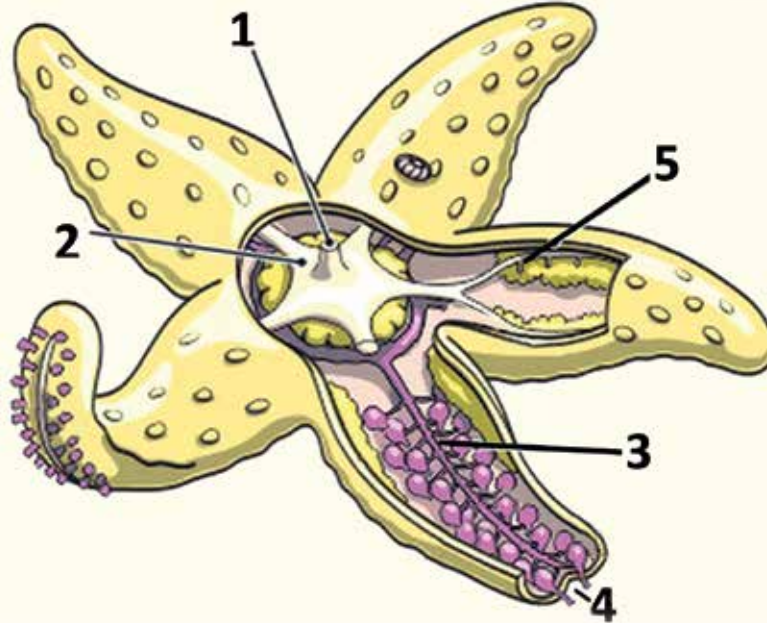
3. عَثَرْتُ أَحَدَ الطُّلَبَةِ فِي أَثْنَاءِ تَجَوَّالِهِ فِي حَدِيقَةِ الْمَدْرَسَةِ

عَلَى حَيَوَانٍ مَفْصَلِيٍّ تَظْهَرُ صُورَتُهُ جَانِبًا. إِلَى أَيِّ

مَجْمُوعَاتِ الْمَفْصَلِيَّاتِ يَتَنَمَّى هَذَا الْحَيَوَانُ؟ أَفَسِّرُ

إِجَابَتِي.

4. أَدَوِّنْ أَسْمَاءَ الأجزاء المُرقَّمة في الشكل الآتي:



Characteristics of Vertebrates

تتنتمي جميع الفقاريات vertebrates إلى قبيلة الحبليات Phylum Chordata التي تشترك جميعها في وجود ثلاثة تراكيب في أطوارها الجنينية، هي: الحبل العصبي الظهرى Dorsal Nerve Cord، والحبل الظهرى Notochord الذي سُميت الحبليات بهذا الاسم بناءً عليه، والجيوب البلعومية Pharyngeal Pouches، أنظر الشكل (51).

الحبل الظهرى: حبل مرن يقع بين

القناة الهضمية والحبل العصبي، وهو

يوفر الدعامة للجسم في المراحل

الجنينية الأولى، وتتكون منه في

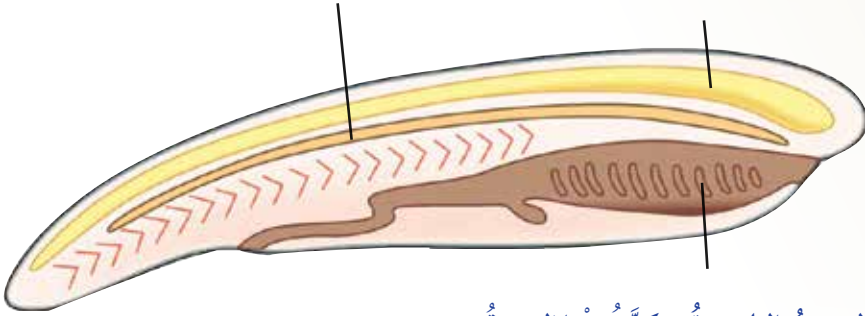
الفقاريات الأقراص الموجودة بين

فقرات العمود الفقري.

الحبل العصبي الظهرى: يتكون

منه الجهاز العصبي المركزي

(الدماغ، والنخاع الشوكي).



الجيوب البلعومية: تتكون منها الشقوق

الخيسمية في الفقاريات التي تعيش

في الماء. أما في فقاريات اليابسة فإنها

تتحول إلى تراكيب أخرى في الرأس

والرقبة، مثل بعض أجزاء الأذن.

الشكل (51): تراكيب الحبليات في مراحلها الجنينية الأولى.

الفكرة الرئيسة:

تختلف الفقاريات بعضها عن بعض في خصائصها التركيبية والمظهرية.

نتائج التعلم:

- أحدد الخصائص العامة للفقاريات.
- أصف تركيب الجسم لبعض مجموعات الفقاريات.
- أوضح بعض العمليات الحيوية في أجسام بعض مجموعات الفقاريات.
- أستقصي بعض أنماط التكيف التركيبي، والوظيفي، والسلوكي.

المفاهيم والمصطلحات:

Chordates	الحبليات
Vertebrates	الفقاريات
Dorsal Nerve Cord	حبل عصبي ظهري
Notochord	حبل ظهري
Pharyngeal Pouches	جيوب بلعومية
Neural Tube	أنبوب عصبي

✓ **أتحقق:** ما الخصائص التركيبية التي تميز المراحل الجنينية الأولى في الحبليات؟

تمتازُ الفقارياتُ من بقية الحبلات بوجود هيكلي داخلي، وهي تُصنّفُ بحسبِ قدرتها على ضبط درجات حرارة أجسامها إلى قسمين، أنظر الشكل (52).

الحيوانات بحسبِ قدرتها على ضبط درجة حرارة أجسامها:

الشكل (52): تصنيف الحيوانات بحسبِ قدرتها على ضبط درجة حرارة أجسامها.

ثابتة درجة الحرارة



الطيور.



الثدييات.

متغيرة درجة الحرارة



الأسماك العظمية.



الأسماك الغضروفية.



الزواحف.



البرمائيات.

نشاط

كائنات ثابتة درجة الحرارة

المواد والأدوات: ميزان حرارة طبي، ورق رسم بياني، أقلام.

إرشادات السلامة: استعمال ميزان الحرارة بحذر.

خطوات العمل:

1. أقيس درجة حرارة جسمي باستعمال ميزان الحرارة الطبي كل 6 ساعات مدة يوم كامل.
2. أنظم البيانات: أدون قيم درجات الحرارة في جدول.
3. أمثل العلاقة بين درجة حرارة الجسم والزمن بيانياً.

التحليل والاستنتاج:

١. أفسر النتائج التي توصلت إليها.

أتنبأ كيف سيكون منحني العلاقة عند تدوين درجة حرارة سحلية.

تصنيف الفقاريات Classification of Vertebrates

تُصنَّف الفقاريات إلى نوعين: فوق صفِّ اللافكيات، وفوق صفِّ الفكيات الذي يشمل صفوفًا عدَّة.

• فوق صفِّ اللافكيات Agnathans

اللافكيات حيوانات أجسامها أسطوانية مُزوَّدة بزعانف ظهرية وذيلية، وهيكلها غضروفي، وهي لا تملك فكوكًا. ومن أمثلتها الجلكتي الذي يتنفَّس عن طريق الخياشيم، ويتغذى بامتصاص الدم والسوائل من جسم الحيوان الذي يتطفل عليه، أنظر الشكل (53).

• فوق صفِّ الفكيات Gnathostomata

الفكيات حيوانات لها فكوك تحتوي أحيانًا على أسنان، وهي تضم صفوفًا عدَّة، منها: الأسماك الغضروفية، والأسماك العظمية، والبرمائيات، والزواحف، والطيور، والثدييات.

الأسماك الغضروفية والأسماك العظمية Cartilaginous and Bony Fishes

لصنفي الأسماك الغضروفية والأسماك العظمية خصائص عدَّة، يُوضَّح أبرزها الشكل (54).

أبحث:



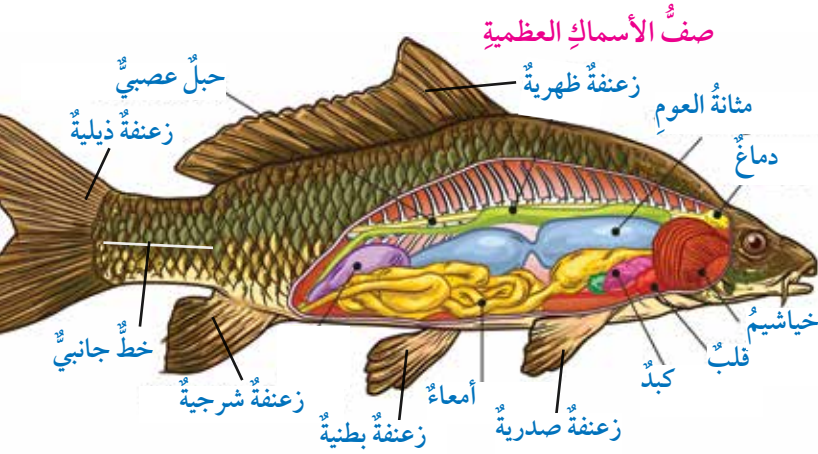
يعمل الجلكتي على منع تجلُّط دم الفريسة في أثناء تغذيته بها. أبحث في مصادر المعرفة المناسبة عن كيفية ذلك.



الشكل (53): جلكتي يُثبت نفسه بجسم الفريسة.

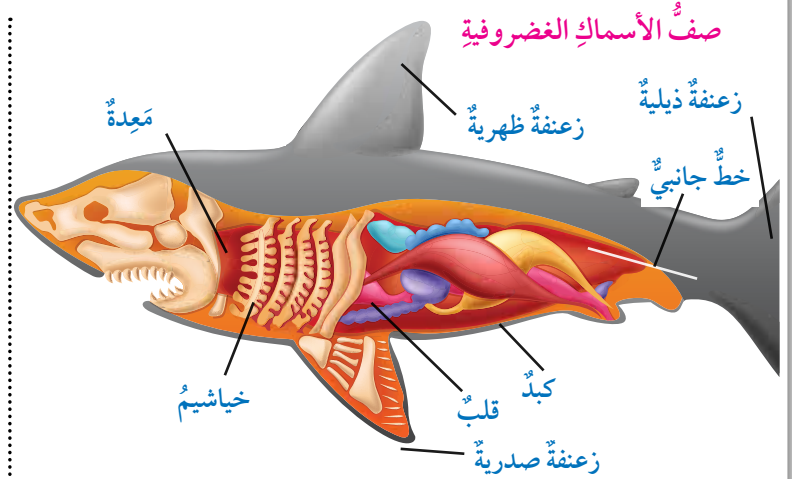
الشكل (54): خصائص صفي الأسماك الغضروفية والأسماك العظمية.

فوق صفِّ الفكيات




الخصائص

- الهيكل الداخلي عظمي.
- وجود نظام خطي جانبي لاستشعار الذبذبات.
- احتواء القلب على حجرتين.
- التنفُّس عن طريق خياشيم محاطة بغطاء خيشومي.
- التكاثر جنسيًا.



الخصائص

- الهيكل الداخلي غضروفي.
- وجود نظام خطي جانبي لاستشعار الذبذبات.
- احتواء القلب على حجرتين.
- التنفُّس عن طريق خياشيم غير محاطة بغطاء خيشومي.
- التكاثر جنسيًا.



الشكل (55): الأسماك الفانوسية.

تُصدر بعض أسماك الأعماق (مثل الأسماك الفانوسية) ضوءاً لجذب الفرائس، أنظر الشكل (55).

✓ **أنحقّق:** أقرّن بين الأسماك الغضروفية والأسماك العظمية من حيث: نوع الهيكل الداخلي، وعدد حجرات القلب.



أبحث: أبحث في مصادر المعرفة المناسبة عن تكيّفات أخرى لأسماك الأعماق، ثم أعد عرضاً تقديمياً أعرضه أمام زملائي في الصف.

• البرمائيات والزواحف والطيور Amphibians, Reptiles and Birds

لصفوف البرمائيات والزواحف والطيور خصائص تميّزها، أنظر الجدول (2).

الجدول (2).

وجه المقارنة	البرمائيات	الزواحف	الطيور
مثال:	 السلندر.	 الحرباء.	 العندليب.
الهيكل الداخلي:	– عظمي.	– عظمي.	– عظمي.
غطاء الجسم:	– جلد أملس رطب قد يكون مژوذاً بغددٍ سُمّية.	– جلد جاف مغطى بالحرشف.	– ريش.
طريقة التنفّس:	– بالخياشيم في أطوارها اليرقية. وعند بلوغها، تتنفّس بالرئتين، والجلد الرطب.	– بالرئتين.	– بالرئتين.
البيوض:	– محاطة بمادة هلامية، وغير محاطة بقشور.	– محاطة بقشور صلبة.	– محاطة بقشور صلبة.
درجة حرارة الجسم:	– متغيّرة درجة الحرارة.	– متغيّرة درجة الحرارة.	– ثابتة درجة الحرارة.
عدد حجرات القلب:	– ثلاث حجرات.	– ثلاث حجرات، باستثناء التماسيح التي يتكوّن القلب فيها من أربع حجرات.	– أربع حجرات.
تراكيب أو تكيّفات تميّزها:	– لسان طويل لزج لالتقاط الحشرات التي تتغذى بها.	– القدرة على تغيير اللون. – تحريك العينين بصورة منفصلة.	– الأطراف الأمامية متحوّرة في صورة أجنحة. – العظام قوية، وكثيرة التجاويف؛ لتخفيف وزن الجسم. – وجود عددٍ من الأكياس الهوائية حول الرئتين.

- يعتقد العلماء أنَّ تناقص أعداد البرمائيات دليلٌ على تلوث البيئة. ما خصائص البرمائيات التي تُعدُّ دليلاً على ذلك؟

- تعاني الأفعى المُجلجلة ضعفاً في بصرها، ولكنها تستشعر التغيرات في درجة حرارة البيئة المحيطة، حتى الطفيفة منها (0.003° سلسيوس). فيم تستفيد الأفعى من ذلك؟

- يطير نوعٌ من الطيور في أثناء موسم هجرته مسافة 970 كم. إذا كان متوسط عمر هذا الطائر 8 سنوات، فما المسافة التي يقطعها مهاجراً في هذه السنوات؟

✓ أتحقّق:

أقارن بين البرمائيات والطيور والزواحف من حيث: غطاء الجسم، والبيض، وطريقة التنفس.

الشكل (56): رتب الثدييات.

• الثدييات Mammals

تتفرّد الثدييات عن بقية الحيوانات بخصائص عدّة، منها: وجود غدّد لبنية لإرضاع صغارها، ووجود شعر أو فرو يُغطي أجسامها. تتنفس الثدييات بالرئتين، ويتألف القلب فيها من أربع حجرات، وتخلّص من فضلاتها النيتروجينية عن طريق جهاز بولي مُتخصّص.

تُصنّف الثدييات إلى ثلاث رتب، أنظر الشكل (56).

الثدييات المشيمية Placentals



الحوت.

تلد الإناث صغارها بعد اكتمال نموها في رحم الأم.

الثدييات الكيسية Marsupials

مثال



الكنغر.

تلد الإناث صغارها غير مُكتملة النمو، ويكتمل نموها في أكياس خاصة موجودة في أسفل البطن.

الثدييات البياضة Monotremata

مثال



خُلد الماء (منقار البط).

تتكاثر بالبيض التي تفقس خارج جسم الأم.

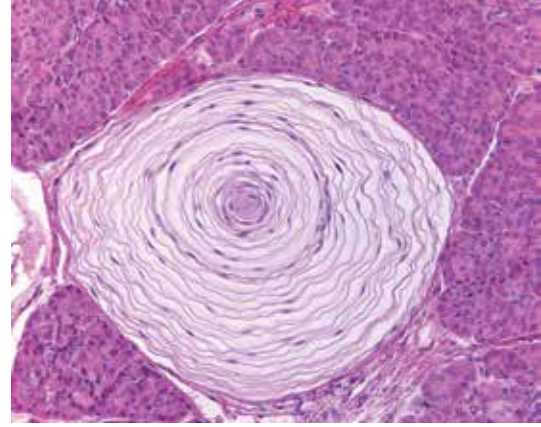


أبحث: في مصادر المعرفة المناسبة عن أشكال من الذكاء، والقدرة على التعلم عند بعض أنواع الثدييات، ثم أكتب تقريراً عن ذلك، ثم أقرأه أمام زملائي في الصف.

تستجيب الثدييات للمتغيرات الدورية للبيئة، مثل تعاقب الفصول، فتهاجر بعضها (مثل قطعان البقر الوحشي) في فصل الشتاء إلى مناطق أكثر دفئاً ووفرة في الغذاء، في حين يلجأ بعضها الآخر (مثل الدببة) إلى **السبات الشتوي** Hibernation عند انخفاض درجات الحرارة. أما بعض الثدييات التي تعيش في الصحراء (مثل اليربوع) فتلجأ إلى **السبات الصيفي** Estivation عند ارتفاع درجات الحرارة.

الربط بالفيزياء

توصل فريق من العلماء إلى أن أقدام الفيلة تحوي عدداً كبيراً من **الكريات الباسينية** Pacinian Corpuscles؛ وهي نوع من الخلايا الحسية متخصص في استقبال حاسة اللمس، وإرسال المعلومات إلى الدماغ. تتركز هذه المستقبلات على حواف أقدام الفيلة، حيث تلتقط الذبذبات ثم تنقلها عظام الجسم إلى مراكز السمع في آذانها، وتستجيب عظيمات السمع لهذه الذبذبات، فتستجيب الفيلة للإشارات المرسلة خلال الأرض على بُعد أميال عديدة، أنظر الشكل (57).



الشكل (57): الكريات الباسينية.

مراجعة الدرس

1. ما الخصائص العامة التي تشترك فيها الحبليات؟
2. أبين كيف تتمكن الأسماك الغضروفية من استشعار وجود فرائس حولها.
3. أفسر أسباب ما يأتي:
 - أ - تسمية الحبليات بهذا الاسم.
 - ب - تصنيف حيوان خلد الماء ضمن صف الثدييات بالرغم من تكاثره بالبيض.
 - ج - إصدار الأسماك الفانوسية ضوءاً.
 - د - أجسام الطيور خفيفة الوزن.
 - هـ - قدرة البرمائيات (مثل الضفادع) على التقاط الحشرات.
4. أتنبأ: إذا فقدت الجيوب البلعومية من أجنة أحد أنواع الحبليات، فما الذي قد يحدث؟ أفسر إجابتي.

علوم الحياة الجنائية هي أحد علوم الأدلة الجنائية التي تعتمد على فحص العينات من مسرح الجريمة؛ بغية تحديد هوية الجاني. يضم هذا العلم عدداً من فروع العلم، منها: علم النبات الجنائي Forensic Botany، وعلم الحشرات الجنائي Forensic Entomology.

فعالم النبات الجنائي يستعمل البيولوجيا الجزيئية وتحليل عينات DNA نباتية؛ لتصنيف النبات، ومعرفة نوعه، ثم تعرف هوية الجاني إذا وجدت على ملابسه عينات (مثل حبوب اللقاح) لنباتات في موقع الحادثة نفسه. ويمكن التنبؤ بزمان وجود جثة في مسرح الجريمة؛ بربطها بطريقة نمو النباتات الموجودة حول الجثة. أما عالم الحشرات الجنائي فيحدد نوع الحشرات التي قد توجد في مكان الحادثة، ثم عمر اليرقات التي تتجمع على الجثث (مثل يرقات الذباب الأزرق) اعتماداً على طولها، فيتعرف بذلك الزمن التقريبي لوقوع الجريمة.

أبحث أبحث في مصادر المعرفة المناسبة عن كيفية توظيف التكنولوجيا والبيولوجيا الجزيئية في الكشف عن الجريمة.



السؤال الأول:

لكل فقرة من الفقرات الآتية أربع إجابات، واحدة فقط صحيحة، أعددتها:

1. من النباتات التي تفتقر إلى وجود أنسجة وعائية:
 - أ - التفاح.
 - ب - النخيل.
 - ج - الفيوناريا.
 - د - الدرة.
2. الجزء الذي يُمثله الشكل المجاور من نبات الخنشار هو:
 - أ - الرايزومات.
 - ب - الورقة.
 - ج - الجذر.
 - د - الطور الجامي.



3. إذا كان عدد الكروموسومات في الطور البوغي لنبات 20 كروموسوماً، فإن عدد الكروموسومات في بويضة هذا النبات هو:
 - أ - 40 كروموسوماً.
 - ب - 30 كروموسوماً.
 - ج - 20 كروموسوماً.
 - د - 10 كروموسومات.
4. التركيب الذي تمتاز به الحبليات، ولا يوجد في اللاقاريات هو:
 - أ - الحبل الظهري.
 - ب - الجهاز الدوراني.
 - ج - الأطراف الأربعة.
 - د - الهيكل الخارجي.

6. نوع تماثل الجسم لحيوان ينقسم جسمه إلى جزأين متساويين عند مستوى واحد فقط هو:
 - أ - شعاعي التماثل.
 - ب - جانبي التماثل.
 - ج - عديم التماثل.
 - د - تماثل جزئي.

7. من الحيوانات عديمة التجويف:
 - أ - دودة الأرض.
 - ب - الدودة الأنبوبية.
 - ج - دودة البقر الشريطية.
 - د - دودة الإسكارس.

السؤال الثاني:

أضع إشارة (✓) إزاء العبارة الصحيحة، وإشارة (X) إزاء العبارة غير الصحيحة:

1. تنقسم الخلايا الإسكلرنشيمية لإنتاج خلايا جديدة في النبات. ()
2. تحدث انقسامات متساوية في محفظة الأبواغ على السطح السفلي للخنشار لإنتاج الجاميتات. ()
3. الحزم الوعائية في ساق النبات ذي الفلقتين مُبعثرة. ()
4. تدخل بعض الكائنات الحية مرحلة من السكون عند ارتفاع درجات الحرارة صيفاً، في ما يُعرف بالسبات الصيفي. ()
5. الحبل العصبي الظهري تركيب في أجنّة الحبليات تتكوّن منه الأقراص بين فقرات العمود الفقري. ()
6. يتكوّن الخط الجانبي في الأسماك الغضروفية من صفين من الخلايا الحسية، تتركّزان على طول جانبي الجسم، وتُمكنان الحيوان من استشعار ذبذبات الماء حوله. ()
7. الكنغر من الحيوانات الثديية التي تتكاثر بالبيوض. ()

السؤال الثالث:

أفسّر كلاً مما يأتي:



1. تكوّن التركيب (س).
2. تُعدّ البذور من أهمّ تكيّفات النباتات البذرية التي تساعد على البقاء والاستمرار.
3. قد تتأثر أعداد النباتات في بيئة معينة إذا تعرّضت لمادة كيميائية تُعوق تكوّن طبقة الكيوتكل.
4. تُفضّل البرمائيات البالغة العيش قرب المياه.
5. تُبدّل الحشرات الطبقة الخارجية من جسمها باستمرار.

السؤال الرابع:

ماذا يُمكن أن يحدث للحزازيات عند جفاف بيئتها وتعرُّضها لأشعة الشمس المباشرة؟

السؤال الخامس:

يحتوي أحد أنواع الأشجار على 11568 شعيرة جذرية في عينة دراسة مساحتها من منطقة الشعيرات الجذرية 22.3 سم²:

أ - أحسب كثافة الشعيرات الجذرية (عدد الشعيرات الجذرية لكل cm²).

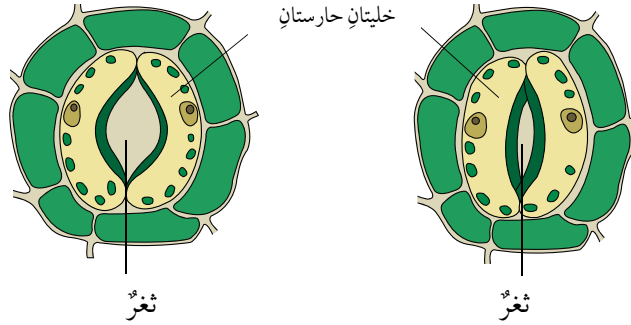
ب- إذا كانت المساحة الكلية لمنطقة الشعيرات

الجذرية 34 cm²، فما تأثير ذلك في الشجرة؟

ج- أكتب تعميماً استناداً إلى المعلومات التي عرفتُها.

السؤال السادس:

استنتج: أي الشكلين الآتيين يُمثل الثغور في النبات وقت الظهيرة، مُفسراً إجابتني؟



السؤال السابع:

أدرس الجدول الآتي الذي يُمثل البيانات التي جمعها الطالب نورس من الصف العاشر بعد دراسته بالعين المجردة، وباستعمال المجهر، عينات نباتات، رَقَمها بالأرقام (1، 2، 3، 4)، ثم أجيب عما يليه من أسئلة:

رقم العينة	وجود أنسجة وعانية	وجود بذور	وجود مخروط	مثال
1			يوجد.	
2	يوجد.	يوجد.	لا يوجد.	
3	يوجد.	لا يوجد.	لا يوجد.	
4	لا يوجد.			

أ - أملأ الفراغ بما هو مناسب في الجدول.

ب- أصنّف النباتات في الجدول إلى مجموعاتها الرئيسية.

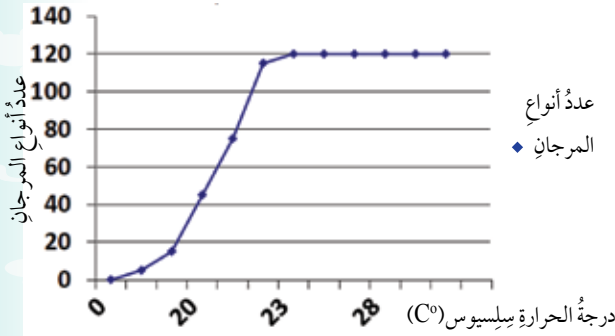
السؤال الثامن:

عثر أحد الباحثين على نوع جديد من النباتات يعيش في بيئة رطبة ظليلة، فدرس خصائصه، وتوصّل إلى أن الطور السائد فيه هو الطور البوغي، وأنه يخلو من البذور. إلى أي المجموعات النباتية ينتمي هذا النوع؟

السؤال التاسع:

أدرس الرسم البياني الآتي الذي يوضح العلاقة بين عدد أنواع المرجان ودرجة حرارة مياه المحيط التي تعيش فيها، ثم أجيب عن الأسئلة التي تليه:

أثر درجة حرارة مياه المحيط في عدد أنواع المرجان



أ - ما العوامل الحيوية والعوامل غير الحيوية التي تضمّنهما الرسم البياني؟

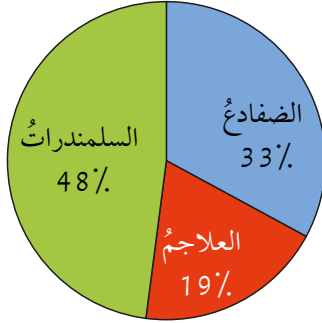
ب- ما العوامل الأخرى التي تُؤثر في أعداد أنواع المرجان التي تعيش في المحيطات؟ ما أثر ذلك في التنوع الحيوي في مياه المحيط؟

ج- ما العلاقة بين درجة حرارة مياه المحيط وعدد أنواع المرجان التي تعيش فيه؟ ما درجة الحرارة المثلى التي تعيش فيها معظم أنواع المرجان؟

د- كلما زاد عمق المياه تناقصت درجة حرارة مياه المحيط. أرسّم مخططاً يوضح العلاقة بين عمق الماء وعدد أنواع المرجان.

السؤال الخامس عشر:

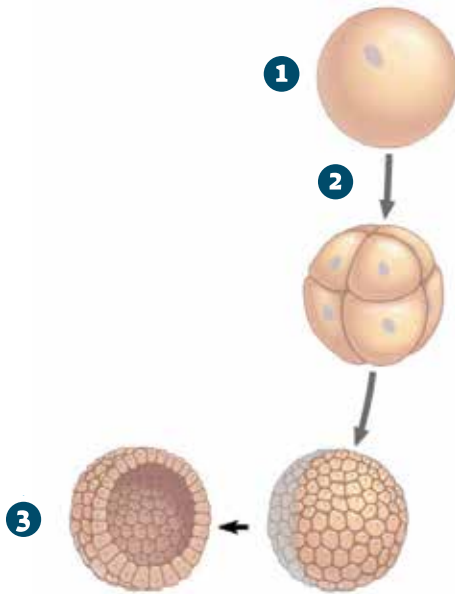
أدرس الشكل الآتي الذي يُبين عدد الأنواع المُهددة بالانقراض من البرمائيات في بيئة ما، ثم أجب عما يليه من أسئلة:



- أ - أي أنواع البرمائيات مُهدد بالانقراض أكثر من غيره؟
 ب- إذا كان مجموع عدد الأنواع المُهددة بالانقراض من البرمائيات 27 نوعاً، فما عدد السلمندرات المُهددة بالانقراض؟

السؤال السادس عشر:

أدرس الشكل الآتي الذي يُمثل مراحل تكوّن الطبقات المولدة، ثم أجب عما يليه من أسئلة:



- أ - ما اسم كل من المرحلتين المُمثلتين بالرقمين: 1، و3؟
 ب- ما اسم العملية المشار إليها بالرقم 2؟

السؤال العاشر:

أقارن بين الإسفنج، والأوبيليا، ودودة العلق، وخيار البحر من حيث: القبيلة، وعدد الطبقات المولدة، ووجود الجهاز العصبي.

السؤال الحادي عشر:

تعيش بعض أنواع البرمائيات شهرين في طور اليرقي، وثلاث سنوات في طور البالغ. أحسب النسبة المئوية من دورة الحياة التي يقضيها هذا النوع من البرمائيات في طور اليرقي؟ ما النسبة المئوية التي يستغرقها في طور البالغ؟

السؤال الثاني عشر:

إذا كانت درجة حرارة الهواء في بيئة ما 43°C ، ودرجة الحرارة المثلى لنوع من السحالي 38°C ، فهل من المتوقع وجود هذا النوع في منطقة ظليلة أم تحت أشعة الشمس؟ أفسر إجابتي.

السؤال الثالث عشر:

أقرأ الفقرة الآتية، ثم أجب عن السؤال الذي يليها:

" الخلد حيوان من القوارض، بصره ضعيف، وهو يعيش في المناطق الجافة الحارة، ويحيط بجسمه جلد فضفاض يساعده على التحرك في الأنفاق التي يحفرها تحت الأرض. عند النظر إلى جلده، فإنه يبدو أجرد خالياً من الشعر، لكنه يملك شعراً خفيفاً حساساً يتفرق على جسمه، ويُرشده في أثناء تحركه في الأنفاق المظلمة. يوجد له أيضاً شعر بين أصابعه يساعده على التخلص من الأتربة التي تعلق به، وكذلك شعر على شفتيه يمنع دخول الأتربة في فيه عند حفره في التربة".

لماذا توجد شعيرات في أنحاء مختلفة من جسم الخلد؟

السؤال الرابع عشر:

أقارن بين الجلكي، وسمكة القرش، والسحلية، والطنان، والكنغر من حيث: المجموعة، ووجود الفك، ونوع الهيكل الداخلي، وغطاء الجسم، ودرجة حرارة الجسم (متغيرة / ثابتة).

أتأمل الصورة

تتفاعل الجماعات الحيوية في الأنظمة البيئية في ما بينها، وترتبط بعلاقات مع بعضها ومع المكونات الأخرى في الأنظمة البيئية. فما الجماعات الحيوية؟ ما العلاقات التي تربط بعضها ببعض؟

الفكرة العامة:

يهتمُّ علمُ البيئة بدراسةِ العلاقاتِ المتبادلةِ بينَ الكائناتِ الحيّةِ، وعلاقتها بالعواملِ غيرِ الحيّةِ المؤثّرة فيها.

الدرس الأول: الكائناتُ الحيّةُ في بيئاتها.

الفكرة الرئيسة: لكلِّ كائنٍ حيٍّ موطنٌ ونمطٌ بيئيٌّ خاصٌّ به، وهو يرتبطُ بغيره من الكائناتِ الحيّةِ بعلاقاتٍ مُتنوّعة.

الدرس الثاني: الجماعاتُ الحيويّةُ والعواملُ المؤثّرةُ فيها.

الفكرة الرئيسة: يتفاعلُ أفرادُ الجماعةِ الحيويّةِ الواحدةِ بعضهم معَ بعضٍ، ومعَ أفرادِ الجماعاتِ الحيويّةِ الأخرى في المجتمعِ الحيويِّ.

الدرس الثالث: التعاقبُ البيئيُّ.

الفكرة الرئيسة: يحدثُ إحلالٌ تدريجيٌّ لأنواعٍ من الكائناتِ الحيّةِ المُكوّنةِ لأحدِ المجتمعاتِ الحيويّةِ نتيجةَ عواملٍ مختلفةٍ.

تجربة استهلاكية

نمو جماعة من البكتيريا

المواد والأدوات: بذور فاصولياء، قطارتان، كأسان زجاجيان، أغطية شرائح، شرائح زجاجية، صبغة أزرق الميثيلين، مجهر ضوئي مركب، ورق ألومنيوم، قفايز.

إرشادات السلامة:

استعمال المواد الكيميائية (مثل الأصباغ) بحذر.

خطوات العمل:

- 1 **أجرب:** أضع بذرتي فاصولياء في كأس زجاجية، ثم أضيف إليها 50 mL من الماء، ثم أتركها مدة 48 ساعة.
- 2 أنقل قطرة من العينة إلى شريحة زجاجية باستعمال القطارة، ثم أضيف إليها قطرة من صبغة أزرق الميثيلين، ثم أغطيها بغطاء الشريحة.
- 3 **ألاحظ:** خلايا البكتيريا تحت المجهر، ثم أعدها، مودونا النتيجة.
- 4 **أجرب:** أغطي الكأس الزجاجية بقطعة من ورق الألومنيوم، ثم أتركها مدة 24 ساعة.
- 5 أكرر الخطوة الثانية، والخطوة الثالثة.
- 6 **أقارن:** بين عدد خلايا البكتيريا في الحالتين.

التحليل والاستنتاج:

1. **أتنبأ:** كيف سيتغير عدد الخلايا في جماعة البكتيريا بعد مرور 5 أيام على الكأس الزجاجية المغطاة؟
2. **أفسر:** سبب تغير أعداد جماعة البكتيريا بمرور الزمن.

الكائنات الحيّة في بيئاتها

Living Organisms in their Environments

1

الدرس

الموطن البيئي Ecological Habitat

الموطن Habitat مكانٌ يعيش فيه كائنٌ حيٌّ ما، وهو يشمل جميع العوامل الحيّة وغير الحيّة اللازمة لبقائه، بما في ذلك مُكوّنات البيئة كلّها، ولا سيّما العشب، والأشجار، والحفر المائية. تُعدّ محمية ضانا موطنًا لحيوان الوشق *Caracal caracal schmitzi*، وهو أحد أنواع القطط البريّة الذي يتغذى بالطيور والثدييات صغيرة الحجم، أنظر الشكل (1).

الفكرة الرئيسة:

لكل كائن حيّ موطن ونمط بيئي خاصان به، وهو يرتبط بغيره من الكائنات الحيّة بعلاقات متنوعة، مثل: التنافس، والتكافل، والتقايض.

نتائج التعلم:

- أقرّن بين الموطن البيئي والحيّز البيئي والموارد المتوافرة.
- أعرّف العلاقات بين الكائنات الحيّة.

المفاهيم والمصطلحات:

Competition	التنافس
Symbiosis	التكافل
Mutualism	التقايض
Commensalism	التعايش
Parasitism	التطفل
Habitat Ecological	الموطن البيئي
Ecological Niche	النمط الحياتي البيئي
Available Resources	الموارد المتوافرة
Competitive Exclusion	الإقصاء التنافسي
Ecological Space	الحيّز البيئي
Ecological Equivalents	المكافئ البيئي

النمط الحيائي البيئي Ecological Niche

تتفاعل بعض أنواع الكائنات الحية المختلفة مع بيئاتها، ويمتاز كل نوع منها بنمط حياتي بيئي خاص به. يُعرّف النمط الحيائي Ecological Niche بأنه دور الكائن الحي، ومكانته في النظام البيئي، وتفاعلاته مع الكائنات الحية الأخرى، ومدى قدرته على التكيف والتنافس. وهو يشمل جميع الموارد المتوفرة Available Resources التي يستعملها الكائن الحي للحصول على الطاقة اللازمة لبقائه، وتعتمد على مدى تحميله للظروف، ويمكن أن يستغلها في الحصول على غذائه، وتقليل التنافس عليه، وتحديد موقعه في الشبكة الغذائية.

يتأثر النمط الحيائي بعلاقة الكائن الحي بالكائنات الحية الأخرى، من مثل: التنافس، والافتراس، والتطفل. ويُعد هذا النمط جزءاً من الحيز البيئي Ecological Space الذي يشمل الظروف البيئية الحيوية وغير الحيوية جميعها، مثل: الغذاء، ودرجة الحرارة، والرطوبة.

تتنوع طرائق الاستفادة من الموارد المتوفرة تبعاً لنوع الكائن الحي، ونمطه الحيائي. فمثلاً، يتغذى الغزال بالأعشاب، في حين يستعمل الأسد الأعشاب نفسها للتمويه والاختباء في أثناء صيده الغزال، أنظر الشكل (2).

✓ **أنحقّق:** أقرّن بين الموطن والنمط الحيائي للكائن الحي.

أبحث:

تحتاج الكائنات الحية في بيئاتها إلى موارد متنوعة، مثل: الماء، والغذاء، والمأوى. وتزداد فرصة الكائن الحي في البقاء إذا كان أكثر قدرة على توفير هذه الموارد.

أبحث:

أبحث في مصادر المعرفة المناسبة عن أثر الموارد المتوفرة في تحديد تركيب النظام البيئي.

الشكل (2): النمط الحيائي للأسد.

الإقصاء التنافسي Competitive Exclusion

تتشارك العديد من الأنواع في الموطن نفسه، وفي حاجتها إلى بعض الموارد المتوافرة فيه. وقد يؤدي التنافس بين أفراد نوعين من الكائنات الحية على المورد نفسه إلى التأثير في بقائهما، أنظر الشكل (3). وفي هذه الحالة، يستطيع أفراد النوع الأكثر قدرة على التكيف مع البيئة التكاثر، والحصول على الموارد، والبقاء. أما أفراد النوع الآخر فيكونون عرضة للانقراض إذا لم يغيروا نمطهم الحياتي، في ما يُعرف بالإقصاء التنافسي Competitive Exclusion.



الشكل (3): تنافس النحلة والفراشة على الزهرة نفسها.

المكافئ البيئي Ecological Equivalents

تُعرف المكافئات البيئية Ecological Equivalents بأنها أنواع تتبوأ مكانةً مُتماثلة، لكنها تعيش في مناطق جغرافية مختلفة. ومن الأمثلة على ذلك ضفدع مانتيلا الذي يعيش في مدغشقر، والضفدع السهمي السام الذي يعيش في أمريكا الجنوبية؛ إذ إن لكل منهما النمط الحياتي نفسه، لكنهما لا يتنافسان أبداً على الموارد نفسها؛ لأنهما يعيشان في مناطق مختلفة، أنظر الشكل (4).


✓ **أتحقق:** أوضح المقصود بالمكافئ البيئي.

افكر لماذا أدى نقل الأرانب من موطنها في بريطانيا إلى أستراليا إلى حدوث أضرار بيئية فيها؟

الشكل (4):

أ - ضفدع مانتيلا.

ب - ضفدع أمريكا الجنوبية السهمي السام.





لم يمشِ أيُّ إنسانٍ على سطح القمر منذُ رحلة أبولو 17 عام 1972م، لكنَّ وكالة ناسا الفضائية تُعدُّ برنامجًا لتطوير تكنولوجيا الاستكشاف، وجعل القمر موطنًا لرواد الفضاء، بحيث يُمكنهم العيش فيه أشهرًا عدَّة. لا تزال الأبحاث مستمرة لتصميم بناء الموطن؛ إذ يجبُ تزويده بنظام لضخ الهواء اللازم لتنفس رواد الفضاء من دون حدوث انفجارٍ أو تسربٍ داخله، وبنظام آخر لضبط درجات الحرارة والضغط، وبناء نظام لإعادة تدوير المياه، وتوليد الطاقة، ومرافق لتخزين الطعام وتحضيره؛ على أن تكون المواد المُستعملة خفيفة الوزن، وترسل إلى القمر قطعًا مُتفرقة تُجمَع عليه.

العلاقات بين الكائنات الحيّة Relationships between Living Organisms

• التنافس Competition

التنافس Competition هو تفاعل بين الكائنات الحيّة على موارد محدودة، مثل: الماء، والغذاء، ومنطقة النفوذ، والشريك؛ سعيًا إلى التكاثر. يوجد نوعان مختلفان من التنافس، هما: التنافس بين الأنواع المختلفة كما في الشكل (5)، والتنافس بين أفراد النوع الواحد كما في الشكل (6).

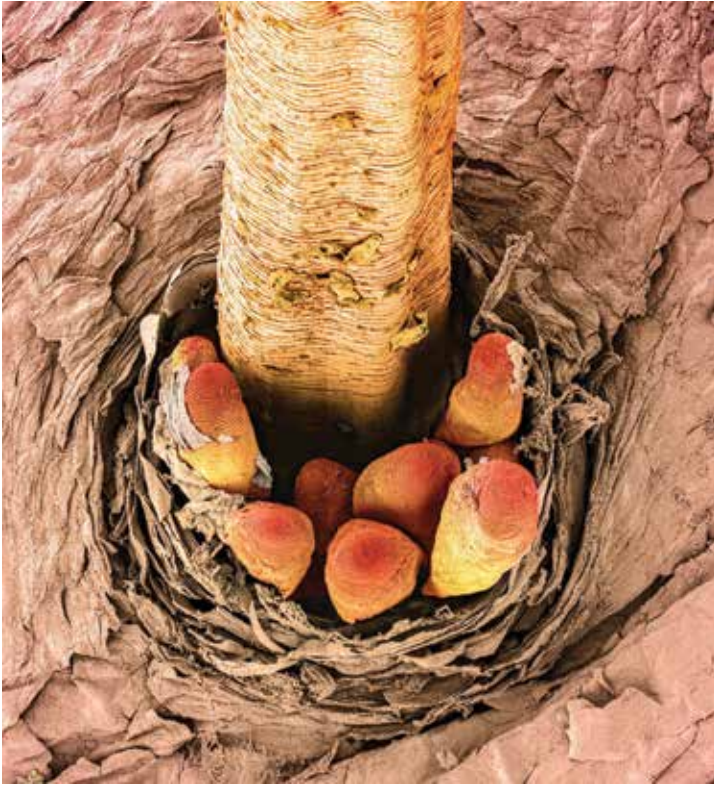
✓ **أنحقّق:** أذكر أنواع التنافس بين الكائنات الحيّة.

أبحث: في مصادر المعرفة المناسبة عن نباتات مفترسة، موضّحًا آلية الافتراس، وأسبابها، وكيفيتها، ثم أعد عرضًا تقديميًا أعرضه أمام زملائي.

الشكل (5): التنافس بين الأسود والضباع.
أوضح علاقة التنافس الظاهرة في الشكل.



الشكل (6): تنافس ذكري أحد أنواع الأيائل على الأنثى.
أوضح علاقة التنافس الظاهرة في الشكل.



التعايش.



التطفُّل.



التقايض.

• علاقة التكافل Symbiotic Relationship

قد يتخذ التفاعل بين الأنواع في النظام البيئي علاقات مختلفة، منها علاقة التكافل Symbiotic Relationship؛ وهي علاقة بيئية بين كائنين من أنواع مختلفة تعيش في النظام البيئي نفسه. توجد ثلاثة أنواع من التكافل، هي: التقايض Mutualism، والتعايش Commensalism، والتطفُّل Parasitism، أنظر الشكل (7).

التطفُّل Parasitism: تموت يرقة الفراشة بسبب التهام يرقات الدبور لأعضائها.

التعايش Commensalism: يعيش العُث الصغير على رموش الإنسان؛ إذ يتغذى بالإفرازات الدهنية والجلد الميت من دون إحداث أي ضرر.

التقايض Mutualism: تتغذى بعض أنواع الخفافيش على ثمار نوع من الصُّبَّار، تحوي بذورًا غير قابلة للهضم، ثم تنشرها في أماكن عدّة عند طرح فضلاتها.

✓ **أتحقّق:** أذكر أنواع علاقة التكافل، مُمثلاً على كل نوعٍ منها بمثال.

الشكل (7): أنواع التكافل.

افكر لماذا تعيش الأغنام والأبقار في قُطعان؟

أبحث: في مصادر المعرفة المناسبة عن كائنات حيّة تتطفّل على الإنسان داخليًا وخارجيًا، ثمّ أكتب تقريرًا عن ذلك، ثمّ أقرأه أمام زملائي.

التكافل



المواد والأدوات:

شريحتان زجاجيتان، ملعقة فلزية، مجهر ضوئي مركب، أغشية شرائح، عدسة مكبرة، مشرط، شتلة نبات الفول في أصيص، قفايز.

إرشادات السلامة:

استعمال المشرط بحذر.

ملحوظة:

يُمكن استعمال شريحة جاهزة لعقد جذور نبات الصويا مع بكتيريا *Rhizobium*، في حال توافرها.

خطوات العمل:

- 1 أخرج شتلة الفول من الأصيص، ثم أزيل بقايا التربة عن جذورها.
- 2 أنفحص شكل جذور الشتلة والعقد باستعمال العدسة.
- 3 أفصل بالمشرط عقدة كبيرة من جذر النبات، ثم أقصها به عرضياً من المنتصف.
- 4 أجرب: أنفحص المقطع العرضي باستعمال العدسة.
- 5 أحضر شريحة رطبة؛ بوضع جزء صغير جداً من العقدة على شريحة، ثم أضيف إليها قطرة ماء، ثم أغطي الشريحة، وأضغط عليها بلطف لسحق العينة.
- 6 ألاحظ الشريحة تحت المجهر، ثم أرسّم ما أراه.

التحليل والاستنتاج:

1. أدوّن شكل العقد ولونها وعددها في الجدول الوارد في كتاب الأنشطة والتجارب العملية.
2. أوضح العلاقة التكافلية بين نبات الفول وبكتيريا الجذور.
3. أتوقع: ماذا يحدث لنبات الفول في حال عدم وجود عقد على جذوره؟



تتغذى دودة العلق بدماء الكائنات الحية، وهي قادرة على البقاء من دون تغذية مدّة تصل إلى 6 شهور؛ إذ إنّها تحصل على كمية كبيرة من الدّم تفوق وزنها بخمس مرات، حيث تُخزّنه في الحوصلة، وتهضمه ببطء شديد؛ للاستفادة منه في أوقات لاحقة.

استخرج العلماء مادة العلقين Hirudin من لعاب العلق؛ لاستخدامها في صناعة أدوية مانعة لتجلط الدّم، وقد استعملوا موادّ أخرى تُفرزها الدودة وتدخل في تركيب أدوية لتوسيع الأوعية الدموية؛ إذ تعمل على توزيع الدّم جيّداً. يستفاد أيضاً من دودة العلق في عمليات الترقيع بعد استئصال الورم السرطانيّ من الثدي.



مراجعة الدرس

1. ما المقصود بالموطن؟
2. بناءً على مبدأ الإقصاء التنافسي، ماذا سيحدث عندما يتنافس نوعان من الكائنات الحية على الموارد نفسها؟
3. إذا نُقل أفراد من ضفادع مانتيلا إلى النظام البيئي للضفادع السهمية السامة في أمريكا الجنوبية، فماذا يُمكن أن يحدث لأفراد النوعين؟ أفسّر إجابتي.
4. تتقاتل الدببة الرمادية على أماكن معينة من ضفاف الأنهار في أثناء وضع سمك السلمون بيضه. ما نوع العلاقة بين الدببة في ذلك الوقت؟
5. أقرّن بين التطفل والتعايش.
6. يعيش ثورٌ وأيلٌ في موطن واحد، ويتغذيان بالأعشاب نفسها، فهل يعني ذلك أن مبدأ الإقصاء التنافسي لا ينطبق عليهما؟ أفسّر إجابتي.

الجماعات الحيوية والعوامل المؤثرة فيها

Populations and factors affecting them

الدرس 2

خصائص الجماعات الحيوية Characteristics of Populations

تعرفتُ سابقاً أن الجماعة الحيوية هي مجموعة من أفراد النوع نفسه، تعيش في منطقة بيئية معينة، وتتأثر بالظروف البيئية نفسها، وتكون قادرة على أداء العمليات الحيوية اللازمة لاستمرار وجودها. وسأتعرف في هذا الدرس خصائص الجماعات الحيوية.

• كثافة الجماعة الحيوية Population Density

تعرف كثافة الجماعة الحيوية Population Density بأنها عدد أفراد جماعة يعيشون في مساحة محددة من منطقة ما. فمثلاً، إذا كان عدد أفراد جماعة من الغزلان 200 فرد، يعيشون في مساحة قدرها 10Km^2 ، فإن الكثافة هي 20 غزالاً / Km^2 . يستفاد من حساب كثافة الجماعات الحيوية في معرفة التغيرات التي تصيب الجماعات بمرور الزمن، وتحديد أسبابها، أنظر الشكل (8).

أفكر إذا انخفضت كثافة جماعة الغزلان في موطن ما، فما الدلائل التي تساعد العلماء على تقصي أسباب ذلك؟

✓ **أنحقق:** ما المقصود بكثافة الجماعة الحيوية؟

الفكرة الرئيسة:

للجماعات الحيوية خصائص عدة تميزها، ومشكلات تؤثر في بقائها ونموها.

نتائج التعلم:

- أبحث في بعض خصائص الجماعات الحيوية.
- أستقصي بعض المشكلات التي تؤثر في بقاء الجماعات، وأقترح حلولاً لها.
- أبين دور الكثافة والتوزيع الجغرافي في تحديد خصائص الجماعات الحيوية.
- أحدد العوامل التي تؤثر في تغير حجم الجماعات الحيوية.
- أقرن بين النمو الأسّي والنمو اللوجستي للجماعات الحيوية.
- أحدد العوامل التي تتحكم في نمو الجماعة الحيوية.

المفاهيم والمصطلحات:

كثافة الجماعة الحيوية

Population Density

حجم الجماعة الحيوية Population Size

الانتشار التكتلي Clumped Dispersion

الانتشار المنتظم Uniform Dispersion

الانتشار العشوائي Random Dispersion

القدرة الاستيعابية Carrying Capacity

النمو الأسّي Exponential Growth

منحنيات البقاء Survivorship Curves

النمو اللوجستي Logistic Growth

يستفاد من حساب كثافة الجماعات الحيوية في معرفة توزيعها الجغرافي، وأنماط انتشارها Geographic Dispersion، أنظر الشكل (9).

الانتشار التكتلي Clumped Dispersion:
قد يعيش الأفراد قرب بعضهم في مجموعات؛ لتسهيل عملية التزاوج، أو الحصول على الحماية، أو الوصول إلى الطعام؛ إذ تعتمد -مثلاً- جماعة من أفراد السردين إلى السباحة معاً في مجموعات كبيرة تسمى السرب؛ تجنباً للحيوانات المفترسة.



الانتشار المنتظم Uniform Dispersion:
يؤدي التنافس - إقليمياً، وداخلياً - على الموارد المحدودة إلى ترك الأفراد مسافات محددة بين بعضهم. فمثلاً، يُظهر توزيع مواقع التعشيش لنوع من البط وجود مسافات ثابتة بين أفراد هذا النوع لحماية البيض.



الانتشار العشوائي Random Dispersion:
يُقصد به توزع الأفراد عشوائياً داخل منطقة معينة؛ إذ يقضي - مثلاً - كسلان الأشجار ثلاثي الأصابع معظم حياته وحيداً في الغابات الاستوائية، فلا يفترسه سوى عدد قليل من الحيوانات.



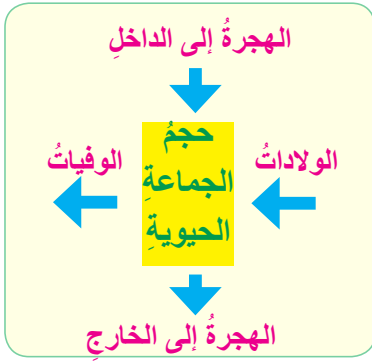
الشكل (9): أنماط الانتشار الجغرافي للجماعة.

• حجمُ الجماعاتِ الحيويةِ Populations Size

تختلفُ الجماعاتُ الحيويةُ في حجمِها تبعًا لاختلافِ أعدادِ أفرادِها. وكذلك يتغيّر حجمُ الجماعاتِ Populations Size في حالِ وفرةِ المواردِ، مثل: الغذاءِ، والماءِ؛ إذ يزدادُ حجمُ الجماعةِ الحيويةِ نتيجةً لزيادةِ عددِ أفرادِها. أمّا إذا كانتِ المواردُ محدودةً، فإنَّ حجمَ الجماعةِ ينخفضُ، أنظرُ الشكلَ (10)، علمًا بأنَّه توجدُ عواملٌ عدَّةٌ تُؤثّرُ في حجمِ الجماعةِ.

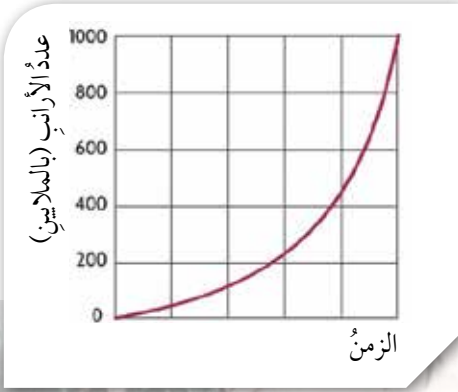
يُطلقُ على زيادةِ حجمِ الجماعةِ الحيويةِ اسمُ نموِّ الجماعةِ، ويُمثِّلُهُ نموذجان، هما:

النموُّ الأُسِّيُّ للجماعةِ Exponential Growth: يُقصدُ به زيادةُ فرصةِ الجماعةِ للنموِّ السريعِ عندما تكونُ المواردُ وفيرةً؛ أي زيادةُ حجمِ الجماعةِ بصورةٍ كبيرةٍ في زمنٍ قصيرٍ، أنظرُ الشكلَ (11).



الشكل (10): العواملُ المؤثِّرةُ في حجمِ الجماعةِ الحيويةِ.

أذكرُ العواملَ التي تزيدُ من حجمِ الجماعةِ، وتلكَ التي تُقلِّلُ من حجمِها؟

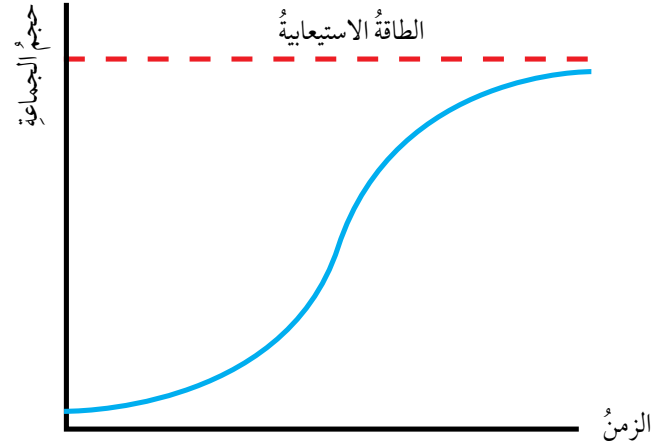


الشكل (11): نموُّ جماعةِ الأرانبِ في أستراليا نموًّا أُسِّيًّا مطلعَ عامِ 1990 م.



النمو اللوجستي للجماعة Logistic Growth:

يُقصدُ به نمو الجماعة لوجستياً عندما تصبح الموارد محدودة؛ أي النمو البطيء للجماعة، ثم نموها أُسيّاً مدّةً وجيزةً قبل أن يستقرّ نموها، أنظر الشكل (12). ففي مراحل النمو الأولية تكون الموارد وفيرة، فتتمو الجماعة، ثم تبدأ الموارد - بمرور الوقت - في النضوب، ويأخذ النمو يتباطأ. وعندما تصبح الموارد محدودة جداً، يتقلص حجم الجماعة إلى المستوى الذي تدعمه البيئة، فيستمر بقاؤها.

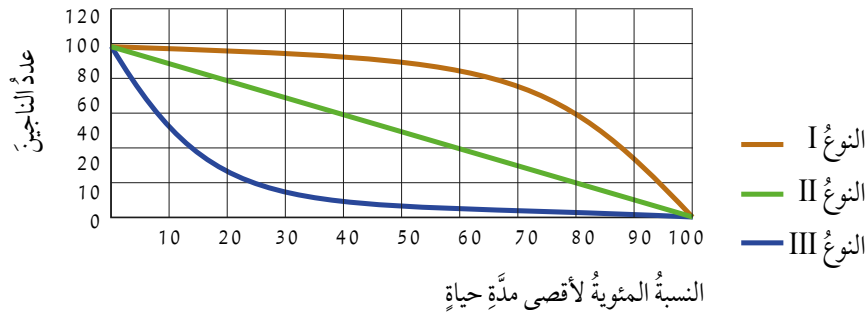


الشكل (12): النمو اللوجستي.

✓ **أتحقق:** ما نموذج نمو الجماعات الحيوية؟

منحنيات البقاء Survivorship Curves

يُقصدُ بمنحنى البقاء المنحنى العام الذي يوضح عدد أفراد النوع الواحد الباقين من عدد المواليد بمرور الزمن. توجد ثلاثة أنماط من منحنيات البقاء Survivorship Curves، أنظر الشكل (13).



النوع I: مستوى منخفض من عدد أفراد الجماعة، وصغارها تستمر في البقاء مدّةً زمنيةً طويلةً نسبياً، كما هو حال الإنسان، والثدييات كبيرة الحجم مثل الفيل. وفي هذا النوع يعتني الآباء بالأبناء.

النوع II: معدل بقاء أفراد الجماعة وموتهم متساوٍ في جميع مراحل حياة الكائن، كما هو حال الطيور، وبعض الزواحف، والثدييات صغيرة الحجم.

النوع III: معدل الولادات والوفيات للمواليد الجدد مرتفع، كما هو حال اللاقاريات، والأسماك، والبرمائيات، والنباتات.

✓ **أبحث:**

أبحث في مصادر المعرفة المناسبة عن بعض المشكلات التي تؤثر في بقاء الجماعات، وأقترح حلولاً لكل منها، ثم أعد عرضاً تقديمياً عن ذلك، ثم أعرضه أمام زملائي.

الشكل (13): أنماط منحنيات البقاء.

✓ **أتحقق:**

أذكر مثلاً على كل نمط من أنماط منحنيات البقاء.



تُعَرِّفُ القُدْرَةُ

الاستيعابية للبيئة Carrying Capacity بأنها الحد الأقصى لعدد أفراد نوع معين من الكائنات الحية الذي قد تُعزِّزُهُ البيئة بصورة طبيعية. أبحث في مصادر المعرفة المناسبة عن العوامل المؤثرة في القدرة الاستيعابية للبيئة، ثمَّ أعدُّ فلماً قصيراً باستخدام برنامج Movie Maker عن ذلك عرضه أمام زملائي.

الربط بالتكنولوجيا يعتمد العلماء على مجموعة متنوعة من الأساليب والأدوات لإجراء الأبحاث؛ إذ يستعملون النماذج الحاسوبية والرياضية لوصف الأنظمة البيئية ونمذجتها، ويمكنهم معالجة متغيرات هذه النماذج لتعرِّف الكائنات الحية، أو النظام البيئي كله بطرائق يتعدَّد تنفيذها في البيئة الطبيعية.

تُشأُّ النماذج باستعمال بيانات حقيقية. فمثلاً، يستعمل العلماء في كينيا تكنولوجيا الأقمار الصناعية لتتبع حركة جماعة من الأفيال؛ للحصول على بيانات عنها، وكذلك إنشاء نماذج لدراسة تأثير التغيرات في النظام البيئي في أنماط حركة الجماعات بوجه عام.

أمَّا علماء البيئة فيستخدمون بيانات جماعة من الفيلة، التي تُرسلها أجهزة الاستقبال (GPS)، في تطوير نماذج حاسوبية؛ لتتبع حركة أفراد الجماعة.

مراجعة الدرس

1. تبلغ كثافة الجماعة الحيوية لأحد أنواع بلح البحر الساحلية كائناً واحداً لكل متر مربع. هل يمكن العثور على بلح البحر في كل متر؟ أفسِّر إجابتي.
2. أرسم مخططاً بيانياً يوضح الأنماط الثلاثة لانتشار الجماعات الحيوية جغرافياً.
3. أقرن بين أنواع منحنيات البقاء.
4. ما فوائد النمط التكتلي للجماعات؟
5. وضع كائن حي 10 أفراد، مات منهم 2 سنوياً على مدار 5 سنوات. هل هذا الكائن الحي طائر أم حشرة؟ أفسِّر إجابتي.

التعاقب البيئي

Ecological Succession

الدرس 3

التعاقب البيئي Ecological Succession

يُعرَّف المجتمع الحيوي Ecological Community بأنه كل جماعة حيوية تعيش في النظام البيئي نفسه. ويُطلق على سلسلة التغيرات الحيوية التي تُجدد مجتمعًا حيويًا مُتضررًا في منطقة ما اسم **التعاقب Succession**، وهو ما حدث في جزر هاواي؛ إذ ثارت البراكين وسط المحيط الهادي منذ أكثر من 70 مليون سنة، ثم بدأت الصخور البركانية الجرداء تتكسر إلى تربة، مُهيئةً مكانًا مناسبًا لنمو النباتات بمرور الزمن، فنشأت أنظمة بيئية استوائية فريدة. وقد استغرق هذا النوع من التعاقب زمنًا طويلًا، أنظر الشكل (14).

يُصنّف التعاقب إلى نوعين: أولي، وثانوي.

الفكرة الرئيسة:

التعاقب البيئي عملية تغيير منتظم في الأنواع التي تُمثل المجتمع الحيوي.

نتائج التعلم:

- أصف عمليات حدوث التعاقب البيئي.
- أتعرف بعض الأنواع الرائدة التي تظهر بعد انهيار أحد الأنظمة البيئية.
- أُميز بين نوعي التعاقب البيئي.

المفاهيم والمصطلحات:

التعاقب البيئي Ecological Succession

التعاقب الأولي Primary Succession

التعاقب الثانوي

Succession Secondary

الأنواع الرائدة Pioneer Species

مجتمع الذروة Climax Community

المجتمع الحيوي

Ecological Community

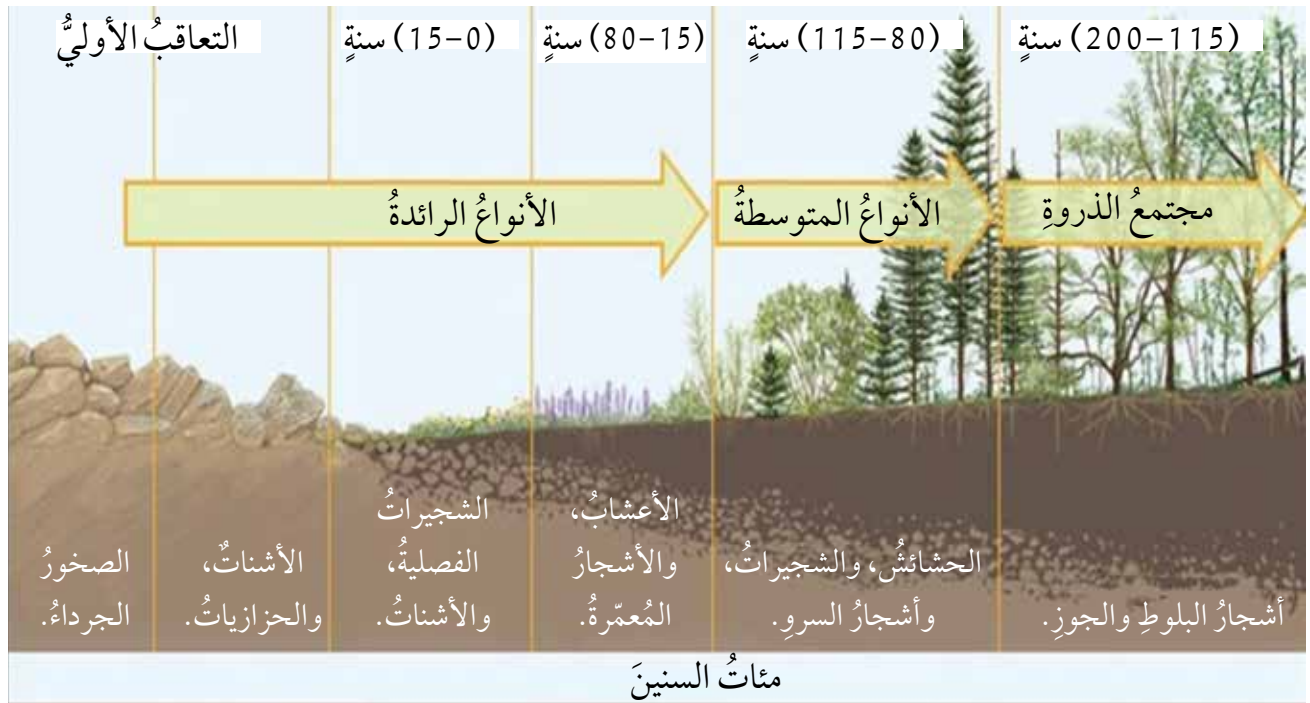


• التعاقب الأولي Primary Succession

التعاقب الأولي Primary Succession هو ظهور نظام بيئي في منطقة لم تكن مأهولة في ما مضى. ويُطلق على أول الكائنات الحية التي تظهر في منطقة غير مأهولة سابقاً اسم **الأنواع الرائدة** Pioneer Species، ومن الأمثلة عليها الأشنات، وبعض أنواع الطحالب التي يمكنها تفتيت الصخور الصلبة إلى قطع صغيرة، أنظر الشكل (15).

تتكشف الصخور الجرداء نتيجة انحسار نهر جليدي، وتشكل عندما تبرد الحمم البركانية، ثم تبدأ الرياح والأمطار والجليد بتكسير سطح الصخور الخارجي، مُحدثة شقوقاً تُسبب تكسر الصخور إلى قطع أصغر. وكذلك تنقل الرياح الأشنات وأبواغ الطحالب إلى هذه المنطقة، فتعمل عند نموها على تفتيت الصخور. وبالمثل، تنتشر بذور النباتات في المنطقة، وتنقلها الطيور بمرور الزمن، فتتمو حتى تصبح أزهاراً صغيرة وشجيرات؛ ما يوفر موطناً للحيوانات الصغيرة. بعد ذلك تتجذر الأشجار الصغيرة، وتستقر حيوانات مختلفة في المنطقة في ظل استمرار نمو التربة، وتحل محلها - في نهاية المطاف - الأشجار الكبيرة، والحيوانات المتنوعة.

الشكل (15): التعاقب الأولي.



• التعااقبُ الثانوي Secondary Succession

يؤدي حدوث اضطراب بيئي، مثل الحريق والإعصار، إلى تدمير المجتمع الحيوي. فالتعاقبُ الثانويُّ الموضحُ في الشكل (16) يُمثلُ إعادة إنشاء نظام بيئي جديد في تربة بمنطقة تعرّض فيها النظام البيئي لتلف في ما مضى، ثم بدأت النباتات والكائنات الحيّة الأخرى التي ظلت حيّة بالنمو من جديد. تجدرُ الإشارة إلى عدم وجود حدٍّ للتعاقب الثانوي؛ فالاضطرابات الصغيرة، مثل سقوط شجرة، تُسببُ تعاقبًا بيئيًا ثانويًا، فيحلُّ مجتمعٌ حيويٌّ جديدٌ على نحوٍ أسرع منه في التعاقب الأولي.



أين يمكن أن يحدث التعاقب البيئي في المحيطات؟

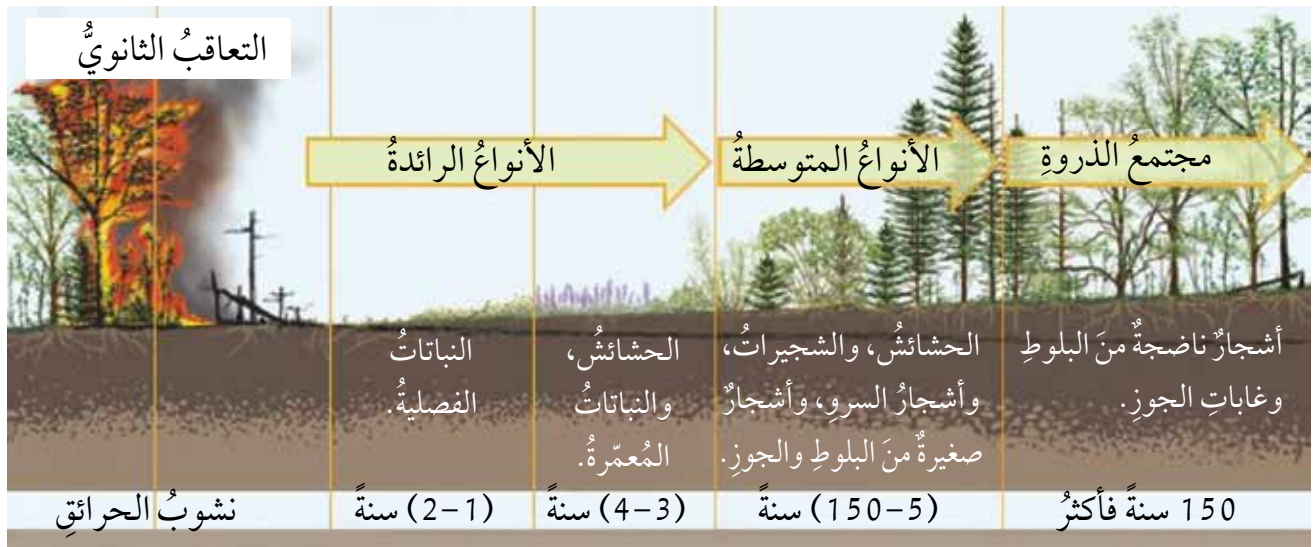
✓ **أتحقّق:** أوضح المقصود بالتعاقب.

الرابط بعلم الفضاء يعتقد العلماء أن كوكب المريخ كان أكثر دفئًا ورطوبةً في ما مضى. وتشير الدراسات إلى إمكانية إعادة مناخه السابق عن طريق تقنيات الهندسة العالمية.

تعدُّ غازات الدفيئة، ومنها مركّبات الكربون المُشبَّعة بالفلور، أفضل طريقة لتسخين المريخ. ويُطلَق على عملية جعل كوكب المريخ صالحًا لسكن الكائنات التي تعيش على الأرض اسمُ الاستصلاح البيئي الكوكبي.

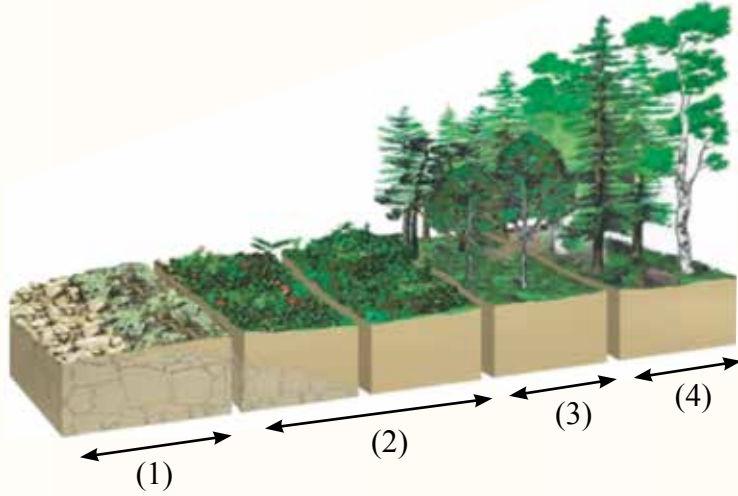
يمكنُ مقارنة عملية إدخال النظم البيئية الأرضية في المريخ بالنزول إلى أسفل جبل مرتفع؛ إذ ينتج من كل انخفاض في الارتفاع مناخ أكثر دفئًا ورطوبةً، ومجتمعٌ بيولوجيٌّ أكثر تنوعًا. ويقترح العلماء تسلسلاً زمنيًا لإدخال النظم البيئية في المريخ والبحث عن الأنواع الرائدة المحتملة فيه.

الشكل (16): التعاقبُ الثانويُّ.



مراجعة الدرس

1. أقرن بين التعاقب الأولي والتعاقب الثانوي.
2. أفسر: تُعدُّ الأنواع الرائدة أحد أهم أنواع التعاقب الأولي.
3. أيُّهما تستغرق فيه عملية التعاقب مدَّةً زمنيةً أطول: المنطقة الاستوائية، أم القطب الشمالي؟ أفسر إجابتي.
4. في أثناء عملية التعاقب، ما العامل المحدد لنمو الطحالب التي تعيش على اليابسة، وتُفضِّل الشمس عندما تبدأ أكثر النباتات طولاً بالنمو؟
5. استنتج: في أيِّ مراحل التعاقب الأولي يُوفَّر النظام البيئي أقلَّ عددٍ من المواطن للجماعات الحيوية؟
6. أدرس الشكل الآتي، ثمَّ أجب عما يليه من أسئلة:



- أ - أيُّ أجزاء الشكل يُمثِّل مجتمع الذروة؟ أفسر إجابتي.
- ب - ما الذي قد يحدث للنظام البيئي ويعيده إلى مرحلة سابقة من التعاقب؟

تتمثل إحدى طرائق حماية الأنواع في مراقبة أعدادها، وإدارتها، والتأكد أن لديها موطنًا مناسبًا للبقاء؛ لذا تحرص الحكومات والمنظمات في مختلف أنحاء العالم على تطوير برامج لحماية الأنواع المهددة بالانقراض من خطر الصيد الجائر، وفقدان الموطن.

ينتقل الإنسان إلى العيش في مواطن أنوع مختلفة من الكائنات الحية في أجزاء مختلفة من العالم؛ ما قد يؤدي إلى فقدان هذه الأنواع مواطنها، وتعرضها لخطر الانقراض.

تحدث تجزئة الموطن عندما يتشكل حاجز يمنع الكائن الحي من الوصول إلى نطاق منطقتيه الرئيس. وهي تحدث غالبًا بسبب العوامل الطبيعية مثل الحرائق والزلازل، أو الأنشطة البشرية مثل بناء الطرق، أو قطع أشجار الغابات.

تكون قطع الأراضي المتبقية من الموطن غالبًا متباعدة؛ ما يسبب انعزال أفراد النوع الواحد، ثم فقدان التنوع الوراثي في الجماعات الحيوية. وقد تؤثر تجزئة الموطن سلبيًا في العلاقات بين الكائنات الحية؛ لذا تلجأ بعض الدول إلى بناء ممرات سفلية أو علوية، تُجنب الحيوانات البرية المرور بالطرق المزدحمة، وتوفر مساحات من مواطن الأنواع التي تتحرك بين مناطق مختلفة.

أريد: في مصادر المعرفة المناسبة عن تجارب البلدان في علاج مشكلة تجزئة الموطن، ثم أكتب تقريرًا عن ذلك، ثم أقرأه أمام زملائي.

السؤال الأول:

الغزال حيوانٌ آكلٌ للعشب يعيش غالباً في الغابة. فما موطنه؟ ما نمطه الحياتي؟

السؤال الثاني:

أقارن بين الإقصاء التنافسي والمكافئ البيئي.

السؤال الثالث:

الدبُّ البني حيوانٌ آكلٌ للحوم. أفسر كيف قد توجد علاقة تنافس بينه وبين السنجاب.

السؤال الرابع:

ما نوع العلاقة التكافلية بين سمك القرش وسمكة الريمورا التي تلتصق به، وتتغذى ببقايا طعامه؟

السؤال الخامس:

أفسر: يُعدُّ التعاقب البيئي عمليةً مستمرة لا تتوقف.

السؤال السادس:

ماذا سيحدث لكثافة الجماعة في حوض سمكٍ يحوي ثلاث أسماكٍ ذهبية عند إضافة سمكتين ذهبيتين إليه؟ أفسر إجابتي.

السؤال السابع:

تُلقحُ حبوبُ اللقاح المُلتصقة بالنحل الأزهار في أثناء جمع الرحيق. ما نوع العلاقة بين النحل والأزهار؟

السؤال الثامن:

ما التأثيرات التي تُحدثها الأنواع الرائدة في البيئة التي تمرُّ بتعاقبٍ أولي؟

السؤال التاسع:

لماذا تتغيرُ المجتمعات الحيوية بمرور الوقت؟

السؤال العاشر:

عند موتٍ حوتٍ أو أحد الثدييات البحرية الكبيرة الأخرى، فإنه يغرق حتى يصل قاع المحيط، فتتغذى أنواعٌ مختلفةٌ من المُحللات والحيوانات الرميّة بجثته كلها، ولا يتبقى منها شيء. هل هذا مثالٌ على التعاقب البيئي؟ أفسر إجابتي.

السؤال الحادي عشر:

ما الأنواع الثلاثة لمنحنيات البقاء؟

السؤال الثاني عشر:

جماعةٌ حيويةٌ تتألف من 820 حشرة تعيش على مساحة 1.2 من الدونم، وتجمع رحيق الأزهار من جماعة نباتات زهرية، مجموعها 560 نبتة تعيش على مساحة دونمين. أي الجماعتين أكثر كثافة: الحشرات، أم النباتات؟ أفسر إجابتي.

السؤال الثالث عشر:

لكل فقرة من الفقرات الآتية أربع إجابات، واحدة فقط صحيحة، أعددّها:

1. إحدى العبارات الآتية صحيحة في ما يتعلق بالنموّ الأسّي:

أ - بدء عملية النمو بصورة سريعة.

ب - اتخاذ منحني النمو شكل الحرف J.

ج - عدم التشابه مع النمو اللوجستي في أي من مراحله.

د - ثبات حجم الجماعة بمرور الزمن.

2. تتساقط بذور بعض النباتات، ثم تنمو حول

الشجرة الأم. إحدى الآتية تصف هيئة انتشار أفراد

هذه المجموعة:

أ - عشوائي.

ب - منتظم.

ج - تكتلي.

د - متذبذب.

- أ - ما الأشهر التي انخفضَ فيها عددُ النحل؟
 ب- أصفِ التغيراتِ في أعدادِ جماعتي النحلِ والعُتَّ الحيويتين من شهرِ نيسانَ إلى شهرِ تشرينِ الأولِ.
 ج - أفسِّرِ العلاقةَ بينَ أعدادِ أفرادِ جماعتي النحلِ والعُتَّ.

3. أحدُ المفاهيمِ الآتيةِ يصفُ قطيعَ غزلانٍ يعيشُ في محميةٍ عجلونَ:

- أ - الجماعةُ الحيويَّةُ. ب- المجتمعُ الحيويُّ.
 ج- النظامُ البيئيُّ. د - تعاقبُ.

4. إحدى العباراتِ الآتيةِ ليسَ لها تعلقٌ بالتعاقبِ الثانويِّ:

- أ - يستغرقُ زمنًا أقلَّ منَ التعاقبِ الأوليِّ.
 ب- يحدثُ في غابةٍ أزيلتْ أشجارُها.
 ج - يحدثُ في جزيرةٍ تكوَّنتْ بفعلِ البراكينِ.
 د - يحدثُ في غابةٍ احترقتْ أشجارُها.

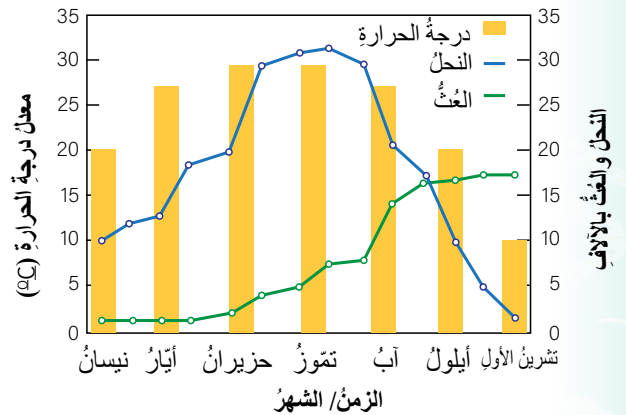
السؤال الرابع عشر:

أفسِّرِ كلاً ممَّا يأتي:

- أ - تمتازُ مجتمعاتُ الذرَّةِ بالاستقرارِ.
 ب- يستغرقُ التعاقبُ الأوليُّ مدَّةً أطولَ مقارنةً بالتعاقبِ الثانويِّ للوصولِ إلى مجتمعاتِ الذرَّةِ.
 ج- تنوَّعُ النباتاتُ في البيئةِ الصحراويةِ بصورةٍ منتظمةٍ.
 د - يكونُ التنوُّعُ الحيويُّ قليلاً في بدايةِ التعاقبِ البيئيِّ.

السؤال الخامس عشر:

أدرسُ الرسمَ البيانيَّ الآتي، ثمَّ أجبِ عن الأسئلةِ التي تليه:



حجمُ جماعةِ الحشراتِ، ودرجةُ حرارتها.

مسردُ المصطلحات

(أ)

الانتشارُ التكتليُّ **Clumped Dispersion**: وجودُ أفرادِ النوعِ الواحدِ في مجموعاتٍ، والعيشُ معًا؛ لتسهيلِ عمليةِ التزاوجِ، والحماية، والحصولِ على مصادرِ الغذاءِ.

الانتشارُ الجغرافيُّ للجماعةِ **Geographic Dispersion of a Population**: انتشارُ أفرادِ جماعةٍ حيويةٍ في منطقةٍ ما بصورةٍ مُعيَّنة.

الانتشارُ العشوائيُّ **Random Dispersion**: توزُّعُ الأفرادِ بشكلٍ عشوائيٍّ داخلَ منطقةٍ ما.

الانتشارُ المنتظمُ **Uniform Dispersion**: تنافسُ أفرادِ كلِّ من النوعِ الواحدِ، والأنواعِ المختلفةِ على المواردِ المحدودة؛ ما يجعلُ أفرادَ الجماعةِ يعيشونَ على مسافاتٍ مُحدَّدةٍ من بعضهم.

الإندوسبيرمُ **Endosperm**: نسيجٌ في بذورِ النباتاتِ ذاتِ الفلقة الواحدة يُخزَّنُ الغذاءَ.

الأنواعُ الرائدةُ **Pioneer Species**: الكائناتُ الحيَّةُ الأولى التي تظهرُ في منطقةٍ غيرِ مأهولةٍ من قبل.

(ب)

البلاستولة **Blastula**: إحدى مراحلِ التكوُّنِ الجنينيِّ في الحيواناتِ، يكونُ فيها الجنينُ على شكلِ كرةٍ مُجوَّفةٍ من الخلايا.

(ت)

تجويفُ الجسمِ **Coelom**: حيزٌ بينَ القناةِ الهضميةِ وجدارِ الجسمِ يوجدُ في الحيواناتِ التي تتكوَّنُ أجنتها من ثلاثِ طبقاتٍ مُولَّدةٍ.

التحوُّلُ الكاملُ **Complete Metamorphosis**: تحوُّلُ الحشرةِ الصغيرةِ التي لا تُشبهُ أبويها من عذراءٍ إلى يرقةٍ، ثمَّ حشرةٍ بالغةٍ.

التحوُّلُ الناقصُ **Incomplete Metamorphosis**: تحوُّلُ الحشرةِ الصغيرةِ التي تُشبهُ أبويها من حوريةٍ إلى حشرةٍ بالغةٍ.

التعاقبُ البيئيُّ **Ecological Succession**: سلسلةُ التغيُّراتِ الحيويةِ التي تُجدِّدُ مجتمعًا حيويًا مُتضرَّرًا في منطقةٍ ما.

التعاقب الأولي **Primary Succession**: ظهور نظام بيئي في منطقة لم تكن مأهولة من قبل.
التعاقب الثانوي **Succession Secondary**: إعادة إنشاء نظام بيئي جديد في منطقة تعرضت لنظامها البيئي لتلف.
تمائل الجسم **Symmetry**: أساس لتصنيف الحيوانات يُحدد بوضع مستوى وهمي يُقسم جسم الحيوان إلى جزأين متماثلين على جانبي المستوى.

(ث)

ثابتة درجة الحرارة **Endotherm**: حيوانات فقارية تحافظ على ثبات درجة حرارة أجسامها عند تغير درجة حرارة البيئة المحيطة بها، مثل: الطيور، والثدييات.
الثدييات البياضة **Monotremata**: ثدييات تتكاثر بالبيوض التي تفقس خارج جسم الأم.
الثدييات الكيسية **Marsupials**: ثدييات تلد إناثها صغاراً غير مكتملي النمو، فتضعهم في أكياس خاصة أسفل بطونهم حتى يكتمل نموهم.
الثدييات المشيمية **Placental**: ثدييات تلد إناثها صغاراً بعد اكتمال نمو الأجنة داخل الرحم.
الثغور **Stomata**: فتحات توجد في طبقة البشرة من ورقة النبات، وتحاط بخليتين حارستين، وتحدث فيها عملية تبادل الغازات.

(ج)

الجدور الجانبية **Lateral root**: جذور تنشأ عن طبقة المحيط الدائر.
جهاز الدوران المغلق **Closed Circulatory System**: جهاز يجري فيه الدم في أوعية دموية بعد حصره فيها.
جهاز الدوران المفتوح **Open Circulatory System**: جهاز يجري فيه الدم داخل تجاويف الجسم.
الجيوب البلعومية **Pharyngeal Pouches**: تراكيب توجد في المراحل الجنينية الأولى للحبليات، وتتحول إلى أعضاء، مثل: الشقوق الخيشومية في الفقاريات المائية، وبعض أجزاء الأذن في فقاريات اليابسة.

(ح)

الحبلُ الظهريُّ **Notochord**: حبلٌ مرنٌ يقعُ بينَ القناةِ الهضمية والحبلِ العصبيِّ في المراحلِ الجنينية الأولى للحبليات.

الحبلُ العصبيُّ الظهريُّ **Cord Dorsal Nerve**: تركيبٌ يوجدُ في المراحلِ الجنينية الأولى للحبليات، ويتكوَّنُ منه الجهازُ العصبيُّ المركزيُّ.

الحبليات **Chordata**: قبيلةٌ منَ الحيواناتِ تحتوي أجنتها على حبلٍ ظهريِّ.

الحزازيات **Mosses**: نباتاتٌ صغيرة الحجم تخلو من الأنسجة الوعائية، ويعيش بعضها قريباً من بعضٍ في المناطقِ الرطبة الظليلة.

الحلقيات **Annelida**: قبيلةٌ منَ الحيواناتِ اللافقارية حقيقية التجويف، تتكوَّنُ أجسامها من حلقاتٍ عدَّةٍ، ينفصلُ بعضها عن بعضٍ بحواجز.

الحيزُ البيئيُّ **Ecological Space**: الظروفُ البيئيةُ الحيويةُ وغيرُ الحيويةُ جميعها، مثل: الغذاء، ودرجة الحرارة، والرطوبة.

(خ)

الخلايا الأميبية **Amoebocytes**: خلايا توجدُ في الطبقةِ الداخلية من الإسفنجيات، وتوزَّعُ الغذاءُ المهضومُ على خلايا جسم الإسفنج.

الخلايا الدورقية المطوقة **Choanocytes**: خلايا يمتلكُ كلُّ منها سوطاً واحداً، وهي تُبطنُ طبقة جسم الإسفنج الداخلية.

الخلايا اللاسعة **Cnidocytes**: خلايا خاصةٌ تغطِّي اللوامس في اللاسعات، وتحقنُ أجسام الفرائس بسُمٍّ يشلُّ حركتها.

(س)

السباتُ الصيفيُّ **Estivation**: مرحلةٌ من السكونِ تلجأ إليها بعضُ الفقاريات عند ارتفاع درجات الحرارة.

(ش)

الشعيراتُ الجذريَّةُ **Root Hair**: امتداداتٌ دقيقةٌ تنشأُ عن طبقةِ البشرةِ في الجذرِ، وتزيدُ مساحةَ السطحِ المُعرَّضِ لامتصاصِ الماءِ والأملاحِ مِنَ التربةِ.

(ط)

الطبقاتُ المُولَّدةُ **Germ Layers**: طبقاتٌ تتكوَّنُ منها أجنَّةُ الحيواناتِ، وتشكِّلُ منها أعضاءَ جسمِ الحيوانِ، ويختلفُ عددها باختلافِ نوعِ الحيوانِ؛ فبعضُ الحيواناتِ تتكوَّنُ أجنَّتُها من طبقتينِ مُولَّدتينِ، وبعضُ آخرُ تتكوَّنُ أجنَّتُه من ثلاثِ طبقاتٍ مُولَّدةٍ.

الطورُ البوغيُّ **Sporophyte**: أحدُ الطورينِ في دورةِ حياةِ النباتاتِ ثنائيةِ المجموعةِ الكروموسوميةِ، وهو يُمثِّلُ الطورَ السائدَ في السرخسياتِ والنباتاتِ البذريةِ.

الطورُ الجاميتيُّ **Gametophyte**: أحدُ الطورينِ في دورةِ حياةِ النباتاتِ ثنائيةِ المجموعةِ الكروموسوميةِ، وهو يُمثِّلُ الطورَ السائدَ في الحزازياتِ.

(ق)

القدرةُ الاستيعابيةُ **Carrying Capacity**: الحدُّ الأقصى لعددِ أفرادِ نوعٍ مُعيَّنٍ مِنَ الكائناتِ الحيَّةِ الذي قد تدعمُه البيئةُ بصورةٍ طبيعيةٍ.

القصبياَتُ التنفُّسيَّةُ **Tracheal Tubes**: عضوُ التنفُّسِ في الحشراتِ.

القلنسوةُ **Root cap**: تركيبٌ يَغطِّي القمَّةَ الناميةَ في الجذرِ، ويحميها في أثناءِ اختراقِ الجذرِ للتربةِ.

(ك)

كثافةُ الجماعةِ الحيويةِ **Population Density**: عددُ أفرادِ جماعةٍ يعيشونَ على مساحةٍ مُحدَّدةٍ في منطقةٍ ما.

الكيوتكلُ **Cuticle**: طبقةٌ شمعيةٌ تَغطِّي البشرةَ، وتُقلِّلُ من فقدِ النباتِ للماءِ، وتحميه من الجفافِ.

(ل)

اللاسعات **Cnidaria**: قبيلة من الحيوانات اللافقارية.
اللافكيات **Agnathans**: حيوانات فقارية أجسامها أسطوانية مژودة بزعانف ظهرية وذيلية، وهيكلها غضروفي، ولا تملك فكوكًا، ومن أمثلتها الجلكي.
اللوامس **Tentacles**: زوائد طويلة تُشبه الأذرع، وتحيط بالفم في الحيوانات التي تنتمي إلى قبيلة اللاسعات.

(م)

مبدأ الإقصاء التنافسي **Competitive Exclusion**: تنافس نوعين من الجماعات على الموارد نفسها، وتكيف أحدهما مع النمط الحياتي السائد، واضطرار النوع الآخر إلى البحث عن نمط حياتي آخر، أو تعرضه للانقراض.
متغيرة درجة الحرارة **Ectotherm**: حيوانات فقارية تتغير درجة حرارة أجسامها بتغير درجة حرارة البيئة المحيطة بها، مثل: الأسماك، والبرمائيات، والزواحف.
المثقبات (الإسفنجيات) **Porifera**: إحدى قبائل الحيوانات اللافقارية، وهي من أبسط الحيوانات. مجتمع الذروة **Climax Community**: مجتمع حيوي ثابت نسبيًا.
المفصليات **Arthropod**: قبيلة من الحيوانات اللافقارية، حقيقية التجويف، وأجسامها مقسمة إلى أجزاء، وأرجلها مفصليّة.
المكافئ البيئي **Ecological Equivalents**: منحني عام يُبين عدد أفراد النوع الواحد الباقيين بمرور الزمن من عدد المواليد؛ ما يساعد على وصف طريقة تكاثر الجماعات.
منحنيات البقاء **Survivorship Curves**: منحني عام يوضح عدد أفراد النوع الواحد الباقيين بمرور الزمن من عدد المواليد. مما يساعد في وصف طريقة تكاثر الجماعات.
منطقة التمايز **Differentiation zone**: منطقة في الجذر تتمايز فيها الخلايا الناتجة من الانقسام، وهي تُكوّن الأنسجة المختلفة.
منطقة الاستطالة **Elongation zone**: منطقة في الجذر تنمو فيها الخلايا الناتجة من الانقسام، وتستطيل.
منطقة القمة النامية **Apical meristem**: منطقة في الجذر تحوي خلايا مُولدة تنقسم انقسامات متساوية.

الموارد المتوافرة **Available Resources**: كل ما يتوافر للكائن الحي من ماء، وغذاء، ومأوى، وغير ذلك.
الموطن البيئي **Habitat Ecological**: منطقة يعيش فيها كائن حي، وتحوي العوامل الحية وغير الحية اللازمة لبقائه.

(ن)

النتح **Transpiration**: عملية فقدان الماء من النبات في صورة بخار ماء.
النمط الحياتي البيئي **Ecological niche**: دور الكائن الحي، ومكانته في النظام البيئي، وتفاعلاته مع الكائنات الحية الأخرى.
النمو الأسّي **Exponential growth**: ازدياد حجم الجماعة بصورة كبيرة في وقت قصير عندما تكون الموارد وفيرة؛ ما يمنح الجماعة فرصة للنمو السريع.
النمو اللوجستي **Logistic Growth**: نمو الجماعة الحيوية بصورة بطيئة، ثم نموها نموًا أسّيًا مدة قصيرة ليستقر بعد ذلك، في وقت تكون فيه الموارد المتوافرة للجماعات الحيوية محدودة.

(هـ)

الهلام المتوسط **Mesophyl**: مادة تفصل الطبقة الخارجية عن الطبقة الداخلية في أجسام بعض الحيوانات اللاقارية، مثل: المثقبات (الإسفنجيات)، واللاسعات.

1. Boyle, M., et al., Collins Advanced Science-Biology, Collins, 2017
2. Campbell, N., A., Urry, L., A., Cain, M., L., Wasserman, S., A., Minorsky, P., V., Reece J., B., Biology a global approach, , 11th edition, Pearson education, INC., Boston,MASS., USA, 2018.
3. Hopson, J.L. and J. Postlethwait, Modern biology. Austin: Holt, 2009.
4. Jones, M. and G. Jones, Cambridge IGCSE® Biology Coursebook with CD-ROM. 2014: Cambridge University Press.
5. Kearsy, S., Cambridge IGCSE® Biology Student Book, Collins, 2014.
6. Mc Dougal, Holt and Nowicki, Stephen, Biology, Houghton Mifflin Harcourt Publishing Company, 2015.
7. Miller, K.R., Miller & Levine Biology, Pearson. 2010
8. Postlethwait, John H. and Hopson, Janet L., Modern biology, Holt, Rinehart and Winston, 2012.
9. Rinehart, Holt and Winston, Life Science, A Harcourt Education Company, 2007.
10. Sadava, D., Hillis, D., Heller, C., and Berenbaum, M., Life The science of biology, Sinauer Associates, 2011.
11. Sturzenbaum, S. R., et al., Biosynthesis of luminescent quantum dots in an earthworm, nature nanotechnology vol (8): 57-60.

