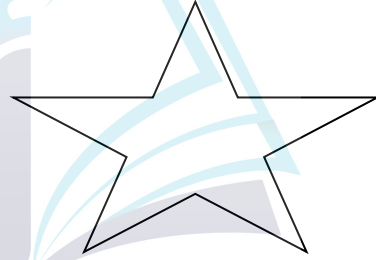



السؤال الأول : السؤال الأول : أكتب الأعداد المناسبة في المربعات
عامودي العد عشرات وألفي العد واحدات:

	325	

السؤال الثاني : أكتب الأعداد الزوجية داخل النجمة والأعداد الفردية
داخل القلب :

500 - 144 - 257 - 345



السؤال الثالث : أكتب العدد السابق في :

, 345

, 697

السؤال الرابع : أكتب العدد التالي في :

647 ,

245 ,

السؤال الخامس : أكتب > أو < أو = في □ :

255 □ 14

385 □ 85

789 □ 79

السؤال السادس : أرتب الأعداد الآتية حسب المطلوب :
تصاعدياً (598 – 589 – 412) .

تنازلياً (147 – 587 – 657) .

السؤال السابع : أقرب الأعداد الآتية حسب المطلوب :

إلى أقرب عشرة 257

إلى أقرب مئة 597

منصة أساس التعليمية

لنفكر معاً (من أنا ؟)



أنا أكبر عدد ضمن ثلاث منازل يمكن تقريبي إلى 400، فمن أنا ؟ _____

أنا عدد أكبر من 850 بمئة، فمن أنا ؟ _____

أنا عدد أصغر من 350 بعشرة، فمن أنا ؟ _____

أنا عدد يمكن تقريبي إلى 500، فمن أنا ؟ _____

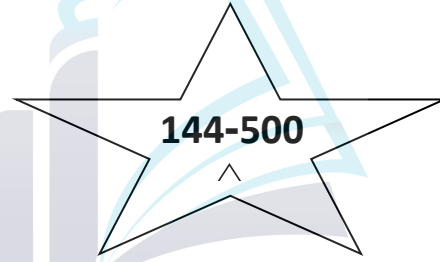

انتهت الأسئلة يا بطل معاً نحو التميز

السؤال الأول : أكتب الأعداد المناسبة في المربعات عمودي العد
عشرات وأفقي العد واحداث :



	315	
324	326	325
	235	


السؤال الثاني : أكتب الأعداد الزوجية داخل النجمة والأعداد الفردية
داخل القلب :


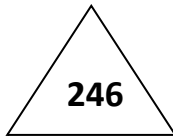
500 - 144 - 257 - 345



السؤال الثالث : أكتب العدد السابق في : 

 , 345
 , 697

السؤال الرابع : أكتب العدد التالي في : 

647 , 
245 , 

السؤال الخامس : أكتب > أو < أو = في □ :

$$255 \quad \square \quad 14$$

$$385 \quad \square \quad 35$$

$$789 \quad \square \quad 79$$

السؤال السادس : أرتب الأعداد الآتية حسب المطلوب :
تصاعدياً (598 – 589 – 412) / 598-589-412

تنازلياً (147 – 587 – 657) / 657-587-147

السؤال السابع : أقرب الأعداد الآتية حسب المطلوب :

إلى أقرب عشرة 257 = 260

إلى أقرب مئة 597 = 600

لنفكر معاً (من أنا ؟)



أنا أكبر عدد ضمن ثلاث منازل يمكن تقريبي إلى 400، فمن أنا ؟ 399
أنا عدد أكبر من 850 بمئة، فمن أنا ؟ 950
أنا عدد أصغر من 350 بعشرة، فمن أنا ؟ 340
أنا عدد يمكن تقريبي إلى 500، فمن أنا ؟ إجابة حرة 498-499 وغيرهم

انتهت الأسئلة يا بطل معاً نحو التميز