

السؤال الأول: اختر الإجابة الصحيحة في كل مما يأتي:

1 من البيانات التي تعدّ نوعية:

(أ) عدد طلاب صفك (ب) طول الغرفة الصفية

(ج) نوع هاتفك الخلوي (د) عدد الكتب المدرسية

2 أي من الآتية هي قيمة تقريبية لاحتمال A الممثل على مقياس الاحتمال المجاور:



(أ) 0.2 (ب) 0.4

(ج) 0.5 (د) 0.8

3 احتمال أن يقف المؤشر في الشكل المجاور عند رقم أصغر من 5:



(أ) $\frac{1}{8}$ (ب) $\frac{5}{8}$

(ج) $\frac{4}{8}$ (د) $\frac{3}{8}$

4 إذا كانت $70^\circ, 95^\circ, 85^\circ, x$ قياسات زوايا مضلع رباعي، فإن قيمة x تساوي:

(ب) 110°

(أ) 250°

(د) 70°

(ج) 100°

5 منشور رباعي أبعاده $6\text{ cm}, 8\text{ cm}, 10\text{ cm}$ فإن حجمه:

(ب) 280 cm^3

(أ) 480 cm^3

(د) 420 cm^3

(ج) 376 cm^3

6 مثلث مساحته 12 cm^2 ، ارتفاعه 3 cm جد طول قاعدته:

(ب) 9 cm

(أ) 4 cm

(د) 15 cm

(ج) 8 cm

7 أي النسب الآتية تكافئ النسبة 2:5؟

(أ) 6:10 (ب) 6:15

(ج) 4:15 (د) 4:12

8 تكتب النسبة المئوية 3% على صورة كسر عشري على النحو:

(أ) 0.3 (ب) 3.00

(ج) 3.0 (د) 0.03

9 حل المعادلة $2x - 1 = 7$ هو:

(أ) 6 (ب) 8

(ج) 4 (د) 16

10 الجذر التكعيبي للعدد (-64) يساوي:


(أ) -4 (ب) 4

(ج) 8 (د) -8

السؤال الثاني:

يمثل القطاع الدائري المجاور نسب مبيعات أحد الأسواق لبعض أصناف الخضروات، اعتماداً عليه أجيب عن الأسئلة الآتية:

احسب:



(1) أحدد أي صنفين يمثلان معاً نصف المبيعات.

(2) أجد نسبة مبيعات الكوسا.

(3) إذا باع المحل 300 Kg من الخضروات فأجد كم باع من صنف البندورة.

السؤال الثالث:

فيما يأتي علامات 16 طالباً في امتحان لمادة الرياضيات:

12, 8, 16, 14, 19, 7, 13, 18, 15, 9, 18, 17, 16, 4, 9, 12

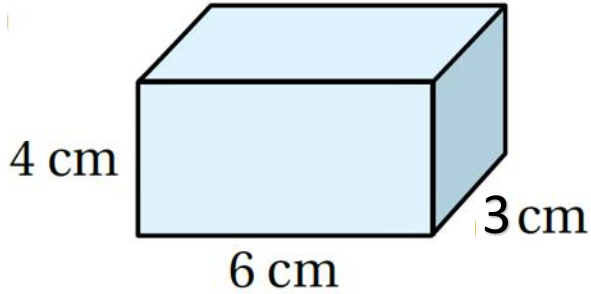
أنظم العلامات في جدول تكراري ذي فئات وأبدأ بالفئة 1 – 5

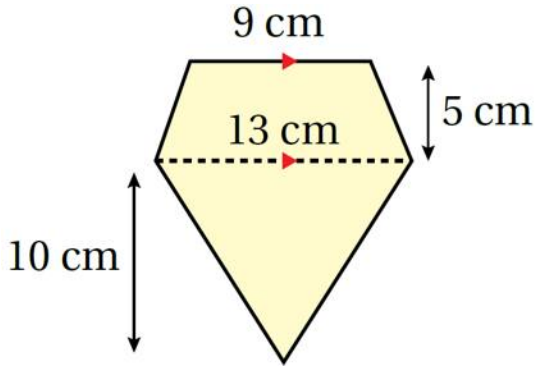
التكرار	الإشارات	الفئات
		1 – 5
		6 – 10
		11 – 15
		16 – 20

السؤال الرابع:

1) متوازي اضلاع طول قاعدته 8 cm وارتفاعه 5 cm أحسب مساحته.

(2) أجد المساحة الكلية للمنشور الرباعي المجاور.





(3) أحسب مساحة الشكل المجاور.

35 cm^2

منصة أساس التعليمية

السؤال الخامس:

أكتب كلاً مما يلي على صورة نسبة مئوية.

1) $\frac{17}{20}$

2) $\frac{9}{12}$

3) 0.15

4) 0.4

5) 0.008

السؤال السادس:

أجد النسبة المئوية من العدد في كل مما يأتي:
(1) 15% من 60.

(2) 50% من 240.

(3) 9% من 600.

السؤال السابع:

أحل المعادلتين التاليتين:

1) $3x - 2 = 16$

2) $2 - 5x = 12$

$$\begin{array}{rcl} -2 & -2 & \\ \hline \end{array}$$

منصة أساس التعليمية

السؤال الثامن:

أجد قيمة كل مما يأتي:

1) $10 + \sqrt[3]{125} \div (24 - 19)$

2) $\sqrt[3]{-64} + -16 \div 4^2$

السؤال الأول: اختر الإجابة الصحيحة في كل مما يأتي:

1 من البيانات التي تعدّ نوعية:

(أ) عدد طلاب صفك (ب) طول الغرفة الصفية

(ج) نوع هاتفك الخليوي (د) عدد الكتب المدرسية

2 أي من الآتية هي قيمة تقريبية لاحتمال A الممثل على مقياس الاحتمال المجاور:



(أ) 0.2 (ب) 0.4

(ج) 0.5 (د) 0.8

3 احتمال أن يقف المؤشر في الشكل المجاور عند رقم أصغر من 5:



(أ) $\frac{1}{8}$ (ب) $\frac{5}{8}$

(ج) $\frac{4}{8}$ (د) $\frac{3}{8}$

4 إذا كانت $70^\circ, 95^\circ, 85^\circ, x$ قياسات زوايا مضلع رباعي، فإن قيمة x تساوي:

(ب) 110°

(أ) 250°

(د) 70°

(ج) 100°

5 منشور رباعي أبعاده $6\text{ cm}, 8\text{ cm}, 10\text{ cm}$ فإن حجمه:

(ب) 280 cm^3

(أ) 480 cm^3

(د) 420 cm^3

(ج) 376 cm^3

6 مثلث مساحته 12 cm^2 ، ارتفاعه 3 cm جد طول قاعدته:

(ب) 9 cm

(أ) 4 cm

(د) 15 cm

(ج) 8 cm

7 أي النسب الآتية تكافئ النسبة 2:5؟

(أ) 6:10

(ب) 6:15

(ج) 4:15

(د) 4:12

8 تكتب النسبة المئوية 3% على صورة كسر عشري على النحو:

(أ) 0.3

(ب) 3.00

(ج) 3.0

(د) 0.03

9 حل المعادلة $2x - 1 = 7$ هو:

(أ) 6

(ب) 8

(ج) 4

(د) 16

10 الجذر التكعيبي للعدد (-64) يساوي:

(أ) -4

(ب) 4


(ج) 8

(د) -8

السؤال الثاني:

يمثل القطاع الدائري المجاور نسب مبيعات أحد الأسواق لبعض أصناف الخضروات، اعتماداً عليه أجيب عن الأسئلة الآتية:

احسب:



(1) أحدد أي صنفين يمثلان معاً نصف المبيعات.

البندورة + البصل

$$15\% + 35\% = 50\%$$

(2) أجد نسبة مبيعات الكوسا.

$$100\% - (35\% + 25\% + 15\% + 20\%)$$

$$100\% - 90\% = 5\%$$

(3) إذا باع المحل 300 Kg من الخضروات فأجد كم باع من صنف البندورة.

$$\frac{35}{100} \times 300 = 105 \text{ kg}$$

السؤال الثالث:

فيما يأتي علامات 16 طالباً في امتحان لمادة الرياضيات:

12, 8, 16, 14, 19, 7, 13, 18, 15, 9, 18, 17, 16, 4, 9, 12

أنظم العلامات في جدول تكراري ذي فئات وأبدأ بالفئة 1 – 5

التكرار	الإشارات	الفئات
1	/	1 – 5
4	////	6 – 10
5	###	11 – 15
6	###/	16 – 20

السؤال الرابع:

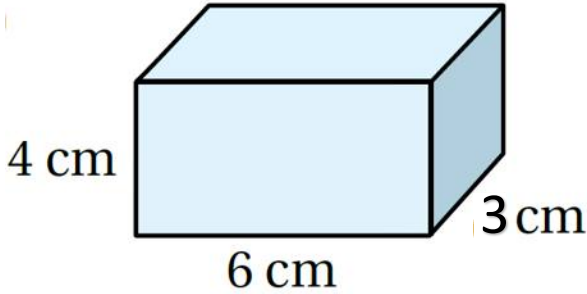
1) متوازي اضلاع طول قاعدته 8 cm وارتفاعه 5 cm أحسب مساحته.

$$A = bh$$

$$A = 8 \times 5$$

$$A = 40 \text{ cm}^2$$

(2) أجد المساحة الكلية للمنشور الرباعي المجاور.



$$P = 2l + 2w$$

$$P = 2 \times 6 + 2 \times 3$$

$$P = 12 + 6$$

$$P = 18 \text{ cm}$$

$$L.A = Ph$$

$$L.A = 18 \times 4$$

$$L.A = 72 \text{ cm}^2$$

$$S.A = L.A + 2B$$

$$= 72 + 36$$

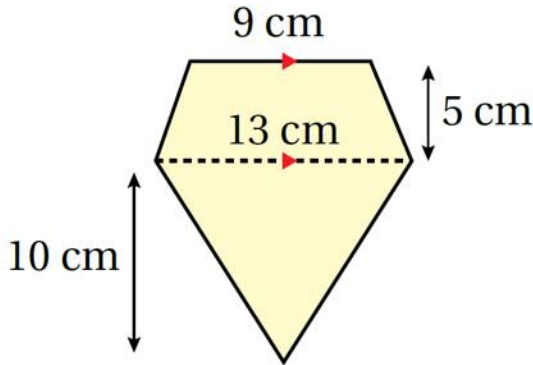
$$= 108 \text{ cm}^2$$

$$B = l \times w$$

$$B = 6 \times 3$$

$$B = 18 \text{ cm}^2$$

$$2B = 2 \times 18 = 36 \text{ cm}^2$$



(3) أحسب مساحة الشكل المجاور.

مساحة شبه المنحرف:

$$A = \frac{1}{2} (b_1 + b_2) \times h$$

$$A = \frac{1}{2} (9 + 13) \times 5$$

$$A = \frac{1}{2} \times 22 \times 5$$

$$A = 11 \times 5$$

$$A = 55 \text{ cm}^2$$

مساحة المثلث:

$$A = \frac{1}{2} \times b \times h$$

$$A = \frac{1}{2} \times 13 \times 10$$

$$A = 5 \times 13$$

$$A = 65 \text{ cm}^2$$

مساحة الشكل كاملاً:

$$55 + 65 = 120 \text{ cm}^2$$

السؤال الخامس:

أكتب كلاً مما يلي على صورة نسبة مئوية.

$$1) \frac{17}{20} = \frac{17 \times 5}{20 \times 5} = \frac{85}{100} = 85\%$$

$$2) \frac{9}{12} = \frac{9 \div 3}{12 \div 3} = \frac{3 \times 25}{4 \times 25} = \frac{75}{100} = 75\%$$

$$3) 0.15 = \frac{15}{100} = 15\%$$

$$4) 0.4 = \frac{4}{10} = \frac{4 \times 10}{10 \times 10} = \frac{40}{100} = 40\%$$

$$5) 0.008 = \frac{8}{1000} = \frac{0.8}{100} = 0.8\%$$

السؤال السادس:

أجد النسبة المئوية من العدد في كل مما يأتي:

(1) 15% من 60.

$$\frac{15}{100} \times 60 = 9$$

(2) 50% من 240.

$$\frac{50}{100} \times 240 = 120$$

(3) 9% من 600.

$$\frac{9}{100} \times 600 = 54$$

السؤال السابع:

أحل المعادلتين التاليتين:

1) $3x - 2 = 16$

$$+2 \quad +2$$

$$\frac{3}{3}x = \frac{18}{3}$$

$$x = 6$$

2) $2 - 5x = 12$

$$-2 \quad -2$$

$$\frac{-5}{-5}x = \frac{10}{-5}$$

$$x = -2$$

السؤال الثامن:

أجد قيمة كل مما يأتي:

$$1) 10 + \sqrt[3]{125} \div (24 - 19)$$

$$= 10 + \sqrt[3]{125} \div 5$$

$$= 10 + 5 \div 5$$

$$= 10 + 1$$

$$= 11$$

$$2) \sqrt[3]{-64} + -16 \div 4^2$$

$$= -4 + -16 \div 4^2$$

$$= -4 + -16 \div 16$$

$$= -4 + -1$$

$$= -5$$