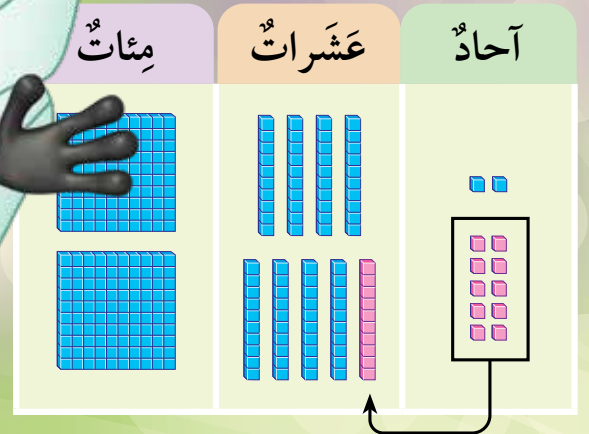


الرياضيات

الصف الثاني - كتاب الطالب

2

الفصل الدراسي الأول





الرياضيات

الصف الثاني - كتاب الطالب

الفصل الدراسي الأول

2

فريق التأليف

د. عمر محمد أبوغليون (رئيساً)

جهاد حسين أبو الركب

د. لانا كمال عرفة

أحمد محمود البشتاوي

هبة ماهر التميمي (منسقاً)

الناشر: المركز الوطني لتطوير المناهج

يسر المركز الوطني لتطوير المناهج استقبال آرائكم وملحوظاتكم على هذا الكتاب عن طريق العناوين الآتية:



06-5376262 / 237



06-5376266



P.O.Box: 2088 Amman 11941



@nccdjor



feedback@nccd.gov.jo



www.nccd.gov.jo

قرّرت وزارة التربية والتعليم تدريس هذا الكتاب في مدارس المملكة الأردنية الهاشمية جميعها، بناءً على قرار المجلس الأعلى للمركز الوطني لتطوير المناهج في جلسته رقم (2020/3)، تاريخ 2020/6/2 م، وقرار مجلس التربية والتعليم رقم (2020/31) تاريخ 2020/6/18 م بدءاً من العام الدراسي 2020 / 2021 م.

© HarperCollins Publishers Limited 2020.

- Prepared Originally in English for the National Center for Curriculum Development. Amman - Jordan

- Translated to Arabic, adapted, customised and published by the National Center for Curriculum Development. Amman - Jordan

ISBN: 978 - 9923 - 41 - 346 - 3

المملكة الأردنية الهاشمية
رقم الإيداع لدى دائرة المكتبة الوطنية
(2022/4/2026)

375.001

الأردن. المركز الوطني لتطوير المناهج

الرياضيات: الصف الثاني: كتاب الطالب (الفصل الدراسي الأول) / المركز الوطني لتطوير المناهج. - ط2؛ مزيده

ومنتحة. - عمان: المركز، 2022

(96) ص.

ر.ل.: 2022/4/2026

الواصفات: / الرياضيات / / التعليم الابتدائي / / المناهج /

يتحمل المؤلف كامل المسؤولية القانونية عن محتوى مصنفه ولا يعبر هذا المصنف عن رأي دائرة المكتبة الوطنية.

All rights reserved. No part of this publication may be reproduced, sorted in retrieval system, or transmitted in any form by any means, electronic, mechanical, photocopying, recording or otherwise, without the prior written permission of the publisher or a license permitting restricted copying in the United Kingdom issued by the Copyright Licensing Agency Ltd, Barnard's Inn, 86 Fetter Lane, London, EC4A 1EN.

British Library Cataloguing -in- Publication Data

A catalogue record for this publication is available from the Library.

1441 هـ / 2020 م

2021 م - 2022 م

الطبعة الأولى (التجريبية)

أعيدت طباعته

المقدمة

انطلاقاً من إيمان المملكة الأردنية الهاشمية الراسخ بأهمية تنمية قدرات الإنسان الأردني، وتسليحه بالعلم والمعرفة؛ سعى المركز الوطني لتطوير المناهج، بالتعاون مع وزارة التربية والتعليم، إلى تحديث المناهج الدراسية وتطويرها، لتكون معيّنًا على الارتقاء بمستوى الطلبة المعرفي، ومجاراة الأقران في الدول المتقدمة. ولما كانت الرياضيات إحدى أهم المواد الدراسية التي تنمي لدى الطلبة مهارات التفكير وحلّ المشكلات، فقد أولى المركز هذا المبحث عنايةً كبيرةً، وحرص على إعداد كتب الرياضيات وفق أفضل الطرائق المُتبعة عالمياً على أيدي خبرات أردنية؛ لضمان انسجامها مع القيم الوطنية الراسخة، وتلبيتها لحاجات طلبتنا.

روعي في إعداد كتب الرياضيات تقديم المحتوى بصورة سلسلة، ضمن سياقات حياتية شائعة، تزيد رغبة الطلبة في التعلّم. وكذلك إبراز خطة حلّ المسألة، وإفراد دروس مستقلة لها تتيح للطلبة التدرب على أنواع مختلفة من هذه الخطط وتطبيقها في مسائل متنوعة. وقد احتوت الكتب على مشروع لكل وحدة؛ لتعزيز تعلّم الطلبة المفاهيم والمهارات الواردة فيها وإثرائها. ولأنّ التدرب المكثّف على حلّ المسائل يُعدّ إحدى أهم طرائق ترسيخ المفاهيم الرياضية وزيادة الطلاقة الإجرائية لدى الطلبة؛ فقد أعدّ كتاب التمارين على نحو يُقدّم للطلبة ورقة عمل في كل درس، تُحلّ بوصفها واجباً منزلياً، أو داخل الغرفة الصفية إن توافر الوقت الكافي. ولأنّنا ندرك جيداً حرص الكوادر التعليمية الأردنية على تقديم أفضل ما لديها للطلبة؛ فقد جاء كتاب التمارين أداة مساعدة تُوفّر عليها جهد إعداد أوراق العمل وطباعتها.

من المعلوم أنّ الأرقام العربية تُستخدم في معظم مصادر تعليم الرياضيات العالمية، ولا سيّما على شبكة الإنترنت، التي أصبحت أداة تعليمية مهمّة؛ لما تزخر به من صفحات تُقدّم محتوى تعليمياً تفاعلياً ذا فائدة كبيرة. وحرصاً منا على ألا يفوت طلبتنا أيّ فرصة، فقد استعملنا في هذا الكتاب الأرقام العربية؛ لجسر الهوة بين طلبتنا والمحتوى الرقمي العلمي، الذي ينمو بتسارع في عالم يخطو نحو التعليم الرقمي بوتيرة متسارعة.

ونحن إذ نُقدّم هذا الكتاب، نأمل أن ينال إعجاب طلبتنا والكوادر التعليمية الأردنية، ويجعل تعليم الرياضيات وتعلّمها أكثر متعةً وسهولةً، ونعد بأنّ نستمرّ في تحسين هذا الكتاب في ضوء ما يصلنا من ملاحظات.

المركز الوطني لتطوير المناهج

قائمة المحتويات

الوحدة 3 الجمع

- 41 مشروع الوحدة: فواتير الكهرباء المنزلية
- 42 الدرس 1 جمع مضاعفات العشرة والمئة ذهنيًا
- 44 الدرس 2 الجمع الذهني
- 46 الدرس 3 الجمع
- 48 الدرس 4 الجمع مع إعادة التجميع (1)
- 50 الدرس 5 الجمع مع إعادة التجميع (2)
- 52 الدرس 6 خصائص الجمع
- 54 الدرس 7 تقدير ناتج الجمع
- 56 الدرس 8 خطة حل المسألة: التخمين والتحقق
- 58 لنلعب معًا: أكبر ناتج جمع
- 59 اختبار نهاية الوحدة
- 61 أسئلة تراكمية



الوحدة 1 الأعداد

- 7 مشروع الوحدة: الأدوات المنزلية
- 8 الدرس 1 المئات
- 10 الدرس 2 الأعداد ضمن ثلاث منازل
- 12 الدرس 3 القيمة المنزلية
- 14 الدرس 4 قراءة الأعداد وكتابتها
- 16 لنلعب معًا: أقرأ الأعداد وأكتبها
- 17 اختبار نهاية الوحدة
- 19 أسئلة تراكمية

الوحدة 2 مقارنة الأعداد ترتيبها

- 21 مشروع الوحدة: مقارنة الأعداد
- 22 الدرس 1 العد بالوحدات والعشرات والمئات
- 24 الدرس 2 الأعداد الزوجية والأعداد الفردية
- 26 الدرس 3 العدد السابق والعدد التالي
- 28 الدرس 4 مقارنة الأعداد
- 30 الدرس 5 ترتيب الأعداد
- 32 الدرس 6 تمثيل الأعداد على خط الأعداد
- 34 الدرس 7 تقريب الأعداد
- 36 لنلعب معًا: ألون الفراشات
- 37 اختبار نهاية الوحدة
- 39 أسئلة تراكمية

قائمة المحتويات



الوَحدة 5 معالجة البيانات

- 85..... مشروع الوحدة: رياضي المفضلة
- 86..... الدرس 1 تمثيل البيانات بالصور
- 88..... الدرس 2 تفسير البيانات الممثلة بالصور
- 90..... الدرس 3 جمع البيانات وتنظيمها
- الدرس 4 تفسير البيانات الممثلة بجدول
- 92..... الإشارات
- 94..... لنلعب معًا: تمثيل النجوم
- 95..... اختبار نهاية الوحدة
- 96..... أسئلة تراكمية



الوَحدة 4 الطرح

- 63..... مشروع الوحدة: الحيوانات
- 64..... الدرس 1 طرح مضاعفات العشرة والمئة ذهنيًا
- 66..... الدرس 2 الطرح الذهني
- 68..... الدرس 3 الطرح
- 70..... الدرس 4 الطرح مع إعادة التجميع (1)
- 72..... الدرس 5 الطرح مع إعادة التجميع (2)
- 74..... الدرس 6 الطرح مع وجود أصفار
- 76..... الدرس 7 تقدير ناتج الطرح
- 78..... الدرس 8 خطة حل المسألة: الحل بأكثر من خطوة
- 80..... لنلعب معًا: ألوان التفاح
- 81..... اختبار نهاية الوحدة
- 83..... أسئلة تراكمية



أُسْرَتِي الْكَرِيمَةُ

بَدَأْتُ الْيَوْمَ دِرَاسَةَ الْوَحدةِ الْأَوَّلِ، وَسَأَتَعَلَّمُ فِيهَا الْأَعْدَادَ ضَمَنَ 3 مَنَازِلَ. لِنَتَقَدَّ مَعًا النَّشَاطَ الْآتِي؛ لِأَنَّهُ سَيُسَاعِدُنِي عَلَى مُرَاجَعَةِ الْمَفَاهِيمِ الرِّيَاضِيَّةِ الَّتِي دَرَسْتُهَا سَابِقًا، وَالَّتِي سَأَحْتَاجُ إِلَيْهَا فِي أَثْنَاءِ دِرَاسَةِ هَذِهِ الْوَحدةِ.

أُحِبُّكُمْ

نشاط منزلي: في هذا النشاط سيُراجِعُ طِفْلِي / طِفْلَتِي الْأَعْدَادَ الَّتِي دَرَسَهَا / دَرَسْتُهَا حَتَّى 99



عَشْرَاتٌ	أَحَادٌ
4	7

- أُحْضِرُ لَطِفْلِي / طِفْلَتِي عَدَدًا مِنْ فَوَاتِيرِ الشَّرَاءِ، وَأَحَدُ عَدَدًا يَتَكُونُ مِنْ مَنَزِلَتَيْنِ.
- أَطْلُبُ إِلَيْهِ / إِلَيْهَا قِرَاءَةَ الْعَدَدِ وَكِتَابَتَهُ بِالْكَلِمَاتِ.
- أَطْلُبُ إِلَيْهِ / إِلَيْهَا تَمَثِيلَ الْعَدَدِ فِي لَوْحَةِ الْمَنَازِلِ، ثُمَّ أَسْأَلُ عَنْ الْقِيَمَةِ الْمَنَزِلِيَّةِ لِكُلِّ رَقْمٍ فِي الْعَدَدِ الَّذِي مَثَلَهُ / مَثَلَتْهُ.
- أَكْرِرُ النَّشَاطَ مَعَ أَعْدَادٍ أُخْرَى.

مَشْرُوعُ الْوَحْدَةِ: الْأَدَوَاتُ الْمَنْزِلِيَّةُ

الموادُّ والأدواتُ

- أوراقٌ كَرْتُونِيَّةٌ كَبِيرَةٌ وَصَغِيرَةٌ
- أقلامٌ مُلَوَّنَةٌ
- مِسْطَرَةٌ
- صَنْعٌ



أَسْتَعِدُّ وَمَجْمُوعَتِي لِتَنْفِيزِ هَذَا الْمَشْرُوعِ
الَّذِي سَنَسْتَعْمَلُ فِيهِ مَا نَتَعَلَّمُهُ فِي هَذِهِ الْوَحْدَةِ
لِنَسْتَقْصِي أَسْعَارَ الْأَدَوَاتِ الْمَنْزِلِيَّةِ.

خُطَوَاتُ تَنْفِيزِ الْمَشْرُوعِ:

1 أُحْضِرُ صُورًا لِأَدَوَاتٍ مَنْزِلِيَّةٍ، مِثْلِ: الثَّلَاجَةِ،
وَفُرْنِ الْغَازِ، وَالْغَسَّالَةِ، وَشَاشَةِ التِّلْفَازِ،
وَالْمُكَيِّفِ الْكَهْرَبَائِيِّ، ... وَعَلَى كُلِّ صُورَةٍ
سِعْرُهَا الْمُكَوَّنُ مِنْ 3 مَنَازِلٍ.

2 أَرْسُمُ لَوْحَةَ الْمَنَازِلِ عَلَى وَرَقَةٍ مُقَوَّاةٍ صَغِيرَةٍ.

أَحَادٌ	عَشْرَاتٌ	مِائَاتٌ

4 أَكْتُبُ وَمَجْمُوعَتِي الْعِدَدَ الَّذِي يُمَثِّلُ سِعْرَ كُلِّ
أَدَاةٍ عَلَى لَوْحَةِ الْمَنَازِلِ بِكِتَابَةِ أَرْقَامِهِ فِي مَكَانِهَا
الصَّحِيحِ.

5 أَكْتُبُ بِخَطٍّ وَاضِحٍ الْعِدَدَ بِالْكَلِمَاتِ وَالصُّورَةِ
التَّحْلِيلِيَّةِ.

6 أَعْرِضُ الْوَرَقَةَ الْمُقَوَّاةَ الْكَبِيرَةَ عَلَى جِدَارِ
الصَّفِّ.

3 أُلصِقُ بِالتَّعَاوُنِ مَعَ أَفْرَادِ مَجْمُوعَتِي صُورَةً
لِإِحْدَى الْأَدَوَاتِ الْمَنْزِلِيَّةِ وَلَوْحَةَ الْمَنَازِلِ عَلَى
وَرَقَةٍ مُقَوَّاةٍ كَبِيرَةٍ، وَأَضَعُ الصُّورَةَ فَوْقَ لَوْحَةِ
الْمَنَازِلِ، مَعَ تَرْكِ مَسَافَةٍ كَافِيَةٍ تَحْتَ لَوْحَةِ
الْمَنَازِلِ.

أَتَعَلَّمُ الْيَوْمَ

الْمِائَاتُ.

الْمُصْطَلَحَاتُ

• الْمِئَةُ

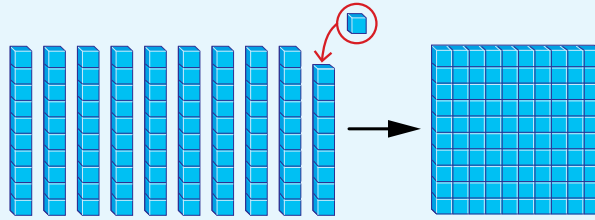
أَسْتَكْشِفُ

كَمْ قِطْعَةً أَصْبَحَ لَدَى سَلْمَى؟




أَتَعَلَّمُ


عِنْدَمَا أُضِيفُ قِطْعَةً وَاحِدَةً إِلَى 99 قِطْعَةً، فَإِنَّهَا تُصْبِحُ 10 عَشْرَاتٍ، وَيُسَمَّى الْعَدَدُ الَّذِي أَحْصَلْتُ عَلَيْهِ مِئَةً (one hundred)، وَأَكْتُبُهُ 100.



الْمِئَةُ تُسَاوِي 100 وَاحِدَاتٍ، وَتُسَاوِي 10 عَشْرَاتٍ.



وَاحِدَاتٍ عَشْرَاتٍ مِائَاتٍ
100 = 10 = 1



وَاحِدَاتٍ عَشْرَاتٍ مِائَاتٍ
200 = 20 = 2


أَتَحَدَّثُ: كَيْفَ أَجِدُ عَدَدَ الْعَشْرَاتِ وَعَدَدَ الْوَاحِدَاتِ فِي 600؟





اَكْتُبْ عَدَدَ الْوَاحِدَاتِ، وَعَدَدَ الْعَشَرَاتِ، وَعَدَدَ الْمِائَاتِ:


1



وَاحِدَاتٍ عَشَرَاتٍ مِائَاتٍ

$$= \underline{\hspace{2cm}} = \underline{\hspace{2cm}} = \underline{\hspace{2cm}}$$

2



وَاحِدَاتٍ عَشَرَاتٍ مِائَاتٍ

$$= \underline{\hspace{2cm}} = \underline{\hspace{2cm}} = \underline{\hspace{2cm}}$$

اَكْتُبْ عَدَدَ الْمِائَاتِ وَعَدَدَ الْعَشَرَاتِ:

3

عَشَرَاتٍ مِائَاتٍ

$$500 = \underline{\hspace{2cm}} = \underline{\hspace{2cm}}$$

4

عَشَرَاتٍ مِائَاتٍ

$$700 = \underline{\hspace{2cm}} = \underline{\hspace{2cm}}$$

اَكْتُبْ عَدَدَ الْمِائَاتِ:

5

عَشَرَاتٍ مِائَاتٍ

$$20 = \underline{\hspace{2cm}}$$

6

عَشَرَاتٍ مِائَاتٍ

$$50 = \underline{\hspace{2cm}}$$

أَحْلُ الْمَسْأَلَةَ



7 في مَكْتَبَةٍ إِحْدَى الْمَدَارِسِ 9 رُفُوفٍ، وَعَلَى كُلِّ رَفٍّ 100 كِتَابٍ، فَكَمْ كِتَابًا فِي الْمَكْتَبَةِ؟

نَشَاطٌ قَرْنِيٌّ: أَطْلُبُ إِلَى طِفْلِي / طِفْلَتِي كِتَابَةَ عَدَدِ الْوَاحِدَاتِ وَالْعَشَرَاتِ وَالْمِائَاتِ فِي الْعَدَدِ 800.



أَسْتَكْشِفُ



أَتَعَلَّمُ الْيَوْمَ

تَمَثِيلَ الأَعْدَادِ ضِمْنَ 3 مَنَازِلَ
بِالنَّمَاذِجِ وَلَوْحَةِ الْمَنَازِلِ.

الْمُصْطَلَحَاتُ

• لَوْحَةُ الْمَنَازِلِ

آحَادٌ	عَشْرَاتٌ	مِائَاتٌ
?	?	?

كَيْفَ أُمَثِّلُ الْعَدَدَ 125
فِي لَوْحَةِ الْمَنَازِلِ؟



أَتَعَلَّمُ



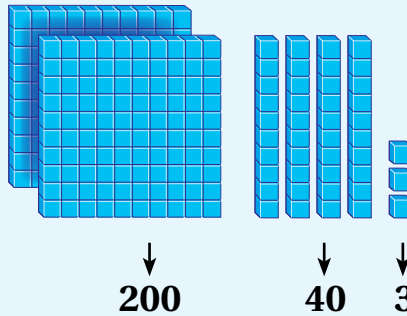
أُمَثِّلُ الْعَدَدَ 243 بِالنَّمَاذِجِ وَلَوْحَةِ الْمَنَازِلِ (place value chart)، ثُمَّ أَكْتُبُهُ.



الْعَدَدُ

243

النَّمَاذِجُ



لَوْحَةُ الْمَنَازِلِ

آحَادٌ	عَشْرَاتٌ	مِائَاتٌ
3	4	2

أَتَحَدَّثُ: كَيْفَ أُمَثِّلُ عَدَدًا مِنْ 3 مَنَازِلَ فِي لَوْحَةِ الْمَنَازِلِ؟

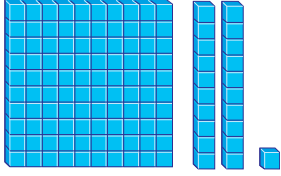


أَتَحَقَّقُ مِنْ فَهْمِي



أُمَثِّلُ الْعَدَدَ فِي لَوْحَةِ الْمَنَازِلِ، ثُمَّ أَكْتُبُهُ بِالْأَرْقَامِ:

1




مِائَاتٌ

عَشْرَاتٌ

آحَادٌ

2



مِائَاتٌ

عَشْرَاتٌ

آحَادٌ

أُمَثِّلُ الْعَدَدَ فِي لَوْحَةِ الْمَنَازِلِ:

3

295

مِائَاتٌ

عَشْرَاتٌ

آحَادٌ

4

608

مِائَاتٌ

عَشْرَاتٌ

آحَادٌ

5

971

مِائَاتٌ

عَشْرَاتٌ

آحَادٌ

6

580

مِائَاتٌ

عَشْرَاتٌ

آحَادٌ

أَحِلُّ الْمَسْأَلَةِ



7 الْحِسُّ الْعَدَدِيُّ: بِمَاذَا يَخْتَلِفُ الْعَدَدُ 493 عَنِ الْعَدَدِ 439؟

7

نشاط منزلي: أطلبُ إلى طفلي / طفلي استِخراجَ عددٍ مُكوّنٍ من 3 منازلٍ من مَجَلَّةٍ أو إعلانٍ، ثُمَّ أطلبُ إليه / إليها تَمَثِيلَ ذَلِكَ الْعَدَدِ فِي لَوْحَةِ الْمَنَازِلِ.



أَتَعَلَّمُ الْيَوْمَ

- القيمة المنزلية لأرقام عدد مكون من 3 منازل.
- كتابة عدد مكون من 3 منازل بالصورة التحليلية.

المُصْطَلَحَاتُ

- القيمة المنزلية
- الرقم
- الصورة التحليلية

أَسْتَكَشِفُ

ما عدد العشرات في العدد 114؟

عدد سور القرآن الكريم 114 سورة.



أَتَعَلَّمُ

لكل رقم (digit) في العدد قيمة منزلية (place value) يُحددها موقعه.

آحاد	عشرات	مئات
3	5	2

عندما أكتب العدد 253 بالصورة التحليلية (expanded form)، فإنني أبين القيمة المنزلية لكل رقم.

$$253 = 200 + 50 + 3$$

2 من المئات 5 عشرات 3 آحاد

أَتَحَدَّثُ: كيف أجد القيمة المنزلية لكل رقم في عدد مكون من 3 منازل؟





اَكْتُبُ الْقِيَمَةَ الْمَنْزِلِيَّةَ لِلرَّقْمِ الْمُلَوَّنِ بِاللَّوْنِ الْأَحْمَرِ:

1 759 _____

2 309 _____

3 482 _____

4 205 _____

5 901 _____

6 840 _____

اَكْتُبُ الْعَدَدَ:

7 $400 + 90 + 5 =$ _____

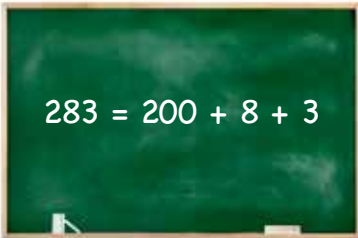
8 $500 + 20 + 3 =$ _____

اَكْتُبُ الْعَدَدَ بِالصُّورَةِ التَّحْلِيلِيَّةِ:

9 $951 =$ _____ $+$ _____ $+$ _____

10 $374 =$ _____ $+$ _____ $+$ _____

أَحْلُ الْمَسْأَلَةَ



اَكْتَشَفُ الْخَطَأَ، وَأُصَحِّحْهُ: كَتَبَ مُعَاذُ الْعَدَدَ 283
بِالصُّورَةِ التَّحْلِيلِيَّةِ كَمَا هُوَ مُوَضَّحٌ جَانِبًا.

11

نشاط منزلي: اَذْكُرْ لطفلي / طفلي عددًا مكوّنًا من 3 منازل من فاتورة شراء، وأطلبُ إليه / إليها إيجاد القيمة المنزلية لأرقام منازلِهِ.



أَسْتَكْشِفُ



كَيْفَ أَكْتُبُ الْعَدَدَ 177 بِالْكَلِمَاتِ؟

أَتَعْلَمُ الْيَوْمَ

قِرَاءَةُ الْأَعْدَادِ ضِمْنَ 3 مَنَازِلَ
وَكِتَابَتُهَا بِالْأَرْقَامِ وَالْكَلِمَاتِ.



رِحْلَةٌ سِيَاحِيَّةٌ إِلَى مَدِينَةِ الْبُتْرَا، لِمُدَّةِ
أُسْبُوعٍ بِمَبْلَغِ 177 دِينَارًا.

عِنْدَمَا أَقْرَأُ عَدَدًا
مِنْ 3 مَنَازِلَ، أَبْدَأُ
بِالْمِائَاتِ أَوَّلًا.

أَتَعْلَمُ



آحَادٌ	عَشْرَاتٌ	مِائَاتٌ
4	6	3

أَقْرَأُ الْعَدَدَ 364 وَأَكْتُبُهُ بِالْأَرْقَامِ عَلَى النَّحْوِ الْآتِي: 364

أَقْرَأُ الْعَدَدَ 364 وَأَكْتُبُهُ بِالْكَلِمَاتِ عَلَى النَّحْوِ الْآتِي: ثَلَاثُمِئَةٍ وَأَرْبَعَةٌ وَسِتُّونَ.

100 مِئَةٌ	110 مِئَةٌ وَعَشْرَةٌ
310 ثَلَاثُمِئَةٍ وَعَشْرَةٌ	375 ثَلَاثُمِئَةٍ وَخَمْسَةٌ وَسَبْعُونَ
400 أَرْبَعُمِئَةٍ	485 أَرْبَعُمِئَةٍ وَخَمْسَةٌ وَثَمَانُونَ

أَتَحَدَّثُ: أَشْرَحُ كَيْفَ أَكْتُبُ الْعَدَدَ 547 بِالْكَلِمَاتِ.



أَتَحَقَّقُ مِنْ فَهْمِي



أَقْرَأُ الْعَدَدَ وَأَكْتُبُهُ بِالْأَرْقَامِ:

1

مِائَات

2

عَشْرَات

8

آحَاد

4

2

مِائَات

5

عَشْرَات

9

آحَاد

1

أَكْتُبُ الْعَدَدَ بِالْكَلِمَاتِ:

3

258

4

371

أَكْتُبُ بِالْأَرْقَامِ الْعَدَدَيْنِ الْآتِيَيْنِ الْمَكْتُوبَيْنِ بِالْكَلِمَاتِ:

5

تِسْعُمِئَةٍ وَثَلَاثَةٌ وَأَرْبَعُونَ

6

سَبْعُمِئَةٍ وَآحَدَ عَشَرَ

أَحْلُ الْمَسْأَلَةَ



7

أَكْتَشِفُ الْخَطَأَ: كَتَبَ مُحَمَّدٌ الْعَدَدَ 957 بِالْكَلِمَاتِ، هَكَذَا: «تِسْعُمِئَةٍ وَخَمْسَةٌ وَسَبْعُونَ»
فَهَلْ مَا كَتَبَهُ صَحِيحٌ؟ أَبَرِّرْ إِجَابَتِي.

نشاط منزلي: أَكْتُبُ لِطِفْلي / طِفْلتِي بِالْأَرْقَامِ عَدَدًا مُكَوَّنًا مِنْ 3 مَنَازِلَ، ثُمَّ أَطْلُبُ
إِلَيْهِ / إِلَيْهَا كِتَابَتَهُ بِالْكَلِمَاتِ (أُكْرِّرُ ذَلِكَ أَكْثَرَ مِنْ مَرَّةٍ).





لِنَلْعَبْ مَعًا

عَدَدُ اللَّاعِبِينَ

2

أَقْرَأِ الْأَعْدَادَ وَأَكْتُبْهَا

420	984	571	714	636	302
146					216
671	364	940	568		
				935	198
				729	205
841	131	417	925	527	

النَّهَائَةُ



الْبَدَائَةُ



وَرَقَّةُ اللَّعِبِ

الْمَوَادُّ وَالْأَدَوَاتُ:

- وَرَقَةُ اللَّعِبِ.
- حَجَرُ نَرْدٍ.
- زُرَّانِ بِلَوْنَيْنِ مُخْتَلِفَيْنِ.

قَوَاعِدُ اللَّعْبَةِ:

- أَضَعُ أَنَا وَزَمِيلِي / زَمِيلَتِي وَرَقَةَ اللَّعِبِ أَمَامَنَا.
- أَخْتَارُ زُرًّا مُلَوَّنًا، وَيَخْتَارُ زَمِيلِي / زَمِيلَتِي الزُّرَّ الْمُلَوَّنَ الْآخَرَ.
- أَرْمِي حَجَرَ النَّرْدِ مَرَّةً وَاحِدَةً، ثُمَّ أَحْرِكُ زُرِّي الْمُلَوَّنَ بِحَسَبِ الْعَدَدِ الظَّاهِرِ عَلَى حَجَرِ النَّرْدِ.
- أَكْتُبُ الْعَدَدَ الَّذِي وَصَلْتُ إِلَيْهِ بِالْكَلِمَاتِ.
- يَقْرَأُ زَمِيلِي / زَمِيلَتِي الْإِجَابَةَ، فَإِذَا كَانَتْ صَحِيحَةً يُثَبِّتُ الزُّرَّ، وَإِذَا كَانَتْ غَيْرَ صَحِيحَةٍ يُعِيدُ الزُّرَّ إِلَى الْمَكَانِ الَّذِي كَانَ فِيهِ.
- أَتَنَاقَشُ مَعَ زَمِيلِي / زَمِيلَتِي اللَّعِبَ، وَنَتَبَادَّلُ الْأَدْوَارَ.
- يَفُوزُ مَنْ يَصِلُ إِلَى النَّهَائَةِ أَوَّلًا.

أُمثِّلُ العَدَدَ بِاسْتِخْدَامِ لَوْحَةِ الْمَنَازِلِ:

1 319

آحاد	عشرات	مئات

2 207

آحاد	عشرات	مئات

3 109

آحاد	عشرات	مئات

4 480

آحاد	عشرات	مئات

اُكْتُبُ الْقِيَمَةَ الْمَنْزِلِيَّةَ لِلرَّقْمِ الْمُلَوَّنِ بِاللَّوْنِ الْأَحْمَرِ:

5 631 _____

6 837 _____

7 420 _____

8 364 _____

9 363 _____

10 530 _____

اُكْتُبُ عَدَدَ الْوَاحِدَاتِ، وَعَدَدَ الْعَشَرَاتِ، وَعَدَدَ الْمِائَاتِ:

11 400 =
 واحدات عشرات مئات

12 700 =
 واحدات عشرات مئات

18

أَسْئَلَةٌ تَرَاكُمِيَّةٌ

أُحَوِّطُ الْقِيَمَةَ الْمُنَزِلِيَّةَ لِكُلِّ رَقْمٍ مُلَوَّنٍ بِالْأَحْمَرِ:

1 12 (2 20)

2 82 (8 80)

3 234 (30 3)

4 905 (90 900)

أَكْتُبُ الْأَعْدَادَ الْآتِيَةَ بِالْكَلِمَاتِ:

5 81 _____

6 69 _____

7 258 _____

8 371 _____

أَجِدْ نَاتِجَ الْجَمْعِ بِالْإِكْمَالِ إِلَى 10:

9 6 + 7 =

10 9 + 5 =

10 + _____ = _____

10 + _____ = _____

11 7 + 8 =

12 8 + 4 =

10 + _____ = _____

10 + _____ = _____

أُمَثِّلُ كُلَّ عَدَدٍ فِي لَوْحَةِ الْمَنَازِلِ:

13 257

آحَادٌ	عَشْرَاتٌ	مِائَاتٌ

14 625

آحَادٌ	عَشْرَاتٌ	مِائَاتٌ

مُقَارَنَةُ الْأَعْدَادِ وَتَرْتِيبُهَا

الْوَحْدَةُ 2



أُسْرَتِي الْكَرِيمَةُ

بَدَأْتُ الْيَوْمَ دِرَاسَةَ الْوَحْدَةِ الثَّانِيَةِ،
وَسَأَتَعَلَّمُ فِيهَا مُقَارَنَةَ الْأَعْدَادِ وَتَرْتِيبُهَا
ضَمَّنَ 3 مَنَازِلَ. لِنَتَقَدُّ مَعَ النِّشَاطِ الْآتِي؛
لِأَنَّهُ سَيُسَاعِدُنِي عَلَى مُرَاجَعَةِ الْمَفَاهِيمِ
الرِّيَاضِيَّةِ الَّتِي دَرَسْتُهَا سَابِقًا، وَالَّتِي
سَأَحْتَاجُ إِلَيْهَا فِي أَثْنَاءِ دِرَاسَةِ هَذِهِ الْوَحْدَةِ.

أَحِبُّكُمْ

نشاط منزلي: في هذا النشاط سِيرَاجِعُ طِفْلِي / طِفْلَتِي مَهَارَةَ تَرْتِيبِ الْأَعْدَادِ الَّتِي دَرَسَهَا
سَابِقًا.



- أُمَثِّلُ مَعَ طِفْلِي / طِفْلَتِي 3 أَعْدَادٍ مُخْتَلِفَةٍ ضَمَّنَ مَنَزِلَتَيْنِ بِاسْتِخْدَامِ النُّقُودِ مِنَ الْفَيْسَيْنِ: قِرْشٍ وَعَشْرَةٍ قُرُوشٍ.
- أَطْلُبُ إِلَيْهِ / إِلَيْهَا تَمَثِيلَهَا عَلَى لَوْحَةِ الْمَنَازِلِ، وَتَحْدِيدَ الْقِيَمَةِ الْمَنَزِلِيَّةِ لِكُلِّ رَقْمٍ فِي الْأَعْدَادِ.
- أَطْلُبُ إِلَيْهِ / إِلَيْهَا تَحْدِيدَ الْعَدَدِ الْأَصْغَرِ، وَالْعَدَدِ الْأَكْبَرِ.
- أَطْلُبُ إِلَيْهِ / إِلَيْهَا تَرْتِيبَهَا تَصَاعُدِيًّا، ثُمَّ تَنَازُلِيًّا.
- أَكْرِرُ النِّشَاطَ مَعَ طِفْلِي / طِفْلَتِي.

عَشْرَاتٌ	آحَادٌ

مَشْرُوعُ الْوَحْدَةِ:

مُقَارَنَةُ الْأَعْدَادِ

الْمَوَادُّ وَالْأَدَوَاتُ

- شَفَافِيَّاتٌ
- بُرْغِيٌّ وَصَمُولَةٌ
- شَرِيْطٌ لاصِقٌ
- 10 بطاقات
- مِقْصٌ
- وَرَقَةٌ مُقَوَّاةٌ كَبِيرَةٌ
- أَقْلَامُ لَوْحٍ

أَسْتَعِدُّ وَمَجْمُوعَتِي؛ لِتَنْفِيْذِ هَذَا الْمَشْرُوعِ
الَّذِي سَنَصْنَعُ فِيهِ نَمُوْدَجًا وَنَسْتَعْمِلُهُ لِمُقَارَنَةِ الْأَعْدَادِ.



خُطَوَاتُ تَنْفِيْذِ الْمَشْرُوعِ:

4 أَكْتُبُ عَدَدًا مِنْ 3 مَنَازِلَ عَلَى كُلِّ بَطَاقَةٍ.

249

403

628

320

1 أَرْسُمُ دَائِرَةً، ثُمَّ أَقْصُ جُزْءًا مِنْهَا كَمَا فِي الشَّكْلِ
الآتِي:



عَرَضُ النَّتَائِجِ:

2 أُثَبِّتُ الدَّائِرَةَ عَلَى الْوَرَقَةِ الْمُقَوَّاةِ مِنْ مُنْتَصَفِهَا
بِاسْتِخْدَامِ بُرْغِيٍّ وَصَمُولَةٍ، بِحَيْثُ تَكُونُ قَابِلَةً
لِلتَّحْرِيكِ.

5 أَعْرِضُ مَعَ مَجْمُوعَتِي النَّمُوْدَجَ أَمَامَ الصَّفِّ.

6 أَضَعُ بَطَاقَةً فِي كُلِّ جَيْبٍ، ثُمَّ أَحَرِّكُ الدَّائِرَةَ
لِلْحُصُولِ عَلَى الرَّمْزِ (< أَوْ > أَوْ =) الَّذِي
يَجْعَلُ الْمُقَارَنَةَ صَحِيحَةً.

3 أُلصِقُ شَفَافِيَّةً عَلَى يَمِينِ الدَّائِرَةِ وَأُخْرَى عَلَى
يَسَارِهَا عَلَى شَكْلِ جُيُوبٍ، وَأَكْتُبُ إِشَارَةَ
الْمُسَاوَةِ عَلَى الدَّائِرَةِ كَمَا فِي الشَّكْلِ الْآتِي:

7 أَكْرِّرُ بِاخْتِيَارٍ بَطَاقَاتٍ أُخْرَى.



أَسْتَكْشِفُ






أَيُّ الْأَطْفَالِ أَسْرَعُ فِي الْعَدِّ حَتَّى 900؟

مَيْسُ

فَارِسُ

أَحْمَدُ

		
300	310	300
400	320	301
500	330	302
600	340	303
⋮	⋮	⋮

أَتَعَلَّمُ



أَلَا حِظُّ الْمَنْزِلَةِ
الْمُلَوَّنَةِ.



أَعُدُّ تَصَاعُدِيًّا بِزِيَادَةِ 1 فِي كُلِّ مَرَّةٍ:

346 , 347 , 348 , 349

أَعُدُّ تَصَاعُدِيًّا بِزِيَادَةِ 10 فِي كُلِّ مَرَّةٍ:

346 , 356 , 366 , 376

أَعُدُّ تَنَازُلِيًّا بِطَرَحِ 100 فِي كُلِّ مَرَّةٍ:

646 , 546 , 446 , 346

نَتَحَدَّثُ: كَيْفَ أَعُدُّ بِالْوَاحِدَاتِ، وَالْعَشْرَاتِ، وَالْمِائَاتِ تَصَاعُدِيًّا وَتَنَازُلِيًّا؟





أَعُدُّ تَصَاعُدِيًّا بِحَسَبِ الْمَطْلُوبِ:

1 362, 363, _____, _____, _____. (بِالْوَاحِدَاتِ)

2 528, 538, _____, _____, _____. (بِالْعَشْرَاتِ)

3 260, 360, _____, _____, _____. (بِالْمِائَاتِ)

أَعُدُّ تَنَازُلِيًّا بِحَسَبِ الْمَطْلُوبِ:

4 127, 126, _____, _____, _____. (بِالْوَاحِدَاتِ)

5 481, 471, _____, _____, _____. (بِالْعَشْرَاتِ)

6 730, 630, _____, _____, _____. (بِالْمِائَاتِ)

أَحُلِّ الْمَسْأَلَةَ



7 أَكْتُبُ الْأَعْدَادَ الْمَفْقُودَةَ:

_____, _____, 354, 344, _____, _____.

نشاط منزلي: أذكرُ لطفلي / طفلي عَدَدًا مُكَوَّنًا مِنْ 3 مَنَازِلٍ، ثُمَّ أَطْلُبُ إِلَيْهِ / إِلَيْهَا الْعَدَّ بِالْوَاحِدَاتِ، وَالْعَشْرَاتِ، وَالْمِائَاتِ تَصَاعُدِيًّا بَدْءًا مِنْ ذَلِكَ الْعَدَدِ.





أَتَعْلَمُ الْيَوْمَ

التمييز بين الأعداد الزوجية والأعداد الفردية.



المُصْطَلَحَاتُ

• عدد زوجي • عدد فردي

أَسْتَكَشِفُ



ما الاختلاف بين الأعداد في الفئاعتين؟




أَتَعْلَمُ



يكون العدد زوجياً (even number) إذا كانت أحاده 0, 2, 4, 6, 8

ويكون العدد فردياً (odd number) إذا كانت أحاده 1, 3, 5, 7, 9



301	302	303	304	305	306	307	308	309	310
311	312	313	314	315	316	317	318	319	320
321	322	323	324	325	326	327	328	329	330
331	332	333	334	335	336	337	338	339	340

الأعداد المكتوبة باللون الأحمر أعداد زوجية؛ لأن أحادها 0, 2, 4, 6, 8

أما الأعداد المكتوبة باللون الأزرق، فهي أعداد فردية؛ لأن أحادها 1, 3, 5, 7, 9

أَتَحَدَّثُ: كيف أحدد ما إذا كان العدد زوجياً أم فردياً؟





أُحَوِّطُ الْعَدَدَ الزَّوْجِيَّ:

1 373, 478, 249, 682, 461

2 564, 879, 785, 661, 990

3 753, 346, 555, 906, 470

أُحَوِّطُ الْعَدَدَ الْفَرْدِيَّ:

4 246, 473, 170, 231, 174

5 370, 557, 247, 682, 466

6 963, 342, 772, 187, 605

7 أَكْتُبُ ثَلَاثَةَ أَعْدَادٍ زَوْجِيَّةٍ مُتتَالِيَةٍ بَدْءًا مِنَ الْعَدَدِ 798

_____ , _____ , _____

8 أَكْتُبُ ثَلَاثَةَ أَعْدَادٍ فَرْدِيَّةٍ مُتتَالِيَةٍ بَدْءًا مِنَ الْعَدَدِ 647

_____ , _____ , _____

أَحُلُّ الْمَسْأَلَةَ



9 تَحَدَّدُ: أَكُونُ عَدَدًا فَرْدِيًّا أَقَلَّ مِنْ 400 بِاسْتِعْمَالِ الْأَرْقَامِ الثَّلَاثَةِ 4, 3, 7.

نشاط منزلي: أذكرُ لطفلي / طفلي أَعْدَادًا ضَمَنَ 3 مَنَازِلَ، ثُمَّ أَطْلُبُ إِلَيْهِ / إِلَيْهَا تَصْنِيفَهَا إِلَى أَعْدَادٍ زَوْجِيَّةٍ، أَوْ فَرْدِيَّةٍ.



أَسْتَكْشِفُ



إِذَا وَضَعْتَ مَهَا حَبَّةَ الْفَرَاوِلَةِ الَّتِي مَعَهَا فَوْقَ كَوْمَةِ الْفَرَاوِلَةِ، فَكَمْ سَيُصْبِحُ عَدَدُ حَبَاتِ الْفَرَاوِلَةِ؟



أَتَعْلَمُ الْيَوْمَ

كِتَابَةُ الْعَدَدِ السَّابِقِ، وَالْعَدَدِ التَّالِي، وَالْعَدَدِ الْمَحْصُورِ بَيْنَ عَدَدَيْنِ.

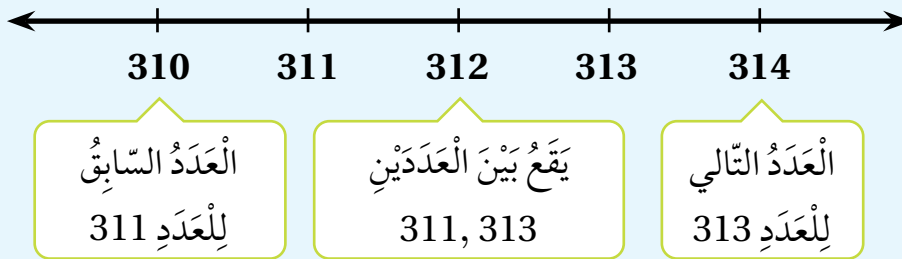
الْمُصْطَلَحَاتُ

- الْعَدَدُ السَّابِقُ
- الْعَدَدُ التَّالِي
- بَيْنَ عَدَدَيْنِ

أَتَعْلَمُ



الْعَدَدُ التَّالِي (just after) لِعَدَدٍ يَزِيدُ عَلَيْهِ بِوَاحِدٍ، وَالْعَدَدُ السَّابِقُ (just before) لِعَدَدٍ يَقِلُّ عَنْهُ بِوَاحِدٍ، وَالْعَدَدُ بَيْنَ عَدَدَيْنِ (between) يَقَعُ فِي الْمُنْتَصَفِ، أَيْ بَيْنَهُمَا.



أَتَحَدَّثُ: كَيْفَ أَجِدُ الْعَدَدَ التَّالِي، وَالْعَدَدَ السَّابِقَ لِلْعَدَدِ 500؟





1 أكتب العدد السابق، والعدد التالي في الفراغ:

العدد التالي	العدد	العدد السابق
_____	542	_____
_____	654	_____
_____	766	_____
_____	140	_____

أكتب العدد الواقع بين العددين في الفراغ:

2 531, _____ , 533

3 899, _____ , 901

4 205, _____ , 207

5 878, _____ , 880

أحل المسألة



6 تبرير: يقول خالد: إن العدد السابق للعدد 220 هو 210، هل أتفق مع خالد؟ أبرر إجابتي.

نشاط منزلي: أذكر أمام طفلي / طفلاتي عددًا مكوّنًا من 3 منازل، ثم أطلب إليه / إليها ذكر العدد التالي، والعدد السابق له.



أَتَعَلَّمُ الْيَوْمَ

مُقَارَنَةُ الْأَعْدَادِ ضِمْنَ 3 مَنَازِلَ
مُسْتَعْمِلًا الرُّمُوزَ < ، = ، >

الْمُصْطَلَحَاتُ

- أَكْبَرُ مِنْ
- أَصْغَرُ مِنْ
- يُسَاوِي

أَسْتَكْشِفُ

مَنْ الَّذِي مَعَهُ عَدَدٌ أَكْبَرُ مِنَ الثُّقُودِ، أَحْمَدُ أَمْ عَلِيٌّ؟

عَلِيٌّ



399

أَحْمَدُ



435

أَتَعَلَّمُ

لِكَيْ أُقَارِنَ بَيْنَ عَدَدَيْنِ: أَبْدَأُ بِمُقَارَنَةِ الْمِائَاتِ أَوَّلًا، فَإِذَا كَانَتِ الْمِائَاتُ مُتَسَاوِيَةً فَإِنِّي أُقَارِنُ الْعَشْرَاتِ، وَإِذَا كَانَتِ الْعَشْرَاتُ مُتَسَاوِيَةً، فَإِنِّي أُقَارِنُ الْأَحَادَ.

(equal to) يُسَاوِي

مِائَاتٌ	عَشْرَاتٌ	أَحَادٌ
5	9	8
5	9	8

الْمِائَاتُ مُتَسَاوِيَةٌ
وَالْعَشْرَاتُ مُتَسَاوِيَةٌ
وَالْأَحَادُ مُتَسَاوِيَةٌ
598 = 598

(greater than) أَكْبَرُ مِنْ

مِائَاتٌ	عَشْرَاتٌ	أَحَادٌ
4	8	1
4	6	2

الْمِائَاتُ مُتَسَاوِيَةٌ
الْعَشْرَاتُ غَيْرُ مُتَسَاوِيَةٍ
8 > 6
481 > 462

(less than) أَصْغَرُ مِنْ

مِائَاتٌ	عَشْرَاتٌ	أَحَادٌ
2	7	3
4	5	9

الْمِائَاتُ غَيْرُ مُتَسَاوِيَةٍ
2 < 4
273 < 459

أَتَحَدَّثُ: كَيْفَ أُقَارِنُ بَيْنَ عَدَدَيْنِ ضِمْنَ 3 مَنَازِلَ؟





اَكْتُبْ < أَوْ > أَوْ = فِي لِتُصَبِّحَ الْعِبَارَةُ صَحِيحَةً:

1 436 463

2 291 294

3 350 350

4 394 295

5 767 676

6 982 992

7 457 475

8 861 97

9 501 379

10 461 461

أَحْلُ الْمَسْأَلَةَ



11 يَسْتَقْبِلُ الْمُتَحَفُ الْوَطْنِيُّ الْأُرْدُنِّيُّ زُورَارَهُ فِي فَتْرَتَيْنِ يَوْمِيًّا: صَبَاحِيَّةً، وَمَسَائِيَّةً. فَإِذَا اسْتَقْبَلَ فِي أَحَدِ الْأَيَّامِ 486 زَائِرًا فِي الْفَتْرَةِ الصَّبَاحِيَّةِ، ثُمَّ اسْتَقْبَلَ فِي الْفَتْرَةِ الْمَسَائِيَّةِ مِنْ الْيَوْمِ نَفْسِهِ 468 زَائِرًا؛ فَفِي أَيِّ الْفَتْرَتَيْنِ كَانَ عَدَدُ زُورَارِ الْمُتَحَفِ أَقَلَّ؟

نشاط منزلي: اذْكُرْ أَمَامَ طِفْلي / طِفْلتِي عَدَدًا مُكَوَّنًا مِنْ 3 مَنَازِلَ، ثُمَّ اطْلُبْ إِلَيْهِ / إِلَيْهَا ذِكْرَ أَعْدَادٍ أَكْبَرَ مِنْهُ وَأُخْرَى أَقَلَّ مِنْهُ، وَاكْرُرْ ذَلِكَ .



أَسْتَكْشِفُ



أَرْتَّبُ الْمُتَسَابِقِينَ تَصَاعُدِيًّا بِحَسَبِ أَرْقَامِهِمْ.



أَتَعَلَّمُ الْيَوْمَ

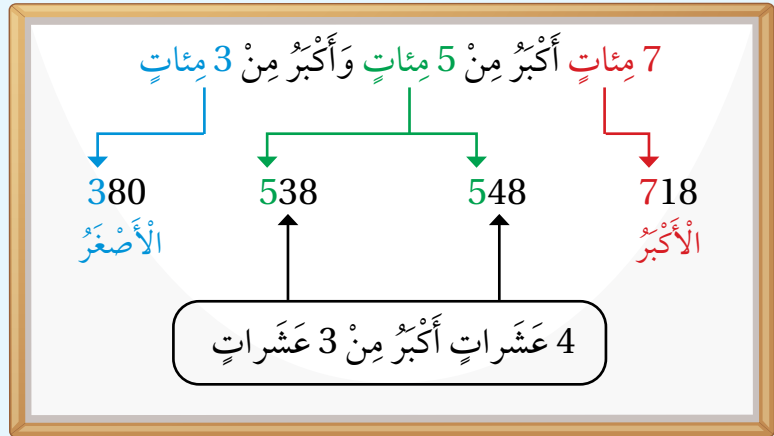
تَرْتِيبَ الْأَعْدَادِ ضَمَّنَ 3 مَنَازِلَ
تَصَاعُدِيًّا، وَتَنَازُلِيًّا.

أَتَعَلَّمُ



يُمْكِنُنِي تَرْتِيبُ الْأَعْدَادِ 380، 718، 538، 548 تَصَاعُدِيًّا (مِنَ الْأَصْغَرِ إِلَى
الْأَكْبَرِ) أَوْ تَنَازُلِيًّا (مِنَ الْأَكْبَرِ إِلَى الْأَصْغَرِ).

لِتَرْتِيبِ الْأَعْدَادِ، أَقَارِنُ
الْمِائَاتِ، ثُمَّ الْعَشَرَاتِ،
ثُمَّ الْآحَادِ.



إِذَنْ، تَرْتِيبُ الْأَعْدَادِ تَصَاعُدِيًّا هُوَ: 380، 538، 548، 718

وَتَرْتِيبُهَا تَنَازُلِيًّا هُوَ: 718، 548، 538، 380

أَتَحَدَّثُ: كَيْفَ أَسْتَخْدِمُ الْقِيَمَةَ الْمَنْزِلِيَّةَ لِتَرْتِيبِ الْأَعْدَادِ؟





أُرَتِّبُ الأَعْدَادَ تَصَاعُديًّا:

1 645, 656, 234 _____ , _____ , _____

2 456, 678, 498 _____ , _____ , _____

3 707, 689, 801 _____ , _____ , _____

أُرَتِّبُ الأَعْدَادَ تَنَازُلِيًّا:

4 788, 687, 768 _____ , _____ , _____

5 456, 656, 487 _____ , _____ , _____

6 811, 910, 888 _____ , _____ , _____

أَحْلُ الْمَسْأَلَةَ



7 مَعَ سَمِيرَةَ 245 مُلْصَقًا مُلَوَّنًا، وَمَعَ أُخْتِهَا 178 مُلْصَقًا، وَمَعَ أُخْتِهَا 185 مُلْصَقًا. أُرَتِّبُ عَدَدَ تِلْكَ الْمُلْصَقَاتِ تَنَازُلِيًّا.

نَشَاطٌ مَنزِلِيٌّ: أَخْبِرْ طِفْلِي / طِفْلَتِي بِأَطْوَالِ أَفْرَادِ أُسْرَتِنَا بِالسَّيْتِمَتْرِ، وَأَطْلُبْ إِلَيْهِ / إِلَيْهَا تَرْتِيبَهَا تَصَاعُديًّا، وَتَوْضِيحَ إِجْرَاءَاتِ التَّرْتِيبِ.



أَسْتَكْشِفُ



أَتَعَلَّمُ الْيَوْمَ

تَمْثِيلُ عَدَدٍ مِنْ 3 مَنَازِلَ عَلَى
خَطِّ الْأَعْدَادِ.

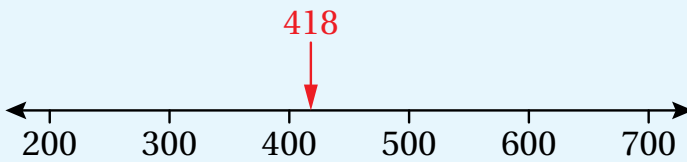


كَيْفَ أُمَثِّلُ الْعَدَدَ 538
عَلَى خَطِّ الْأَعْدَادِ؟

أَتَعَلَّمُ



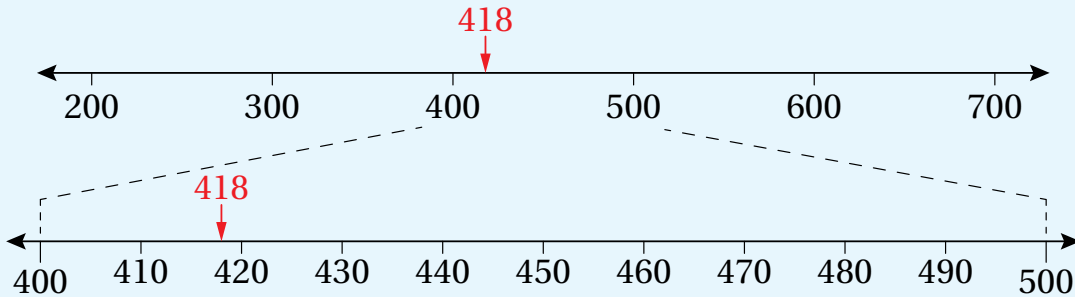
يُمْكِنُنِي تَمْثِيلُ الْعَدَدِ 418 عَلَى خَطِّ أَعْدَادٍ مُقَسَّمٍ إِلَى مِائَاتٍ.



بِمَا أَنَّ الْعَدَدَ 418 يَقَعُ بَيْنَ الْعَدَدَيْنِ 400 وَ 500،
وَلَكِنَّهُ أَقْرَبُ إِلَى 400؛ أُمَثِّلُهُ عَلَى خَطِّ الْأَعْدَادِ
بِالشَّكْلِ الْمَجَاورِ:

وَيُمْكِنُنِي أَيْضًا تَمْثِيلُ الْعَدَدِ 418 عَلَى خَطِّ أَعْدَادٍ مُقَسَّمٍ عَشْرَاتٍ.

بِمَا أَنَّ الْعَدَدَ 418 يَقَعُ بَيْنَ الْعَدَدَيْنِ 410 وَ 420، وَلَكِنَّهُ أَقْرَبُ إِلَى 420؛ أُمَثِّلُهُ عَلَى خَطِّ الْأَعْدَادِ بِالشَّكْلِ الْآتِي:



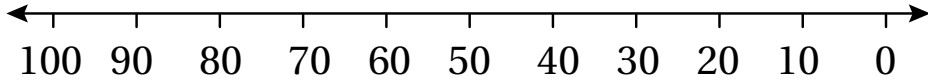
أَتَحَدَّثُ: كَيْفَ أُمَثِّلُ الْعَدَدَ 239 عَلَى خَطِّ الْأَعْدَادِ؟



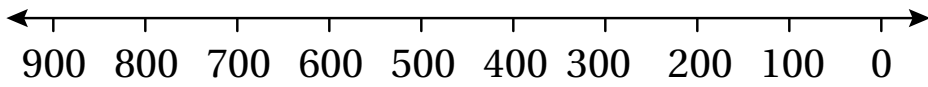


أُمَثِّلُ كُلًّا مِنَ الْأَعْدَادِ الْآتِيَةِ عَلَى خَطِّ الْأَعْدَادِ الْمُجَاوِرِ لَهُ:

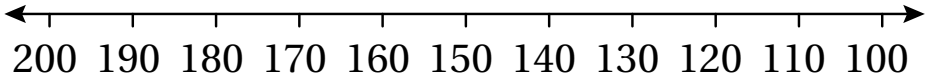
1 83



2 570



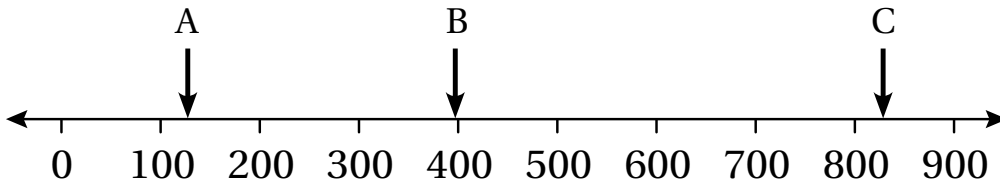
3 158



أَحْلُ الْمَسْأَلَةَ



4 الْحِشِّ الْعَدَدِيُّ: أَكْتُبِ الْعَدَدَ الَّذِي يُشِيرُ إِلَيْهِ / إِلَيْهَا السَّهْمُ عَلَى خَطِّ الْأَعْدَادِ أَذْنَاهُ:



A =

B =

C =

نَشَاطٌ مَنْزِلِيٌّ: اخْتَارْ عَدَدًا مِنْ 3 مَنَازِلَ، ثُمَّ أَطْلُبْ إِلَى طِفْلِي / طِفْلَتِي تَمَثِيلَهُ عَلَى خَطِّ أَعْدَادٍ مُقَسَّمٍ إِلَى مِائَاتٍ، ثُمَّ عَلَى خَطِّ أَعْدَادٍ مُقَسَّمٍ إِلَى عَشَرَاتٍ.



أَسْتَكْشِفُ



اشترت أسرة ميسون ملابس بمبلغ 147 ديناراً.
بكم ديناراً تقريباً اشترت أسرة ميسون؟



أَتَعَلَّمُ الْيَوْمَ

تَقْرِيبُ الْأَعْدَادِ إِلَى أَقْرَبِ 10 أو 100

الْمُصْطَلَحَاتُ

• التَّقْرِيبُ

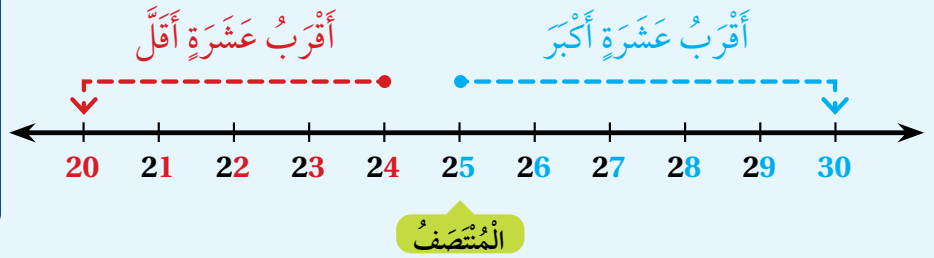
أَتَعَلَّمُ



أَسْتَعْمِلُ التَّقْرِيبَ (rounding)؛ لِتَغْيِيرِ الْعَدَدِ إِلَى عَدَدٍ يَسْهُلُ التَّعَامُلُ مَعَهُ.

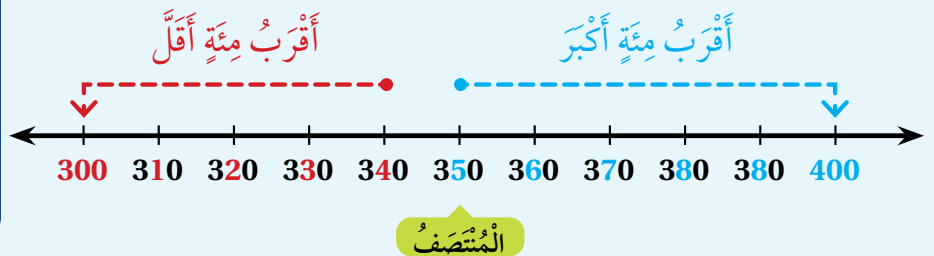
التَّقْرِيبُ إِلَى أَقْرَبِ 10:

أَنْظُرْ إِلَى مَنْزِلَةِ الْأَحَادِ.
إِذَا كَانَتْ 5 أَوْ أَكْبَرَ أَقْرَبُ إِلَى الْأَعْلَى.
وَإِذَا كَانَتْ أَقَلَّ مِنْ 5 أَقْرَبُ إِلَى الْأَسْفَلِ.



التَّقْرِيبُ إِلَى أَقْرَبِ 100:

أَنْظُرْ إِلَى مَنْزِلَةِ الْعَشَرَاتِ.
إِذَا كَانَتْ 5 أَوْ أَكْبَرَ أَقْرَبُ إِلَى الْأَعْلَى.
وَإِذَا كَانَتْ أَقَلَّ مِنْ 5 أَقْرَبُ إِلَى الْأَسْفَلِ.



أَتَحَدَّثُ: كَيْفَ أَقْرَبُ عَدَدًا مُكَوَّنًا مِنْ 3 مَنَازِلَ إِلَى أَقْرَبِ 100؟





أُقَرِّبُ الأَعْدَادَ الآتِيَةَ إِلَى أَقْرَبِ 10:

1 82 → _____

2 57 → _____

3 821 → _____

4 508 → _____

5 645 → _____

6 924 → _____

أُقَرِّبُ الأَعْدَادَ الآتِيَةَ إِلَى أَقْرَبِ 100:

7 823 → _____

8 574 → _____

9 253 → _____

10 648 → _____

11 192 → _____

12 461 → _____

أَحُلُّ الْمَسْأَلَةَ



مَسْأَلَةٌ مَفْتُوحَةٌ: أَكْتُبُ 5 أَعْدَادٍ تُقَرَّبُ إِلَى 500

13

نَشَاطٌ مَنْزِلِيٌّ: اخْتَارُ لِطِفْلِي / طِفْلَتِي عَدَدًا مُكَوَّنًا مِنْ 3 مَنَازِلَ، وَأَطْلُبُ إِلَيْهِ / إِلَيْهَا تَقْرِيْبَهُ إِلَى أَقْرَبِ 10، ثُمَّ إِلَى أَقْرَبِ 100






لِنَلْعَبْ مَعًا

عَدَدُ اللَّاعِبِينَ
2

أَلْوَنُ الْفَرَاشَاتِ




الْمَوَادُّ وَالْأَدَوَاتُ:

- صُنْدُوقٌ.
- بَطَاقَاتٌ عَلَيْهَا أَعْدَادٌ ضَمَنَ 3 مَنَازِلَ.
- أَقْلَامٌ تَلْوِينٍ.

قَوَاعِدُ اللَّعْبَةِ:

- اخْتَارُ لَوْنًا، وَيَخْتَارُ زَمِيلِي / زَمِيلَتِي اللَّوْنَ الْآخَرَ.
- اسْحَبْ 3 بَطَاقَاتٍ مِنَ الصُّنْدُوقِ، وَأُرْتَبُ الْأَعْدَادَ تَرْتِيبًا تَصَاعُديًّا.
- أَطْلُبْ إِلَى زَمِيلِي / زَمِيلَتِي التَّحَقُّقَ مِنْ صِحَّةِ إِجَابَتِي، فَإِذَا كَانَتْ صَحِيحَةً أَلْوَنُ فَرَاشَةً.
- أَتَبَادَلُ وَزَمِيلِي / زَمِيلَتِي الْأَدْوَارَ.
- يَفُوزُ مَنْ يُلَوِّنُ الْعَدَدَ الْأَكْبَرَ مِنَ الْفَرَاشَاتِ.



أَعُدُّ تَصاعُديًّا، بِحَسَبِ المَطْلُوبِ:

1 352, 353, _____ , _____ , _____ (بِالوَاحِداتِ)

2 658, 668, _____ , _____ , _____ (بِالعَشَراتِ)

3 418, 518, _____ , _____ , _____ (بِالمِئاتِ)

أَعُدُّ تَنازُليًّا، بِحَسَبِ المَطْلُوبِ:

4 654, 644, _____ , _____ , _____ (بِالعَشَراتِ)

5 876, 776, _____ , _____ , _____ (بِالمِئاتِ)

أَكْتُبِ العَدَدَ الواقِعَ بَيْنَ العَدَدَيْنِ:

6 872, _____ , 874

7 899, _____ , 901

8 أُحَوِّطُ العَدَدَ الفَرْدِيَّ:

132, 459, 807, 791, 640

9 أُحَوِّطُ العَدَدَ الزَّوْجِيَّ:

675, 238, 435, 874, 311

أَقَارِنْ بَيْنَ كُلِّ عَدَدَيْنِ، وَأَكْتُبْ < أَوْ > أَوْ = فِي لِتُصْبِحَ الْعِبَارَةُ صَحِيحَةً:

10

807

901

11

378

369

12 أَرْتَبُ الْأَعْدَادَ تَصَاعُديًّا:

848 , 834 , 843 _____ , _____ , _____

13 هَلِ الْعَدَدُ الَّذِي يَزِيدُ عَلَى 235 بِمِقْدَارِ 100، هُوَ نَفْسُهُ الَّذِي يَقِلُّ عَنْ 350 بِمِقْدَارِ 10؟ أَجِبْ إيجابيًا.

14 لَدَى مَنَى 212 مُلَصَقًا مُلَوَّنًا، وَلَدَى أُخْتِهَا 218 مُلَصَقًا، فَمَنْ مِنْهُمَا لَدَيْهَا مُلَصَقَاتٌ أَقَلُّ؟

تَدْرِيبٌ عَلَى الْأَخْتِبَارَاتِ الدَّوْلِيَّةِ



15 عِنْدَ الْعَدِّ تَصَاعُديًّا بِالْمِئَاتِ، فَإِنَّ الْعَدَدَ الَّذِي يَأْتِي بَعْدَ 428، هُوَ:

○ 228

○ 328

○ 528

○ 438

16 أَيُّ الْأَعْدَادِ الْآتِيَةِ عَدَدٌ فَرْدِيٌّ:

○ 356

○ 524

○ 961

○ 710

17 أَيُّ الْأَعْدَادِ الْآتِيَةِ يُمَكِّنُ وَضْعَهُ فِي :

386 < < 521

○ 623

○ 528

○ 410

○ 297

أَسْئَلَةٌ تَرَاكُمِيَّةٌ

اَكْتُبْ عَدَدَ الْوَاحِدَاتِ، وَعَدَدَ الْعَشَرَاتِ، وَعَدَدَ الْمِائَاتِ فِي كُلِّ فَرَاغٍ:

1 400 = $\frac{\text{واحدات}}{\text{مئات}} = \frac{\text{عشرات}}{\text{مئات}} = \frac{\text{مئات}}{\text{مئات}}$ 2 700 = $\frac{\text{واحدات}}{\text{مئات}} = \frac{\text{عشرات}}{\text{مئات}} = \frac{\text{مئات}}{\text{مئات}}$

اَكْتُبْ كُلَّ عَدَدٍ بِالْأَرْقَامِ أَوْ بِالْكَلِمَاتِ:

3 706: $\frac{\text{واحدات}}{\text{مئات}} = \frac{\text{عشرات}}{\text{مئات}} = \frac{\text{مئات}}{\text{مئات}}$ 4 ثلاثمائة وسبعة وثمانون: $\frac{\text{واحدات}}{\text{مئات}} = \frac{\text{عشرات}}{\text{مئات}} = \frac{\text{مئات}}{\text{مئات}}$

5 خمسمائة وثلاثة عشر: $\frac{\text{واحدات}}{\text{مئات}} = \frac{\text{عشرات}}{\text{مئات}} = \frac{\text{مئات}}{\text{مئات}}$ 6 492: $\frac{\text{واحدات}}{\text{مئات}} = \frac{\text{عشرات}}{\text{مئات}} = \frac{\text{مئات}}{\text{مئات}}$

اَكْتُبْ الْعَدَدَ بِالصُّورَةِ التَّحْلِيلِيَّةِ:

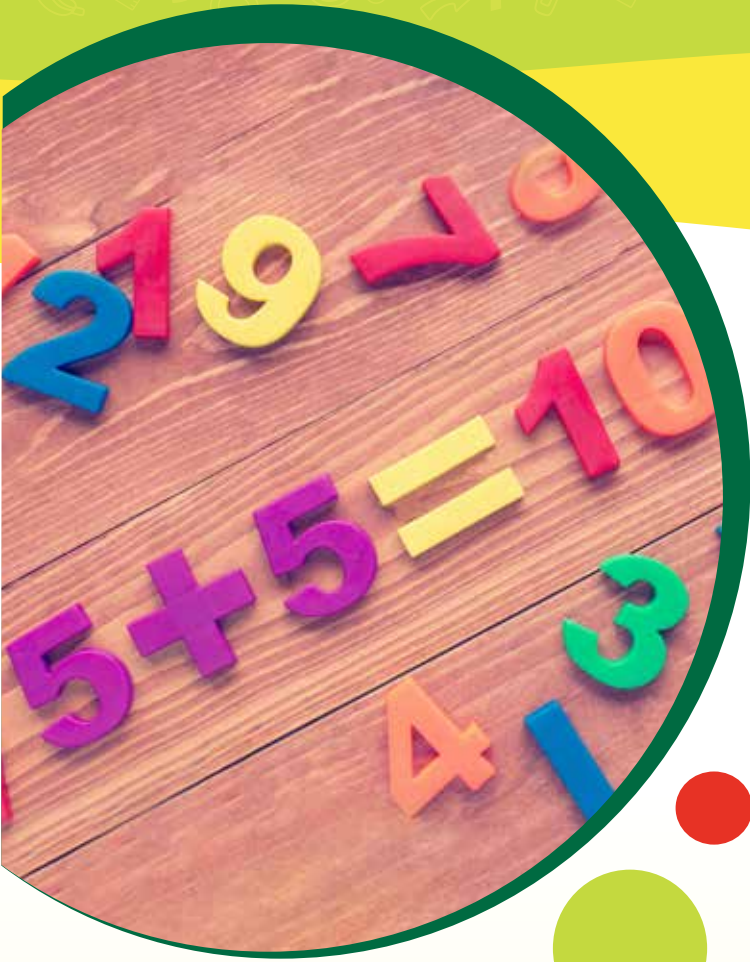
7 604 = $\frac{\text{واحدات}}{\text{مئات}} + \frac{\text{عشرات}}{\text{مئات}} + \frac{\text{مئات}}{\text{مئات}}$ 8 531 = $\frac{\text{واحدات}}{\text{مئات}} + \frac{\text{عشرات}}{\text{مئات}} + \frac{\text{مئات}}{\text{مئات}}$

9 187 = $\frac{\text{واحدات}}{\text{مئات}} + \frac{\text{عشرات}}{\text{مئات}} + \frac{\text{مئات}}{\text{مئات}}$ 10 777 = $\frac{\text{واحدات}}{\text{مئات}} + \frac{\text{عشرات}}{\text{مئات}} + \frac{\text{مئات}}{\text{مئات}}$



11 في الحديقة 251 زهرة. اَكْتُبْ عَدَدَ الْأَزْهَارِ بِالصُّورَةِ التَّحْلِيلِيَّةِ.

الْوَحْدَةُ 3 الْجَمْعُ



أُسْرَتِي الْكَرِيمَةُ

بَدَأْتُ الْيَوْمَ دِرَاسَةَ الْوَحْدَةِ الثَّالِثَةِ، وَسَأَتَعَلَّمُ فِيهَا جَمْعَ الْأَعْدَادِ ضَمْنَ 3 مَنَازِلَ. لِنَنْقُذَ مَعَ النَّشَاطِ الْأَيِّ؛ لِأَنَّهُ سَيُسَاعِدُنِي عَلَى مُرَاجَعَةِ الْمَفَاهِيمِ الرِّيَاضِيَّةِ الَّتِي دَرَسْتُهَا سَابِقًا، وَالَّتِي سَأَحْتَاجُ إِلَيْهَا فِي أَثْنَاءِ دِرَاسَةِ هَذِهِ الْوَحْدَةِ.

أُحِبُّكُمْ

نشاط منزلي: في هذا النشاط، يُراجعُ طفلي / طفَلتي مفاهيمَ الجمعِ الَّتِي دَرَسَهَا / دَرَسَتْهَا سَابِقًا بِاسْتِعْمَالِ قِطْعِ نَقْدِيَّةٍ مِنْ فِئَةِ الْقُرْشِ، وَفِئَةِ عَشْرَةِ الْقُرُوشِ.



- أَضْعُ أَمَامِي، وَأَمَامَ طِفْلي / طِفْلتِي عَدَدًا مِنَ الْقِطْعِ النَّقْدِيَّةِ مِنَ الْفِئَتَيْنِ (الْقُرْشِ وَعَشْرَةِ الْقُرُوشِ).
- يَعُدُّ كُلُّ مِنَّا قِطْعَهُ النَّقْدِيَّةَ، وَيَكْتُبُ مَجْمُوعَ قِيَمِهَا عَلَى وَرَقَةٍ.
- أَضْعُ نُقُودِي فَوْقَ نُقُودِ طِفْلي / طِفْلتِي، ثُمَّ نَعُدُّهَا مَعًا وَنَكْتُبُ حَاصِلَ جَمْعِهِمَا عَلَى الْوَرَقَةِ، كَمَا فِي الشَّكْلِ الْمُجَاوِرِ.
- أَكْرِّرُ النَّشَاطَ مَعَ عَدَدٍ آخَرَ مُخْتَلِفٍ مِنَ الْقِطْعِ النَّقْدِيَّةِ فِي الْفِئَتَيْنِ.

2	4
+	4
3	
6	
7	

مَشْرُوعُ الْوَحْدَةِ:

فَوَاتِيرُ الْكَهْرَبَاءِ الْمَنْزِلِيَّةِ

الْمَوَادُّ وَالْأَدَوَاتُ

- فَوَاتِيرُ كَهْرَبَاءِ
- لَوْحَةُ كَرْتُونِيَّةٌ
- صَمْعٌ
- مِقْصٌ
- أَفْلَامُ لَوْحٍ



أَسْتَعِدُّ وَمَجْمُوعَتِي لِتَنْفِيزِ هَذَا الْمَشْرُوعِ
الَّذِي سَنَسْتَعْمِلُ فِيهِ مَا نَتَعَلَّمُهُ فِي هَذِهِ الْوَحْدَةِ؛
لِنَسْتَقْصِيَ قِيَمَ فَوَاتِيرِ الْكَهْرَبَاءِ.

أَلِصِقْ مَعَ أَفْرَادِ مَجْمُوعَتِي كُلَّ فَاتُورَتَيْنِ بِجَانِبِ
بَعْضِهِمَا عَلَى لَوْحَةٍ كَرْتُونِيَّةٍ، وَأَتْرُكُ مَسَافَةً
كَافِيَةً تَحْتَهُمَا.

3

خُطَوَاتُ تَنْفِيزِ الْمَشْرُوعِ:

1 يُحْضِرُ كُلُّ مَنْ فِي الْمَجْمُوعَةِ فَاتُورَةَ كَهْرَبَاءِ
لَا تَتَجَاوَزُ كَمِّيَّةَ الْأَسْتِهْلَاكِ فِيهَا عَدَدًا مِنْ
3 مَنَازِلَ.



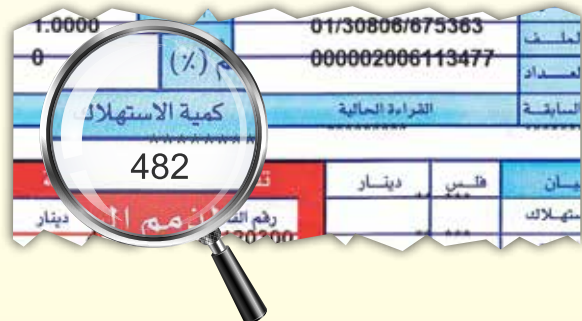
2 أَرْسُمُ دَائِرَةً حَوْلَ كَمِّيَّةِ الْأَسْتِهْلَاكِ فِي
فَاتُورَتِي. قَدْ أَطْلُبُ الْمُسَاعَدَةَ مِنْ أَحَدِ أَفْرَادِ
أُسْرَتِي، أَوْ مِنْ مُعَلِّمِي / مُعَلِّمَتِي؛ لِتَحْدِيدِ كَمِّيَّةِ
الْأَسْتِهْلَاكِ.

4 أَكْتُبُ بِخَطِّ كَبِيرٍ وَوَاضِحٍ تَحْتَ كُلِّ فَاتُورَتَيْنِ
مُتَجَاوِرَتَيْنِ مَا يَأْتِي:

- تَقْدِيرُ نَاتِجِ جَمْعِ كَمِّيَّةِ الْأَسْتِهْلَاكِ لِهُمَا مَعًا.
- مَجْمُوعُ كَمِّيَّةِ الْأَسْتِهْلَاكِ لِهُمَا مَعًا.
- مُقْتَرَحَانِ لِتَرْشِيدِ اسْتِهْلَاكِ الْكَهْرَبَاءِ.

5 أَعْرِضُ اللَّوْحَةَ الْكَرْتُونِيَّةَ عَلَى جِدَارِ الصَّفِّ.

5



أَتَعَلَّمُ الْيَوْمَ

جَمْعُ عَدَدٍ مِنْ مُضَاعَفَاتِ
10 , 100 إِلَى عَدَدٍ ضَمَنَ
3 مَنَازِلَ ذَهْنِيًّا.

أَسْتَكْشِفُ

ما مَجْمُوعُ الْعَدَدَيْنِ مَعَ مَهَا؟



أَتَعَلَّمُ

مُضَاعَفَاتُ الْعَشْرَةِ:

10, 20, 30, 40, ...

مُضَاعَفَاتُ الْمِئَةِ:

100, 200, 300, 400, ...

• عِنْدَمَا أَجْمَعُ أَحَدَ مُضَاعَفَاتِ الْعَدَدِ 10 إِلَى عَدَدٍ آخَرَ، فَإِنِّي أَجْمَعُ الْعَشْرَاتِ فَقَطْ.

$$\begin{array}{r} 513 + 50 = 563 \\ \downarrow \quad \downarrow \quad \uparrow \\ 10 + 50 = 60 \end{array}$$

أَعُدُّ تَصَاعُدِيًّا بِالْعَشْرَاتِ

513, 523, 533, 543, 553, 563.

• عِنْدَمَا أَجْمَعُ أَحَدَ مُضَاعَفَاتِ الْعَدَدِ 100 إِلَى عَدَدٍ آخَرَ، فَإِنِّي أَجْمَعُ الْمِائَاتِ فَقَطْ.

$$\begin{array}{r} 328 + 400 = 728 \\ \downarrow \quad \downarrow \quad \uparrow \\ 300 + 400 = 700 \end{array}$$

أَعُدُّ تَصَاعُدِيًّا بِالْمِائَاتِ

328, 428, 528, 628, 728.



أَتَحَدَّثُ: كَيْفَ أَجْمَعُ عَدَدًا مِنْ 3 مَنَازِلَ إِلَى عَدَدٍ مِنْ مُضَاعَفَاتِ الْعَشْرَةِ، أَوِ الْمِئَةِ؟



أَتَحَقَّقُ مِنْ فَهْمِي



أَجِدُ نَاتِجَ الْجَمْعِ ذَهْنِيًّا:

1 $236 + 50 = \underline{\hspace{2cm}}$

2 $510 + 200 = \underline{\hspace{2cm}}$

3 $378 + 400 = \underline{\hspace{2cm}}$

4 $632 + 60 = \underline{\hspace{2cm}}$

5 $482 + 300 = \underline{\hspace{2cm}}$

6 $266 + 30 = \underline{\hspace{2cm}}$

7 $110 + 80 = \underline{\hspace{2cm}}$

8 $257 + 600 = \underline{\hspace{2cm}}$

أَجِدُ الْعَدَدَ الْمَفْقُودَ:

9 $283 + \underline{\hspace{2cm}} = 783$

10 $\underline{\hspace{2cm}} + 233 = 283$

11 $614 + \underline{\hspace{2cm}} = 674$

12 $\underline{\hspace{2cm}} + 465 = 765$

أَحُلِّ الْمَسْأَلَةَ



13 باعَ مَكْتَبُ سِيَا حِيَّ 264 تَذْكِرَةً يَوْمَ السَّبْتِ، وَ 300 تَذْكِرَةً يَوْمَ الْأَحَدِ. فَكَمْ تَذْكِرَةً بَاعَ فِي الْيَوْمَيْنِ؟

نشاط منزلي: أطلبُ إلى طفلي/ طفلاتي كتابةَ عددٍ من 3 منازل، وعددٍ آخر من مضعفات 100، ثمَّ أطلبُ إليه/ إليها جمعها.



أَسْتَكْشِفُ



لَدَى مُنِيرٍ 114 قِصَّةً قَصِيرَةً، اشْتَرَى
19 قِصَّةً أُخْرَى، فَكَمْ قِصَّةً صَارَ
لَدَى مُنِيرٍ؟



أَتَعَلَّمُ الْيَوْمَ

جَمْعَ عَدَدٍ يَتَكَوَّنُ مِنْ مَنَزِلَتَيْنِ
إِلَى عَدَدٍ يَتَكَوَّنُ مِنْ 3 مَنَازِلَ
ذَهْنِيًّا.

أَتَعَلَّمُ



أَتَذَكَّرُ:

عِنْدَمَا أَجْمَعُ ذَهْنِيًّا، فَإِنِّي
لَا أَحْتَاجُ إِلَى قَلَمٍ وَوَرَقَةٍ.



كَيْ أَجِدَ نَاتِجَ جَمْعِ الْعَدَدَيْنِ 38 وَ 457 ذَهْنِيًّا، أَجْمَعُ 2 لِلْعَدَدِ 38
فَأَحْصِلُ عَلَى الْعَدَدِ 40 وَهُوَ مِنْ مُضَاعَفَاتِ الْعَشْرَةِ، وَأَطْرَحُ 2
مِنَ الْعَدَدِ 457، ثُمَّ أَجْمَعُ ذَهْنِيًّا.

$$\begin{array}{r} 457 + 38 = \\ \downarrow -2 \quad \downarrow +2 \\ 455 + 40 = 495 \end{array}$$

أَتَحَدَّثُ: كَيْفَ أَجِدُ ذَهْنِيًّا نَاتِجَ جَمْعِ عَدَدٍ مِنْ 3 مَنَازِلَ إِلَى عَدَدٍ مِنْ
مَنَزِلَتَيْنِ ذَهْنِيًّا؟





أَجِدُ نَاتِجَ الْجَمْعِ ذَهْنِيًّا:

1 $709 + 36 = \underline{\hspace{2cm}}$

2 $213 + 78 = \underline{\hspace{2cm}}$

3 $343 + 52 = \underline{\hspace{2cm}}$

4 $152 + 39 = \underline{\hspace{2cm}}$

5 $805 + 87 = \underline{\hspace{2cm}}$

6 $608 + 66 = \underline{\hspace{2cm}}$

7 $628 + 67 = \underline{\hspace{2cm}}$

8 $407 + 76 = \underline{\hspace{2cm}}$

9 $514 + 82 = \underline{\hspace{2cm}}$

10 $838 + 55 = \underline{\hspace{2cm}}$

أَحْلُ الْمَسْأَلَةَ



11

مَعَ لَارَا 148 نَجْمَةً مُلَوَّنَةً، وَمَعَ أُخْتِهَا 47 نَجْمَةً. فَكَمْ نَجْمَةً مَعَ الْأُخْتَيْنِ؟



نَشَاطٌ مَنْزِلِيٌّ: أَكْتُبْ عَلَى وَرَقَةٍ عَدَدًا مِنْ 3 مَنَازِلَ، وَعَدَدًا مِنْ مَنْزِلَتَيْنِ، ثُمَّ أَطْلُبُ إِلَى طِفْلِي / طِفْلَتِي إِيجَادَ مَجْمُوعِهِمَا ذَهْنِيًّا. وَأُكْرِّرُ ذَلِكَ أَكْثَرَ مِنْ مَرَّةٍ مَعَ أَعْدَادٍ أُخْرَى.



أَسْتَكْشِفُ



كَيْفَ أَجِدُ عَدَدَ طَلَبَةِ الصَّفِّ فِي الْمَدْرَسَةِ؟



74 طَالِبَةً

115 طَالِبًا

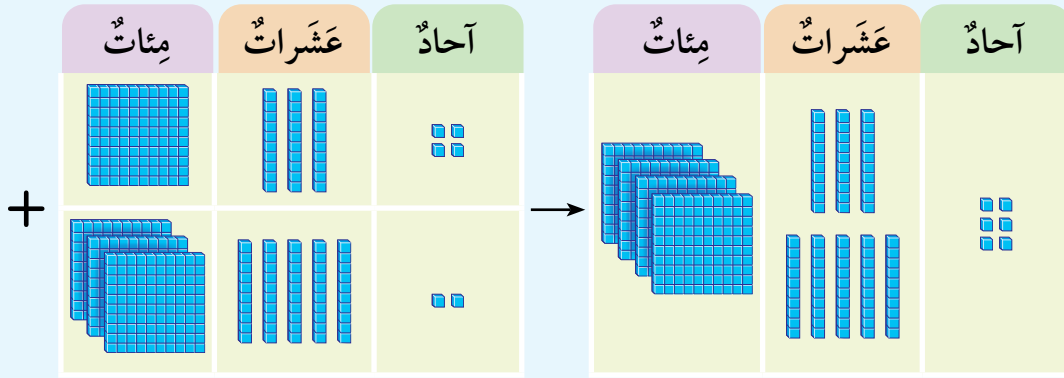
أَتَعَلَّمُ الْيَوْمَ

جَمْعَ عَدَدَيْنِ يَتَكَوَّنُ كُلُّ
مِنْهُمَا مِنْ 3 مَنَازِلَ عَلَى
الْأَكْثَرِ.

أَتَعَلَّمُ



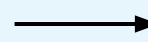
لِجَمْعِ الْعَدَدَيْنِ 352, 134، أَجْمَعُ الْآحَادَ فَالْعَشَرَاتِ فَالْمِائَاتِ.



أَجْمَعُ الْآحَادَ



أَجْمَعُ الْعَشَرَاتِ



أَجْمَعُ الْمِائَاتِ

مِائَات	عَشَرَات	آحَاد
1	3	4
3	5	2
		6

مِائَات	عَشَرَات	آحَاد
1	3	4
3	5	2
	8	6

مِائَات	عَشَرَات	آحَاد
1	3	4
3	5	2
4	8	6

أَتَحَدَّثُ: كَيْفَ أَجِدُ نَاتِجَ جَمْعِ عَدَدَيْنِ يَتَكَوَّنُ كُلُّ مِنْهُمَا مِنْ 3 مَنَازِلَ؟



أَتَحَقَّقُ مِنْ فَهْمِي



أَجِدُ نَاتِجَ الْجَمْعِ:

1

	آحَادٌ	عَشْرَاتٌ	مِائَاتٌ
	6	8	1
+	2	0	3

2

	آحَادٌ	عَشْرَاتٌ	مِائَاتٌ
	3	5	4
+	2	3	1

3

$$126 + 752 = \underline{\hspace{2cm}}$$

4

$$408 + 160 = \underline{\hspace{2cm}}$$

5

$$143 + 256 = \underline{\hspace{2cm}}$$

6

$$708 + 211 = \underline{\hspace{2cm}}$$

7

$$428 + 71 = \underline{\hspace{2cm}}$$


8

$$251 + 736 = \underline{\hspace{2cm}}$$

أَحُلِّ الْمَسْأَلَةَ



9



إِخْتِاجَتْ خُلُودٌ إِلَى 213 مَكْعَبًا أَزْرَقَ، وَ142 مَكْعَبًا أَخْضَرَ
لِعَمَلِ مُجَسِّمٍ. فَكَمْ مَكْعَبًا إِخْتِاجَتْ خُلُودٌ لِعَمَلِ الْمُجَسِّمِ؟

نَشَاطٌ مَنْزِلِيٌّ: أَطْلُبُ إِلَى طِفْلِي / طِفْلَتِي كِتَابَةَ عَدَدَيْنِ يَتَكَوَّنُ كُلُّ مَنِهْمَا مِنْ 3 مَنَازِلَ، ثُمَّ أَطْلُبُ إِلَيْهِ / إِلَيْهَا جَمْعَهُمَا.



الْجَمْعُ مَعَ إِعَادَةِ التَّجْمِيعِ (1)

4

الدَّرْسُ



أَتَعَلَّمُ الْيَوْمَ

جَمْعُ عَدَدَيْنِ مَعَ إِعَادَةِ
تَجْمِيعِ الْآحَادِ.

الْمُصْطَلَحَاتُ

• إِعَادَةُ التَّجْمِيعِ

ما مَجْمُوعُ عَدَدِ الصَّفَحَاتِ فِي الْكِتَابَيْنِ؟

أَسْتَكْشِفُ



فِي كِتَابِي 79 صَفْحَةً

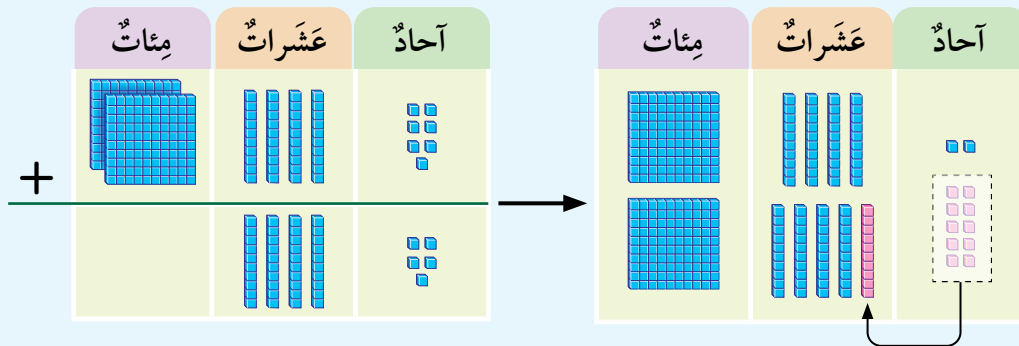
فِي كِتَابِي 119 صَفْحَةً



أَتَعَلَّمُ



لِجَمْعِ الْعَدَدَيْنِ 45 و 247 أُعِيدُ تَجْمِيعُ (regroup) الْآحَادِ؛ وَذَلِكَ بِتَجْمِيعِ كُلِّ 10 فِي مَنْزِلَةِ الْآحَادِ، لِتُصْبِحَ 1 عَشْرَةً تُضَافُ إِلَى مَنْزِلَةِ الْعَشْرَاتِ.



أَجْمَعُ الْمِائَاتِ → أَجْمَعُ الْعَشْرَاتِ → أُعِيدُ تَجْمِيعَ الْآحَادِ

مِائَاتٍ	عَشْرَاتٍ	آحَادٍ	مِائَاتٍ	عَشْرَاتٍ	آحَادٍ	مِائَاتٍ	عَشْرَاتٍ	آحَادٍ
	①			①			①	
2	4	7	2	4	7	2	4	7
+	4	5	+	4	5	+	4	5
		2		9	2	2	9	2

أَتَحَدَّثُ: مَتَى أُعِيدُ تَجْمِيعَ الْآحَادِ عِنْدَ جَمْعِ عَدَدَيْنِ؟



أَتَحَقَّقُ مِنْ فَهْمِي



أَجِدُ نَاتِجَ الْجَمْعِ:

1

	آحَادٌ	عَشْرَاتٌ	مِائَاتٌ
	8	1	4
+	5	6	

2

	آحَادٌ	عَشْرَاتٌ	مِائَاتٌ
	7	2	3
+	8	5	1

3

$$816 + 74 = \underline{\hspace{2cm}}$$

4

$$408 + 256 = \underline{\hspace{2cm}}$$

5

$$543 + 129 = \underline{\hspace{2cm}}$$

6

$$734 + 38 = \underline{\hspace{2cm}}$$

7

$$775 + 116 = \underline{\hspace{2cm}}$$

8

$$924 + 57 = \underline{\hspace{2cm}}$$

أَحْلُ الْمَسْأَلَةَ



9

سَجَّلَ فَرِيقُ كُرَةِ سَلَّةٍ فِي الْمُبَارَاةِ الْأُولَى 108 نِقَاطٍ، وَفِي الْمُبَارَاةِ
الثَّانِيَةِ 86 نُقْطَةً. فَكَمْ نُقْطَةً سَجَّلَ الْفَرِيقُ فِي الْمُبَارَاتَيْنِ مَعًا؟



نشاط منزلي: أطلبُ إلى طفلي / طفلاتي توضيح كيفية إيجاد ناتج جمع العددين 76, 614



الْجَمْعُ مَعَ إِعَادَةِ التَّجْمِيعِ (2)

5

الدَّرْسُ

أَسْتَكْشِفُ



أَتَعَلَّمُ الْيَوْمَ

جَمْعُ عَدَدَيْنِ مَعَ إِعَادَةِ تَجْمِيعِ الْعَشَرَاتِ.

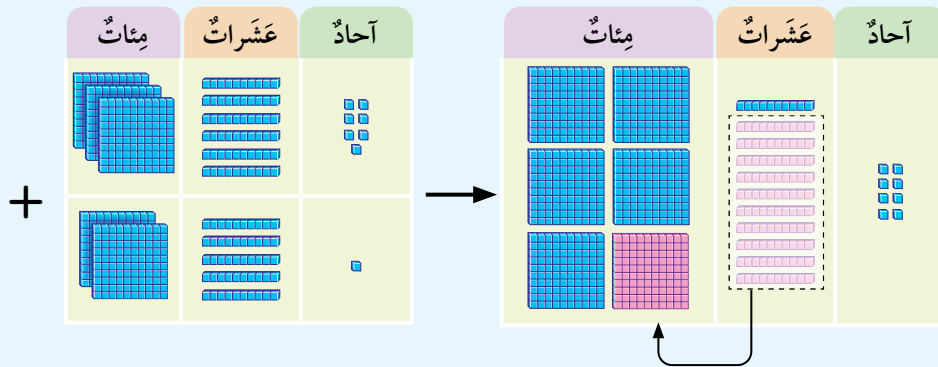
لَدَى هَبَّةَ 186 خَرَزَةً، وَأَشْتَرَتْ 172 خَرَزَةً أُخْرَى. فَكَمْ خَرَزَةً صَارَ لَدَيْهَا؟



أَتَعَلَّمُ



لِجَمْعِ الْعَدَدَيْنِ 251, 367 أَعِيدُ تَجْمِيعُ الْعَشَرَاتِ، وَذَلِكَ بِتَجْمِيعِ كُلِّ 10 فِي مَنْزِلَةِ الْعَشَرَاتِ؛ لِتُصْبِحَ 1 مِئَةً تُضَافُ إِلَى مَنْزِلَةِ الْمِائَاتِ.



أَجْمَعُ الْآحَادَ

أَجْمَعُ الْعَشَرَاتِ

أَجْمَعُ الْمِائَاتِ

	مِائَاتٍ	عَشَرَاتٍ	آحَادٍ		مِائَاتٍ	عَشَرَاتٍ	آحَادٍ		مِائَاتٍ	عَشَرَاتٍ	آحَادٍ
				→				→			
					①				①		
	3	6	7		3	6	7		3	6	7
+	2	5	1	+	2	5	1	+	2	5	1
			8			1	8		6	1	8

أَتَحَدَّثُ: أَشْرَحُ مَتَى أَحْتَاجُ إِلَى إِعَادَةِ تَجْمِيعِ الْعَشَرَاتِ عِنْدَ جَمْعِ عَدَدَيْنِ.



أَتَحَقَّقُ مِنْ فَهْمِي



أَجِدُ نَاتِجَ الْجَمْعِ:

1

	آحَادٌ	عَشْرَاتٌ	مِائَاتٌ
	4	9	6
+	5	9	1

2

	آحَادٌ	عَشْرَاتٌ	مِائَاتٌ
	7	4	2
+	6	8	3

3

$$370 + 152 = \underline{\hspace{2cm}}$$

4

$$508 + 392 = \underline{\hspace{2cm}}$$

5

$$236 + 577 = \underline{\hspace{2cm}}$$

6

$$732 + 198 = \underline{\hspace{2cm}}$$

7

$$157 + 484 = \underline{\hspace{2cm}}$$

8

$$642 + 291 = \underline{\hspace{2cm}}$$

أَحْلُ الْمَسْأَلَةَ



9 باعَ مَصْنَعُ عَصِيرٍ 278 عُبُوءَ يَوْمِ الْخَمِيسِ، وَبَاعَ 235 عُبُوءَ يَوْمِ الْأَحَدِ، فَكَمْ عُبُوءَ بَاعَ فِي الْيَوْمَيْنِ؟

نَشَاطٌ مَنْزِلِيٌّ: أَطْلُبُ إِلَى طِفْلِي / طِفْلَتِي تَوْضِيحَ كَيْفِيَّةِ إِجَادِ نَاتِجِ جَمْعِ الْعَدَدَيْنِ

654 , 272





أَتَعَلَّمُ الْيَوْمَ

جَمْعُ عَدَدَيْنِ، أَوْ ثَلَاثَةِ
أَعْدَادٍ بِأَيِّ تَرْتِيبٍ.

أَسْتَكْشِفُ



بَاعَ مَقْصِفُ الْمَدْرَسَةِ 317 فَطِيرَةً فِي الْأُسْبُوعِ الْأَوَّلِ، وَ 212
فَطِيرَةً فِي الْأُسْبُوعِ الثَّانِي. فَكَمْ فَطِيرَةً بَاعَ فِي الْأُسْبُوعَيْنِ؟



أَتَعَلَّمُ



أَجْمَعُ عَدَدَيْنِ: عِنْدَمَا أَجْمَعُ عَدَدَيْنِ، فَإِنِّي أَجْمَعُ بِأَيِّ تَرْتِيبٍ، وَسَأَحْصُلُ عَلَى النَّاتِجِ نَفْسِهِ، أَيْ إِنَّ النَّاتِجَ لَا يَتَغَيَّرُ.

	آحَادٌ	عَشْرَاتٌ	مِائَاتٌ
	3	2	4
+	4	5	1
	7	7	5

	آحَادٌ	عَشْرَاتٌ	مِائَاتٌ
	4	5	1
+	3	2	4
	7	7	5

$$423 + 154 = 154 + 423$$

الْأَحْظُ أَنَّ

أَجْمَعُ 3 أَعْدَادٍ: عِنْدَمَا أَجْمَعُ 3 أَعْدَادٍ، فَإِنِّي أَجْمَعُ بِأَيِّ تَرْتِيبٍ، وَسَأَحْصُلُ عَلَى النَّاتِجِ نَفْسِهِ، أَيْ إِنَّ النَّاتِجَ لَا يَتَغَيَّرُ.

$$(304 + 153) + 431 =$$

$$\downarrow$$

$$457 + 431 = 888$$

$$304 + (153 + 431) =$$

$$\downarrow$$

$$304 + 584 = 888$$

أَتَحَدَّثُ: كَيْفَ لَا يَتَغَيَّرُ نَاتِجُ جَمْعِ عَدَدَيْنِ بِتَغْيِيرِ تَرْتِيبِهِمَا؟





أَجِدُ نَاتِجَ الْجَمْعِ:

1 $211 + 345 =$ _____
 $345 + 211 =$ _____

2 $510 + 357 =$ _____
 $357 + 510 =$ _____

3 $(412 + 174) + 203 =$ _____
 $412 + (174 + 203) =$ _____

4 $140 + (344 + 215) =$ _____
 $(140 + 344) + 215 =$ _____

5 $(318 + 164) + 216 =$ _____
 $318 + (164 + 216) =$ _____

6 $309 + (454 + 175) =$ _____
 $(309 + 454) + 175 =$ _____



أَحُلِّ الْمَسْأَلَةَ



7 في إحدى المَدَارِسِ 154 طَالِبًا يُفَضِّلُونَ الْإِنشِطَةَ الرِّيَاضِيَّةَ، وَ177 يُفَضِّلُونَ الْإِنشِطَةَ الْعِلْمِيَّةَ، وَ142 يُفَضِّلُونَ الْإِنشِطَةَ الثَّقَافِيَّةَ. فَمَا عَدَدُ الطُّلَبَةِ الَّذِينَ يُفَضِّلُونَ الْإِنشِطَةَ الثَّلَاثَةَ؟

نشاط منزلي: أطلبُ إلى طفلي / طفلي كتابة 3 أعدادٍ يتكوَّنُ كُلُّ مِنْهَا مِنْ 3 منازلٍ، ثُمَّ أطلبُ إليه / إليها جَمْعَهَا بِترتيبيْنِ مُخْتَلِفَيْنِ.



أَتَعَلَّمُ الْيَوْمَ

تَقْدِيرُ نَاتِجِ جَمْعِ عَدَدَيْنِ بِالتَّقْرِيبِ
إِلَى أَقْرَبِ 10 أَوْ 100

الْمُصْطَلَحَاتُ

• التَّقْدِيرُ

أَسْتُكْشِفُ

أَقْدِّرُ مَجْمُوعَ عَدَدِ الْأَزْهَارِ؟



أَتَعَلَّمُ

يُمْكِنُنِي تَقْدِيرُ (estimate) نَاتِجِ جَمْعِ عَدَدَيْنِ بِطَرِيقَتَيْنِ:

الطَّرِيقَةُ 1: أَقْرَبُ كُلًّا مِنَ الْعَدَدَيْنِ إِلَى أَقْرَبِ 10 أَوَّلًا، ثُمَّ أَجْمَعُ.

أَجِدُ نَاتِجَ الْجَمْعِ → أَقْرَبُ الْعَدَدَيْنِ إِلَى أَقْرَبِ 10 →

آحَادٌ	عَشْرَاتٌ	مِائَاتٌ
4	5	3
7	3	2
		+

آحَادٌ	عَشْرَاتٌ	مِائَاتٌ
0	5	3
0	4	2
		+

آحَادٌ	عَشْرَاتٌ	مِائَاتٌ
0	5	3
0	4	2
0	9	5
		+

الطَّرِيقَةُ 2: أَقْرَبُ كُلًّا مِنَ الْعَدَدَيْنِ إِلَى أَقْرَبِ 100 أَوَّلًا، ثُمَّ أَجْمَعُ.

أَجِدُ نَاتِجَ الْجَمْعِ → أَقْرَبُ الْعَدَدَيْنِ إِلَى أَقْرَبِ 100 →

آحَادٌ	عَشْرَاتٌ	مِائَاتٌ
4	5	3
7	3	2
		+

آحَادٌ	عَشْرَاتٌ	مِائَاتٌ
0	0	4
0	0	2
		+

آحَادٌ	عَشْرَاتٌ	مِائَاتٌ
0	0	4
0	0	2
0	0	6
		+



أَتَحَدَّثُ: كَيْفَ أَقْدِّرُ نَاتِجَ جَمْعِ عَدَدَيْنِ بِالتَّقْرِيبِ إِلَى أَقْرَبِ 10؟

أَتَحَقَّقُ مِنْ فَهْمِي



أَقْدِّرُ نَاتِجَ الْجَمْعِ بِالتَّقْرِيبِ إِلَى أَقْرَبِ 10:

1

آحَادٌ	عَشْرَاتٌ	مِائَاتٌ		آحَادٌ	عَشْرَاتٌ	مِائَاتٌ
8	1	4				
7	2	3	→			

2

$$649 + 251 \rightarrow \underline{\hspace{2cm}} + \underline{\hspace{2cm}} = \underline{\hspace{2cm}}$$

أَقْدِّرُ نَاتِجَ الْجَمْعِ بِالتَّقْرِيبِ إِلَى أَقْرَبِ 100:

3

آحَادٌ	عَشْرَاتٌ	مِائَاتٌ		آحَادٌ	عَشْرَاتٌ	مِائَاتٌ
8	3	4				
2	7	2	→			

4

$$499 + 319 \rightarrow \underline{\hspace{2cm}} + \underline{\hspace{2cm}} = \underline{\hspace{2cm}}$$

أَحْلُ الْمَسْأَلَةَ



5

الْحِسُّ الْعَدَدِيُّ: هَلْ تَقْدِيرُ نَاتِجِ جَمْعِ الْعَدَدَيْنِ 261, 417 هُوَ نَفْسُهُ تَقْدِيرُ نَاتِجِ جَمْعِ الْعَدَدَيْنِ 217, 461 بِالتَّقْرِيبِ إِلَى أَقْرَبِ 10؟ أَفَسِّرُ إِجَابَتِي.

نَشَاطٌ مَنْزِلِيٌّ: أَطْلُبُ إِلَى طِفْلِي / طِفْلَتِي كِتَابَةَ عَدَدَيْنِ يَتَكَوَّنُ كُلُّ مِنْهُمَا مِنْ 3 مَنَازِلَ، ثُمَّ أَطْلُبُ إِلَيْهِ / إِلَيْهَا تَقْدِيرَ نَاتِجِ جَمْعِهِمَا بِالتَّقْرِيبِ إِلَى أَقْرَبِ 10 وَإِلَى أَقْرَبِ 100



أَتَعَلَّمُ الْيَوْمَ

حَلَّ مَسَائِلَ حَيَاتِيَّةٍ
بِاسْتِعْمَالِ خُطَّةِ
التَّخْمِينِ وَالتَّحَقُّقِ.



زَارَ 550 سَائِحًا مَوْقِعَ أَصْحَابِ
الْكَهْفِ عَلَى مَدَارِ شَهْرَيْنِ. فَإِذَا
زَادَ عَدَدُ زَائِرِي الْمَوْقِعِ فِي الشَّهْرِ
الثَّانِي بِمِقْدَارِ 150 عَنْ عَدَدِهِمْ
فِي الشَّهْرِ الْأَوَّلِ، فَكَمْ سَائِحًا زَارَ
الْمَوْقِعَ فِي كُلِّ شَهْرٍ؟

لِحَلِّ الْمَسْأَلَةِ اتَّبِعْ الْخُطُواتِ الْأَرْبَعَةَ الْآتِيَةَ:

2 أخطِّطُ

أَسْتَعْمِلُ التَّخْمِينَ لِحَلِّ الْمَسْأَلَةِ، وَأَتَحَقَّقُ
مِنْ صِحَّةِ الْحَلِّ.

1 أفهمُ

- ما مُعْطَيَاتُ الْمَسْأَلَةِ؟ أَضَعُ خَطًّا تَحْتَهَا.
- ما الْمَطْلُوبُ فِي الْمَسْأَلَةِ؟ أُحَوِّطُهُ.

3 أحلُّ

أَتَحَقَّقُ	مَجْمُوعُ الزَّائِرِينَ فِي الشَّهْرَيْنِ مَعًا	عَدَدُ الزَّائِرِينَ فِي الشَّهْرِ الثَّانِي	عَدَدُ الزَّائِرِينَ فِي الشَّهْرِ الْأَوَّلِ	
أَقَلُّ مِنَ الْمَطْلُوبِ	$100 + 250 = 350$ ✗	250	100	التَّخْمِينُ الْأَوَّلُ
مُسَاوٍ لِلْمَطْلُوبِ	$200 + 350 = 550$ ✓	350	200	التَّخْمِينُ الثَّانِي

إِذْنًا، زَارَ الْمَسْجِدَ فِي الشَّهْرِ الْأَوَّلِ 220 زَائِرًا، وَزَارَهُ فِي الشَّهْرِ الثَّانِي 350 زَائِرًا.

4 أتحقِّقُ

هَلْ إِجَابَتِي مَعْقُولَةٌ؟ أُبَرِّرُ.

أحلّ المسائل الآتية، ثمّ اتّحقّق من صحّة إجابتني:



1 في مزرعة حسام 430 شجرة برتقال وليّمون. إذا زاد عدد أشجار البرتقال بمقدار 30 عن عدد أشجار الليمون، فكّم شجرة من كلّ نوع في مزرعة حسام؟



2 تحوي مكتبة مدرّسة 260 كتاباً استعار الطلبة بعضها. إذا قلّ عدد الكتب التي استعارها الطلبة بمقدار 20 عن عدد الكتب المتبقية، فكّم كتاباً بقي في المكتبة؟



3 زار حديقة الحيوان في أحد الأيام 230 زائراً. فإذا قلّ عدد الإناث اللواتي زرن الحديقة بمقدار 30 عن عدد الذكور، فما عدد الإناث زائرات الحديقة في ذلك اليوم؟

4 وزعت جمعية خيرية 600 صندوق معونات على المحتاجين. فإذا كان عدد الصناديق التي وزعتها الجمعية في اليوم الثاني ضعف عدد الصناديق الموزعة في اليوم الأول، فكّم صندوقاً وزعت الجمعية في كلّ يوم؟



لِنَلْعَبْ مَعًا

عَدَدُ اللَّاعِبِينَ

2

أَكْبَرُ نَاتِجِ جَمْعٍ

الْمَوَادُّ وَالْأَدَوَاتُ:

- بِطَاقَاتٌ مَكْتُوبٌ عَلَيْهَا الْأَرْقَامُ مِنْ 0 إِلَى 4
- وَرَقَتَانِ
- أَقْلَامُ رِصَاصٍ



قَوَاعِدُ اللَّعْبَةِ:

- يُعَدُّ كُلُّ لَاعِبٍ / لَاعِبَةٍ وَرَقَةً لَعِبٍ كَمَا فِي الشَّكْلِ الْمُجَاوِرِ.
- تَوْضَعُ الْبُطَاقَاتُ مَقْلُوبَةً أَمَامَنَا.
- اخْتَارُ بِلَاقَةً، ثُمَّ اكْتُبُ الرِّقْمَ الَّذِي عَلَيْهَا فِي إِحْدَى الْمَنَازِلِ، وَلَا يَجُوزُ تَغْيِيرُ مَكَانِ الرِّقْمِ.
- وَبَعْدَ ذَلِكَ أُعِيدُ الْبِلَاقَةُ ثُمَّ أُخْلِطُ الْبِلَاقَاتِ.
- أَطْلُبُ إِلَى زَمِيلِي / زَمِيلَتِي تَنْفِيذَ مَا نَفَّذْتُهُ.
- تَتَبَادَلُ الْأَدْوَارَ حَتَّى يُكْمَلَ كُلُّ مِّنَا جَمِيعَ الْمَنَازِلِ السَّتِّ فِي لَوْحَةِ اللَّعِبِ الْخَاصَّةِ بِهِ.
- يَجِدُ كُلُّ مِّنَا نَاتِجَ الْجَمْعِ.
- يَفُوزُ مَنْ يَحْصُلُ عَلَى النَّاتِجِ الْأَكْبَرِ.
- نُكَرِّرُ اللَّعْبَةَ أَكْثَرَ مِنْ مَرَّةٍ.

أَجِدْ نايِجَ الجَمْعِ:

1 $716 + 62 = \underline{\hspace{2cm}}$

2 $438 + 351 = \underline{\hspace{2cm}}$

3 $416 + 78 = \underline{\hspace{2cm}}$

4 $138 + 568 = \underline{\hspace{2cm}}$

أَجِدْ نايِجَ الجَمْعِ ذَهْنِيًّا:

5 $238 + 49 = \underline{\hspace{2cm}}$

6 $547 + 40 = \underline{\hspace{2cm}}$

7 $361 + 400 = \underline{\hspace{2cm}}$

8 $603 + 67 = \underline{\hspace{2cm}}$

أَجِدْ الأَرْقامَ المَفْقُودَةَ:

$$\begin{array}{r}
 6 \quad \square \quad 3 \\
 + \quad \square \quad 7 \quad \square \\
 \hline
 8 \quad 1 \quad 6
 \end{array}$$

$$\begin{array}{r}
 4 \quad 5 \quad \square \\
 + \quad 1 \quad \square \quad 5 \\
 \hline
 \square \quad 1 \quad 8
 \end{array}$$

11 أُقَدِّرْ نايِجَ الجَمْعِ بِالتَّقْرِيْبِ إِلى أَقْرَبِ 10:

$407 + 265 \rightarrow \underline{\hspace{2cm}} + \underline{\hspace{2cm}} = \underline{\hspace{2cm}}$

12 أُقَدِّرْ نايِجَ الجَمْعِ بِالتَّقْرِيْبِ إِلى أَقْرَبِ 100:

$377 + 216 \rightarrow \underline{\hspace{2cm}} + \underline{\hspace{2cm}} = \underline{\hspace{2cm}}$



13 باعَتْ مَكْتَبَةُ 472 قَلَمًا الشَّهْرَ الأوَّلَ، وَ 355 قَلَمًا الشَّهْرَ الثَّانِي. فَكَمْ قَلَمًا باعَتْ فِي الشَّهْرَيْنِ؟

أجد العدد المفقود:

14 $248 + \underline{\hspace{2cm}} = 548$

15 $\underline{\hspace{2cm}} + 746 = 796$

16 $567 + \underline{\hspace{2cm}} = 597$

17 $\underline{\hspace{2cm}} + 329 = 829$

أجد ناتج الجمع:

18 $(613 + 109) + 114 = \underline{\hspace{2cm}}$

19 $150 + (233 + 314) = \underline{\hspace{2cm}}$

$613 + (109 + 114) = \underline{\hspace{2cm}}$

$(150 + 233) + 314 = \underline{\hspace{2cm}}$

20 $(219 + 154) + 221 = \underline{\hspace{2cm}}$

21 $409 + (345 + 106) = \underline{\hspace{2cm}}$

$219 + (154 + 221) = \underline{\hspace{2cm}}$

$(409 + 345) + 106 = \underline{\hspace{2cm}}$

تدريب على الاختبارات الدولية



22 تقدير ناتج جمع العددين 374 و 509 بالتقريب إلى أقرب 10 يساوي:

☐ 980☐ 900☐ 880☐ 870

23 ناتج جمع العددين 549 و 256 يساوي:

☐ 605☐ 705☐ 805☐ 795

24 حصلت فاطمة على 268 نقطة في المسابقة العلمية، و 315 نقطة في المسابقة الفنية. فكم عدد النقاط التي حصلت عليها فاطمة في المسابقتين؟

أَسْئَلَةٌ تَرَاكُمِيَّةٌ

أَعُدُّ تَصَاعُدِيًّا بِحَسَبِ الْمَطْلُوبِ:

1 472, 473, _____, _____, _____. (بِالْوَاحِدَاتِ)

2 324, 334, _____, _____, _____. (بِالْعَشْرَاتِ)

3 148, 248, _____, _____, _____. (بِالْمِائَاتِ)

4 أَحْوَطُ الْعَدَدَ الرَّوْجِيَّ: 508 , 477 , 612 , 264 , 161

5 أَحْوَطُ الْعَدَدَ الَّذِي صَوْرَتُهُ التَّحْلِيلِيَّةُ: $400 + 70 + 8$

784 478 874

6 أَكْتُبُ الْعَدَدَ 681 بِالْكَلِمَاتِ.

7 أَحْوَطُ الْعَدَدَ الْفَرْدِيَّ: 108 , 365 , 861 , 598 , 714 , 513

8 أُرَتِّبُ الْأَعْدَادَ تَنَازُلِيًّا:

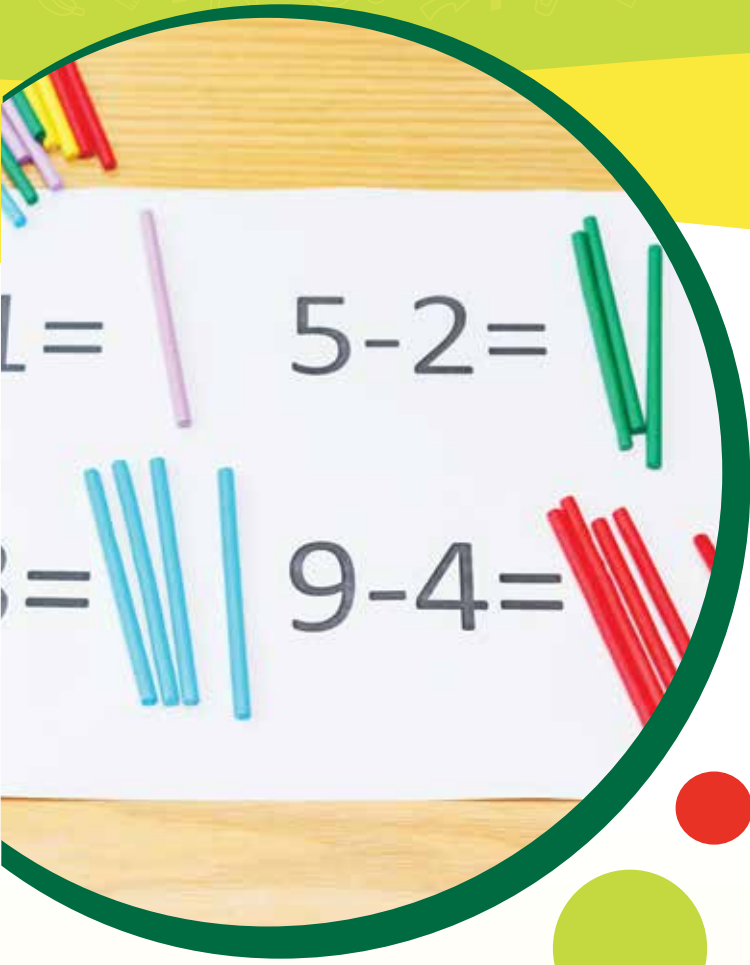
573 , 537 , 735 _____, _____, _____

9 الْعَدَدُ السَّابِقُ لِلْعَدَدِ 470 هُوَ:

☐ 468 ☐ 469 ☐ 471 ☐ 460

10 الْقِيَمَةُ الْمَنْزِلِيَّةُ لِلرَّقْمِ 7 فِي الْعَدَدِ 675 هُوَ:

☐ 700 ☐ 70 ☐ 7 ☐ 600



أُسْرَتِي الْكَرِيمَةُ

بَدَأْتُ الْيَوْمَ دِرَاسَةَ الْوَحْدَةِ الرَّابِعَةِ، وَسَأَتَعَلَّمُ فِيهَا طَرَحَ الْأَعْدَادِ ضَمَنَ 3 مَنَازِلَ. لِنَتَقَدُّ مَعًا النَّشَاطَ الْآتِي؛ لِأَنَّهُ سَيُسَاعِدُنِي عَلَى مُرَاجَعَةِ الْمَفَاهِيمِ الرِّيَاضِيَّةِ الَّتِي دَرَسْتُهَا سَابِقًا، وَالَّتِي سَأُحْتَاجُ إِلَيْهَا فِي أَثْنَاءِ دِرَاسَةِ هَذِهِ الْوَحْدَةِ.

أُحِبُّكُمْ

نَشَاطٌ مَنَزَلِيٌّ: فِي هَذَا النَّشَاطِ، يُرَاجِعُ طِفْلِي / طِفْلَتِي مَفَاهِيمَ طَرَحِ الْأَعْدَادِ ضَمَنَ مَنَزِلَتَيْنِ مِنْ دُونِ إِعَادَةِ التَّجْمِيعِ.



• أَتَصَفَّحُ إِحْدَى الصُّحُفِ، وَأَخْتَارُ إِعْلَانَ يَبِيعُ سِلْعٍ مُعَيَّنَةٍ، مِثْلَ: الْأَجْهَزَةِ الْكَهْرَبَائِيَّةِ، وَلَوَازِمِ الْمَنَزْلِ... وَغَيْرِ ذَلِكَ. وَأَخْتَارُ سِلْعَتَيْنِ سِعْرُ كُلِّ مِنْهُمَا عَدَدٌ يَتَكَوَّنُ مِنْ مَنَزِلَتَيْنِ، ثُمَّ أَطْلُبُ إِلَى طِفْلِي / طِفْلَتِي طَرَحَ الْعَدَدَيْنِ، وَالتَّحَقُّقَ مِنْ صِحَّةِ الْحَلِّ.

• أَكْرِّرُ النَّشَاطَ نَفْسَهُ مَعَ أَسْعَارِ سِلْعٍ أُخْرَى.

مَشْرُوعُ الْوَحْدَةِ:

الْحَيَوَانَاتُ

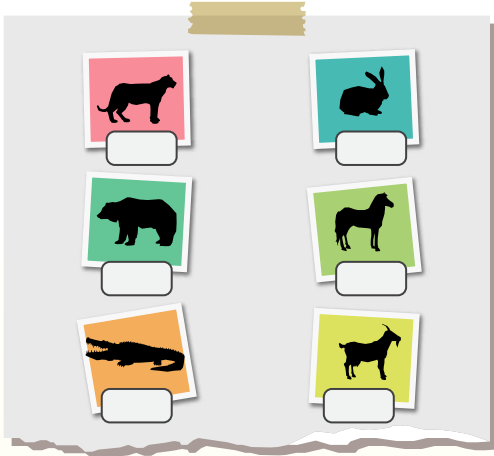
النمواد والأدوات

- صُورُ حَيَوَانَاتٍ مُفْتَرَسَةٍ
- صُورُ حَيَوَانَاتٍ آكِلَةِ أَعْشَابٍ
- لَوْحَةٌ كَرْتُونِيَّةٌ
- بِطَاقَاتٌ.

أَسْتَعِدُّ وَمَجْمُوعَتِي لِتَنْفِيذِ مَشْرُوعِي
الْخَاصِّ الَّذِي سَأَسْتَعْمِلُ فِيهِ مَا أَتَعَلَّمُهُ فِي هَذِهِ
الْوَحْدَةِ لِأَسْتَقْصِي كُتْلَ الْحَيَوَانَاتِ.



4 أَكْتُبُ عَلَى بِطَاقَةٍ كُتْلَةَ كُلِّ حَيَوَانٍ وَأُلصِقُهَا
أَسْفَلَ صَوْرَتِهِ.



خُطَوَاتُ تَنْفِيذِ الْمَشْرُوعِ:

1 أَطْلُبُ إِلَى كُلِّ فَرْدٍ مِنْ مَجْمُوعَتِي كِتَابَةَ اسْمِ
حَيَوَانٍ يَأْكُلُ اللَّحْمَ، وَاسْمِ حَيَوَانٍ يَأْكُلُ
الْأَعْشَابَ.

5 اخْتَارُ صُورَةَ حَيَوَانٍ مِنَ الْعَمُودِ الْأَوَّلِ، وَصُورَةَ
حَيَوَانٍ مِنَ الْعَمُودِ الثَّانِي، وَأَجِدُ الْفَرْقَ بَيْنَ
كُتْلَتَيْهِمَا وَآتَحَقَّقُ مِنَ النَّاتِجِ، وَأَكْتُبُهُ عَلَى
بِطَاقَةٍ، ثُمَّ أُلصِقُهَا عَلَى اللَّوْحَةِ الْأُخْرَى.



2 أَبْحَثُ وَمَجْمُوعَتِي فِي مَكْتَبَةِ الْمَدْرَسَةِ أَوْ
الْإِنْتَرْنِتِ عَنْ كُتْلَةِ كُلِّ حَيَوَانٍ اخْتَرْنَاهُ.

6 أَطْلُبُ إِلَى مَجْمُوعَتِي تَكَرَّارَ الْعَمَلِيَّةِ وَتَدْوِينَ
نَوَاتِجِ الطَّرْحِ، وَالتَّحَقُّقِ مِنْهَا عَلَى بِطَاقَاتٍ، ثُمَّ
لَصِقُهَا فِي مَكَانٍ مُنَاسِبٍ عَلَى اللَّوْحَةِ الْأُخْرَى.

3 أُلصِقُ صُورَ الْحَيَوَانَاتِ آكِلَةِ اللَّحْمِ فِي عَمُودٍ
عَلَى اللَّوْحَةِ، وَصُورَ الْحَيَوَانَاتِ آكِلَةِ الْأَعْشَابِ
فِي عَمُودٍ آخَرَ.

7 أَعْلِقُ اللَّوْحَتَيْنِ عَلَى جِدَارِ غُرْفَةِ الصَّفِّ.



أَتَعَلَّمُ الْيَوْمَ

طَرَحَ مُضَاعَفَاتِ الْعَشْرَةِ وَالْمِئَةِ مِنْ
عَدَدٍ مِنْ 3 مَنَازِلَ ذَهْنِيًّا.

أَسْتَكْشِفُ



كَيْفَ أَجِدُ نَاتِجَ الطَّرَحِ ذَهْنِيًّا؟

$$647 - 100 = ?$$



أَتَعَلَّمُ



مُضَاعَفَاتُ الْعَشْرَةِ:

10, 20, 30, 40, ...

مُضَاعَفَاتُ الْمِئَةِ:

100, 200, 300, 400, ...

عِنْدَمَا أَطْرَحُ أَحَدَ مُضَاعَفَاتِ الْعَدَدِ 10 مِنْ عَدَدٍ آخَرَ، فَإِنِّي أَطْرَحُ الْعَشْرَاتِ فَقَطُ.

$$\begin{array}{r} 372 - 40 = 332 \\ \downarrow \quad \downarrow \quad \uparrow \\ 70 - 40 = 30 \end{array}$$

أَعِدُّ تَنَازُلِيًّا بِالْعَشْرَاتِ.

372, 362, 352, 342, 332

عِنْدَمَا أَطْرَحُ أَحَدَ مُضَاعَفَاتِ الْعَدَدِ 100 مِنْ عَدَدٍ آخَرَ، فَإِنِّي أَطْرَحُ الْمِئَاتِ فَقَطُ.

$$\begin{array}{r} 841 - 300 = 541 \\ \downarrow \quad \downarrow \quad \uparrow \\ 800 - 300 = 500 \end{array}$$

أَعِدُّ تَنَازُلِيًّا بِالْمِئَاتِ.

841, 741, 641, 541



أَتَحَدَّثُ: كَيْفَ أَطْرَحُ الْعَدَدَ 200 مِنَ الْعَدَدِ 568؟



أَتَحَقَّقُ مِنْ فَهْمِي



أَجِدُ نَاتِجَ الطَّرْحِ ذَهْنِيًّا:

1 $689 - 40 = \underline{\hspace{2cm}}$

2 $513 - 100 = \underline{\hspace{2cm}}$

3 $482 - 100 = \underline{\hspace{2cm}}$

4 $867 - 50 = \underline{\hspace{2cm}}$

5 $681 - 30 = \underline{\hspace{2cm}}$

6 $914 - 300 = \underline{\hspace{2cm}}$

7 $763 - 200 = \underline{\hspace{2cm}}$

8 $746 - 40 = \underline{\hspace{2cm}}$

أَجِدُ الْعَدَدَ الْمَفْقُودَ:

9 $783 - \underline{\hspace{2cm}} = 283$

10 $580 - \underline{\hspace{2cm}} = 520$

11 $499 - \underline{\hspace{2cm}} = 439$

12 $673 - \underline{\hspace{2cm}} = 73$

13 $672 - \underline{\hspace{2cm}} = 612$

14 $345 - \underline{\hspace{2cm}} = 45$

أَحُلِّ الْمَسْأَلَةَ



15 في الْحَدِيقَةِ 258 وَرْدَةً ذَاتَ أَلْوَانٍ مُتَعَدِّدَةٍ، 100 مِنْهَا حَمْرَاءُ.
فَمَا عَدَدُ الْوَرْدَاتِ غَيْرِ الْحَمْرَاءِ فِي الْحَدِيقَةِ؟

نَشَاطٌ مَنْزِلِيٌّ: أَطْلُبُ إِلَى طِفْلِي / طِفْلَتِي طَرَحَ الْعَدَدِ 50 مِنَ الْعَدَدِ 980



أَسْتَكْشِفُ



أَتَعَلَّمُ الْيَوْمَ

طَرَحَ عَدَدٍ يَتَكَوَّنُ مِنْ
مَنْزِلَتَيْنِ مِنْ عَدَدٍ يَتَكَوَّنُ مِنْ
3 مَنْازِلَ ذَهْنِيًّا.

كَيْفَ أَجِدُ نَاتِجَ الطَّرْحِ مِنْ
دُونِ قَلَمٍ وَوَرَقَةٍ؟



أَتَذَكَّرُ:

عِنْدَمَا أَطْرَحُ ذَهْنِيًّا، فَإِنِّي
لَا أَحْتَاجُ إِلَى قَلَمٍ وَوَرَقَةٍ.

أَتَعَلَّمُ



كَيْ أَجِدَ نَاتِجَ طَرْحِ الْعَدَدِ 18 مِنْ 255 ذَهْنِيًّا، أَجْمَعُ 2 لِكَلَا
الْعَدَدَيْنِ فَأَحْصِلُ عَلَى الْعَدَدِ 20 وَهُوَ مِنْ مُضَاعَفَاتِ الْعَشْرَةِ،
وَيُمْكِنُنِي أَنْ أَطْرَحَهُ ذَهْنِيًّا.



$$\begin{array}{r} 255 - 18 = \\ +2 \quad \downarrow \quad +2 \quad \downarrow \\ 257 - 20 = 237 \end{array}$$

أَتَحَدَّثُ: كَيْفَ أَطْرَحُ الْعَدَدَ 36 مِنَ الْعَدَدِ 157 ذَهْنِيًّا؟





أَجِدُ نَاتِجَ الطَّرْحِ ذَهْنِيًّا:

1 $153 - 17 =$ _____

2 $184 - 15 =$ _____

3 $243 - 29 =$ _____

4 $732 - 26 =$ _____

5 $353 - 48 =$ _____

6 $541 - 37 =$ _____

7 $743 - 26 =$ _____

8 $192 - 55 =$ _____

أَحُلُّ الْمَسْأَلَةَ



9 ذَهَبَ 380 سَائِحًا إِلَى قَلْعَةٍ عَجَلُونَ،
فَالْتَقَطَ 67 مِنْهُمْ الصُّورَ، فَكَمْ سَائِحًا لَمْ
يَلْتَقِطِ الصُّورَ؟

نشاط منزلي: أطلبُ إلى طفلي / طفلي التحدث عن كيفية إيجاد ناتج طرح العدد 28 من العدد 154 ذهنيًا بطريقتين.



أَسْتَكْشِفُ



أَتَعَلَّمُ الْيَوْمَ

طَرَحَ عَدَدٍ يَتَكَوَّنُ مِنْ مَنَزَلَتَيْنِ أَوْ
3 مَنَازِلَ، مِنْ عَدَدٍ يَتَكَوَّنُ مِنْ 3
مَنَازِلَ.

جَمَعَتْ سِهَامٌ مِنْ شَاطِئِ الْعَقَبَةِ 275 صَدَفَةً، وَجَمَعَتْ أُخْتُهَا نَوَالٌ
61 صَدَفَةً. فَكَمْ صَدَفَةً جَمَعَتْ سِهَامٌ زِيَادَةً عَلَى أُخْتِهَا؟



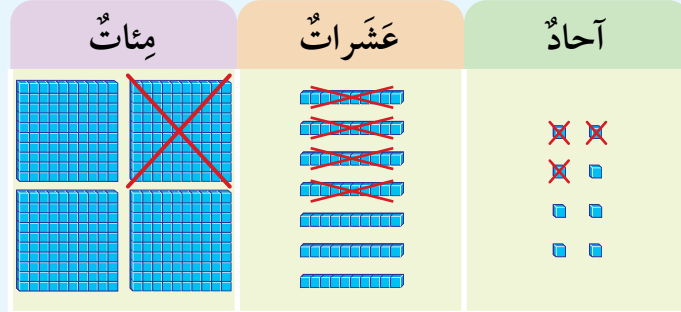
أَتَعَلَّمُ



كَيْ أَطْرَحَ الْعَدَدَ 143 مِنَ الْعَدَدِ 478، أَطْرَحُ بِأَخْذِ الْآحَادِ مِنَ الْآحَادِ، ثُمَّ
الْعَشْرَاتِ مِنَ الْعَشْرَاتِ، وَأَخِيرًا الْمِائَاتِ مِنَ الْمِائَاتِ.

أَطْرَحُ

$$478 - 143 =$$



أَطْرَحُ الْمِائَاتِ → أَطْرَحُ الْعَشْرَاتِ → أَطْرَحُ الْآحَادِ

مِائَات	عَشْرَات	آحَاد
4	7	8
1	4	3
		5

مِائَات	عَشْرَات	آحَاد
4	7	8
1	4	3
	3	5

مِائَات	عَشْرَات	آحَاد
4	7	8
1	4	3
3	3	5

أَتَحَدَّثُ: كَيْفَ أَطْرَحُ عَدَدًا يَتَكَوَّنُ مِنْ مَنَزَلَتَيْنِ مِنْ عَدَدٍ يَتَكَوَّنُ مِنْ 3 مَنَازِلَ؟



أَتَحَقَّقُ مِنْ فَهْمِي



أَجِدُ نَاتِجَ الطَّرْحِ.

1

آحَادُ	عَشَرَاتُ	مِائَاتُ
5	7	9
3	5	

2

آحَادُ	عَشَرَاتُ	مِائَاتُ
7	9	6
6	7	2

3

$$886 - 52 = \underline{\hspace{2cm}}$$

4

$$436 - 14 = \underline{\hspace{2cm}}$$

5

$$724 - 112 = \underline{\hspace{2cm}}$$

6

$$618 - 310 = \underline{\hspace{2cm}}$$

7

$$295 - 135 = \underline{\hspace{2cm}}$$

8

$$473 - 252 = \underline{\hspace{2cm}}$$

أَحْلُ الْمَسْأَلَةَ



مَعَ أَحْمَدَ 285 عَوْدًا، أُعْطِيَ أُخْتَهُ مِنْهَا 35 عَوْدًا، فَكَمْ عَوْدًا بَقِيَ مَعَ أَحْمَدَ؟

9

نشاط منزلي: أطلبُ إلى طفلي / طفليتي إيجاد ناتج $878 - 532$ وتبرير إجابته.



أَسْتَكْشِفُ



أَتَعَلَّمُ الْيَوْمَ

الطَّرْحُ مَعَ إِعَادَةِ تَجْمِيعِ
الْعَشَرَاتِ.

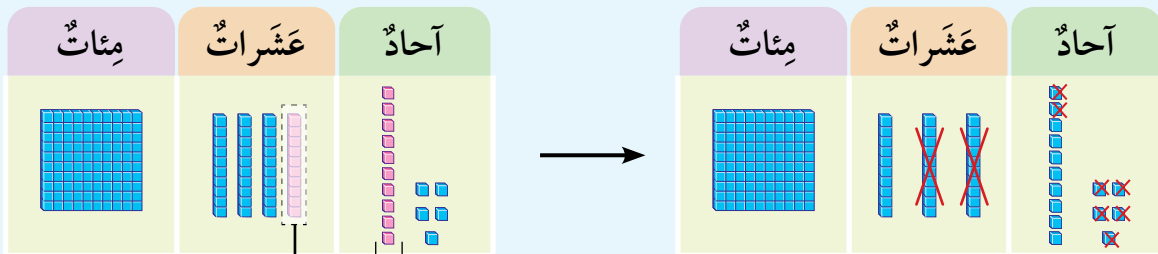


فِي مَزْرَعَةٍ سَامِي 192 شَجَرَةً
زَيْتُونٍ، قَطَفَ ثِمَارَ 68 شَجَرَةٍ مِنْهَا.
فَكَمْ شَجَرَةً لَمْ يَقْطِفْ ثِمَارَهَا؟

أَتَعَلَّمُ



كَيْ أَجِدَ نَاتِجَ $145 - 27$ فَإِنَّهُ لَا يُمَكِّنُنِي طَرْحُ 7 أَحَادٍ مِنْ 5 أَحَادٍ. لِذَلِكَ أُعِيدُ تَجْمِيعَ 1 عَشْرَةٍ مِنْ مَنَزِلَةِ
الْعَشَرَاتِ، إِلَى 10 أَحَادٍ وَأُضِيفُهَا إِلَى مَنَزِلَةِ الْآحَادِ.



أُعِيدُ تَجْمِيعَ 1 مِنَ الْعَشَرَاتِ إِلَى 10 أَحَادٍ

يُمَكِّنُنِي أَنْ أَطْرَحَ الْآنَ

	مِائَاتٌ	عَشَرَاتٌ	أَحَادٌ
		3	15
	1	4	5
-		2	7
	1	1	8

أَتَحَدَّثُ: مَتَى أَحْتَاجُ إِلَى إِعَادَةِ تَجْمِيعِ الْعَشَرَاتِ عِنْدَ طَرْحِ عَدَدَيْنِ؟



أَتَحَقَّقُ مِنْ فَهْمِي



أَجِدُ نَاتِجَ الطَّرْحِ:

1

آحَادُ	عَشْرَاتُ	مِائَاتُ
5	8	3
9	1	

2

آحَادُ	عَشْرَاتُ	مِائَاتُ
3	5	8
6	2	3

3

$$874 - 39 = \underline{\hspace{2cm}}$$

4

$$981 - 458 = \underline{\hspace{2cm}}$$

5

$$731 - 418 = \underline{\hspace{2cm}}$$

6

$$272 - 135 = \underline{\hspace{2cm}}$$

7

$$643 - 225 = \underline{\hspace{2cm}}$$

8

$$952 - 426 = \underline{\hspace{2cm}}$$

أَحْلُ الْمَسْأَلَةَ



9

أَكْتَشِفُ الْخَطَأَ: أَوْجَدَ عَلَيَّ نَاتِجَ طَرَحِ الْعَدَدِ 25 مِنْ
الْعَدَدِ 371 عَلَى النَّحْوِ الْآتِي: فَهَلْ حَلُّهُ صَحِيحٌ؟
أُبَرِّرُ إِجَابَتِي.

آحَادُ	عَشْرَاتُ	مِائَاتُ
11	7	3
5	2	
6	5	3

نَشَاطٌ مَنْزِلِيٌّ: أَطْلُبُ إِلَى طِفْلِي / طِفْلَتِي إِيجَادَ نَاتِجِ طَرَحِ 24 مِنْ 151



الطَّرْحُ مَعَ إِعَادَةِ التَّجْمِيعِ (2)

5

الدَّرْسُ

أَسْتَكْشِفُ



أَتَعَلَّمُ الْيَوْمَ

الطَّرْحُ مَعَ إِعَادَةِ تَجْمِيعِ الْمِائَاتِ.

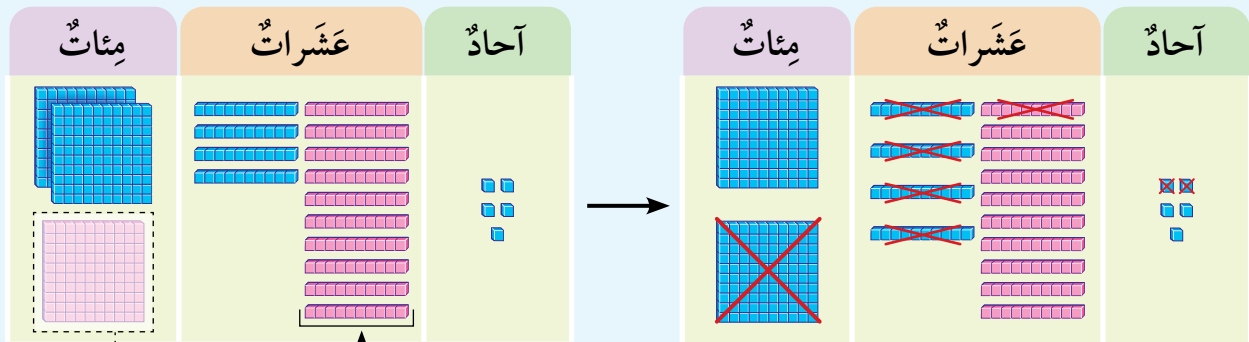


مَعَ حَمْرَةٍ 853 قِرْشًا، اشْتَرَى مِنْهَا قِصَّةً
ثَمَنُهَا 261 قِرْشًا، فَكَمْ قِرْشًا بَقِيَ مَعَ
حَمْرَةٍ؟

أَتَعَلَّمُ



كَيْ أَجِدَ نَاتِجَ $345 - 152$ فَإِنَّهُ لَا يُمَكِّنُنِي طَرْحُ 5 عَشْرَاتٍ مِنْ 4 عَشْرَاتٍ. لِذَلِكَ أُعِيدُ تَجْمِيعَ 1 مِئَةٍ مِنْ
مَنْزِلَةِ الْمِائَاتِ إِلَى 10 عَشْرَاتٍ، وَأُضِيفُهَا إِلَى مَنْزِلَةِ الْعَشْرَاتِ



أُعِيدُ تَجْمِيعَ 1 مِنَ الْمِائَاتِ، إِلَى 10 عَشْرَاتٍ.

يُمَكِّنُنِي أَنْ أَطْرَحَ 152 الْآنَ.

	مِائَاتٌ	عَشْرَاتٌ	آحَادٌ
	2	14	
	2	4	5
—	1	5	2
	1	9	3

أَتَحَدَّثُ: مَتَى أَحْتَاجُ إِلَى إِعَادَةِ تَجْمِيعِ الْمِائَاتِ فِي الطَّرْحِ؟



أَتَحَقَّقُ مِنْ فَهْمِي



أَجِدُ نَاتِجَ الطَّرْحِ:

1

	آحَادُ	عَشَرَاتُ	مِائَاتُ
	4	3	3
—	3	7	

2

	آحَادُ	عَشَرَاتُ	مِائَاتُ
	7	2	4
—	8	5	1

3

$$985 - 492 = \underline{\hspace{2cm}}$$

4

$$624 - 493 = \underline{\hspace{2cm}}$$

5

$$518 - 172 = \underline{\hspace{2cm}}$$

6

$$511 - 314 = \underline{\hspace{2cm}}$$

7

$$706 - 233 = \underline{\hspace{2cm}}$$

8

$$439 - 158 = \underline{\hspace{2cm}}$$

أَحُلِّ الْمَسْأَلَةَ



لدى سامي محلٌّ لبيع الأسماك فيه 234 سمكاً، باع منها 156 سمكة، فكم سمكة بقي لديه؟

9

نشاط منزلي: أطلبُ إلى طفلي / طفليتي إيجاد ناتج $624 - 193$



أَسْتَكْشِفُ



أَتَعَلَّمُ الْيَوْمَ

طَرَحَ عَدَدَيْنِ كُلُّهُمَا
مُكَوَّنٌ مِنْ ثَلَاثِ مَنَازِلَ
وَأَحَدُهُمَا يَحْوِي أَصْفَارًا.



تَنَافَسَ رَامِي وَسَارَةُ فِي لُعْبَةِ الْقَفْزِ بِالْحَبْلِ،
فَقَفَزَ رَامِي 178 مَرَّةً، وَقَفَزَتْ سَارَةُ 200
مَرَّةً. كَمْ قَفْزَةً إِضَافِيَّةً قَفَزَتْهَا سَارَةُ؟

أَتَعَلَّمُ



أَحْتَاجُ أحيانًا إِلَى أَنْ أُعِيدَ التَّجْمِيعَ أَكْثَرَ مِنْ مَرَّةٍ كَيْ أَجِدَ نَاتِجَ الطَّرْحِ.
أَجِدْ نَاتِجَ طَرَحِ 500 - 348

الْخُطْوَةُ 2: أَطْرَحُ الْآحَادَ فَالْعَشْرَاتِ فَالْمِائَاتِ:

$$\begin{array}{r} 9 \\ 4 \quad \cancel{10} \quad 10 \\ \cancel{5} \quad \cancel{0} \quad \cancel{0} \\ - 3 \quad 4 \quad 8 \\ \hline 1 \quad 5 \quad 2 \end{array}$$

الْخُطْوَةُ 1: أُعِيدُ التَّجْمِيعَ:

$$\begin{array}{r} 9 \\ 4 \quad \cancel{10} \quad 10 \\ \cancel{5} \quad \cancel{0} \quad \cancel{0} \\ - 3 \quad 4 \quad 8 \\ \hline \end{array}$$

لَا أَسْتَطِيعُ طَرَحَ 8 آحَادٍ مِنْ
0 آحَادٍ، وَلَا تَوَجَّدُ عَشْرَاتُ
لِأُعِيدَ التَّجْمِيعَ مِنْهَا.
إِذْنًا، أُعِيدُ تَجْمِيعَ 1 مِنْ
الْمِائَاتِ، ثُمَّ 1 مِنْ الْعَشْرَاتِ.

أَتَحَقَّقُ مِنْ صِحَّةِ الْحَلِّ: أَجْمَعُ لِأَتَحَقَّقَ مِنْ صِحَّةِ الْإِجَابَةِ:

$$\begin{array}{r} 500 \\ - 348 \\ \hline 152 \end{array} \quad \begin{array}{r} 152 \\ + 348 \\ \hline 500 \end{array}$$

الْعَدَدُ نَفْسُهُ

أَتَحَدَّثُ: أَشْرَحُ كَيْفَ أَجِدُ نَاتِجَ الطَّرْحِ 400 - 246



أَتَحَقَّقُ مِنْ فَهْمِي



أَجِدُ نَاتِجَ الطَّرْحِ، ثُمَّ أَتَحَقَّقُ مِنْ صِحَّةِ إِجَابَتِي:

1
$$\begin{array}{r} 600 \\ - 122 \\ \hline \end{array}$$

2
$$\begin{array}{r} 708 \\ - 435 \\ \hline \end{array}$$

3 $850 - 186 = \underline{\hspace{2cm}}$

4 $400 - 217 = \underline{\hspace{2cm}}$

5 $900 - 622 = \underline{\hspace{2cm}}$

6 $502 - 173 = \underline{\hspace{2cm}}$

أَحُلِّ الْمَسْأَلَةَ



7 قَطَفَ مُزَارِعٌ 209 صَنَادِيقَ مِنَ اللَّيْمُونِ، وَبَاعَ مِنْهَا 156 صُنْدُوقًا. كَمْ صُنْدُوقًا بَقِيَ لَدَيْهِ؟

نَشَاطٌ مَنَزَلِيٌّ: أَطْلُبُ إِلَى طِفْلي / طِفْلَتِي الشَّرْحَ بِلُغَتِهِ الْخَاصَّةِ عَنْ كَيْفِيَّةِ طَرْحِ الْعَدَدِ 128 مِنَ الْعَدَدِ 400



أَتَعَلَّمُ الْيَوْمَ

تَقْدِيرُ نَاتِجِ طَرَحِ عَدَدَيْنِ بِالتَّقْرِيبِ
إِلَى أَقْرَبِ 10 أَوْ 100.

أَسْتَكْشِفُ

فِي مَحَلٍّ لِلأَلْعَابِ 377 لُغْبَةً، بَاعَ مِنْهَا 235
لُغْبَةً. أَقْدَرُ عَدَدَ الأَلْعَابِ الَّتِي لَمْ يَبِعْهَا الْمَحَلُّ.



أَتَعَلَّمُ

يُمْكِنُنِي أَنْ أَقْدَرَ نَاتِجَ $758 - 312$ بِطَرِيقَتَيْنِ:

الطَّرِيقَةُ 1: أَقْرَبُ كُلًّا مِنَ الْعَدَدَيْنِ إِلَى أَقْرَبِ 10 أَوَّلًا، ثُمَّ أَطْرَحُ:

أَقْرَبُ الْعَدَدَيْنِ إِلَى أَقْرَبِ 10

أَجِدُ نَاتِجَ الطَّرْحِ

آحَادُ	عَشْرَاتُ	مِائَاتُ		آحَادُ	عَشْرَاتُ	مِائَاتُ		آحَادُ	عَشْرَاتُ	مِائَاتُ
8	5	7	→	0	6	7	→	0	6	7
2	1	3	→	0	1	3	→	0	1	3
								0	5	4

الطَّرِيقَةُ 2: أَقْرَبُ كُلًّا مِنَ الْعَدَدَيْنِ إِلَى أَقْرَبِ 100 أَوَّلًا، ثُمَّ أَطْرَحُ:

أَقْرَبُ الْعَدَدَيْنِ إِلَى أَقْرَبِ 100

أَجِدُ نَاتِجَ الطَّرْحِ

آحَادُ	عَشْرَاتُ	مِائَاتُ		آحَادُ	عَشْرَاتُ	مِائَاتُ		آحَادُ	عَشْرَاتُ	مِائَاتُ
8	5	7	→	0	0	8	→	0	0	8
2	1	3	→	0	0	3	→	0	0	3
								0	0	5



أَتَحَدَّثُ: كَيْفَ أَقْدِّرُ نَاتِجَ طَرَحٍ عَدَدَيْنِ بِالتَّقْرِيبِ إِلَى أَقْرَبِ 100؟

أَتَحَقَّقُ مِنْ فَهْمِي ✓

أُقْدِّرُ نَاتِجَ الطَّرَحِ بِالتَّقْرِيبِ إِلَى أَقْرَبِ 10:

1

	آحَادٌ	عَشَرَاتٌ	مِائَاتٌ
	4	3	5
-	5	1	1

أُقْدِّرُ نَاتِجَ الطَّرَحِ بِالتَّقْرِيبِ إِلَى أَقْرَبِ 100:

2

	آحَادٌ	عَشَرَاتٌ	مِائَاتٌ
	8	4	7
-	3	2	1

أَحْلُ الْمَسْأَلَةَ ✚ ✚ ✚ ✚

الْحِسُّ الْعَدَدِيُّ: هَلْ تَقْدِيرُ نَاتِجِ $468 - 147$ هُوَ نَفْسُهُ تَقْدِيرُ نَاتِجِ $486 - 174$ بِالتَّقْرِيبِ إِلَى أَقْرَبِ 10؟ أُبَرِّرُ إِجَابَتِي.

3

نَشَاطٌ مَنْزِلِيٌّ: أَطْلُبُ إِلَى طِفْلِي / طِفْلَتِي كِتَابَةَ عَدَدَيْنِ يَتَكَوَّنُ كُلُّ مِنْهُمَا مِنْ 3 مَنَازِلَ، ثُمَّ أَطْلُبُ إِلَيْهِ / إِلَيْهَا تَقْدِيرَ نَاتِجِ طَرَحِهِمَا بِالتَّقْرِيبِ إِلَى أَقْرَبِ 10 وَإِلَى أَقْرَبِ 100



أَتَعَلَّمُ الْيَوْمَ

حَلُّ مَسَائِلَ حَيَاتِيَّةٍ بِاسْتِعْمَالِ
خُطَّةِ الْحَلِّ بِأَكْثَرِ مِنْ خُطْوَةٍ.

لدى عامرٍ حظيرةٌ فيها 241 خروفاً، باعَ مِنْهَا الْيَوْمَ الْأَوَّلَ 53 خروفاً، و104 خرافٍ الْيَوْمَ الثَّانِي، فَكَمْ خروفاً بَقِيَ فِي الْحَظِيرَةِ؟



لِحَلِّ الْمَسْأَلَةِ اتَّبِعْ الْخُطَوَاتِ الْأَرْبَعَةَ الْآتِيَةَ:

1 أفهم

- ما مُعْطَيَاتُ الْمَسْأَلَةِ؟
أَضْعُ خَطًّا تَحْتَهَا.
- ما الْمَطْلُوبُ فِي الْمَسْأَلَةِ؟
أُحَوِّطُهُ.

2 أخطّ

- هَلْ أَحُلُّ الْمَسْأَلَةَ بِالْجَمْعِ أَمْ بِالطَّرْحِ أَمْ بِكِلْتَا الْعَمَلِيَّتَيْنِ؟
لَأَعْرِفَ عَدَدَ الْخِرَافِ الَّتِي بَقِيَتْ فِي الْحَظِيرَةِ، أَجْمَعُ عَدَدَ
مَا بَاعَ عَامِرٌ مِنْهَا فِي الْيَوْمَيْنِ، ثُمَّ أَطْرَحُ النَّاتِجَ مِنْ 241.

3 أحلّ

الْخُطْوَةُ 1: أَجْمَعُ لِأَجِدَ عَدَدَ الْخِرَافِ الَّتِي بَاعَهَا فِي الْيَوْمَيْنِ

$$104 + 53 = 157$$

الْخُطْوَةُ 2: أَطْرَحُ لِأَجِدَ عَدَدَ الْخِرَافِ الْمُتَبَقِّيةِ

$$241 - 157 = 84$$

4 أتتحقّق

- لِأَتَحَقَّقَ مِنْ صِحَّةِ الْحَلِّ، أَقْرَبُ كُلَّ عَدَدٍ إِلَى أَقْرَبِ 10، ثُمَّ أَجِدُ النَّاتِجَ التَّقْدِيرِيَّ.

$$100 + 50 = 150$$

$$240 - 150 = 90$$

بِمَا أَنَّ الْعَدَدَ 90 قَرِيبٌ مِنَ الْعَدَدِ 84؛ فَإِنَّ الْإِجَابَةَ مَعْقُولَةٌ.

أَحْلُ الْمَسَائِلِ الْآتِيَّةَ، ثُمَّ أَتَحَقَّقُ مِنْ صِحَّةِ إِجَابَتِي:



- 1 خَلِيَّةُ نَحْلٍ فِيهَا 842 نَحْلَةً، طَارَتْ مِنْهَا 243 نَحْلَةً فِي الدَّقِيقَةِ الْأُولَى، وَ 145 نَحْلَةً فِي الدَّقِيقَةِ الثَّانِيَةِ، فَكَمْ نَحْلَةً بَقِيَتْ فِي الْخَلِيَّةِ؟

- 2 فِي مَوَاقِفَ لِلْسَّيَّارَاتِ 300 سَيَّارَةً، غَادَرَتْ الْمَوْقِفَ 135 سَيَّارَةً السَّاعَةَ الْأُولَى، وَ 121 سَيَّارَةً السَّاعَةَ الثَّانِيَةَ، فَكَمْ سَيَّارَةً بَقِيَتْ فِي الْمَوْقِفِ؟



- 3 مَعَ سَمِيرٍ 655 قَرَشًا، أَعْطَاهُ وَالِدُهُ 125 قَرَشًا، ثُمَّ اشْتَرَى مِنْهَا هَدِيَّةً لَوَالِدَتِهِ ثَمَنُهَا 210 قُرُوشٍ، فَكَمْ قَرَشًا بَقِيَ مَعَ سَمِيرٍ؟

- 4 لَدَى مَحَلٍّ يَبِيعُ الزُّهُورَ 351 زَهْرَةً، بَاعَ مِنْهَا 124 زَهْرَةً الْيَوْمَ الْأَوَّلَ، وَ 158 زَهْرَةً الْيَوْمَ الثَّانِي، فَكَمْ زَهْرَةً بَقِيَتْ فِي الْمَحَلِّ؟




- 5 تَوَجَّدَ عَلَى الشَّجَرَةِ 218 حَبَّةُ تَفَّاحٍ، قَطَفَ الْمُزَارِعُ مِنْهَا 67 حَبَّةً فِي الْيَوْمِ الْأَوَّلِ، وَ 95 فِي الْيَوْمِ الثَّانِي، فَكَمْ حَبَّةُ تَفَّاحٍ بَقِيَتْ عَلَى الشَّجَرَةِ؟



لِنَلْعَبْ مَعًا

عَدَدُ اللَّاعِبِينَ
2

أَلَوْنُ الثُّفَاحِ



الْمَوَادُّ وَالْأَدَوَاتُ:

- 20 بِطَاقَةً مَكْتُوبَةً عَلَيْهَا جُمْلَةٌ طَرَحَ لِأَعْدَادٍ ضِمْنَ 3 مَنَازِلَ، يَخْتِاجُ بَعْضُهَا إِلَى إِعَادَةِ تَجْمِيعِ.
- وَرَقَتَانِ تَحْتَوِي كُلُّ مِنْهُمَا عَلَى الصُّورَةِ الْمُجَاوِرَةِ غَيْرِ الْمُلَوَّنَةِ.
- أَقْلَامُ تَلْوِينٍ.

قَوَاعِدُ اللَّعْبَةِ:

- أَحْصِلْ عَلَى وَرَقَةِ اللَّعِبِ وَ10 بِطَاقَاتٍ.
- اسْحَبْ بِطَاقَةً، وَأَحُلْ جُمْلَةً الطَّرَحِ الْمَكْتُوبَةَ عَلَيْهَا، وَأَطْلُبْ إِلَى زَمِيلِي/ زَمِيلَتِي التَّحَقُّقَ مِنْ صِحَّةِ إِجَابَتِي.
- أَلَوْنُ ثِفَاحَتَيْنِ فِي حَالِ تَطَلُّبِ حُلِّ جُمْلَةِ الطَّرَحِ إِعَادَةً تَجْمِيعٍ.
- أَلَوْنُ ثِفَاحَةٍ وَاحِدَةً فَقَطْ فِي حَالِ لَمْ يَتَطَلَّبْ حُلُّ جُمْلَةِ الطَّرَحِ إِعَادَةً تَجْمِيعٍ.
- نَسْتَمِرُّ بِاللَّعِبِ حَتَّى تُسْحَبَ الْبِطَاقَاتُ جَمِيعُهَا.
- الْفَائِزُ مَنْ يُلَوِّنُ أَكْبَرَ عَدَدٍ مِنَ الثُّفَاحِ.
- نَكْرِّرُ اللَّعْبَةَ أَكْثَرَ مِنْ مَرَّةٍ.

أَجِدْ نَتيجَ الطَّرْحِ ذَهْنِيًّا:

1 $247 - 100 = \underline{\hspace{2cm}}$

2 $652 - 30 = \underline{\hspace{2cm}}$

3 $851 - 300 = \underline{\hspace{2cm}}$

4 $382 - 47 = \underline{\hspace{2cm}}$

5 $452 - 27 = \underline{\hspace{2cm}}$

6 $275 - 16 = \underline{\hspace{2cm}}$

أَجِدْ نَتيجَ الطَّرْحِ:

7

	6	5	2
—		2	3

8

	5	3	7
—	3	1	4

9

	4	7	6
—		5	9

10

	8	5	2
—	5	9	1

11 $386 - 274 = \underline{\hspace{2cm}}$

12 $567 - 38 = \underline{\hspace{2cm}}$

13 $708 - 46 = \underline{\hspace{2cm}}$

14 $432 - 214 = \underline{\hspace{2cm}}$

15 في إحدى الحَدائِقِ 124 فَراشَةً، بَقِيَتْ مِنْها 111 فَراشَةً بَعْدَ أَنْ طَارَتْ مِنْها مَجْمُوعَةٌ مِنَ الْفَراشَاتِ، فَكَمْ عَدَدُ الْفَراشَاتِ الَّتِي طَارَتْ؟

16 حَضَرَ 355 شَخْصًا مُباراةَ كُرَةِ قَدَمٍ، ثُمَّ غادَرَ مِنْهُمُ عَدَدٌ مِنَ الْأَشْخاصِ بَقِيَ 276 شَخْصًا، فَكَمْ عَدَدُ الَّذِينَ غادَرُوا؟

أقدر ناتج الطرح بالتقريب إلى أقرب 10:

17

آحاد	عشرات	مئات
7	2	6
1	3	2

→

آحاد	عشرات	مئات

أقدر ناتج الطرح بالتقريب إلى أقرب 100:

18

آحاد	عشرات	مئات
8	8	5
2	6	4

→

آحاد	عشرات	مئات

تدريب على الاختبارات الدولية



19 أي الأعداد الآتية هو حل مسألة الطرح $689 - 543$ ؟

- 163 ○ 143 ○ 146 ○ 166

20 أي الأعداد الآتية هو حل مسألة الطرح $341 - 189$ ؟

- 172 ○ 262 ○ 152 ○ 162

21 العدد المفقود في جملة الطرح هو:

$$\square - 30 = 248$$

- 298 ○ 369 ○ 278 ○ 269

أَسْئَلَةُ تَرَكَمِيَّة

أَكْتُبْ كُلَّ عَدَدٍ بِالْأَرْقَامِ أَوْ بِالْكَلِمَاتِ:

1 154

2 خَمْسُمِئَةٍ وَأَرْبَعَةٌ وَعِشْرُونَ:

أَكْتُبْ الْعَدَدَ بِالصُّورَةِ التَّحْلِيلِيَّةِ:

3 $925 = \underline{\hspace{2cm}} + \underline{\hspace{2cm}} + \underline{\hspace{2cm}}$

4 $364 = \underline{\hspace{2cm}} + \underline{\hspace{2cm}} + \underline{\hspace{2cm}}$

أُرَتِّبُ الْأَعْدَادَ تَصَاعُديًّا:

5 345, 356, 289. $\underline{\hspace{2cm}}, \underline{\hspace{2cm}}, \underline{\hspace{2cm}}$

6 762, 739, 655. $\underline{\hspace{2cm}}, \underline{\hspace{2cm}}, \underline{\hspace{2cm}}$

أَكْتُبُ الْعَدَدَ الْمَفْقُودَ:

7 $355 + \square = 385$

8 $540 + \square = 840$

9 $\square - 321 = 200$

10 $\square - 100 = 413$

أَجِدُ نَاتِجَ الْجَمْعِ:


11 $125 + 25 = \underline{\hspace{2cm}}$

12 $241 + 123 = \underline{\hspace{2cm}}$

أَجِدُ نَاتِجَ الْجَمْعِ ذَهْنِيًّا:

13 $122 + 80 = \underline{\hspace{2cm}}$

14 $765 + 48 = \underline{\hspace{2cm}}$



أُسْرَتِي الْكَرِيمَةُ

بَدَأْتُ الْيَوْمَ دَارِسَةَ الْوَحْدَةِ الْخَامِسَةِ،
وَسَأَتَعَلَّمُ فِيهَا مُعَالَجَةَ الْبَيَانَاتِ. لِنَتَقَدَّمَ مَعًا
النَّشَاطُ الْآتِي؛ لِأَنَّهُ سَيُسَاعِدُنِي عَلَى مُرَاجَعَةِ
الْمَفَاهِيمِ الرَّيَاضِيَّةِ الَّتِي دَرَسْتُهَا سَابِقًا، وَالَّتِي
سَأَحْتَاجُ إِلَيْهَا فِي أَثْنَاءِ دِرَاسَةِ هَذِهِ الْوَحْدَةِ.
أُحِبُّكُمْ

نشاط منزلي: في هذا النشاط، يُراجِعُ طِفْلِي / طِفْلَتِي مَفَاهِيمَ مُعَالَجَةِ الْبَيَانَاتِ
الَّتِي دَرَسَهَا سَابِقًا.



- أُعْطِيَ طِفْلِي / طِفْلَتِي مَجْمُوعَةً مِنَ الْأَزْوَارِ بِأَلْوَانٍ مُتَنَوِّعَةٍ: أَحْمَرُ، أَزْرَقُ، أَخْضَرُ،
- أَطْلُبُ إِلَيْهِ / إِلَيْهَا تَصْنِيفَهَا فِي مَجْمُوعَاتٍ بِحَسَبِ اللَّوْنِ.
- أَطْلُبُ إِلَيْهِ / إِلَيْهَا تَنْظِيمَهَا فِي جَدْوَلٍ.
- أَسْأَلُهُ / أَسْأَلُهَا: مَا عَدَدُ الْأَزْوَارِ مِنْ كُلِّ لَوْنٍ؟

مَشْرُوعُ الْوَحْدَةِ: رِیَاضِیةُ الْمُفَضَّلَةِ

الْفَوَادُ وَالْأَدَوَاتُ

- أَلْوَانُ
- لَوْحَةُ كُرْتُونِيَّةٌ
- أَقْلَامُ سَبَّورَةٍ

أَسْتَعِدُّ وَمَجْمُوعَتِي لِتَنْفِيزِ مَشْرُوعِي الْخَاصِّ بِالرِّیَاضَةِ الْمُفَضَّلَةِ، الَّذِي سَأَسْتَعْمِلُ فِيهِ مَا أَعَلَّمْتُهُ فِي هَذِهِ الْوَحْدَةِ لِأَتَتَّبَعَ الرِّیَاضَةَ الْمُفَضَّلَةَ لِطَلَبَةِ مَدْرَسَتِي.



3 أُمَثِّلُ الْبَيَانَاتِ الَّتِي نَظَّمْتُهَا فِي الْجَدُولِ بِاسْتِخْدَامِ الصُّوَرِ.

خُطُواتُ تَنْفِيزِ الْمَشْرُوعِ:

4 ما الرِّیَاضَةُ الْمُفَضَّلَةُ لِطَلَبَةِ مَدْرَسَتِي؟ وَمَا الرِّیَاضَةُ الْأَقْلُ تَفْضِيلًا؟

1 أَسْأَلُ 20 طَالِبًا/ طَالِبَةً مِنْ مَدْرَسَتِي عَنْ رِیَاضَتِهِمُ الْمُفَضَّلَةِ مِنَ الرِّیَاضَاتِ الْآتِيَةِ: كُرَةُ الْقَدَمِ، السَّبَّاحَةُ، وَالْجَرِيُّ.

5 أَعْرِضُ عَلَى وَرَقَةٍ كَبِيرَةٍ مُقَوَّاةٍ جَدُولَ الْإِشَارَاتِ، وَالتَّمْثِيلَ بِالصُّوَرِ، وَالتَّفْسِيرَاتِ الَّتِي تَوَصَّلْتُ إِلَيْهَا، ثُمَّ أُلْصِقُهَا عَلَى جِدَارِ الْغُرْفَةِ الصَّفِيَّةِ.

2 أُنْظِمُ الْبَيَانَاتِ فِي جَدُولِ الْإِشَارَاتِ الْآتِي:

الرِّیَاضَةُ الْمُفَضَّلَةُ	الْإِشَارَاتُ	الْعَدَدُ
كُرَةُ الْقَدَمِ		
السَّبَّاحَةُ		
الْجَرِيُّ		



أَسْتَكْشِفُ



أَتَعَلَّمُ الْيَوْمَ

تَمَثِيلُ الْبَيَانَاتِ بِالصُّوَرِ.

الْمُصْطَلَحَاتُ

• التَّمَثِيلُ بِالصُّوَرِ.

لَدَى يَوْسُفَ 4 أَلْعَابِ سَيَّارَاتٍ، وَكُرَّتا قَدَمٍ، وَ6 أَلْعَابِ طَيَّارَاتٍ، وَهَذِهِ الْأَعْدَادُ مُمَثَّلَةٌ فِي الْجَدْوَلِ أَذْنَاهُ. لَكِنْ، لِمَاذَا اخْتَلَفَتْ أَعْدَادُ الْأَلْعَابِ فِي الْجَدْوَلِ؟

أَلْعَابُ يَوْسُفَ	
سَيَّارَةٌ	 
كُرَّةُ قَدَمٍ	
طَيَّارَةٌ	  













أَتَعَلَّمُ



عِنْدَ تَمَثِيلِ الْبَيَانَاتِ بِالصُّوَرِ (pictographs)، يُمَكِّنُنِي تَحْدِيدُ مِفْتَاحٍ يُبَيِّنُ الْعَدَدَ الَّذِي تُمَثِّلُهُ كُلُّ صُورَةٍ.

هَذِهِ الصُّورَةُ
تُمَثِّلُ ثِفَاحَتَيْنِ.



الْفَاكِهَةُ الْمُفَضَّلَةُ	
كِيوي	   
بُرْتُقَالٌ	  
تِفَّاحٌ	    

الْمِفْتَاحُ: كُلُّ صُورَةٍ تُمَثِّلُ حَبَّتِي فَاكِهَةٍ.

أَتَحَدَّثُ: مَا فَائِدَةُ تَحْدِيدِ مِفْتَاحٍ عِنْدَ تَمَثِيلِ الْبَيَانَاتِ بِالصُّوَرِ؟



أَتَحَقَّقُ مِنْ فَهْمِي



أُمَثِّلُ بِالصُّوَرِ الْبَيِّنَاتِ الْآتِيَةِ الَّتِي تُبَيِّنُ عَدَدَ النُّجُومِ
الَّتِي حَصَلَ عَلَيْهَا 3 طُلَّابٍ:

1 خَالِدٌ: 8 نُجُومٍ

2 مَرْيَمُ: 10 نُجُومٍ

3 سُمَيَّةُ: 6 نُجُومٍ

الطَّالِبُ	عَدَدُ النُّجُومِ				
خَالِدٌ					
مَرْيَمُ					
سُمَيَّةُ					
المِفْتَاحُ: كُلُّ ★ تُمَثِّلُ نَجْمَتَيْنِ					

أُمَثِّلُ بِالصُّوَرِ الْبَيِّنَاتِ الْآتِيَةِ الَّتِي تُبَيِّنُ الْحَيَوَانَ الْمُفَضَّلَ
لِثَمَانِيَةِ عَشَرَ طِفْلاً:

4 6 أَطْفَالٍ يُفَضِّلُونَ السُّلْحَفَةَ

5 3 أَطْفَالٍ يُفَضِّلُونَ الْقِطَّةَ








6 9 أَطْفَالٍ يُفَضِّلُونَ الْحِصَانُ

الْحَيَوَانُ الْمُفَضَّلُ					
السُّلْحَفَةُ					
الْقِطَّةُ					
الْحِصَانُ					
المِفْتَاحُ: كُلُّ 🐾 تُمَثِّلُ 3 أَطْفَالٍ.					

أَحْلُ الْمَسْأَلَةَ



7 **اَكْتَشِفُ الْخَطَأَ:** قَالَتْ لَيْلَى: إِنَّ عَدَدَ الْأَطْفَالِ
الَّذِينَ يُفَضِّلُونَ الْبُرْتُقَالَ فِي التَّمَثِيلِ الْمُجَاوِرِ
يُسَاوِي 4، فَهَلْ هِيَ عَلَى صَوَابٍ؟ أُبَرِّرُ إِجَابَتِي.

الْفَاكِهَةُ الْمُفَضَّلَةُ	
الْبُرْتُقَالُ	   
التِّفَاحُ	  
المِفْتَاحُ: كُلُّ حَبَّةٍ تُمَثِّلُ طِفْلَيْنِ.	

نَشَاطٌ فَتْرِيًّا: أَطْلُبُ إِلَى طِفْلِي / طِفْلَتِي اسْتِعْمَالَ الصُّوَرِ لِتَمَثِيلِ عَدَدِ أَبْوَابِ الْمَنْزِلِ
وَنَوَافِذِهِ.



أَسْتَكَشِفُ



أَتَعَلَّمُ الْيَوْمَ

تفسير البيانات الممثلة
بالصُّور

ما المعلومات التي يمكن أن أحصل عليها بالنظر إلى هذا التمثيل بالصُّور؟

الأيام المُشمسة في شهر آذار						
الأسبوع الأول						
الأسبوع الثاني						
الأسبوع الثالث						
الأسبوع الرابع						
المفتاح: كل تمثل يومًا.						

أَتَعَلَّمُ



أحصل على كثير من المعلومات عندما أفسر البيانات الممثلة بالصُّور في الجدول المجاور.

اللون المفضل						
أحمر						
أخضر						
أسود						
المفتاح: كل تمثل شخصين						

• ما اللون الذي يفضله أكبر عدد من الطلبة؟ اللون الأحمر

• ما عدد الطلبة الذين يفضلون اللون الأسود؟ 10

• ما الفرق بين عدد الطلبة الذين يفضلون اللون الأحمر

والأخضر؟ $12 - 8 = 4$

• ما عدد الطلبة الذين سئلوا عن لونها المفضل؟ $12 + 8 + 10 = 30$

أَتَحَدَّثُ: ماذا يعني تفسير البيانات الممثلة بالصُّور؟





العَصِيرُ الْمُفْضَلُ	
الْبُرْتُقَالُ	👤 👤 👤 👤
الْجَزَرُ	👤 👤
الْعِنَبُ	👤 👤 👤
المِفْتَاحُ: كُلُّ 👤 تُمَثِّلُ طَالِبِينَ.	

يُبَيِّنُ التَّمَثِيلُ بِالصُّورِ الْمُجَاوِرِ الْعَصِيرَ الْمُفْضَلَ لِمَجْمُوعَةٍ مِنَ الطَّلَبَةِ:

1 ما الْعَصِيرُ الَّذِي يُفْضَلُهُ أَكْبَرُ عَدَدٍ مِنَ الطَّلَبَةِ؟

2 ما عَدَدُ الطَّلَبَةِ الَّذِينَ يُفْضَلُونَ عَصِيرَ الْجَزَرِ؟

3 ما عَدَدُ الطَّلَبَةِ الَّذِينَ سُئِلُوا عَنْ عَصِيرِهِمُ الْمُفْضَلِ؟

4 كَمْ يَزِيدُ عَدَدُ الطَّلَبَةِ الَّذِينَ يُفْضَلُونَ عَصِيرَ الْبُرْتُقَالِ عَلَى

عَدَدِ الطَّلَبَةِ الَّذِينَ يُفْضَلُونَ عَصِيرَ الْعِنَبِ؟

لَوْنُ الْعُيُونِ	
أَخْضَرُ	▲ ▲
أَسْوَدُ	▲ ▲ ▲ ▲
بُنْيُ	▲ ▲ ▲ ▲ ▲ ▲ ▲
المِفْتَاحُ: كُلُّ ▲ تُمَثِّلُ 3 أَشْخَاصٍ.	

يُبَيِّنُ التَّمَثِيلُ بِالصُّورِ الْمُجَاوِرِ أَلْوَانَ عُيُونِ بَعْضِ طَلَبَةِ الصَّفِّ الثَّانِي:

5 ما لَوْنُ الْعُيُونِ الْأَكْثَرِ انْتِشَارًا؟

6 ما لَوْنُ الْعُيُونِ الْأَقَلِّ انْتِشَارًا؟

7 ما مَجْمُوعُ عَدَدِ الطَّلَبَةِ الَّذِينَ عُيُونُهُمْ خَضِرَاءُ

وَالَّذِينَ عُيُونُهُمْ بُنْيُ؟

أَحْلُ الْمَسْأَلَةَ



8 في السَّوَالِ السَّابِقِ، ما عَدَدُ الطَّلَبَةِ الَّذِينَ عُيُونُهُمْ لَيْسَتْ بُنْيُ؟

نشاط منزلي: أَطْلُبُ إِلَى طِفْلي/ طِفْلَتِي اسْتِعْمَالَ الصُّورِ لِتَمَثِيلِ عَدَدِ الْقُمْصَانِ وَالْبِنَطَلَاتِ وَالْجَاكِتَاتِ فِي خِزَانَتِهِ، مُسْتَعْمِلًا الْمِفْتَاحَ الْآتِي: «كُلُّ ★ تُمَثِّلُ قِطْعَتِي مَلَابِسٍ» ثُمَّ أَسْأَلُهُ/ أَسْأَلُهَا عَنِ النُّوعِ الْأَكْثَرِ تَكَرَّرًا، وَالنُّوعِ الْأَقَلِّ تَكَرَّرًا.



أَتَعَلَّمُ الْيَوْمَ

جَمْعُ بَيَانَاتٍ وَتَنْظِيمُهَا فِي
جَدُولِ الْإِشَارَاتِ.

الْمُضْطَلَحَاتُ

• جَدُولُ الْإِشَارَاتِ

أَسْتَكْشِفُ

مَا أَنْوَاعُ الْفَاكِهَةِ الَّتِي تَرَاهَا فِي الصُّورَةِ؟



أَتَعَلَّمُ

أَسْتَعْمِلُ جَدُولَ الْإِشَارَاتِ (tally chart)؛ لِأَنْظِمَ الْبَيَانَاتِ، وَأُفَسِّرَهَا، وَأُقَارِنَ بَيْنَهَا بِسُهُولَةٍ، وَلِكَيْ أَنْظِمَ هَذِهِ الْبَيَانَاتِ، أَضَعُ إِشَارَةً (/) مُقَابِلَ كُلِّ إِجَابَةٍ.

هَذَا جَدُولُ
إِشَارَاتٍ.

/	//	///	////	####	####/
1	2	3	4	5	6



الْفَاكِهَةُ	الْإِشَارَاتُ
مَوْزٌ	###
تُفَّاحٌ	///
بُرْتُقَالٌ	//

سُئِلَ 10 طَلَبَةٍ عَنْ نَوْعِ الْفَاكِهَةِ الَّتِي يُفَضِّلُونَهَا، فَكَانَتْ
الْإِجَابَاتُ كَالآتِي: مَوْزٌ، مَوْزٌ، تُفَّاحٌ، بُرْتُقَالٌ، مَوْزٌ، تُفَّاحٌ،
مَوْزٌ، بُرْتُقَالٌ، تُفَّاحٌ، مَوْزٌ.

أَنْظِمُ الْبَيَانَاتِ السَّابِقَةَ فِي جَدُولِ الْإِشَارَاتِ.

أَتَحَدَّثُ: كَيْفَ أَنْظِمُ الْبَيَانَاتِ فِي جَدُولِ الْإِشَارَاتِ؟





1 أَسْأَلُ طَلَبَةَ صَفِّي عَنِ الْفَصْلِ الْمُفَضَّلِ لَدَيْهِمْ/ لَدَيْهِنَّ، ثُمَّ أَنْظِمُ الْبَيَانَاتِ فِي الْجَدُولِ الْآتِي:

الْفَصْلُ الْمُفَضَّلُ		
الْمَجْمُوعُ	الْإِشَارَاتُ	الْفَصْلُ
		الشَّتَاءُ
		الرَّيْعُ
		الصَّيْفُ
		الْخَرِيفُ

2 أَنْظِمُ فِي جَدُولِ الْإِشَارَاتِ الْبَيَانَاتِ الْآتِيَةِ الَّتِي تُمَثِّلُ الْهَوَايَةَ الْمُفَضَّلَةَ لِعَشْرَةِ طَلَبَةٍ:

الرِّيَاضَةُ، الرَّسْمُ، الْقِرَاءَةُ، الْقِرَاءَةُ، الرَّسْمُ،
الرَّسْمُ، الرِّيَاضَةُ، الرِّيَاضَةُ، الرِّيَاضَةُ، الرَّسْمُ.

أَحْلُ الْمَسْأَلَةَ



نَوْعُ الْأَزْهَارِ	الْإِشَارَاتُ
جُورِيٌّ	/// ###
نَرْجِسٌ	///
يَاسْمِينٌ	###

3 أَكْتَشَفُ الْخَطَأَ: جَمَعْتُ زَيْنَبُ بَيَانَاتٍ حَوْلَ نَوْعِ الْأَزْهَارِ الْمُفَضَّلِ لَدَى طَالِبَاتِ صَفِّهَا، فَكَانَتْ الْبَيَانَاتُ كَمَا يَأْتِي: 8 يُفَضِّلْنَ الْجُورِيَّ، 3 يُفَضِّلْنَ النَّرْجِسَ، 5 يُفَضِّلْنَ الْيَاسْمِينَ. ثُمَّ نَظَّمْتُ الْبَيَانَاتِ فِي جَدُولِ الْإِشَارَاتِ الْمُجَاوِرِ.

أَكْتَشَفُ الْخَطَأَ الَّذِي وَقَعْتُ فِيهِ زَيْنَبُ، وَأُصَحِّحُهُ.

نَشَاطٌ مَنَزَلِيٌّ: أَطْلُبُ إِلَى طِفْلِي/ طِفْلَتِي اسْتِعْمَالَ جَدُولِ إِشَارَاتٍ لِمُثَبِّلِ عَدَدِ حَبَّاتِ الْفَاكِهَةِ الْمُتَوَافِرَةِ فِي الْمَنْزِلِ.



أَسْتَكَشِفُ



إِلَى أَيِّ الْأَمَاكِينِ تَتَوَقَّعُ أَنْ يَذْهَبَ الطَّلَبَةُ فِي رِحْلَتِهِمْ؟

الأَمَاكِينُ الْمُفَضَّلَةُ	
المَكَانُ	الإِشاراتُ
مَحْمِيَّةُ ضانا	### ### ### ### ###
مُتَنَزَّهَةُ عَمَّانَ الْقَوْمِيُّ	/ ###
الْمُدَرِّجُ الرُّومَانِيُّ	////

أَتَعَلَّمُ



أَقْرَأُ الْبَيَانَاتِ الْمُنْتَظَمَةَ فِي جَدُولِ الإِشاراتِ، وَأُفَسِّرُهَا مُعَبِّرًا عَنِ الإِشاراتِ بِالْمَجْمُوعِ.

أَعُدُّ الإِشاراتِ
وَأَكْتُبُ الْمَجْمُوعَ



الطَّيْرُ الْمُفَضَّلُ		
الطَّيْرُ	الإِشاراتُ	الْمَجْمُوعُ
البَطَّةُ	//// ###	
الحَمَامَةُ	//// ### ###	
الدَّجَاجَةُ	// ###	

- ما الطَّيْرُ الَّذِي يُفَضِّلُهُ الْعَدَدُ الْأَكْثَرُ مِنَ الطَّلَبَةِ؟ **الحَمَامَةُ**
- ما الْفَرْقُ بَيْنَ عَدَدِ الطَّلَبَةِ الَّذِينَ يُفَضِّلُونَ الْحَمَامَةَ وَالْبَطَّةَ؟ **$14 - 9 = 5$**
- ما مَجْمُوعُ الطَّلَبَةِ الَّذِينَ سُئِلُوا عَنْ طَيْرِهِمِ الْمُفَضَّلِ؟ **$9 + 14 + 7 = 30$**

أَتَحَدَّثُ: كَيْفَ أُفَسِّرُ الْبَيَانَاتِ الْمُمَثَّلَةَ فِي جَدُولِ الإِشاراتِ؟





أُجِيبُ عَنِ الْأَسْئَلَةِ الْآتِيَةِ مُسْتَعْمِلًا جَدْوَلَ الْإِشَارَاتِ الْمُجَاوِرَ:

اللونُ الْمُفَضَّلُ		
اللونُ	الإشاراتُ	المجموعُ
أَحْمَرُ	/// ###	8
أَخْضَرُ	//// ###	9
أَبْيَضُ	### ###	10

1 ما اللونُ الَّذِي يُفَضِّلُهُ أَقَلُّ عَدَدٍ مِنَ الطَّلَبَةِ؟

2 ما اللونُ الَّذِي يُفَضِّلُهُ الْعَدَدُ الْأَكْثَرُ مِنَ الطَّلَبَةِ؟

3 ما عَدَدُ الطَّلَبَةِ الَّذِينَ يُفَضِّلُونَ اللَّوْنَيْنِ: الْأَحْمَرَ وَالْأَبْيَضَ؟

الهوايةُ الْمُفَضَّلَةُ		
الهوايةُ	الإشاراتُ	المجموعُ
القراءةُ	//// ### ###	14
الرَّسْمُ	/ ###	6
التَّصْوِيرُ	/ ### ### ###	16

أُجِيبُ عَنِ الْأَسْئَلَةِ الْآتِيَةِ مُسْتَعْمِلًا جَدْوَلَ الْإِشَارَاتِ الْمُجَاوِرَ:

4 ما الهوايةُ الْأَكْثَرُ تَفْضِيلًا لَدَى الطَّلَبَةِ؟

5 ما الهوايةُ الْأَقَلُّ تَفْضِيلًا لَدَى الطَّلَبَةِ؟

6 كَمْ يَزِيدُ عَدَدُ الطَّلَبَةِ الَّذِينَ يُفَضِّلُونَ الْقِرَاءَةَ عَلَى

عَدَدِ الطَّلَبَةِ الَّذِينَ يُفَضِّلُونَ الرَّسْمَ؟



7 أَكْشَفُ الْخَطَأَ: يَقُولُ خَالِدٌ: إِنَّ (###) فِي الْجَدْوَلِ السَّابِقِ تُمَثِّلُ أَرْبَعَةَ طُلَّابٍ، فَهَلْ مَا يَقُولُهُ خَالِدٌ صَحِيحٌ؟

نشاط منزلي: أَطْلُبُ إِلَى طِفْلي / طِفْلَتِي تَنْظِيمَ الْبَيِّنَاتِ حَوْلَ أَنْوَاعِ الْأَكْوَابِ الْمُتَوَافِرَةِ فِي الْبَيْتِ، ثُمَّ أَسْأَلُهُ / أَسْأَلُهَا عَنْ مَجْمُوعِ عَدَدِ الْأَكْوَابِ، أَوْ الْفَرْقِ بَيْنَ عَدَدِ أَكْوَابِ الْقَهْوَةِ وَالْمَاءِ، وَهَكَذَا.






لِنَلْعَبْ مَعًا

عَدَدُ اللَّاعِبِينَ

6

تَمَثِيلُ النُّجُومِ



الْمَوَادُّ وَالْأَدَوَاتُ:

- حَجَرُ نَرْدٍ.
- نُجُومٌ مُلَوَّنَةٌ لِاصِقَةٍ.

قَوَاعِدُ اللَّعْبَةِ:

- اخْتَارْ رَقْمًا مِنْ 1 إِلَى 6
- اُلْقِ حَجَرَ النَّرْدِ.
- يُلصِقُ صَاحِبُ الرِّقْمِ الظَّاهِرِ عَلَى حَجَرِ النَّرْدِ نَجْمَةً فِي الْمُرَبَّعِ.
- تُكَرَّرُ رَمِي حَجَرِ النَّرْدِ، وَيَفُوزُ مَنْ يَمْلَأُ عَمُودَهُ أَوَّلًا.

1	2	3	4	5	6

الحيوان المُفترس		
الحيوان	إشارات العدّ	العدّد
الأسد		
النمر		
الذئب		

سأل فيس أصدقاءه عن الحيوان المُفترس الذي أُعجبوا برؤيته في حديقة الحيوانات، فكانت الإجابات كما يأتي:
10 أُعجبهم الأسد، و5 أُعجبهم النمر، و7 أُعجبهم الذئب.

1 أمثل البيانات في الجدول المُجاور.

2 كم صديقاً أُعجبه الأسد؟

3 أيّ الحيوانات المُفترسة أُعجب به أكبر عددٍ من الأصدقاء؟

4 كم يزيد عدد الأصدقاء الذين أُعجبهم الأسد، على عدد الأصدقاء الذين أُعجبهم النمر؟

5 ما عدد الأصدقاء الذين أُعجبوا بالنمر والذئب؟

تدريب على الاختبارات الدولية



عدد أقلام التلوين	
ماجد	
ليث	
قصي	
أحمد	
المفتاح: كل تمثّل قلمي تلوين.	

يبيّن التمثيل بالصُور المُجاور عدد أقلام التلوين التي في حقائب أربعة طلاب:

6 من الطالب الذي في حقيبته 6 أقلام تلوين؟

7 من الطالب الذي في حقيبته أكبر عددٍ من أقلام التلوين؟

8 كم عدد أقلام التلوين في حقائب الطلاب جميعهم؟

9 كم يزيد عدد أقلام التلوين في حقيبته ماجد على عدد أقلام التلوين في حقيبته قصي؟

10 يوجد طالبان مجموع عدد أقلام التلوين في حقيبتيهما يساوي عدد أقلام التلوين في حقيبته ليث، فمن هما؟

أَسْئَلَةٌ تَرَاكُمِيَّةٌ

أَجِدُ النَّاتِجَ ذَهْنِيًّا:

1 $242 + 29 =$ _____

2 $753 + 200 =$ _____

3 $652 + 72 =$ _____

4 $347 - 100 =$ _____

5 $452 - 48 =$ _____

6 $517 - 47 =$ _____

أُقَرِّبُ الْأَعْدَادَ الْآتِيَةَ إِلَى أَقْرَبِ 100

7 $438 \rightarrow$ _____

8 $534 \rightarrow$ _____

9 $806 \rightarrow$ _____

10 $653 \rightarrow$ _____

11 أَحْوَطُ الْعَدَدَ الْفَرْدِيَّ: 108 , 365 , 861 , 598 , 714 , 513

12 أَرْتَّبُ الْأَعْدَادَ تَصَاعُديًّا:

537 , 573 , 375 , 357 _____ , _____ , _____ , _____

أَجِدُ النَّاتِجَ:

13 $134 + 156 =$ _____

14 $125 - 113 =$ _____

15 $476 + 217 =$ _____

16 $586 - 398 =$ _____

أَكْتُبُ الْعَدَدَ بِالصُّورَةِ التَّحْلِيلِيَّةِ:

17 $642 =$ _____ $+$ _____ $+$ _____

18 $807 =$ _____ $+$ _____ $+$ _____