

كراسة

التربية الاجتماعية و الوطنية

اسم الطالب :

الصف الثالث – الشعبة ()

المدرسة :

الفصل الدراسي الثاني

اعداد المعلمة : اسراء جرادات

٢٠١٧-٢٠١٨



الوحدة الثالثة : سيرة وطن وقيادة

الدرس الاول : جلالة الملك طلال بن عبد الله.....ص ٤

الدرس الثاني : جلالة الملك الحسين بن طلال (الملك الباني).....ص ٧

الدرس الثالث : نعمل من أجل وطني.....ص ١١

الوحدة الرابعة : رحلتني في وطني

الدرس الاول : وطني الاردنص ١٨

الدرس الثاني : التقسيمات الادارية للمملكة الأردنية الهاشمية.....ص ٢١

الدرس الثالث : عمان عاصمة وطنيص ٢٣

الدرس الرابع : معالم اثرية وسياحية في وطنيص ٢٦

الوطنية

سيرة وطن وقائد



اعداد المعلمة : اسراء جرادات

- ٣ -

اعداد المعلمة : اسراء جرادات

جلالة الملك طلال بن عبد الله

أحمد طالب في الصف الثالث يحب جده كثيرًا ويجلس معه كل يوم ليحدثه عن

وطنه الأردن قال أحمد لجده : لقد وعدتني يا

جدي أن تحدثني عن جلالة الملك طلال يا جدي



قال الجد : هو طلال بن عبد الله بن الحسين ،

ثاني ملوك المملكة الأردنية الهاشمية ،

تولى الحكم بعد استشهاد والده الملك عبد الله ، وتزوج الملكة زين الشرف ، وقد

كانت فترة حكمه قصيرة دامت عامين اثنين فقط وذلك نظرًا لسوء حالته الصحيّة

ومرضه الشديد قرر مجلس الأمة إنهاء ولايته ، والمناداة بابنه الأكبر الأمير الحسين

ملكًا دستوريًا للبلاد.

الدستور

هو الوثيقة الأساسية التي
تحدد نظام الحكم في الدولة،
والقوانين التي تُبين حقوق
وواجبات المواطنين لتسهيل
إدارة شؤون البلاد .


😊 انجازات جلالة الملك طلال 😊

١- وضع دستور جديد للبلاد


٢- وجعل التعليم إلزاميًا مجانيًا

سأل أحمد : وهل لديه أبناء غير الملك الحسين يا جدي ؟


أجاب الجد : نعم يا بني لديه أربعة من الأبناء وهم :



والأمير الحسن



جلالة الملك الحسين



والأمير محمد



والأميرة بسمة

قال أحمد : شكرًا يا جدي لقد قدمت لي المتعة والفائدة .

اعداد المعلمة : اسراء جرادات

- ٥ -

اعداد المعلمة : اسراء جرادات

الأسئلة :

١- عرّف الدستور :

.....

٢- متى تولى جلالة الملك طلال بن عبدالله الحكم ؟

.....

٣- ما اسم زوجة جلالة الملك طلال بن عبدالله ؟

.....

٤- لماذا قام مجلس الأمة بإنهاء مدة ولاية الملك طلال ؟

.....

٥- من تولى الحكم بعد الملك طلال ؟

.....

٦- اذكر انجازات الملك طلال :

١-

٢-


٧- سمّ أبناء جلالة الملك طلال بن عبدالله :

١. ٣

٢. ٤

الدرس الثاني

جلالة الملك الحسين بن طلال (الملك الباني)



جلالة الملك الحسين بن طلال هو الملك الباني للأردن ، ولد الحسين بن طلال في عمان بتاريخ ١٤ تشرين الثاني عام ١٩٣٥م ، وهو ثالث ملوك المملكة الأردنية الهاشمية ، والابن الأكبر للملك طلال تولى الحكم وهو بعمر ١٨ سنة وأبناءه هم :



الأمير علي



الأمير فيصل



الملك عبدالله الثاني



الأمير هاشم



الأمير حمزة

اعداد المعلمة : اسراء جرادات

- ٧ -

اعداد المعلمة : اسراء جرادات

إنجازاته الخالدة :

بإنهاء خدمات كلوب باشا البريطاني الذي كان يتولى قيادة الجيش .

١- عرّب قيادة الجيش

حقق الجيش العربي انتصارًا كبيرًا على الجيش الاسرائيلي في معركة الكرامة .


٢- الانتصار في معركة الكرامة .

من المنجزات الحضارية في عهد الملك الحسين بن طلال :

٢- انتشار المدارس والجامعات



١- بناء السدود



٤- بناء المستشفيات والمراكز الصحية



٣- بناء الملاعب والمدن الرياضية



• توفي جلالتة في السابع من شهر شباط لعام ١٩٩٩

اعداد المعلمة : اسراء جرادات

- ٨ -

اعداد المعلمة : اسراء جرادات

أسئلة الدرس

١. إملأ الفراغ في الجمل الآتية بما يناسبها من كلمات وتراكيب :

أ. ولد الحسين بن طلال في بتاريخ

ب. يُسمّى الحسين بن طلال بالملك :

ج- كان عمره عندما تولى الحكم :

د- توفي عام

٢. أذكر أسماء أبناء الملك الحسين مرتبة من الأكبر للأصغر عمرًا:

أ.

ب.

ج.

د.

هـ.

نشاط : هاشم طالب في الصف الثالث ، يريد مساعدته على ذكر بعض منجزات الملك الحسين بن طلال :



في مجال الزراعة: إنشاء



في مجال الصناعة: إنشاء



في مجال التعليم العالي: إنشاء



نشيد

أَنَا الْكَرَامَةُ

أَنَا الْكَرَامَةُ

يَا أَهْلِي الْكِرَام

لِتَصْرِكُمْ عَلَامَةً

عَلَى مَدَى الْأَيَّامِ

دَافَعْتُ فِي إِصْرَارِ

عَنْ حُزْمَةِ الدِّيَارِ

عَنْ جَوْلَةِ الشَّهَامَةِ

فَلْتَسْأَلُوا آذَارِ

وَقِصَّةُ الْأَبْطَالِ

أَنَا سَاحَةُ الرِّجَالِ

حِكَايَةُ الْكَرَامَةِ

سَجَلْتُ لِلْأَجْيَالِ

نعمل من أجل وطني

ان الانسان بطبعه اجتماعي يحرص على أن يتشارك مع الناس في مناسباتهم المختلفة ، ولا يتردد على تقديم المساعدة لهم وقت الحاجة .

نشاط: عبّر بجملة مفيدة من انشائك عن موقف المشاركة في الصور التالية:



انطلقت تكبيرات العيد إيذاناً بالإعلان عن أن يوم غد هو أول أيام عيد الفطر السعيد ، وعند سماع ذلك أسرع سالم إلى والده فرحاً مسروراً ، فوجده قد استعد للخروج لتوزيع صدقات الفطر وملابس العيد على الفقراء ، طلب سعيد من والده أن يرافقه ، وفي الصباح ذهب سالم برفقة والده لصلاة العيد وبعد أن أدبوا الصلاة رافق سالم والده في زيارة لأقاربهم؛ ولتقديم التهاني بالعيد وعندما عادا للمنزل، استقبل سالم ووالده الضيوف وقدم لهم القهوة وحلوى العيد، لقد كان يوماً جميلاً في حياته .

أجب عما يلي معتمداً على النص :

١- كيف أمضى سالم يوم العيد ؟

٣- هل كانت مشاركته ذات فائدة ؟

٤- هل مشاركة الآخرين في الأعياد مهمة ؟

٥- أذكر مناسبات أخرى علينا مشاركة الآخرين فيها

مواقف من حياة الرسول ﷺ

المشاركة سرّ النجاح

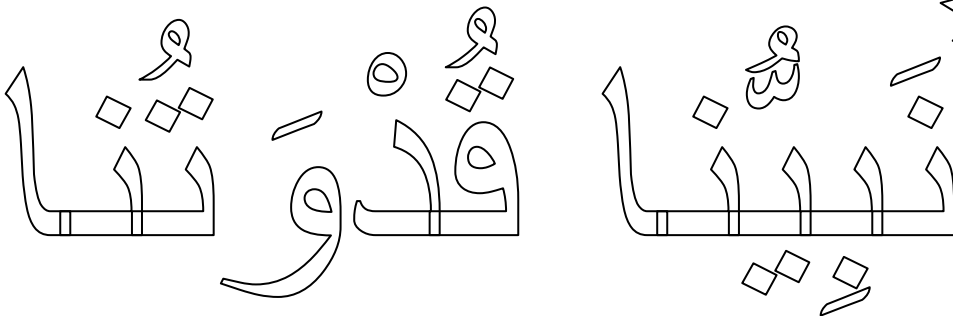
بعد هجرة الرسول ﷺ إلى المدينة المنورة ، بدأ العمل مع أصحابه في بناء المسجد النبوي ليصلوا فيه وليجتمعوا فيه لبحث شؤون حياتهم شارك الرسول ﷺ بنفسه في بناء المسجد فكان عليه السلام يحمل التراب والطوب مع أصحابه وكان عمره ٥٣ عامًا ، ولم يمنعه سنّه من التعاون مع أصحابه في بناء المسجد ، الذي كانت أعمدته من جذوع النخيل وسقفه من الجريد (أوراق النخيل) .

الرسول ﷺ...الأمثل الأعلى في المشاركة

في غزوة الخندق حفر الرسول ﷺ والمسلمون خندقًا حول المدينة المنورة إستجابة لرأي الصحابي سلمان الفارسي قسّم الرسول ﷺ العمل بين الصحابة ، وجعل لنفسه نصيبًا من العمل ، فكان يحفر معهم ويحمل التراب بنفسه مثل أصحابه كان الرسول ﷺ يعمل ذلك العمل الشاق ضاربًا المثل الأعلى والقُدوة الحسنة لأصحابه . وبفضل ذلك التعاون أتمّ المسلمون حفر الخندق في ستة أيام ، على الرغم من طوله وعرضه واتساعه وعمقه ، ولما جاء المشركون فوجئوا بهذا الخندق واندھشوا من قدرة المسلمين على انجاز هذا العمل في وقت قصير وبعدهم القليل .

في كلا الموقفين شارك الرسول ﷺ الصحابة الكرام عملهم فكان عليه الصلاة والسلام : متواضعًا وبيّث في أنفسهم حُب العمل و التعاون فيما بينهم

وعلينا الاقتداء بالرسول ﷺ وصحابته الكرام لنيل الاجر و الثواب من الله تعالى



نقتدي برسول الله ﷺ في مشاركة الغير وذلك في حياتنا اليومية بمواقف مختلفة من
الأمثلة عليها :

١- المشاركة في أعمال المنزل :



٢- المشاركة في البيئة المدرسية :



٣- المشاركة في المجتمع :



نشاط :

١- أكمل العبارات الآتية بما يجب أن تفعل:



الاسئلة

١. أكتب كلمة (أوافق) أو (لا أوافق) أمام العبارة المناسبة مما يلي :
- أ- (.....) شارك محمود أصدقاءه في قطع أغصان أشجار الحديقة .
- ب- (.....) شاركت زملائي في تقديم فقرات الاحتفال بيوم الاستقلال.
- ج- (.....) شارك أخي في خدمة الضيوف في عرس جيراننا .
- د- (.....) تشارك سعاد زميلتها دعاء في السخرية من طالبات الصف
- هـ- (.....) تشارك ايمان أخاها في مساعدة جارهم الكفيف .
- و- (.....) طلب إليّ صديقي مشاركته في كتابة عبارات مسيئة لزملائنا
- على جدران المدرسة .

٢. لَوّن السلوك الذي يدل على المشاركة :



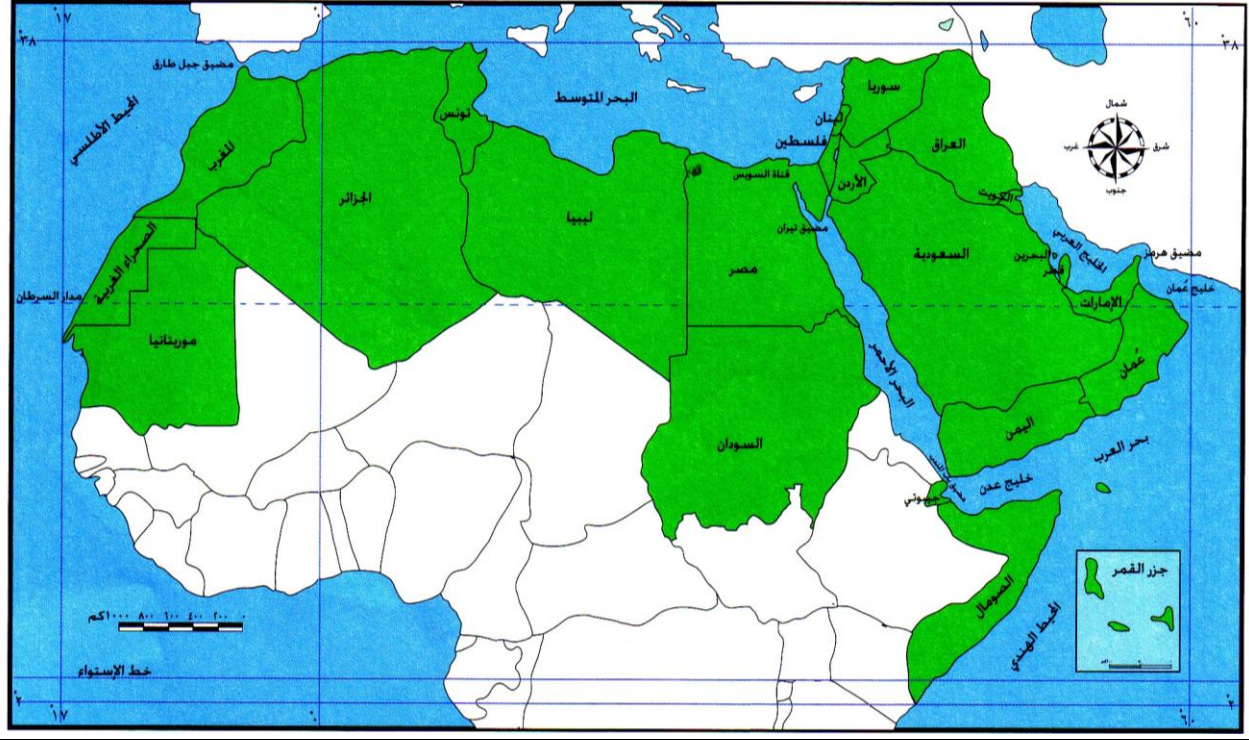
الجمهورية العربية السورية
الجمهورية العربية السورية

رحلة في وطني



وطني الأردن

خريطة الوطن العربي.

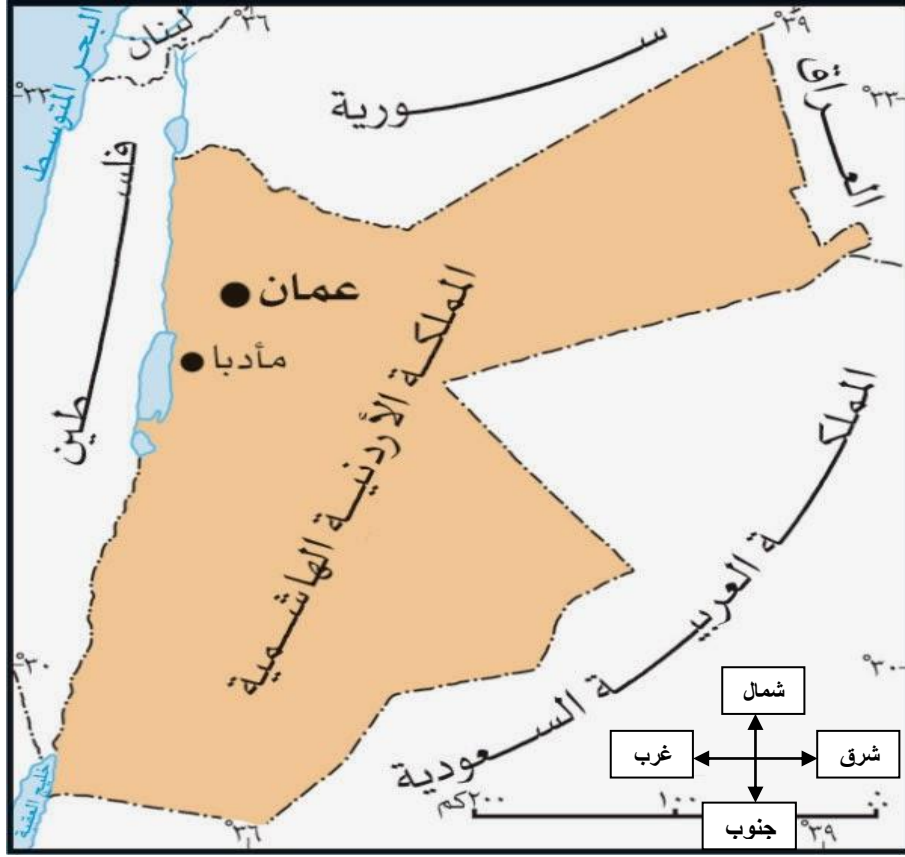


يمتد الوطن العربي في قارتي آسيا و أفريقيا ، ويقع وطننا الاردن في
قارة آسيا في شبه الجزيرة العربية .

ضع دائرة حول وطننا الاردن في الخريطة أعلاه ولاحظ موقعه .

يُعد موقع وطني الاردن مميزا لأنه يربط قارتي آسيا و افريقيا و يؤدي
دورا حضاريا وتاريخيا مهما كطريق للقوافل التجارية وطرق
المواصلات .

خريطة المملكة الاردنية الهاشمية :



من الخريطة أعلاه أجب عما يلي :

١. سَمِّ الدول التي تَحُدُّ وطني الأردن من :

أ - الشمال ب - الجنوب

ج - الشرق د - الغرب

٢. ما اسم المنفذ المائي الوحيد للأردن؟

٣. ما اسم البحر الذي يقع عليه؟

٤. لماذا سَمِّي وطني المملكة الأردنية الهاشمية ؟


١. المملكة

٢. الأردنية

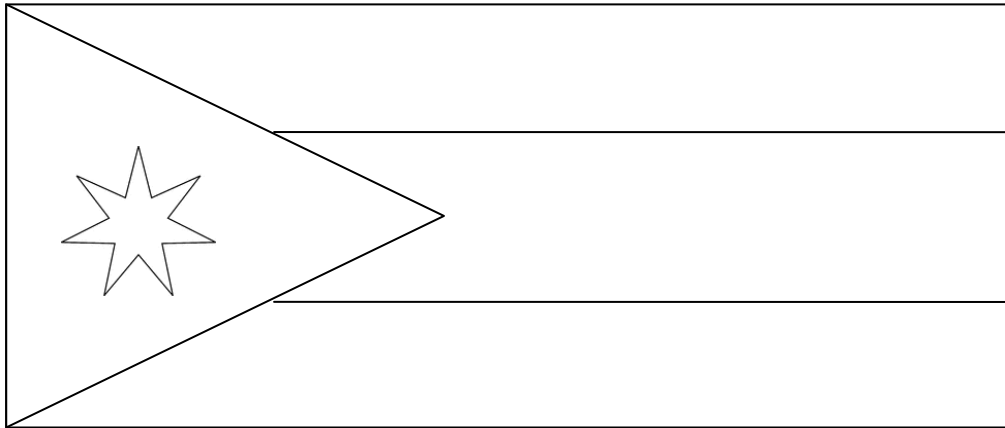
٣. الهاشمية

أسئلة الدرس

س١: أرسم خريطة الاردن التالية ثم حدد عليها اسماء الدول التي تحدّ وطني من جميع الاتجاهات .

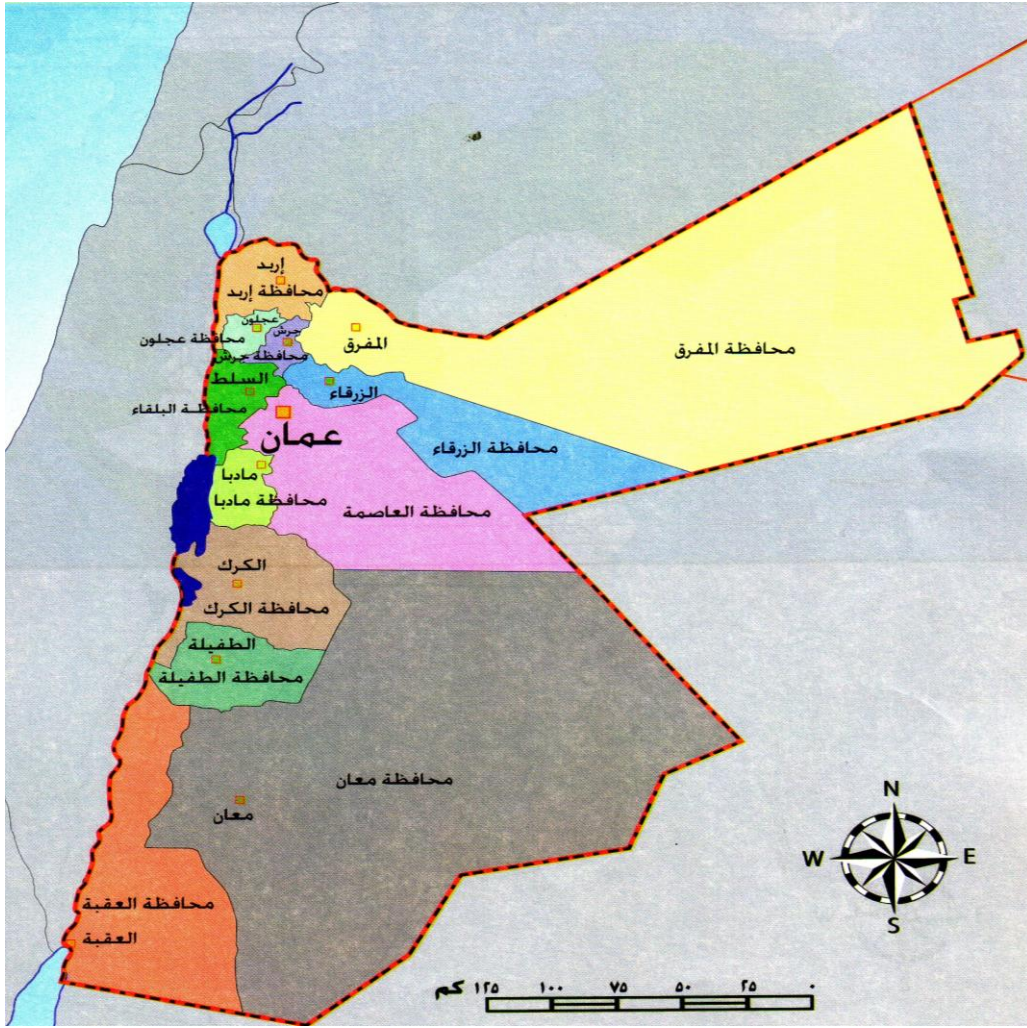


س٢: لَوّن علم وطني الاردن بالألوان الصحيحة :



الدرس الثاني

التقسيمات الادارية للمملكة الأردنية الهاشمية

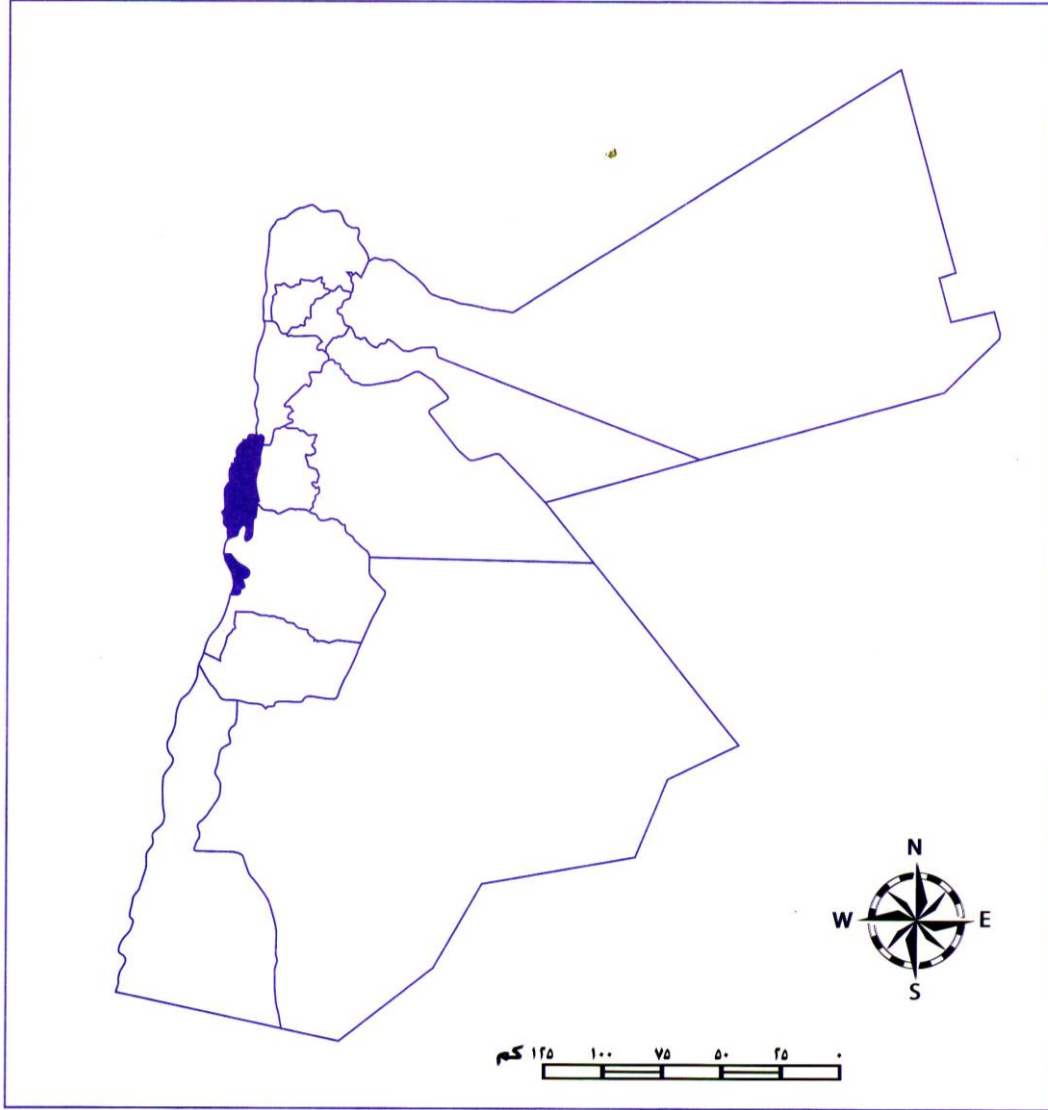


تتكون المملكة الأردنية الهاشمية من (١٢) محافظة تتوزع في ربوع وطني من الشمال الى الجنوب مقسمة في ثلاثة أقاليم كما يلي :

- ١ - محافظات اقليم الشمال : إربد ، جرش ، عجلون ، والمفرق .
- ٢ - محافظات اقليم الوسط : عمان (العاصمة) ، البلقاء ، الزرقاء ، ومادبا .
- ٣ - محافظات اقليم الجنوب : الكرك ، الطفيلة ، معان ، والعقبة .

أسئلة الدرس

أمامك خريطة المملكة الأردنية الهاشمية الصماء مقسمة حسب المحافظات :



١- اكتب أسماء المحافظات في أماكنها المناسبة

٢ - أ - لَوْن محافظات الشمال باللون الأخضر

ب - لَوْن محافظات الوسط باللون الأحمر

ج - لَوْن محافظات الجنوب باللون الأزرق

٣. سمّ المحافظة التي تقيم بها

اعداد المعلمة : اسراء جرادات

- ٢٢ -

اعداد المعلمة : اسراء جرادات

عمّان عاصمة وطني

عمّان : عاصمة المملكة الأردنية الهاشمية ، وهي مقرّ جلالة الملك ، وفيها المباني والوزارات المهمة . ومن أهم المعالم المعاصرة لمدينة عمّان الحديثة :



قصر رغدان العامر



جسر عبدون



وزارة الصحة

عمّان :

سكنها العمونيون واتخذوها عاصمة لهم وعرفت باسم ربّة عمّون (وتعني دار الملك) ثم سيطر عليها اليونانيون وأطلقوا عليها اسم (فيلادلفيا) .

* تضم عمان عدداً من المواقع الأثرية أهمها :

جبل القلعة : يقع بالقرب من الحسين ويشمل : البرج والهيكل والقصر والمتحف والكنيسة . وهو مقر عاصمة العمونيين وما زالت بقايا قصورهم موجودة هناك .



المدرج الروماني :

يقع خلف الساحة الهاشمية ، بُني المدرج تكريماً للأمبراطور مارينوس الذي زار عمان عام ١٣٠ م . وكان المدرج يستعمل لعرض المسرحيات ، ويتسع لحوالي ألف شخص .

متحف الآثار الأردني :

يقع على قمة جبل القلعة يحاكي تاريخ الأردن وخاصة تاريخ عمان .



أسئلة الدرس

١. ما هي عاصمة المملكة الأردنية الهاشمية؟

٢. عدد الاسماء التي أُطْلِقَتْ على عمان :

١.....

٢.....

٣. سَمِّ المواقع الاثرية الموجودة في عمّان :

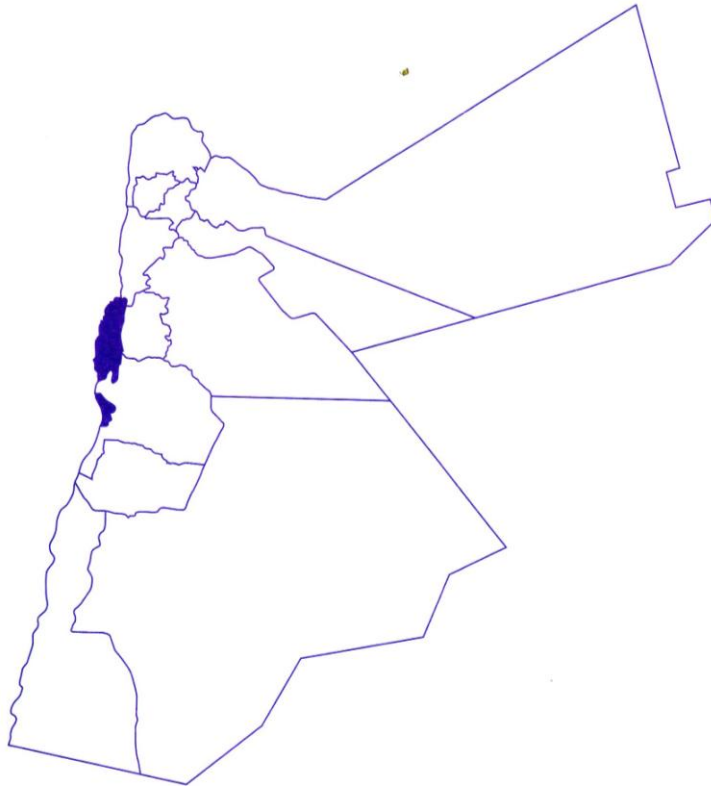
١..... ٢..... ٣.....

٤. سمّ ثلاثة وزارات موجودة في عمّان

١.....

٢..... ٣.....

٥. على الخريطة التالية حدد عاصمة وطني (عمّان) ولونها باللون المفضل لديك .



معالم اثرية وسياحية في وطني

يزخر وطني بالأماكن السياحية والأثرية وتتوزع هذه الأماكن على جميع محافظات وطني ومن أهمها :

١- قلعة عجلون (قلعة الرّبض)



تقع في محافظة عجلون بناها القائد المسلم عزّ الدين أسامة أحد قادة صلاح الدين الأيوبي ، تتميز بموقعها المهم وتسيطر على طرق المواصلات بين سوريا وجنوب الأردن ، وكان الهدف من بنائها مراقبة تحركات الصليبيين .

٢- مدينة جرش الأثرية



تقع في محافظة جرش بناها الرومان وهي أكبر المدن الأثرية والسياحية في المملكة، تتميز بجمالها ومن أهم معالمها المدرج و مسرح ارتيمس وشارع الأعمدة .

٣- حمامات ماعين



تقع في محافظة مادبا وهي مجمع سياحي متكامل فيه الشلالات ، والبرك العلاجية وفندق يقدم الخدمات العلاجية للأمراض الجلدية وامراض المفاصل .

٤- البحر الميت



أخفض بقعة في العالم ، وأشد البحار ملوحة فلا تعيش فيه أيُّ من الكائنات البحرية لذلك سُمِّي "بالبحر الميت" تستخدم مياهه في علاج الكثير من الأمراض الجلدية، ويوجد على شاطئه الجنوبي مصنع البوتاس الأردني.

٥- البتراء (المدينة الوردية)



تقع في محافظة معان وهي مدينة منحوتة في الصخر، صخورها وردية اللون لذلك سميت بالمدينة الوردية، بناها الأنباط واتخذوها عاصمة لهم و تعتبر من عجائب الدنيا السبع الجديدة .

٦- وادي رم



يقع جنوب الأردنّ في محافظة معان ، على بعد ٧٠ كم شمال مدينة العقبة الساحليّة يقصده الزوّار للتمتع بجمال الطبيعة الصحراوية ، وتسلق جباله الشاهقة .

٧- خليج العقبة



تضم محافظة العقبة خليج العقبة " ثغر الأردنّ الباسم " على البحر الأحمر ، ويشتهر بالشعب المرجانية والأسماك الملونة ، ويستطيع الزائر ممارسة الألعاب المائية المختلفة فيه .

الأسئلة

١. في أي المحافظات توجد الأماكن السياحية والأثرية؟

٢. أكمل الفراغ في الجمل التالية :

أ- الذي بنى قلعة عجلون

ب- من أهم معالم مدينة جرش الأثرية

ت- من استخدامات مياه حمامات ماعين

ث- أخفض بقعة في العالم هي

ج- ثغر الاردن الباسم هي

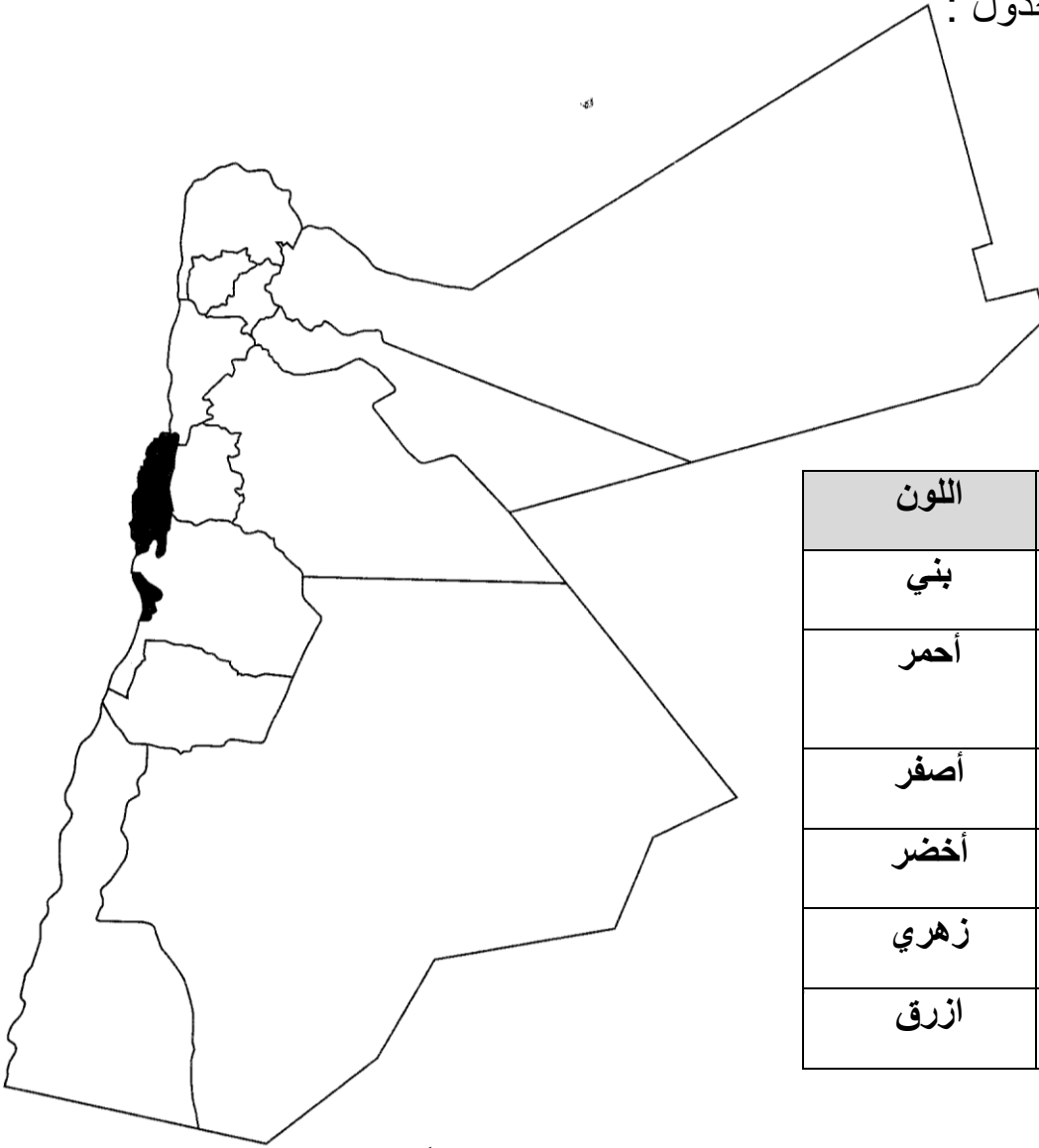
٣- أكتب سبب كل مما يلي :

١. سميت البتراء بالمدينة الوردية

٢. يقصد الزوار وادي رم

٣. بناء قلعة عجلون

٤ : في خريطة الاردن الصّماء لَوّن المحافظة التي فيها المعلم الاثري كما هو مطلوب في الجدول :



المعلم الاثري	اللون
قلعة عجلون	بني
حمامات ماعين	أحمر
جبل القلعة	أصفر
شارع الاعمدة	أخضر
البتراء	زهري
خليج العقبة	ازرق

٥: في المربع التالي ألصق صورة معلم أثري زُرْتَهُ سابقًا :

