

مدرسة ذكور ماركا الاعدادية الأولى




الصف الأول الأساسي

الصف الأول الأساسي

ملخص الاجتماعيات التقييمي

الفصل الدراسي الثاني

إعداد : يحيى أبو السعود



اسم الطالب :	_____
--------------	-------



إعداد المعلم يحيى أبو السعود

الدرس : أنظم وقتي

السؤال الأول : أملأ الفراغ بالكلمة المناسبة :

1	تنظيم _____ يساعدنا على ترتيب أعمالنا اليومية
2	أستيقظ من النوم _____
3	أحلّ واجباتي المدرسية _____
4	أذهب إلى النوم _____
5	الوقت مُهمّ في _____

السؤال الثاني : ضع إشارة (√) أو (×) :

- 1 - أتناول طعام الغداء في الليل
- 2 - وجود الشمس في وسط السماء يدل على أن الوقت صباحًا
- 3 - يحتوي اليوم الواحد على مجموعة أعمال أقوم بها
- 4 - تنظيم الوقت سر تفوقي ونجاحي
- 5 - أقضي مع أصدقائي وقتًا مناسبًا وليس طويلًا

السؤال الثالث : اكتب أربعة أوقات تمارس فيها أعمالك اليومية :

1	2
3	4



الدرس : آداب الحديث

السؤال الأول : أملأ الفراغ بالكلمة المناسبة :

1	أتحدّث إلى الآخرين بـ _____
2	أحترم معلّمتي و _____ إلى حديثها
3	أتحدّث بأدب وهدوء بحضور أُمي و _____
4	في غرفة الصف أستاذُن من _____ عند الحديث
5	أتحدّث بأدب عند شراء _____

السؤال الثاني : ضع دائرة حول الإجابة الصحيحة :

1	أنا إنسان :	أ- مُهذَّب	ب- مشاكس
2	أتحدّث بـ :	أ- بصوت عالٍ	ب - بهدوء
3	استمع لحديث الآخرين و :	أ- أقاطعهم	ب - لا أقاطعهم

السؤال الثالث : ضع دائرة على حاسة السمع ثم لونها :



السؤال الرابع : ضع دائرة على الكلمة التي تدل على آداب الحديث :

صُراخٌ احترامٌ أدَبٌ استماعٌ

هُدوءٌ مُقاطعةٌ استأذُنُ فَوْضى



الدرس : ملابس النظيفة

السؤال الأول : أملأ الفراغ بالكلمة المناسبة :

1	ارتدي _____ نظيفة ومرتبة وأحافظ على مظهري الخارجي
2	أحرص على _____ ملابس
3	أرتب ملابس في مكانها _____
4	ألتزم بآداب _____
5	لكل دولة زيّ تراثيّ _____ بها

السؤال الثاني : ضع دائرة حول الإجابة الصحيحة :

1	أرتدي ملابس :	أ- متسخة	ب- نظيفة
2	أرتب ملابس في :	أ- خزانة أخي	ب - خزانتي
3	لكل دولة :	أ- زيّ خاص	ب - شمس خاصة

السؤال الثالث : صل بين العبارة وما يناسبها :

1	عندما أذهب للنوم أرتدي ملابس	زيّ تراثي
2	عندما أذهب للعمل أرتدي ملابس	رياضية
3	عندما أذهب لاحتفال وطني أرتدي ملابس	النّوم
4	عندما ألعّب في الملعب أرتدي ملابس	رسمية

الدرس : كي أنجح

السؤال الأول : أملأ الفراغ بالكلمة المناسبة :


1	كي ننجح علينا أن نضع أهدافاً ونعمل بجد لتحقيق هذه _____
2	إنا إنسان _____
3	أقرأ قصصاً _____ وقيمة
4	أنظم _____
5	أشارك في _____ الرياضية

يحيى أبو السعود

السؤال الثاني : ضع إشارة (√) أو (×) :

- 1 - كي أنجح عليّ أن اعمل بجدّ وإخلاص
- 2 - من شروط النّجاح (الكسل)
- 3 - أضع أهدافاً لحياتي وأعمل على تحقيقها باستمرار
- 4 - النوم يحقق النّجاح
- 5 - يحقق النّجاح السّعادة للإنسان

السؤال الثالث : لون لغيمة التي تحتوي كلمات تحقق النّجاح :



إعداد المعلم يحيى أبو السعود

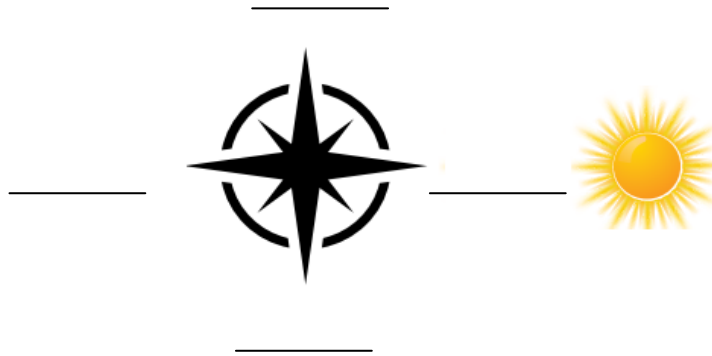
الدرس : الجهات الأربع الرئيسية

السؤال الأول : أملأ الفراغ بالكلمة المناسبة :

1	تُساعدنا الجهات _____ على تحديد مواقع الأماكن
2	نُحدد الجهات الأربع الرئيسية نهارًا بواسطة _____
3	تشرق الشمس من جهة _____
4	تغرب الشمس من جهة _____
5	يحد وطني الأردن من جهة الغرب _____

السؤال الثاني : اكتب الجهات الأربعة مستعينا بشروق الشمس :

جنوب
شرق
شمال
غرب



السؤال الثالث : ضع إشارة (√) أو (×) :

- 1 - يستعمل الطيار الجهات الأربعة في عمله
- 2 - يستعمل الطبّاخ الجهات الأربعة في عمله
- 3 - يحد وطني الأردن من جهة الشمال (سورية)
- 4 - يُسمى جهاز تحديد الجهات الأربعة بدقة (البوصلة)



السؤال الأول : أملأ الفراغ بالكلمة المناسبة :

1	استعمل الإنسان وسائل _____ منذ القدم
2	وسائل النقل تنقل الناس والبضائع من _____ إلى آخر
3	تطورت وسائل النقل عبر _____
4	من وسائل النقل الحديثة _____
5	وسائل النقل _____ أسرع من وسائل النقل القديمة

السؤال الثاني : ضع إشارة (√) أو (×) :

- 1 - من وسائل النقل القديمة الطائرة
- 2 - وسائل النقل توفر الوقت والجهد
- 3 - معنى كلمة الحديثة هو (الجديدة)
- 4 - تنقل وسائل النقل فقط الناس
- 5 - تتغير وسائل النقل عبر الزمن

السؤال الثالث : ضع دائرة حول الكلمة الدالة على وسائل النقل القديمة :

الحِصَانُ الطَّائِرَةُ قاربٌ باخِرَةٌ
السَّيَّارَةُ الجَمَلُ الحِمَارُ الحافِلةُ
الدَّرَاجَةُ النَّارِيَّةُ القَطَارُ الشَّاحِنَةُ



الدرس : السلع والخدمات

السؤال الأول : أملأ الفراغ بالكلمة المناسبة :

1	يحتاج _____ إلى كثيرٍ من الأشياء في حياته
2	ما تقدمه الدولة للمواطنين ، لتسهيل حياتهم تُسمى _____
3	أشياء يحتاجها الإنسان وتكون مفيدة له تُسمى _____
4	ألعاب الاطفال من _____ وليست من الخدمات
5	التعليم من _____ وليست من السلع

السؤال الثاني :ضع دائرة حول الإجابة الصحيحة :

1	المخبوزات من : أ- السلع ب- الخدمات
2	الأدوية من : أ- الخدمات ب - السلع
3	الأمن من : أ- السلع ب - الخدمات
4	المواصلات من : أ- الخدمات ب - السلع
5	الفواكه من : أ- الخدمات ب - السلع

السؤال الثالث : اكتب مثال على كل من السلع والخدمات :

الخدمات

السلع

1

1



الدرس : كرتي الأرضية

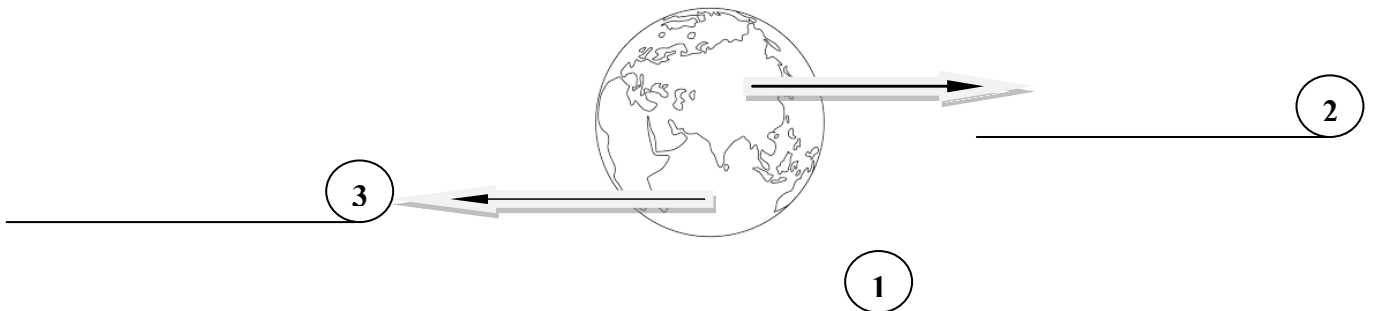
السؤال الأول : أملأ الفراغ بالكلمة المناسبة :

1	للكرة الأرضية شكلٌ _____
2	الأرض _____ تعيش فيه الكائنات الحية ومنها الإنسان
3	يتكون كوكب الأرض من يابسة و _____
4	أنا اليابسة تعيش على أرضي كائنات _____
5	انا _____ أحيط بالكرة الأرضية

السؤال الثاني : ضع إشارة (√) أو (×) :

1	- الماء أساس الحياة
2	- نستطيع العيش بدون هواء وماء
3	- اللون الأزرق في مجسم الكرة الأرضية يدل على اليابسة
4	- زراعة الأشجار والمحافظة على النظافة يجعل الأرض سعيدة
5	- أحافظ على كرتي الأرضية

السؤال الثالث : عبر عن الصورة واكتب ما تدل عليه الأرقام :



الدرس : أشكال سطح الكرة الأرضية

السؤال الأول : أملأ الفراغ بالكلمة المناسبة :

1	منطقة واسعة تتجمع فيها المياه المالحة _____
2	أرضي واسعة ومنبسطة _____
3	أرضي منخفضة أقع بين جبليْن _____
4	أرضي مرتفعة ولي قمة _____
5	مجرى مائي ولي ضفتين _____

السؤال الثاني : ضع دائرة حول المثال الصحيح :

1	مثال على سهول : أ- إربد ب- عجلون
2	مثال على وادي : أ- عجلون ب- رم
3	مثال على نهر : أ- اليرموك ب- إربد
4	مثال على بحر : أ- خليج العقبة ب- عجلون
5	مثال على جبال : أ- إربد ب- عجلون

السؤال الثالث : ضع دائرة على الكلمة التي تدل على أشكال سطح الأرض :

نهر كُرسِي قاربٌ وادي
جبال أزهار سهول كتاب
طاولة بحر ألعاب نقود



الدرس : بيتي الجميلة


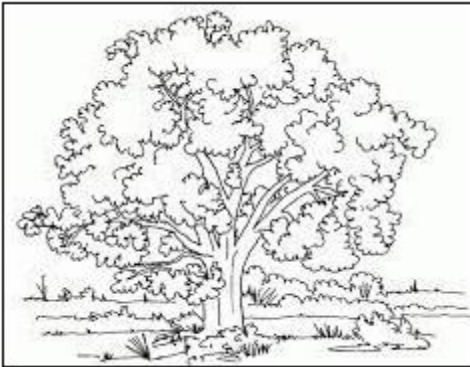
السؤال الأول : أملأ الفراغ بالكلمة المناسبة :

1	يعيشُ الإنسان في _____ جميلة يجب المحافظة عليها
2	يوجد في بيتي عناصر _____ وعناصر غير _____
3	أضع النفايات في أماكنها _____
4	أحب بيتي وأحافظ _____
5	محافظتي على بيتي عنوان انتمائي لـ _____

السؤال الثاني : ضع إشارة (√) أو (×) :

- 1 - في المحمية الطبيعية مسموح صيد الحيوانات
- 2 - ممنوع رمي النفايات إلا في أماكنها المخصصة
- 3 - في مناطق الأشجار الحرجية المعمرة ممنوع قطع الأشجار
- 4 - أبلغ والدي عند رؤية تسرب للمياه في الأماكن العامة
- 1 - لا أحافظ على بيتي في الرحلات مع أسرتي أو مدرستي

السؤال الثالث : اكتب ما تعبر عنه الصور ثم لون :



الدرس : الطقس من حولنا

السؤال الأول : أملأ الفراغ بالكلمة المناسبة :

1	الطقس حالة _____ خلال مدة زمنية قصيرة
2	قد تتغير حالة _____ من يوم لآخر على مدار العام
3	المصدر الرئيس للحرارة _____
4	درجة الحرارة مرتفعة ويشعر الناس بالحرّ يكون (_____)
5	تتساقط فيه الامطار يكون (_____)
6	لا توجد غيوم في السماء يكون (_____)
7	الغيوم كثيرة في السماء يكون (_____)
8	درجة الحرارة منخفضة ويشعر الناس بالبرد يكون (_____)

السؤال الثاني : ضع دائرة حول المثال الصحيح :

1	يرتدي الناس في الطقس البارد ملابس : أ- خفيفة ب- ثقيلة
2	يرتدي الناس في الطقس الحار ملابس : أ- خفيفة ب- ثقيلة
3	درجة الحرارة هي (35) الطقس : أ - حار ب - بارد
4	درجة الحرارة هي (15) الطقس : أ - حار ب - بارد

السؤال الثالث : اكتب ما تعبر عنه الإشارات التالية لحالة الطقس :





إعداد المعلم يحيى أبو السعود