



9

الصف التاسع

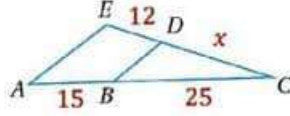
# رياضيات

الامتحان النهائي



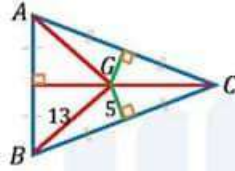
السؤال الأول: أختار الإجابة الصحيحة في كل مما يأتي:

(1) في الشكل المجاور، إذا كان  $\overline{DB} \parallel \overline{AE}$ ، فإن قيمة  $x$ :



- a)  $x = 15$       b)  $x = 18$   
c)  $x = 20$       d)  $x = 14$

(2) في الشكل المجاور، طول  $AY$ :

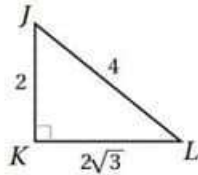


- a)  $AY = 6$       b)  $AY = 5$   
c)  $AY = 13$       d)  $AY = 12$

(3) قياس  $\angle B$  في المثلث القائم إذا كان  $\sin B = 0.5$ :

- a)  $m\angle B = 30^\circ$       b)  $m\angle B = 90^\circ$   
c)  $m\angle B = 60^\circ$       d)  $m\angle B = 45^\circ$

(4) معتمدًا المعلومات المعطاة في الشكل المجاور، أحدد النسبة المثلثية التي تساوي  $\frac{1}{2}$ :



- a)  $\cos K$       b)  $\sin L$   
c)  $\sin J$       d)  $\sin K$



(5) أبسط قيمة للمقدار  $((-3x^2)^4)^{-1}$ :

a)  $\frac{1}{-81x^8}$   
c)  $\frac{1}{3x^8}$

b)  $\frac{1}{81x^8}$   
d)  $\frac{1}{-3x^8}$

(6) أبسط قيمة للمقدار  $\sqrt{121x^3y^4z^5}$ ,  $x > 0$ :

a)  $11xy^2z^2\sqrt{xz}$   
c)  $11x|y|z^2\sqrt{xz}$

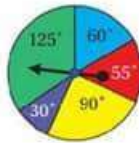
b)  $xy^2z^2\sqrt{xz}$   
d)  $11xy^2\sqrt{x^3z}$

(7) حل المعادلة الجذرية الآتية  $2\sqrt[4]{x-3} = 4$  هو:

a)  $x = 15$   
c)  $x = 19$

b)  $x = 12$   
d)  $x = 10$

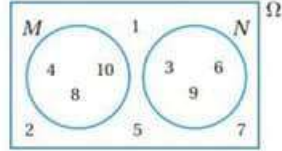
(8) احتمال توقف مؤشر القرص عند القطاع الأصفر أو القطاع البنفسجي.



a)  $\frac{1}{4}$   
c)  $\frac{1}{12}$

b)  $\frac{1}{2}$   
d)  $\frac{1}{3}$



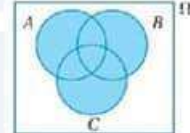
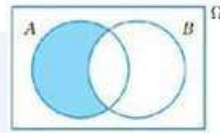
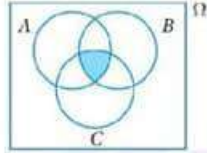


(9) اعتماداً على الشكل المجاور، فإن  $P(M \cap N)$ :

- a)  $\frac{5}{10}$       b)  $\frac{2}{10}$   
c)  $\frac{1}{10}$       d) 0

### السؤال الثاني:

أعبر بالرموز عن الحدث الذي تمثله المنطقة المظللة في كل من أشكال فن الأتية:



### السؤال الثالث:

إذا كانت انحرافات 8 مشاهدات عن وسطها الحسابي كما يأتي:

$$2, 3, -4, 2b+1, 1, -2, 1, -1$$

فأجيب عن السؤالين الآتيين تبعاً:

- (1) أجد قيمة الثابت  $b$ .  
(2) أجد التباين والانحراف المعياري لهذه المشاهدات.



**السؤال الرابع:**

يحتوي صندوق على بطاقات متطابقة، ومزقمة من 1 إلى 100. إذا سُحِبَت بطاقة عشوائياً، فأكبر احتمال كل حادث مما يلي باستعمال أشكال فن:

- (1) أن يكون العدد المدون على البطاقة من مضاعفات العدد 15، ومضاعفات العدد 10.
- (2) أن يكون العدد المدون على البطاقة من مضاعفات العدد 15، أو مضاعفات العدد 10.
- (3) أن يكون العدد المدون على البطاقة من مضاعفات العدد 10، وليس من مضاعفات العدد 15.



**السؤال الخامس:**

أحل كلاً من المعادلات التالية:

1)  $\frac{2}{x+5} = \frac{10}{3x+7}$



$$2) \frac{x^2+4}{x-1} = \frac{5}{x-1}$$

$$3) 2x = \sqrt{4x^2 + 6x - 12}$$

$$4) \sqrt{x-2} - \sqrt{x+2} + 2 = 0$$





السؤال السادس:

اكتب كلاً مما يأتي في أبسط صورة، علماً بأن أيًا من المتغيرات لا يساوي صفراً:

1)  $\frac{2h^3j^{-3}k^4}{3jk}$

2)  $\left(\frac{6x^2y^4}{3x^4y^3}\right)^{-2}$

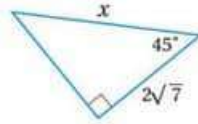
3)  $\frac{x+3}{8x+4} \times \frac{4x^2-1}{x^2+6x+9}$



4)  $\frac{2a^2-8a+6}{8a+16} \div \frac{9-a^2}{a^2+5a+6}$

5)  $\frac{5}{w^2+4w-12} + \frac{2}{2w+12}$

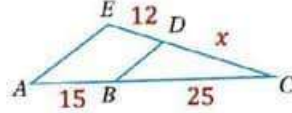
السؤال السابع:  
أجد قيمة  $x$  في المثلث المجاور.





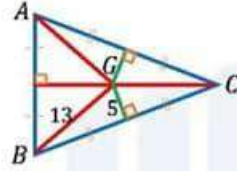
السؤال الأول: أختار الإجابة الصحيحة في كل مما يأتي:

(1) في الشكل المجاور، إذا كان  $\overline{DB} \parallel \overline{AE}$ ، فإن قيمة  $x$ :



- a)  $x = 15$       b)  $x = 18$   
c)  $x = 20$       d)  $x = 14$

(2) في الشكل المجاور، طول  $AY$ :

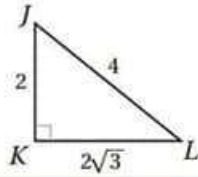


- a)  $AY = 6$       b)  $AY = 5$   
c)  $AY = 13$       d)  $AY = 12$

(3) قياس  $\angle B$  في المثلث القائم إذا كان  $\sin B = 0.5$ :

- a)  $m\angle B = 30^\circ$       b)  $m\angle B = 90^\circ$   
c)  $m\angle B = 60^\circ$       d)  $m\angle B = 45^\circ$

(4) معتمدًا المعلومات المعطاة في الشكل المجاور، أحدد النسبة المثلثية التي تساوي  $\frac{1}{2}$ :



- a)  $\cos K$       b)  $\sin L$   
c)  $\sin J$       d)  $\sin K$



(5) أبسط قيمة للمقدار  $((-3x^2)^4)^{-1}$ :

a)  $\frac{1}{-81x^8}$   
c)  $\frac{1}{3x^8}$

b)  $\frac{1}{81x^8}$   
d)  $\frac{1}{-3x^8}$

(6) أبسط قيمة للمقدار  $\sqrt{121x^3y^4z^5}$ ,  $x > 0$ :

a)  $11xy^2z^2\sqrt{xz}$   
c)  $11x|y|z^2\sqrt{xz}$

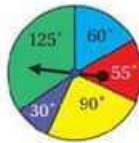
b)  $xy^2z^2\sqrt{xz}$   
d)  $11xy^2\sqrt{x^3z}$

(7) حل المعادلة الجذرية الآتية  $2\sqrt[4]{x-3} = 4$  هو:

a)  $x = 15$   
c)  $x = 19$

b)  $x = 12$   
d)  $x = 10$

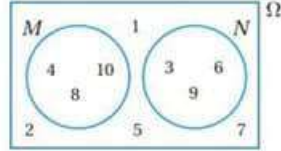
(8) احتمال توقف مؤشر القرص عند القطاع الأصفر أو القطاع البنفسجي.



a)  $\frac{1}{4}$   
c)  $\frac{1}{12}$

b)  $\frac{1}{2}$   
d)  $\frac{1}{3}$





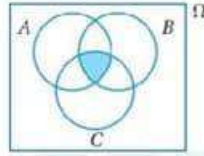
(9) اعتماداً على الشكل المجاور، فإن  $P(M \cap N)$ :

a)  $\frac{5}{10}$   
c)  $\frac{1}{10}$

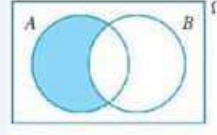
b)  $\frac{2}{10}$   
d) 0

### السؤال الثاني:

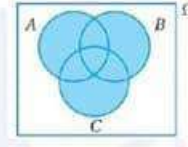
أعبر بالرموز عن الحادث الذي تمثله المنطقة المظللة في كل من أشكال فن الأتية:



$A \cap B \cap C$



$A - B$



$A \cup B \cup C$

### السؤال الثالث:

إذا كانت انحرافات 8 مشاهدات عن وسطها الحسابي كما يأتي:

$2, 3, -4, 2b + 1, 1, -2, 1, -1$

فأجيب عن السؤالين الآتيين تباعاً:

(1) أجد قيمة الثابت  $b$ .

(2) أجد التباين والانحراف المعياري لهذه المشاهدات.

الحل: مجموع الانحرافات يساوي الصفر.

$$2 + 3 - 4 + 2b + 1 + 1 - 2 + 1 - 1 = 0$$

$$1 + 2b = 0$$

10



06 222 9990

إعداد المعلم : سلام العامر



كل الامتحانات موجودة في خانة الملفات على الموقع [www.asas4edu.com](http://www.asas4edu.com)

$$2b = -1 \rightarrow b = -\frac{1}{2}$$

| $x - \mu$    | $(x - \mu)^2$ |
|--------------|---------------|
| 2            | 4             |
| 3            | 9             |
| -4           | 16            |
| $2b + 1 = 0$ | 0             |
| 1            | 1             |
| -2           | 4             |
| 1            | 1             |
| -1           | 1             |
| المجموع      | 36            |

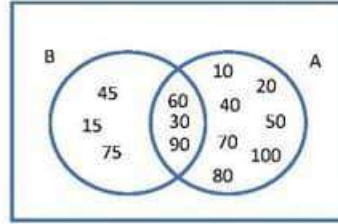
$$\sigma^2 = \frac{\sum(x-\mu)^2}{n} = \frac{36}{8} = 4.5$$

$$\sigma = \sqrt{4.5} = 2.12$$

#### السؤال الرابع:

يحتوي صندوق على بطاقات متطابقة، ومرقمة من 1 إلى 100. إذا سُحبت بطاقة عشوائياً، فليجد احتمال كل حادث مما يلي باستعمال أشكال فن:

- (1) أن يكون العدد المدون على البطاقة من مضاعفات العدد 15، ومضاعفات العدد 10.
- (2) أن يكون العدد المدون على البطاقة من مضاعفات العدد 15، أو مضاعفات العدد 10.
- (3) أن يكون العدد المدون على البطاقة من مضاعفات العدد 10، وليس من مضاعفات العدد 15.



A: حادث العدد من مضاعفات العدد 10.  
B: حادث العدد من مضاعفات العدد 15.  
(ملاحظة: عند التمثيل بالشكل فن، فإن باقي الأعداد تكون خارج الدائرتين ضمن المستطيل)



$$\begin{aligned} 1) P(A \cap B) &= \frac{3}{100} \\ 2) P(A \cup B) &= \frac{13}{100} \\ 3) P(A - B) &= \frac{7}{100} \end{aligned}$$

**السؤال الخامس:**

أحل كلاً من المعادلات التالية:

$$1) \frac{2}{x+5} = \frac{10}{3x+7}$$

الحل:

$$\begin{aligned} \frac{2(x+5)(3x+7)}{x+5} &= \frac{10(x+5)(3x+7)}{3x+7} \\ 2(3x+7) &= 10(x+5) \\ 6x+14 &= 10x+50 \\ 6x-10x &= 50-14 \\ -4x &= 36 \\ x &= -9 \end{aligned}$$

التحقق:

$$\begin{aligned} \frac{2}{-9+5} &= \frac{10}{3(-9)+7} \\ \frac{2}{-4} &= \frac{10}{-20} \\ \frac{-1}{2} &= \frac{-1}{2} \end{aligned}$$

$$2) \frac{x^2+4}{x-1} = \frac{5}{x-1}$$

الحل:

$$\begin{aligned} x^2+4 &= 5 \\ x^2 &= 5-4 \\ x^2 &= 1 \\ x &= 1, x = -1 \end{aligned}$$

التحقق:

$$\begin{aligned} x &= 1 & x &= -1 \\ \frac{(1)^2+4}{1-1} &= \frac{5}{1-1} & \frac{(-1)^2+4}{-1-1} &= \frac{5}{-1-1} \\ \frac{5}{0} &= \frac{5}{0} & \frac{-5}{2} &= \frac{-5}{2} \\ \text{لا تمثل حل} & & & \end{aligned}$$





$$3) 2x = \sqrt{4x^2 + 6x - 12}$$

الحل:

$$\begin{aligned} 4x^2 &= 4x^2 + 6x - 12 \\ 6x - 12 &= 0 \\ 6x &= 12 \\ x &= \frac{12}{6} = 2 \end{aligned}$$

التحقق:

$$\begin{aligned} 2(2) &= \sqrt{4(2)^2 + 6(2) - 12} \\ 4 &= \sqrt{16 + 0} \\ 4 &= 4 \end{aligned}$$

$$4) \sqrt{x-2} - \sqrt{x+2} + 2 = 0$$

الحل:

$$\begin{aligned} \sqrt{x-2} - \sqrt{x+2} &= -2 \\ (\sqrt{x-2})^2 - 2\sqrt{x-2} \cdot \sqrt{x+2} + (\sqrt{x+2})^2 &= 4 \\ x-2 - 2\sqrt{x^2-4} + x+2 &= 4 \\ 2x-4 &= 2\sqrt{x^2-4} \end{aligned}$$

$$\begin{aligned} (2x)^2 - 2(2x)(4) + (4)^2 &= (2\sqrt{x^2-4})^2 \\ 4x^2 - 16x + 16 &= 4(x^2-4) \\ 4x^2 - 16x + 16 &= 4x^2 - 16 \\ -16x &= -16 - 16 \end{aligned}$$

نربع

$$\begin{aligned} -16x &= -32 \\ x &= \frac{-32}{-16} = 2 \end{aligned}$$

13



06 222 9990

إعداد المعلم : سلام العامر



كل الامتحانات موجودة في خانة الملفات على الموقع [www.asas4edu.com](http://www.asas4edu.com)



التحقق:

$$\begin{aligned}\sqrt{2-2} - \sqrt{2+2} + 2 &= 0 \\ 0 - \sqrt{4} + 2 &= 0 \\ -2 + 2 &= 0 \\ 0 &= 0\end{aligned}$$

السؤال السادس:

اكتب كلاً مما يأتي في أبسط صورة، علماً بأن أيًا من المتغيرات لا يساوي صفراً:

1)  $\frac{2h^3j^{-3}k^4}{3jk}$

$$\begin{aligned}&= \left(\frac{2}{3}\right) (h^3)(j^{-3-1})k^{4-1} \\ &= \left(\frac{2}{3}\right) h^3j^{-4}k^3 \\ &= \left(\frac{2}{3}\right) (h^3) \left(\frac{1}{j^4}\right) (k^3) \\ &= \frac{2h^3k^3}{j^4}\end{aligned}$$

2)  $\left(\frac{6x^2y^4}{3x^4y^3}\right)^{-2}$

$$\begin{aligned}&= \left[\left(\frac{6}{3}\right) \left(\frac{x^2}{x^4}\right) \left(\frac{y^4}{y^3}\right)\right]^{-2} \\ &= (2 \cdot x^{2-4} \cdot y^{4-3})^{-2} \\ &= (2 \cdot x^{-2} \cdot y)^{-2} \\ &= (2)^{-2} \cdot (x^{-2})^{-2} \cdot y^{-2} \\ &= \frac{1}{(2)^2} x^4 \cdot y^{-2} \\ &= \frac{x^4}{4y^2}\end{aligned}$$



$$3) \frac{x+3}{8x+4} \times \frac{4x^2-1}{x^2+6x+9}$$

$$= \frac{(x+3)}{4(2x+1)} \times \frac{(2x-1)(2x+1)}{(x+3)(x+3)}$$

$$= \frac{2x-1}{4(x+3)}$$

$$4) \frac{2a^2-8a+6}{8a+16} \div \frac{9-a^2}{a^2+5a+6}$$

$$= \frac{2a^2-8a+6}{8a+16} \times \frac{a^2+5a+6}{9-a^2}$$

$$= \frac{2(a-1)(a-3)}{8(a+2)} \times \frac{(a+3)(a+2)}{(3-a)(3+a)}$$

$$= \frac{(a-1)(a-3)}{4} \times \frac{1}{(3-a)}$$

$$= \frac{-(a-1)}{4} = \frac{1-a}{4}$$

$$5) \frac{5}{w^2+4w-12} + \frac{2}{2w+12}$$

$$= \frac{5}{w^2+4w-12} + \frac{2}{2w+12}$$

$$= \frac{5}{(w+6)(w-2)} + \frac{2}{2(w+6)}$$

$$= \frac{10}{(w+6)(w-2)} + \frac{2(w-2)}{2(w+6)(w-2)}$$

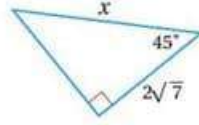
$$= \frac{10+2w-4}{(w+6)(w-2)}$$

$$= \frac{2w+6}{(w+6)(w-2)}$$



**السؤال السابع:**

أجد قيمة  $x$  في المثلث المجاور.



$$\cos A = \frac{\text{المجاور}}{\text{الوتر}}$$

$$\cos 45^\circ = \frac{2\sqrt{7}}{x}$$

$$\frac{1}{\sqrt{2}} = \frac{2\sqrt{7}}{x}$$

$$1 \times x = 2\sqrt{7} \times \sqrt{2}$$

$$x = 2\sqrt{14}$$

