



مديرية التربية والتعليم للواء الجامعة

مدرسة علي رضا الركابي الأساسية للبنين

اختبار نهائية الفصل الدراسي الثاني للعام الدراسي 2024/2023

اليوم / التاريخ :

المبحث : الرياضيات

الصف : الخامس / الشعبة : ()

الزمن : ساعة

الاسم :

(24 علامة)

السؤال الأول : اختار الإجابة الصحيحة في كل مما يأتي :

1. القيمة المنزلية للرقم 2 في العدد 0.852 , هي :

- a) 0.002 b) 0.02 c) 0.2 d) 2.000

2. الصورة العشرية للكسر $\frac{7}{25}$:

- a) 0.28 b) 0.35 c) 0.7 d) 0.07

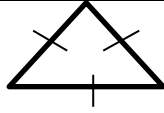
3. ناتج ضرب 0.62×10 يساوي :

- a) 6.2 b) 62 c) 620 d) 0.062

4. النسبة المئوية التي يمثلها الكسر $\frac{95}{100}$ هي :

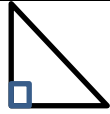
- a) 95% b) 100% c) 90% d) 9%

5. تصنيف المثلث المجاور حسب أطوال أضلاعه :



- a) متطابق الأضلاع b) متطابق الضلعين c) مختلف الأضلاع d) لا شيء مما ذكر

6. تصنيف المثلث المجاور حسب قياس زواياه :



- a) حاد الزوايا b) قائم الزاوية c) منفرج الزاوية d) لا شيء مما ذكر

7. الشكل الرباعي هو :

- a) مضلع له أربع أضلاع و أربع زوايا b) مضلع له خمسة أضلاع و أربع زوايا c) مضلع أربع له أضلاع و خمس زوايا d) لا شيء مما ذكر

(8) الشكل الرباعي المجاور هو :



- a) مثلث b) معين c) منفرج شبهه d) لا شيء مما ذكر

(9) الوسط الحسابي لمجموعة الاعداد 3, 4, 1, 2, 3, 5 :

- a) 6 b) 1 c) 5 d) 3

10) الوسيط الحسابي لمجموعة الأعد : 14 , 9, 100, 2, 3 ,55,70

a) 3

b) 5

c) 3

d) 7

11) المنوال لمجموعة الأعداد : 3, 9, 9, 9, 3, 2, 1, 3, 5, 3, 7

a) 9

b) 50

c) 3

d) 7

12) المدى لمجموعة الأعداد : 83, 77, 97, 100, 50

a) 100

b) 50

c) 3

d) 17

(12 علامة)

السؤال الثاني: ضع الرمز (>, <, =) في المربع لتصبح العبارة صحيحة :

1) $1.4 + 0.22$

1.62

2) $1.68 - 0.32$

1.36

3) $35.2 \div 100$

0.352

4) 15000 Kg

1.5 ton

5) 10 cm

1.5 ton

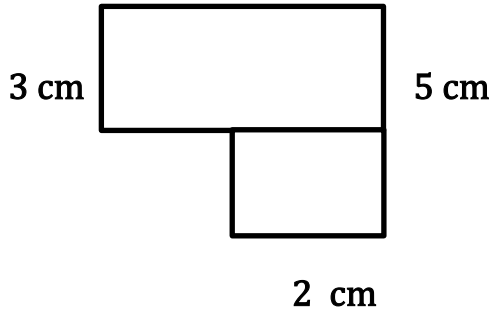
6) 60 min

120 s

(4 علامات)

4 cm

السؤال الثالث : أوجد محيط الشكل المركب المجاور :



انتهت الأسئلة ,, مع تمنياتي للجميع بالنجاح

معلم المادة : علي الربابعة

