

الصف الثالث

رياضيات

امتحان الشهر الثاني



السؤال الأول : جد ناتج القسمة فيمايلي:

$$90 \div 3 = \underline{\hspace{2cm}}$$

$$560 \div 8 = \underline{\hspace{2cm}}$$

$$6 \overline{)84}$$

$$7 \overline{)94}$$

$$6 \overline{)56}$$

السؤال الثاني : باستخدام الأعداد المتناغمة قدر ناتج القسمة :

$$79 \div 9$$

$$\underline{\hspace{2cm}} \div \underline{\hspace{2cm}} = \underline{\hspace{2cm}}$$



06 222 9990

1

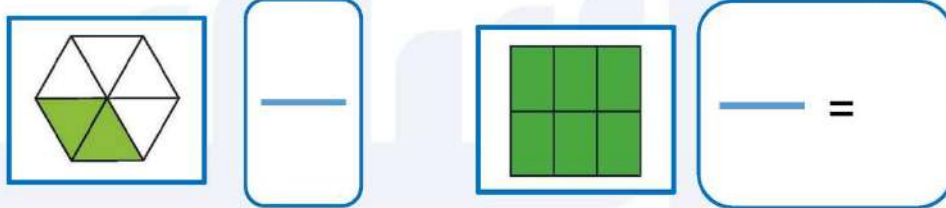
إعداد المعلمة : رشا الحجاج



كل الامتحانات موجودة في خانة الملفات على موقع www.asas4edu.com

السؤال الثالث : توقفت 78 سيارة في موقف للسيارات في 6 صفوف متساوية . ما عدد السيارات في كل صف ؟

السؤال الرابع : اكتب الكسر المناسب للأجزاء الملونة يا بطل :



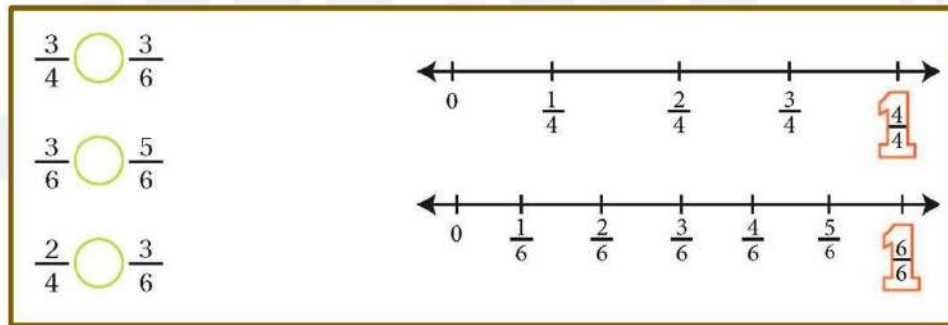
السؤال الخامس : اكتب الكسر الذي يمثل الأشياء الصفراء :



السؤال السادس : اكتب الكسر الذي يمثل النقطة أ على خط الأعداد :



السؤال السابع : باستخدام خط الأعداد ضع إشارة < أو > أو =
يا بطل :



السؤال الثامن : جد قيمة كسر الوحدة من العدد :

$$40 \text{ من } \frac{1}{4} \rightarrow$$



السؤال التاسع : لون لتمثيل كل كسر ، ثم رتب الكسور تنازليا :

$\frac{2}{5}$	<input type="text"/>	<input type="text"/>	<input type="text"/>	<input type="text"/>	<input type="text"/>
$\frac{3}{4}$	<input type="text"/>	<input type="text"/>	<input type="text"/>	<input type="text"/>	<input type="text"/>
$\frac{1}{6}$	<input type="text"/>	<input type="text"/>	<input type="text"/>	<input type="text"/>	<input type="text"/>

انتهت الامتحان يا بطلاني المسجل



06 222 9990

4

إعداد المعلمة : رشا الحجاج



كل الامتحانات موجودة في خانة الملفات على موقع www.asas4edu.com

السؤال الأول : جد ناتج القسمة فيمايلي :

$$90 \div 3 = \underline{30}$$

$$560 \div 8 = \underline{70}$$

$$\begin{array}{r} \times 14 \\ 6 \overline{) 84} \\ \underline{-6} \\ 24 \\ \underline{-24} \\ 00 \end{array}$$

$$\begin{array}{r} \times 13 \\ 7 \overline{) 94} \\ \underline{-7} \\ 24 \\ \underline{-21} \\ 03 \end{array}$$

$$\begin{array}{r} \times 9 \\ 6 \overline{) 56} \\ \underline{-54} \\ 2 \end{array}$$

$$14 \times 6 = 84$$

$$(7 \times 13) + 3 = 94$$

$$(6 \times 9) + 2 = 56$$

السؤال الثاني : باستخدام الأعداد المتناغمة قدر ناتج القسمة :

$$79 \div 9$$

$$\begin{array}{r} \downarrow \\ \underline{72} \end{array} \div 9 = \underline{8}$$

تقريباً 8



06 222 9990

5

إعداد المعلمة : رشا الحجاج



كل الامتحانات موجودة في خانة الملفات على موقع www.asas4edu.com

السؤال الثالث : توقفت 78 سيارة في موقف للسيارات في 6 صفوف متساوية .ما عدد السيارات في كل صف ؟

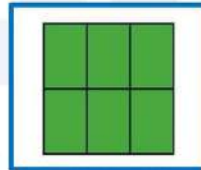
$$\begin{array}{r} \times 13 \\ 6 \overline{) 78} \\ \underline{-6} \\ 18 \\ \underline{-18} \\ 00 \end{array}$$

13 سيارة في كل صف

السؤال الرابع : اكتب الكسر المناسب للأجزاء الملونة يا بطل :



$$\frac{2}{6}$$



$$\frac{6}{6} = 1$$

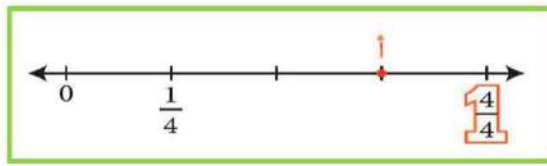
السؤال الخامس : اكتب الكسر الذي يمثل الأشياء الصفراء :



$$\frac{4}{8}$$

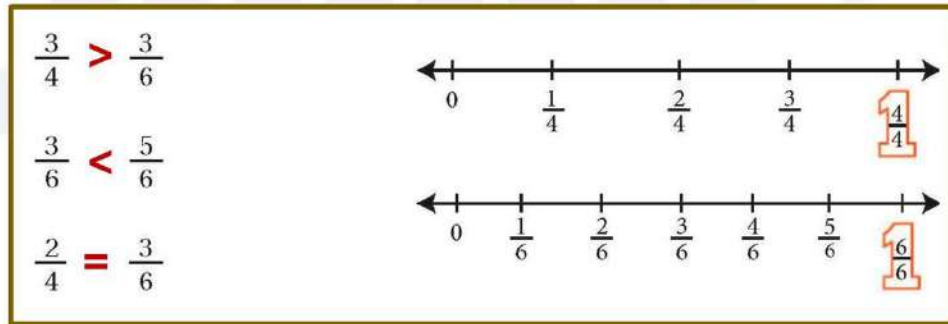


السؤال السادس : اكتب الكسر الذي يمثل النقطة أ على خط الأعداد :



$$\frac{3}{4}$$

السؤال السابع : باستخدام خط الأعداد ضع إشارة < أو > أو =
يا بطل :



السؤال الثامن : جد قيمة كسر الوحدة من العدد :

$$40 \text{ من } \frac{1}{4} \rightarrow 40 \div 4 = 10$$



السؤال التاسع : لون لتمثيل كل كسر ، ثم رتب الكسور تنازليا :

$\frac{2}{5}$	<div><div></div><div></div><div></div><div></div><div></div></div>	
$\frac{3}{4}$	<div><div></div><div></div><div></div><div></div></div>	
$\frac{1}{6}$	<div><div></div><div></div><div></div><div></div><div></div><div></div></div>	
3	2	1
4	5	6

انتهت الاجوبة يا عبقري المستقبل



06 222 9990

8

إعداد المعلمة : رشا الحجاج



كل الامتحانات موجودة في خانة الملفات على موقع www.asas4edu.com