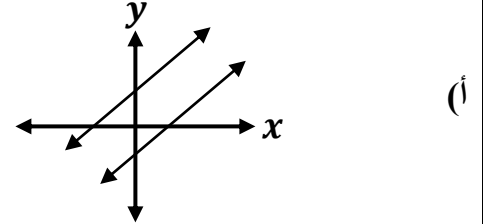
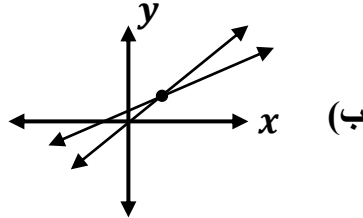


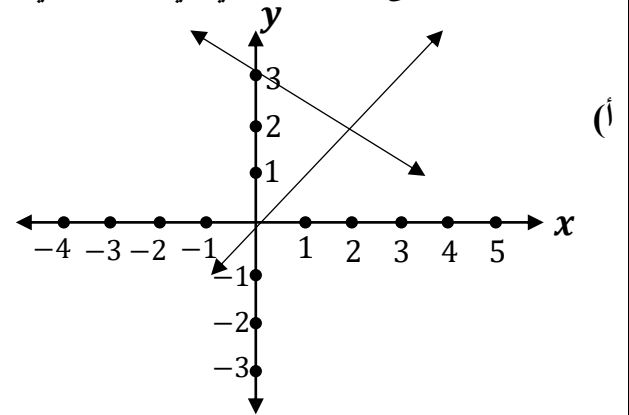
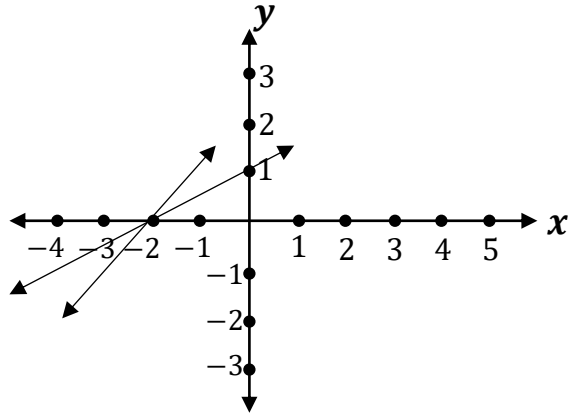
..... \ 6 علامات

س1 : اعتماداً على التمثيل البياني أكتب عدد الحلول لكل مما يلي :



..... \ 6 علامات

س2 : اعتماداً على التمثيل البياني في كل مما يلي جد حل المعادلتين الخطيتين :



..... \ 14 علامة

س3 : حل أنظمة المعادلات الآتية بطريقة التعويض :

1) $y = x + 2$
 $3y + 2x = 1$

2) $y - x = 0$
 $2y + x = 6$

س4 : حل النظام الآتي بطريقة الحذف :

..... \ 7 علامات

$$3y + 2x = -2$$

$$2y - x = -6$$

س5 : عددان مجموعهما 33 والفرق بينهما 1 فما العددان ؟

..... \ 7 علامات

(أكتب نظام من معادلتين ثم قم بحله)