

يتكون هذا الاختبار من (100) سؤال موضوعي من نوع الاختيار من متعدد، الإجابة عنها إجبارية. ظلل بقلم الرصاص بشكل غامق الدائرة التي تشير إلى الإجابة الصحيحة في المكان المخصص لذلك في نموذج الإجابة المرفق.

مبادئ الإدارة

1. على ماذا يتعلق تغيير استخدام الاقتصاد للموارد وحسن استغلال الموارد المتاحة؟

- أ- التخصص
ب- الكفاءة
ج- ☒ الكفاءة
د- تقسيم العمل

2. أي من الإدارات الآتية اعتبرت التنظيم غير الرسمي شراً يجب مكافحته؟

- أ- البيروقراطية
ب- المدرسة العلمية
ج- ☒ البيروقراطية
د- النظرية

3. ما هي المدرسة التي تعد الكفاءة إنجازاً يتبع التخطيط السليم؟ مدرسة:

- أ- النظم
ب- علم الإدارة
ج- ☒ النظم
د- السلوكية

4. ما هي الدراسة التي قامت على تحديد تأثير عدد من المتغيرات على إنتاجية العاملين؟ هي دراسة:

- أ- فايول
ب- روجرز
ج- ☒ فايول
د- برنارد

5. أي مما يلي تعد من محددات السلوك الإنساني في المنظمة من أجل تحقيق الأمان والمساواة؟

- أ- القواعد
ب- السياسات
ج- ☒ القواعد
د- البرامج

6. أي من الأمور الآتية تعد من الصعوبات الناتجة عن تعقيد الخطة؟

- أ- ☒ قلة الالتزام بالتخطيط
ب- مقاومة التغيير
ج- الخبرة
د- عدم المرونة

7. ما هي المشاكل التي لا يوجد مؤشر على حدوثها؟ المشاكل:

- أ- ☒ الحيوية
ب- التقليدية
ج- الجوهرية
د- الطارئة

8. ما هو نموذج اتخاذ القرار الذي يتميز بالغموض وعدم اليقين؟ النموذج:

- أ- الكلاسيكي
ب- ☒ الإداري
ج- التقليدي
د- السياسي

9. ما هو التنظيم الذي يهتم بالهيكل التنظيمي وتحديد العلاقات وتقسيم العمل؟ التنظيم:

- أ- التعليمي
ب- ☒ الرسمي
ج- الشبكي
د- الإداري

10. أي من العوامل الآتية تعد من العوامل المؤثرة في اختيار الهيكل التنظيمي المناسب؟

- أ- الاستفادة من التخصص
ب- ☒ التنسيق بين أعمال المنظمة
ج- مراعاة الظروف المحلية
د- القرارات الإنسانية

11. ما هو التنظيم الذي يعتمد بالبساطة والوضوح في العلاقات الإدارية ووحدة القيادة؟ التنظيم:

- أ- ☒ التنفيذي
ب- العضوي
ج- ☒ العضوي
د- ☒ التنفيذي

12. ما هو التنظيم الذي يتطلب مشاركة واسعة وفعالة من قِبل الأفراد في العمل؟

13. ما هو التقسيم الذي يقسم المنظمة إلى عدد من الوحدات التنظيمية بما يتناسب مع عدد الوظائف؟ التقسيم حسب:
- أ- الوظيفة
ب- السلطة
ج- الخدمة
د- مراحل العمل
14. ما هي الخريطة التنظيمية التي تصور الشكل العام للمنظمة؟ الخريطة:
- أ- المساعدة
ب- الدائرية
ج- الرأسية
د- الرئيسية
15. ما هي السلطة التي يكون لها الحق في إصدار الأوامر؟ السلطة:
- أ- التنفيذية
ب- الاستشارية
ج- الوظيفية
د- اللجان
16. أي من القوى الآتية لا تعد مصدراً رسمياً للسلطة؟ قوة:
- أ- الكفاءة
ب- التخصص
ج- القانونية
د- الإكراه
17. ما هو الأسلوب القيادي الذي يصف القائد بأنه نشيط وفعال؟ القيادة:
- أ- الديكتاتورية
ب- الديمقراطية
ج- الاتوقراطية
د- عدم التدخل
18. ما هو أسلوب العمل الذي يعمل على إضافة واجبات للعمل ومهام أخرى؟ أسلوب:
- أ- توسيع العمل
ب- إثراء العمل
ج- العمل المرن
د- الإدارة بالأهداف
19. ما هو الاتصال الذي يكون بين الأفراد على المستوى الإداري نفسه؟ الاتصال:
- أ- القطري
ب- الأفقي
ج- الصاعد
د- المكتوبة
20. ما هي خاصية الرقابة التي تعمل على منع وقوع الأخطاء أو الانحرافات؟
- أ- الوضوح
ب- الدقة
ج- الفعالية
د- المرونة

مبادئ الاحصاء

21. إذا كان H_1 و H_2 حادثين مستقلين في Ω و كان $L(H_1) = 0.5$ و $L(H_2) = 0.2$ فإن $L(H_1 \cap H_2)$:

أ- 0.1

ب- 0.7

ج- 0.6

د- 0.5

22. ما هو المقياس الذي لا يأخذ جميع القيم في حسابه؟ هو:

أ- الوسط الحسابي

ب- الانحراف المعياري

ج- الوسيط

د- التباين

23. ماذا تستخدم لقياس قوة العلاقة بين متغيرين أو أكثر؟ نستخدم:

أ- الوسط الحسابي

ب- الارتباط

ج- التباين

د- الوسط الحسابي

24. إذا كانت معادلة خط التحدار (ص على س) هي $V = 0.4S + 42.4$ وكانت قيمة $S = 65$ فما قيمة V التقديرية؟

26.4 - أ - 16.4 - ب -

66.4 - ج - 68.4 - د -

25. ما هي الملاحظة الأكثر تكراراً؟

أ - الوسط الحسابي

ب - الوسط

ج - المنوال

د - المئين

26. إذا كانت قيمة التباين لمجموعة من القيم تساوي (16) فما قيمة الانحراف المعياري؟

أ - 4

ب - 32

ج - 256

د - 8

27. إذا كان لديك البيانات التالية:

س	1	3	4	2	5
ص	3	2	5	4	6

فإن معامل ارتباط بيرسون يساوي:

أ - 1.57

ب - 0.10

ج - 0.70

د - 1

28. في المنحنى الطبيعي يكون:

أ - الوسط والمنوال متساويين فقط

ب - الوسط والمنوال متساويين فقط

ج - الوسط والمنوال متساويين فقط

د - الوسط والمنوال متساويين فقط

29. كم يساوي الوسط الحسابي للقيم التالية: {24, 46, 23, 18, 14}؟

أ - 46

ب - 18

ج - 25

د - 24

30. أي المقاييس الآتية لا تعد من مقاييس النزعة المركزية؟

أ - الوسط الحسابي

ب - الوسط

ج - المنوال

د - التباين

31. ما قيمة المئين السبعين للبيانات الآتية {2, 11, 2, 6, 13, 12}؟

أ - 11

ب - 12

ج - 13

د - 2

32. ما مركز الفئة (50-55)؟

أ - 51

ب - 47

ج - 52.5

د - 54

33. ما القيمة التي تمثل المنوال للبيانات الآتية: {15, 14, 17, 12, 14, 10}؟

أ - 10

ب - 14

ج - 14.5

د - 15

34. أي العينات الآتية تعد عينة غير عشوائية؟ العينة:

أ - العينة

ب - العينة

ج - العينة

د - العينة

أ - العينة

ب - العينة

ج - العينة

د - العينة

$$R = \frac{(n-1) \cdot s^2}{(n-1) \cdot s^2 + 1}$$

$$R = \frac{(n-1) \cdot s^2}{(n-1) \cdot s^2 + 1}$$

أ - لا يتساوى الوسط والوسط والمنوال

ب - لا يتساوى الوسط والمنوال

ج - لا يتساوى الوسط والمنوال

د - لا يتساوى الوسط والمنوال

المتغيرة

- 36 ما هي القيمة التي تمثل الوسيط للعلامات الآتية: {60, 80, 50, 70, 90}؟ هي:
- أ- $\frac{2}{15}$
ب- $\frac{6}{15}$
ج- $\frac{8}{30}$
د- $\frac{6}{30}$

- 37 ما هي قيمة التباين للأعداد الآتية {2, 1, 0}؟ هي:
- أ- 2
ب- 1
ج- 75
د- $\sqrt{2}$

- 38 ما هو المدى؟ هو أبسط مقاييس:
- أ- الاحتمالات
ب- النزعة المركزية
ج- التشتت
د- الارتباط

- 39 حسب رقم لاسبير و رقم باش لأسعار أربعة سلع بيعت بين عامي 2003، 2007 على اعتبار سنة 2003 هي سنة الأساس وكان رقم لاسبير للأسعار = 26.86% و رقم باش للأسعار يساوي 27.41%، فكم يساوي رقم فشر للأسعار؟ يساوي:

- أ- 25.18%
ب- 18.6%
ج- 23.12%
د- 27.13%
- 40 في التوزيع الطبيعي المعياري، إذا كانت المساحة تحت $z=2$ تساوي (0.0228) فكم تساوي المساحة فوق $z=2$ ؟

- أ- 0.1587
ب- 0.9772
ج- 0.4772
د- 0.0228

مبادئ الاقتصاد الجزئي

- 41 ما العائد الذي يحصل عليه العامل من العملية الانتاجية؟

- أ- الربح
ب- الاجر
ج- سعر الفائدة
د- الربح

- 42 العلاقة الخطية في النماذج الاقتصادية هي تلك العلاقة التي يكون فيها تأثير المتغير:

- أ- مستقل على المتغير التابع غير ثابت
ب- مستقل على المتغير التابع ثابت
ج- التابع على المتغير المستقل غير ثابت
د- التابع على المتغير المستقل ثابت

- 43 إذا انخفض السعر لسلعة ما من (24) إلى (20) دينار ونتيجة لذلك زادت الكمية المطلوبة من (50-60) وحدة فإن معامل مرونة الطلب السعرية هو:

- أ- 1.2
ب- 1.02
ج- 2.1
د- 2.01

- 44 إذا كانت مرونة الطلب الداخلية سالبة فإن السلعة:

$$ed = \frac{\Delta Q}{Q} \div \frac{\Delta P}{P}$$

د- كمالية


ج- ضرورية

45. عندما يكون التغير في الكمية المعروضة يساوي صفراً، فإن معامل مرونة العرض السعرية يكون:

- أ- مرن
ب- غير مرن
ج- لا نهائي المرونة
د- عديم المرونة

46. يمكن الحصول على طلب السوق عن طريق التجميع:

- أ- العامودي لمنحنيات الطلب الفردية
ب- العامودي لمنحنيات الطلب الجماعية
ج- الأفقي لمنحنيات الطلب الجماعية
د- الأفقي لمنحنيات الطلب الفردية



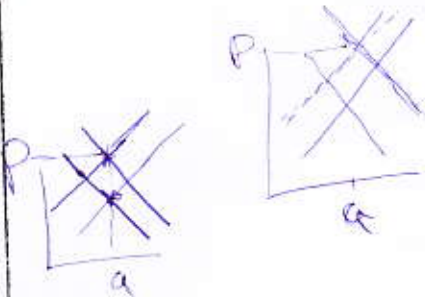
47. إذا فرضت الحكومة سقف سعري أعلى من سعر التوازن، فإن ذلك يؤدي إلى:

- أ- نقص السلعة في السوق
ب- فائض السلعة في السوق
ج- وجود توازن من السلعة في السوق
د- لن يؤثر ذلك على توازن السوق



48. إذا زاد الطلب على السلعة مع نقصان العرض فإن هذا يؤدي إلى:

- أ- زيادة أكيده في كمية التوازن مع ثبات السعر
ب- زيادة أكيده في سعر السلعة
ج- انخفاض الكيد في كمية التوازن مع ثبات السعر
د- انخفاض الكيد في سعر التوازن



49. ان دراسة أثر ارتفاع سعر سلعة ما في السوق مع بقاء العوامل الأخرى على حالها مثال على:

- أ- الاقتصاد الموضوعي
ب- الاقتصاد المعياري
ج- التوازن الجزئي
د- التوازن الكلي

50. إذا كانت السلعة تقطع جزء بسيط من دخل المستهلك، فإن الطلب على هذه السلعة يكون:

- أ- مرن
ب- عديم المرونة
ج- لا نهائي المرونة
د- غير مرن

51. أي مما يلي تشير إلى إنتاج السلع والخدمات بالكميات التي يحتاجها المجتمع ؟

- أ- كفاءة اقتصادية
ب- كفاءة تقنية
ج- نمو اقتصادي
د- استقرار اقتصادي

52. إذا كان معامل مرونة الطلب أقل من الواحد صحيح، فإن العلاقة بين التغير في الأيراد الكلي، والتغير في السعر تكون ؟

- أ- عكسية
ب- طردية
ج- لا علاقة
د- غير معلومة

د- متكافئة

ج- احادية

53. إذا انتقل خط الميزانية الى أعلى بشكل موازي يكون بسبب تغير:

- أ- اسعار السلع
ب- اسعار عناصر الانتاج
ج- اذواق المستهلك
د- دخل المستهلك



54. يمكن تعريف فانض المستهلك على انه سعر:

- أ- السوق ناقص سعر الطلب
ب- السلعة ناقص سعر التكلفة
ج- السلعة ناقص الايراد
د- الطلب ناقص سعر السوق

55. كلما انتقلنا الى اليمين على خريطة السواء فإن ذلك يؤدي الى أن:

- أ- يزداد مستوى الاشباع
ب- يزداد مستوى التكلفة
ج- يقل مستوى الاشباع
د- يقل مستوى التكلفة

56. عندما تتساوى التكاليف الكلية مع الايرادات الكلية فإن المؤسسة تحقق:

- أ- ارباح اقتصادية
ب- خسارة اقتصادية
ج- ارباح عادية
د- ارباح محاسبية

57. حسب داله الانتاج فإن مدخلات الانتاج تعتبر متغير:

- أ- ضمني
ب- حدي
ج- مستقل
د- تابع

58. يتغير خط التكلفة المتساوية الى أعلى أو الى أسفل إذا تغير المبلغ المخصص للاتفاق مع:

- أ- اسعار عناصر الانتاج
ب- اسعار السلع والخدمات
ج- ثبات اسعار عناصر الانتاج
د- ثبات اسعار السلع والخدمات

59. ماذا تسمى السلع التي يتم استخدامها في إنتاج سلع وخدمات أخرى؟

- أ- الكمالية
ب- الاستهلاكية
ج- الاستثمارية
د- الفنية

60. تظهر في المنشأة التي يوجد فيها تقسيم العمل وتوظيف مهارات إدارية كفاءة ما يسمى بـ:

- أ- فائض انتاج
ب- نقص انتاج
ج- وفورات الحجم
د- تذاويرات الحجم

المحاسبة 1

61. أي من العمليات الآتية تجعل الأصول مدينة والالتزامات دائنة؟

- أ- شراء آلات على الحساب
ب- شراء آلات نقداً
ج- تحصيل مبالغ نقدية من العملاء
د- دفع مبالغ للدائنين تسديداً لهم

62. أي من الأمور الآتية تمثل عملية شراء وتسجل في حساب المشتريات؟ شراء:

- أ- آلات على الحساب
ب- آلات نقداً

63. بضاعة نقداً وعلى الحساب
د- بضاعة أو أي أصول أخرى نقداً وعلى الحساب
إذا بلغ رصيد حساب النقدية 100 دينار، فماذا يعني ذلك؟
أ- هناك مبلغ 100 دينار تم دفعه
ب- يوجد مبلغ 100 دينار في الصندوق
ج- أن المبلغ المستلم أقل من 100 دينار
د- أنه تم دفع مبلغ أكثر من 100 دينار
64. بتاريخ 2012/12/31م بلغ رصيد الميالي 20000 دينار، المخزون 8500، النقدية 100 دينار، الدائنون 3000 دينار، قرض 4000 دينار، فاي من الأرقام الآتية يعد قيمة رأس المال في 31 / 12 / 2012؟
أ- 28600 دينار
ب- 21600 دينار
ج- 24600 دينار
د- 25600 دينار
65. أي من الأوصاف الآتية يعد وصفاً صحيحاً لميزان المراجعة؟
أ- حساب خاص يظهر أرصدة الحسابات
ب- حساب يظهر كل القيود في الدفاتر
ج- قائمة بلو صدة الحسابات
د- قائمة تظهر الوضع المالي للمنشأة
66. عند تجيير أوراق قبض لمورد ما، سداداً لحساب المورد، يكون الطرف المدين من القيد في دفاتر من جبر الكميالية:
أ- ح/المورد
ب- ح/أوراق قبض
ج- ح/الصندوق
د- ح/العميل
67. أي المصاريف الآتية يصنف على أنه مصاريف بيعية؟
أ- مصروف الاعاية والإعلان
ب- مصروف نقل للداخل
ج- مصروف تأمين
د- مصاريف عمومية
68. ما هو قيد تسجيل الخصم التقدي في دفاتر المشتري؟
أ- من ح/ خصم مسموح به إلى ح/العميل
ب- من ح/ خصم نقدي إلى ح/العميل
ج- من ح/ خصم مكتتب إلى ح/ المورد
د- من ح/المورد إلى ح/ خصم مكتتب
69. اشترى أحمد بضاعة سعرها 10000 دينار بخصم نقدي 5%، إذا تم السداد خلال عشرة أيام وبلغت مصاريف النقل 500 دينار دفعها البائع نيابة عنه، واستفاد أحمد من الخصم النقدي، فكم يبلغ مقدار ما يسدده أحمد للبائع؟
أ- 9500 دينار
ب- 10000 دينار
ج- 9975 ديناراً
د- 9000 دينار
70. إليك الأرصدة التالية والظاهرة في ميزان المراجعة: 500 دعاية وإعلان، 7500 إيرادات خدمات، 3000 رواتب موظفين، 600 أرباح أسهم، 250 مسحوبات، فكم تكون نتيجة عمل المشروع للصافي ربح؟
أ- 4350 ديناراً
ب- 4600 دينار
ج- 4000 دينار
د- 3750 ديناراً

محاسبة 2

71. في 12\1\2012م أصدرت شركة النجاح ورقة دفع قيمتها 80000 دينار تحمل فائدة 6% تستحق بعد 3 شهور فإذا انتهت السنة المالية للشركة في 31/12/2012م فما هو مبلغ مصروف الفائدة المستحق على ورقة الدفع الذي يحمل لقائمة الدخل للعام 2012؟

أ- 400 دينار

ب- 1200 دينار

ج- 4400 دينار

د- 1600 دينار

72. إليك البيانات المتعلقة بمخزون آخر المدة:

سعر البيع: 180000 دينار

تكلفة 172000 دينار

مصاريف بيعية 18000 دينار

بتطبيق قاعدة التكلفة أو القيمة القابلة للتحقق أيهما أقل، فكم تبلغ قيمة مخزون آخر المدة التي تظهر بالمرکز المالي؟ تبلغ القيمة:

أ- 172000 دينار

ب- 162000 دينار

ج- 180000 دينار

د- 154000 دينار

73. أصاب المخزون لشركة الرجاء تلف بسبب حريق في 6/9/2012م وإليك المعلومات المستخرجة من الدفاتر التي تتعلق بالبضاعة من تاريخ 1/1 حتى تاريخ 9/6 :

بضاعة أول المدة 170000، المبيعات 625000، مشتريات 195000 وبلغ متوسط معدل مجمل الربح 52%، أي من المبالغ الآتية تمثل قيمة المخزون المقدر للشركة بتاريخ 6/9/2012م؟

أ- 65000 دينار

ب- 130000 دينار

ج- 40000 دينار

د- 81600 دينار

74. ما هو مخزون آخر المدة؟ يتكون من كل البضاعة التي:

أ- تمتلكها المنشأة ويمكن بيعها

ب- بالطريق

ج- برسم البيع

د- بالمخازن والمعارض

75. بلغت تكلفة آلات تمتلكها المنشأة 12000 دينار ومجمع الإهلاك لها 10000 دينار، فإذا تم بيعها بمبلغ 3000 دينار نقداً، فماذا يُظهر قيد البيع؟

أ- بمقدار 1000 دينار ربحاً

ب- بمقدار 1000 دينار خسارة

ج- ح/الآلات دائناً بمبلغ 3000 دينار

د- ح/مجمع الإهلاك دائناً بمقدار 1000 دينار

76. تم شراء سيارة بمبلغ 18000 دينار حيث قدرت القيمة الباقية (الخردة) بمبلغ 3000 دينار فإذا علمت أن مقدار الاستهلاك الشهري 250 ديناراً، حيث تتبع المنشأة طريقه القسط الثابت في اهتلاك الأصل، فكم يبلغ العمر الإنتاجي للأصل؟

أ- 4 سنوات

ب- 72 سنة

ج- 6 سنوات

د- 5 سنوات

77. كيف يصنف ح/مخصص لديون مشكوك فيها؟ على أنه:

أ- التزامات

ب- مصاريف

ج- حساب مقابل للديون المعدومة

د- حساب مقابل لحساب الذمم المدينة

78. تتبع المنشأة طريقة المخصصات في معالجة الديون المعدومة، فإذا تم استرداد دين بعد شطبه وتحصيله

79. أي من الأمور الآتية هو أثر تسجيل القيد السابق على كل من قائمة المركز المالي وقائمة الدخل؟
- أ- تزيد المصاريف وتزيد الأصول
 - ب- تزيد المصاريف وتزيد الالتزامات
 - ج- تنقص المصاريف وتنقص الأصول
 - د- تنقص المصاريف وتنقص الالتزامات

80. دفعت الشركة مبلغ 12600 دينار بتاريخ 2012/10/1م مقابل تأمين مبنى لمدة سنتين، فأي الأرقام الآتية تعد قيمة مصروف التأمين الذي يحمل لقائمة الدخل بتاريخ 2012/12/31؟

- أ- 6300 دينار
- ب- 525 ديناراً
- ج- 1575 ديناراً
- د- 4725 ديناراً

مبادئ الإدارة المالية

81. ماذا تعني بتعزيز القيمة السوقية للمنشأة؟

- أ- زيادة ثروة الموظفين
 - ب- زيادة رواتب الموظفين
 - ج- زيادة سعر السهم في السوق
 - د- التوسع في الأسواق الخارجية
82. أي المصادر الآتية تعد من مصادر التمويل المقرض؟

- أ- الأرباح المحتجزة
- ب- السندات
- ج- الأسهم العادية
- د- الأسهم الممتازة

83. ماذا نعني بالملائمة بين مصادر التمويل وهيكل الأصول؟ التوافق بين:

- أ- نوع الأصل وبين مصدر التمويل
- ب- مصادر التمويل الممثل وبين التمويل المقرض
- ج- نوع الأصول المتداولة وبين الأصول الثابتة
- د- الأسهم العادية والأسهم الممتازة

84. ما هي القوة الإيرادية؟

- أ- إحدى مقاييس الربحية
- ب- هي قدرة المنشأة على تحقيق أرباح نتيجة استخدامها لأموال الغير
- ج- القدرة على توفير الأموال بكلفة معقولة لمواجهة الالتزامات عند استحقاقها
- د- إحدى مقاييس السيولة

85. عندما تقوم المنشأة بإعادة ترتيب ميزانيتها بحيث تقوم بإظهار الأصل المستأجر استئجاراً مالياً ضمن موجوداتها، وإظهار القيمة المالية لدفعات الاستئجار كمطلوبات، ماذا يسمى هذا الإجراء؟

- أ- الترتيب والتنظيم المحاسبي للقوائم المالية
- ب- إعادة هيكلة أصولها حسب السوق وأسعاره
- ج- رسملة الاستئجار
- د- رسملة الموجدات

86. ما هو رأس المال العامل بمفهومه الإجمالي؟ هو إجمالي:

87. ج- الاستثمار في الخصوم د- الاستثمار في أموال الملكية
إلى ماذا تشير 2 في الشروط الانتمائية (10/2 / صافي 30) ؟
88. ا- مدة انتمان ب- نسبة الخصم الانتمائي
ج- مدة الخصم د- شروط الانتمان
ما هو الأسلوب التمويلي الذي تستخدمه المنشأة للتخفيف من العبء الضريبي؟
89. ا- إصدار أسهم عادية ب- إصدار سندات
ج- إصدار أسهم ممتازة د- استخدام الأرباح المحتجزة
أودع أحمد لدى أحد البنوك مبلغ (400) دينار و بفائدة مركبة معدلها (6%) و لمدة خمسة سنوات فإن جملة هذا المبلغ (القيمة المستقبلية) في نهاية المدة تساوي:
90. ا- 535,290 دينار ب- 916,840 ديناراً
ج- 2245 ديناراً د- 3000 دينار
ما هي العوامل التي تؤدي إلى ارتفاع مستوى التعادل في مؤسسة ما؟
91. ا- انخفاض الإيرادات الكلية ب- ارتفاع الإيرادات الكلية
ج- انخفاض التكاليف الكلية د- انخفاض التكاليف الثابتة فقط
ما هي فترة السداد؟ هي الفترة الزمنية التي :
92. ا- تمر قبل سداد الفاتورة، وذلك في حالة عدم الحصول على الخصم النقدي
ب- تمر دون أن يتم السداد، مما يجعل من حق صاحب الائتمان اللجوء إلى القانون
ج- يجب السداد خلالها، حتى يمكن الحصول على الخصم النقدي
د- تمنح من قبل البائع للمشتري لكي يقوم بتسديد قيمة فاتورته
لمن تعطي الأولوية بالسداد في حالة تصفية المنشأة؟ تعطي بداية لحملة:
93. ا- الأسهم العادية القدامى ب- الأسهم الجديدة
ج- السندات د- الأسهم الممتازة
تم استثمار مبلغ مقداره 5000 دينار لمدة سنتين على أساس الفائدة البسيطة، وقد بلغ مبلغ الفائدة في نهاية المدة 1400 دينار، فكم يبلغ معدل الفائدة البسيطة الذي تم بموجبه استثمار المبلغ أعلاه ؟
94. ا- 10% ب- 9%
ج- 8% د- 14%
متى يكون الحسر المالي حقيقياً؟
95. ا- عندما تكون موجودات المنشأة أكثر من ديونها
ب- عندما تكون موجودات المنشأة أقل من ديونها
ج- عندما تكون القيمة الصافية للمشروع موجبة
د- عندما تتساوى موجودات المشروع مع خصومه
ما هي الموجودات المتداولة الدائمة؟
96. ا- الموجودات الثابتة
ب- الموجودات - المطلوبات طويلة الأجل
ج- الحد الأدنى من الموجودات المتداولة التي على المنشأة الاحتفاظ بها خارج فترة ذروة النشاط
د- الحد الأدنى من الموجودات الثابتة التي على المنشأة الاحتفاظ بها خارج فترة ذروة النشاط
ما هو المدخل المتحفظ لتمويل رأس المال العامل؟ هو ذلك المدخل الذي تحاول من خلاله الإدارة المالية إيجاد ما يدعى:
- ا- بالموازنة بين السيولة والمخاطرة

- ب- هامش أمان
ج- هامش سالب
د- علاقة جيدة مع مصادر التمويل من خلال الحصول على أكبر تمويل منيم
97. ما هو هامش الربح المشارك؟
ا- الفرق بين التكلفة الثابتة والتكلفة المتغيرة للوحدة
ب- الفرق بين التكلفة المتغيرة والتكلفة الكلية للوحدة الواحدة
ج- الهامش الذي تساهم به الوحدة الواحدة من المبيعات في مواجهة وتغطية التكاليف الثابت
د- ذلك الربح الذي يتشارك به حملة الأسهم الممتازة فيما بينهم
98. ماذا يتضمن قرار الاستثمار المتخذ من قبل الإدارة المالية في المنشأة؟
ا- تقييم المصادر المالية المتاحة واختيار الأنسب
ب- تقييم البدائل الاستثمارية واختيار الأفضل
ج- تقييم سياسة توزيع الأرباح
د- إصدار المنشأة سندات جديدة
99. ما هو التصنيف الائتماني للمؤسسة؟ هو رأي فني في :
ا- ملائمة المؤسسة المصنفة
ب- طبيعة نشاط المؤسسة
ج- القدرة الإدارية للأفراد العاملين في المؤسسة
د- مستوى مبيعات المؤسسة
100. إذا كانت مجموع الموجودات المتداولة تساوي 70000 دينار، ومجموع الخصوم المتداولة تساوي 30000 دينار، فكم تساوي نسبة التداول؟
ا- 2,4 مرة
ب- 2,3 مرة
ج- 5 مرة
د- 6 مرة
- إنتهت الأسئلة

AXA



جامعة البقاع الطبية
وحدة التقييم والامتحانات العامة
امتحان الشهادة الجامعية المتوسطة
الدورة الشتوية لعام 2012

زمن الامتحان	
دقيقة	ساعة
---	3

اسم الطالب:	رقم الجلوس:
-------------	-------------

البرنامج الدراسي :	العلوم المالية والإدارية
التخصص :	السكروتاريا وأعمال المكاتب + المحاسبة + نظم المعلومات الإدارية + نظم المعلومات المحاسبية / كندي + نظم المعلومات
الورقة :	الثانية
اليوم والتاريخ :	الخميس 2012/1/5

ملاحظات:

✓

1. عدد صفحات ورقة الأسئلة باستثناء ورقة الغلاف (10).
2. تتكون ورقة الأسئلة من (100) فقرة موضوعية من نوع الاختيار من متعدد وتكون الإجابة عن الفقرات إجبارية.
3. اقرأ التعليمات الواردة في نموذج الإجابة (ورقة الكمبيوتر) بعناية تامة قبل البدء في الإجابة.

يتكون هذا الاختبار من (100) فقرة من نوع الاختيار المتعدد والاجابة عنها إجبارية. ظنل بقدم الرصاص بشكل
خامق الدائرة التي تشير الى الإجابة الصحيحة في المكان المخصص لذلك في نموذج الإجابة المرفق.

مبادئ الإدارة

1. ما العلم المستخدم في دراسة سلوك الفرد والعوامل التي تؤثر عليه وتحدد سلوكه وتصرفاته؟ علم:

- أ- الاجتماع. الجماهير ب- الأخلاق. لحظة وضطاً سلوك معي
ج- النفس. الإنسان د- الاقتصاد.

2. ما الدراسة التي تم من خلالها تقسيم الأعمال إلى نشاطات، والنشاط إلى حركات أساسية معينة لتأدية العمل؟ دراسة:

- أ- الحركة والزمن. ب- المهمة والعلامة. غاية
ج- هوثورن. السلوكية د- البيروقراطية.

3. أي مما يلي يعد من أهم المبادئ التي تتميز بها مدرسة الإدارة العلمية عن المدارس الأخرى؟ مبدأ:

- أ- استخدام الخبراء. ب- التدوين الكتابي. للمقعد والحدود
ج- مقاومة التغير. د- البحث العلمي. العمل / تحسين الكفاءة

4. ما الطريقة العلمية التي تم استخدامها في المدرسة السلوكية والتي لا يمكن تعميم نتائجها على كامل الدراسة؟ طريقة:

- أ- العينات. ب- الحالة. السلوكية
ج- الاستقصاء. د- التجربة.

5. أي مما يلي تعد من الصعوبات الناتجة عن الأفراد عند إجراء عملية التخطيط؟

- أ- سرعة التغير. ب- عدم المرونة. السلوكية
ج- الوقت والنفقة. د- مقاومة التغير.

6. أي من الآتية تعد من أنواع الخطط والتي لا يمكن تجاوزها، ويتم استخدامها في إرشاد متخذ القرار؟

- أ- القواعد. أهم القواعد ب- السياسات. محددات السلوك الأساسي
ج- البرامج. د- الإجراءات. من أجل تحقيق المساواة

7. ما نوع القرار الذي يمتاز بمعرفة المقرر باحتمال حدوث حالات الطبيعة؟ قرار:

- أ- حالة التأكد. ب- حالة التغير. الطبيعة المعقدة
ج- حالة المخاطرة. د- حالة عدم التأكد.

8. ما نموذج اتخاذ القرار المتبع في حالة وجود خلاف بين المديرين حول الأهداف التي يجب تحقيقها؟ النموذج:

- أ- التقليدي. ب- السياسي. المحدد
ج- الإداري. د- الكلامي.

9. ما التنظيم الذي يهتم بالهيكل التنظيمي وتحديد العلاقات والمستويات وتقسيم الأعمال؟ التنظيم:

- أ- غير الرسمي. ب- التعليمي. السلوكية
ج- الشبكي. د- الرسمي.

10. ما التنظيم الذي يمتاز باستخدام الخبراء والمختصين أثناء تأدية العمل؟ التنظيم:

- أ- الإداري. ب- التنفيذي. السلوكية
ج- التخصصي. د- الوظيفي.

11. ما الخريطة التنظيمية التي تصور الشكل التنظيمي الكامل للمنظمة بما فيه من الوحدات والمستويات الإدارية؟ الخريطة:

- أ- الشاملة. ب- الرئيسة. السلوكية
ج- التكميلية. د- المساعدة.

مبادئ محاسبة 1

61. أي من الحسابات التالية تجعل دائنة بالزيادة؟
 أ- الإيرادات ☒
 ب- المصروفات ☐
 ج- المسحوبات ☐
 د- الأصول ☒
62. أي من الحسابات التالية تتأثر عند شراء آلات دفع ثمنها بشيك مسحوب على البنك العربي؟
 أ- الآلات والمدينون ☐
 ب- الآلات والقروض ☐
 ج- المبيعات والآلات ☐
 د- الآلات والبنك ☒
63. بتاريخ 5/5/2011 اشترت محلات حازم بضاعة على الحساب من شركة السعادة بمبلغ (4000) دينار بخصم تجاري (5%) و بشرط (15/10) صافي (45) يوماً، وبفرض أن محلات حازم دفعت المستحق عليها بتاريخ 10/5/2011 فكم يبلغ المبلغ الذي دفعته؟
 أ- 3800 دينار ☐
 ب- 3600 دينار ☐
 ج- 3420 دينار ☐
 د- 3400 دينار ☐
64. أي من الخيارات التالية يؤدي إلى زيادة حقوق الملكية؟
 أ- القروض ☐
 ب- المبيعات ☒
 ج- المسحوبات ☐
 د- المصروفات ☐
65. أي من المصطلحات التالية هو تعريف ما تمتلكه المنشأة وحقوقها لدى الآخرين؟
 أ- الالتزامات ☒
 ب- حقوق الملكية ☐
 ج- الإيرادات ☐
 د- الأصول ☐
66. سجلت المنشأة عملية مالية بأن جعلت حساب الذمم المدينة مديناً وحساب إيراد الخدمات دائناً، فإن ذلك يؤثر على معادلة الميزانية كما يلي:
 أ- زيادة أصل ونقص أصل ☒
 ب- زيادة أصل وزيادة حقوق الملكية ☐
 ج- زيادة رأس المال ونقص المطلوبات ☐
 د- زيادة أصل وزيادة التزامات ☐
67. ما شرح القيد التالي : من ح/مشتريات إلى ح/ النقدية
 أ- شراء بضاعة نقداً ☐
 ب- بيع بضاعة نقداً ☐
 ج- بيع بضاعة على الحساب ☐
 د- شراء بضاعة على الحساب ☐
68. بلغ المجموع الدائن لحساب ما 5000 دينار ومجموع الجانب المدين 1000 دينار . فما هو رصيد هذا الحساب؟
 أ- رصيد مدين بمبلغ 4000 دينار ☒
 ب- رصيد دائن بمبلغ 4000 دينار ☐
 ج- رصيد مدين بمبلغ 5000 دينار ☐
 د- رصيد دائن بمبلغ 5000 دينار ☐
69. أظهر ميزان المراجعة لإحدى الشركات الأرصدة التالية: مبيعات 21000 دينار ، بضاعة أول المدة 2000 دينار ، مشتريات 15000 دينار ، بضاعة آخر المدة 4000 دينار . ما مجمل الربح لهذه الشركة؟
 أ- 8000 دينار ☒
 ب- 6000 دينار ☐
 ج- 3000 دينار ☐
 د- صفر ☐
70. ما المفهوم الذي يبين أن الذمة المالية للمنشأة منفصلة عن الذمة المالية للمالك وعن المنشآت الأخرى؟
 أ- فرض الدورية ☐
 ب- التكلفة التاريخية ☐
 ج- الوحدة المحاسبية ☒
 د- الاستمرارية ☐

12. ما التقسيم الذي يمتاز باستغلال الطاقة الإنتاجية للموارد المتاحة؟ التقسيم حسب:

- أ- الزمن. ☒ ب- فروع الزبائن. ☐ ج- مراحل العمل. ☒ د- الوظيفة. ☐

13. ما نوع السلطة التي يمارسها المدير في وضع أو تحديد كفاءة السياسات والبرامج في مجالات يشرف عليها مديرون آخرون؟ السلطة:

- أ- الشخصية. ☐ ب- الاستشارية. ☐ ج- التنفيذية. ☒ د- الوظيفية. ☐

14. أي مما يلي يعد من أهم مزايا سلطة اللجان؟

- أ- تبادل المعلومات. ☒ ب- سرعة اتخاذ القرار. ☐ ج- تقليل الانفاق. ☐ د- تقليل الوقت. ☐

15. ما النظرية القيادية التي ركزت في دراستها على المجموعات العمالية؟ نظرية:

- أ- السمات. ☐ ب- البعدين. ☐ ج- ليكرت. ☒ د- الخط المستمر. ☐

16. ما أسلوب القيادة الذي يكون فيه اهتمام ضعيف بالإنتاج واهتمام عال بالأفراد؟ أسلوب القيادة:

- أ- الإنسانية. ☒ ب- المعتدلة. ☐ ج- المتسلطة. ☐ د- الضعيفة. ☐

17. ما هو أسلوب العمل الذي يسمح للعاملين باختيار ساعات العمل التي يريدونها ضمن حدود معينة؟ أسلوب:

- أ- توسيع العمل. ☒ ب- العمل المرن. ☐ ج- العمل الأسبوعي المكثف. ☐ د- إثراء العمل. ☐

18. أي مما يلي يعد من عوامل زيادة فاعلية الاتصال؟

- أ- ترشيح المعلومات والرقابة عليها. ☒ ب- التداخلات المادية. ☐ ج- الدعوة لاجتماعات عامة. ☐ د- عدم الانتباه إلى الإشارات غير اللفظية. ☐

19. ما خاصية نظام الرقابة التي تعمل على منع وقوع الأخطاء أو الانحرافات قبل وقوعها ومعرفة أسبابها وتصحيحها؟ خاصية:

- أ- الملاءمة. ☐ ب- المرونة. ☐ ج- الدقة والفورية. ☒ د- الفعالية. ☐

20. من أساليب الرقابة المستخدمة في العملية الإدارية خرائط غانت، فضمن أي الأساليب يتم استخدامها؟

- أ- الميدانية. ☐ ب- الكمية. ☐ ج- الشبكية. ☒ د- الوصفية. ☐

مبادئ الإحصاء

21. قيمة معامل الارتباط (ر) تساوي:

- أ- $(r \geq 1)$. ☐ ب- $(-1 \geq r \geq 0)$. ☐ ج- $(-1 \geq r \geq 1)$. ☒ د- $(r \geq 1)$. ☐

22. إذا كان الوسط الحسابي لمجموعة من القيم يساوي (40) والانحراف المعياري يساوي (5) فإن العلامة المعيارية المناظرة للوسط الحسابي تساوي:

- أ- (1.5). ☐ ب- (1). ☐ ج- (صفر). ☒ د- (1-). ☐

23. إذا كان لدينا مجموعة من المشاهدات نصف المدى الربيعي لها يساوي (20) عدلت جميع المشاهدات، وذلك بإضافة العدد (3) إلى كل مشاهدة، فإن نصف المدى الربيعي بعد التعديل يساوي:

- أ- (35) ب- (40) ج- (23) د- (20)

24. إذا كان الوسط الحسابي لتوزيع أحادي المتوال يساوي (50) والمتوال يساوي (41) فإن الوسيط يساوي:

- أ- (60) ب- (53) ج- (47) د- (14)

25. الزيادة المنتظمة في عينة عشوائية منتظمة حجمها (300) مفردة لمجتمع يتكون من (6000) مفردة تساوي:

- أ- (200) ب- (20) ج- (2) د- (30)

26. إذا كان ح 1 وح 2 حادثين مستقلين، وكان ل (ح 1) $0.4 =$ ول (ح 2) $0.5 =$ فإن ل (ح 1 و ح 2) يساوي:

- أ- (0.1) ب- (0.9) ج- (0.7) د- (1)

27. ما أفضل طريقة لاختيار عينة عشوائية من أطباء وممرضين في مستشفى ما؟ هي الطريقة:

- أ- الطبقة ب- البسيطة ج- المنتظمة د- المتسرة

28. إذا كان لدينا (600) طالب، ووجدنا أن بينهم (30) طالبا يستخدمون اليد اليسرى في الكتابة فإن احتمال الظلية الذين يستخدمون اليد اليسرى يساوي:

- أ- (0.95) ب- (0.67) ج- (0.05) د- (0.30)

29. ما المقياس الذي لا يعد من مقاييس النزعة المركزية؟

- أ- الوسط الحسابي ب- الوسيط ج- المتوال د- التباين

*** اعتمد على الجدول التالي للإجابة عن الأسئلة (30، 31):

مراكز الفئات	2	5	8	11
التكرار	10	6	3	1

30. الوسط الحسابي يساوي:

- أ- (4.25) ب- (5) ج- (6.5) د- (14.9)

31. ما الحدود الفعلية للفئة التي مركزها (8)؟

- أ- (9-7) ب- (9.5 - 6.5) ج- (8.5 - 5.5) د- (10-6)

32. إذا كانت قيم الفروق بين رتب المتغير (س) ورتب المتغير (ص) المقابلة لها كما يلي [-1، 2، 1، 1، 2، 3] فإن معامل ارتباط سبيرمان للرتب يساوي:

- أ- (1) ب- (0.57) ج- (0.43) د- (0.43-)

*** إذا كان التوزيع الاحتمالي للمتغير (س) مهيئ كما هو في الجدول التالي أجب عن السؤال رقم (33):

س	0	1	2	3
ل(س)	0.2	0.25	0.15	0.4

33. التوقع الرياضي لهذا التوزيع يساوي:

- أ- (6) ✓
ب- (1)
ج- (1.75) ✓
د- (0.88)

34. إذا كان عدد طلاب السنة الرابعة لكافة التخصصات في إحدى الجامعات يساوي (8700) طالب فإن قياس زاوية القطاع الدائري الذي يمثل كلية الطب المكونة من (1500) طالب يساوي:

- أ- (62°) ✓
ب- (30°)
ج- (28°)
د- (79°)

*** اعتمد على الجدول التكراري التالي للإجابة عن الأسئلة (35-36):

الفئات	34-30	39-35	44-40	49-45	54-50
التكرار	6	5	12	9	8

35. الوسيط يساوي:

- أ- (43) ✓
ب- (54)
ج- (45)
د- (32)

36. المتوسط يساوي:

- أ- (42) ✓
ب- (47)
ج- (32)
د- (52)

*** الجدول التالي يمثل أسعار وكميات استهلاك (3) سلع استهلاكية في عامي 2002، 1996، إذا اعتبرنا سنة الأساس 1996، وسنة المقارنة (2002) أجب عن الأسئلة (37،38):

السلعة	عام 1996		عام 2002	
	السعر ع	الكمية ل	السعر ع	الكمية ل
أ	10	8	15	12
ب	25	12	40	18
ج	15	10	25	14

37. الرقم القياسي التجميعي البسيط للأسعار يساوي:

- أ- (63%)
ب- (133%)
ج- (158%)
د- (160%) ✓

38. رقم لاسبير القياس التجميعي للأسعار يساوي:

- أ- (160.38) ✓
ب- (62.35%)
ج- (133%)
د- (147%)

*** اعتمد البيانات التالية (0، 9، 4، 10، 11، 4)، للإجابة عن الأسئلة (39-40):

39. المئين الستين للبيانات يساوي:

- أ- (9) ✓
ب- (10)
ج- (4-)
د- (11)

ب- (33)

د- (42)

مبادئ الاقتصاد الجزئي

بماذا يهتم الاقتصاد الموضوعي؟ بدراسة:

1- ما يجب أن يكون عليه علم الاقتصاد

ب- ما هو قائم في علم الاقتصاد

ج- المتغيرات الحدية للإنتاج

د- المتغيرات الثابتة للإنتاج

42. العلاقة غير الخطية في النماذج الاقتصادية هي تلك العلاقة التي يكون فيها تأثير المتغير:

أ- المستقل عن المتغير التابع غير ثابت

ب- المستقل على المتغير التابع ثابت

ج- التابع على المتغير المستقل غير ثابت

د- التابع على المتغير المستقل ثابت

43. إذا كانت مرونة الطلب التقاطعية بين سلعتين سالبة، فإن السلعتين هما:

أ- بديلان

ب- مكملتان

ج- ضروريان

د- مستقلتان

44. إذا ارتفع سعر السلعة بنسبة 45% ولم تتغير الكمية المعروضة، فما نوع مرونة العرض؟

أ- مرن

ب- غير مرن

ج- أحادي المرونة

د- لا نهائي المرونة

45. ماذا نسمى نصيب العامل من العملية الإنتاجية؟

أ- الربح

ب- الأجر

ج- سعر الفائدة

د- الربح

46. عن أي طريق يمكن الحصول على طلب السوق؟

أ- التجميع العمودي لمنحنيات الطلب الفردية

ب- التجميع العمودي لمنحنيات الطلب الجماعية

ج- التجميع الأفقي لمنحنيات الطلب الجماعية

د- التجميع الأفقي لمنحنيات الطلب الفردية

47. إذا كان سعر التوازن أكبر من السقف السعري الذي فرضته الحكومة، فإن ذلك سوف يؤثر على توازن السوق بـ:

أ- عدم التأثير

ب- زيادة بسيطة بالسعر

ج- نقص السلعة بالسوق

د- زيادة السلعة بالسوق

48. إذا زاد الطلب على السلعة مع نقصان العرض فإن هذا يؤدي إلى:

أ- زيادة أكيدة في كمية التوازن مع ثبات السعر

ب- زيادة أكيدة في سعر التوازن

ج- انخفاض أكيد في كمية التوازن مع ثبات السعر

د- انخفاض أكيد في سعر التوازن

49. إذا كان معامل مرونة الطلب أقل من الواحد صحيح، فإن العلاقة بين التغير في الإيراد الكلي والتغير في السعر يكون؟

- أ- عكسية
ب- طردية
ج- أحادية
د- متكافئة

50. عندما يكون منحني المنفعة الحدية متزايدا وموجبا فإن منحني المنفعة الكلية يكون؟

- أ- متزايدا بمعدل متزايد
ب- متزايدا بمعدل متناقص
ج- متناقصا بمعدل متناقص
د- متناقصا بمعدل متزايد

51. كل القرارات الاقتصادية يتم اتخاذها بناء على:

- أ- التحليل الكلي
ب- التحليل الخدي
ج- التحليل الكمي
د- التحليل الجزئي

52. يمكن تعريف فائض المستهلك على أنه:

- أ- سعر السوق ناقص سعر الطلب
ب- سعر السلعة ناقص التكلفة
ج- سعر السلعة ناقص الإيراد
د- سعر الطلب ناقص سعر السوق

53. كلما انتقلنا إلى اليسار على خريطة السواء؟

- أ- يزداد مستوى الإشباع
ب- يزداد مستوى الكلفة
ج- يقل مستوى الإشباع
د- يقل مستوى الكلفة

54. عندما تتساوى التكاليف الكلية مع الإيرادات الكلية فإن المؤسسة تحقق:

- أ- أرباحاً مثبتة
ب- أرباحاً عادية
ج- أرباحاً اقتصادية
د- أرباحاً محاسبية

55. حسب دائرة الإنتاج فإن مدخلات الإنتاج تعد:

- أ- متغيراً حدياً
ب- متغيراً ضمنياً
ج- متغيراً تابعاً
د- متغيراً مستقلاً

56. تظهر في المنشأة التي يوجد فيها تقسيم العمل وتوظيف مهارات إدارية كفاءة ما يسمى:

- أ- فائض الإنتاج
ب- نقص في الإنتاج
ج- وفورات الحجم
د- تبذيرات الحجم

57. يتغير خط التكلفة المتساوية إلى أعلى أو إلى أسفل إذا تغير المبلغ المخصص للإنتاج مع:

- أ- أسعار عناصر الإنتاج
ب- أسعار السلع والخدمات
ج- ثبات أسعار عناصر الإنتاج
د- ثبات أسعار السلع والخدمات

58. ما المجموعة المثلى من عناصر الإنتاج؟

- أ- الأقل كفاءة
ب- الأكثر كفاءة
ج- متساوية الكفاءة
د- عديمة الكفاءة

59. عند وصول المستهلك إلى حد الإشباع من السلعة فإن المنفعة الحدية للسلعة تكون:

- أ- صفراً
ب- موجبة
ج- سالبة
د- مستقرة

60. التكاليف بالمفهوم الاقتصادي تتكون من:

- أ- الصريحة والضمنية والتي تحسب على أساس الفرصة البديلة
ب- المحاسبية
ج- الصريحة وهي تكاليف عناصر الإنتاج
د- التكاليف التي تدفعها فعلاً على العمالة المستخدمة

ed > 1

الخيار

المنفعة الكلية

السؤال

مبادئ محاسبة 2

71. أي من الحسابات التالية هو الجانب الدائن من قيد إثبات استلام توزيعات أرباح أسهم نقدًا؟
 أ- ح/الصندوق ☒ ب- ح/توزيعات أرباح أسهم
 ج- ح/البنك د- ح/استثمارات أسهم قصيرة الأجل
72. إذا علمت أن كلا من الأرصدة التالية هي أرصدة بعد التسويات: رصيد المدينين 8000 ورصيد مخصص ديون مشكوك فيها 800 ، فأَي من الخيارات التالية هو القيمة المتوقعة تحصيلها من المدينين؟
 أ- 8000 دينار ☒ ب- 800 دينار
 ج- 8800 دينار د- 7200 دينار
73. إذا علمت أن كلا من الأرصدة التالية هي أرصدة قبل التسويات:
 رصيد المدينين 50000 ورصيد مخصص ديون مشكوك فيها 3000 وان المنشأة قدرت الديون المشكوك فيها لهذا العام محسوبة كنسبة من المدينين بمبلغ 5000 دينار، فأَي من الخيارات التالية هو مقدار الديون المشكوك فيها والذي يحمل لقائمة الدخل؟
 أ- 3000 دينار ☒ ب- 5000 دينار
 ج- 2000 دينار د- 8000 دينار
74. باعت شركة السعادة أسهماً تمتلكها بتكلفة 7500 دينار بمبلغ 8500 دينار ودفعت عمولة بيع 300 دينار لوسطاء البيع، فإن نتيجة بيع الاسهم يكون ربحاً بمقدار:
 أ- 1000 دينار ☒ ب- 700 دينار
 ج- 1300 دينار د- 500 دينار
75. أي من الخيارات التالية يصنف على أنه أصل؟
 أ- رواتب للموظفين مستحقة لم تدفع ولم تسجل. ☒ ب- إيرادات اكتسبت ولم يقبض ولم يسجل.
 ج- استلام رسوم مقابل خدمات لم تكتسب بعد. ☒ د- اللوازم المستعملة.
76. في 2011/1/1 دفعت المنشأة مبلغ 3900 دينار، مصروف تأمين عن عقد تأمين مدته ثلاث سنوات، فأَي من الخيارات التالية يتم التقرير عنه في قائمة المركز المالي المعدة في 2011/12/31 ؟
 أ- أصل بمبلغ 1300 دينار ☒ ب- أصل بمبلغ 2600 دينار
 ج- التزام بمبلغ 1300 دينار د- التزام بمبلغ 2600 دينار
77. إذا كان الرصيد الدفترى للصندوق 2000 دينار وببلغ العجز مبلغ 230 ديناراً ولا يوجد سبب مستندي للعجز، ويتحمل أمين الصندوق 200 ، والباقي تتحمله المنشأة. فما المبلغ الذي يجب أن يحمل لقائمة الدخل؟
 أ- لا تأثير ح/ أ.خ ☒ ب- 200 دينار
 ج- 230 ديناراً د- 30 ديناراً
78. يبلغ تكلفة السيارة التي تمتلكها المنشأة 420 ديناراً وعمرها الانتاجي 4 سنوات وقيمة الخردة لها 20 ديناراً فإذا اتبعت المنشأة طريقة القسط الثابت في احتلاك الأصول فأَي من التالية هو مبلغ مصروف الاستهلاك السنوي؟
 أ- 100 دينار ☒ ب- 105 دنانير
 ج- 200 دينار د- 160 ديناراً




جامعة البقعة التطبيقية

وحدة التقييم والامتحانات العامة

امتحان الشهادة الجامعية المتوسطة

الدورة الصيفية لعام 2011م



زمن الامتحان	
ساعة	دقيقة
3	---

ر ق م الجلوس:

اسم الطالب:

العلوم المالية والإدارية	: انبرنامج الدراسي
المحاسبة + نظم المعلومات الإدارية	: التخصص
الثانية	: الورقة
الاثنين 2011/7/25	: اليوم والتاريخ

ملاحظات :-

✓

1. عدد صفحات ورقة الأسئلة باستثناء ورقة الغلاف (10).
2. تتكون ورقة الاسئلة من (100) فقرة موضوعية من نوع الاختيار من متعدد وتكون الإجابة عن الفقرات إجبارية .
3. اقرأ التعليمات الواردة في نموذج الإجابة (ورقة الكمبيوتر) بعناية تامة قبل البدء في الإجابة.
4. النهاية العظمى للورقة (250) علامة.

يتكون هذا الاختبار من (100) سؤال موضوعي من نوع الاختيار من متعدد، الإجابة عنها إجبارية. ظلل بقلم الرصاص بشكل غامق الدائرة التي تشير إلى الإجابة الصحيحة في المكان المخصص لذلك في نموذج الإجابة المرفق.

مبادئ الإدارة

1. ماذا يعني قيام الإداري بجميع وظائف الإدارة؟
أ- التكامل الإداري
ب- شمولية الإدارة
ج- عمومية الإدارة
د- رقابة الإدارية
2. أي مما يلي تعتبر من م ركزات الإدارة العلمية؟
أ- الترتيب
ب- المبادرة
ج- البحث العلمي / القواعد (التي) / القسم
د- المركزية
3. أي من المدارس التالية تعتبر الكفاءة إنجازاً يتبع التخطيط السليم؟ مدرسة:
أ- علم الإدارة
ب- النظم
ج- السلوكية
د- الظرفية
4. أي من الطرق التالية اعتمدت عليها المدرسة السلوكية لاختيار عينة من المجتمع المطلوب دراسته؟
أ- استخدام الخبراء
ب- التجارب
ج- الحالة / وضع بحث
د- الاستقصاء
5. ما هي السياسة التي تطبق على النشاطات اليومية على مستوى الإدارات؟ السياسة:
أ- الفرعية
ب- التنفيذية
ج- الأساسية
د- التواعد
6. أي من أنواع الخطط التالية تحدد الرقابة على السلوك الإنساني من أجل تحقيق الأمان والمساواة؟
أ- البرامج
ب- السياسات
ج- القواعد
د- الإجراءات
7. أي من القرارات التالية معنية بمعرفة المقرر باحتمال حدوث حالات الطبيعة؟ القرارات في حالة:
أ- المخاطرة
ب- عدم التأكد
ج- التأكد
د- اتخاذ القرار
8. ما هو النموذج المناسب لإتخاذ القرار في الواقع وفي ظروف تتميز بالغموض وعدم التيقن؟ النموذج:
أ- الكلاسيكي
ب- السياسي
ج- النقل
د- الإداري
9. ما هو التقسيم الذي يسعى إلى استغلال الطاقة الإنتاجية للموارد المتاحة ومقابلة التغيير في الطلب؟ التقسيم:
أ- حسب مراحل العمل
ب- الزمني
ج- حسب نوع الزبائن
د- حسب نوع السلعة
10. أي من التنظيمات التالية يستفيد بشكل كبير من التخصصات في المنظمة ومرونة واستجابة أكثر للمنافسة؟ التنظيم:
أ- التعليمي / تدخل الغار
ب- الشبكي
ج- الفرق
د- بلا حدود

أي من التنظيمات التالية يعتمد بشكل أساسي على استخدام مكثف لتكنولوجيا المعلومات والاتصالات؟ التنظيم:

ب- الشبكي

أ- الافتراضي

د- الفريق

ج- المصفوفة

12. ما هي السلطة التي تعطي المالك الحق في اتخاذ القرار الخاص باستخدام أمواله؟ السلطة:

ب- بموجب حق الملكية

أ- الاستشارية

د- التنفيذية

ج- الشخصية

13. أي من أنواع السلطات التالية تعتبر سلطة مقيدة؟ السلطة:

ب- اللجان.

أ- الاستشارية.

د- قبول المروءيين.

ج- الوظيفية.

14. أي من نظريات القيادة التالية ركزت على الانتاجية العالية والمنخفضة للعاملين؟ نظرية:

ب- البعدين

أ- الشبكة الإدارية

د- ليكرات

ج- الخط المستمر

15. أي من نظريات الحفز التالية ركزت على العلاقة ما بين السلوك الإنساني ونتائجه؟ نظرية:

ب- تحديد الأهداف

أ- المساواة

د- التعزيز

ج- التوقعات

16. إلى أي النقصانات النظرية التالية تقع الحاجة للاهتمام؟ نظرية:

ب- الدفر

أ- ماسلو للحاجات

د- المتغيرين

ج- مكيلاند

17. ما هو الاتصال الذي يعني حدوث تطابق تام بين المعنى المرسل من قبل المرسل والمعنى المشهور من قبل المستلم؟ الاتصال:

ب- الكفو

أ- الفعال

د- القطري

ج- الحديث

18. ماذا يطلق على عملية الاتصال التي تعني بوضع محتويات الرسالة بشكل يفهمه المستلم؟

ب- ترميز عملية الاتصال

أ- تحليل رموز الرسالة

د- اختيار وسيلة الاتصال

ج- التشويش

19. أي من الأساليب الرقابية التالية يدل على بطاقة الجرد المستمر؟ الرقابة:

ب- النوعية

أ- التسويقية

د- العامة

ج- الكمية

20. أي مما يلي تعتبر من أنواع الرقابة من حيث التنظيم؟ الرقابة:

ب- الداخلية

أ- العلاجية

د- الدورية

ج- الوقائية

مبادئ الاقتصاد الكلي

21. إذا بلغت قيمة الناتج المحلي الإجمالي 7575 دينار، وكانت قيمة الفوائد 354 دينار، والأجور 4555 دينار، والاهتلاك 264 دينار في حين قدرت الضرائب غير المباشرة 636 دينار، وإرباح الشركات الفردية 425 دينار، فما هي قيمة كل من الإيجارات وصافي الناتج المحلي الإجمالي على التوالي؟

ب- 1605 و 7839

أ- 7311 و 1341

د- 1605 و 6939

ج- 1341 و 7311

22. ماذا سيكون عليه الناتج المحلي الإجمالي، إذا كان صافي دخل عناصر الإنتاج بالخارج سالباً؟ سيكون:
- أ- أقل من الناتج القومي الإجمالي
ب- أكبر من الناتج القومي الإجمالي
ج- مساوي للناتج القومي الإجمالي
د- لا علاقة بينهما
23. بماذا يعرف الفرق بين ما ينتج وقيمة ما يستخدم من مستلزمات الإنتاج؟
- أ- الإنفاق الكلي
ب- صافي الدخل
ج- الإنتاج الكلي ناقص الاهتلاك
د- القيمة المضافة
24. إذا بلغ الناتج المحلي الإجمالي 4566 دينار، وكان صافي الصادرات 45 دينار، بينما الضرائب غير المباشرة بلغت 14 دينار في حين بلغ صافي دخل عناصر الإنتاج بالخارج - 244 دينار، فكم يساوي الناتج القومي الإجمالي؟
- أ- 4322 دينار
ب- 4810 دينار
ج- 4580 دينار
د- 4552 دينار
25. إذا علمت أن الميل الحدي للاستهلاك هو 0.70 وأن مقدار الاستهلاك هو 220 دينار عند مستوى الدخل 200 دينار، فما هو الحد الأدنى من الاستهلاك عند مستوى الدخل صفراً؟
- أ- 80 دينار
ب- 46 دينار
ج- 100 دينار
د- 360 دينار
26. ماذا يكون التغير إذا كان الميل الحدي للاستهلاك يساوي صفراً؟
- أ- الدخل يترتب عليه زيادة في الاستهلاك
ب- الاستهلاك يترتب عليه زيادة في الدخل
ج- الدخل لا يترتب عليه زيادة في الاستهلاك
د- الاستهلاك لا يترتب عليه زيادة في الدخل
27. إذا علمت إن معادلة دالة الاستهلاك $C = 80 + 0.75 Y$ وأن قيمة الدخل 200 دينار، فكم تبلغ قيمة الاستثمار؟
- أ- (30) دينار
ب- (-30) دينار
ج- (130) دينار
د- (-130) دينار
28. أي مما يلي يعد من محددات القرار الاستثماري؟
- أ- التطور التقني والتكنولوجي
ب- الحوافز
ج- حجم الطلب ونموه
د- التكاليف
29. ماذا يقصد بالمتغيرات السياسية التي تؤثر على الطلب الكلي؟ المتغيرات:
- أ- السياسة النقدية والسياسة الخارجية
ب- السياسة المالية والمستوى العام للأسعار
ج- مستويات الأسعار
د- السياسة المالية والنقدية
30. متى تحدث الفجوة الإنكماشية؟ إذا تحدد مستوى الدخل التوازني عند وضع:
- أ- أعلى من مستوى الناتج الكامن
ب- أقل من مستوى الناتج الكامن
ج- مساوي لمستوى الناتج الكامن
د- لا يمكن تحديده
31. إذا علمت إن دالة الاستهلاك تساوي $C = 150 + 0.75 Y$ ، وكان الاستثمار 500 دينار والإنفاق الحكومي عند 450 دينار في حين بلغ صافي الصادرات - 400 دينار، عند أي مستوى يتحدد الدخل التوازلي؟
- أ- 700 دينار
ب- 6000 دينار
ج- 2800 دينار
د- 5600 دينار

32. في حالة أي نمط من أنماط الاقتصاد يكون تأثير المضاعف على مستوى الدخل أو الناتج أقل؟ في حالة الاقتصاد:

- أ- المفتوح
ب- المغلق
ج- الرأسمالي
د- الاشتراكي

33. كم سينخفض الناتج المحلي إذا كان الميل الحدي للاختار يساوي 0.25 وأنه حدث زيادة بالضرائب بمقدار 120 دينار؟

- أ- 360 دينار
ب- 480 دينار
ج- 90 دينار
د- 90 دينار

34. كيف يستطيع الجمهور التأثير على مضاعف النفود؟ عن طريق:

- أ- نسبة الاحتياطي للودائع
ب- القاعدة النقدية
ج- نسبة الاحتياطي القانوني
د- نسبة السيولة للودائع

35. إذا بلغت تكلفة سلة البضائع والخدمات لعام 2010 / 140 دينار في حين كانت في عام 2009 تقدر بحوالي 120 دينار، فما هو معدل التضخم لعام 2010؟

- أ- 6.6%
ب- 85.7%
ج- 16.6%
د- 14.3%

36. ماذا تسمى البطالة الناجمة عن إحجام بعض العاطلين عن العمل على الإخراط بوظائف نثيا لنظرة المجتمع لها؟ البطالة:

- أ- الاحتكاكية
ب- السلوكية
ج- الهيكلية
د- الموسمية

37. ماذا يسمى التضخم الناتج عن الزيادة في حجم النقود لدى الأفراد مع ثبات حجم السلع والخدمات في المجتمع؟ التضخم:

- أ- المشترك
ب- سحب الطلب
ج- دفع الكلفة
د- المستورد

38. ما هي العلاقة التي يشير لها فتون أكان؟ العلاقة بين البطالة و:

- أ- المستوى العام للأسعار
ب- الدخل القومي
ج- التضخم
د- المضاعف

39. كيف يستطيع البنك المركزي القضاء على الركود الاقتصادي؟ عن طريق الزيادة في:

- أ- نسبة الاحتياطي القانوني
ب- الضرائب والتقليل في الإنفاق الحكومي
ج- سعر إعادة الخصم
د- في شراء السندات والأوراق الحكومية

40. أي مما يلي يعد من الأدوات التلقائية للسياسة المالية؟

- أ- نظام الضرائب التصاعدية
ب- تغير معدلات الضريبة
ج- مشروعات التوظيف العامة
د- برنامج الإسهال العامة

مبادئ المحاسبة (1)

41. إذا علمت ان تكلفة البضاعة المباعة 40000 دينار، والمصارف التشغيلية 20000 دينار، والمبيعات 110000 دينار، فكم يبلغ صافي ربح المشروع؟

- أ- 50000 دينار
ب- 20000 دينار
ج- 70000 دينار
د- 90000 دينار

42. في أي من القوائم التالية يتم التقرير عن تكلفة البضاعة المباعة؟

- أ- الدخل
ب- حقوق الملكية
ج- المركز المالي
د- التدفقات النقدية

43. أي من الحسابات التالية تكون دائنة بالزيادة مدينة بالنقصان؟

- أ- ح/لوازم مستهلكة
ب- ح/مصرف روتب
ج- ح/سيارات
د- ح/اوراق دفع

44. أي من التالي هو الوصف الصحيح لزيادة ح/ الاثاث دينار وزيادة ح/ راس المال بمبلغ 7100 دينار؟

- أ- شراء اثاث نقدا
ب- شراء اثاث على الحساب
ج- تقديم المالك اثاث للمنشأة كإضافات
د- سحب صاحب المنشأة اثاث من المشروع

45. أي مما يلي يعد المفهوم الذي يبين أن المنشأة يجب أن تسجل العمليات المالية بوحدة النقد؟

- أ- مبدأ التكلفة التاريخية
ب- فرض الوحدة المحاسبية
ج- فرض وحدة القياس النقدي
د- فرض للفترة المحاسبية

46. يكون الجانب المدين من قيد بيع بضاعة وقبض قيمتها بكمبيلية تستحق بعد شهرين:

- أ- اوراق دفع
ب- اوراق قبض
ج- المبيعات
د- المدينون

47. أي من التالي هو الحساب المستخدم لتسجيل خصم تجاري أعطاه البائع للعميل في دفاتر البائع؟

- أ- ح/خصم تجاري
ب- ح/خصم مبيعات
ج- ح/خصم مشتريات
د- لا يوجد حساب للخصم يسجل في الدفاتر

48. ما هو مصدر البيانات والتي تظهر في ميزان المراجعة بالارصدة؟

- أ- قائمة التسوية
ب- قيود اليومية المسجلة في دفتر اليومية
ج- دفتر الأستاذ العام
د- الميزانية العمومية

49. ماذا يعرف المبلغ المستلم من بيع بضاعة او تقديم سلعة؟

- أ- رأس المال
ب- الربح
ج- المبلغ الدائن
د- الإيرادات

50. بلغ رصيد أول المدة لحساب الصندوق 9000 دينار وتم تسديد مبلغ 3000 دينار وبلغت المشتريات النقدية 2000 دينار، فكم يبلغ رصيد ح/ الصندوق؟

- أ- 5000 دينار
ب- 6000 دينار
ج- 4000 دينار
د- 14000 دينار

مبادئ المحاسبة (2)

51. اندلع حريق في 2010/5/30 في محلات العودة فاذا علمت ان: قيمة المبيعات 25000 دينار، وقيمة المشتريات 16000 دينار، وقيمة بضاعة أول المدة 7000 دينار، وان معدل مجمل الربح 20%. فأي من التالي يمثل قيمة بضاعة آخر المدة؟

- أ- 5000 دينار
ب- 3000 دينار
ج- 20000 دينار
د- 4600 دينار

52. عندما يتم شطب دين باستخدام طريقة المخصص فإن المدينون:

- أ- سيقى كما هي و المخصص سيزيد
ب- سيزيد والمخصص سيزيد
ج- ستنخفض والمخصص سينخفض
د- ستنخفض والمخصص سيزيد

53. أي من الحسابات التالية يتم إقفالها في حساب الأرباح والخسائر؟

- أ- رواتب مستحقة الدفع
ب- مصرف إيجار مقدم
ج- إيرادات غير مكتسبة
د- مصرف إيجار

54. أجرت شركة المساعدة محلا تجاريا بموجب عقد إيجار سنوي يبدأ من 2010/4/1 وأبضت مبلغ 24000 دينار،

أي من الإفصاح التالي صحيح في 2010/12/31؟

- أ- عرض 6000 دينار كخصوم في المركز المالي
ب- تحميل 24000 دينار كإيراد إيجار في قائمة الدخل
ج- عرض 24000 دينار كخصوم في المركز المالي
د- تحميل 6000 دينار كإيراد إيجار في قائمة الدخل

55. في 12/13 بلغ رصيد ح/ الصندوق الدفترى 800 دينار، وبلغت قيمة الزيادة في الصندوق 20 دينار،
مبداً مبلغ حساب الصندوق ليصبح:

- أ- 20 دينار
ب- 800 دينار
ج- 820 دينار
د- 780 دينار

56. اشترت شركة الهمام معدات ودفعت المبالغ التالية: ثمن الشراء 24000 دينار، ضريبة مبيعات 1200 دينار،
تأمين وشحن 200 دينار، وتركيب وتجريب 400 دينار، فكم تبلغ كلفة تسجيل المعدات؟

- أ- 24000 دينار
ب- 25400 دينار
ج- 25800 دينار
د- 24600 دينار

57. البنك عمليات مالية أدت إلى اختلاف رصيد البنك في الدفاتر ورصيد البنك في الكشف علماً أن رصيد البنك في
كشف البنك 7500 دينار:

1- شيكات صادرة لم يتقدم أصحابها لصرفها 600 دينار

2- فوائد دينية بمبلغ 150 دينار ولم تظهر بالدفاتر

- فأي المبالغ التالية هي رصيد البنك المعدل؟

- أ- 6900 دينار
ب- 7950 دينار
ج- 7050 دينار
د- 8250 دينار

58. أي مما يلي يمثل تصنيف قسط الإهلاك؟

- أ- حساب مقابل لحساب الأصل
ب- مصروف
ج- إيراد
د- أصل

59. في 1/1 اشترت منشأة سيارة بمبلغ 9400 دينار عمرها الإنتاجي 4 سنوات لها قيمة خردة 1000 دينار

فما هي قيمة قسط الإهلاك بطريقة القسط الثابت في السنة الأولى؟

- أ- 2350 دينار
ب- 2100 دينار
ج- 2600 دينار
د- 3760 دينار

60. بلغ ح/ المدينون 18000 دينار، ح/ مخصص ديون مشكوك في تحصيلها 200 دينار (دائنين) قبل التسويات
وتقرر عمل خصص ديون مشكوك بتحصيلها جديد بنسبة 4% من صافي المدينون، قيد التسوية الخاص
بالمخصص سيؤدى إلى:

- أ- زيادته بمبلغ 720 دينار
ب- تخفيضه بمبلغ 720 دينار
ج- زيادته بمبلغ 520 دينار
د- تخفيضه بمبلغ 520 دينار

مبادئ القانون التجاري

61. أي من العقود التالية يعتبر من العقود التي يشترط لصحتها الكتابة والتسجيل؟

- أ- الرهن التأميني
ب- الرهن الحيازي
ج- النقل
د- الرهن الحيازي والتأميني

62. ماذا تعتبر مخالفة مصنع الحديد لشروط العقد المبرم مع أحد التجار بعدم بيع بضائعه لأي تاجر آخر بسعر أقل من السعر المتفق عليه مع هذا التاجر؟ من قبيل:
- المنافسة غير المشروعة
 - الفعل النافع
 - المسؤولية التقصيرية
 - الالتزامات غير التعاقدية
63. ماذا يقصد بعبارة "أية إشارة استعملت أو كان في النية استعمالها على أية بضائع أو فيما له تعلق بها للدلالة على أن تلك البضائع تخص صاحبها بحكم صنعها أو الاتجار بها أو عرضها للبيع؟"
- الاسم التجاري
 - العتوان التجاري
 - الشعار
 - العلامة التجارية
64. ما المقدار التي يمكن للهيئة العامة تعويضه في حالة خسارة الشركة ذات المسؤولية المحدودة 75% من رأسمالها كي لا تصفى؟
- نصف الخسارة
 - ربع الخسارة
 - كامل الخسارة
 - ثلاثة أرباع الخسارة
65. متى يكون النصاب قانونياً للحضور في اجتماع الهيئة العامة العادي الثاني في الشركة المساهمة العامة؟
- بحضور (50%) من مالكي الأسهم
 - بحضور (40%) من مالكي الأسهم
 - بأي عدد من المساهمين ومهما كانت النسبة
 - بحضور (75%) من مالكي الأسهم
66. ماذا يعتبر عمل السمسار والوكيل بالعمولة؟ من قبيل الاعمال:
- التجارية بحكم ماهيتها
 - التجارية بالتبعية
 - التجارية البحرية
 - المدنية
67. أجاز المشرع للشركة ذات المسؤولية أن تقتطع من صافي الأرباح السنوية لحساب الاحتياطي الاختياري:
- ما لا يقل عن 20 %
 - ما لا يزيد عن 20 %
 - ما لا يقل عن 10 %
 - ما لا يزيد عن 10 %
68. أي أحكام الشركات تطبق على أحد الشركاء بوجود شركة المحاصة؟ أحكام شركة:
- التضامن غير المسجلة
 - التضامن المسجلة
 - التوصية البسيطة
 - التوصية بالأسهم
69. إذا كانت شركة التضامن غير محدودة المدة وأراد الشركاء الانسحاب منها، فإنه يحق لهم الانسحاب بـ:
- قرار من المحكمة فقط
 - قرار من المحكمة أو المدير العام
 - موافقة أغلبية الشركاء أو المحكمة
 - إرادته المنفردة
70. أي واحدة من الحالات التالية تعتبر من الحالات التي يجوز فيها طلب فسخ شركة التضامن؟
- إفلاس أحد الشركاء
 - الحجر على أحد الشركاء
 - هلاك جزء كبير من رأس المال
 - بقاء شريك واحد
71. ماذا يقصد بالقيمة التي تباع فيها الأسهم الجديدة مضافاً إليها علاوة تمثل الفرق بين القيمة الاسمية والقيمة الفعلية؟ القيمة:
- الاسمية
 - بعد علاوة الإصدار
 - الفعلية
 - الموقية

72. خلال كم يوم يجب تقديم شيك للوفاء بدماً من تاريخ الإنشاء إذا كان محرراً في اسبانيا وواجب الأداء في الأردن؟

- أ- (60) يوماً
ب- (30) يوماً
ج- (90) يوماً
د- ثلاثة شهور

73. أي الأحكام تطبق على الوديعة النقدية وفقاً لأحكام قانون التجارة الأردني؟ أحكام عقد:

- أ- الكفالة
ب- القرض
ج- الوديعة المدنية
د- الهبة

74. أي مما يلي يمثل ما يقصد به بأنه عبارة عن تعهد من قبل المسحوب عليه بدفع قيمة السند إلى حامله في تاريخ استحقاقه؟

- أ- الرهن التأميني
ب- التطهير التأميني
ج- القبول
د- التطهير الناقل للملكية

75. ماذا يعني إذا قام الساحب بتحرير الشيك مع إضافة عبارة "أدفع ليس لأمر"؟ يعني:

- أ- بطلان الشيك
ب- تطهير تأميني
ج- أحكام حوالة الحق
د- رهنا للشيك

76. متى تصفى الشركة إجبارياً بموجب نص المادة (301) من قانون الشركات والتي تناولت حالات التصفية الإجبارية للشركة المساهمة العامة؟ إذا:

- أ- زادت خسائرها عن 25% من رأس مالها
ب- توقفت عن ممارسة عملها لمدة سنة كاملة دون عذر
ج- قررت الهيئة العامة ذلك في اجتماعها غير العادي
د- صدر قرار من المحكمة بشهر إفلاسها

77. أي من الحالات التالية تعتبر من الحالات التي تعفي الناقل من المسؤولية في عقد النقل؟

- أ- خطأ الناقل
ب- العيب القديم في المنقول
ج- هلاك البضاعة
د- سوء ترتيب المنقول على وسيلة النقل

78. أي أشكال الاعتماد المستندي الذي لا يجوز للبنك أن يلغيه أو يعدل فيه خلال مدة سريانه؟ الاعتماد المستندي:

- أ- المعزز
ب- المفتوح
ج- المقيد
د- الغير قابل للنقض

79. ماذا يعني إذا قام الساحب بوضع خطين متوازيين على الشيك مع إضافة عبارة "البنك العربي"؟ يعني:

- أ- تسطير عام
ب- رهنا للشيك
ج- تطهير للشيك
د- تسطير خاص

80. أي مما يلي يعد من أوجه الاختلاف بين خطاب الضمان والكفالة؟

- أ- الكفالة التزام مستقل بينما خطاب الضمان التزام تابع وغير المباشر
ب- الكفالة التزام تابع وغير مباشر، بينما خطاب الضمان للالتزام مباشر ومستقل
ج- الكفالة وخطاب الضمان كليهما التزام غير مستقل وتابع
د- الكفالة التزام مستقل ومباشر، بينما خطاب الضمان التزام غير مباشر وتابع

مبادئ الإدارة المالية

81. بماذا تُعرف التكلفة التي لا تتغير في مجموعها إذا تغير حجم الإنتاج الكلي، أما نصيب الوحدة الواحدة المنتجة من تلك التكاليف يتناقص مع الزيادة في حجم الإنتاج؟

- أ- ثابتة
ب- مباشرة
ج- متغيرة
د- غير مباشرة

82. إذا بلغت حقوق الملكية لإحدى الشركات (2.4) مليون دينار وعدد الأسهم العادية (1.6) مليون سهم ولا يوجد هناك أسهم ممتازة في رأسمال الشركة فكم القيمة الدفترية للسهم العادي؟
- أ- (2.4) دينار / للسهم
ب- (1.5) دينار / للسهم
ج- (1.6) دينار / للسهم
د- (3) دينار / للسهم
83. أي من التالية ليست من طرق الاهلاك للأصول الثابتة؟
- أ- القسط المتجمع
ب- القسط المتناقص
ج- مستوى النشاط
د- القسط الثابت
84. ماذا تعرف كمية الطلبية من المواد والتي تكفي لفترة تشغيلية واحدة؟ تعرف بـ:
- أ- الحجم الأمثل لطلبية الشراء
ب- الحد الأدنى من المخزون
ج- مخزون الأمان
د- الحد الأعلى من المخزون
85. إذا استثمر أحد الأشخاص مبلغ مقداره 100 دينار كوديعة توفير في إحدى البنوك وبمعدل فائدة 10% ، فما هي مقدار الفائدة الذي سوف يستلمها في نهاية السنة؟
- أ- (12) دينار
ب- (2) دينار
ج- (50) دينار
د- (10) دينار
86. إذا كانت درجة الرفع التشغيلي تساوي (-5) لماذا يعني هذا؟
- أ- ان نقصان الأرباح بنسبة (1%) يؤدي الى نقصان المبيعات بنسبة (5%)
ب- ان زيادة الأرباح بنسبة (1%) يؤدي الى نقصان المبيعات بنسبة (5%)
ج- ان نقصان المبيعات بنسبة (1%) يؤدي الى نقصان الأرباح بنسبة (5%)
د- ان زيادة المبيعات بنسبة (1%) يؤدي الى نقصان الأرباح بنسبة (5%)
87. إذا اشترت بضاعة من أحد الموردين وكتب على الفاتورة (10/2 صافي 30 يوم) فماذا يعني هذا؟
- أ- عليك ان تدفع كامل الفاتورة خلال (10) أيام
ب- يمكنك الحصول على خصم نقدي (2%) عند تسديد الفاتورة خلال (30) يوم
ج- يمكنك الحصول على خصم نقدي (2%) عند تسديد الفاتورة خلال (10) أيام
د- يمكنك الحصول على خصم نقدي (10%) عند تسديد الفاتورة خلال (30) يوم
88. ماذا يطلق على دراسة النشاط الاقتصادي الفردي والساعي الى تعظيم ثروة المالك؟
- أ- المالية العامة
ب- المالية الخاصة
ج- إدارة رأس المال العمل
د- إدارة الموجودات
89. إذا افترض عبد الله مبلغ 1300 دينار لمدة 8 شهور بمعدل فائدة سنوي 9% فما هي الفائدة البسيطة المستحقة عليه؟
- أ- (80) دينار
ب- (117) دينار
ج- (78) دينار
د- (200) دينار
90. ماذا يعد القرار الذي يتعلق بكيفية استخدام الموارد المالية المتاحة؟ قرار:
- أ- التمويل
ب- الاستثمار
ج- توزيع الأرباح
د- تقييم الاستثمار
91. ما هو الهدف الأساسي للإدارة المالية؟
- أ- زيادة حجم المبيعات في السوق
ب- تعظيم الأرباح
ج- زيادة القيمة الصافية للمشروع
د- إرضاء الإدارة والموظفين

إذا كانت موجودات إحدى الشركات تبلغ (125000) دينار، وكان صافي الربح بعد الفوائد والضرائب للشركة (25000) دينار، وكانت مبيعاتها لنفس السنة تساوي (180000) دينار، فما قيمة العائد على الاستثمار؟

أ- (0.2) ☒ ب- (0.02)

ج- (0.5) د- (0.13)

93. أي مما يلي يعد من الخصائص الأساسية للأسهم الممتازة؟

أ- لها الحق في التصويت ب- الاحتياطيات والأرباح المدورة من حقها وحدها

ج- لها مدة استحقاق د- كلفتها ثابتة

94. كم تبلغ نسبة قيمة الميولة السريعة، إذا كانت الخصوم المتداولة (3000) دينار والأصول المتداولة (6000) دينار منها (1500) بضاعة؟

أ- (1:2) ب- (1:0.5)

ج- (1:1.5) د- (2:1)

95. إذا بلغت مبيعات إحدى الشركات (20000) دينار وبسعر (10) دنانير لكل وحدة وتكلفة متغيرة (6) دنانير للوحدة وبلغت التكاليف الثابتة (40000) دينار، فكم تبلغ نقطة التعادل بالدينار؟

أ- (2000) دينار ب- (20000) دينار

ج- (10000) دينار د- (100000) دينار

96. ماذا تعد كلفة الأجر في الحالة التي يتم فيها دفع أجر العامل في أحد المصانع بناءً على عدد القطع المنتجة؟

أ- ثابتة ب- متدرجة

ج- متغيرة د- شبه متغيرة

97. إذا كان قسط الاستهلاك السنوي لأحد الأصول يساوي (2000) دينار وقسط الاستهلاك السنوي (2500) دينار ونسبة ضريبة الدخل (20%)، فما هو الوفر الضريبي في حالة امتلاك الأصل بدل الاستهلاك؟

أ- (500) دينار ب- (400) دينار

ج- (100) دينار د- (600) دينار

98. أي مما يلي تعد من مصادر التمويل الداخلي؟ اصدار:

أ- أسهم، احتياطيات، أرباح محتجزة

ب- سندات، الحصول على قرض، احتياطيات

ج- أسهم، الحصول على قروض، اصدار سندات

د- أسهم، الحصول على قرض، أرباح محتجزة

99. كم تساوي الدورة التشغيلية؟

أ- فترة تحويل البضاعة + متوسط فترة التحصيل

ب- متوسط فترة التخزين + متوسط فترة التسديد

ج- متوسط فترة التحصيل + متوسط فترة التسديد

د- متوسط فترة التخزين - متوسط فترة التحصيل

100. أي من العمليات الآتية تؤدي إلى دخول نقدية إلى المنشأة؟

أ- تحصيلات الخصم المدينة ب- مصاد قرض الشركة

ج- مصاد خصم دائنة د- بيع بضاعة على الحساب

انتهت الأسئلة



شركة التعليم والتدريب
للنسخ السريعة
تلفون : ٤٦٢١١٦٢ - خلوي
ص.ب ٤٧٦٢ - عمان ١١١٢١ - الأردن

جامعة البلقاء التطبيقية

وحدة التقويم والامتحانات العامة

امتحان الشهادة الجامعية المتوسطة

الدورة الصيفية لعام 2010م

رقم الجلوس	
اسم الطالب	
البرنامج الدراسي	العلوم المالية والإدارية
التخصص	نظم معلومات إدارية / خطة قديمة
الورقة	الثانية
اليوم و التاريخ	الثلاثاء 2010/7/20م
مدة الامتحان	ثلاث ساعات

ملحوظات:



1. عدد صفحات ورقة الأسئلة، باستثناء ورقة الغلاف، (11)
2. تتضمن ورقة الأسئلة (100) سؤال موضوعي من نوع الاختيار من متعدد، وتكون الإجابة عنها إجبارية.
3. اقرأ التعليمات الواردة في نموذج الإجابة (ورقة الكمبيوتر) بعناية تامة قبل البدء بالإجابة.

(100) سؤال موضوعي من نوع الاختيار من متعدد. الإجابة عليها إجبارية. ظلل بقلم الرصاص الإجابة الصحيحة في المكان المخصص لذلك في نموذج الإجابة المرفق.

مبادئ الإدارة

التالية ليست من أنواع المعايير الرقابية:

- أ- المعايير الإنتاجية
ب- معايير الربحية
ج- توقعات الموظفين
د- جميع ما ذكر

2. تشمل مبادئ التنظيم:

- أ- الأهداف
ب- الوظائف
ج- النظام
د- جميع ما ذكر

3.، تعني أن الإداري يمكنه القيام بجميع وظائف الإدارة بغض النظر عن مركزه الوظيفي أو مستواه الإداري.

- أ- عمومية الإدارة
ب- التداخل والتنسيق بين وظائف الإدارة
ج- شمولية الإدارة
د- القيادة

4. مؤثر خارجي يحرك وينشط سلوك الفرد لإشباع حاجات ورغبات معينة من أجل تخفيف حالات التوتر:

- أ- الدافع
ب- الحافز
ج- القيادة
د- الراتب

5. هي من الأمثلة على الأساليب الكمية في الرقابة:

- أ- التحليلات المالية
ب- طريقة بيرت
ج- المسار الحرج
د- الرسوم البيانية

6. تتكون مصفوفة القرارات من الأجزاء التالية ما عدا:

- أ- حالات الطبيعة
ب- النتائج
ج- الاستراتيجيات
د- السياسات

7. من مظاهر سوء الإدارة:

- أ- الاستهانة بالعنقسين
ب- التخطيط عند مصاد الديون
ج- التعاون
د- الاحتفاظ بسجلات كاملة

8. أي من الآتية لا تعتبر من الخطط متكررة الاستعمال؟

- أ- السياسات
ب- البرامج
ج- القواعد
د- الإجراءات

9. من معوقات الاتصال:

- أ- وجود التخطيط الكافي لعملية الاتصال
ب- وجود آراء وفرضيات واضحة
ج- اختيار وسيلة الاتصال المناسبة
د- التلاعب بالمعاني والألفاظ

..... عبارة عن مجموعة من القواعد والأسس التي تضعها المنظمة لكي تنفذ بها الإدارات عند اتخاذها للقرارات وتنفيذ الخطط الخاصة بها.

- 1- السياسات - ب- الإجراءات
ج- القواعد - د- لا شيء مما ذكر
أي من التالية ليس من الموضوعات الأساسية التي تمارس من خلالها وظيفة التوجيه؟
1- الإشراف - ب- السلطة
ج- القيادة - د- أ + ب

11

12. من أهم المدارس الإدارية المتطورة في الوقت الحاضر :
1- المدرسة الكلاسيكية - ب- المدرسة الظرفية
ج- مدرسة النظم - د- المدرسة اليابانية

13. فلسفة إدارية ترمي إلى زيادة الحفز الداخلي للأفراد من خلال اشتراك المرؤوسين مع الرؤساء في تحديد الأهداف وزيادة رقابة المرؤوس عليه، تمثل :
1- نظرية التفرغ - ب- نظرية التوقعات
ج- الإدارة بالأهداف - د- نظرية التعزيز

14. المفهوم الذي يقسم العمل إلى مهام وواجبات :
1- التدرج الهرمي - ب- نطاق الإشراف
ج- المركزية - د- التخصص في العمل

15. تتم عملية الرقابة على مرحلتين ومنها مرحلة مقارنة الانجاز بـ :
1- متكتة - ب- الجيد
ج- المعيار - د- القرار

16. واحدة مما يلي ليست من خطوات عملية التخطيط :
1- اقرار الخطة - ب- دراسة التغيرات في العوامل البيئية
ج- وضع التنظيم - د- تنفيذ الخطة

17. من صعوبات التخطيط :
1- وضوح الخطة - ب- الواقعية في التخطيط
ج- مرونة التخطيط - د- مقاومة التغيير

18. من مصادر السلطة: قبول المرؤوسين للسلطة: وهذا يعني أن الرئيس يستمد سلطته من :
1- مرؤوسيه - ب- الرئيس الأعلى منه
ج- خبرته الفنية - د- قوة شخصيته

19. تعتبر المسافة والوقت والأصوات من المؤثرات التي تنتج عنها عمليات التشويش في الاتصال.
1- الإدراكية - ب- الحضارية
ج- الحسية - د- البيئية

20. أي قرار خاطئ يتخذه شخص معين يمكن أن يعود إلى :
1- مستوى كفاءة العاملين - ب- قدرة المدير على اتخاذ القرار
ج- درجة المشاركة في اتخاذ القرار - د- النقص في المعلومات

ب- أقل من مرونة الجزء السفلي

ج- أكثر من مرونة الجزء السفلي

د- متدققة

هـ- تساوي مرونة الجزء السفلي

23. الافتصاد الذي يهتم بدراسة ما يجب ان يكون عليه الافتصاد وهو يخضع للرأي الشخصي هذا النوع من الافتصاد يدعى الافتصاد:

ب- ثنائي

ا- توازني

د- معياري

ج- حدي

24. ثبات الأسعار وعدم حدوث تقلبات في مستواها قد يؤثر على دخول أفراد المجتمع بطريقة غير مرغوب فيها هذا مؤشر على:

ب- الموضوعي

ا- الكمي

د- المعياري

ج- الجزئي

25. القانون الذي ينص على وجود علاقة عكسية بين سعر السلعة والكمية المطلوبة فيها مع بقاء العوامل الأخرى ثابتة دون تغيير يسمى بقانون:

ب- العدالة

ا- الكفاءة

د- الاستقرار الاجتماعي

ج- الاستقرار الاقتصادي

26. مرونة الطلب التفاضلية في سوق الاحتكار التام هي:

ب- الطلب

ا- الشراء

د- العرض

ج- العمل

27. إذا فرضت الحكومة سقفا سعريا أقل من سعر التوازن فإن ذلك سيؤدي إلى:

ب- زيادة الطلب

ا- موجبة

د- ب + ج

ج- قريبة من الصفر

28. تحقق المؤسسة التنافسية ربحاً بطريقة المجاميع إذا كان:

ب- زيادة السلعة في السوق

ا- نقص سعر السلعة

د- نقص السلعة في السوق

ج- توازن العرض والطلب

29. عندما تكون الفترة الزمنية كافية لقيام المنتجين بالتكيف مع التغيرات التي تحدث في سعر السلعة التي ينتجونها فإن هذه الفترة للتكيف تكون في المدى:

ب- إجمالي الإيرادات أقل من إجمالي التكاليف

ا- إجمالي الإيرادات أكبر من إجمالي التكاليف

ج- إجمالي الإيرادات يساوي إجمالي التكاليف

د- معدل البيع ثابتاً

30. الفترة الزمنية كافية لقيام المنتجين بالتكيف مع التغيرات التي تحدث في سعر السلعة التي ينتجونها فإن هذه الفترة للتكيف تكون في المدى:

ب- القصير

ا- الزمني

د- الطويل

ج- الصغير جداً

المنحنى خفض سعر الحذاء من 10 إلى 8 دنانير ، ونتيجة لذلك زادت كمية

الحذاء 70 إلى 90 حذاء يوميا ، فإن معامل مرونة الطلب على الأحذية يكون : $V_p = -0.5$

إجمالي الإنشباع المتحقق للمستهلك من جراء استهلاكه لكميات متتالية من السلعة خلال فترة زمنية محددة يسمى بالمنفعة:

- أ- الاستهلاكية
ب- الحدبة
ج- التناقصية
د- الكلية

32. يطلق على الفرق بين المبلغ الذي كان المستهلك مستعدا لدفعه للحصول على سلعة معينة والمبلغ الذي دفعه فعلا مصطلح :

- أ- الطالب الفردي
ب- عجز المستهلك
ج- توازن المستهلك
د- فائض المستهلك

33. إذا كان التغير النسبي لسعر الأقماع 10% والتغير النسبي لكمية الأقماع 20% فإن منحنى الطلب يعتبر :

- أ- قليل المرونة
ب- عديم المرونة
ج- مرنا
د- لا نهائي المرونة

34. العوامل التي تؤثر في سلوك المستهلك بحيث تعمل على تغيير توازنه هي :

- أ- تغير أسعار السلع وتغير دخل المستهلك
ب- ثبات أسعار السلع وتغير دخل المستهلك
ج- تغير أسعار السلع وثبات دخل المستهلك
د- كل ما ذكر صحيح

35. منحنى العرض في سوق المنافسة التامة هو :

- أ- الجزء النازل من منحنى التكلفة الحدية ويكون أقل من سعر التعادل
ب- الجزء النازل من منحنى التكلفة الحدية ويكون أعلى من سعر التعادل
ج- الجزء الصاعد من منحنى التكلفة الحدية ويكون أقل من سعر الإغلاق
د- الجزء الصاعد من منحنى التكلفة الحدية ويكون أعلى من سعر الإغلاق

36. استعمال تقنية متطورة وأكثر كفاءة في الإنتاج يؤدي إلى انتقال العرض إلى :

- أ- اليمين
ب- اليسار
ج- الأسفل
د- الأعلى

37. المنحنى الذي يمثل المجموعات المختلفة من السلع والخدمات التي تعطي المستهلك القدر نفسه من المنفعة أو الإشباع يسمى منحنى :

- أ- الطلب
ب- المنفعة
ج- الإشباع
د- السواء

38. العلاقة الفنية العادية التي تمثل أقصى إنتاج يمكن الحصول عليه عن طريق استخدام مجموعة معينة من عناصر الإنتاج مع ثبات العوامل الأخرى فإن هذه العلاقة يطلق عليها دالة :

- أ- الاستهلاك
ب- الإنتاج
ج- الدخل
د- الإنفاق

الاحتكار الثنائي عبارة عن وجود :

- أ- احتكر بيع
ب- احتكر شراء
ج- احتكر بيع وحتكر شراء
د- لا شيء مما ذكر

40. الكفاءة التوزيعية تعالّق على :

- أ- النمو الاقتصادي
ب- الكفاءة العنوية
ج- الكفاءة الاقتصادية
د- الاستقرار

مبادئ الإحصاء

41. إذا كانت (10 - 20) فئة متوالية ، فإن المتوال :

- أ- 10
ب- 20
ج- 30
د- 15

42. فئة مركزها 25 وحدها الأدنى 19.5 فإن الحد الأعلى الفعلي لهذه الفئة يساوي :

- أ- 14.5
ب- 40
ج- 30.5
د- 21

43. براد اختير عينة عشوائية منتظمة حجمها 200 شخص من مجتمع حجمه 400 إذا جرى اختيار الشخص رقم 8 كأول شخص في العينة فما هو رقم الشخص الذي يليه ؟

- أ- 22
ب- 28
ج- 27
د- 29

44. المتوال للبيانات التالية 4، 15، 10، 17، 12، 17 :

- أ- 4
ب- 5
ج- 17
د- 6

45. الوسيط للقيم التالية 13، 2، 7، 12، 1، 20، 17 :

- أ- 20
ب- 17
ج- 12
د- 4

46. احسب المعدل 40 لرواتب العمال التالية 68، 60، 70، 75، 65، 80، 85 :

- أ- 68
ب- 60
ج- 67
د- 65

47. العزم الأول حول الصفر المشاهدات (1، 2، 3، 4، 5) :

- أ- 3
ب- 4
ج- 5
د- 6

48. إذا كان التباين لجدول تكراري يساوي 16 فإن الانحراف المعياري لهذا الجدول :

- أ- 4
ب- 256
ج- 16
د- 32

49. إذا كانت معادلة انحدار ص على ص هي ص = 3 + 10 ص فإن معامل الارتباط بين قيم ص و ص :

- أ- 0.7
ب- 0.8
ج- 0.5
د- 0.4

$$10 = \frac{10 + 10}{2}$$

$$10 = \frac{10 + 10}{2}$$

$$10 = \frac{10 + 10}{2}$$

$$10 = \frac{10 + 10}{2}$$

$$10 = \frac{10 + 10}{2}$$

$$10 = \frac{10 + 10}{2}$$

$$10 = \frac{10 + 10}{2}$$

$$10 = \frac{10 + 10}{2}$$

$$10 = \frac{10 + 10}{2}$$

$$10 = \frac{10 + 10}{2}$$

$$10 = \frac{10 + 10}{2}$$

$$10 = \frac{10 + 10}{2}$$

$$10 = \frac{10 + 10}{2}$$

$$10 = \frac{10 + 10}{2}$$

$$10 = \frac{10 + 10}{2}$$

$$10 = \frac{10 + 10}{2}$$

52. الوسط الحسابي في توزيع طبيعي 52 والانحراف المعياري 20 فإن التوزيع يكون حول:

$$\frac{52}{2}$$

ب- 10

د- صفر

52

ج- 20

53. إذا كانت $\Omega = [1, 2, 3, 4]$ فإن $L(1) = 0.4$ ، $L(2) = 0.3$ ، $L(3) = 0.2$ ، $L(4) = 0.1$ فإن $L(1, 2, 3, 4) =$

ب- 0.35

د- 0.30

أ- 0.37

ج- 0.25

54. إذا كان الوسط الحسابي لمجموعة من المفردات 50 والانحراف المعياري 10 فالعلامة المعيارية

ب- 40

د- 50

أ- 20

ج- 16

55. إذا كان $L(1) = 0.2$ ، $L(2) = 0.8$ ، $L(3) = 0.1$ ، $L(4) = 0.9$ فإن $L(1, 2, 3, 4) =$

ب- 0.7

د- 0.6

أ- 0.2

ج- 0.12

56. إذا كان مجموع مربع الرتب العشرة طلاب 34 فإن معامل ارتباط سبيرمان يساوي:

ب- 1

د- -1

أ- 0.5

ج- -0.5

57. من مقاييس التشتت:

ب- 0.000

د- لا شيء مما ذكر

أ- 0.16

ج- 0.10

58. إذا كان مجموع مربعات الرتب العشرة طلاب 34 فإن معامل ارتباط سبيرمان يساوي:

ب- 0.794

د- 0.654

أ- 0.914

ج- 0.820

59. إذا كان الوسط الحسابي لعلامات عدد من الطلاب هو 25 ومجموع علاماتهم 500 فما عدد الطلبة:

ب- الوسط

د- لا شيء مما ذكر

أ- للوسط الحسابي

ج- الانحراف المعياري

60. إذا كانت (60 -- 64) فئة متواليه فالمتوال هو:

ب- الوسط

د- المتوال

أ- للوسط الحسابي

ج- المتوال

مبادئ المحاسبة 1 + 2

61. عند بيع بضاعة السعر المعلن لها 500 دينار وبخصم تجاري 10% تسجل المبيعات بمبلغ:
- أ- 500 دينار
ب- 50 دينار
ج- 450 دينار
د- 550 دينار
62. أي من العمليات التالية لن تؤدي إلى تسجيل إيراد للمشروع التجاري؟
- أ- استلام أرباح مالية
ب- إضافة فواتير دائنة لحساب البنك
ج- استلام فائدة قرض للمشروع
د- توقيع عقد تأجير أحد مخازن الشركة
63. يكون الخصم النقدي للمشتري:
- أ- مسموحا به ودائنا
ب- مكتسبا ودائنا
ج- مسموحا به ومدينا
د- مكتسبا ومدينا
64. قيام صاحب المشروع بسحب مبلغ نقدي من صندوق المشروع وإيداعه في حسابه الخاص لدى البنك سيؤدي إلى:
- أ- نقص في صندوق وحقوق الملكية
ب- زيادة البنك ونقص حقوق الملكية
ج- زيادة البنك وحقوق الملكية
د- زيادة البنك ونقص النقدية
65. حساب يظهر في جانب الأصول من الميزانية:
- أ- مصروف مستحق الدفع
ب- إيرادات مستحقة القبض
ج- إيراد مقبوض مقدما
د- إيراد غير مكتسب
66. تصحيح الأخطاء في دفتر اليومية عن طريق عكس القيد الخاطئ ثم إعادة كتابة القيد الصحيح تسمى الطريقة:
- أ- المختصرة
ب- المبطلة
ج- ح- / ملاق
د- التسوية الجردية
67. أي من الحسابات تطرح من رأس المال في نهاية السنة؟
- أ- الرواتب
ب- المسحوبات الشخصية
ج- الإيرادات
د- الأرباح
68. إذا كانت تكلفة الآلة 10000 دينار وقيمة الخردة 1000 دينار ونسبة الاستهلاك الثابت 900 دينار فإن العمر الإنتاجي لهذه الآلة هو:
- أ- 7 سنوات
ب- 9 سنوات
ج- 8 سنوات
د- 10 سنوات
69. ورقة قبض قيمتها الاسمية 6000 دينار وقيمتها الحالية 5000 دينار ، فترة الخصم هي سنة و 10 شهور ، فإن معدل الخصم السنوي:
- أ- 9%
ب- 10%
ج- 15%
د- 18%

الغرض الذي يقتضي بأن المنشأة الاقتصادية شخصية معنوية مستقلة عن شخصية أصحابها، هو:

- أ- فرض الاستمرارية
ب- 280 دينار
ج- 240 دينار
د- 420 دينار
هـ- 480 دينار
- أ- فرض الاستمرارية
ب- فرض الوحدة المحاسبية
ج- فرض الدورية
د- فرض وحدة القياس

72. يظهر حساب الأيراد غير المكتسب في:

- أ- الميزانية العمومية في جانب الأصول
ب- الميزانية العمومية ضمن حقوق الملكية
ج- قائمة الدخل كإيراد
د- الميزانية العمومية في جانب الالتزامات

73. إن الفرق بين تكلفة الآلة وحساب مجمع امتلاك الآلة يطلق عليه:

- أ- القيمة السوقية
ب- القيمة الأصلية
ج- القيمة الدفترية
د- القيمة الاستبدالية

74. إذا علمت أن رصيد الذمم المدينة الظاهر في ميزان المراجعة قبل إجراء التسويات هو 22000 دينار وتقرر إعدام دين أحد العملاء بقيمة 2500 دينار فإن رصيد الذمم المدينة الذي سيظهر في الميزانية العمومية:

- أ- 22000 دينار
ب- 2500 دينار
ج- 24500 دينار
د- 19500 دينار

75. قيد تسوية الخصم بكمبيالات وردت ضمن كشف قام البنك بتسديدها ولم يصل بها اشعار:

أ- من ح/ شيكات برسم التحصيل إلى ح/ البنك

ب- من ح/ البنك إلى ح/ أوراق الدفع

ج- من ح/ أوراق الدفع إلى ح/ البنك

د- من ح/ البنك إلى ح/ أوراق قبض برسم التحصيل

76. إذا علمت بأن بضاعة أول الددة بلغت 10000 دينار والمشتريات 15000 دينار ومردودات المشتريات 1000 دينار وبضاعة آخر الددة 3000 دينار فإن تكلفة البضاعة المباعة بالدينار:

- أ- 21000
ب- 23000
ج- 22000
د- 24000

77. إذا زادت الأصول خلال الفترة المحاسبية بمبلغ 8000 دينار وانخفضت الالتزامات خلال الفترة المحاسبية بمبلغ 3000 دينار فإن التغير في حق الملكية:

- أ- زيادة بمبلغ 5000 دينار
ب- نقص بمبلغ 5000 دينار
ج- زيادة بمبلغ 11000 دينار
د- نقص بمبلغ 11000 دينار

78. القائمة التي تمثل حلقة الربط بين قائمة الدخل وقائمة المركز المالي:

- أ- قائمة التدفقات النقدية
ب- قائمة حقوق الملكية
ج- الميزانية العمومية
د- الميزانية الخاصة

10300 دينار

ب

8800 دينار

لا شيء مما ذكر

د

11200 دينار

ج

يتم اجراء قيود التسوية في نهاية الفترة المالية لتحقيق مبدأ محاسبتي معروف وهو مبدأ :

ب- التكلفة التاريخية

ا- النقد وحدة قياس

د- الاساس النقدي

ج- مقابلة الايرادات بالمصروفات

بحوث العمليات

الجدول التالي يمثل الحل النهائي لنموذج البرمجة الخطية على الطريقة المبسطة :

Basic	X1	X2	X3	S1	S2	S3	Solution
X1	1	0	0	1	0	1	1
X3	0	0	1	1/3	1/3	1/3	5/3
X2	0	1	0	0	0	1	1
Z	0	0	0	8/3	1/3	4/3	26/3

اعتمادا على الجدول أعلاه أجب عن الأسئلة الأربعة الآتية:

81. قيمة X1:

أ- 5/3

د- 0

ب- 1

ج- 26/3

82. قيمة X2:

أ- 5/3

د- 0

ب- 1

ج- 26/3

83. قيمة X3:

أ- 5/3

د- 0

ب- 1

ج- 26/3

84. قيمة Z:

أ- 5/3

د- 0

ب- 1

ج- 26/3

85. عندما يكون أحد القيود (إضافي) لا حاجة له في حل مسائل البرمجة الخطية بالطريقة البديهية فإن ماذا يمثل إحدى الحالات الخاصة بالبرمجة الخطية:

ب- التفسخ

د- عدم توفر الحل

ا- الحل البديل

ج- منطقة الحل غير محدودة

86. احتمالية وجود أكثر من قيمة للمتغيرات لحل واحد لدالة الهدف هذا يمثل حالة خاصة من البرمجة الخطية هي:

ب- عدم توفر الحل

د- منطقة الحل مفتوحة

ا- التكرار

ج- الحل البديل

إذا كان الوقت التفاضلي لاتجار حدث معين هو (6) والوقت الأكثر احتمالاً هو (10) والوقت المتساوي هو (14) فإن الوقت المتوقع لاتجار هذا الحدث هو:

$$\frac{12 + (10 \times 4) + 16}{6}$$

- أ- 10
ب- 14
ج- 16
د- 12

88. واحد من التالية ليس من عناصر البرمجة الخطية:

- أ- دالة الهدف
ب- القيود
ج- المتغيرات
د- شرط عدم السالبية

89. إذا كان النموذج الأولي Max فيجب أن تكون جميع القيود قبل التحويل إلى النموذج المقابل:

- أ- أكبر من أو يساوي
ب- مساواة
ج- أقل من أو يساوي
د- متعددة الإشارة

90. يكون نموذج النقل متوازناً إذا كان:

- أ- مجموع الطلب = مجموع العرض
ب- عدد الصفوف = عدد الأعمدة
ج- عدد الخلايا المشغولة = عدد الصفوف + عدد الأعمدة - 1
د- عدد الخلايا المشغولة = عدد الخلايا الفارغة

91. إذا أردنا تعيين (4) موظفين ل (4) وظائف فإن عدد البدائل حسب طريقة العد الكامل هي:

- أ- 24
ب- 48
ج- 6
د- 12

92. إذا كان عدد المتغيرات في النموذج الأولي يساوي (4) وعدد القيود يساوي (3) فإن عدد القيود فسي:

- أ- 3
ب- 2
ج- 4
د- 1

93. في شبكة الأعمال إذا كان المسار الأول = (50)، المسار الثاني = (35)، المسار الثالث = (53)، المسار الرابع = (36) فإن المسار الحرج هو المسار:

- أ- الأول
ب- الثاني
ج- الثالث
د- الرابع

94. ترغب إدارة أحد المصانع بتعيين أربعة عمال لإنجاز أربع وظائف فإذا كانت تكاليف إنجاز هذه الوظائف بالدينار الأردني معطاة بالجدول التالي:

العمال	الوظائف			
	1	2	3	4
A	16	10	14	11
B	14	11	15	15
C	15	15	13	12
D	13	12	14	15

فإن الكلفة التي يحققها أعلى ربح في التعيين إذا ما استخدمت الطريقة الهنغارية هي:

- أ- 15
ب- 16
ج- 59
د- 61

ما يلي يعتبر من مجالات استخدام بحوث العمليات باستثناء:

- أ- المجالات الإدارية
ب- مجالات التعدين
ج- مجالات التخطيط
د- مجالات تأليف الكتب

96. في مسائل التعظيم، المتغير الداخل في جدول التخل الابتدائي هو المتغير الذي له:

- أ- أكبر معامل سالب
ب- أصغر معامل سالب
ج- أكبر معامل موجبة
د- أصغر معامل موجب

97. في طريقة التوزيع المعادلة يتم تكوين عدة معادلات بواقع:

- أ- معادلة لكل خلية مشغولة
ب- معادلة لكل صف
ج- معادلة لكل عمود
د- معادلة لكل خلية فارغة

98. حساب الفرق بين (أقل تكلفتين) في كل صف وفي كل عمود وتأشير هذه الفروق على جانبي الجدول تكون في الطريقة:

- أ- الهنغارية
ب- أقل التكاليف
ج- فوجل
د- فوقل

99. نموذج البرمجة الخطية التالي:

$$\text{Max } Z = 6X_1 + 8X_2$$

S.T

$$4X_1 + 8X_2 \leq 12$$

$$2X_1 - 4X_2 \geq 16$$

$$X_1, X_2 \geq 0$$

$$\begin{aligned} 12 &\geq 4X_1 + 8X_2 \\ 16 &\leq 2X_1 - 4X_2 \\ 0 &\leq X_1, X_2 \end{aligned}$$

الحالة الخاصة التي تمثلها هذه المشكلة هي:

- أ- عدم توفر حل
ب- تمثيل التخل (عدم وجود حلول ممكنة)
ج- تعدد الحلول المتناهي
د- عدم مصداقية الحل

100. عندما تكون منطقة الحل للقيود متعاسة أو لا تتقاطع في نقطة حل واحدة للقيدين في الطريقة البيانية فإن هذا يمثل إحدى الحالات الخاصة بالبرمجة الخطية وهو:

- أ- الحل البديل
ب- التفسخ
ج- منطقة الحل غير محدودة
د- عدم توفر الحل

انتهت الأسئلة

35. من مزايا سياسة التخزين اللامركزي:

- أ- سهولة الحصول على الكفاءات التخزينية العادية والبشرية
- ب- الاقتصاد في التكاليف
- ج- تقليل المخاطر المتعلقة بالحريق والسرقة
- د- الاستغلال الأمثل للتسهيلات المخزنية

36. واحدة من التالية، تعتبر من مزايا المعنى ذي الطوائف المتعددة:

- أ- انخفاض التكاليف في توفير التدفئة والتهوية والإضاءة
- ب- سهولة الإشراف والمراقبة
- ج- الاستغلال الأمثل للأرض المخصصة للمصنع
- د- المرونة الكبيرة في ترتيب وإعادة ترتيب الآلات

37. إحدى العبارات التالية خاطئة:

- أ- من عيوب سياسة الشراء المتقدم: مخاطر التخزين الطويل
- ب- دراسة الشراء الفوري تحقق مزايا الشراء الكبير
- ج- دراسة الشراء الفوري تؤدي إلى تقليل تكاليف النقل
- د- تستخدم سياسة الشراء لأجل المضاربة لتحقيق الأرباح في حالة ارتفاع الأسعار

38. من أهم فوائد سياسة "الشراء للمضاربة":

- أ- الأرباح الناتجة عن ارتفاع الأسعار
- ب- قلة الخسائر في حال تعرض المواد للسرقة أو الحريق
- ج- تستخدم في حال تأخر المواد بالتقادم
- د- الأرباح الناتجة عن انخفاض الأسعار

39. إن أول نشاط تقوم به إدارة الشراء لتحقيق أهدافها هو:

- أ- تحديد مواصفات المادة
- ب- دراسة الأسعار
- ج- التحقق من حاجة الإدارة الطالبة للمواد
- د- التفاوض مع الموردين المحتملين

40. واحدة من التالية لا تعتبر من طرق تقييم الموردين:

- أ- طريقة الأرباح والخسائر
- ب- الطريقة الترتيبية
- ج- طريقة التدرج
- د- طريقة نسب التكاليف

مبادئ الإدارة المالية

41. بلغت التكاليف الثابتة في مؤسسة خلال التجارية (100000) دينار، والربح المستهدف (200000) دينار، وسعر بيع الوحدة (15) دينار، وتكلفة الوحدة المتغيرة (10) دينار، بناء على ذلك حجم المبيعات الواجب تحقيقه لتحقيق الربح المستهدف:

- أ- 90000 وحدة
- ب- 60000 وحدة
- ج- 80000 وحدة
- د- 50000 وحدة

هذا الاختبار من (١٠٠) سؤال موضوعي من نوع الاختيار من متعدد، الاجابة عنها إجباريا
خاص بشكل غامق الدائرة التي تشير إلى الإجابة الصحيحة في المكان المخصص لذلك في نموذج

مبادئ المحاسبة ١

١. ينتمي حساب الذمم المدينة إلى إحدى المجموعات التالية:
 - أ- الحسابات الوهمية.
 - ب- الحسابات الحقيقية.
 - ج- الحسابات الشخصية.
 - د- لا شيء مما ذكر.
٢. يكمن فرض على أن يتم تقسيم عمر المنشأة إلى فترات زمنية محددة.
 - أ- الفترة المحاسبية.
 - ب- الثبات.
 - ج- الاستمرارية.
 - د- الوحدة المحاسبية.
٣. جميع الحسابات التالية تظهر في الجانب المدين من حساب المتاجرة ما عدا حساب:
 - أ- عمولة وكلاء الشراء.
 - ب- مضروف نقل المشتريات.
 - ج- المشتريات.
 - د- مردودات المشتريات.
٤. إن فتح حسابات تتعلق بالعلاقة بين المنشأة ومالكها يعتبر تطبيقاً لفرض:
 - أ- الوحدة المحاسبية المستقلة.
 - ب- الفترة المحاسبية.
 - ج- الاستمرارية.
 - د- وحدة القياس النقدي.
٥. أي الأخطاء التالية يكتشفها ميزان المراجعة؟
 - أ- القنية.
 - ب- الارتكاب الكلية.
 - ج- الحذف الكلي.
 - د- الخطأ بأحد طرفي القيد.
٦. عند استلام شيك من أحد العملاء وإيداعه في الصندوق يكون الطرف المدين من القيد:
 - أ- البنك.
 - ب- شيكات برسم التحصيل.
 - ج- الصندوق.
 - د- الذمم المدينة (العملاء).
٧. عند شراء بضاعة مقابل كمبيالات يكون الطرف الدائن من القيد:
 - أ- أوراق القبض.
 - ب- المشتريات.
 - ج- أوراق الدفع.
 - د- أوراق مالية.
٨. في ٢٠٠٠/٧/١ استلم مشروع قرضاً بقيمة ٤٠٠٠ دينار بمعدل فائدة ٧% سنوياً لمدة عام من بنك الإسكان على أن تدفع القوائد في ٢٠٠١/٦/٣٠، إن صافي المبلغ المستلم:
 - أ- ٤٠٠٠ دينار.
 - ب- ٤٢٨٠ دينار.
 - ج- ٢٨٠٠ دينار.
 - د- ٣٧٢٠ دينار.
٩. عند شراء سيارة بموجب شيك فإن الطرف المدين من القيد يكون حساب:
 - أ- البنك.
 - ب- ذمم مدينة.
 - ج- السيارة.
 - د- الصندوق.
١٠. إذا كان مجموع المبالغ المدينة لحساب ما ٦٠٠٠ دينار، ومجموع المبالغ الدائنة ٤٠٠٠ دينار، فإن رصيد هذا الحساب يكون:
 - أ- ٢٠٠٠ مدين.
 - ب- ١٠٠٠٠ مدين.
 - ج- ٢٠٠٠ دائن.
 - د- ١٠٠٠٠ دائن.
١١. من المصاريف الرأسمالية:
 - أ- مصاريف الضيافة.
 - ب- استبدال محرك السيارة.
 - ج- مصاريف دعاية وإعلان.
 - د- مصروف الرواتب.

١٢. أي من الحسابات التالية تظهر في جانب الخصوم تحت عنوان الالتزامات في الميزانية العمومية؟

- أ- قروض قصيرة الأجل.
ب- المدينون.
ج- أوراق القبض.
د- النقدية.
١٣. إذا عُلِّمت أن مجموع حقوق الملكية في منشأة ما يبلغ ٢٠٠٠٠ دينار، ومجموع أصولها ٦٠٠٠٠ دينار، فإن مجموع المطلوبات هو:

- أ- ٤٠٠٠٠ دينار.
ب- ٦٠٠٠٠ دينار.
ج- ٨٠٠٠٠ دينار.
د- ٢٠٠٠٠ دينار.
١٤. ينص مبدأ على ضرورة استمرار المنشأة الاقتصادية في تطبيق المبادئ والنظريات والطرق المحاسبية خلال الفترات المالية المتعاقبة.

- أ- الاستمرارية.
ب- التكلفة التاريخية.
ج- الفترة المحاسبية.
د- الثبات.
١٥. إن الانفتاح في التجارة الخارجية أدى إلى وجود حقل جديد للمحاسبة هو:
- أ- المحاسبة الإدارية.
ب- المحاسبة الدولية.
ج- المحاسبة الاجتماعية.
د- المحاسبة الحكومية.

١٦. ليس من بنود وعناصر النظام المحاسبي:

أ- الإدارة.
ب- الموظفون.
ج- الآلات.
د- التعليمات.

١٧. عند شراء بضاعة قيمتها ٢٠٠٠ دينار بخخص تجاري ١٠% وخخص نقدي ١٠% إذا تم الدفع خلال أسبوعين فإن الخصم المكتسب هو:

أ- ٢٠٠ دينار.
ب- ٤٠٠ دينار.
ج- ١٨٠ دينار.
د- لا شيء.

مبادئ المحاسبة ٢

١٨. من طرق الاستهلاك التي تفترض أن الأصل يقدم خدمات متساوية خلال العمر الانتاجي له هي طريقة:

- أ- القسط المتناقص.
ب- مجموع ارقام السنين.
ج- القسط الثابت.
د- مضاعف القسط الثابت.
١٩. هي حسابات يتم فتحها في دفتر الأستاذ العام ويتم تصويرها لمقابلة رصيدها مع الارصدة بدفتر الأستاذ الفرعي:

- أ- الطريقة المحاسبية.
ب- الحسابات الاجمالية.
ج- الدفاتر المساعدة.
د- التسويات الجردية.
٢٠. إذا بلغ الرصيد الدفترى لحساب الصندوق ٣٠ دينار ونتيجة الجرد الفعلي للصندوق تبين وجود ٥٠ دينار أن الطرف الدائن من قيد التسوية هو حساب:

- أ- الصندوق.
ب- الزيادة في الصندوق.
ج- عجز الصندوق.
د- الارباح والخسائر.
٢١. جميع الحسابات التالية تظهر في الجانب المدين من حـ/ اجمالي الدائنين ما عدا حساب:
- أ- الصندوق.
ب- مردودات المشتريات.
ج- الخصم المكتسب.
د- الدفع المرفوضة.

٢٢. يظهر حـ/ ايجار مدفوع مقدما في جانب:

أ- الخصوم في الميزانية.
ب- المدين من حـ/ أ.خ.
ج- الاصول في الميزانية.
د- الدائن من حـ/ أ.خ.

٢٣. في ١٩٩٠/١/١ اشترت محلات الأمل آلة بقيمة ١٠٠٠٠ دينار، العمر الإنتاجي ١٠ سنوات، الخردة ١٠٠٠ دينار وفي تاريخ ١٩٩٤/٧/١ بيعت الآلة بـ ٤٠٠٠ دينار، بان محلات الأمل تستخدم طريقة القسط الثابت لاحتساب استهلاك الآلة. قيمة قسط الاستهلاك السنوي الثابت:
- أ- ٩٠٠ دينار
ب- ١٨٠٠ دينار
ج- ٤٥٠ دينار
د- ٣٦٠٠ دينار
٢٤. إذا كانت تكلفة البضاعة بطريقة الوارد أولا صادر أولا ٩٠٠٠ دينار، والقيمة البيعية ١٢٠٠٠ دينار، والقيمة السوقية للمخزون ١٠٠٠٠ دينار، فإن بضاعة آخر المدة تظهر في الميزانية بقيمة:
- أ- ٩٠٠٠ دينار
ب- ١٠٠٠٠ دينار
ج- ١٢٠٠٠ دينار
د- ٢٠٠٠ دينار
٢٥. من اغراض الحسابات الاجمالية:
- أ- اكتشاف الاخطاء
ب- توفير الوقت والجهد في معرفة رصيد المدينين
ج- التمهيد لعمل ميزان المراجعة
د- جميع ما ذكر
٢٦. كان رصيد أ.ق في ميزان المراجعة ٤٨٠٠ دينار، وان سعر الخصم للكمبيالات ٦% سنويا ومتوسط تاريخ استحقاقها ٦ اشهر، قيمة مصاريف الخصم تبلغ:
- أ- ٢٦١ دينار
ب- ١٦٢ دينار
ج- ٢١٦ دينار
د- ليس مما ذكر
٢٧. إذا كان رصيد ايراد العقار في ميزان المراجعة يساوي ٢١٠٠ دينار، وكان هذا الايراد مستلما عن سبعة اشهر تبدأ من ٧/٣١ فإن المبلغ الذي يوضع في حساب الارباح والخسائر يساوي:
- أ- ١٥٠٠ دينار
ب- ٦٠ دينار
ج- ١٨٠٠ دينار
د- ٩٠٠ دينار
٢٨. يثبت المبلغ المحول من الصندوق في البنك في دفتر النقدية التحليلي حسب الطريقة الفرنسية في:
- أ- البنك في المقبوضات
ب- الصندوق في المقبوضات
ج- البنك في المدفوعات
د- الصندوق في المدفوعات
٢٩. طريقة ضعف نسبة الاهلاك الثابت في استخراج قسط الاستهلاك هي طريقة:
- أ- القسط الثابت
ب- اعادة التقدير
ج- القسط المتناقص
د- مجموع ارقام السنين
٣٠. إذا كان الرصيد الدفترى لايراد اوراق مالية ٤٠٠٠ دينار وكان الايراد الفعلي الذي يخص العام ٣٠٠٠ دينار فإن الفرق بينهما يمثل ما يلي:
- أ- ايراد مقبوض مقدما
ب- ايراد مستحق الدفع
ج- ايراد مستحق القبض
د- ايراد
٣١. المبالغ النقدية التي تحصل عليها المنشأة عند الاستغناء عن الأصل الثابت في نهاية عمره الإنتاجي تسمى:
- أ- قسط الاستهلاك
ب- تكلفة الاصل
ج- القيمة الباقية
د- التعويض

نخص

٨١. يقوم مبدأ باريتو في الرقابة على المخزون على أساس:
- أ- التركيز على عدد كبير من عناصر المخزون والتي تكون قيمتها مرتفعة.
 - ب- التركيز على عدد قليل من عناصر المخزون والتي تكون قيمتها مرتفعة.
 - ج- التركيز على عدد قليل من عناصر المخزون والتي تكون قيمتها منخفضة.
 - د- التركيز على جميع أصناف المواد.
٨٢. واحدة مما يلي ليست من أسباب إجراء الفحص والتفتيش بسرعة عند استلام المواد:
- أ- للتحقق من الحاجة.
 - ب- لتجنب نفقات الخزن والأرصدة.
 - ج- لضمان عدم تلف البضاعة.
 - د- لإيجاد بديل منعا لتوقف الإنتاج.
٨٣. المفهوم الذي يعبر عن الكمية التي يجب أن لا يتجاوزها رصيد الصنف المخزني:
- أ- السقف الأعلى للتخزين.
 - ب- احتياطي الطوارئ.
 - ج- مستوى إعادة الطلب.
 - د- المستوى الأدنى.
- مبادئ الإدارة المالية
٨٤. العبارة الخاطئة هي :
- أ- التكاليف المتغيرة تتأثر بعدد الوحدات المنتجة
 - ب- التكاليف الثابتة تدفعها المنشأة مرة واحدة عند بداية العمل وليس لها علاقة بكمية الإنتاج
 - ج- عند نقطة التعادل تكون ربحية المؤسسة صفراً
 - د- الهامش الايرادي للوحدة يساوي سعر الوحدة - التكاليف الثابتة للوحدة
٨٥. معدل دوران الذمم الدائنة يساوي :
- أ- المشتريات الأجلة ÷ الذمم الدائنة
 - ب- المشتريات الأجلة ÷ إجمالي الذمم الدائنة
 - ج- المشتريات الأجلة ÷ إجمالي الذمم الدائنة × ٣٦٠ يوم
 - د- إجمالي الذمم الدائنة × ٣٦٠ يوم ÷ المشتريات الأجلة
٨٦. استثمر مبلغ ١٠٠ دينار بفائدة ٦% ولمدة شهرين وبناء عليه فإن مبلغ الفائدة :
- أ- ٤ دينار
 - ب- ١ دينار
 - ج- ١٠ دينار
 - د- ٦ دينار
٨٧. المقارنة بين قائمتي دخل لفترتين متتاليتين تهدف إلى :
- أ- بيان التغيرات الحاصلة في بنود قائمة الدخل
 - ب- بيان ماهية الأصول والمواد المستخدمة في تمويلها
 - ج- بيان الزيادة في تراكم الاستهلاك
 - د- معرفة الأموال المتحققة من العمليات
٨٨. بلغ صافي التدفق النقدي في إحدى الشركات بتاريخ ٢٠٠٢/١/١ (٢٠٠٠٠ دينار) عجز علماً بأن الرصيد النقدي الفعلي الموجود في ٢٠٠١/١٢/٣١ هو (١٢٠٠٠ دينار) والحد الأدنى الواجب الاحتفاظ به شهرياً هو (٥٠٠٠ دينار) ، بناء على ذلك سوف تحتاج الشركة في شهر (١) لمبلغ تمويلي يقدر بـ :
- أ- ٨٠٠٠ دينار
 - ب- ٢٠٠٠٠ دينار
 - ج- ١٣٠٠٠ دينار
 - د- ٧٠٠٠ دينار
٨٩. الهامش الايرادي للمبيعات الكلية يساوي :
- أ- قيمة المبيعات × كلفة المبيعات المتغيرة
 - ب- قيمة المبيعات ÷ كلفة المبيعات المتغيرة
 - ج- قيمة المبيعات - كلفة المبيعات المتغيرة
 - د- قيمة المبيعات + كلفة المبيعات المتغيرة
٩٠. إذا كان رصيد البضاعة يساوي ٤٠٠٠٠ دينار وتكلفة المبيعات تساوي ٦٠٠٠٠٠ دينار ، فإن معدل دوران البضاعة بالأيام هو :
- أ- ٢٥٠ يوماً
 - ب- ٣٦ يوماً
 - ج- ٢٤ يوماً
 - د- ٣٦٠ يوماً

75. عمليات السوق المفتوحة أكثر فاعلية ونجاحا في الدول :
 أ- المتقدمة
 ب- النامية
 ج- الاشتراكية
 د- الآسيوية
76. تسمى المبالغ التي يتلقاها القطاع العالي نتيجة تأجير الممتلكات أو استغلالها :
 أ- الأجر
 ب- الفوائد
 ج- ربح الأرض
 د- الإهلاك
77. تسمى الأداة التي تحد من قدرة البنوك على إقراض الأموال التي لديها :
 أ- نسبة التضخم
 ب- الاحتياطي الاجباري
 ج- الاحتياطي الاختياري
 د- العملة
78. في حالات الركود الاقتصادي فإن الحكومة تلجأ الى استخدام السياسة المالية ومن أدواتها :
 أ- تقليل مستوى الانفاق الحكومي
 ب- زيادة مستوى الانفاق الحكومي
 ج- تخفيض الضرائب
 د- ب+ج
79. مع انخفاض سعر الفائدة فإن :
 أ- منحني الطلب يزداد
 ب- منحني الطلب يبقى ثابتا
 ج- منحني الطلب يقل
 د- منحني الطلب يتضاعف
80. الضرائب التي تُقَطَّع من المبنى تسمى :
 أ- ضرائب مباشرة
 ب- ضرائب مبيعات
 ج- ضرائب غير مباشرة
 د- ضرائب متكررة

مبادئ القانون التجاري

81. يعتبر خطاب الضمان عقد:
 أ- وكالة.
 ب- مستقل.
 ج- كفالة.
 د- اعتماد مستندي.
82. أهم الالتزامات التي يترتبها الاعتماد المستندي على البنك المصدر هو:
 أ- تسليم مستندات المستفيد
 ب- رفض المستندات.
 ج- تسليم المستندات للمستفيد.
 د- جميع ما ذكر
83. من آثار الاعتماد المالي يجوز للبنك استرداد المبالغ التي أسلفها العميل من الاعتماد:
 أ- في المواعيد المتفق عليها.
 ب- في آخر السنة.
 ج- في أي وقت.
 د- جميع ما ذكر.
84. التزامات الناقل في عقد النقل هي:
 أ- تسليم البضاعة.
 ب- تسليم المستندات الضرورية للنقل.
 ج- تعيين عنوان المرسل إليه.
 د- جميع ما ذكر.
85. معيار التمييز بين العمل المدني والعمل التجاري حسب نظرية المضاربة يقوم على أساس:
 أ- طبيعة العمل.
 ب- غاية العمل.
 ج- كيفية ممارسة العمل.
 د- تحقيق الربح.
86. الاعتماد القابل للنقض هو الاعتماد الذي يجوز للبنك المصدر له إلغاؤه:
 أ- في أي وقت دون إشعار مسبق.
 ب- في أي وقت بعد الإشعار.
 ج- لا يمكن إلغاؤه إلا بعد إنتهاء منته.
 د- يمكن إلغاؤه قبل المدة دون الإشعار.
87. يشترط لتحويل إسناد القرض إلى أسهم في الشركة المساهمة العامة أخذ موافقة:
 أ- ثلثي أعضاء مجلس الإدارة.
 ب- الهيئة العامة العادية.
 ج- الهيئة العامة غير العادية.
 د- أغلبية أعضاء مجلس الإدارة.
88. معيار التفرقة بين العمل التجاري والعمل المدني حسب نظرية المشروع يستند إلى:
 أ- طبيعة العمل.
 ب- تداول الثروة.

88. تعد أعمال الصناعة الاستخراجية:
- أ- عملاً مدنياً
ب- عملاً مختلطاً
ج- عملاً تجارياً
د- عملاً تبعياً
90. ينتهي عقد الحساب الجاري في الحالة/ الحالات التالية:
- أ- بإرادة أحد الطرفين.
ب- ب وفاة أحد الطرفين.
ج- بفقدان أحد الطرفين اهليته.
د- جميع ما ذكر.
91. الأوراق التجارية هي:
- أ- أوراق القبض وأوراق الدفع وفواتير البيع والشراء.
ب- الدفاتر المحاسبية والدفاتر التجارية.
ج- الشيكات والكمبيالات والسحوبات.
د- جميع ما ذكر.
92. من وظائف السجل التجاري:
- أ- الوظيفة القانونية.
ب- الوظيفة الاستعلامية.
ج- الوظيفة التجارية.
د- جميع ما ذكر.
93. الشركة التي يندر وجودها عالمياً وغير مسجلة لغاية الآن أي شركة من هذا النوع لدى وزارة الصناعة والتجارة الأردنية هي شركة:
- أ- التوصية البسيطة.
ب- التوصية بالأسهم.
ج- التضامن.
د- مساهمة عامة.
94. أي من الودائع التالية لا يجوز السحب منها إلا بعد انقضاء مدة محددة؟
- أ- ودائع التوفير.
ب- ودائع الأوراق المالية.
ج- ودائع تحت الطلب.
د- ودائع بإخطار.
95. من أنواع الاعتمادات المستندية من حيث التنفيذ:
- أ- اعتمادات القبول (الدفع الأجل).
ب- اعتماد مستندي قابل للتحويل.
ج- اعتماد مقابل.
د- اعتماد مستندي غير قابل للتحويل.
96. في أي من الحالات التالية يعتبر تداول السهم باطلاً؟
- أ- كون السهم غير محجوز أو مرهون.
ب- إذا كان السهم سهم تأسيس أو عينياً ومضى على تأسيس الشركة أكثر من سنتين.
ج- عدم وجود شهادة أسهم.
د- عندما يسمح القانون بالتداول.
97. تصفى الشركة اختصارياً في حالة:
- أ- انتهاء الغاية التي تأسست من أجلها الشركة.
ب- ارتكاب الشركة مخالفات للقانون أو للنظام الداخلي.
ج- توقف الشركة عن أعمالها مدة سنة دون سبب مشروع.
د- زيادة خسائرها عن 75% من رأسمالها وعدم رغبة الهيئة العامة في زيادة رأسمالها.
98. من أنواع الودائع المصرفية:
- أ- الودائع التي ترد بمجرد الطلب.
ب- الودائع لأجل.
ج- ودائع الأوراق المالية.
د- ودائع التوفير.
99. إذا قام المستفيد بتظهير السند مع إضافة عبارة "القيمة رهن" فإن ذلك يعتبر:
- أ- رهناً للورقة التجارية.
ب- تظهيراً تأمينياً.
ج- تظهيراً ناقلاً للملكية.
د- تظهيراً توكليلاً.
100. واحدة من التالية لا تعتبر من عناصر المتجر المعنوية:
- أ- حق الإيجار.
ب- الشعار.
ج- البضائع.
د- الأيجارات.

يتكون هذا الاختبار من (100) سؤال موضوعي من نوع الاختيار من متعدد، الإجابة عنها إجبارية. ظلل بقلم الرصاص بشكل غامق الدائرة التي تشير إلى الإجابة الصحيحة في المكان المخصص لذلك في نموذج الإجابة المرفق.

مبادئ المحاسبة 1

1. أي الحسابات التالية طبيعة رصيدها مدين؟
 - أ- رأس المال
 - ب- الإيرادات
 - ج- الأصول
 - د- المطلوبات
2. عند بيع بضاعة السعر المعلن لها 500 دينار وبخصم تجاري 10% تسجل المبيعات بمبلغ:
 - أ- 500 دينار
 - ب- 50 دينار
 - ج- 450 دينار
 - د- 550 دينار
3. جميع معادلات الميزانية صحيحة باستثناء:
 - أ- الأصول = المطلوبات + حقوق الملكية
 - ب- الأصول - المطلوبات = حقوق الملكية
 - ج- المطلوبات = الأصول - حقوق الملكية
 - د- الأصول = المطلوبات - حقوق الملكية
4. أي من العمليات التالية لن تؤدي إلى تسجيل إيرادات للمشروع التجاري؟
 - أ- استلام أرباح مالية
 - ب- إضافة فوائد دائنة لحساب البنك
 - ج- استلام فائدة قرض للمشروع
 - د- توقيع عقد تأجير أحد مخازن الشركة
5. أي أنواع الخصم التالية لا يتم تسجيله في الدفاتر؟
 - أ- الخصم التجاري
 - ب- خصم الكمية
 - ج- الخصم المسموح
 - د- الخصم المكتسب
6. الاحتياط للخسارة التي قد تقع مستقبلاً يسمى مبدأ:
 - أ- الثبات
 - ب- الإفصاح
 - ج- الحيطة والحذر
 - د- الموضوعية
7. يسجل قيد خصم الكمية: من ح/ الصندوق إلى ح/ خصم كمية دائن في:
 - أ- دفتر البائع
 - ب- دفتر المشتري
 - ج- دفتر البنك
 - د- لا يسجل شيء
8. إذا كان مجموع الجلب المدين لخصم الصندوق مبلغ 1500 دينار ومجموع الجلب الدائن 1300 دينار فإن الرصيد:
 - أ- رصيد مدين مبلغ 1500
 - ب- رصيد مدين مبلغ 1300
 - ج- رصيد مدين مبلغ 200
 - د- رصيد مدين مبلغ 200
9. يكون الطرف المدين من قيد تظهر كمبيالة المستلمة من العميل نموذجاً ما سداد الحسابه في دفتر مظهر الكمبيالة:
 - أ- ح/ الصندوق
 - ب- ح/ المورد
 - ج- ح/ المورد
 - د- ح/ المورد
10. أي من التالية ليست من أسباب منح الخصم التجاري؟
 - أ- إتباع لغيره المسلومة عند بعض العملاء
 - ب- مجاملة بعض الجهات المهمة
 - ج- رغبة المنشأة في التخلص من بعض الأصناف التي انتهت موسمها
 - د- تشجيع العملاء على شراء بكميات أكبر
11. كان رصيد ح/ مدينون في بداية الفترة 7000 دينار فإذا علمت أن المبيعات الآجلة للمدينين بلغت 10000 دينار وأن المبلغ المحصل منهم نقداً بلغ 3000 دينار فكم يبلغ رصيد ح/ المدينين في نهاية الفترة؟
 - أ- 7000 دينار
 - ب- 6000 دينار
 - ج- 14000 دينار
 - د- لا يوجد رصيد نهاية الفترة
12. إن بيع الموجودات على الخصم بسعر التكلفة يؤدي إلى:
 - أ- زيادة الموجودات والمطلوبات
 - ب- نقصان الموجودات والمطلوبات
 - ج- بقاء مجموع الموجودات ثباتاً
 - د- نقصان الموجودات وزيادة المطلوبات
13. الكشف الذي يظهر في نهاية المدة التجارية ويبين فيه موجودات ومطلوبات المشروع يسمى:
 - أ- ميزان المراجعة بالارصدة
 - ب- قائمة المركز المالي
 - ج- الميزان التجاري
 - د- قائمة الدخل

14. أي من المستندات التالية تستخدم في إثبات عملية تسجيل مشتريات نقدا؟
 أ- القيد ب- الصرف ج- القبض د- إشعار مدين
15. إذا كان رصيد ح/ المتاجرة دائن فإن ذلك يعني أن نتيجة عمل المشروع تكون :
 أ- صافي ربح ب- صافي خسارة ج- مجمل ربح د- مجمل خسارة
16. عند تسديد أحد الموردين مبلغ 2000 دينار مع خصم تعجيل الدفع بنسبة 5% فإن حساب:
 أ- النقدية مدينا بقيمة 2000 دينار ب- حساب المودرين مدينا مبلغ 1900 دينار ج- خصم المسموح به مدينا 100 دينار د- خصم المكتسب دائنا مبلغ 100 دينار
17. الأصول = الالتزامات + حقوق الملكية ، تعبر المعادلة السابقة عن:
 أ- قائمة الدخل ب- قائمة المركز المالي ج- قائمة حقوق الملكية د- قائمة التدفقات النقدية

مبادئ المحاسبة 2

18. من المبادئ والمفاهيم المحاسبية التي تقضي إجراء تصويفات جردية في نهاية الفترة المحاسبية لعناصر الإيرادات والمصروفات:
 أ- الإفصاح التام ب- الأهمية النسبية ج- مقابلة الإيرادات بالمصروفات د- الموضوعية
19. تمتلك المنشأة شاحنة تكلفتها 30000 دينار وقيمة الخردة 2000 وعمرها الإنتاجي 4 سنوات وتستخدم المنشأة طريقة القسط المضاعف . فإن قسط العينة للفترة يعاوى:
 أ- 7000 دينار ب- 7500 دينار ج- 15000 دينار د- 22500 دينار
20. اشترت المنشأة أرض ومبنى دفعة واحدة بمبلغ 100000 دينار فإذا علمت أن القيمة السوقية للمبنى والأرض 300000 دينار (180000 مباني، 120000 أراضي) ، تكون تكلفة الأرض :
 أ- 60000 دينار ب- 40000 دينار ج- 120000 دينار د- لا يمكن فصل تكلفة الأرض عن المبنى
21. إليك بعض العمليات والتي نعت إلى فروق بين رصيد البنك في الدفاتر والرصيد في كشف البنك:
 عمليات لم تسجل في البنك: إيداعات بقطر، شيكات لم يتقدم أصحابها لصرفها
 عمليات لم تسجل في الدفاتر: تكمييلات حصلها البنك، وفوائد خصمها البنك.
 أي من العمليات السابقة تستدعي إثبات قيود تسوية؟
 أ- الكمبيالات والفوائد المخصصة ب- الشيكات التي تصرف والفوائد المخصصة ج- الإيداعات والكمبيالات المحصلة د- الإيداعات والشيكات التي تصرف
22. أي من الحسابات التالية يتم إقفالها في حساب الأرباح والخسائر؟
 أ- رواتب مستحقة الدفع ب- مصروف إيجار مقدم ج- إيرادات غير مكتسبة د- مصروف إيجار
23. عدم إثبات القيد الخاص بتسوية فوائد مستحقة القبض والبالغة 2000 دينار سيؤدي إلى :
 أ- تخفيض ربح بمقدار 2000 دينار ب- تخفيض الالتزام بمقدار 2000 دينار ج- زيادة الربح بمقدار 2000 دينار د- زيادة الالتزام بمقدار 2000 دينار
24. كل الممارسات المحاسبية التالية تتم بناء على مبدأ الحيطة والحذر ما عدا :
 أ- تقييم بضاعة آخر المدة بأقل المعريين ب- تقييم الأوراق المالية بأقل الصعريين ج- عمل مخصصات لمواجهة أية خسائر محتملة د- استخدام طريقة FIFO في تقييم بضاعة آخر المدة

25. عند شراء عدد من الأصول دفعة واحدة كـشراء أراض ومبان فإنه يتم تسجيل كل من الأراضي والمباني:
- أ- بالقيمة السوقية لكل منهما
 - ب- بمجموع القيمة السوقية
 - ج- بقيمة التكلفة لكل منهما
 - د- بإجمالي قيمة التكلفة
26. إذا كان الرصيد الدفترى للصندوق 2000 دينار وبلغ العجز مبلغ 230 دينار واعتبر عجزاً طبيعياً تتحمله المنشأة
- يكون رصيد الصندوق والذي يفصح عنه بالمركز المالي هو:
- أ- 1770 دينار
 - ب- 1800 دينار
 - ج- 1970 دينار
 - د- 2000 دينار
27. قيد معالجة العجز في الصندوق والذي تتحمله المنشأة:
- أ- من ح/ المسحوبات إلى ح/ الصندوق
 - ب- من ح/ الصندوق إلى ح/ المسحوبات
 - ج- من ح/ الصندوق إلى ح/ العجز في الصندوق
 - د- من ح/ العجز في الصندوق إلى ح/ الصندوق
28. إذا قررت المنشأة عند الجرد إعدام دين مقداره 2000 دينار وتستخدم الطريقة غير المباشرة في إعدام الدين فإن قيد التسوية هو:
- أ- 2000 من ح/ ديون محسومة إلى ح/ مخصص ديون مشكوك فيها
 - ب- 2000 من ح/ ديون محسومة إلى ح/ المدينين
 - ج- 2000 من ح/ مخصص ديون مشكوك فيها إلى ح/ المدينين
 - د- 2000 من ح/ المدينين إلى ح/ مخصص ديون مشكوك فيها
29. تسمى طريقة إهلاك الأصل والتي يتم فيها احتساب أعلى قيمة لمصروف الإهلاك للأصل في بداية عمرة الإنتاج:
- أ- القسط الثابت
 - ب- معدل الاستخدام الفعلي
 - ج- القسط المتناقص
 - د- طريقة إعادة التقدير
30. حررت شركة السعادة أورتق دفع بمبلغ 5400 دينار بتاريخ 2007/12/1 و يستحق بعد 3 شهور وبمعدل فائدة 8% سنوياً ولم يكن قوائده المستحقة قد أثبتت بعد
- يكون قيد التسوية الخاص بالفوائد في 2007/12/31 :
- أ- من ح/ مصروف فوائد إلى ح/ فوائد مستحقة الدفع بمبلغ 36
 - ب- من ح/ مصروف فوائد مستحقة الدفع إلى ح/ مصروف فوائد بمبلغ 36
 - ج- من ح/ مصروف فوائد إلى ح/ فوائد مستحقة الدفع بمبلغ 72
 - د- من ح/ مصروف فوائد مستحقة الدفع إلى ح/ مصروف فوائد بمبلغ 72
31. يكون الجانب المدين من قيد التسوية للإيرادات التي تخص فترات مالية لاحقة والتي سجلت كالتزام:
- أ- ح/ إيراد
 - ب- ح/ إيراد مستحق القبض
 - ج- الصندوق
 - د- ح/ إيراد غير مكتسب
32. يتم الإفصاح عن الأوراق المالية في المركز المالي في نهاية الفترة المحاسبية في 12/31 بالقيم التالية:
- أ- بسعر السوق
 - ب- بسعر السوق أو التكلفة أيهما أقل
 - ج- بالفرق بين سعر السوق وسعر التكلفة
 - د- بسعر التكلفة
33. بلغ العجز في الصندوق مبلغ 200 دينار علماً بأن الرصيد الفعلي للصندوق 530 دينار وسبب هذا العجز مبلغ فاتورة هاتف مدفوعة وغير مسجلة قيمتها 120 دينار والباقي عجز طبيعي تتحمله المنشأة.
- فإن قيمة الرصيد الدفترى للصندوق قبل التسويات هي:
- أ- 330 دينار
 - ب- 530 دينار
 - ج- 420 دينار
 - د- 730 دينار
34. أي من الحالات التالية في جرد الصندوق تؤثر على حساب الأرباح والخسائر؟
- أ- وجود عجز تبين أنه مسحوبات من قبل صاحب المنشأة
 - ب- وجود زيادة في الصندوق وسجل في ح/ زيادة في الصندوق
 - ج- وجود عجز في الصندوق تحمله أمين الصندوق
 - د- عند تساوي رصيد الصندوق الفعلي مع الرصيد الدفترى للصندوق

مبادئ الإدارة المالية

35. أودع شخص لدى أحد البنوك مبلغ 2000 دينار بفائدة بسيطة 6 % ولمدة 3 سنوات إن جملة المبلغ تساوي :
- أ- 360 دينار
ب- 2360 دينار
ج- 2300 دينار
د- 2000 دينار
36. استثمر مبلغ 100 دينار بفائدة 6 % ولمدة شهرين، ويقاء عليه فإن مبلغ الفائدة :
- أ- 4 دنائير
ب- 6 دنائير
ج- 10 دنائير
د- 1 دينار
37. كان دخل السهم لدى أحد المستثمرين 0.50 دينار، وتمن الشراء دينار، إن معدل العائد الحقيقي لهذا السهم يساوي :
- أ- 50 %
ب- 100 %
ج- 70 %
د- 150 %
38. إذا كانت تكلفة الطليقة الواحدة من شراء 30 ديناراً وتكلفة التخزين السنوية 20 % من متوسط المخزون، وكانت الاحتياطات السنوية 30000 دينار وبسعر وحدة 0.40 دينار، إن حجم الشراء الأمثل :
- أ- 30000 وحدة
ب- 4743 وحدة
ج- 40000 وحدة
د- 30030 وحدة
39. إذا كان عدد الوحدات المنتجة يساوي 4000 وحدة والتكلفة المتغيرة للوحدة 3 دنائير والتكاليف الثابتة 60000 دينار، فإن التكاليف الكلية تساوي :
- أ- 72000 دينار
ب- 64000 دينار
ج- 40000 دينار
د- 132000 دينار
40. مبلغ قيمته 2000 دينار مستثمر بمعدل 5 % سنوياً أعطي فائدة مقدارها 150 دينار؛ بناء على ذلك مدة الاستثمار تبلغ :
- أ- 3 سنوات
ب- 1.5 سنة
ج- 1 سنة
د- نصف سنة
41. عدم قدرة المؤسسة الوفاء بالالتزامات وخلال فترة زمنية طويلة يطلق عليه :
- أ- العجز
ب- العسر المالي الحقيقي
ج- السيولة
د- العسر المالي التقني
42. إن من أهم الأسباب التي تدفع المنشأة إلى إصدار الأسهم الممتازة كل مما يلي، باستثناء :
- أ- استعمال الأموال دون الاشتراك بالإدارة
ب- زيادة الموارد المالية
ج- ضعف إيرادات المنشأة
د- للمتاجرة بالملكية
43. النسبة المالية التي تقيس فترة لمؤسسة على مقبلة التزاماتها قصيرة الأجل :
- أ- نسبة التداول
ب- فترة التحصيل
ج- نسبة الاقتراض إلى الملكية
د- معدل دوران المخزون المعلي
44. جميع العبارات التالية صحيحة باستثناء عبارة واحدة خطأ هي :
- أ- التكاليف للمتغيرة تتأثر بعدد الوحدات المنتجة
ب- التكاليف الثابتة تدفعها المنشأة مرة واحدة عند بداية العمل وليس لها علاقة بكمية الانتاج
ج- تكون ربحية المؤسسة عند نقطة التعادل صفراً
د- الهامش الأبراني للوحدة يساوي سعر الوحدة - التكاليف الثابتة للوحدة
45. النسبة المالية التي تعكس فترة المنشأة على تغطية الالتزامات المتداولة من خلال الموجودات المتداولة هي :
- أ- التداول
ب- النقدية
ج- معدل دوران الأصول
د- معدل دوران المخزون
46. تجعل قيمة الأرباح مساوية لقيمة التكاليف.
- أ- الرفع المالي
ب- نقطة تعادل
ج- الرفع التشغيلي
د- السيولة

47. اشترت شركة بضاعة بشروط سداد 10/6 مدة الائتمان 40 يوم ، ولم تسدد الشركة خلال المدة المحددة ، ان تكلفة الفشل بالحصول على الائتمان تساوي :

- (السنة 360 يوم)
أ- 76.6 %
ب- 37 %
ج- 6 %
د- 94 %

48. اذا كانت المبيعات تساوي 140000 دينار ومبيعات التعداد تساوي 80000 دينار ، فان هامش نقطة التعادل يساوي :

- أ- 65 %
ب- 74 %
ج- 42.8 %
د- 34 %

49. ان القيمة الحالية لمبلغ 11000 دينار ستستلمها الآن تساوي (معدل الخصم 10%) :

- أ- 11000 دينار
ب- 10000 دينار
ج- 9090 دينار
د- لا شيء مما ذكر

50. اذا كان رصيد قبضاعة يساوي 40000 دينار وتكلفة المبيعات تساوي 600000 دينار ، فان معدل دوران البضاعة بالأيام هو :

- أ- 250 يوم
ب- 36 يوم
ج- 24 يوم
د- 360 يوم

51. بلغت التكاليف الثابتة في احدى المنشآت 200000 دينار والتكلفة المتغيرة للوحدة الواحدة 15 دينار وسعر بيع الوحدة الواحدة 20 دينار ، بناء على ذلك نقطة التعادل بالنقود تساوي :

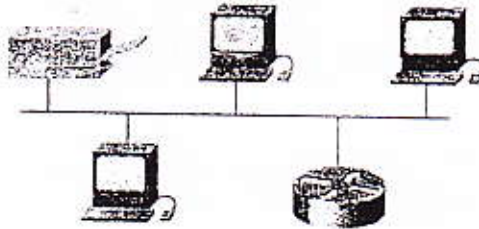
- أ- 20000 دينار
ب- 80000 دينار
ج- 40000 دينار
د- 800000 دينار

مقدمة في الشبكات وتراسل البيانات

52. أحد التالية مسؤول عن تحويل البيانات المراد نقلها عبر الشبكة إلى إشارات ملائمة لوسط النقل المستخدم في الشبكة :

- أ- بطاقة الشبكة (NIC)
ب- الموجة (Router)
ج- وحدة المعالجة المركزية (CPU)
د- TCP/IP

53. يبين الشكل المبين جانباً شبكة من نوع :



- أ- النجمة (Star)
ب- الحلقة (Ring)
ج- الناقل (Bus)
د- الشبكي (Mesh)

54. عدد الطبقات في النظام المفتوح (OSI) هو :

- أ- 4
ب- 7
ج- 3
د- 9

55. في أي من أنواع الشبكات التالية يؤدي تعطل أي جهاز فيها إلى تعطل الشبكة بأكملها ؟

- أ- النجمة (start)
ب- الحلقة (Ring)
ج- الناقل (Bus)
د- الشبكة (mesh)

56. أحد الأجهزة التالية يقوم بربط مجموعة من الشبكات مع بعضها البعض على الرغم من اختلاف البروتوكولات المستخدمة فيها :

- أ- الموجة (Router)
ب- البوابة (Gateway)
ج- الموزع (Switch)
د- المكرر (Repeater)

57. تقاس سرعة نقل البيانات في الشبكة بـ :

- أ- bit per second
ب- byte per second
ج- packet per segment
د- packet per second

58. الرمز (100 Base) يرمز إلى أن سرعة الشبكة هي :

- أ- 100Kbps
ب- 100 Mbps
ج- 100Gbps
د- 100Tbps



جامعة البلقاء التطبيقية

وحدة التقييم والامتحانات العامة

امتحان الشهادة الجامعية المتوسطة
الدورة الصيفية لعام 2009 م

الخطة الدراسية الجديدة (2007 / 2008)

رقم الجلوس	
اسم الطالب	
البرنامج الدراسي	البرنامج الاداري والمالي
التخصص	جميع تخصصات البرنامج الاداري والمالي / الخطط الجديدة
الورقة	الثانية
اليوم و التاريخ	الاثنين 20 / 7 / 2009
مدة الامتحان	ثلاث ساعات

ملحوظات:

1. عدد صفحات ورقة الأسئلة، باستثناء ورقة الغلاف، (9).
2. تتضمن ورقة الأسئلة (100) سؤال موضوعي من نوع الاختيار من متعدد، وتكون الإجابة عنها إجبارية.
3. اقرأ التعليمات الواردة في نموذج الإجابة (ورقة الكمبيوتر) بعناية تامة.

يكون هذا الاختبار من (100) سؤال موضوعي من نوع الاختيار من متعدد، الإجابة عنها إجبارية. تظل بقلم الرصاص بشكل غامق
الدائرة التي تشير إلى الإجابة الصحيحة في المكان المخصص لذلك في نموذج الإجابة المرفق

مبادئ الإدارة

1. أفضل أساليب القيادة التي حددتها نظرية الشبكة الإدارية:
 - أ- القيادة المعتدلة
 - ب- القيادة المتسلطة
 - ج- قيادة الفريق
 - د- القيادة الإنمائية
2. تصنف الميزانية التقديرية ضمن أساليب الرقابة:
 - أ- الشبكية
 - ب- الميدانية
 - ج- الكمية
 - د- الوصفية
3. من قنوات تدفق الاتصال داخل منظمة الأعمال التي تتسبب الاتصالات بين الأفراد فيها على نفس المستوى الإداري:
 - أ- من الأسفل إلى الأعلى
 - ب- من الأعلى إلى الأسفل
 - ج- الأفقية
 - د- القطرية
4. كل من التالية تعتبر من صفات القائد، فيما عدا:
 - أ- الإحساس
 - ب- التعاطف
 - ج- السلوك للتوجيهي
 - د- الثقة
5. من الأساليب الحديثة في الحفز:
 - أ- أسلوب العمل المرن
 - ب- سياسة الباب المفتوح
 - ج- أسلوب الإدارة بالأهداف
 - د- جميع ما ذكر
6. عندما يقدم الموظف تقريراً من عمله الذي كلف به إلى مديره فإن هذا الاتصال يسمى اتصالاً:
 - أ- أفقياً
 - ب- من أعلى إلى أسفل
 - ج- من أسفل إلى أعلى
 - د- خارجياً
7. من عيوب التقسيم حسب فئات شعثهاك:
 - أ- صعوبة التنسيق بين الأقسام
 - ب- مركزية ورقابة شديدة
 - ج- صعوبة تحديد سياسة معينة
 - د- لا شيء مما ذكر
8. عبارة عن مجموعة من القواعد والأسس التي تضعها المنظمة لكي تتقيد بها الإدارات عند اتخاذها للقرارات وتنفيذ الخطط الخاصة بها.
 - أ- السياسات
 - ب- الإجراءات
 - ج- القواعد
 - د- لا شيء مما ذكر
9. من أساليب الحفز الإنساني الذي يسمح للعاملين باختيار ساعات العمل التي يريدونها ضمن حدود معينة هو:
 - أ- العمل المكثف
 - ب- العمل المرن
 - ج- الاهتمام بمعنويات العاملين
 - د- العمل المتواصل
10. من معوقات الاتصال:
 - أ- وجود التخطيط الكافي لعملية الاتصال
 - ب- وجود آراء وفرضيات واضحة
 - ج- اختيار وسيلة الاتصال المناسبة
 - د- التلاعب بالمعاني والألفاظ
11. الافتراض بأن الناس يحفزون إذا ما تمت معاملتهم في العمل بعدالة، افتراض نظرية:
 - أ- الحاجة للإنجاز
 - ب- التوقع
 - ج- التعزيز
 - د- الإنصاف والعدالة
12. الفرق بين إدارة الأعمال والإدارة العامة:
 - أ- الاختلاف في الأهداف
 - ب- معيار نجاح الإدارة
 - ج- الاختلاف في مجال التطبيق
 - د- جميع ما ذكر
13. تعتبر مرشداً لأسلوب تنفيذ العمل من بدايته إلى نهايته:
 - أ- السياسات
 - ب- الإجراءات
 - ج- القواعد
 - د- جميع ما ذكر

14. المهارات التي تعتبر ضرورية لنجاح المدير هي:
- أ- مهارات فنية
ب- مهارات فكرية
ج- مهارات إنسانية
د- جميع ما ذكر
15. من العناصر الأساسية التي يجب أن تتوفر في عملية الاتصال:
- أ- الرسالة نفسها
ب- الإطار العام
ج- الحاجة
د- السلبية
16. العوامل التي تحدد درجة المركزي أو اللامركزي التالية ما عدا:
- أ- حجم المنظمة
ب- سرعة القرار
ج- الاتجاه العام للمنظمة
د- مركزية ولا مركزية الأداء
17. من خصائص التخطيط الجيد:
- أ- المرونة
ب- المشاركة
ج- التوقيت
د- جميع ما ذكر
18. يعتبر الفهم والاتجاهات والميول من الأمثلة على المؤثرات في عمليات التشويش على الاتصال.
- أ- الإدراكية
ب- البيئية
ج- الخارجية
د- الأفقية
19. من مصادر السلطة: قبول المرؤوسين للسلطة: وهذا يعني أن الرئيس يستمد سلطته من:
- أ- مرؤوسيه
ب- الرئيس الأعلى منه
ج- خبرته الفنية
د- قوة شخصيته
20. من مزايا التنظيم التنفيذي:
- أ- اللامركزية في اتخاذ القرارات
ب- لا يحتاج إلى درجة عالية من التخصص
ج- روح التعاون
د- جميع ما ذكر

مبادئ الاقتصاد الجزئي

21. ان وجود عدد كبير من الباعين والمشتريين للسلعة يعتبر من خصائص سوق:
- أ- الاحتكار العام
ب- المنافسة التامة
ج- المنافسة الاحتكارية
د- احتكار القلة
22. سعر التعادل هو عبارة عن السعر الذي يتساوى مع:
- أ- التكاليف الثابتة
ب- متوسط التكاليف المتغيرة
ج- متوسط التكاليف الكلية
د- متوسط التكاليف الثابتة
23. إذا زاد عدد الباعين المنتجين مع بقاء العوامل الأخرى ثابتة، فإن عرض السوق من السلعة سوف:
- أ- يرتفع
ب- ينخفض
ج- يكون عديم المرونة
د- يتحقق المؤسسة التنافسية ربحاً بطريقة المجاميع إذا كان:
24. تحقق المؤسسة التنافسية ربحاً بطريقة المجاميع إذا كان:
- أ- إجمالي الإيرادات أقل من إجمالي التكاليف
ب- إجمالي الإيرادات أكبر من إجمالي التكاليف
ج- إجمالي الإيرادات يساوي إجمالي التكاليف
د- معدل البيع ثابتاً
25. من خصائص سوق المنافسة الاحتكارية:
- أ- حرية الدخول والخروج من وإلى السوق
ب- عدم تشابه السلع
ج- تجانس السلع تجانساً تاماً
د- وجود قوى احتكارية
26. إذا كان سعر إحدى السلعتين يتناسب عكسياً مع الطلب على السلعة الأخرى فإن السلعتين:
- أ- مستقلتان
ب- مكملتان
ج- بديلتان
د- مكملتان

- Page 3 of 9

40. يعرف فائض المستهلك بأنه الفرق بين:

- أ- المنفعة الكلية التي يحصل عليها المستهلك والمنفعة الحدية من استهلاكه لهذه السلعة
ب- المبلغ الذي يكون المستهلك مستعداً لدفعه والمبلغ الذي دفعه فعلاً
ج- سعر السلعة والمنفعة الكلية التي يحصل عليها المستهلك
د- سعر البيع وسعر الشراء

مبادئ الإحصاء

41. إذا كان معدل درجات الحرارة للبيانات التالية = (20، 30، 15-، 10-، 5-)، فإن قيمة س تساوي:

- أ- 15-
ب- صفر
ج- 15
د- 10

42. مجموعة من الأرقام مكونة من أربع أربعات وخمس خمسات وست ستات وسبع سابعات فإن المنوال يساوي:

- أ- 4
ب- 7
ج- 6
د- 3

43. إذا كان ل (ح1) = 0.3 ، ل (ح2) = 0.5 ، ل (ح1 ∩ ح2) = 0.1 أوجد ل (ح1 ∪ ح2):

- أ- 0.8
ب- 0.7
ج- 0.9
د- 1

44. $\Omega = \{ \text{ب، د، و} \}$ ، ل (ب) = 0.4 ، ل (د) = 0.2 أوجد ل (و).

- أ- 0.6
ب- 0.4
ج- 0.8
د- 0.2

45. $Z=2$ هي القيمة المعيارية المقابلة للقيمة الخام 30 ، أوجد الوسط الحسابي للتوزيع إذا علمت أن الانحراف المعياري يساوي 5:

- أ- 5.6
ب- 20
ج- 3
د- 10

46. يشير معامل الارتباط 0.08 إلى:

- أ- ارتباط ضعيف بين المتغيرين
ب- ارتباط قوي بين المتغيرين
ج- علاقة عكسية بين المتغيرين
د- ب + ج

47. فئة مركزها (15) حدها الأدنى الفعلي 9.5 فإن حدها الأعلى الفعلي يساوي:

- أ- 24.5
ب- 20.5
ج- 21
د- 25

48. المركبة التي تظهر فيها التغيرات غير المنتظمة عند تخزين السلسلة الزمنية هي مركبة:

- أ- الدورية
ب- فصائية
ج- عشوائية
د- لاتجاه العام

49. صندوق فيه 5 كرات حمراء و 3 كرات سوداء ، سحب كرتين على التوالي دون إرجاع ما احتمال سحب كرتين حمراوين؟

- أ- $\frac{25}{64}$
ب- $\frac{20}{55}$
ج- $\frac{5}{8}$
د- $\frac{20}{16}$

50. مجموع مربعات انحرافات 40 قيمة عن وسطها الحسابي يساوي 640 ، فإن الانحراف المعياري يساوي:

- أ- 16
ب- 4
ج- 4096
د- 8

51. يراد اختيار عينة بالطريقة العشوائية المنتظمة حجمها 2000 شخصاً من مجتمع حجمه 4000 ، إذا جرى اختيار الشخص رقم 8 كأول شخص في العينة ، ما هو رقم الشخص الذي يليه؟

- أ- 20
ب- 28
ج- 200
د- 4000

العينة هي :

أ- المشاهدات المقاسة على أفراد المجتمع الإحصائي:

ب- مقاييس احصائية غير متصلة

ج- مجموعة جزئية من المجتمع الإحصائي

د- سبب من اسباب المسح الشامل

53. أكثر مقاييس النزعة المركزية استعمالاً هو :

أ- الوسيط

ب- المنوال

ج- المتينات

د- الوسط الحسابي

54. مركبة السلسلة الزمنية التي توضح التغيرات التي تحصل بشكل غير متنبأ به هي مركبة:

أ- الاتجاه

ب- الفصل

ج- الدورة

د- الخطأ

55. الفرضية الصفرية هي :

أ- هي الفرضية التي تفيد بأنه لا يوجد فروق ذات دلالة احصائية بين قيمة الاحصائي المحسوب للمجتمع وبين قيمة نفس الاحصائي المحسوب للعينة

ب- هي الفرضية التي تفيد بأنه يوجد فروق ذات دلالة احصائية بين قيمة الاحصائي المحسوب للمجتمع وبين قيمة نفس الاحصائي المحسوب للعينة

ج- هي الفرضية التي يريد الباحث اثبات صحتها وقبولها مقابل رفضه للفرضية الصفرية

د- جميع ما ذكر

56. إذا علمت ان الوسط الحسابي لقيم س=20 والوسط الحسابي لقيم ص=45 والانحراف المعياري لقيم س=2.5 والانحراف المعياري لقيم ص=5.5 ، معامل الارتباط =0.85 ، فان معامل الانحدار أ =

أ- 2.8

ب- 0.85

ج- 2.1

د- 1.87

57. إذا كانت ز المحسوبة اصغر من ز المجدولة فيكون القرار :

أ- قبول الفرضية الصفرية ورفض البديلة

ب- رفض الفرضية الصفرية وقبول البديلة

ج- رفض الفرضية الصفرية ورفض البديلة

د- قبول الفرضية الصفرية وقبول البديلة

58. إذا كان الوسط الحسابي في توزيع طبيعي =82 والانحراف المعياري 10 فإن تماثل التوزيع يكون حول:

أ- 82

ب- 10

ج- صفر

د- 72

59. المنوال للبيانات التالية (2 ، 19 ، 17 ، 9 ، 10 ، 8 ، 17) =

أ- 7

ب- 17

ج- 9

د- لا يوجد منوال

60. إذا كان الانحراف المعياري لمجموعة قيم يساوي 4 وضربت كل قيمة بالعدد -3 واضيف لها العدد 15 فان الانحراف المعياري بعد التعديل:

أ- 3

ب- 27

ج- 12

د- 12

مبادئ المحاسبة 1

61. احد الدفاتر التالية لا يعتبر دفترًا قاتونيا:

أ- دفتر اليومية

ب- دفتر الأستاذ

ج- دفتر صور الرسائل

د- دفتر الجرد والميزانية

أي الحسابات التالية طبيعة رصيدها مدين؟

أ- رأس المال

ب- الإيرادات

ج- الأصول

د- المطلوبات

عند بيع بضاعة السعر المعلن لها 500 دينار وبخصم تجاري 10% تسجل المبيعات بمبلغ:

- أ- 500 دينار
ب- 50 دينار
ج- 450 دينار
د- 550 دينار

جميع معادلات الميزانية صحيحة باستثناء:

- أ- الأصول = المطلوبات + حقوق الملكية
ب- الأصول - المطلوبات = حقوق الملكية
ج- المطلوبات = الأصول - حقوق الملكية
د- الأصول = المطلوبات - حقوق الملكية

أي من العمليات التالية لن تؤدي إلى تسجيل إيرادات للمشروع التجاري؟

- أ- استلام أرباح مالية
ب- إضافة فوائد دائنة لحساب البنك
ج- استلام فائدة قرض للمشروع
د- توقيع عقد تأجير أحد مخازن الشركة

أي أنواع الخصم التالية لا يتم تسجيله في الدفاتر؟

- أ- الخصم التجاري
ب- خصم الكمية
ج- الخصم المسموح
د- الخصم المكتسب

الاحتياط للخسارة التي قد تقع مستقبلاً يسمى مبدأ:

- أ- الثبات
ب- الإفصاح
ج- الحيطة والحذر
د- الموضوعية

يسجل قيد خصم الكمية: من ح/ الصندوق إلى ح/ خصم كمية دائن في:

- أ- دفاتر البائع
ب- دفاتر المشتري
ج- دفاتر البنك
د- لا يسجل شيء

إذا كان مجموع الجانب المدين لحساب الصندوق مبلغ 1500 دينار، ومجموع الجانب الدائن 1300 دينار فإن الرصيد:

- أ- رصيد مدين مبلغ 1500
ب- رصيد دائن مبلغ 1300
ج- رصيد مدين مبلغ 200
د- رصيد دائن مبلغ 200

يكون الطرف المدين من قيد تظهير كمبيالة المستلمة من العميل لمورد ما سداداً لحسابه في دفاتر مظهر الكمبيالة:

- أ- ح/ الصندوق
ب- ح/ أوراق قبض
ج- ح/ المورد
د- العميل

عند رد بضاعة لأحد الموردين وقبض قيمتها نقداً فإن القيد هو:

- أ- من ح/ الصندوق إلى ح/ مردودات المبيعات
ب- من ح/ الصندوق إلى ح/ مردودات المشتريات
ج- من ح/ مردودات المشتريات إلى ح/ الصندوق
د- من ح/ الصندوق إلى ح/ العملاء

أي من التالية ليست من أسباب منح الخصم التجاري؟

- أ- إشباع لغريزة المساومة عند بعض العملاء
ب- مجاملة بعض الجهات المهمة
ج- رغبة المنشأة في التخلص من بعض الأصناف التي تنهي موسمها
د- تشجيع العملاء على الشراء بكميات أكبر

73. كان رصيد ح/مدينون في بداية الفترة 7000 دينار فإذا علمت أن المبيعات الآجلة للمدينين بلغت 10000 دينار وأن المبلغ المحصل منهم نقداً بلغ 3000 دينار فكم يبلغ رصيد ح/المدينين في نهاية الفترة ؟

- أ- 7000 دينار
ب- 6000 دينار
ج- 14000 دينار
د- لا يوجد رصيد نهاية الفترة

74. أن بيع الموجودات على الحساب بسعر التكلفة يؤدي إلى :
أ- زيادة الموجودات والمطلوبات
ب- نقصان الموجودات والمطلوبات
ج- بقاء مجموع الموجودات ثابتاً
د- نقصان الموجودات وزيادة المطلوبات

75. الكشف الذي يظهر في نهاية المدة التجارية ويبين فيه موجودات ومطلوبات المشروع يسمى :
أ- ميزان المراجعة بالارصدة
ب- قائمة المركز المالي
ج- الميزان التجاري
د- أي من المستندات التالية تستخدم في إثبات عملية تسجيل مشتريات نقداً ؟

- أ- القيد
ب- الصرف
ج- القبض
د- إشعار مدين

76. إذا كان رصيد ح/المتاجرة دائن فإن ذلك يعني أن نتيجة عمل المشروع تكون :
أ- صافي ربح
ب- صافي خسارة
ج- مجمل ربح
د- مجمل خسارة

77. عند تسديد أحد الموردين مبلغ 2000 دينار مع خصم تعجيل الدفع بنسبة 5% فإن حساب :
أ- النقدية مدينا بقيمة 2000 دينار
ب- حساب الموردين مدينا بمبلغ 1900 دينار
ج- خصم المسموح به مدينا 100 دينار
د- خصم المكتسب دائنا بمبلغ 100 دينار

78. الأصول = الالتزامات + حقوق الملكية ، تعبر المعادلة السابقة عن :
أ- قائمة الدخل
ب- قائمة حقوق الملكية
ج- قائمة حقوق الملكية
د- قائمة التنفقات النقدية

79. يكون قيد تسجيل دفع مبلغ نقدي من صندوق المنشأة قيمة تذاكر سفر لعائلة المالك :
أ- من ح/ الصندوق إلى ح/ المسحوبات
ب- من ح/ المسحوبات إلى ح/ مصاريف السفر
ج- من ح/ مصاريف السفر إلى ح/ الصندوق
د- من ح/ المسحوبات إلى ح/ الصندوق

مبادئ المحاسبة 2

80. من المبادئ والمفاهيم المحاسبية التي تقضى إجراء تسويات جردية في نهاية الفترة المحاسبية لعناصر الإيرادات والمصروفات :
أ- الإفصاح التام
ب- الأهمية النسبية
ج- مقابلة الإيرادات بالمصروفات
د- الموضوعية

81. تمتلك المنشأة شاحنة تكلفتها 30000 دينار وقيمة الخردة 2000 دينار وعمرها الإنتاجي 4 سنوات وتستخدم المنشأة طريقة القسط المضاعف . فإن قسط المنفعة الثانية يساوي :
أ- 7000 دينار
ب- 7500 دينار
ج- 15000 دينار
د- 22500 دينار

82. اشترت المنشأة أرضاً ومبنى دفعة واحدة بمبلغ 100000 دينار فإذا علمت أن القيمة السوقية للمبنى والأرض 300000 دينار (180000 مباني، 120000 أراضي) ، تكون تكلفة الأرض :
أ- 60000 دينار
ب- 40000 دينار
ج- 120000 دينار
د- لا يمكن فصل تكلفة الأرض عن المبنى

Consult
e - Canal

لنفه
اي

*** ما يلي بيانات مستخرجة من حركة البضاعة في مخازن شركة القدس:

شراء 200 وحدة بسعر 12 دينار

شراء 180 وحدة بسعر 10 دينار

شراء 20 وحدة بسعر 20 دينار

فإذا علمت أن بضاعة آخر المدة هي 50 وحدة ، استخدم المعلومات للإجابة عن الأسئلة الثلاثة الآتية:

84. تكلفة بضاعة آخر المدة حسب الوارد أولا صادر أولا FIFO تساوي:

أ- 700 دينار

ب- 600 دينار

ج- 575 دينار

د- 1000 دينار

85. تكلفة بضاعة آخر المدة حسب الوارد أخيرا صادر أولا LIFO تساوي :

أ- 700 دينار

ب- 600 دينار

ج- 575 دينار

د- 1000 دينار

86. تكلفة بضاعة آخر المدة حسب المتوسط المرجح تساوي :

أ- 700 دينار

ب- 600 دينار

ج- 575 دينار

د- 1000 دينار

87. إليك بعض العمليات والتي أدت إلى فروق بين رصيد البنك في الدفاتر والرصيد في كشف البنك:

عمليات لم تسجل في البنك: إيداعات بالطريق، شيكات لم يتقدم أصحابها لصرفها

عمليات لم تسجل في الدفاتر: كمبيالات حصلها البنك، وفوائد خصمها البنك.

أي من العمليات السابقة تستدعي إثبات قيود تسوية؟

أ- الكمبيالات والفوائد المخصومة

ب- الشيكات التي تصرف والفوائد المخصومة

ج- الإيداعات والكمبيالات المحصلة

د- الإيداعات والشيكات التي تصرف

88. أي من الحسابات التالية يتم إقفالها في حساب الأرباح والخسائر؟

أ- رواتب مستحقة الدفع

ب- مصروف إيجار مخم

ج- إيرادات غير مكتسبة

د- مصروف إيجار

89. عدم إثبات القيد الخاص بتسوية فواتر مستحقة القبض والبالغ 2000 دينار سيؤدي إلى :

أ- تخفيض ربح بمقدار 2000 دينار

ب- تخفيض الألتزام بمقدار 2000 دينار

ج- زيادة الربح بمقدار 2000 دينار

د- زيادة الألتزام بمقدار 2000 دينار

90. كل المعاملات المحاسبية التالية تتم بناء على مبدأ الحيطة وتحتار ما عدا :

أ- تقييم بضاعة آخر المدة بكل السعرين

ب- تقييم الأوراق المالية بكل السعرين

ج- عمل مخصصات لمواجهة أية خسائر محتملة

د- استخدام طريقة FIFO في تقييم بضاعة آخر المدة

91. عند شراء عدد من الأصول دفعة واحدة كـ شراء أرض ومبنى فـ يتم تسجيل كل من الأرضي والمباني:

أ- بالقيمة السوقية لكل منهما

ب- بمجموع القيمة السوقية

ج- بقيمة التكلفة لكل منهما

د- بإجمالي قيمة التكلفة

92. إذا كان الرصيد الدفترى للصندوق 2000 دينار وبلغ العجز مبلغ 230 دينار واعتبر عجزا طبيعيا تتحمله المنشأة

يكون رصيد الصندوق والذي يفصح عنه بالمركز المالي هو:

أ- 1770 دينار

ب- 1800 دينار

ج- 1970 دينار

د- 2000 دينار

93. قيد معالجة العجز في الصندوق والذي تتحمله المنشأة:
- أ- من ح/ المسحوبات إلى ح/ الصندوق
 - ب- من ح/ الصندوق إلى ح/ المسحوبات
 - ج- من ح/ الصندوق إلى ح/ العجز في الصندوق
 - د- من ح/ العجز في الصندوق إلى ح/ الصندوق
94. إذا قررت المنشأة عند الجرد إعدام دين مقداره 2000 دينار وتستخدم الطريقة غير المباشرة في إعدام الدين فإن قيد التسوية هو:
- أ- 2000 من ح/ ديون معدومة إلى ح/ مخصص ديون مشكوك فيها
 - ب- 2000 من ح/ ديون معدومة إلى ح/ المدينين
 - ج- 2000 من ح/ مخصص ديون مشكوك فيها إلى ح/ المدينين
 - د- 2000 من ح/ المدينين إلى ح/ مخصص ديون مشكوك فيها
95. تسمى طريقة إهلاك الأصل والتي يتم فيها احتساب أعلى قيمة لمصروف الإهلاك للأصل في بداية عمرة الإنتاجي:
- أ- القسط الثابت
 - ب- معدل الاستخدام الفعلي
 - ج- القسط المتناقص
 - د- طريقة إعادة التقدير
96. حررت شركة السعادة أوراق دفع بمبلغ 5400 دينار بتاريخ 2007/12/1 و يستحق بعد 3 شهور وبمعدل فائدة 8% سنوياً ولم تكن فوائده المستحقة قد أثبتت بعد. يكون قيد التسوية الخاص بالفوائد في 2007/12/31 :
- أ- من ح/ مصروف فوائد إلى ح/ فوائد مستحقة الدفع بمبلغ 36
 - ب- من ح/ مصروف فوائد مستحقة للدفع إلى ح/ مصروف فوائد بمبلغ 36
 - ج- من ح/ مصروف فوائد إلى ح/ فوائد مستحقة للدفع بمبلغ 72
 - د- من ح/ مصروف فوائد مستحقة للدفع إلى ح/ مصروف فوائد بمبلغ 72
97. يكون لجانب المدين من قيد التسوية للإيرادات التي تخص فترات مالية لاحقة والتي سجلت كالتزام:
- أ- ح/ إيرادات
 - ب- ح/ إيرادات مستحق القبض
 - ج- ح/ إيرادات
 - د- ح/ إيرادات غير مكتسب
98. يتم الإفصاح عن الأوراق المالية في المركز المالي في نهاية الفترة المحاسبية في 12/31 بالقيم التالية:
- أ- بسعر السوق
 - ب- بسعر السوق أو التكلفة فيها أقل
 - ج- بالفرق بين سعر السوق وسعر التكلفة
 - د- بسعر التكلفة
99. بلغ العجز في الصندوق مبلغ 200 دينار علماً بأن الرصيد الفعلي للصندوق 530 دينار وسبب هذا العجز مبلغ فاتورة هاتف مدفوعة وغير مسجلة قيمتها 120 دينار والباقي عجز طبيعي تتحمله المنشأة.
- فإن قيمة الرصيد الدفترى للصندوق قبل التسويات هي:
- أ- 330 دينار
 - ب- 530 دينار
 - ج- 420 دينار
 - د- 730 دينار
100. أي من الحالات التالية في جرد الصندوق تؤثر على حساب الأرباح والخسائر؟
- أ- وجود عجز تبين أنه مسحوبات من قبل صاحب المنشأة
 - ب- وجود زيادة في الصندوق وسجل في ح/ زيادة في الصندوق
 - ج- وجود عجز في الصندوق تحمله أمين الصندوق
 - د- عند تساوي رصيد الصندوق للفعلي مع الرصيد الدفترى للصندوق