

ورقة عمل رياضيات (الضرب) الصف الثاني (ج) اسم الطالب:..... مربي الصف : احمد مسلم
 أجيب عن الأسئلة التالية بوضع العدد المناسب في المربع كما في المثال الأول

العدد 20 فيه	4	خمس	العدد 16 فيه		أربع
العدد 15 فيه		ثلاث	العدد 60 فيه		عشر
العدد 25 فيه		خمس	العدد 12 فيه		أربع
العدد 20 فيه		أربع	العدد 100 فيه		عشر
العدد 50 فيه		خمس	العدد 30 فيه		ثلاث

أجيب عن المسائل التالية :

1- كم كتابا في أربعة رفوف إذا كان في الرف الواحد 5 كتب ؟
 الحل:

2- عند محمد أربعة أقفاص في كل قفص زوج من العصافير ، فكم عصفورا عند محمد ؟
 الحل:

3- عند خالد 5 صناديق في كل صندوق 3 كرات فإذا أضاف لكل صندوق كرتان فكم كرة أصبح عند خالد ؟
 الحل:

أضع الرمز المناسب < أو > أو = داخل المربع

(ثلاثة خمس + خمسة خمس) (ثلاثة عشر)

(سبعة عشر - عشرة خمس) (خمسة أربع)

(أربعة اثنين + ثلاثة أربع) (خمسة ثلاث)

أضع العدد المناسب داخل المربع :

$$\boxed{} = 3 \div 15 \qquad \boxed{} = 4 \div 12 \qquad \boxed{} = 5 \div 25$$

$$\boxed{} = 3 \div 12 \qquad \boxed{} = 4 \div 16 \qquad \boxed{} = 4 \div 20$$

$$\boxed{} = 5 \div 15 \qquad \boxed{} = 3 \div 9 \qquad \boxed{} = 2 \div 8$$

$$\boxed{} = 4 \div 8 \qquad \boxed{} = 3 \div 6 \qquad \boxed{} = 5 \div 20$$

$$\square = 3 \div 3 \qquad \square = 1 \div 4 \qquad \square = 5 \div 5$$

أكمل كما في المثال الأول

12 = 4 × 3 لأن 3 = 4 ÷ 12

_____ لَان = 3 ÷ 15

_____ لَان = 4 ÷ 16

_____ لأن = 5 ÷ 20

_____ لأن = 3 ÷ 9

----- لأن = 3 ÷ 12

----- لان = 5 ÷ 15

----- لان = 2 ÷ 8

----- لان = 2 ÷ 6

----- لان = 4 ÷ 8

----- لان = 5 ÷ 25

_____ لأن = 2 ÷ 4

----- لأن = 1 ÷ 5

----- لان = 2 ÷ 2

أضع العدد المناسب داخل المربع :

$$4 = \square \div 12 \qquad 5 = \square \div 20$$

$$3 = 2 \div \boxed{} \qquad 4 = 4 \div \boxed{}$$

3 = 2 :

5 = 5 :

4 = 4 :

$$5 = 5 \div \square \qquad 4 = 2 \div \square$$

$$4 = 1 \div \square \qquad 3 = 3 \div \square$$

أكمل عمليات الطرح التالية ثم أكتب عملية القسمة المناسبة كما في المثال :
 مثال :

$$4 = 2 \div 8$$

$\begin{array}{r} 2 \\ 2 - \\ \hline 0 \end{array}$	$\begin{array}{r} 4 \\ 2 - \\ \hline 2 \end{array}$	$\begin{array}{r} 6 \\ 2 - \\ \hline 4 \end{array}$	$\begin{array}{r} 8 \\ 2 - \\ \hline 6 \end{array}$
---	---	---	---

$$\begin{array}{r} 12 \\ 3 - \\ \hline \end{array}$$

$$\begin{array}{r} 20 \\ 4 - \\ \hline \end{array}$$

$$\begin{array}{r} 25 \\ 5 - \\ \hline \end{array}$$

$$\begin{array}{r} 16 \\ 4 - \\ \hline \end{array}$$


$$\begin{array}{r} 10 \\ 2 - \\ \hline \end{array}$$

$$\begin{array}{r} 15 \\ 3 - \\ \hline \end{array}$$




$$\begin{array}{r} 14 \\ 2 - \\ \hline \end{array}$$

الضرب والقسمة


أكتب جملة قسمه تناسب الأشكال التالية:-




$$\boxed{} = \boxed{} \div \boxed{}$$



$$\boxed{} = \boxed{} \div \boxed{}$$





$$\boxed{} = \boxed{} \div \boxed{}$$





$$\boxed{} = \boxed{} \div \boxed{}$$

أختر جملة القسمة المناسبة للشكل.





$$3 = 2 \div 6$$

$$3 = 1 \div 3$$



$$2 = 2 \div 4$$

$$2 = 4 \div 8$$



$$2 = 2 \div 4$$

$$2 = 4 \div 4$$

ارسم حسب المطلوب:-



$$2 = 5 \div 10$$



$$3 = 3 \div 9$$



$$2 = 4 \div 8$$

أكتب جملة ضرب وقسمة من الأعداد التالية :-

$$24 , 4 , 6$$

$$\dots = \dots \times \dots$$

$$\dots = \dots \div \dots$$

$$32 , 8 , 4$$

$$\dots = \dots \times \dots$$

$$\dots = \dots \div \dots$$

$$3 , 4 , 12$$

$$\dots = \dots \times \dots$$

$$\dots = \dots \div \dots$$

$$3 , 3 , 9$$

$$\dots = \dots \times \dots$$

$$\dots = \dots \div \dots$$

أكمل الجدول التالي:-

القسمة على 2

المدخلات	8	10	6	12	4
المخرجات					

القسمة على 3

المدخلات	15	6	9	12	3
المخرجات					

القسمة على 4

المدخلات					
المخرجات	1	3	6	11	9

أوجد الناتج :-

$= 3 \div 18$	$= 5 \div 25$	$= 2 \div 14$
$= 4 \div 32$	$= 2 \div 16$	$= 2 \div 8$
$= 9 \div 45$	$= 5 \div 45$	$= 2 \div 20$
$= 7 \div 63$	$= 8 \div 56$	$= 5 \div 30$
$= 3 \div 24$	$= 6 \div 48$	$= 5 \div 40$
$= 8 \div 24$	$= 9 \div 36$	$= 1 \div 3$
$= 3 \div 18$	$= 7 \div 28$	$= 10 \div 60$
$= 3 \div 21$	$= 4 \div 20$	$= 4 \div 4$

حل المسائل التالية :-

وزعت هند 16 بالونه على صديقاتها بحيث أخذت كل صديقة منهم 4 بالونات . فما عدد صديقاتها؟

.....
.....

لدي محمد 24 ديناراً اشترى لعبة 3 دنائير فكم لعبة اشترى محمد بمبلغ الذي عنده ؟

.....
.....

زرعت فاطمة 35 وردة في أصص، وضعت في كل أصيص خمس وردات . فكم أصيص

استخدمت ؟

.....
.....

يريد أحمد أن يقسم 37 موزه بالتساوي على ثلاثة أطباق ، فكم موزه سيضع في كل طبق.

.....
.....

رتبت سعاد 42 طابعاً بريدياً في دفتر ، بحيث وضعت كل 7 طوابع في صفحة ، فما عدد الصفحات التي

استعملتها سعاد ؟

.....
.....

لدي دانه 18 قلماً ، وبالأمس كان لديها نصف هذا العدد زائد اثنين . فكم كان عدد أقلامها بالأمس؟

.....
.....

رتب علي 48 قميصاً على سنة رفوف في خزانة الملابس ، فكم قميصاً على كل رف؟

.....
.....

قرر 49 تلميذا الذهاب في رحلة مدرسية ، فكم باص يحتاجون لنقلهم إذا كان الباص يسع لـ 7 تلاميذ.

.....
.....

تريد هدي أن تزين ثلاث كعكات بـ 27 قطعة شوكولاتة . فكم قطعة ستضع في كل كعكة ؟

.....
.....

حل عبد الرحمن مسألة القسمة $56 \div 7 = 8$

فأي مسألة استعمل للتحقق من إجابته؟

1_ $7 + 56$

2_ 8×7

3_ $7 + 8$

4_ $56 \div 7$

سلق طبّاخ 16 حبة بطاطا في إناءين ، ووضع في كل إنا عدداً متساوياً من حبات البطاطا.

فأي جملة عددية تبين عدد الحبات في كل إناء؟

1_ $18 = 2 + 16$


2_ $14 = 2 _ 16$

3_ $32 = 2 \times 16$

$$8 = 2 \div 16 _4$$

الرقم ()
الاسم.....

الصف : الثاني ()
التاريخ : / / 2018

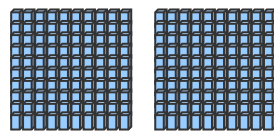





مديرية التربية والتعليم الخاص
مدرسة الأمانى التربوي
روضة - أساسي

تلفاكس : " 4394258 "

ورقة عمل (رياضيات) الجمع باعادة التجميع

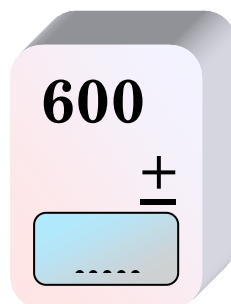
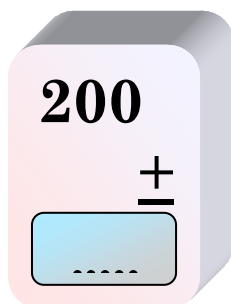
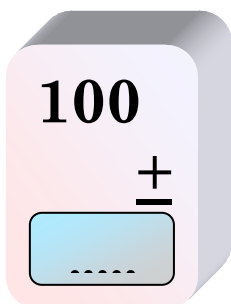
[1] أكمل مايلي؟



..... مئات = مئات + مئات

..... = +

[1] اجمع مايلي؟



[1] املأ الفراغات بالأعداد المناسبة؟

$$700 = 600 + \text{.....}$$

$$\text{.....} = 100 + 700$$

$$\text{.....} = 400 + 500$$

$$400 = \text{.....} + 200$$



أوجد ناتج الجمع ؟

أحاد	عشرات	مئات
3	1	3
5	4	2+

أحاد	عشرات	مئات
6	0	7
2+	5	1

املا الفراغات بالأعداد المناسبة ؟

$$\begin{array}{r} 5 \ 6 \ 1 \\ 3 \ 2 \ \square + \\ \hline 8 \ \square \ 8 \end{array}$$

$$\begin{array}{r} \square \ \square \ 0 \\ 3 \ 4 + \\ \hline 6 \ 7 \ \square \end{array}$$

$$\begin{array}{r} 4 \ 6 \ 2 \\ 5 \ 3 \ \square + \\ \hline 9 \ \square \ 9 \end{array}$$

$$\begin{array}{r} 3 \ 6 \ 2 \\ 5 \ 1 \ \square + \\ \hline 8 \ \square \ 2 \end{array}$$

$$\begin{array}{r} 3 \ 0 \ 2 \\ \square \ 8 \ 5 + \\ \hline 5 \ 8 \ 7 \end{array}$$

$$\begin{array}{r} \square \ 1 \ 5 \\ 1 \ \square \ \square + \\ \hline 2 \ 6 \ 9 \end{array}$$

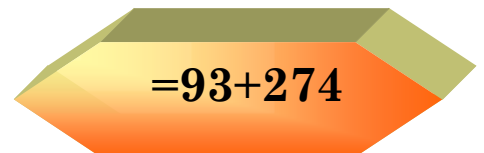
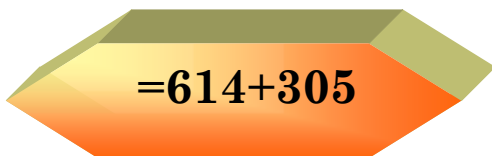
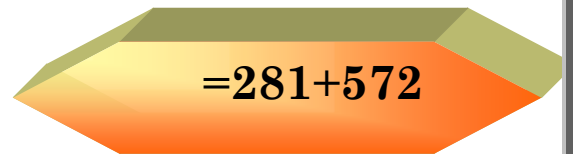
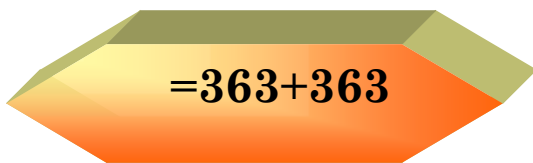






الرقم ()
الاسم

مدرسة الأمانى للتربية
روضة - أساسي

الصف : الثاني ()
التاريخ : / / 2018

تلفاكس : " 4394258 "
ورقة عمل (رياضيات) الجمع باعادة التجميع

إجمع ثم لون 🍏 التي تحوي الإجابة نفسها باللون نفسه



معلمة المادة: اميمة الاشهب

الرقم ()

مديرية التربية والتعليم
مدرسة الأمانى للتربية



الاسم.....

روضة - أساسي "

الصف : الثاني ()

تلفاكس : " 4394258 "

التاريخ : / / 2018

ورقة عمل (رياضيات) الجمع باعادة التجميع

جد ناتج الجمع فيما يلي ؟

أحاد	عشرات	مئات
6	7	4
7+	3	4

أحاد	عشرات	مئات
7	8	3
2+	4	5

2.رتب عموديا ثم اجمع؟

166+557

.....
..... +

.....

75+98

.....
..... +

.....

204+607

.....
..... +

.....

136+594

.....
..... +

.....

معلمة المادة: اميمة الاشهب



الرقم ()

الاسم.....

الصف : الثاني ()

التاريخ : / / 2018

جد ناتج الجمع فيما يلي ؟

5 8 3

2 6 9 +

.....

6 4 7

1 6 3 +

.....

3 9 8

2 6 3 +

.....

7 5 3

1 6 3 +

.....

2 4 3

2 6 8 +

.....

4 5 5

3 9 7 +

.....

4 6 6

6 3 +

.....

6 5 3

2 6 9 +

.....

6 9 7

2 1 3 +

.....

6 5 3

2 6 3 +

.....

4 4 5

4 6 6 +

.....

6 0 8

2 0 3 +

.....

معلمة المادة: اميمة الاشهب

الاسم.....

الصف : الثاني ()

التاريخ : / / 2018



ف

370
341 +
.....

ظ

692
174 +
.....

ي

102
408 +
.....

ل

76
67 +
.....

ع

185
49 +
.....

ع

228
398 +
.....

م


274
204 +
.....

510 143 626 866 711 700 962 306

234 700 478 143 700

معلمة المادة: اميمة الاشهب

الرقم ()
الاسم.....
الصف : الثاني ()
التاريخ : 2018/ /




الطرح

مديرية التربية والتعليم الخاص
مدرسة الأمانى التربوي
روضة - أساسي

تلفاكس : " 4394258 "
ورقة عمل (رياضيات)

اكمل ما يلي ؟



..... مئات = مئات مئات

..... = -

🔊 أوجد ناتج الطرح فيما يلي ؟

مئات	عشرات	أحاد
6	0	0
6	0	0-

مئات	عشرات	أحاد
7	0	0
3	0	0-

🔊 املأ الفراغات بالأعداد المناسبة ؟

$$\dots = 400 - 400$$


$$\dots = 800 - 900$$

$$300 = 300 - \dots$$

$$200 = \dots - 500$$

معلمة المادة: اميمة الاشهب

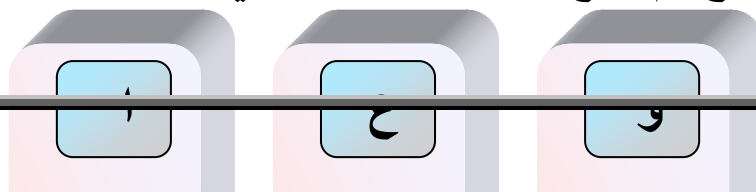
الرقم ()
الاسم.....
الصف : الثاني ()
التاريخ : 2018/ 9 /



مديرية التربية والتعليم الخاص
مدرسة الأمل التبريد
روضة - أساسي

تلفاكس : " 4394258 "
ورقة عمل (رياضيات) الطرح

1. أوجد ناتج الطرح، ثم ضع الحرف المناسب في الجدول، وإقرأ الجملة :



أ

$$\begin{array}{r} 888 \\ -458 \\ \hline \end{array}$$

.....

ط

$$\begin{array}{r} 219 \\ -17 \\ \hline \end{array}$$

.....

ل

$$\begin{array}{r} 635 \\ -300 \\ \hline \end{array}$$

.....

د

$$\begin{array}{r} 357 \\ -332 \\ \hline \end{array}$$

.....

ي

$$\begin{array}{r} 467 \\ -231 \\ \hline \end{array}$$

.....

23	25	33	84	52

63	23	20	43

2. ضع العدد المناسب في :

$$\begin{array}{r} 3 \quad 3 \\ 5 \quad \square \quad \square - \\ \hline 1 \end{array}$$


$$\begin{array}{r} 9 \quad 6 \quad 2 \\ 5 \quad 3 \quad \square - \\ \hline 4 \quad \square \quad 1 \end{array}$$

$$\begin{array}{r} 7 \quad \square \quad 9 \\ 5 \quad 7 \quad \square - \\ \hline 2 \quad 1 \quad 6 \end{array}$$

$$\begin{array}{r} 6 \quad 8 \quad 7 \\ 5 \quad 3 \quad \square - \\ \hline 1 \quad \square \quad 5 \end{array}$$

معلمة المادة: اميمة الاشهب

الرقم ()
الاسم.....
الصف : الثاني ()
التاريخ : 2018/ /



مديرية التربية والتعليم الخاص
مدرسة الأماني للتربية
روضة - أساسي

تلفاكس : " 4394258 "
ورقة عمل (رياضيات) الطرح باعادة التجميع

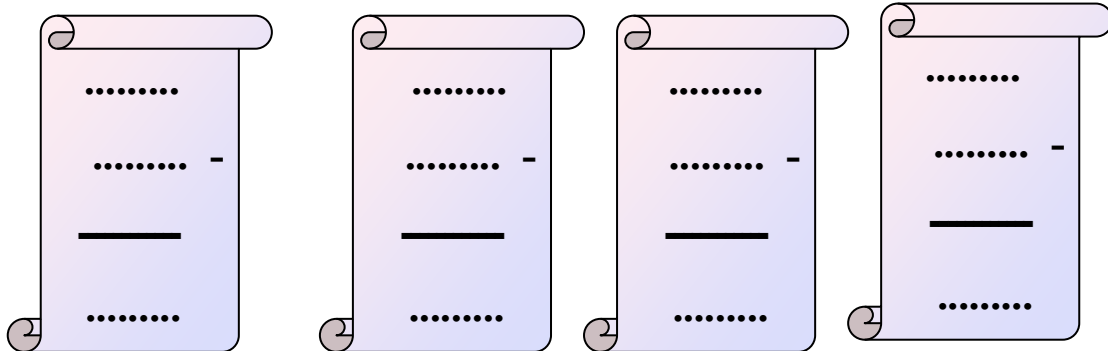
رتب عموديا ثم ا طرح؟

-394

538-746

207-925

137-574

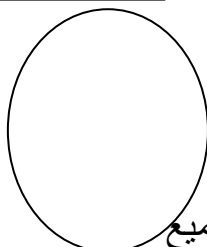


□ اطرح أولا ثم لون بالأحمر الورقة التي ناتج الطرح فيها يساوي 453؟

511 - 58	381 - 287	586 - 133	673 - 281	506 - 110	
998 - 99	862 - 264	715 - 262	409 - 256	900 - 314	860 - 407

معلمة المادة: اميمة الاشهب

الرقم ()
الاسم.....
الصف : الثاني ()
التاريخ : / / 2018



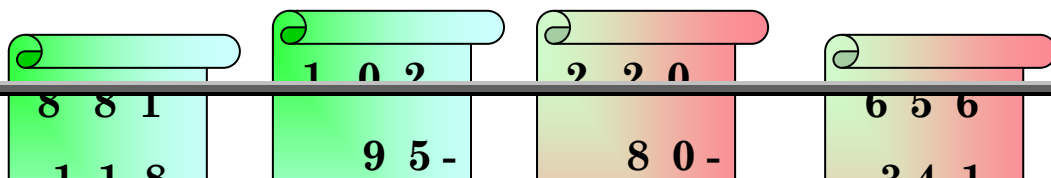
مديرية التربية والتعليم الخاص
مدرسة الأمانى التبريد
روضة - أساسي

تلفاكس : " 4394258 "

ورقة عمل (رياضيات)

الطرح باعادة التجميع


△ أوجد ناتج الطرح فيما يلي ؟



$\begin{array}{r} 647 \\ 163- \\ \hline \end{array}$	$\begin{array}{r} 903 \\ 144- \\ \hline \end{array}$	$\begin{array}{r} 525 \\ 77- \\ \hline \end{array}$	$\begin{array}{r} 982 \\ 858- \\ \hline \end{array}$
$\begin{array}{r} 338 \\ 263- \\ \hline \end{array}$	$\begin{array}{r} 600 \\ 300- \\ \hline \end{array}$	$\begin{array}{r} 697 \\ 213- \\ \hline \end{array}$	$\begin{array}{r} 608 \\ 209- \\ \hline \end{array}$

معلمة المادة: اميمة الاشهب

الرقم ()
الاسم.....
الصف : الثاني ()
التاريخ : 2017/ 9 /



مديرية التربية والتعليم الخاص
مدرسة الأمانى التربوي
روضة - أساسي

تلفاكس : " 4394258 "
ورقة عمل (رياضيات) الجمع والطرح

Δ بالإستعانة بعمليات الجمع التالية ، املأ الفراغات بالأعداد المناسبة ؟

$$\begin{array}{r} 257 \\ 108+ \\ \hline 365 \end{array}$$


$$\begin{array}{r} 257 \\ 149+ \\ \hline 406 \end{array}$$

$$\begin{array}{r} 108 \\ 149+ \\ \hline 257 \end{array}$$

$$149 = \dots - 257$$

$$\dots = 149 - 406$$


$$257 = 108 - \dots$$



معلمة المادة: اميمة الاشهب

الرقم ()
الاسم.....

الصف : الثاني ()
التاريخ : / / 2018



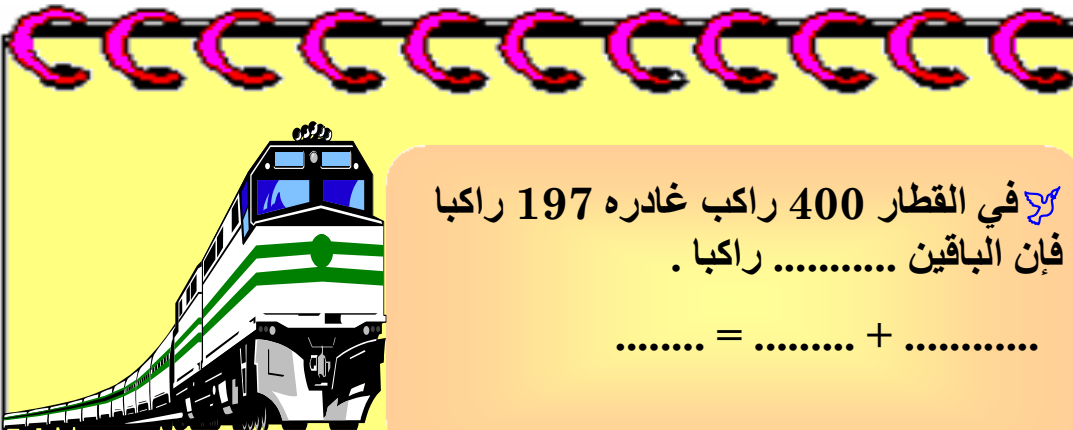
مديرية التربية والتعليم الخاص
مدرسة الأماني التربوي
روضة - أساسي "

تلفاكس : " 4394258 "

ورقة عمل (رياضيات)

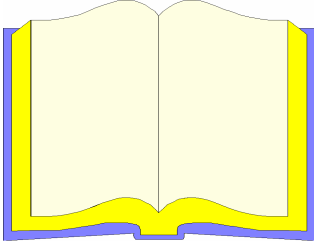
الجمع باعادة التجميع

Ⓟ أكمل الفراغات التالية ؟



في القطار 400 راكب غادره 197 راكبا
فإن الباقيين راكبا .

$$\dots = \dots + \dots$$



كتاب به 279 صفحة إذا قرأت 189 صفحة
فإن الباقي صفحة.

$$\dots\dots\dots = \dots\dots\dots + \dots\dots\dots$$

كتاب به 279 صفحة إذا قرأت 189 صفحة فإن الباقي صفحة.

$$\dots\dots\dots = \dots\dots\dots + \dots\dots\dots$$

6 9 7

2 1 3 -

.....

معلمة المادة: اميمة الاشهب

الرقم ()
الاسم.....

الصف : الثاني ()
التاريخ : 2018/ /




مديرية التربية والتعليم الخاص

مدرسة الأمانى للتربية
روضة - أساسي "

تلفاكس : " 4394258 "

ورقة عمل (رياضيات) الكسور

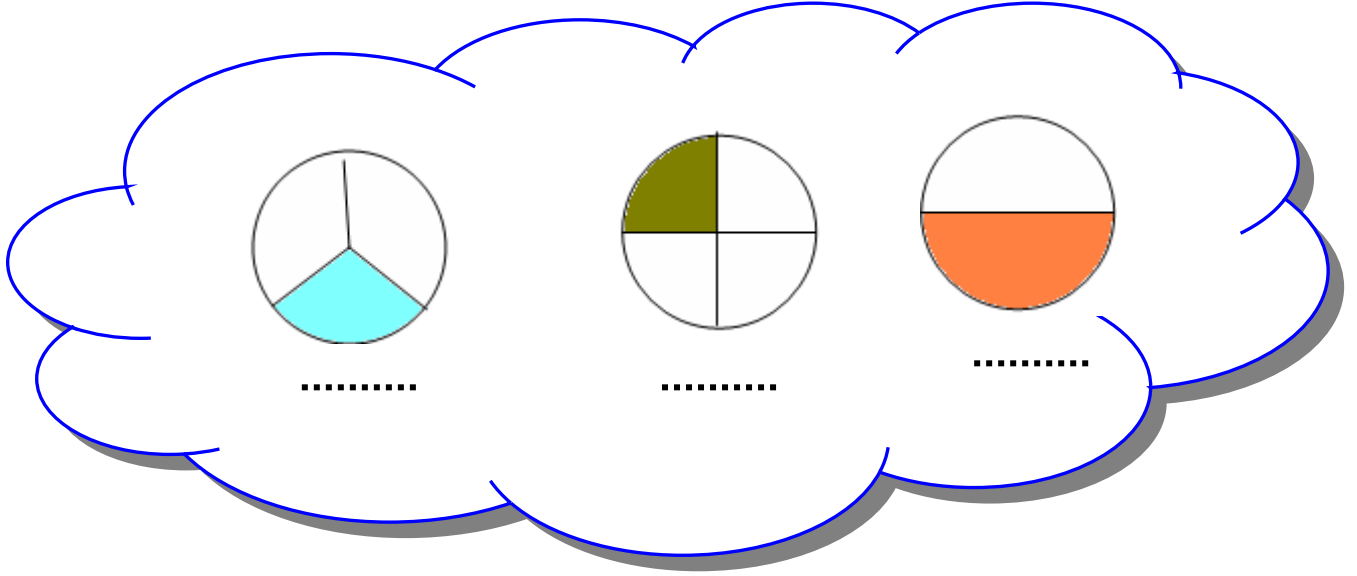


$\frac{1}{2}$

$\frac{1}{4}$

$\frac{1}{3}$

أكتب الكسر الذي يمثل الجزء الملون ؟



الرقم ()
الاسم

الصف : الثاني ()
التاريخ : 2018/ /



مديرية التربية والتعليم الخاص

مدرسة الأمانى للتربية
روضة - أساسي "

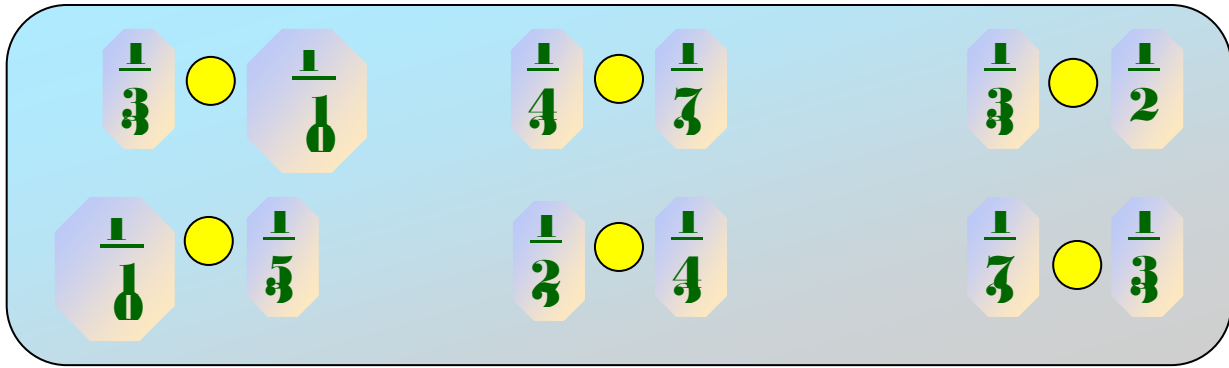
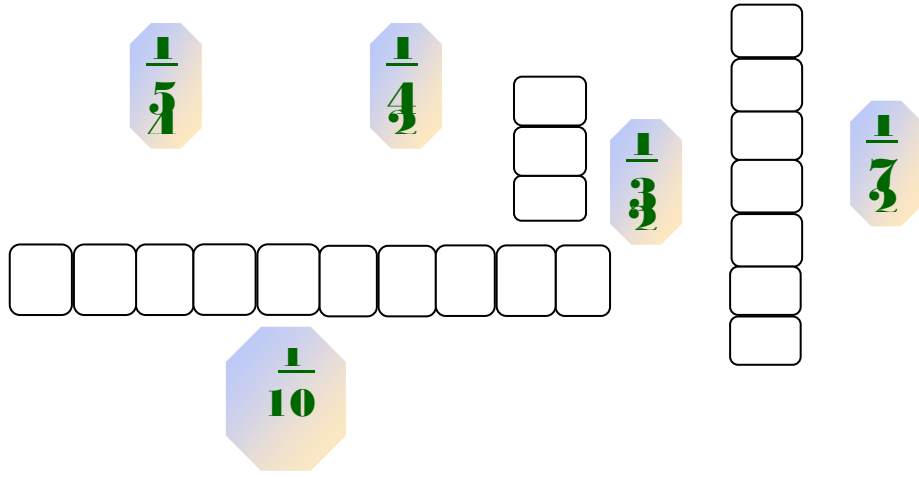
تلفاكس : " 4394258 "

ورقة عمل (رياضيات) الجمع باعادة التجميع



لون الجزء الذي يمثل الكسر المكتوب ، ثم قارن كل
كسرين بوضع الإشارة المناسبة (> ، <) في ؟

$\frac{1}{2}$



معلمة المادة: اميمة الاشهب

الرقم ()
الاسم

الصف : الثاني ()
التاريخ : 2018/ /



مديرية التربية والتعليم الخاص

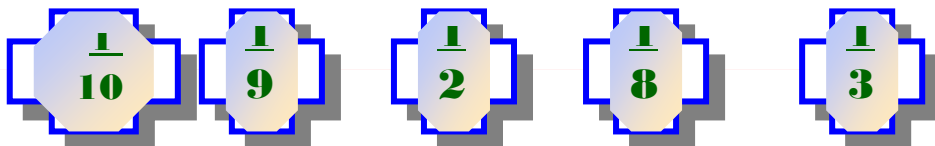
مدرسة الأماني للتربية
روضة - أساسي

تلفاكس : " 4394258 "

ورقة عمل (رياضيات) الكسور

صل بين الكسور رقما وكتابة

؟



تسع

عشر

ثمان

ثلث

نصف



رتب الكسور التالية من الأصغر إلى الأكبر؟

$\frac{1}{10}$

$\frac{1}{7}$

$\frac{1}{9}$

$\frac{1}{4}$

$\frac{1}{2}$

$\frac{1}{6}$

$\frac{1}{5}$


$\frac{1}{3}$

$\frac{1}{8}$

معلمة المادة: اميمة الاشهب

الرقم ()
الاسم

الصف : الثاني ()
التاريخ : / / 2018



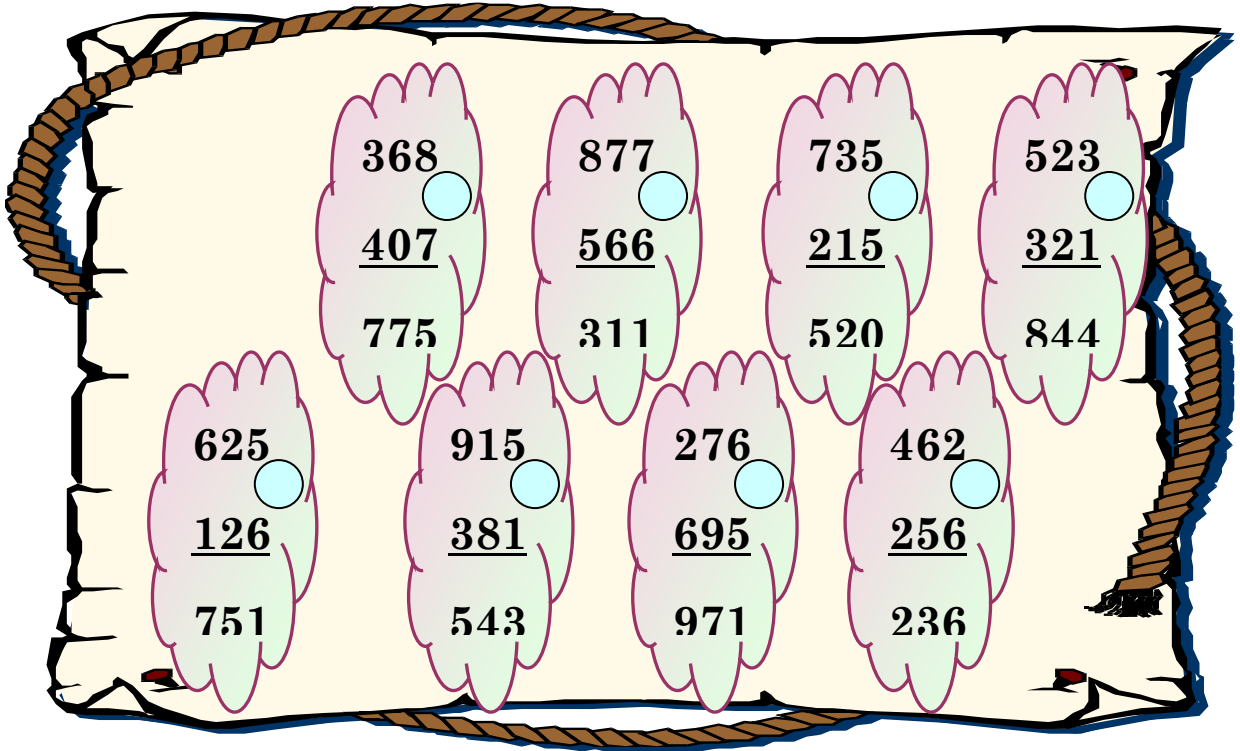
مديرية التربية والتعليم الخاص

مدرسة الأمل التربوي
روضة - أساسي


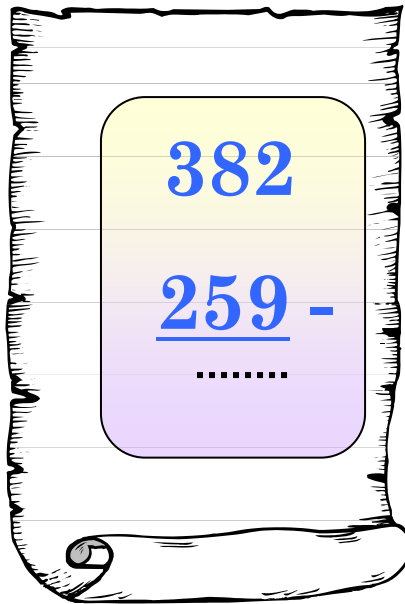
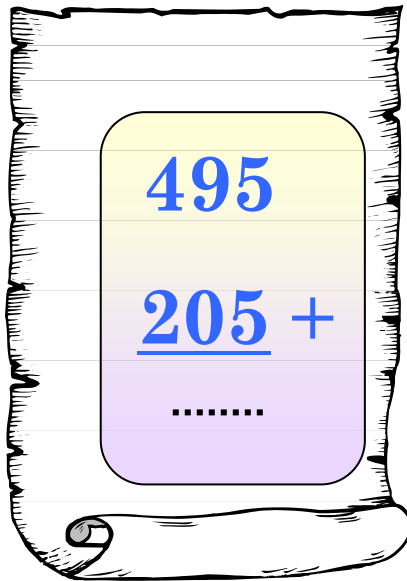
تلفاكس : " 4394258 "

ورقة عمل (رياضيات) الجمع باعادة التجميع

1] ضع رمز العملية المناسبة (+ أو -).




أوجد ناتج العمليات التالية.



معلمة المادة: اميمة الاشهب

الرقم ()
الاسم

الصف : الثاني ()
التاريخ : 2017/ 9 /



مديرية التربية والتعليم الخاص
مدرسة الأماني للتربية
روضة - أساسي

تلفاكس : " 4394258 "

ورقة عمل (رياضيات) الضرب

، ، ، ، 15 ، 10

، 20 ، 16 ، 12 ، ،

، ، 24 ، 21 ، ، 15

، ، ، ، 60 ، 50

ضع علامة (✓) علي يمين الأعداد التي تتزايد بالمقدار نفسه؟ ☐

20 ، 16 ، 12 ، 20 ، 16

☐

20 ، 16 ، 12 ، 20 ، 16 ، 12 ، 12

☐

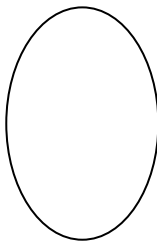
20 ، 16 ، 12 ، 20 ، 16

☐

معلمة المادة: اميمة الاشهب

الرقم ()
الاسم

الصف : الثاني ()
التاريخ : / / 2018



مديرية التربية والتعليم الخاص
مدرسة الأمل التبريد
روضة - أساسي

تلفاكس : " 4394258 "

ورقة عمل (رياضيات)

الجمع المتكرر والضرب

أكمل العد بكتابة العدد المناسب ؟

$$..... = 7 + 7 + 7 = \text{سبعات } 3$$

$$..... = + + + 5 = \text{خمسات } 4$$

$$..... = + 4 + + + = \text{أربعات } 5$$

$$..... = 0 + 0 + 0 + 0 + 0 + 0 = \text{أصفار } 6$$

صل بين عملية الجمع المكرر وعملية الضرب المساوية لها ؟

$$3 + 3 + 3 + 3 + 3 + 3 + 3$$

$$5 + 5 + 5 + 5$$

$$+ 7 + 7 + 7 + 7 + 7$$

$$7 \times 4$$

$$3 \times 7$$

$$3 \times 5$$

$$5 \times 5$$

$$7 \times 6$$

$$5 \times 4$$

$$7 + 7 + 7 + 7$$

$$3 + 3 + 3 + 3 + 3$$

$$5 + 5 + 5 + 5 + 5$$


معلمة المادة: اميمة الاشهب

الرقم ()

الاسم

الصف : الثاني ()

التاريخ : 2018/ /



مديرية التربية والتعليم الخاص

مدرسة الأمل التربوي


روضة - أساسي "

تلفاكس : " 4394258 "


ورقة عمل (رياضيات)

الجمع المتكرر والضرب

أكتب عملية الضرب لكل مما يلي؟



$$\text{.....} = \text{.....} \times \text{.....} = \text{.....} \times \text{.....}$$



$$\text{.....} = \text{.....} \times \text{.....} = \text{.....} \times \text{.....}$$



$$\text{.....} = \text{.....} \times \text{.....} = \text{.....} \times \text{.....}$$

معلمة المادة: اميمة الاشهب


الرقم ()
الاسم.....

الصف : الثاني ()
التاريخ : 2018/ /




مديرية التربية والتعليم الخاص
مدرسة الأماني للتربية
روضة - أساسي

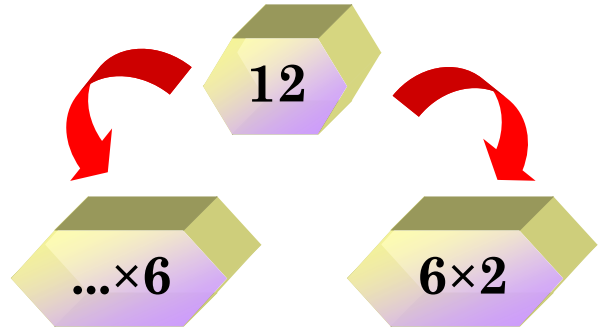
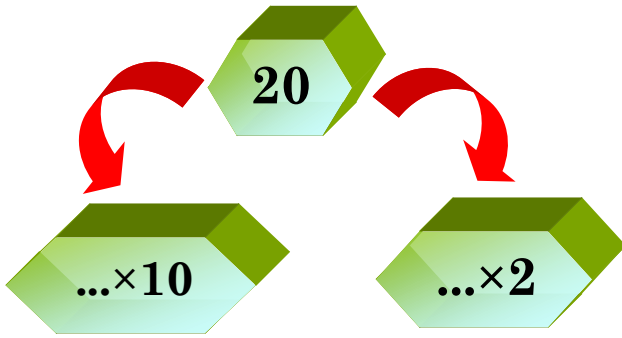
تلفاكس : " 4394258 "
ورقة عمل (رياضيات) الضرب



اختر العدد المناسب ، ثم أكتب في الفراغ ؟



املا الفراغات بالأعداد المناسبة ؟



معلمة المادة: اميمة الاشهب

الرقم ()
الاسم.....

الصف : الثاني ()
التاريخ : 2018/ /



مديرية التربية والتعليم الخاص
مدرسة الأماني التربوي
روضة - أساسي "

تلفاكس : " 4394258 "
ورقة عمل (رياضيات) الضرب

أكتب حاصل الضرب ؟

$$\begin{array}{r} 10 \\ 5 \times \\ \hline \end{array}$$

$$\begin{array}{r} 6 \\ 5 \times \\ \hline \end{array}$$

$$\boxed{\dots} = 5 \times 3$$

$$\boxed{\dots} = 5 \times 5$$

$$\begin{array}{r} 8 \\ 5 \times \\ \hline \end{array}$$

$$\begin{array}{r} 2 \\ 5 \times \\ \hline \end{array}$$

$$\boxed{\dots} = 7 \times 5$$

$$\boxed{\dots} = 9 \times 5$$

$$\begin{array}{r} 4 \\ 5 \times \\ \hline \end{array}$$

$$\begin{array}{r} 3 \\ 5 \times \\ \hline \end{array}$$

$$\boxed{\dots} = 4 \times 5$$

$$\boxed{\dots} = 8 \times 5$$

$$\boxed{\dots} = 2 \times 5$$

كتب حاصل الضرب ؟

✳ في الأسبوع 7 أيام ، كم يوماً في عشرة أسابيع ؟
 يوماً = =

معلمة المادة: اميمة الاشهب

الرقم ()
 الاسم

الصف : الثاني ()
 التاريخ : 2018/ /



مديرية التربية والتعليم الخاص
 مدرسة الأمل التربوي
 روضة - أساسي

تلفاكس : " 4394258 "

ورقة عمل (رياضيات) الضرب

ضع رمز العملية المناسب (+ ، × ، -) ؟

$20=4 \dots 5$

$9=4 \dots 5$

$32=5 \dots 27$

$10=2 \dots 5$

$6=3 \dots 2$

$\dots 48$

$90=9 \dots 10$

$27=2 \dots 29$

ضع رمز العملية المناسب (= , > , <) ؟

$3 \times 10 \dots 9 \times 5$

$5 \times 6 \dots 5 \times 5$

$8 \times 2 \dots 2 \times 8$

$4 \times 10 \dots 8 \times 5$

$7 \times 5 \dots 7 \times 2$

معلمة المادة: اميمة الاشهب

الرقم ()
الاسم.....

الصف : الثاني ()
التاريخ : 2018/ /



مديرية التربية والتعليم الخاص
مدرسة الاماني التربوي
روضة - أساسي

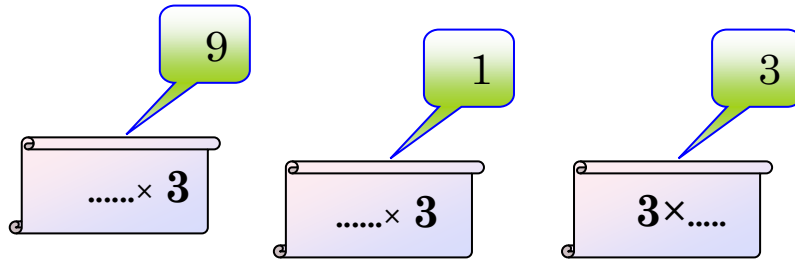
تلفاكس : " 4394258 "
ورقة عمل (رياضيات) الضرب

املا الفراغات بالعدد المناسب ؟

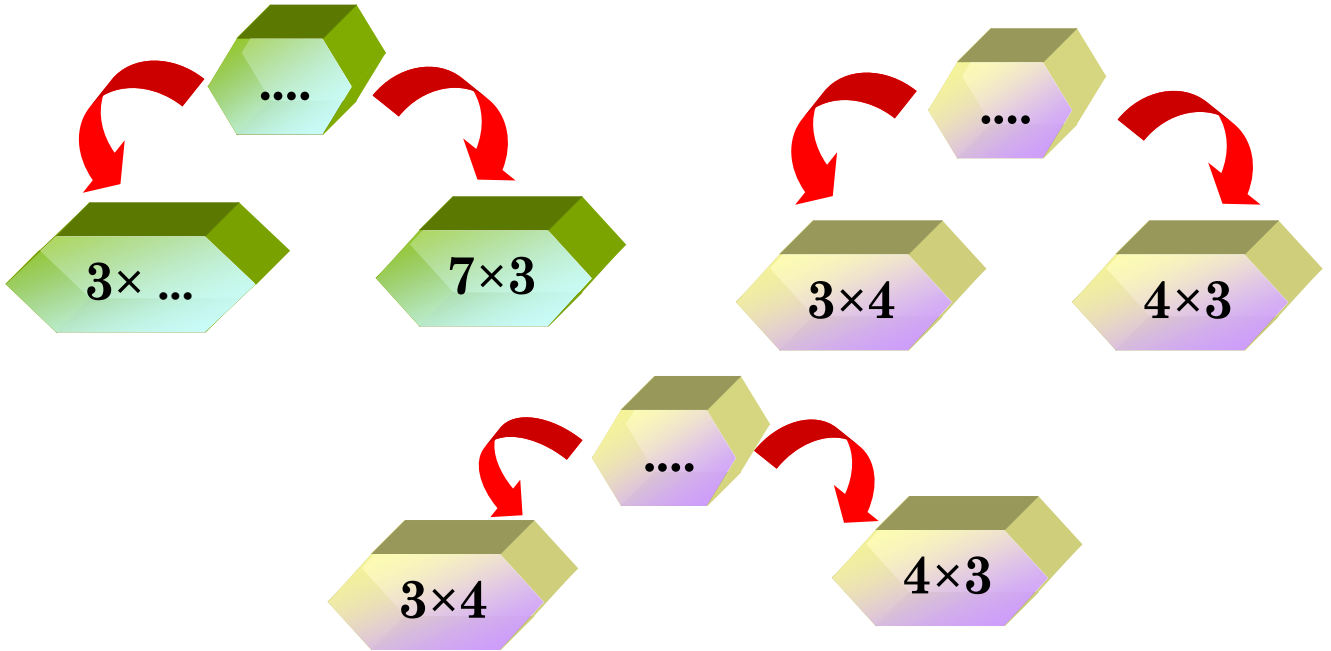
2

2

6



□ املأ الفراغات بالعدد المناسب ؟



معلمة المادة: اميمة الاشهب

الرقم ()

الاسم.....

الصف : الثاني ()

التاريخ : / / 2018



مديرية التربية والتعليم الخاص

مدرسة الأماني للتربية
روضة - أساسي

تلفاكس : " 4394258 "

ورقة عمل (رياضيات) الضرب

املا الفراغات بالعدد المناسب ؟

--	--	--	--	--

..... $\times 3$
6 \times
..... $\times 8$
4 \times

24

4 \times
..... $\times 6$
3 \times
..... $\times 2$

12

املا الفراغات بالعدد المناسب ؟

			8	\times
8		16		4

10			8	\times
	21	15		3

معلمة المادة: اميمة الاشهب

الرقم ()

الاسم.....

الصف : الثاني ()

التاريخ : 2018/ /



مديرية التربية والتعليم الخاص

مدرسة الأمل التربوي
روضة - أساسي

تلفاكس : " 4394258 "

ورقة عمل (رياضيات) الضرب

املا الفراغات بالعدد المناسب ؟



$0 = \dots \times 5$

$7 = \dots \times 7$

$6 = \dots \times 6$

$0 = \dots \times 9$

$4 = 4 \times \dots$

$0 = \dots \times 8$

$0 = 3 \times \dots$

$7 = \dots \times 7$

$7 = \dots \times 7$

$0 = 1 \times \dots$

$4 = 1 \times \dots$

$20 = \dots \times 5$

$10 = 2 \times \dots$

$32 = \dots \times 8$

معلمة المادة: اميمة الاشهب

الاسم:

الصف : الثاني ()
التاريخ : / / 2018




مدرسة الامامي التريويد
روضة - أساسي "

تلفاكس : " 4394258 "

ورقة عمل (رياضيات) الضرب



اختر العدد المناسب ، ثم اكتب في



 $= 9 \times 5$


 $= 2 \times 10$

 $= 5 \times 10$


 $= 4 \times 7$

 $= 6 \times 2$

 $= 10 \times 1$

 $= 8 \times 3$

 $= 5 \times 4$



□ املأ الفراغات بكتابة عددين حاصل ضربهما العدد المعطى؟

$16 = \dots \times \dots$

$30 = \dots \times \dots$

$24 = \dots \times \dots$

$36 = \dots \times \dots$

معلمة المادة: اميمة الاشهب

الرقم ()
الاسم

الصف : الثاني ()
التاريخ : / / 2018



مديرية التربية والتعليم الخاص

مدرسة الأمل التربوي
روضة - أساسي "

تلفاكس : " 4394258 "


ورقة عمل (رياضيات) الضرب

ضع دائرة حول الاجابة الصحيحة



لاري كل علبة 10 قطع حلوى ، كم قطعة
في 4 علب؟

$4-10$ ، $10+4$ ، 10×4 ، 4×1



لا تستهلك أسرة صغيرة 5 أرغفة خبز في
اليوم، كم رغيفا يلزمها في الأسبوع؟

$$7 \times 1, 5 - 7, 7 \times 5, 7 + 5$$

لا يدرس محمد 3 ساعات يوميا ، كم ساعة يدرس في 4 أيام ؟

$$\dots\dots\dots = \dots\dots\dots$$

معلمة المادة: اميمة الاشهب

الرقم ()
الاسم.....

الصف : الثاني ()
التاريخ : 2018/ /

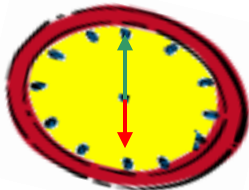


مديرية التربية والتعليم الخاص

مدرسة الأمانى للتربية
روضة - أساسي

تلفاكس : " 4394258 "

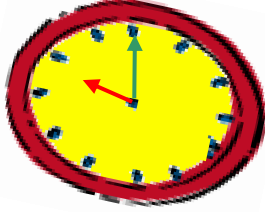
ورقة عمل (رياضيات) الوقت



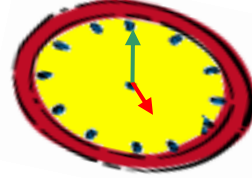
الساعة



الساعة



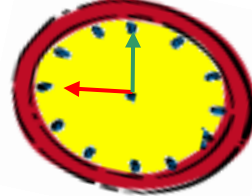
الساعة



الساعة



الساعة



الساعة

معلمة المادة: اميمة الاشهب

الرقم ()
الاسم

الصف : الثاني ()
التاريخ : / / 2018



مديرية التربية والتعليم الخاص

مدرسة الأمل التربوي
روضة - أساسي

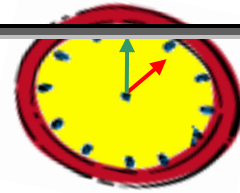
تلفاكس : " 4394258 "

ورقة عمل (رياضيات) الوقت



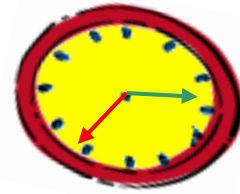
الساعة

ينتهي اليوم الدراسي الساعة



الساعة

تقام صلاة المغرب في الحرم المكي
صيفا الساعة



الساعة

معلمة المادة: اميمة الاشهب

اكتب جملة الضرب ثم الناتج كما في المثال :

12

$4 \times 3 =$

3 مجموعات في كل منها 4 =

=

5 مجموعات في كل منها 3 =

=

4 مجموعات في كل منها 2 =

=

3 مجموعات في كل منها 5 =

=

4 مجموعات في كل منها 3 =

=

5 مجموعات في كل منها 2 =

=

3 مجموعات في كل منها 3 =

=

4 مجموعات في كل منها 1 =

=

3 مجموعات في كل منها 1 =

=

5 مجموعات في كل منها 5 =

=

4 مجموعات في كل منها 4 =

=

2 مجموعات في كل منها 5 =

=

2 مجموعات في كل منها 3 =

=

2 مجموعات في كل منها 2 =

=

2 مجموعات في كل منها 1 =

أضع العدد المناسب داخل المربع لتصبح العملية صحيحة

<input type="text"/>	$= 3 \times$	<input type="text"/>	$= 4 \times 3$	<input type="text"/>	$= 4 \times 5$
<input type="text"/>	$= 4 \times$	<input type="text"/>	$= 2 \times 5$	<input type="text"/>	$= 3 \times 4$
<input type="text"/>	$= 5 \times$	<input type="text"/>	$= 4 \times 4$	<input type="text"/>	$= 4 \times 2$
<input type="text"/>	$= 1 \times$	<input type="text"/>	$= 3 \times 3$	<input type="text"/>	$= 2 \times 3$
<input type="text"/>	$= 5 \times$	<input type="text"/>	$= 5 \times 3$	<input type="text"/>	$= 2 \times 2$

أضع العدد المناسب داخل المربع ليصبح الناتج صحيحا

<input type="text"/> 0 =	$\times 2$	1 <input type="text"/>	$\times 4$	12 = <input type="text"/>	$\times 3$
<input type="text"/> 0 =	$\times 3$	1 <input type="text"/>	$\times 5$	8 = <input type="text"/>	$\times 4$
<input type="text"/> 0 =	$\times 4$	8 <input type="text"/>	$\times 2$	6 = <input type="text"/>	$\times 3$
<input type="text"/> 5 =	$\times 3$	<input type="text"/>	$\times 2$	25 = <input type="text"/>	$\times 5$
<input type="text"/> 0 =	$\times 5$	2 <input type="text"/>	$\times 5$	12 = <input type="text"/>	$\times 4$

أضع العدد المناسب داخل المربع ليصبح الناتج صحيحا

8 <input type="text"/> 2 \times	12 = 4 <input type="text"/>	9 = 3 \times <input type="text"/>
15 <input type="text"/> 5 \times	10 = 5 <input type="text"/>	6 = 2 \times <input type="text"/>
16 <input type="text"/> 4 \times	15 = 3 <input type="text"/>	12 = 4 \times <input type="text"/>
25 <input type="text"/> 5 \times	20 = 4 <input type="text"/>	6 = 3 \times <input type="text"/>
4 <input type="text"/> 2 \times	5 = 1 <input type="text"/>	10 = 2 \times <input type="text"/>

مربي

لنتعاون للوصول بمستوى ولادكم لما نرغب
الصف

احمد مسلم

السؤال الأول: جد ناتج الجمع في كل مما يلي :

$$\begin{array}{r} 678 \\ 200+ \\ \hline \end{array}$$

$$\begin{array}{r} 529 \\ 12+ \\ \hline \end{array}$$

$$\begin{array}{r} 689 \\ 126+ \\ \hline \end{array}$$

$$\begin{array}{r} 265 \\ 664+ \\ \hline \end{array}$$

$$864 = 52 \square$$

$$587 = \square + 254$$

$$925 = 72 \square$$

$$486 = \square + 125$$

السؤال الأول: جد ناتج الجمع في كل مما يلي :

$$\begin{array}{r} 678 \\ 200+ \\ \hline \end{array}$$

$$\begin{array}{r} 529 \\ 12+ \\ \hline \end{array}$$

$$\begin{array}{r} 689 \\ 126+ \\ \hline \end{array}$$

$$\begin{array}{r} 265 \\ 664+ \\ \hline \end{array}$$

$$864 = 52 \square$$

$$587 = \square + 254$$

$$925 = 72 \square$$

$$486 = \square + 125$$

السؤال الأول: جد ناتج الجمع في كل مما يلي :

$$\begin{array}{r} 644 \\ 265 - \\ \hline \end{array}$$

$$\begin{array}{r} 520 \\ 32 - \\ \hline \end{array}$$

$$\begin{array}{r} 689 \\ 126 - \\ \hline \end{array}$$

$$\begin{array}{r} 965 \\ 404 - \\ \hline \end{array}$$

$$121 = 5 \square$$

$$241 = \square - 954$$

$$312 = 5 \square$$

$$486 = \square - 951$$

السؤال الأول: جد ناتج الجمع في كل مما يلي :

$$\begin{array}{r} 644 \\ 265 - \\ \hline \end{array}$$

$$\begin{array}{r} 520 \\ 32 - \\ \hline \end{array}$$

$$\begin{array}{r} 689 \\ 126 - \\ \hline \end{array}$$

$$\begin{array}{r} 965 \\ 404 - \\ \hline \end{array}$$

$$121 = 5 \square$$

$$241 = \square - 954$$

$$312 = 5 \square$$

$$486 = \square - 951$$