



مدرسة مصعب بن عمير
الاساسية

٢٠

الاسم:

الصف:

المادة:

رابع ابتدائي ()

رياضيات

٣ علامات

السؤال الأول : استخدم المسطرة لرسم الاتي :-

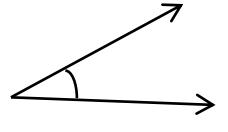
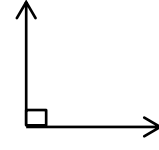
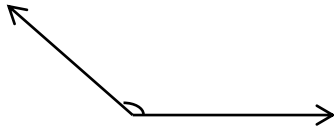
(١) الشعاع س ص ←

(٢) المستقيم أ ب ↔

(٣) القطعة المستقيمة ل م —

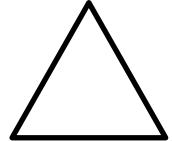
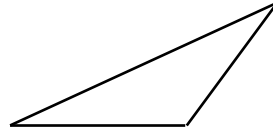
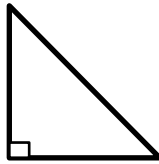
٤ علامات

السؤال الثاني : اكتب نوع الزاوية في كل مما يأتي :-



٣ علامات

السؤال الثالث : صنف المثلثات الاتية الى قائم الزاوية ، حاد الزوايا ، منفرج الزاوية :-




٣ علامات

السؤال الرابع : ما نوع الشكل الرباعي المجاور مع بيان السبب :-

اسم الشكل :

السبب :



اسم الشكل :

السبب :



٣ علامات

السؤال الخامس : اكتب نوع العلاقة (تطابق ، تشابه) ان كانت موجودة مع بيان السبب :-

نوع العلاقة :

السبب :




نوع العلاقة :

السبب :



نوع العلاقة :

السبب :



٤ علامات

السؤال السادس : حول الوحدات الاتية الى ما يساويها من الوحدات المقابلة لها :-

٤٠٠ ملم = دسم

٥ م = سم

٧٠٠٠ دسم = كم

٣ كم = م