



بسم الله الرحمن الرحيم  
مديرية التربية والتعليم لمنطقة قصبة اربد  
مدرسة تقبل الأساسية للبنين



الاختبار النهائي للصف الثامن للفصل الدراسي الثاني ٢٠١٧/٢٠١٨

اسم الطالب : ..... التاريخ : ٢٠١٨/ / مدة الامتحان : ساعة ونصف

يتكون هذا الامتحان من ثمانية أسئلة موزعة على أربعة أوراق ، أجب عن جميع الأسئلة

" ٨ علامات "

**السؤال الأول :** أوجد حلا لكل نظام مما يلي :

أ) بالحدف  $س + ص = ٥$

$س - ص = ٣$

ب) بالتعويض  $س + ص = ٥$

$٢س = ص + ١$

**السؤال الثاني :** أوجد المساحة الجانبية لاسطوانة طول قطر قاعدتها ٢٠ سم وارتفاعها ٢٠ سم . " ٥ علامات "

**السؤال الثالث :** يتكون السؤال التالي من سبعة فقرات لكل منها أربعة بدائل واحدة منها فقط صحيحة ضع دائرة حول رمز الإجابة الصحيحة :

" ٢١ علامة "

١. أحد النقاط التالية تعتبر حلاً للمعادلة ( ٢ ص - ٥ س = ١٠ ) هي :

- أ) ( ٥ ، ٤ )      ب) ( ٢ ، ٠ )      ج) ( ٢ - ، ٠ )      د) ( ٠ ، ٢ - )

٢. إحدى الأطوال التالية يمكن أن تكون أطوال أضلاع مثلث :

- أ) ( ٥ ، ٢ ، ٣ )      ب) ( ٤ ، ٤ ، ٤ )      ج) ( ١ ، ٩ ، ٨ )      د) ( ٣ ، ١ ، ١ )

٣. إحدى المعادلات التالية معادلة خطية بمتغيرين :

- أ) ( ٣ ص - ٢ س = ٥ )      ب) ( ٢ س + ٥ س = ١٥ )      ج) ( ٧ س - ٣ ل = ٩ )      د) ( ١ ص + ٣ س = ١٣ )

٤. كرة طول نصف قطرها ٢ سم فإن حجمها يساوي تقريباً :

- أ) ( ٣٣ سم<sup>٣</sup> )      ب) ( ١٧ سم<sup>٣</sup> )      ج) ( ٥٠ سم<sup>٣</sup> )      د) ( ١٠٠ سم<sup>٣</sup> )

٥. الشبكة التي لها قاعدتان دائريتان وبينهما مستطيل هي شبكة لـ :

- أ) ( هرم رباعي )      ب) ( مخروط قائم )      ج) ( منشور ثلاثي )      د) ( اسطوانة )

٦. التعريف الشامل للقطعة المتوسطة في المثلث :

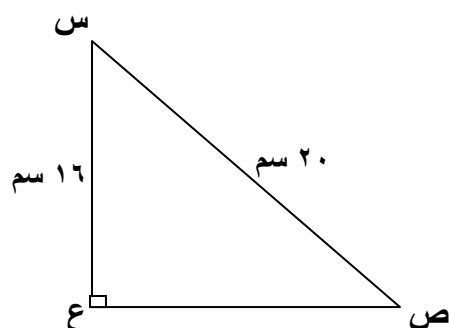
- أ) ( قطعة تصل بين منتصف ضلعين في المثلث )      ب) ( قطعة تصل رأس المثلث القائم بمنتصف الوتر )  
ج) ( قطعة تصل رأس الزاوية بمنتصف الضلع المقابل )      د) ( قطعة طولها يساوي نصف طول الوتر )

٧. النقطة التي تمثل حلاً للنظام ( س - ٢ ص = ٤ ) ، ( ٣ س + ص = ٥ ) هي :

- أ) ( ٤ ، ١ )      ب) ( ٢ - ، ١ )      ج) ( ٣ ، ٠ )      د) ( ٤ ، ٠ )

**السؤال الرابع :** في المثلث المجاور أوجد طول الضلع ص ع .

" ٥ علامات "



" ١٥ علامة "

### السؤال الخامس : أوجد حجوم المجسمات التالية :

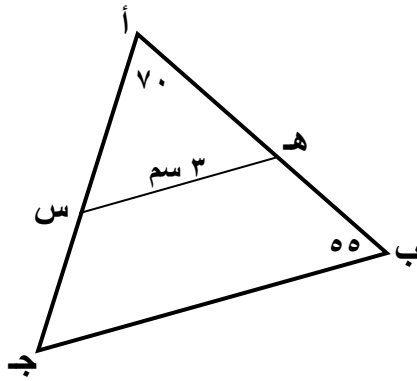
أ ) منشور ثلاثي مساحة قاعدته  $٣٠ \text{ سم}^2$  وارتفاعه  $١٣ \text{ سم}$  .

ب) مخروط قائم طول نصف قطر قاعدته  $١٥ \text{ سم}$  وارتفاعه  $٨ \text{ سم}$  .

ج) خزان على شكل اسطوانة دائرية طول نصف قطر قاعدته  $٢ \text{ م}$  وارتفاعه  $٣ \text{ م}$  .

السؤال السادس : في المثلث المجاور أ ب ج إذا كانت هـ منتصف الضلع أ ب وكانت س منتصف الضلع أ ج وكان طول هـ س =  $٣ \text{ سم}$  وقياس الزاوية أ =  $٧٠$  وقياس الزاوية ب =  $٥٥$  . أوجد ما يلي : " ٦ علامات "

أ ) طول الضلع ب ج . مع التبرير .



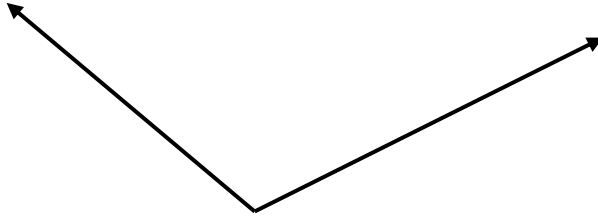
ب) قياس الزاوية ج . مع التبرير .

**السؤال السابع :** أجب عن الأسئلة التالية ب ( نعم ) أو ب ( لا ) حسب ما يناسبها : " ١٠ علامات "

- (أ) حل النظام هو إيجاد نقطة تحقق إحدى المعادلات فقط في النظام . ( ..... ) .
- (ب) طول القطعة المستقيمة الواصلة من رأس القائمة في المثلث القائم الزاوية إلى منتصف الوتر يساوي نصف طول الوتر . ( ..... ) .
- (ج) يمكن رسم زاوية قياسها ٥٤ دون استخدام المنقلة . ( ..... ) .
- (د) حجم الاسطوانة يساوي ثلث حجم المخروط الذي يشترك معها في القاعدة . ( ..... ) .
- (هـ) قياس الزاوية الخارجة في المثلث يساوي مجموع قياس أي زاويتين داخليتين . ( ..... ) .

**السؤال الثامن :** من خلال ما تعلمته في وحدة الإنشاءات الهندسية أجب عما يلي : " ١٠ علامات "

(أ) نصف الزاوية المجاورة دون معرفة قياسها .



(ب) من النقطة س في الشكل المجاور أنزل عامودا على المستقيم أ ب .

س .

\_\_\_\_\_

**مع تمنياتي لكم بالتوفيق والنجاح**

**أسامة العباس**