

ملاحظة: أجيب عن جميع الأسئلة الآتية علماً أن عددها ( 4 ) وعدد الصفحات ( 2 ) والإجابة على نفس الورقة

السؤال الأول: ضع دائرة حول رمز الإجابة الصحيحة: ( 10 علامات )

1- المواد التي لا تذوب في الماء هي:  
أ - ملح      ب - رمل      ج - حليب




2- تحتوي فقاعات الصابون على:  
أ - ماء      ب - صابون      ج - هواء

3- جميع الأجزاء الآتية من أجزاء البذرة ما عدا واحدة:  
أ - أزهار      ب - الجنين      ج - غلاف البذرة

4- من النباتات التي نأكل ثمارها:  
أ - الخس      ب - التفاح      ج - الملفوف

5- المواد التي يجذبها المغناطيس تكون مصنوعة من:  
أ - الحديد      ب - الخشب      ج - الألمنيوم

السؤال الثاني: ضع إشارة ( √ ) أسفل الصورة إلى تمثل حركة مستقيمة وإشارة ( × ) أسفل  
لصورة التي تمثل حركة غير مستقيمة ( 3 علامات )



السؤال الثالث : حدد مكان الشيء في الصورة باستخدام الكلمة المناسبة ( 7,5 علامة )  
( فوق ، تحت ، بجانب ، أمام ، خلف ):



1- الكرة \_\_\_\_\_ الطاولة



2- القطة \_\_\_\_\_ الطاولة

3- الكرسي \_\_\_\_\_ الطاولة

4- البنت تقف \_\_\_\_\_ أخيها

5- السجادة \_\_\_\_\_ الطاولة

السؤال الرابع: أصل بخط بين المغناطيس والأشياء التي يجذبها: ( 4,5 علامة )



انتهت الأسئلة