

٢٢- الكلمة التي تحتوي على حرف يُلفظ ولا يكتب:

- أ- شكروا ب- ذلك ج- رجل د- هو

٢٣- الكلمة التي كتبت كتابةً صحيحةً مما تحته خطٌ جاءت في جملة:

- أ- زما أحمد الكرة ب- مشا علي مسرعاً
ج- شوا سمير اللحم د- نما الزرع في الربيع



٢٤- العبارة التي تصف الصورة المجاورة:

- أ- الغب أنا وأصدقائي في الحديقة
ب- اتعاون أنا وأصدقائي في تنسيق الحديقة
ج- أقطف أنا وأصدقائي أزهار الحديقة
د- أراجع أنا وأصدقائي دروسنا في الحديقة

٢٥-	القطار سريع	ما أسرع القطار!
	السفينة كبيرة	ما أكبر السفينة!

العبارة المناسبة لملء الفراغ في الجدول:

- أ- ما أقرب السفينة ب- ما سافرت في السفينة
ج- ما أكبر السفينة د- ما الذي تخمله السفينة

انتهت الأسئلة

٧- التّصيحَةُ المُناسِبَةُ الّتي تُقدِّمُها لِلوَلَدِ في الصّورة:



أ- لا تُسْرِفُ في الماء

ب- اشرب الماء بالكوب

ج- اغسل الأطعمَة قبل الأكل

د- استخدِم الماء لِسَقَايَةِ الرِّزْعِ

٨- الكَلِمَةُ المُناسِبَةُ لِمَلءِ الفَرَاغِ في جُمْلَةٍ (دَهَبْتُ مَعَ أَبِي ... السُّوقِ):

أ- عَلَى ب- إِلَى ج- فِي د- عَنِ

٩- الكَلِمَةُ المُناسِبَةُ لِمَلءِ الفَرَاغِ في جُمْلَةٍ (... رِجَالُ المُسْتَقْبَلِ):

أ- أَنْتِ ب- أَنْتِ ج- أَنْتُمَا د- أَنْتُمْ

١٠- الكَلِمَةُ المُناسِبَةُ لِمَلءِ الفَرَاغِ في جُمْلَةٍ (هُم ... في السِّبَاقِ):

أ- اشْتَرَكَا ب- اشْتَرَكُوا ج- اشْتَرَكَ د- اشْتَرَكْتُ

١١- الكَلِمَةُ المُناسِبَةُ لِمَلءِ الفَرَاغِ في جُمْلَةٍ (يَأْتِي الرِّبْعُ ... الشِّتَاءِ):

أ- تَحْتَ ب- فَوْقَ ج- قَبْلَ د- بَعْدَ

١٢- الكَلِمَةُ المُناسِبَةُ لِمَلءِ الفَرَاغِ في جُمْلَةٍ (شَكَرْتُ ... الّتي عَالَجَتْنِي):

أ- الطَّبِيبَةُ ب- الطَّبِيبُ ج- الأَطْبَاءُ د- الطَّبِيبَتَيْنِ

١٣- الكَلِمَةُ المُناسِبَةُ لِمَلءِ الفَرَاغِ في جُمْلَةٍ (أَصْبَحْتُ السَّاحَةَ ...):

أ- فَاَرِغَةً ب- فَاَرِغَةٍ ج- فَاَرِغَةً د- فَاَرِغَةً

١٤- الكَلِمَةُ المُناسِبَةُ لِمَلءِ الفَرَاغِ في جُمْلَةٍ (لا ... عَمَلِ اليَوْمِ إِلَى الغَدِ):

أ- تَوَعَّجَلْ ب- تَتَجَلَّ ج- تَأَجَّلْ د- تُؤَجِّلْ

١٥- اَلْكَلِمَةُ الْمُنَاسِبَةُ لِمَلءِ الْفَرَاغِ فِي جُمْلَةٍ (إِنَّ هَذِهِ ...):

- أ- مُجْتَهِدٌ ب- مُجْتَهِدَاتٌ ج- مُجْتَهِدَتَانِ د- مُجْتَهِدَةٌ

١٦- اَلْكِتَابَةُ الصَّحِيحَةُ لِلْكَلِمَةِ الْمُنَاسِبَةِ لِمَلءِ الْفَرَاغِ فِي جُمْلَةٍ (.. اَلْحَافِلَةُ مَاهِرٌ فِي اَلْقِيَادَةِ):

- أ- سَائِقٌ ب- سَائِقٌ ج- سَائِقٌ د- سَائِقٌ

١٧- اَلْكِتَابَةُ الصَّحِيحَةُ لِلْكَلِمَةِ الَّتِي تَدُلُّ عَلَيْهَا الصُّورَةُ:



- أ- مِدْقَاءٌ
ب- مِدْقَنَةٌ
ج- مِدْقَاءٌ
د- مِدْقَاءٌ

١٨- اَلْكِتَابَةُ الصَّحِيحَةُ لِلْكَلِمَةِ الْمُنَاسِبَةِ لِمَلءِ الْفَرَاغِ فِي جُمْلَةٍ (اَعْتَذَرْتُ لِصَدِيقَتِي

وَقُلْتُ لَهَا: أَنَا ...):

- أ- أَسِيفَةٌ ب- أَسِيفَةٌ ج- عَاسِيفَةٌ د- أَسِيفَةٌ

١٩- اَلْكِتَابَةُ الصَّحِيحَةُ لِلْكَلِمَةِ الْمُنَاسِبَةِ لِمَلءِ الْفَرَاغِ فِي جُمْلَةٍ (قَرَأْتُ لَيْلَى ... عَنِ ابْنِ بَطْوَيْطَةِ):

- أ- كِتَابٌ ب- كِتَابًا ج- كِتَابَيْنِ د- كِتَابَيْنِ

٢٠- اَلسُّؤَالُ الْمُنَاسِبُ لِجُمْلَةٍ (عَادَ سَعْدٌ مَسَاءً):

- أ- لِمَاذَا عَادَ سَعْدٌ؟ ب- أَيْنَ عَادَ سَعْدٌ؟
ج- مَتَى عَادَ سَعْدٌ؟ د- كَيْفَ عَادَ سَعْدٌ؟

٢١- اَلجُمْلَةُ الصَّحِيحَةُ فِي مَا يَأْتِي:

- أ- اَلْمُزَارِعُ يَغْتَنِي بِأَرْضِهِ اَلنَّشِيطُ ب- بِأَرْضِهِ اَلنَّشِيطُ يَغْتَنِي اَلْمُزَارِعُ
ج- يَغْتَنِي اَلْمُزَارِعُ اَلنَّشِيطُ بِأَرْضِهِ د- اَلنَّشِيطُ اَلْمُزَارِعُ بِأَرْضِهِ يَغْتَنِي



إدارة الامتحانات والاختبارات

مديرية الاختبارات

الاختبار التقييمي للصف الثالث الأساسي للعام ٢٠١٩/٢٠١٨

(وثيقة محمية / محدودة)

المبحث: الرياضيات رمز المبحث: (٣٢). زمن الاختبار: ساعة واحدة


(١) يُكتب العدد (أربعة آلاف وثلاثمائة وأثنان وخمسون) بالأرقام كما يأتي:

(أ) ٤٣٠٠٥٢ (ب) ٤٣٢٥ (جـ) ٤٣٥٢ (د) ٤٣٠٢٥

(٢) العدد الممثل بالطريقة التحليلية $٧ + ٢٠ + ٨٠٠ + ٤٠٠٠$ هو:

(أ) ٤٨٧٢ (ب) ٨٢٠٧ (جـ) ٤٨٢٧ (د) ٤٨٢٠

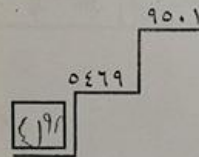
(٣) العدد المناسب في على خط الأعداد الآتي هو:



(أ) ٧٧٣٠ (ب) ٧٧٨٠ (جـ) ٧٧٩٠ (د) ٧٧٧٠

(٤) العدد في الذي يجعل الأعداد في الشكل المجاور

مرتبة ترتيباً تصاعدياً هو:



(أ) ٦٩١٠ (ب) ٨٤٩٦ (جـ) ٧٣٠١ (د) ٤١٩٨

(٥) تقريب العدد ٨٣٦٧ لأقرب مئة يساوي:

(أ) ٨٤٠٠ (ب) ٨٣٠٠ (جـ) ٨٣٦٠ (د) ٨٠٠٠



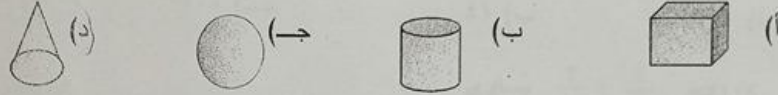
٢٠) يُشيرُ الوقتُ في السَّاعةِ المُجاوِرةِ إلى السَّاعةِ:

- (أ) الرَّابِعةِ
(ب) الرَّابِعةِ والنَّصْفِ
(ج) الثَّلاثَةِ والنَّصْفِ
(د) الثَّلاثَةِ

٢١) الوَحْدَةُ الْمُنَاسِبَةُ لِقِيَاسِ سَعَةِ خَزَانِ مَاءٍ هِيَ:

- (أ) كِغَم
(ب) غَم
(ج) لِتر
(د) م

٢٢) أَيُ الْمَجَسَّماتِ الْآتِيَةِ لَهُ رَأْسٌ وَاحِدٌ فَقَطْ ؟



٢٣) يُسَمَّى الْمَجَسَّمُ فِي الشَّكْلِ الْمُجاوِرِ:



- (أ) أُسْطُوَانَةٌ
(ب) مَخْرُوطٌ
(ج) مَكْعَبٌ
(د) كُرَةٌ

نوع الفاكهة	الإشارات
الموز	### /
التفاح	### //
البرتقال	### ///

٢٤) الْجَدْوَلُ الْمُجاوِرُ يَبَيِّنُ نَوْعَ الْفَاكِهَةِ الَّتِي يُفَضِّلُهَا طَلَبَةُ الصَّفِّ الثَّالِثِ، مَا عَدَدُ الطَّلَبَةِ الَّذِينَ يُفَضِّلُونَ التَّفَاحَ؟

- (أ) ١١
(ب) ٧
(ج) ٨
(د) ٦

٢٥) الشَّكْلُ الْمُجاوِرُ يُمَثِّلُ الْأَلْعَابَ الَّتِي يُفَضِّلُهَا طَلَبَةُ

الصَّفِّ الثَّالِثِ فِي إِحْدَى الْمَدَارِسِ، مَا اللَّعْبَةُ الَّتِي يُفَضِّلُهَا

أَكْبَرُ عَدَدٍ مِنَ الطَّلَبَةِ؟

- (أ) كُرَةُ الْقَدَمِ
(ب) كُرَةُ السَّلَةِ
(ج) كُرَةُ الطَّائِرَةِ
(د) التَّنْسُ



انتهت الأسئلة

٦) العدد المناسب في لتصبح الجملة: $5 \times 6 = 5 \div \text{}$ صحيحة هو:

- (أ) ١٠ (ب) ٣٥ (ج) ٣٠ (د) ١١

٧) ناتج $3467 + 2827$ يساوي:

- (أ) ١٢٥٣ (ب) ٦٢٩٤ (ج) ١٤٤٠ (د) ٥٢٦٧

٨) صندوق تفاح فيه ٢٠ تفاحة، كم تفاحة في ٧ صناديق؟

- (أ) ١٤٠ (ب) ٤١ (ج) ١٤٠٠ (د) ١٤

٩) ناتج $\frac{2}{5} + \frac{1}{5}$ يساوي:

- (أ) $\frac{3}{10}$ (ب) $\frac{1}{10}$ (ج) $\frac{3}{5}$ (د) $\frac{2}{5}$

١٠) العدد المناسب في لتصبح الجملة: $3 \div 27 = 3 \div \text{}$ صحيحة هو:

- (أ) ٣٠ (ب) ٩ (ج) ٦ (د) ٢

١١) ناتج الطرح

$$\begin{array}{r} 7 \quad 3 \quad 2 \quad 6 \\ 6 \quad 4 \quad 5 \quad 5 \\ \hline \end{array}$$


يساوي:

- (أ) ١٧٧١ (ب) ٨٧١ (ج) ١٨٧ (د) ١٥٢٦

١٢) مع أحمد دينار، أعطى أخاه ربع دينار، وأعطى أخته نصف دينار، كم بقي مع أحمد؟

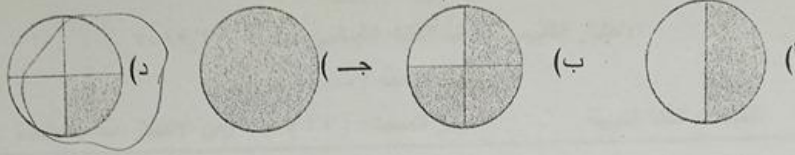
- (أ) نصف دينار (ب) ربع دينار (ج) ٧٥ قرشاً (د) ٢٠ قرشاً

١٣) في الشكل المجاور، ما الكسر الذي يمثل عدد التفاحات؟



- (أ) $\frac{5}{8}$ (ب) $\frac{3}{8}$ (ج) $\frac{8}{5}$ (د) $\frac{8}{3}$

(١٤) الجزء المظلل الذي يمثل الكسر $\frac{1}{4}$ في الأشكال الآتية هو:



(١٥) الْعَدَدُ الْمُنَاسِبُ فِي هُوَ:

053.	0570	052.	0510	051.
------	------	------	------	------

(أ) ٥٤٣٠ (ب) ٥٤٢١ (ج) ٥٤٢٥ (د) ٥٥٢٥

(١٦) اشترت مريم ٦ قطع من الحلوى بثمان ٤٨ قرشاً، ما ثمن قطعة الحلوى الواحدة ؟

٦ (أ) ٧ (ب) ٨ (ج) ٩ (د)

(١٧) الشَّكْلُ الَّذِي يُكْمِلُ النَّمْطَ:  هو :

(أ) (ب) (ج) (د)

(١٨) الْعَمَلِيَّةُ الْمُنَاسِبَةُ فِي لِتَكُونَ الْجُمْلَةُ: ٣٦ ٩ = ٤ صَحِيحَةٌ هِيَ:

$$\div (أ) \quad \times (ج) \quad - (ب) \quad + (د)$$

(١٩) الْوَحْدَةُ الْمُنَاسِبَةُ لِقِيَاسِ طُولِ بَابِ الْغُرْفَةِ هِيَ:

(ا) م (ب) کم (ج) غم (د) کغم





مركز يوسف السباحة

إدارة الامتحانات والاختبارات

مديرية الاختبارات

الاختبار التقييمي للصف الثالث الأساسي للعام ٢٠١٨/٢٠١٩

(وثيقة محمية / محدودة)

المبحث: اللغة العربية رمز المبحث: (٣١) زمن الاختبار: ساعة واحدة

اقرأ النص الآتي، ثم أجب عن الأسئلة التي تليها:

إنَّ الجسمَ يحتاج إلى عناصر غذائية كثيرة، وكلُّ نوعٍ من الطعام له فوائده، وعلينا أن نحرص على تناول الغذاء المتوازن؛ لأنَّه يحتوي على المواد التي تبني الجسم، وتمدّه بالطاقة اللازمة ... وتحميه من الأمراض، والطعام المتنوع ضروري لصحة الجسم.

١- معنى (تمدّ) في عبارة (وتمدّه بالطاقة اللازمة):

- أ- تزود ب- تحمي ج- تطيل د- تعيد

٢- الطعام المتنوع ضروري لـ:

- أ- شراء الأطعمة ب- صحة الجسم ج- مضغ الطعام د- تحضير المائدة

٣- ضدّ كلمة (فوائد):

- أ- منافع ب- أسرار ج- معارف د- أضرار

٤- من فوائد الطعام المتوازن الواردة في النص:

- أ- الحماية من الأمراض ب- تنمية المواهب
ج- زيادة الوزن د- السّليّة والمتعة

٥- العنوان المناسب للنص:

- أ- أنواع الطعام ب- طاقة الجسم
ج- الغذاء المتوازن د- الوجبة اللذيذة

٦- علامة الترقيم المناسبة مكان الفراغ (...) في النص:

- أ- ، ب- : ج- . د- ؟