

اسم المدرسة : _____ اسم الطالب : _____
زمن الاختبار : ساعة واحدة : _____
الشعبة : _____

(٨ علامات)

السؤال الأول: حدد/ي المفهوم الذي تشير إليه كلاً من العبارات الآتية:

المفهوم	العبارة
١- رابطة اجتماعية تتكون من الأب والأم والأبناء وتتعاون فيما بينها لتوفير أسباب السعادة والاستقرار داخل البيت .	
٢- قدرة الإنسان على فعل الشيء أو تركه بإرادته مع مراعاة عدم التعدي على حريات الآخرين وحقوقهم.	
٣- اختلاف الجماعات البشرية في عراقتها وألوانها ومعتقداتها ولغاتها بشكل لا يؤثر على التقارب والتسامح بين الشعوب.	
٤- لزراعة التي تعتمد على مياه الأمطار في ري المزروعات.	
٥- انتقال الفرد أو الجماعة من مكان إلى آخر داخل البلد الواحد أو خارجه بقصد الراحة أو العلاج أو الاستمتاع بالبيئة.	
٦- كل ما خلفه لنا الأجداد والآباء من أداب وقيم وعادات وتقاليد ومعارف شعبية وفنون.	
٧- صفيحة حديدية دائرية محنية من الخارج ومقعدة من الداخل تثبت على نقطة من قفطها حلقة لتعليقه بعد الاستعمال.	
٨- المتحف الذي يقع قرب المدرج الروماني في عمان تعرض الأزياء التراثية الشعبية.	

(٨ علامات)

السؤال الثاني: صنف/ي في الجدول التالي الصناعات الآتية إلى (استخراجية / تحويلية / تحليلية):

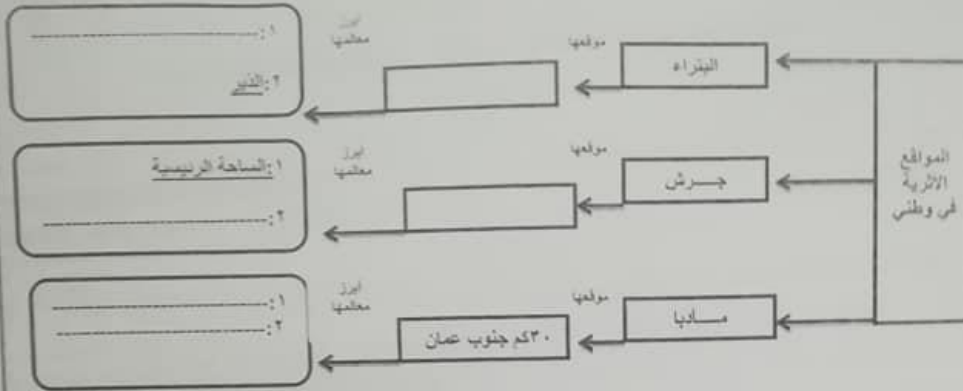
الأسمنت	السيارات	التقط	الفوسفات	الأدوية	البوتاس	الملايس	المعيطات
الصناعات الاستخراجية	الصناعات التحويلية	الصناعات التحليلية					

(٦ علامات)

السؤال الثالث: ضع/ي إشارة (✓) أمام العبارات الصحيحة وإشارة (X) أمام العبارات الخاطئة لكل مما يأتي :

- ١- () أكون متعاوناً في مدرستي عندما أشارك في المحافظة المدرسية ومرافقها.
- ٢- () قوة الإرادة تساعد الإنسان على تحقيق مراده .
- ٣- () يؤدي الابتعاد عن الحوار والمتسك بالرأي إلى تحقيق السلم المجتمعي.
- ٤- () ساوى الدستور الأردني بين أفراد المجتمع كافة .
- ٥- () يعد الموز والنخيل والحمضيات من المحاصيل الزراعية التي تحتاج إلى حرارة معتدلة.
- ٦- () تقسم التجارة الخارجية إلى قسمين رئيسيين هما: الصادرات والواردات.

(٦ علامات)



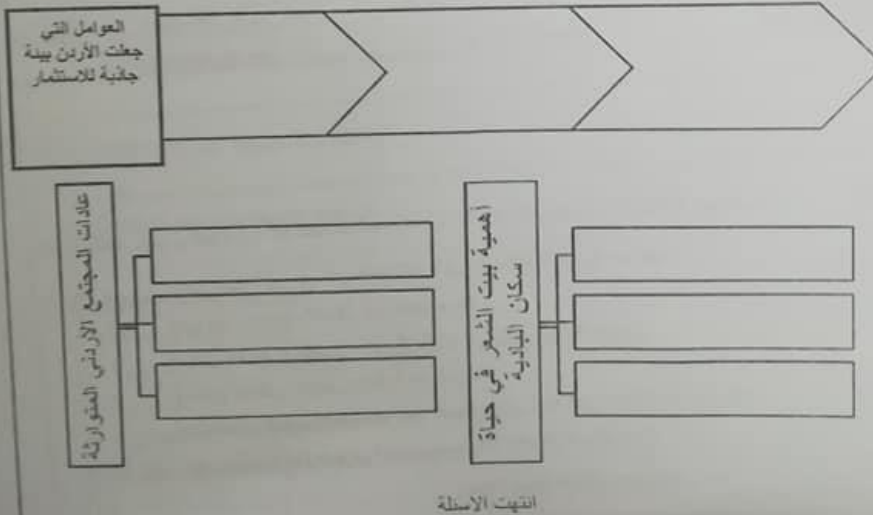
(٣ علامات)

السؤال الخامس: اعط حلأ واحدا لكل من المشكلات الآتية:

الرقم	المشكلة	الحل
١-	تفاقم الانتاج الزراعي في الأردن.	
٢-	غياب الحوار بين افراد المجتمع .	
٣-	عدم احترام التنوع والتعددية	

(٩ علامات)

السؤال السادس: بين/ي ثلاثة مما يلي :



School: _____
Name: _____

Time: One hour
Section: ()

Reading Comprehension

(8 marks)

Read the text and answer the questions that follow.

Methkal Abu Dhrais is very good at running. He ran for Jordan in the Olympic Games. He runs very fast. He runs everyday. He's strong and healthy.

You should do some exercise every day too. Exercise makes you strong and healthy. It makes your heart muscle work hard. Your heart goes fast when you do exercise, so it works harder.

1. Decide if right or wrong.

(2marks)

- a. Methkal Abu Dhrais ran for Jordan in the marathon. ()
b. Your heart isn't a muscle. ()

2. Answer from the text.

(3marks)

- a. What is Methkal Abu Dhrais good at?
.....

- b. What does he do to be strong?
.....

- c. What is your favourite sport?
.....

3. Complete from the text.

(3marks)

(There's one extra word)

healthy , harder , exercise , Games

- a. Methkal Abu Dhrais ran in the Olympic
b. He runs everyday. He's strong and
c. When you do your heart works harder.

Speaking

(12marks)

1. Match.

(4marks)

- | | |
|--------------------------------------|--|
| a. His Majesty King Abdullah II | 1. Yes, I have. It's interesting |
| b. Have you ever climbed a mountain? | 2. so I'm not tired at school. |
| c. I like June because | 3. is married to Her Majesty Queen Rania |
| d. I have a lot of sleep. | 4. it is the summer holiday. |

a. () b. () c. () d. ()

2. Circle the *odd* underlined pronunciation.

(4marks)

- a. Balloon shoe food does
- b. Jordan bought bike talk
- c. Bird robot cupboard people
- d. Fizzy poster clothes exercise

3. Number the recipe below in order.

(4marks)

We're going to make banana bread:

- () Then, mix them with flour and sugar.
- () Add some nuts and mix again. Finally, put it in the cooker and bake it.
- () First, put some bananas in a bowl.
- () Next, add some butter and eggs and mix them all together.



Writing

(12marks)

1. Use the words below to complete the following sentences:

(4marks)

(There's one extra word)

feels , national , Nature Reserve , celebration , skyscrapers

- I visited the Shaumari with my family to see foxes, eagles and wild cats.
- There was a great on Independence Day with a fireworks display at night.
- The black iris is the flower of Jordan.
- It is snowy. It cold.

2. Look, read and complete.

(Two extra words)

bananas milk chicken
eggs sugar

- There are some
- There is some
- There isn't any



(3 marks)

3. Circle the right answer:

(3marks)

- Are there (any / some) nuts? Yes, there are.
- You shouldn't (eat / ate) a lot of sweets and chocolate.
- Laila and Ali (was / were) playing tennis this morning.

3. Read, order and write neatly.

(2 marks)

that / I / will / a pilot. / think / be / I



وزارة التعليم العالي
دائرة التربية والتعليم في الأردن
مركز التطوير التربوي / وحدة التقويم

الفصل الدراسي الثاني ٢٠١٧ / ٢٠١٨
الاختبار الموحد / الصف الخامس الأساسي / مادة التربية الإسلامية



اسم المدرسة :
اسم الطالب :
زمن الاختبار : ساعة واحدة
الشعبة :

(٨ علامات)

السؤال الأول

١ - تأمل الآيات الكريمة الآتية ثم أجب عن الأسئلة التي تليها:
قال تعالى: ﴿ أَوَلَمْ يَرَوْا إِلَى الطَّيْرِ فَوْقَهُمْ صَافَّاتٍ وَيَقْبِضْنَ مَا يَمْلِكُنَّ إِلَّا الرُّحْمَنُ إِنَّهُ بِكُلِّ شَيْءٍ بَصِيرٌ ﴾ ١٩ ﴿ أَمَّنْ هَذَا الَّذِي هُوَ جُنْدٌ لَكُمْ يَنْصَرُّكُمْ مِّنْ ذُو الرُّحْمَنِ إِنَّ الْكَافِرِينَ لَآ فِي عِزِّهِ ﴾ ٢٠ ﴿ أَمَّنْ هَذَا الَّذِي يَرْزُقُكُمْ إِنْ أَمْسَكَ رِزْقَهُ بَلْ لَجُّوا فِي عُتُوٍّ وَنُفُورٍ ﴾ ٢١ ﴿ أَفَمَن يَمْسِكْ عَلَيْكَ كِتَابًا عَلَى ذَنْبِهِ أَفَذَىٰ أَمَّن يَمْسِكْ سَوْبًا عَلَىٰ صِرَاطٍ مُسْتَقِيمٍ ﴾ ٢٢ ﴿ فَلَن هُوَ الَّذِي أَنشَأَكُمْ وَجَعَلَ لَكُمُ الشَّجَرَةَ الْأَبَاصَارَ وَالْأَفْئِدَةَ قَلِيلًا مَّا تَشْكُرُونَ ﴾ ٢٣ ﴿ فَلَن هُوَ الَّذِي ذَرَأَكُمْ فِي الْأَرْضِ وَإِلَيْهِ تُخْشَرُونَ ﴾ ٢٤ .

١ - بين معنى المقدرات والتراكيب التي تحتها خط:
أ - (وَيَقْبِضْنَ): ب (ذَرَأَكُمْ): (علامتان)

٢ - من مظاهر قدرة الله كما وردت في الآيات:
١ ٢ (علامتان)

٣ - بعد تدبري للآيات الكريمة أحرص في حياتي على :
١
٢ (علامة)

ب - أكمل كتابة الآيات الكريمة من سورة المالك :
" إِنَّ الَّذِينَ يَخْشَوْنَ رَبَّهُم بِالْغَيْبِ (٣ علامات)

فَسْتَظُنُّونَ يُخَفُّ نَذِيرٌ .

المؤال الثاني:

(٢ علامات)

١- اقرا الحديث النبوي الشريف ثم اجب عما يليه من أسئلة:

عن أبي هريرة رضي الله عنه، أن رسول الله ﷺ قال: "أُنذِرُونَ ما المُفْلِسُ قالوا : المُفْلِسُ فِينا مَنْ لا بَزْمَ لَهُ ولا مَتاع، فقال: إِنْ المُفْلِسُ مِنْ أُمَّتي يَأْتِي يَوْمَ الْقِيامَةِ بِصَلَاةٍ وَصِيَامٍ وَزَكَاةٍ وَيَأْتِي فَدْ شَتَمَ هَذَا وَفَنَفَ هَذَا وَأَكَلَ مالَ هَذَا وَسَفَكَ دَمَ هَذَا وَضَرَبَ هَذَا فَيُعْطَى هَذَا مِنْ حَسَنَاتِهِ وَهَذَا مِنْ حَسَنَاتِهِ فَإِنْ فَنِيَتْ حَسَنَاتُهُ قَبْلَ أَنْ يُقْضَى ما عَلَيْهِ أَخَذَ مِنْ خَطِيئَتِهِمْ فَطَرَحَتْ عَلَيْهِ ثُمَّ طُرِحَ فِي النَّارِ".

١- وضح معنى المفردات والتراكيب الآتية:

(علامة)

- أ - شَتَمَ :
ب - سَفَكَ الدَّم :

٢- من الأعمال التي تُذهب الحسنات كما وردت في الحديث الشريف ؟

(علامتان)

.....
.....

٣ - اكتب الحديث النبوي الشريف (عينان لا تمسهما النار).

(٣علامات)

.....
.....

المؤال الثالث:

اجب بـ (نعم) أو (لا) فيما يلي:

- ١ - صلاة العيد ركعتان من غير اذان ولا إقامة . ()
٢ - ولدت السيدة خاتمة رضي الله عنها في مكة المكرمة قبل بعثة النبي ﷺ . ()
٣ - دعوة الرسل عليهم الصلاة والسلام واحدة . ()

المؤال الرابع:

(٣ علامات)

١ - بين الحكم الشرعي (يجوز / لا يجوز) للمواقف الآتية مع بيان السبب :

١ - أخرج صاع زكاة الفطر بعد أداء صلاة الفجر وقبل أداء صلاة عيد الفطر .

الحكم:

السبب:

٢ - صلت سماع صلاة التراويح عشرين ركعة .

الحكم:

السبب:

٣ - تلقى سائر في شهر رمضان متعمداً .

الحكم:

السؤال الخامس:

(٨ علامات)

ضع دائرة حول رمز الإجابة الصحيحة فيما يأتي:

١ - صحابي قام بنسخ القرآن الكريم في مصحف واحد، كان شديد الحياء، كثير الإنفاق في سبيل الله تعالى هو:

- أ - خباب بن الارت رضي الله عنه
ب - أبو هريرة رضي الله عنه
ج - عثمان بن عفان رضي الله عنه
د - أنس بن مالك رضي الله عنه

٢ - المقصود بقول النبي ﷺ: "تحروا ليلة القدر في الوتر من العشر الأواخر من رمضان":

- أ - الليالي الزوجية في العشر الأوائل من رمضان
ب - الليالي الفردية في العشر الأوائل من رمضان
ج - الليالي الزوجية في العشر الأواخر من رمضان
د - الليالي الفردية في العشر الأواخر من رمضان

٣ - تميّزت معجزة " القرآن الكريم " عن معجزات الأنبياء الأخرى بأنها:

- أ - المعجزة الدائمة
ب - المعجزة الخالدة
ج - عجز البشرية عن الإتيان بمثليها
د - جميع ما ذكر صحيح

٤ - عمّة النبي عليه الصلاة والسلام، من السابقات إلى الإسلام، أسلمت قبل الهجرة مع أخيها حمزة، وابنها الزبير، هي:

- أ - نسبية المازنية رضي الله عنها
ب - صفية بنت عبد المطلب رضي الله عنها
ج - عائشة بنت أبي بكر الصديق رضي الله عنهما
د - سودة بنت زمعة رضي الله عنها

٥ - " رَبِّ هَبْ لِي مِنْ لَدُنْكَ ذُرِّيَّةً طَيِّبَةً إِنَّكَ سَمِيعُ الدُّعَاءِ " كان هذا دعاء سيدنا:

- أ - محمد ﷺ
ب - زكريا عليه السلام
ج - آدم عليه السلام
د - نوح عليه السلام

٦ - يلجأ المسلم إلى الله تعالى بالدعاء لأنه:

- أ - يقوي صلته بالله تعالى
ب - يشعره بالأمن
ج - يزيل عنه الشدائد
د - جميع ما ذكر صحيح

٧ - حكم صلاة العيد هو :

- أ - واجب .
ب - مباح .
ج - سنة مؤكدة .
د - مستحب .

٨ - مقدار زكاة الفطر صاع من طعام، والصاع يساوي:

- أ - (٣،١٧٦) كغم .
ب - (٢،١٧٦) كغم .
ج - (١،١٧٦) كغم .
د - (٤،١٧٦) كغم .

المجموع الكلي	=	تطبيق عملي	+	تحريري
١٢		٦		٦

١ - بين حكم التجويد فيما تحته خط في الآيات الكريمة الآتية: (٥ علامات)

الحكم التجويدي	الآية الكريمة
	((وَكَانَ اللَّهُ سَمِيعًا نَصِيرًا))
	((إِنَّ هُوَ إِلَّا يَكْفُرُ لِلْعَالِينَ))
	((فَلَمَنْ مِنْ رَبِّ السَّمَاوَاتِ وَالْأَرْضِ قُلِ اللَّهُ))
	((يُدْخِلُ مَنْ يَشَاءُ فِي رَحْمَتِهِ وَالْعَالِينَ أَعَدَّ لَهُمْ عَذَابًا أَلِيمًا))
	((وَأَنْزَلْنَا مِنَ الْمُعْصِرَاتِ مَاءً نَجَاةً))

٢ - ضع خطاً تحت النون الساكنة في الآية الكريمة : (علامة)

() (إِنْ يَشَأْ يُذْهِبْكُمْ أَوْ يُبَدِّلْكُمْ وَلَهُمْ أُولَاءُ يَتَّبِعُونَ) وَكَانَ اللَّهُ عَلَى ذَلِكَ قَدِيرًا)

انتهت الأسئلة
مع الدعاء لكم بالتوفيق والنجاح



اسم المدرسة : _____

اسم الطالب : _____

زمن الاختبار : ساعة

الشعبة : _____

السؤال الأول : (٩ علامات)

ضع دائرة حول رمز الإجابة الصحيحة:

١ (القيمة المنزلية للرقم ٥ هي الأكبر في العدد:

(أ) ٣٢,٤٥٦ (ب) ٢٣,٥٤٦ (ج) ٢٥,٤٣٢ (د) ٣٢,٦٤٥

٢ (مكتبة تحتوي على (١٠٠٠) كتاب، فإذا كان عدد الكتب العلمية في المكتبة (١٠٠) كتاب، فإن الكسر العشري الذي يمثل الكتب العلمية في المكتبة هو:

(أ) ٠,١ (ب) ٠,٠١ (ج) ٠,٠٠١ (د) ١٠٠,٠٠١

٣ (العدد العشري الذي يقع بين (٢,٤٥) و (٢,٤٧) هو:

(أ) ١,٤٦ (ب) ٢,٤٥٠ (ج) ٢,٤٥١ (د) ٢,٤٧١

٤ (عند تقريب العدد العشري ٨٥,٦٤٩ لأقرب جزء من عشرة يصبح:

(أ) ٨٥,٦٥ (ب) ٩٠ (ج) ٨٥,٧ (د) ٨٥,٦

٥ (تكتب نسبة (٤) دونم إلى (٦٠٠٠) م ^١ بأبسط صورة على النحو الآتي:

(أ) ٣ : ٢ (ب) ٤ : ٦٠٠٠ (ج) ٢ : ٣٠٠٠ (د) ٤ : ٦

٦ (الحد الخامس في النمط ١, ٣, ٥, ٧, ٩, ١١ هو:

(أ) ٥٤ (ب) ٦٤ (ج) ٧٢ (د) ٨١

٧ (يُعبر عن ضرب عدد في (٤) وطرح العدد (٥) من الناتج بالرموز على النحو الآتي:

(أ) ٥ - ٤س (ب) ٤س - ٤ (ج) ٤س - ٢٠ (د) ٤س - ٥

٨ (إحدى الزوايا الآتية تمثل زاوية قائمة:

(أ) (ب) (ج) (د)

٩ (الوحدة المناسبة لقياس طول قطعة أرض هي:

(أ) دونم (ب) سم (ج) متر (د) سم

السؤال الثاني: (١٠ علامات)

(أ) جد ناتج ما يلي:

$$(١) \quad = ٥,١٠٥ - ١١,٨٩$$

(٤ علامات)

$$(٢) \quad = ٤,٤٨ + ٥,٣٩$$

(ب) يملك تاجر مبلغ ٥٠٠٠ ديناراً، تبرع بنسبة ١٥% مما يملك للفقراء، جد المبلغ الذي تبرع به. (٣ علامات)

(٣ علامات)

$$(ج) \quad \text{قدر ناتج طرح } ١,٦٨ - ٠,٦٩٥$$

السؤال الثالث: (٨ علامات)

(علامتان)

(أ) جد القيمة العددية للتعبير الجبري: $٣ - ٧$ عندما $٣ = ٣$.

(٦ علامات)

(ب) أكمل الفراغ في الجدول الآتي، ثم جد التعبير الجبري الذي يمثل ثمن التذاكر:

عدد الأشخاص	٤	٥	٦	٧	٨	من
ثمن التذاكر	١١	١٣		١٧		


السؤال الرابع : (٧ علامات)

(٤ علامات)

١ (أرسم دائرة نصف قطرها ٣ سم، باستخدام الأدوات الهندسية.

(٣ علامات)

ب (ميز المضلعات من بين الأشكال الآتية، مبرزاً إجابتك.



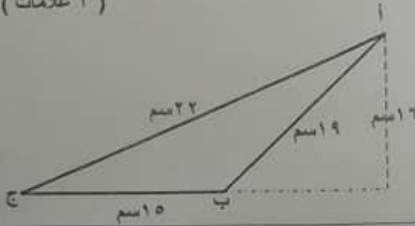
السؤال الخامس : (٦ علامات)

أ (ولد الشاعر الفلسطيني إبراهيم طوقان في ١٩٠٥ / ٠٤ / ٠١ في فلسطين و توفي في ١٩٤١ / ٠٥ / ٠٢ في مدينة القدس. أحسب عمر الشاعر الفلسطيني إبراهيم طوقان.

(٣ علامات)

(٣ علامات)

ب (أحسب مساحة المثلث أ ب ج المرسوم جانباً.



انتهت الأسئلة
مع تمنياتنا لكم بالنجاح والتفوق



اسم المدرسة : _____

الصف : _____

اسم الطالب : _____

الصف : _____

(٢٠) علامة

السؤال الأول: ضع دائرة حول رمز الإجابة الصحيحة:

١. أي أشكال الهطول التالية يتكون عند ارتفاع درجة الحرارة إلى ما فوق الصفر بقليل؟

- أ. المطر
ب. الثلج
ج. البرد
د. الندى

٢. ما الجزء من الأذن الذي يسبب اهتزاز السائل داخل قوقعة الأذن؟

- أ. غشاء الطبلة
ب. الركاب
ج. العصب السمعي
د. الصيوان

٣. ماذا يسمى الجهاز الذي يستخدم لقياس درجة الحرارة؟

- أ. التيرمومتر
ب. الأنيمومتر
ج. الهينومتر
د. الهيدرومتر

٤. أي رموز الطقس التالية يعني حالة "جو ماطر مع عواصف رعدية"؟

- أ.  
ب.  
ج.  
د.  

٥. ماذا يطلق على الخاصية التي تميز بها الأذن الأصوات الضعيفة من الأصوات القوية؟

- أ. انعكاس الصوت
ب. شدة الصوت
ج. درجة الصوت
د. نوع الصوت

٦. أي المواد التالية تمتص معظم الصوت المارقات عليها؟

- أ. الفلين
ب. الصخر
ج. الحديد
د. الألمنيوم

٧. أي أشكال التكيف التالية لا يعتبر تكيفاً سلوكياً؟

أ. تخزين النمل طعامه صيفاً

ب. الخف في الجمل

ج. تخفي الحرياء

د. هجرة الطيور

٨. أي من التالية يحدث خلل في الاتزان البيئي نتيجة لتدخل الانسان؟

أ. الفيضانات

ب. إدخال كائنات جديدة للنظام البيئي

ج. الأعاصير

د. البراكين

٩. أي الظواهر التالية تعني تحويل الأرض الزراعية إلى أرض جرداء؟

أ. الزحف العمراني

ب. الرعي الجائر

ج. الصيد الجائر

د. التصحر

١٠. ماذا تسمى الظاهرة الجوية التي تتشكل نتيجة لانخفاض درجة الحرارة ما دون الصفر في الصحراء؟

أ. الندى

ب. الصقيع

ج. الغيوم

د. الضباب

١١. أي التالية يمثل الترتيب التنازلي الصحيح للمواد (ماء، هواء، حديد) حسب سرعة انتقال الصوت من خلالها؟

أ. ماء، هواء، حديد

ب. هواء، حديد، ماء

ج. حديد، ماء، هواء

د. هواء، ماء، حديد

١٢. أي الأجزاء التالية من مكونات الأذن الوسطى؟

أ. السندان

ب. القوقعة

ج. العصب السمعي

د. قناة الأذن

١٣. أي الأنشطة التالية تستنزف الموارد البيئية بشكل مباشر؟

أ. الرعي الجائر

ب. تلوث الغذاء

ج. تلوث الأنهار بمياه الصرف الصحي

د. تلوث الهواء

١٤. ماذا سيحدث لشدة الصوت كلما ابتعدنا من سيارة الإسعاف؟

أ. تزداد

ب. تقل

ج. لا تتغير

د. تزداد ثم تقل

١٥. أي الآتية تعد من المكونات الحية للنظام البيئي للغابة؟

أ. الصخور

ب. الديان

ج. القربة

د. الهواء

١٦. في السلسلة الغذائية التالية: (أزهار-فراشة-ضفدع-أفعى)، ماذا نتوقع أن يحدث إذا تلوّثت التربة ومات عدد كبير من الأزهار؟

- أ. يزداد عدد الأفاعي ويقل عدد الضفادع
ب. يقل عدد الفراشات ويزداد عدد الضفادع
ج. يزداد عدد الأفاعي ويزداد عدد الضفادع
د. يقل عدد الفراشات والضعفدع والأفاعي

١٧. أي التالية يسبب انزلاق المركبات في فصل الشتاء؟

- أ. الإنجماد
ب. السيول
ج. الصقيع
د. الضباب

١٨. أي الظواهر التالية يستخدمها العلماء لقياس عمق المحيطات؟

- أ. امتصاص الصوت
ب. نفاذية الصوت
ج. انعكاس الصوت
د. تداخل الصوت

١٩. أي الأصوات التالية تعتبر من مسببات الضجيج؟

- أ. صوت لعب الأطفال
ب. صوت القطط
ج. صوت تغريد العصفور
د. صوت الطائرات

٢٠. ما هو الطقّس؟

- أ. حالة الجو خلال مدة أسبوع حول العالم
ب. حالة الجو في قرية صغيرة لمدة عام
ج. حالة الجو في منطقة واسعة فترة لا تقل عن عام
د. حالة الجو في منطقة صغيرة ليوم أو عدة أيام

(٥) علامات

السؤال الثاني: أذكر فائدة واحدة لكل من:

١. الخف للجمال:
٢. الجسم الانسيابي للسفكة:
٣. إنشاء جمعيات حماية البيئة:
٤. سماعة الأذن:
٥. النشرة الجوية:

(٥) علامات

السؤال الثالث: ضع أمام كل مفهوم في العمود الأول الرقم المناسب من العمود الثاني:

الإجابة	المفهوم	الرقم	التعريف
درجة الحرارة العظمى	١	يكون عدد المنتجات فيه أكثر من المستهلكات.	
طبلة الأذن	٢	جزء من جهاز الأنيوموميتر ويستخدم لقياس سرعة الرياح.	
النشرة الجوية الرمزية	٣	أعلى درجة حرارة تسجل خلال ٢٤ ساعة في منطقة ما.	
النظام البيئي المتزن	٤	تنقل الاهتزازات إلى عظيمات الأذن الوسطى.	
الصحون الدوارة	٥	استخدام الرموز للتعبير عن حالة الجو.	

(٣) علامات

المسألة الرابع: علل ما يلي تعليلاً علمياً:

١. لا يستطيع رواد الفضاء سماع صوت المركبة في الفضاء.

التعليق:

٢. يكون انتقال الصوت أسرع ما يمكن في الأوساط الصلبة.

التعليق:

٣. تتجمع الثيران البرية على شكل دائرة.

التعليق:

المسألة الخامس: تأمل النشرة الجوية الواردة في الشكل، ثم أجب عما يليها من أسئلة: (٣) علامات

الخميس ٢٠١٨/٠٢/٠١	الجمعة ٢٠١٨/٠٢/٠٢	السبت ٢٠١٨/٠٢/٠٣	الأحد ٢٠١٨/٠٢/٠٤
نهاراً عائم جزئي مع احتمال زخات أمطار 20°	نهاراً عائلاً عائم مع زخات أمطار 17°	نهاراً عائم جزئي مع زخات أمطار 16°	نهاراً عائلاً صافياً 19°
ليلاً عائم جزئي مع احتمال زخات أمطار 10°	ليلاً عائلاً عائم مع زخات أمطار 10°	ليلاً عائم جزئي مع زخات أمطار 10°	ليلاً صافياً 9°

أ. ما عناصر الطقس الوارد ذكرها في النشرة؟

ب. أي الأيام يكون الطقس فيها غالباً عائم مع زخات أمطار وما الدليل على ذلك؟

ج. صف حالة الجو يوم الأحد نهاراً.

المسألة السادس: ماذا تتوقع أن يحدث لو: (٤) علامات

١. تم استخدام سماعات الهواتف النقالة لفترات طويلة؟

التوقع:

٢. استمر الصيد بدون تنظيم؟

التوقع:

انتهت الأسئلة



اسم المدرسة : _____

الصفحة : _____

اسم الطالب : _____

أولاً : القراءة

(١٧ علامة)

اقرأ النص الآتي ثم أجب عن الأسئلة التي تليه :-

البيغاء طائرٌ جميلٌ معروفٌ بألوانه الزاهية التي تتراوح بين الأخضر والأحمر والأزرق والأصفر ، وأنواعه كثيرةٌ تقاربُ الثلاثمئة ، ومن أنواعه ما هو شديد الذكاء ، قادرٌ على تقليد الأصوات ، حتى بعض الكلمات البسيطة ()

يتميزُ البيغاءُ برأسه الكبير نسبياً ، وغنقه القصير ، ولسانه الغليظ وقائمتيه المعنيتين للتعليق بأغصان الأشجار ، ويستطيع استعمال القدمين للقبض ، ونقل الغذاء إلى الفم ، فضلاً عن استخدامهما للتمسك ، ويمتازُ أيضاً بمنقاره الصلب المعين القادر على كسر الجوز .

تتواجد البيغاوات في المناطق الدافئة من العالم ومنها () الهند وجنوب شرق آسيا ، وغرب إفريقيا بالإضافة إلى أمريكا الجنوبية وأستراليا ونيوزيلندا .

- ١- ورد في السطر الخامس كلمة بمعنى (الإمساك بالشيء) هي
- ٢- بين معنى كلمة (قائمتيه) الواردة في السطر الرابع
- ٣- استخرج من السطر السادس كلمتين مترادفتين
- ٤- هات ضد كلمة (البسيطة) الواردة في السطر الثالث
- ٥- صف نوعاً من أنواع البيغاوات الواردة في النص .

- ٦- ما فائدة القدمين للبيغاء ؟

- ٧- لماذا يمتازُ البيغاءُ بمنقارٍ صلبٍ متين ؟

- ٨- أين تعيش البيغاوات ؟

١٨- ميز الاسم التكررة من الاسم المعرفة في ما تحته خط :

(٢)

- أ- في ساحة المدرسة مقاعد
ب- ساعد عمر زملاءه في حل المسألة

(٢)

١٩- استخدم حرفي الجر الآتيين في جمل مفيدة من إنشائك :

- أ- اللام
ب- على

(٦)

* ضع دائرة حول رمز الإجابة الصحيحة في كل مما يأتي :

٢٠ المصدّر في جملة (شاركت في الدرس مشاركة حسنة) هو :

- أ- شاركت ب- الدرس ج- مشاركة د- في

٢١ أحد الظروف الآتية يصلح لجملة (نحضر إلى المدرسة كل يوم).

- أ- حين ب- فوق ج- أمام د- صليحا

٢٢ إذا أردنا أن نسأل عن مكان الحديقة الموجودة في الحي ، فإتينا نقول :

- أ- متى الحديقة ؟ ب- أين الحديقة ؟ ج- كيف الحديقة ؟ د- ما الحديقة ؟

٢٣ (بجيد الطالب تلاوة القرآن) . المضاف إليه في الجملة السابقة هو :

- أ- الطالب ب- بجيد ج- القرآن د- تلاوة

الكتابة (١٠ علامات)

٢٤- اكتب الشكل الصحيح للهمزة (و ، ا ، إ ، ؤ ، ة) في الفراغات الآتية :

(٣)

- أ- الثفا.....ل بالخير ضروري .
ب- نصب لصياد المصا.....ذ .

(٤)

* ضع دائرة حول رمز الإجابة الصحيحة في كل مما يأتي :

٢٥ عامر الجراح صحابي جليل . الكلمة المناسبة لملء الفراغ السابق هي :

- أ- بن ب- ابن ج- إبن

٢٦ الكلمة التي كتبت بشكل صحيح من بين الكلمات الآتية :

- أ- وعاءا ب- وعاء ج- وعاءا

٢٧ (سأنتج في الاختبار). الكلمة المناسبة لملء الفراغ السابق هي :

- أ- إن شاء ب- إن شاء الله ج- إن شاء