

الاختبار الموحد / الصف الخامس الأساسي / مبحث التربية الاجتماعية والوطنية

اسم المدرسة : _____
اسم الطالب : _____
زمن الاختبار : ساعة واحدة
الشعبة : _____

السؤال الأول: حدد/ي المفهوم الذي تشير إليه كلاً من العبارات الآتية: (٨ علامات)

المفهوم	العبارة
١- مساعدة الناس بعضهم بعضاً على قضاء حاجاتهم بما يحقق الخير للفرد والجماعة.	
٢- حق الإنسان بأن يحيا حياة آمنة تحترم وجوده وتضمن ماله وعرضه وتكفل حقه وفصله على بقية الكائنات.	
٣- إعطاء كل ذي حق حقه بغض النظر عن دينه أو أصله أو عرقه بشكل يعزز المحبة والمودة بين أفراد المجتمع.	
٤- حالة التوافق والوفاق بين مختلف الجماعات داخل المجتمع في إطار من الأخوة والتعاون رغم اختلاف الثقافات والمعتقدات.	
٥- الصناعات التي تعتمد على تفكيك وتحليل المادة الأصلية إلى مجموعة مواد جديدة.	
٦- الجهة المسؤولة عن إنشاء المحميات الطبيعية وإدارتها في المملكة الأردنية الهاشمية.	
٧- ساحة صغيرة مكشوفة تقع في وسط البيت الريفي وتعتبر موزعاً بين الغرف.	
٨- بلورة زجاجية ووعاء معدني وفنيل من الفظن الحراري يستخدم لإنارة البيت.	

السؤال الثاني: صنف/ي في الجدول التالي أنواع السياحة إلى (دينية / علاجية/ ترفيهية/ بيئية): (٨ علامات)

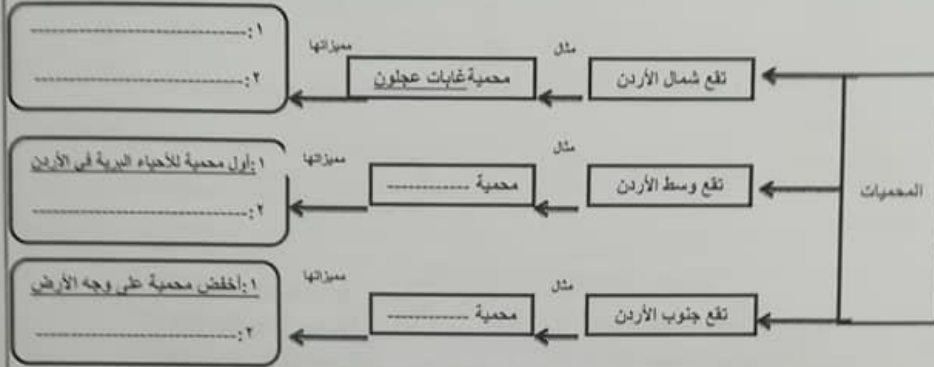
غابات عجلون	محمية ضانا	المغطس	البحر الميت	محمية الشومري	غابات ديبين	أضربة الشهداء "موتة"	مابين
سياحة دينية	سياحة علاجية	سياحة ترفيهية	سياحة بيئية				

السؤال الثالث: ضع/ي إشارة (✓) أمام العبارات الصحيحة وإشارة (X) أمام العبارات الخاطئة لكل مما يأتي: (٦ علامات)

- ١- () تكون متعاوناً في مجتمعي عندما أُنجز الأعمال بأسرع وقت ممكن دون النظر إلى جودتها.
- ٢- () يعد الاعتداء على حرية الآخر وفق القواعد والتشريعات للدولة انتهاكاً من الكرامة الإنسانية.
- ٣- () يعني مفهوم السلم أن تقبل التنازل عن حقتك.
- ٤- () يعد العنب والزيتون واللوزيات من المحاصيل الزراعية التي تحتاج إلى حرارة مرتفعة.
- ٥- () تسهم الصناعة في دعم اقتصاد الدولة.
- ٦- () تقسم التجارة الداخلية إلى قسمين رئيسيين هما: تجارة الجملة وتجارة المفروق.

السؤال الرابع: أكمل/ي المخطط الآتي:

(٦ علامات)



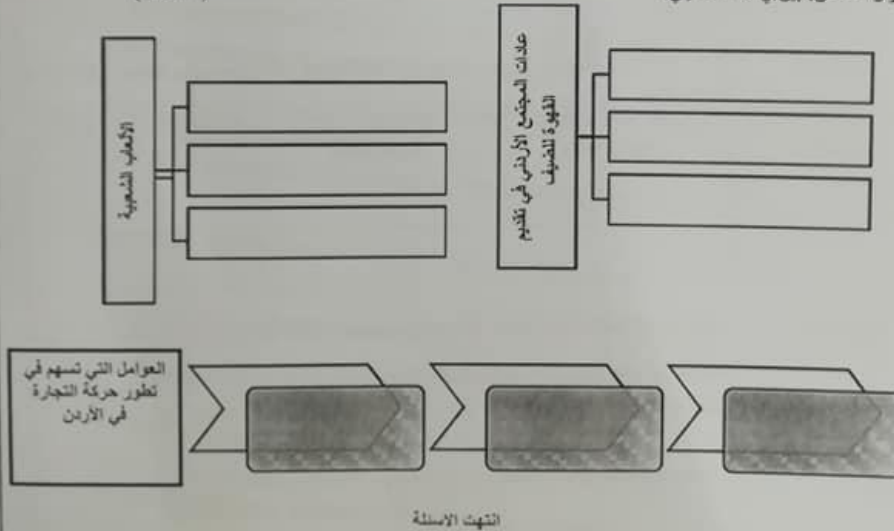
السؤال الخامس: أعط حلأ واحداً لكل من المشكلات الآتية:

(٣ علامات)

الرقم	المشكلة	الحل
١-	ارتفاع نسبة تلوث المدن الناتجة عن التطور الصناعي .	
٢-	تراجع معدل السياحة الداخلية في الأردن.	
٣-	غياب التعاون بين أفراد المجتمع .	

السؤال السادس: بين/ي ثلاثة مما يلي:

(٩ علامات)



انتهت الاسئلة

زمن الاختبار : ساعة واحدة

اسم المدرسة :

الشعبة :

اسم الطالب :

(۸ علامات)

السؤال الأول

أولاً - تأمل الآيات الكريمة الآتية ثم أجب عن الأسئلة التي تليها:

قال تعالى: ﴿وَيَقُولُونَ مَتَى هَذَا الْوَعْدُ إِنْ كُنْتُمْ صَادِقِينَ﴾ ﴿٢٥﴾ قُلْ إِنَّمَا الْعِلْمُ عِنْدَ اللَّهِ وَإِنَّمَا أَنَا نَذِيرٌ مُبِينٌ ﴿٢٦﴾ فَلَمَّا رَأَوْهُ زُلْفَةً سَيِّئَتْ وُجُوهُ الَّذِينَ كَفَرُوا وَقِيلَ هَذَا الَّذِي كُنْتُمْ بِهِ تَدْعُونَ ﴿٢٧﴾ قُلْ أَرَأَيْتُمْ إِنْ أَهْلَكْنِي اللَّهُ وَضَعَ مَعِيَ أَوْ رَحِمَنِي فَتَنْ يَجِيرُ الْكَافِرِينَ مِنْ عَذَابِ أَلِيمٍ ﴿٢٨﴾ قُلْ هُوَ الرَّحْمَنُ آمَنَّا بِهِ وَعَلَيْهِ تَوَكَّلْنَا فَسَتَعْلَمُونَ مَنْ هُوَ فِي ضَلَالٍ مُبِينٍ ﴿٢٩﴾ قُلْ أَرَأَيْتُمْ إِنْ أَصْحَبَ مَاؤُكُمْ غَوْرًا فَمَنْ يَأْتِيكُمْ بِمَاءٍ مَعِينٍ ﴿٣٠﴾.

(علامتان)

١ - . استخرج من الآيات الكريمة الكلمات التي تدل على المعاني الآتية:

أ- قريداً:
ب- ذاهباً في أعماق الأرض:

(علامتان)

(٢) استخرج من الآيات الكريمة مظهرين من مظاهر قدرة الله تعالى:

Year	Percentage of Respondents
1990	65%
1992	75%
1994	65%
1996	75%
1998	65%
2000	75%
2002	65%
2004	70%

.....=1

٣ - بعد تدبري للآيات الكريمة أحرص في حياتي على.

(علامة)

(۳ علامات)

ثانياً: أكمل كتابة الآيات الكريمة من سورة الملك:

..... " أَوَلَمْ يَرَوْا إِلَى الطَّيْرِ فَوْقَهُمْ صَافَّاتٍ وَيَقْبِضْنَ

..... على صراطٍ مُسْتَقِيمٍ (٢٢).

(٦ علامات)

السؤال الثاني:

١ - اقرأ الحديث النبوي الشريف ثم أجب عما يليه من أسئلة:

عن عبد الله بن عباس - رضي الله عنهما - قال: سمعت رسول الله ﷺ يقول: (عَيْنَانِ لَا تَمْسُهُمَا النَّارُ: عَيْنٌ بَكَتْ مِنْ خَشْيَةِ اللَّهِ، وَعَيْنٌ بَاتَتْ تَحْرِيسٌ فِي سَبِيلِ اللَّهِ).

(علامتان)

١ - وضح معنى ما تحته خط :

..... ٢ - خَشْيَةُ اللَّهِ:

(علامة)

٢ - بَيِّنْ سَبَبَ حِمَايَةِ اللَّهِ - عَزَّ وَجَلَّ - لِلجُنْدِيِّ المُرَابِطِ فِي سَبِيلِ اللَّهِ مِنْ عَذَابِ النَّارِ؟

(٣ علامات)

٣ - مِمَّا تَحْفَظْ أَكْتُبْ الْحَدِيثَ النَّبَوِيَّ الشَّرِيفَ الَّذِي يَبِينُ مَنْ هُوَ الْمُفْلَسُ يَوْمَ الْقِيَامَةِ .

(٣ علامات)

السؤال الثالث:

أجب بنعم أو لا فيما يأتي:

- ١ - راوي حديث (تحريم إيذاء الجار) هو الصحابي الجليل عبد الله بن عباس . ()
٢ - من الصفات التي امتازت بها صفية بنت عبدالمطلب رضي الله عنها الصبر . ()
٣ - تسليق حامد عمود الكهرباء لإحضار طائرته الورقية العالقة، يعد شجاعة. ()

(٣ علامات)

السؤال الرابع :

بين الحكم الشرعي (يجوز / لا يجوز) للمواقف التالية مع بيان السبب :

١ - أخرج أحمد زكاة فطره لوالده الفقير.

الحكم:

السبب:

٢ - صلت عبير صلاة التراويح ثماني ركعات.

الحكم:

السبب:

٣ - تقيا عامر في نهار رمضان من غير عمد ، فاتم صومه.

الحكم:

السبب:

٢٠١٧ - ٢٠١٨ / الفصل الثاني/ الصف الخامس / التربية الإسلامية / نموذج (١)

ضع دائرة حول رمز الإجابة الصحيحة فيما يلي:

١- أول من أمر بتوسعة المسجد النبوي، واتخذ الشرطة، وخصص داراً للقضاء هو الصحابي :

- أ - عبد الله بن عباس رضي الله عنه.
ب - أبو هريرة رضي الله عنه.
ج - عثمان بن عفان رضي الله عنه.
د - أنس بن مالك رضي الله عنه.

٢ - واحدة مما يلي ليست من مبطلات الصيام :

- أ - الشرب عمداً.
ب - الأكل عمداً.
ج - المضمضة.
د - القيء عمداً.

٣ - واحدة مما يأتي تعد من آداب الاستئذان في الإسلام:

- أ - أن يطرق الزائر الباب ثلاث مرات.
ب - أن يقول الزائر أنا.
ج - أن يقف الزائر بوجه الباب.
د - أن ينادي من خلف الباب بصوت مرتفع.

٤ - ابن عم الرسول ﷺ، دعا له الرسول بالفهم والعلم، نُقِبَ بـ (ترجمان القرآن) هو:

- أ - خالد بن الوليد رضي الله عنه.
ب - عبد الله بن عباس رضي الله عنه.
ج - زيد بن حارثة رضي الله عنه.
د - الزبير بن العوام رضي الله عنه.

٥ - (الثاقفة) هي معجزة نبي الله تعالى:

- أ - عيسى عليه الصلاة والسلام.
ب - موسى عليه الصلاة والسلام.
ج - محمد عليه الصلاة والسلام.
د - صالح عليه الصلاة والسلام.

٦ - قال رسول الله ﷺ: "صلاة الليل مثنى مثنى". وذلك يعني:

- أ - أربع ركعات أربع ركعات.
ب - ركعتين ركعتين.
ج - ركعتين ركعتين.
د - كل ما ذكر غير صحيح.

٧ - المعجزة الدائمة الخالدة إلى قيام الساعة للنبي ﷺ:

- أ - الإبراء والمعراج.
ب - نبيع الماء من بين أصابعه الطاهرة.
ج - القرآن الكريم.
د - شق الصدر.

٨ - " رَبَّنَا ظَلَمْنَا أَنْفُسَنَا وَإِنْ لَمْ تَغْفِرْ لَنَا وَتَرْحَمْنَا لَنَكُونَنَّ مِنَ الْخَاسِرِينَ " كان هذا دعاء سيدنا:

- أ - محمد ﷺ.
ب - آدم عليه السلام وزوجه.
ج - زكريا عليه السلام.
د - نوح عليه السلام.

السؤال السادس: (التلاوة والتجويد)

(١٢ علامة)

المجموع الكلي	=	تطبيق عملي	+	تحريري
١٢		٦		٦

(٥ علامات)

١ - بيّن حكم التجويد فيما تحته خط في الآيات الكريمة الآتية:

الآية الكريمة	الحكم التجويدي
((تِلْكَ مِنْ أَنْبَاءِ الْغَيْبِ نُوحِيهَا إِلَيْكَ))	
((يَا أَيُّهَا الَّذِينَ آمَنُوا هَلْ أَدُلُّكُمْ عَلَىٰ تِجَارَةٍ تُجِيبُكُمْ مِنْ غَذَابِ الْيَوْمِ))	
((عَلَىٰ سُرُرٍ مُّوَضَّوَةٍ))	
((كَأَنَّهُمْ مِنْهُمْ عَنْ نُفُسِهِمْ يَفُوتُونَ))	
((وَقَالُوا بَلْكَ إِذَا كُرَّةٌ خَاسِرَةٌ))	

(علامة)

٢ - ضع خطاً تحت النون الساكنة في الآية الكريمة :

* (مِزَاطُ الَّذِينَ أَنْعَمْتَ عَلَيْهِمْ غَيْرِ الْمَغْضُوبِ عَلَيْهِمْ وَلَا الضَّالِّينَ).

انتهت الأسئلة
مع دعائنا لكم بالنجاح والتوفيق

وكالة الغوث الدولية
دائرة التربية والتعليم في الأردن

مركز التطوير التربوي / وحدة التقويم

الفصل الدراسي الثاني ٢٠١٧ / ٢٠١٨

الاختبار الموحد / الصف الخامس الأساسي / مبحث الرياضيات



زمن الاختبار : ساعة

الشعبة : _____

اسم المدرسة : _____

اسم الطالب : _____

السؤال الأول : (٩ علامات)

ضع دائرة حول رمز الإجابة الصحيحة:

١ (يقع الرقم (٤) في العدد ٢٣,٥٤٦ في منزلة:

أ (أجزاء من مئة ب (الأحاد ج (أجزاء من عشرة د (العشرات

٢ (إذا كان الكسر العشري الذي يمثل عدد أشجار الليمون في مزرعة (٠,٠٠٤٥) ، فإذا كان عدد الأشجار الكلي في المزرعة (١٠٠٠) شجرة ، فإن عدد أشجار الليمون في المزرعة يساوي:

أ (٤٥ ب (٤٥٠ ج (٥٥ د (٥٥٠

٣ (أحد الكسور العشرية الآتية هو الأكبر:

أ (٠,٤٠٢ ب (٠,٤٢ ج (٠,٠٤٢ د (٠,٢٤

٤ (العدد العشري الذي يُقرب إلى ٢٤ هو:

أ (٢٤,٦١١ ب (٢٤,٩٩ ج (٢٣,٤٩ د (٢٤,١٩

٥ (تكتب نسبة (٣٠٠) سم إلى (٦) م بأبسط صورة على النحو الآتي:

أ (٦ : ٣٠٠ ب (٢ : ١ ج (١ : ٥٠ د (١ : ٢

٦ (الحد الخامس في النمط ٢ ، ١٠ ، ١٧ ، هو:

أ (٢٣ ب (١٩ ج (٢٦ د (٣٧

٧ (يُعبر عن طرح عدد من العدد (٥) بالرموز على النحو الآتي:

أ (٥ - ٥ ب (٥ - ٥ ج (٥ - ٥ د (٥ - ٥

٨ (الزاوية التي قياسها يساوي ٩١° تسمى زاوية:

أ (حادة ب (قائمة ج (منفرجة د (مستقيمة

٩ (تستخدم وحدة الدونم لقياس:

أ (مساحة مزرعة ب (مساحة كتاب ج (طول طالب د (محيط مزرعة

السؤال الثاني: (١٠ علامات)

أ) جد ناتج ما يلي:

$$= ٥,١٠٥ + ٤,٨٩٥ (١)$$

(٤ علامات)

$$= ٤,٤٨ - ٥,٣٩ (٢)$$

ب) لدى طالب مبلغ ١٥ ديناراً، أنفق ٣ دناتير على الأكل ودينارين على المواصلات و٤ دناتير على التسوق وادخر الباقي، أكتب النسبة المئوية لادخار الطالب للمبلغ الذي يملكه.

(٣ علامات)

ج) قدر ناتج جمع $٠,٦٩٥ + ٢,٨٤$

(٣ علامات)

السؤال الثالث: (٨ علامات)

أ) جد القيمة العددية للتعبير الجبري: $١٥ + ٢ع$ عندما $ع = ٥$.

(علامتان)

ب) يفرس مزارع أشجار التفاح في صفوف . ولحمايتها من الرياح يحيطها بشجر السرو، و الجدول الآتي يبين نمط أشجار التفاح والسرو . أكمل الجدول الآتي بما هو مناسب:

(٦ علامات)

عدد الصفوف	١	٢	٣	٤	٥	س
عدد أشجار التفاح	١	٤		١٦		س'
عدد أشجار السرو	٨		٢٤			

السؤال الرابع : (٧ علامات)

أ) باستخدام الأدوات الهندسية، جد قياس الزوايا الآتية.



(٤ علامات)



(٣ علامات)

ب) الشكل المجاور يمثل دائرة مركزها م، أرسم قطر للدائرة ، نصف قطر ، وتر.



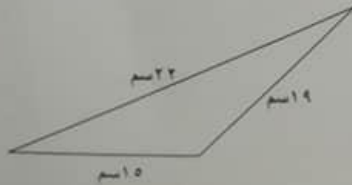
السؤال الخامس : (٦ علامات)

أ) درس طالب مدة أربع ساعات و ٢٣ دقيقة ، إذا انتهى من الدراسة الساعة (٨:١٥) مساءً، متى بدأ الطالب الدراسة ؟

(٣ علامات)

(٣ علامات)

ب) أحسب محيط المثلث المرسوم جانباً.



انتهت الأسئلة
مع تمنياتنا لكم بالنجاح والتفوق



٤٠



نموذج

أ

زمن الاختبار : ساعة واحدة

اسم المدرسة :

الشعبة :

اسم الطالب :

(٢٠) علامة

السؤال الأول: ضع دائرة حول رمز الإجابة الصحيحة:

١. أي أشكال الهطول التالية يتكون عند انخفاض درجة الحرارة إلى ما دون الصفر بكثير؟

- أ. المطر
ب. الثلج
ج. البرد
د. الندى





٢. ما الجزء من الأذن الذي ينقل اهتزازات الأصوات إلى الدماغ؟

- أ. غشاء الطبلة
ب. الركاب
ج. العصب السمعي
د. الصيوان

٣. ماذا يسمى الجهاز الذي يستخدم لتحديد اتجاه الرياح؟

- أ. الثيرمو متر
ب. الأنيمومتر
ج. الهيتومتر
د. الهيدرومتر

٤. أي رموز الطقس التالية يعني حالة "جو غائم جزئياً"؟

- أ. 
ب. 
ج. 
د. 

٥. ماذا يطلق على الخاصية التي تميز بها الأذن الأصوات الحادة من الأصوات الغليظة؟

- أ. انعكاس الصوت
ب. شدة الصوت
ج. درجة الصوت
د. نوع الصوت

٦. أي المواد التالية تعكس معظم الصوت الساقط عليها؟

- أ. الفلين
ب. الخشب
ج. الخيش
د. الألمنيوم

٧. أي أشكال التكيف التالية لا يعتبر تكيفاً تركيبياً؟
- أ. الخياشيم في الأسماك
ب. الخف في الجمل
ج. تخفي الحرباء
د. الفرو السميك للذئب
٨. أي من التالية يحدث خلل في الاتزان البيئي نتيجة لتغير في الظروف الطبيعية؟
- أ. الرعي الجائر
ب. إدخال كائنات جديدة للنظام البيئي
ج. الأعاصير
د. تلوث المياه
٩. أي التالية لا يصنف ضمن الموارد الطبيعية؟
- أ. الهواء
ب. التربة
ج. الغذاء
د. المواصلات
١٠. ماذا تسمى الظاهرة الجوية التي تتشكل نتيجة لانخفاض درجة الحرارة ما دون الصفر بعد يوم ماطر؟
- أ. الندى
ب. الغيوم
ج. الانجماد
د. الضباب
١١. أي التالية يمثل الترتيب التصاعدي الصحيح للمواد (ماء، هواء، حديد) حسب سرعة انتقال الصوت من خلالها؟
- أ. ماء، هواء، حديد
ب. هواء، حديد، ماء
ج. حديد، ماء، هواء
د. هواء، ماء، حديد
١٢. أي الأجزاء التالية من مكونات الأذن الخارجية؟
- أ. السمندان
ب. القوقعة
ج. العصب السمعي
د. قناة الأذن
١٣. أي الأنشطة التالية لا تستنزف الموارد البيئية بشكل مباشر؟
- أ. الرعي الجائر
ب. الزحف العمراني على الأراضي الزراعية
ج. الصيد الجائر
د. تلوث الهواء
١٤. ماذا سيحدث لشدة الصوت كلما اقتربنا من سيارة الإسعاف؟
- أ. تزداد
ب. تقل
ج. لا تتغير
د. تزداد ثم تقل
١٥. أي الآتية تعد من المكونات غير الحية للنظام البيئي للغابة؟
- أ. الصنوبر
ب. الديدان
ج. التربة
د. الطيور

١٦. في السلسلة الغذائية التالية: (أزهار-فراشة-ضفدع-أفعى)، ماذا نتوقع أن يحدث إذا تلوث الماء ومات عدد كبير من الضفادع؟

- أ. يزداد عدد الأفاعي ويقل عدد الفراش
ب. يقل عدد الأفاعي ويقل عدد الفراش
ج. يقل عدد الأفاعي ويزداد عدد الفراش
د. يزداد عدد الأفاعي ويزداد عدد الفراش
١٧. أي التالية يسبب تدني الرؤية الأفقية في فصل الشتاء؟

- أ. الغيوم
ب. الميول
ج. الصقيع
د. الضباب

١٨. ماذا يسمى تكرار سماع الصوت بفارق زمني عن الصوت الأصلي نتيجة انعكاسه عن حاجز؟

- أ. امتصاص الصوت
ب. نفاذية الصوت
ج. انعكاس الصوت
د. الصدى

١٩. أي الأصوات التالية يعد تلوثاً صوتياً؟

- أ. صوت لعب الأطفال
ب. صوت القطط
ج. صوت تغريد العصفور
د. صوت الجرافة

٢٠. ما هو المناخ؟

- أ. حالة الجو خلال مدة أسبوع حول العالم
ب. حالة الجو في قرية صغيرة لمدة عام
ج. حالة الجو في منطقة واسعة فترة لا تقل عن عام
د. حالة الجو في منطقة واسعة ليوم أو عدة أيام

السؤال الثاني: أذكر فائدة واحدة لكل من: (٥) علامات

١. الخياشيم للسمكة:
٢. وقوع العينان على جانبي الرأس عند الغزال:
٣. إنشاء المحميات:
٤. الخلايا الشمسية:
٥. هجرة الطيور:

السؤال الثالث: ضع أمام كل مفهوم في العمود الأول الرقم المناسب من العمود الثاني: (٥) علامات

الإجابة	المفهوم	الرقم	التعريف
درجة الحرارة الصغرى	١	قطرات صغيرة خفيفة الوزن تبقى عالقة في الهواء القريب من سطح الأرض.	
الصيوان	٢	تجمد المياه على أوراق النباتات بصورة أبرية.	
التشرة الجوية الرمزية	٣	أقل درجة حرارة تسجل خلال ٢٤ ساعة في منطقة ما.	
الضباب	٤	أحد أجزاء الأذن ويعمل على تجميع الصوت وتوجيهه نحو قناة الأذن.	
الصقيع	٥	استخدام الرموز للتعبير عن حالة الجو.	

(٣) علامات

السؤال الرابع: علل ما يلي تعليلاً علمياً:

١. لا نستطيع سماع أصوات الانفجارات التي تحدث خارج الغلاف الجوي للأرض.

التعليل:

٢. يصطاد الخفاش فرائسه ليلاً على الرغم من أنه ضعيف البصر.

التعليل:

٣. تحور أوراق الصبّار إلى أشواك.

التعليل:

(٣) علامات

السؤال الخامس: تأمل النشرة الجوية الواردة في الشكل، ثم أجب عما يليها من أسئلة:

الأحد ٢٠١٨/٠٢/٠٤	النسبت ٢٠١٨/٠٢/٠٣	الجمعة ٢٠١٨/٠٢/٠٢	الخميس ٢٠١٨/٠٢/٠١
نهاراً 19° غالباً صافى	نهاراً 16° عائم جزئي مع زحبات أمطار	نهاراً 17° غالباً عائم مع زحبات أمطار	نهاراً 20° عائم جزئي مع احتمال زحبات أمطار
ليلاً 9° صافى	ليلاً 10° عائم جزئي مع زحبات أمطار	ليلاً 10° غالباً عائم مع زحبات أمطار	ليلاً 10° عائم جزئي مع احتمال زحبات أمطار

أ. ما عناصر الطقس الوارد ذكرها في النشرة؟

ب. أي الأيام يكون الطقس فيها غالباً صافى وما الدليل على ذلك؟

ج. صف حالة الجو يوم الجمعة ليلاً.

(٤) علامات

السؤال السادس: ماذا تتوقع أن يحدث لو:


١. تم إدخال أعداد كبيرة من طائر البوم للقضاء على فئران الحقل؟

التوقع:

٢. قطع الأشجار الحرجية للتدفئة في الشتاء؟

التوقع:

انتهت الأسئلة



School: _____
Name: _____

Time: One hour
Section: ()

Reading Comprehension

(8 marks)

Read the text and answer the questions that follow:

Every year, people in Jordan celebrate Independence Day on 25th May. On this day, people say thank you to the King. They wave flags and listen to national songs. Everyone in Jordan enjoys the celebrations. People are very happy on this day. The Jordanian people are a family. The first Independence Day was on 25th May, 1946. It was the first day of the new Hashemite Kingdom of Jordan. The first King of Jordan was from the Hashemite family. He was King Abdullah I.

1. Decide if right or wrong.

(2 marks)

- a. Jordanians celebrate their independence on 52nd May. ()
b. The first King of Jordan was King Abdullah I. ()

2. Answer from the text.

(3 marks)

- a. What do people in Jordan do on Independence Day?
.....
b. When did His Majesty King Abdullah II become King?
.....
c. What is your dream for the future?
.....

3. Complete from the text.

(3 marks)

(There's one extra)

celebrations - national - Hashemite - wave

1. On Independence Day, Jordanians flags and listen to songs.
2. The first King of Jordan was from the family.

Speaking

(12marks)

1. Match.

(4marks)

a. The Dead Sea is	1. No, I haven't.
b. Have you ever sailed from a port?	2. Yes, there are.
c. I like January because	3. very salty.
d. Are there any nuts?	4. it is the winter holiday when it rains and snows.

a. () b. () c. () d. ()

2. Circle the odd underlined pronunciation.

(4marks)

- a. June blue afternoon mother
b. Sauce bought climb tak
c. Subject robot apple cupboard
d. Zoo sports clothes exercise

Number the recipe below in order.

(4marks)

We're going to make our lunch:

- () Then, cook them.
() Finally, serve on a plate.
() First, mix the eggs and the milk in a bowl.
() Next, put some cheese in the saucepan.



Writing

(12marks)

1. Use the words below to complete the following sentences:

(4marks)

sounds , tastes , fireworks display , lentils

- On Independence Day, there is a at night. It is beautiful.
- You should wash the first for *mujaddara*.
- A banana delicious.
- A football match noisy.

2. Look, read and complete.

(Two extra words)

(3 marks)

bananas cheese fish
eggs sugar

- There are some
- There is some
- There isn't any



3. Circle the right answer:

(3marks)

- Is there (any / some) bread? Yes, there is.
- You shouldn't (drink / drank) a lot of fizzy drinks.
- We (was / were) having a great time.

3. Read, order and write neatly.

(2 marks)

you / a / in / Have / ever / studied / laboratory?

GOOD LUCK



زمن الاختبار : ساعة ونصف

الشعبة : _____

اسم المدرسة : _____

اسم الطالب : _____

(١٧ علامة)

أولاً : القراءة

اقرأ النص الآتي ثم أجب عن الأسئلة التي تليه :-

النعامة أكبر الطيور الموجودة في عالمنا اليوم ولكنها لا تستطيع الطيران، فهي ضخمة جداً، وبالرغم من أن لها جناحين يبدوان كمروحتين . لكنهما ليسا قويين بما يكفي لرفع ذلك الجسم الهائل في الهواء ، لكن الله عوضها بقدرة على العدو بسرعة هائلة ، فلها ساقان تتمتعان بالقوة والمنعة .

يعتمد النعامة في غذائه على النبات ، كما يأكل الزواحف الصغيرة أحياناً ، ويعيش النعامة في السهول الجافة اليابسة ، لذا عليه البحث عن الماء دائماً ، لكنه يستغني عنه إذا وجد ما يكفي من النبات ()

النعامة الذكر عطوف على صغاره () ويشارك الأم مسؤولية تربيته، كما أنه يحفر حفرة ضحلة على الرمال ويبني فيها العش ، وعندما تضع الأم بيضها ، تدفع إليه بالبيض ، فيجلس عليه جسمه الدافئ ويحتضنه حتى فجر اليوم الآتي .

- ١- ورد في السطر الثالث كلمة بمعنى (الرُّكض) هي
- ٢- بين معنى كلمة (عطوف) الواردة في السطر السادس
- ٣- استخرج من السطر الخامس كلمتين مترادفتين
- ٤- هات ضد كلمة (ضخم) الواردة في السطر الأول
- ٥- ورد في الفقرة الأولى سببان لعدم قدرة النعامة على الطيران اكتبهما

- ٦- اكتب مثالين من النص يدلان على التعاون بين ذكر النعامة وأنثاه .

- ٧- أين يعيش النعامة ؟
- ٨ - علام يعتمد النعامة في غذائه وفق ما ورد في النص

- ٩- اختر لكل فقرة العنوان المناسب من بين العناوين الموجودة في الشكل .

- ١- التعاون بين الذكر والأنثى
- ٢- عجز النعام عن الطيران
- ٣- غذاء النعام

- أ- الفقرة الأولى.....
- ب- الفقرة الثانية.....
- ج- الفقرة الثالثة.....

(٢)

(١,٥)

١٠- ضع علامة الترقيم المناسبة في مكانها في النص .

١١- استخرج من النص السابق :

همزة متطرفة همزة متوسطة همزة قطع.....

(٨ علامات)

المحفوظات :

اقرأ الأبيات الشعرية الآتية ثم أجب عن الأسئلة التي تليها :

ما زلتُ أسمع صوته وأراه أئى التفكّ تحيط بي عيناه
فكثته بي ساكن وكثني أحيا به أو أئني إياه
من قل غاب وملء قلبي من شذى أنفاسه ورد يفوح شذاه

(١)

(١)

(١)

(١)

(٢)

(٢)

(٢)

(٢)

(٢)

(٢)

(٢)

(٢)

(٢)

(٢)

(٢)

(٢)

(٢)

(٢)

(٢)

(٢)

(٢)

(٢)

(٢)

(٢)

(٢)

(٢)

(٢)

(٢)

(٢)

(٢)

(٢)

(٢)

(٢)

(٢)

(٢)

التراكيب والأماليب اللغوية :

(١٢ علامة)

١٧- املأ الفراغ بالضمير المناسب (هما، أنت، هن، هم)

(٢)

(٢)

(٢)

(٢)

(٢)

(٢)

(٢)

(٢)

(٢)

(٢)

(٢)

(٢)

(٢)

(٢)

(٢)

(٢)

(٢)

(٢)

(٢)

(٢)

(٢)

١٩- استخدم حرفي الجر الآتيين في جمل مفيدة من إنشائك :

(٢)

أ- البناء

ب- على

* ضع دائرة حول رمز الإجابة الصحيحة في كل مما يأتي :

(٦)

٢٠- المصدر في جملة (أحرص على احترام والدي) هو :

أ- احترام ب- أحرص ج- والدي د- على

٢١- أحد الظروف الآتية يصلح لجملة (يقف المعلم الطلبة في الطابور الصباحي) .

أ- حين ب- يوم ج- أمام د- مساء

٢٢- إذا أردنا أن نسأل عن زمان الاحتفال الذي ستقيم المدرسة فإثنا نقول :

أ- متى الاحتفال ؟ ب- أين الاحتفال ؟ ج- كيف الاحتفال ؟ د- ما الاحتفال ؟

٢٣- (أجهزة الحاسوب في المدرسة متطورة) . المضاف إليه في الجملة السابقة هو :

أ- المدرسة ب- أجهزة ج- الحاسوب د- في

الكتابة : (١٢ علامة)

٢٤- اكتب الشكل الصحيح للهمزة (و ، أ ، إ ، ن ، هـ ، ع) في الفراغات الآتية :

(٣)

أ- فاز تلاميذ الصف الخامس بأفضل صحيفة حـ..... ط .

ب- يتعد اللص عن نظار المشاهدين .

* ضع دائرة حول رمز الإجابة الصحيحة في كل مما يأتي :

(٤)

٢٥- النفيس مكتشف الثورة الثموية . الكلمة المناسبة لملء الفراغ السابق هي :

أ- بن ب- ابن ج- ابن د- ابن

٢٦- الكلمة التي كتبت بشكل صحيح من بين الكلمات الآتية :

أ- غداء ب- غداء ج- غداء د- غداء

٢٧- عملت الدولة على مشروع سكني . الكلمة المناسبة لملء الفراغ السابق هي :

أ- إن شاء ب- إن شاء الله ج- إنشاء د- إن شاء

٢٨- (يرعى الوالدان شؤون الأسرة) . كتبت الهمزة على واو في كلمة شؤون لأنها :

أ- مضمومة وما قبلها مكسور ب- مضمومة وما قبلها مفتوح ج- مضمومة وما قبلها مضموم

٢٩- صوب الخطأ الوارد في كل جملة من الجمل الآتية

(٣)

أ- رأيت بناء كبير

ب- سأزورك غذا إنشاء الله

ت- الممرضات ملائكة الرحمة

٣٠- وظف المفردتين الآتيتين في جملتين مفيدتين :

(٢)

أ- يُحصي

ب- الظفر

(٧)

التعبير

٣١ - اكتب في حدود خمسة أسطر موضوعاً عن التعاون مستعيناً بالجميل الأتية ومراعياً سلامة اللغة

وعلامات الترقيم وجمال التعبير .

(علينا أن نتعاون من أجل أن نبني أوطاننا - إذا أردت أن تبلغ النجاح في أمرٍ ما فعليك بالتعاون مع الآخرين - لا يمكنُ لفردٍ واحدٍ أن يبني الوطن - حثّ الدين الإسلامي على التعاون - التعاون في مساعدة الآخرين - التعاون يُشعرُ الجميع بالحماس - للتعاون أمثلة كثيرة - التعاون في العمل ضروري .

أمنياتنا للجميع بالتوفيق