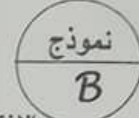


وزارة التعليم العالي والبحث العلمي  
دائرة التربية والتعليم في الأردن  
منطقة الزرقاء



الفصل الدراسي الثاني ٢٠١٧ / ٢٠١٨



الاختبار الموحد / الصف الثالث الأساسي / مادة التربية الاجتماعية والوطنية

اسم المدرسة : \_\_\_\_\_ اسم الطالب : \_\_\_\_\_  
زمن الاختبار : ساعة \_\_\_\_\_  
الشعبة : \_\_\_\_\_

السؤال الأول: صنّع دائرة حول رمز الإجابة الصحيحة فيما يأتي: (١٠ علامات)

١. تمّ وضع الدستور للدولة الأردنية في عهد الملك:
  - أ. الحسين بن طلال
  - ب. عبد الله الأول ابن الحسين
  - ج. طلال بن عبد الله
٢. من انجازات الملك طلال بن عبد الله:
  - أ. تغريب الجيش
  - ب. جعل التعليم إلزامياً
  - ج. تأسيس المملكة
٣. وقعت أحداث معركة الكرامة في عهد الملك:
  - أ. الحسين بن طلال
  - ب. عبد الله الأول ابن الحسين
  - ج. عبد الله الثاني ابن الحسين
٤. من انجازات الملك الحسين بن طلال في مجال الصحة:
  - أ. سد الملك طلال
  - ب. مدينة الحسين الطبية
  - ج. مدينة الحسين للشباب
٥. قيام الرسول صلى الله عليه وسلم ببناء المسجد مع أصحابه مثالاً على قيمة:
  - أ. الاخترام
  - ب. العمل التطوعي
  - ج. المشاركة
٦. المحافظة التي تقع جنوب الأردن هي:
  - أ. المفرق
  - ب. الزرقاء
  - ج. العقبة
٧. الموقع الأثري الذي بناه عز الدين أسامة أحد قادة صلاح الدين الأيوبي هو:
  - أ. قلعة عجلون
  - ب. المدرج الروماني
  - ج. جبل القلعة
٨. أكبر مدينة أثرية في الأردن وتحتوي على شارع للأغذية هي:
  - أ. عمان
  - ب. جرش
  - ج. البتراء
٩. يشتهر البحر الميت بـ:
  - أ. المياه شديدة الملوحة
  - ب. الشعب المزجانية
  - ج. الطبيعة الصحراوية
١٠. يمارس السياح رياضة الشلّقى في:
  - أ. العقبة
  - ب. وادي رم
  - ج. عجلون

(علامتان)

السؤال الثاني: املأ الفراغ بكتابة اسم الدولة الذي يُشير إليها السهم في خريطة الأردن:



السؤال الثالث: ضع إشارة (✓) بجانب العبارة الصحيحة، وإشارة (x) أمام العبارة الخطأ: (١٠ علامات)

١. يُلقب الملك الحسين بن طلال بالملك الباني. ( )
٢. بنى مدينة البتراء العزب الأنباط. ( )
٣. شارك سمير رفاقه في لعب الكرة بالشارع. ( )
٤. جسر عبدون من المعالم الأثرية لمدينة عمان. ( )
٥. يوجد متحف الحياة الشعبية في مدينة العقبة. ( )

(علامة)

السؤال الرابع: فمُر ما يأتي:

يقصِد المُنَاخُ منطقةً مُتَلَات ماعين.



(علامتان)

السؤال الخامس: اكتب عملاً يُمكنك المشاركة فيه في:

١- القُرْمَة:

٢- الحَي:

انتهت الأسئلة



School: \_\_\_\_\_  
Name: \_\_\_\_\_

(One hour)  
Section: .....

**Reading:**

A) Read and answer:

( 3 points )

I like my town. My house is near my school. There is a sports center behind the school. We play tennis in the sports center. On Saturday, we go shopping in the market. The market is in the old town.  
There are many shops in the old town.

1) Where is Abla's house?

2) What do they do on Saturday?

3) There aren't many shops in the old town.

Yes / No

B) Read and complete from the box:  
(One word extra)

(3 points)

must, drink, train, drinking

1) There is a \_\_\_\_\_ in the station.

2) You \_\_\_\_\_ tidy your room.

3) A: Are the children \_\_\_\_\_ water?  
B: Yes, they are. \_\_\_\_\_

Speaking:

A) Match A and B:

( 4 points )

A	B
1) Would you like an apple?	a) Go straight on. It's on the right.
2) I want to go to the museum.	b) Thank you.
3) Happy Mother's Day, Mum.	c) In January.
4) When do we plant trees?	d) Yes, please. I love it.
1).....	2).....
3).....	4).....

B) Number from 1 to 3:

( 1.5 points )

Finally

First

Then

C) Say and write:

( 2 points )

Two extra.

ui      ea      ar      ou

1) \_\_\_\_\_ r



2) M \_\_\_\_\_ ntain



Writing:

A) Write the capital letters:

( 1 point)

asisha is talking to zaid.

---

---

---

B) Read and order:

( 1 point)

Mum. / help / must/ I

---

---

---

C) Look and write from the box:

( 2 points )

One extra

Yes, I am.	In September	Some flowers
------------	--------------	--------------

1) a- Are you listening to the guide?

b- 

---

---

---

2) a- What do you want to buy?

b- 

---

---

---





زمن الاختبار : ساعة واحدة

اسم المدرسة :

الشعبة :

اسم الطالب :

(٥ علامات)

السؤال الأول: أكمل الفراغ في العبارات الآتية بما يناسبها:

١. عدد ركعات السنة البعدية لصلاة الظهر هو .....
٢. أول شهيدة في الإسلام هي ..... رضي الله عنها.
٣. بيع التاجر للمعلبات الفاسدة من صور .....
٤. استمر نزول القرآن الكريم ..... عاماً .
٥. من نعم الله تعالى على رسوله محمد صلى الله عليه وسلم .....

(٥ علامات)

السؤال الثاني: أكمل قوله تعالى:

بِسْمِ اللَّهِ الرَّحْمَنِ الرَّحِيمِ

- إِنَّ الْإِنْسَانَ لِرَبِّهِ لَكَنُودٌ ① وَإِنَّهُ عَلَىٰ ذَٰلِكَ ② ..... ③ وَإِنَّهُ لَكَبِيرٌ ④  
لَشَدِيدٌ ⑤ أَفَلَا يَعْلَمُ إِذَا بُعِثَ رُوحُهُ ⑥ ..... ⑦ وَحُصِّلَ مَا فِي ⑧ ..... ⑨  
إِنَّ رَبَّهُم بِهِمْ يَوْمَئِذٍ ⑩

(٤ علامات)

السؤال الثالث: صل بخط بين الكلمة في العمود الأول ومعناها في العمود الثاني:

الصوف	أصكفكم
شغلنكم	فأمدنهم
أهلكهم	أصابته السوء
أبطل بها المطر	كألهم

(٣ علامات)

السؤال الرابع: أكمل قول رسول الله (صلى الله عليه وسلم):

(أفلا جعلته فوق ..... كي يراه ..... ، من غش ..... مني).

(٥ علامات)

السؤال الخامس: صنع دائرة حول رمز الإجابة الصحيحة في ما يأتي:

١- الشخص الذي قام بتعذيب بلال بن رباح رضي الله عنه هو:

أ. أبو لهب      ب. أبو جهل      ج. أمية بن خلف

٢- التوراة أنزلت على سيدنا:

أ. عيسى عليه السلام      ب. موسى عليه السلام      ج. محمد صلى الله عليه وسلم

٣- اسم من أسماء الله يعني أن الله تعالى يُعْزِم على المخلوقات جميعها:

أ. العظيم      ب. الرزاق      ج. الرحيم

٤- المعجزة التي تدل على صدق نبي الله صالح عليه السلام:

أ. النار      ب. الحية      ج. الناقة

٥- (اللهم صيبنا نافعاً) دعاء:

أ. السقر      ب. نزول المطر      ج. الشفاء

(٣ علامات)

السؤال السادس: أكمل الفراغ في العبارات الآتية بما يناسبها:

١. من آداب السفر:

أ. .... ب. ....

٢. سبب نزول القرآن الكريم مفرقاً:

.....



وكالة الفتوة الدولية  
دائرة التربية والتعليم في الأردن

مركز التطوير التربوي / وحدة التقويم

الفصل الدراسي الثاني ٢٠١٧ / ٢٠١٨

الاختبار الموحد / الصف الثالث الأساسي / مبحث الرياضيات



زمن الاختبار : ساعة

الشعبة :


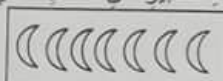

اسم المدرسة :

اسم الطالب :

( ٧ علامات )

المسألة الأولى: صنع دائرة حول رمز الإجابة الصحيحة فيما يأتي:

١. جملة الضرب المناسبة للتعبير عن الشكل الآتي:



ج -  $4 + 4 + 4 + 4 + 4 + 4 + 4 + 4$

ب -  $7 \times 4$

أ -  $4 \times 7$

٢. حاصل ضرب العدد 6 في نفسه يساوي:

ج - 36

ب - 49

أ - 64

٣. العدد المناسب لإكمال الفراغ في جملة الضرب الآتية: (  $9 \times \square = 54$  ) هو:

ج - 8

ب - 7

أ - 6

٤. العدد المناسب لإكمال الفراغ في فيما يأتي: (  $7 \times 9 = \square \times 9$  ) هي:

ج - 7

ب - 9

أ - 63

٥. 7 مئات =

ج - 700

ب - 70

أ - 7

٦. تستهلك أميرة (٧) أرغفة من الخبز في اليوم الواحد، كم رغيفاً تستهلك في (٥) أيام؟

ج - 49 رغيفاً

ب - 42 رغيفاً

أ - 35 رغيفاً

٧. إذا كانت (  $8 = 6 \div 48$  ) و عليه فإن:

ج -  $8 = 48 \times 6$

ب -  $48 = 6 \times 8$

أ -  $8 = 6 \times 48$

٨. في جملة القسمة الآتية: (  $10 = 7 \div 70$  ) المقسوم هو العدد:

ج - 10

ب - 7

أ - 70

٩. ورّعت معلّمة (٤٢) طالبة على (٦) مجموعات، عدد الطالبات في المجموعة الواحدة هو:

ج - 8 طالبات

ب - 7 طالبات

أ - 6 طالبات



١٠. الإشارة المُماثلة لِوَضْعِهَا فِي الْمُرَبَّعِ لِتُصْبِحَ الْجُمْلَةُ الْآتِيَةُ صَحِيحَةً ( ٨ □ ٩ = ٧٢ ) هِيَ:

÷ - |      + -      × - ج

١١. نَاتِجُ قِسْمَةِ ( ٢٤ ÷ ٣ ) يُحَقِّقُ مَبْدَأَ الْمُسَاوَاةِ مَعَ:

ا-  $6 \div 24$       ب-  $5 \div 30$       ج-  $10 \div 80$

١٢. وخذْهُ التَّمَطِّ فِي الشُّكْلِ الْآتِي:





















١٣. الإشارات المُعْبِرة عَنْ عَدَدِ الْمُثَلَّثَاتِ فِي الشُّكْلِ الْآتِي هِيَ:



ا- // ### ب- /// ### ج- /###

١٤. إذا كان كل (😊) يدل على (٤) طلاب، فكم عدد الطلبة الذين يفضلون القصص الخيالية حسب الجدول الآتي:

نوع القصص	عدد الطلبة
علمية	
خيالية	

۱- ا ب ج

السؤال الثاني: جد ناتج ضرب كل مما يلي:

$$\boxed{\phantom{0}} = 0 \times \wedge \quad \boxed{\phantom{9}} = 9 \times 9$$

$$\boxed{\phantom{00}} = 100 \times 3 \quad \boxed{\phantom{00}} = 10 \times 7$$

السؤال الثالث: جد ناتج قسمة كل مما يأتي:

$$\boxed{\phantom{000}} = 2 \div 14 \qquad \boxed{\phantom{000}} = 0 \div 40$$



$$\boxed{\phantom{000}} = 18 \div 6 \qquad \boxed{\phantom{000}} = 10 \div 5$$

(ملاحظہ)

السؤال الرابع: عُبِّئَتْ فِيهَا (٦) أَقْلَامٌ ثَلَاثِينَ ، كَمْ قَلَمًا فِي (٩) غُلْبٍ مِنَ النَّوْعِ نَفْسِهِ؟

(۶ علامات)

السؤال الخامس: قارن بين المُجَسَّمات الآتية حسب الجدول:

المُجَسِّم	اسم المُجَسِّم	عَدَدُ الزُّوُجِ	عَدَدُ الْأُخْرُفِ	شَكْلُ الْوَجْهِ
		.....	.....	مربع
	اسطوانة	.....	.....	.....

السؤال السادس: يبين الجدول الآتي الألوان المفضلة لطلبة الصف الثالث، ادرس الجدول ثم أجب عن

(علامت)

الأمثلة التي تليها:

النون المُفَضَّل	الإشارات
الأخضر	//// ###
الأخضر	/ ### ### ###
الأزرق	/// ### ###

١- ما اللون الذي تفضله (١٣) مطالبا؟

٢- كم طالبا يفضلون اللون الأحمر ؟

٣- ما الوزن الذي يفضلهُ أكبر عدد من طلاب الصف؟

١- كم عدد طلاب الصف جميعاً؟ .....

## الذِّهَنُ الْأَمَلَّةُ

وكالة الغوث الدولية  
دائرة التربية والتعليم في الأردن

مركز التطوير التربوي / وحدة التقويم

الفصل الدراسي الثاني ٢٠١٧ / ٢٠١٨

الاختبار الموحد / الصف الثالث الأساسي / مبحث العلوم



زمن الاختبار : ساعة

الشعبة :



نموذج

B

اسم المدرسة :

اسم الطالب :

(١٥ علامة)

السؤال الأول: ضع دائرة حول رمز الإجابة الصحيحة فيما يأتي:

(١) اهتزاز مفاجئ لسطح الأرض:

أ- المياه السطحية ب- البركان ج- الزلزال

(٢) للكشف عن الملح في المياه المالحة احتاج إلى:

أ- مياه عذبة ب- مصدر حرارة ج- كأس زجاجي

(٣) ينشأ الكُثيب الرُملي نتيجة:

أ- حركة الرياح ب- حركة الماء ج- الزلزال

(٤) تجمع فتات الصخور والتربة في المناطق المنخفضة يسمى:

أ- النقل ب- التعرية ج- الترسيب

(٥) كائنات حية تتكاثر بالولادة وترضع صغارها:

أ- الثدييات ب- الطيور ج- البرمائيات

(٦) الحيوانات التي يغطي جسمها الريش وتتكاثر بالبيض هي:

أ- الثدييات ب- الطيور ج- البرمائيات

(٧) الكائنات الحية التي يغطي جسمها القشور ولها زعانف هي:

أ- الطيور ب- الثدييات ج- الأسماك

(٨) تتغذى صغار الثدييات عند ولادتها على:

أ- الشمس ب- الحليب ج- العشب

(٩) كان اسمي أبو ذئبية عندما كنت صغيراً، فمن أنا؟

أ- السمك ب- التمساح ج- الضفدع

(١٠) الحيوانات التي يكون جلدها جافاً ومغطى بالحراشف هي:

أ- الزواحف ب- الأسماك ج- البرمائيات

(١١) بناءً على تعرض مياه الأمطار الجارية وجمعها خلفه للاستفادة منها عند الحاجة هو:

أ- البركة ب- النهر ج- السد

١٢) المكان الذي توضع فيه الحيوانات المهددة بالانقراض هو:

- أ- الغابات      ب- المحمية      ج- المزرعة

١٣) محمية موجودة في شرق الأردن:

- أ- الشومري      ب- البتراء      ج- العقبة

١٤) انتقال الطيور في مجموعات من مكان لآخر طلباً للدفء والغذاء:

- أ- تكيف الطيور      ب- هجرة الطيور      ج- تكاثر الطيور

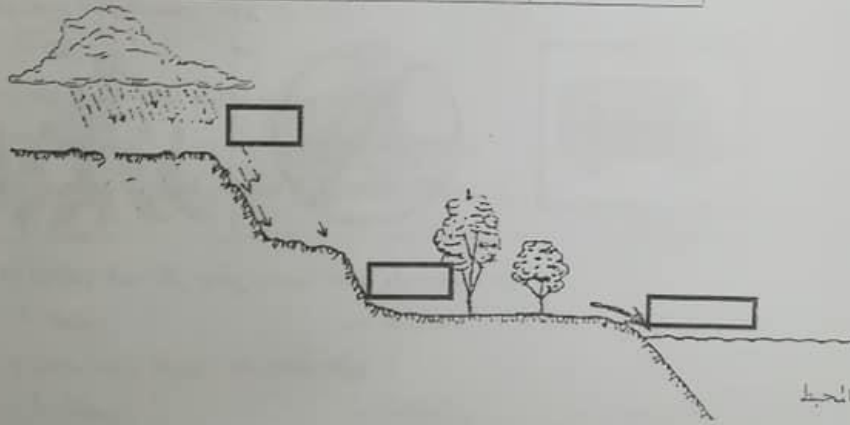
١٥) اختلاف أشكال مناقير الطيور هو:

- أ- تكيف الشكل الخارجي      ب- تكيف السلوك      ج- تكيف داخلي

السؤال الثاني: أرتب أشكال الحصاة حسب المكان المناسب:

(٣ علامات)






		
٣	٢	١



السؤال الثالث: امل الآتي: تساعد بعض الحيوانات التي تحفر بيوتاً لها في التربة على جعل التربة مناسبة للزراعة.

(علامة)

(٥ علامات)

				
.....	.....	.....	.....	.....

(علامة)



مركز التطوير التربوي / وحدة التقويم

الفصل الدراسي الثاني ٢٠١٧ / ٢٠١٨

الاختبار الموحد / الصف الثالث الأساسي / مادة اللغة العربية



زمن الاختبار : ساعة

الشعبة : \_\_\_\_\_

اسم المدرسة : \_\_\_\_\_

اسم الطالب : \_\_\_\_\_

(٧ علامات)

أولاً: القراءة: اقرأ النص الآتي وأجب عن الأسئلة التي تليها:

اشترك عيسى العوّام مع القائد المسلم صلاح الدين الأيوبي، الذي حارب الفرنجة، كان عيسى العوّام يحمل الأموال والرسائل إلى أهل عكا عندما حاصرها الفرنجة، حيث كان يربطها على وسطه، ويسبح ليلاً ليوصلها لأهل عكا المحاصرين. في ليلة شدّ على وسطه الكثير من الأكياس وسبح في البحر، انتظره أهل عكا طويلاً لكنه لم يأت، وبعد أيام وجدته الناس على شاطئ عكا ميتاً، ومعه الأكياس، لقد أدى الأمانة حياً وميتاً.

(١) من القائد المسلم الذي حارب الفرنجة ؟

(٢) لماذا كان عيسى العوّام يسبح ليلاً؟

(٣) لماذا غرق عيسى العوّام ؟

(٤) استخرج من النص ما يلي :

أ ( كلمة فيها ألف تقرأ ولا تكتب : ..... )

ب ( كلمة تدل على جمع : ..... )

ج ( ضد كلمة (وجدته) : ..... )

د ( كلمة فيها همزة وصل : ..... )

(٦ علامات)

ثانياً: التدريبات اللغوية:

(١٠٠ علامة)

أ) أكمل الجدول الآتي على نمط المثال :

مُعَلِّم	مُعَلِّمَانِ	مُعَلِّمُونَ
سائق	رائعان	سائقون

(١,٥ علامة)

ب) صَنَعَ كَلِمَةً (زَيْتَب) بَدَلًا مِنْ (وَلِيد) ، وَغَيَّرَ مَا يَلْزَمُ:

صَنَعَ وَلِيدٌ طَائِرَةً مَعَ صَدِيقِهِ : .....

(١,٥ علامة)

ج) اكْمَلِ الْآتِي عَلَى نَمَطِ الْمِثَالِ:

سَافَرَ أَخِي يَوْمَ الْخَمِيسِ ————— مَتَى سَافَرَ أَخِي ؟ ، رَجَعْتَ سَعَادَ لَيْلًا ————— ؟ .....

سَمِعَ الطُّلَّابُ الدَّرْسَ ————— سَمِعَ الدَّرْسَ ، حَمَلَ الْعَامِلُ الطَّوْبَ ————— الطَّوْبَ.

زَارَ الْأَطْفَالُ الْحَدِيقَةَ ————— زَارُوا الْحَدِيقَةَ ، رَدَّدَ الْمُصَلِّونَ خَلْفَ الْمُؤَذِّنِ ————— خَلْفَ الْمُؤَذِّنِ.

(١,٥ علامة)

د) اكْمَلِ الْجَدُولَ الْآتِي عَلَى نَمَطِ الْمِثَالِ:

هَبِطَ	يَهْبِطُ	هَبِطًا
صَعَدَ		
	يَهْزِبُ	هَزِيبًا

(٨ علامات)

ثالثًا: الكتابة والاملاء:

(علامة)

١) اكْتُبْ شَكْلَ الْهَيْزَةِ الْمُنَاسِبِ فِي الْفَرَاغِ:


شَاهَدَ مُسَ.....يُدْ طَا.....رَةً كَبِيرَةً.

(علامة)

٢) اكْتُبْ مَا يَأْتِي بِحُطِّ جَمِيلٍ:

.....هَلْ تُحَافِظُ عَلَى دُرُوسِكَ؟ .....



(علامة)	٣) رتّب الكلمات الآتية لتصبح جملة مفيدة:
	يا - رمضان - بك - أخلا - شير
(علامة)	٣) املأ الفراغ بالحرف المناسب ي ١٠ :
	إن عيس ..... و خليلاً قد ذهباً إلى مدرستهم .....
(علامتان)	٥) اكْتُبْ ما يُغْنِي عَنْكَ:
(علامتان)	٦) عبّر عن الصورة المُجاوِزة بجملة مفيدة:
	
(٤ علامات)	رابعاً: الاستماع: استمع للنص ثم صنغ دائرة حول رمز الإجابة الصحيحة فيما يأتي: ١ - شكوا الفقير من:
	(أ) شكّل الطعام. (ب) الجوع. (ج) المَرَض.
	٢ - عبارة: (من أصحاب النعمة) ، تعني:
	(أ) غني . (ب) فقير . (ج) صديقه المفضل.
	٣ - خففت الرجل عن الفقير بتزويده:
	(أ) بالطعام. (ب) بالدواء. (ج) بالمال.
	٤ - الخلق الإسلامي الذي تحدث عنه النص :
	(أ) احترام الجار. (ب) زيارة المريض. (ج) الصدقة.