



# مكثف مادة الفيزياء الفصل الدراسي الثاني

يوسف غيث

"YOUR **FUTURE** IS CREATED BY WHAT  
YOU DO **NOT** { **TODAY** }  
TOMORROW"

## ١٠ الفصل الخامس :- المجال المغناطيسي :-

القانون	١ يتخذ مادته وكتيفته الك متفاده منه
① $\vec{B} = \frac{\mu_0}{4\pi} \frac{I \times \vec{r}}{r^3}$	- القوة المؤثرة على حثية (حساب) - محدة المجال المغناطيسي (حفظ) - العوامل التي تعتمد عليها القوة (حفظ)
② $\vec{B} = \frac{\mu_0}{4\pi} \frac{I \times \vec{r}}{r^3}$	- القوة المؤثرة على سلك (حساب) / يشتق منها - العوامل التي تعتمد عليها القوة (حفظ) $\mu_0 = 4\pi \times 10^{-7} \text{ Tm/A}$
③ $\vec{B} = \frac{\mu_0}{4\pi} \frac{I \times \vec{r}}{r^3}$	- القوة المؤثرة في محدة الأحوال السلك (حساب) - يشتق من قانون $\mu_0 = 4\pi \times 10^{-7} \text{ Tm/A}$
④ $\vec{B} = \frac{\mu_0}{4\pi} \frac{I \times \vec{r}}{r^3}$	- جسم متحرك يتحرك في مجالين (قوة لورنتز) (حساب) متعامدين
⑤ $\vec{B} = \frac{\mu_0}{4\pi} \frac{I \times \vec{r}}{r^3}$	- كنزما تتساوى القوة الكهربائية مع القوة المغناطيسية في المقدار (حساب)
⑥ $\vec{B} = \frac{\mu_0}{4\pi} \frac{I \times \vec{r}}{r^3}$	- حساب نصف قطر المسار الذي تسلكه حثية تتحرك في مجال مغناطيسي وكذلك حساب التسارع المركزي والسرعة والقوة المغناطيسية والقوة المركزية ....
⑦ $\vec{B} = \frac{\mu_0}{4\pi} \frac{I \times \vec{r}}{r^3}$	- حساب نصف القطر - العوامل التي يعتمد عليها نصف القطر (حفظ)
⑧ $\vec{B} = \frac{\mu_0}{4\pi} \frac{I \times \vec{r}}{r^3}$	- المجال الناشئ عن سلك - العوامل التي يعتمد عليها المجال الناشئ عن سلك
⑨ $\vec{B} = \frac{\mu_0}{4\pi} \frac{I \times \vec{r}}{r^3}$	- المجال الناشئ عن صلف دائري - العوامل
⑩ $\vec{B} = \frac{\mu_0}{4\pi} \frac{I \times \vec{r}}{r^3}$	- المجال الناشئ عن صلف لولبي - العوامل ن / عدد اللفات كلل محدة حلول

## \* كيفية استخدام قواعد اليد اليمنى :

- نختار القاعدة المطلوبة حسب القانون المستخدم في الحل
- الكميات المتجهة في القانون (هـ، ع، ح)  
لذلك نستخدم قاعدة راحة اليد اليمنى  
واليسرى حسب نوع الشحنة
- قواعد اليد  
المبسوطة  
←  $\vec{v} = \vec{B} \times \vec{r}$   
بالخمس اللفا  
الابهام الاصابع
- الكميات المتجهة في القانون (هـ، ت، ع)  
لذلك نستخدم قاعدة راحة اليد اليمنى
- ←  $\vec{v} = \vec{B} \times \vec{r}$   
بالخمس اللفا  
الابهام الاصابع
- الكميات المتجهة في القانون (ع، ت)  
لا يوجد (هـ) لذلك نستخدم قاعدة قبضة اليد اليمنى
- ←  $\vec{v} = \frac{\mu_0 I}{2\pi r}$   
الاصابع
- قبضة اليد  
←  $\vec{v} = \frac{\mu_0 I}{2\pi r}$   
الاصابع
- الكميات المتجهة في القانون (ع، ت)  
نستخدم قاعدة قبضة اليد اليمنى
- ←  $\vec{v} = \frac{\mu_0 I}{2\pi r}$   
الاصابع
- اليمنى  
←  $\vec{v} = \frac{\mu_0 I}{2\pi r}$   
الاصابع

- \* كنهه هود نقطة انفرام مجال مغناطيسي في ان  $\vec{B} = \vec{B}_0$
- \* كنهه هود جسم أو شحنة تتحرك بلا انحراف داخل مجالين متعامدين في ان  $\vec{v} = \vec{v}_0$



\* حالات اتجاه المجال المغناطيسي لموصل مستقيم

الموصل في المحور السيني	
الموصل في المحور الصادي	
الموصل في المحور الصادي	

\* حالات اتجاه المجال المغناطيسي لملف دائري

الملف بالمحور السيني	
الملف بالمحور الصادي	
الملف بالمحور التريني	

\* حالات اتجاه المجال المغناطيسي لملف لولبي

ملف بالمحور السيني	
الملف بالمحور الصادي	
الملف بالمحور التريني	



\* اولاً :- حرره جسم مشغول في مجال مغناطيسي متحرك :-

-  $\frac{E}{N} = \text{زخم}$  ← الجسم يتحرك في مسار دائري  
 ← نوعية الاشارة عليه إما بإيجاد نصف القطر أو  
 بتحديد نوع الشحنة / اتجاه المجال / أكبر أو أقل كتلة / اسم و أبعاد  
 جسم  
 كل ذلك بناء على نصف القطر

- اثبات أن القوة المغناطيسية لا تبدل  $\mu$  لأن الحركة لا تتغير وأن التغير في الطاقة الحركية  $(\Delta p) =$  مفر كلها تكون من خلال قانون المثل العام  
 $\text{ش} = \text{ص ف جتا } \theta = \text{مفر} / \text{ش} = \Delta p = \text{مفر}$

\* ثانياً :- الفرق في إيجاد (صحة) و (سلامة) :-

١) مبنیة = ص و ج ا ث ← نعوفا (ع) دائما بالهمزة الموحدة (ع محذرة)

٥) محللة = تنال غناها ← نعوقة (غ) المجالات المؤثرة بالملك عدا (غلا)

\* ثالثاً :- قوّة لورنس :-

ما يهيم على أمثلة قوة لوزنتن مرفقة بها إذا كان الجسم يمشي دون انحراف

\* رابعاً أهم الأفكار الواردة على الفصل :-

(١) سؤال تركيبى يطلب فيه بيان المجال والقوة

(۲) مَوَالِ عَلَى قُوَّة لَوْرَنْس

(۳) ہوا کی تخلیق قوت نور سے

٤) امثلة المحفوظ وه الاثبات

## \* الفصل السادس :- الحقن الكهروضوئية :-

القانون	استخداماته وكيفيه الاستفادة منه
① $\phi = P \Delta t$	- حساب التدفق والتغير في التدفق $(\phi \Delta)$ - وحدة $(\phi)$
② $\phi \Delta = \frac{\Delta \phi}{\Delta t}$	- حساب القوة الدافعة الكلية عند تغير التدفق - حساب المعدل الزمني لتغير التدفق $(\frac{\phi \Delta}{\Delta t})$ - نص قانوننا خارجي
③ $\phi \Delta = \epsilon \Delta t$	- حساب القوة الدافعة الكلية لموصل في مجال كهروضوئي يخضعه تيار
④ $\phi \Delta = \frac{\Delta \phi}{\Delta t} \cdot 2$	- حساب (متر) المرادية أو العكسية لدارة فيها محث - حساب المعدل الزمني لتغير التيار $(\frac{\Delta \phi}{\Delta t})$ - يشترقا منا خلال $(\phi \Delta = \text{ثابت } \Delta t)$
⑤ $\phi \Delta = \frac{\Delta \phi}{\Delta t} = \frac{\Delta \phi}{\Delta t} \cdot \frac{\Delta \phi}{\Delta t}$	- حساب التيار الكلي الناشئ من الحقن الكهروضوئية
⑥ $\phi \Delta = \frac{\Delta \phi}{\Delta t} = \frac{\Delta \phi}{\Delta t} \cdot \frac{\Delta \phi}{\Delta t}$	- حساب طاقة المحث - وحدة الطاقة - يشترقا منا خلال $(\phi \Delta = \text{ثابت } \Delta t)$

## \* أولاً التدفق الكهروضوئية :-

- يتغير التدفق بثلاث حالات :-
- تقريب / إبعاد / خلق الدارة / زيادة (ن) / تقليل (م) -----
  - $\phi \Delta$  ← زيادة أو تقليل المساحة
  - $P \Delta$  ← دور، ان الملف / كل من جهود المجال
  - $\Delta \phi$  ← الزاوية المحصورة بينا
  - $\phi \Delta = P \Delta t$  ←  $\phi$  والعكس على المساحة (متجه المساحة)



\* ثانياً: (مَر) المتولدة في موصل مغور في مجال مغناطيسي:

- الجهد المرتفع (P) لأنه موجب

-  $\mathcal{E} = \frac{\Delta \Phi}{\Delta t} = \mathcal{E}' = \mathcal{E}$

- اتجاه (ن') من الموجب إلى السالب عبر المقادير

يقلب أي  
تطارية  
لتسهيل  
الحل

\* ثالثاً: قانون لنز:

1) خلق الدارة  
2) تقريب (ن) زيادة (ن)  
3) تقليل (ن) ادخال قلب حديد

في حال عدم وجود مغناطيس أو ملف لولبي لتحديد الاتجاه يعتمد في الحل على اتجاه المجال المتي فقط

$\Delta \Phi$

1) إبعاد (ن) فتح الدارة  
2) زيادة (ن) تقليل (ن)  
3) إخراج قلب الحديد

يولد (ن') مع (ن) أصلي (كس القطبية)

تولد (ن') تولد (ن) تولد (ن')

نقصان

نزد (ن) أصلي (ن) ندد زيادة أو نقصان (ن) نجد (ن) حسب قاعدة قبضة اليد

\* خطوات الحل:- 1) ندد (ن) أصلي 2) ندد (ن) أصلي 3) ندد (ن) أصلي

\* رابعاً: (مَر) الذاتية الكسية والمردية:

- تكون (مَر) مردية عند فتح الدارة وتكون موجبة + (مَر)  
- تكون (مَر) ذاتية كسية عند خلق الدارة وتكون سالبة - (مَر)

$$\mathcal{E} = - \frac{\Delta \Phi}{\Delta t}$$

$$\frac{\mathcal{E} N}{l} = 2$$

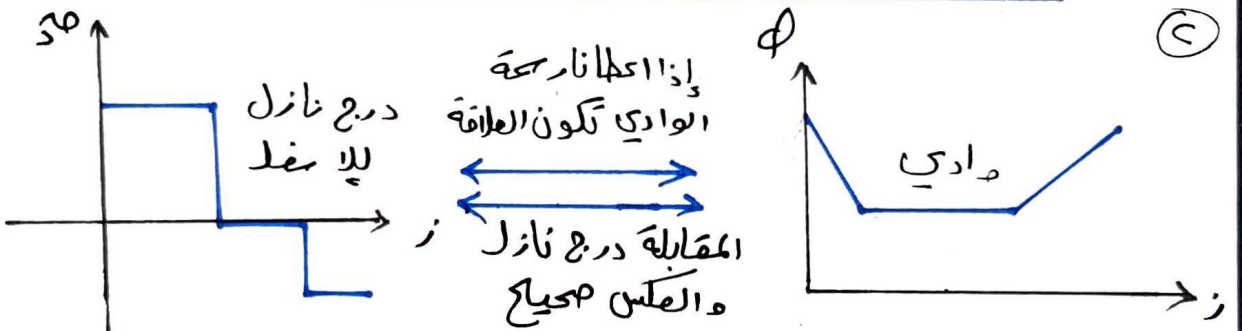
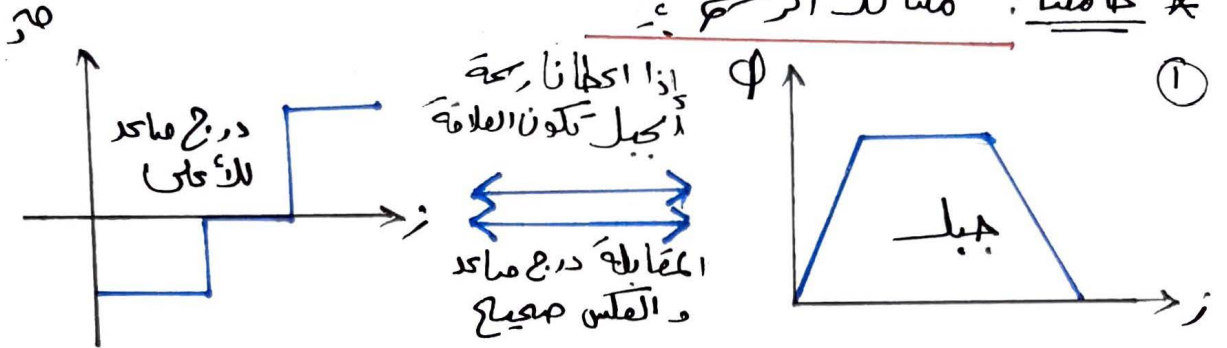
يؤ اشتقاقهم من خلال

$$\Delta \Phi \propto \Delta t$$

$$\Delta \Phi = 2 \Delta t$$

$$\Delta \Phi = 2 \Delta t$$

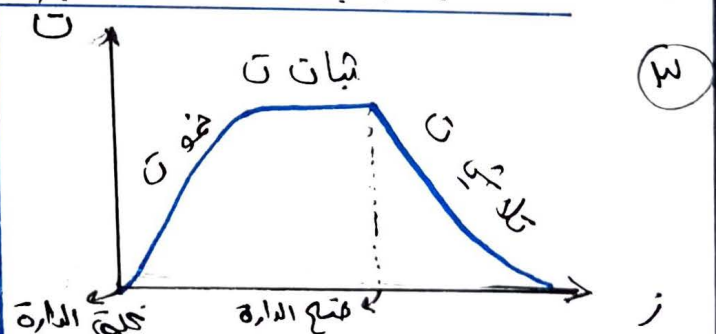


\* خامساً: مسائل الرسم :-

\* تكون  $\Delta\Phi$  موجبة عندما تكون  $\Phi < \Phi$   
 \* تكون  $\Delta\Phi$  سالبة عندما تكون  $\Phi < \Phi$

\* ملاحظة هامة :-

إذا ذكر في سؤال معدل التغير /  
 معدل الزيادة / معدل النقصان تعني  
 أن الكميات مقسومة على الزمن مثل  
 $\frac{\Delta\Phi}{\Delta z}$  ،  $\frac{\Delta T}{\Delta z}$  ،  $\frac{\Delta \dot{z}}{\Delta z}$  ،  $\frac{\Delta S}{\Delta z}$  ،  $\frac{\Delta P}{\Delta z}$



← في الزيادة تكون القيمة موجبة  
 ← في النقصان تكون القيمة سالبة

\* ملاحظة أخرى: أهم الأفكار الوزارية في الفصل :-

- ١ قانون لنز
- ٢ إيجاد (م) بأحد القوانين الثلاثة لها (سؤال على قانون فاراداي واحد)
- ٣ سؤال على الرسم
- ٤ ظاهرة الحث الذاتي
- ٥ مسائل حفظ

## \* الفصل السابع: مقدمة إلى فيزياء الكم :-

القانون	استخداماته وكيفية الاستفادة منه
<p>① <u>طاقة الفوتون</u></p> <p>(أ) <math>E = hf</math> ← <math>h</math> ثابت بلانك  (ب) <math>E = hf + \phi</math> ← <math>h</math> ثابت بلانك  (ج) <math>E = hf - \phi</math> ← <math>h</math> ثابت بلانك  (د) <math>E = hf</math> ← <math>h</math> ثابت بلانك</p>	<p>قانون عام لحساب طاقة الفوتون بأي سؤال  حساب طاقة الفوتون في الظاهرة الكهروضوئية  حساب طاقة الفوتون المنبعث أو الممتص في ذرة الهيدروجين (نموذج بور)</p>
<p>② <u>الطاقة الحركية للإلكترون</u></p> <p><math>E_k = hf - \phi</math> ← <math>h</math> ثابت بلانك  <math>E_k = hf</math> ← <math>h</math> ثابت بلانك  <math>E_k = hf - \phi</math> ← <math>h</math> ثابت بلانك  <math>E_k = hf</math> ← <math>h</math> ثابت بلانك</p>	<p>بوحدات الجول  بوحدات الجول  بوحدات الجول  بوحدات (eV)</p>
<p>③ <u>الطول الموجي</u></p> <p><math>\lambda = \frac{c}{f}</math> ← <math>c</math> سرعة الضوء  <math>\lambda = \frac{c}{f}</math> ← <math>c</math> سرعة الضوء  <math>\lambda = \frac{c}{f}</math> ← <math>c</math> سرعة الضوء  <math>\lambda = \frac{c}{f}</math> ← <math>c</math> سرعة الضوء</p>	<p>اقتران المتضاد للفلز و يكون دائماً بوحدات (جول)  حساب تردد القبة أو طول موجي</p>
<p>④ <u>الطول الموجي</u></p> <p>(أ) <math>\lambda = \frac{c}{f}</math> ← <math>c</math> سرعة الضوء  (ب) <math>\lambda = \frac{c}{f}</math> ← <math>c</math> سرعة الضوء  (ج) <math>\lambda = \frac{c}{f}</math> ← <math>c</math> سرعة الضوء  (د) <math>\lambda = \frac{c}{f}</math> ← <math>c</math> سرعة الضوء  (هـ) <math>\lambda = \frac{c}{f}</math> ← <math>c</math> سرعة الضوء</p>	<p>القانون العام لحساب الطول الموجي بأي سؤال  حساب طول موجة الفوتون من خلال التردد  حساب طول موجة القبة أو أكبر طول موجي يلزم لتحرير الإلكترون من سطح الفلز  حساب طول موجة الفوتون المنبعث أو الممتص في ذرة الهيدروجين  حساب طول موجة دي بروي للجسيمات  حساب الطول الموجي للفوتونات من خلال الزخم</p>



القانون	استخداماته وكيفية الاستفادة منه
<p>عند وجود الإلكترون في مدار معين</p> <p>(أ) <math>h\nu = E_n - E_m</math> ← نصف قطر المدار الموجود فيه الإلكترون</p> <p>(ب) <math>h\nu = \frac{13.6}{n^2} (e.v)</math> ← طاقة المدار الموجود فيه الإلكترون</p> <p>(ج) <math>\lambda_{\text{بالي}} = \frac{c}{\nu} = \frac{h}{mv}</math> ← الزخم الزاوي للإلكترون في مداره</p>	

\* أولاً :- الظاهرة الكهروضوئية :-

- ما يتم في دراسة الظاهرة الكهروضوئية :-

- ① مقارنة بين التفسير الكلاسيكي والتفسير الكمي للظاهرة من حيث :-
- (أ) كيفية امتصاص الإلكترون للطاقة
- (ب) المدة الزمنية لإنبعاث الإلكترونات الضوئية
- (ج) شرط تحرر الإلكترونات من الفلز
- (د) هل ماذا تفقد (أ) للإلكترون
- (هـ) هل ماذا يفقد تيار الإشعاع

\* قواعد :- (أ) عند زيادة التردد

→ تزداد (أ) عدد الإلكترونات المنبعثة

→ تزداد (ب) تيار الإشعاع

→ يبقى (ج) عدد الإلكترونات المنبعثة ثابتاً

(ج) عند زيادة شدة الضوء

→ يبقى (أ) ثابتاً

→ تزداد (ب) عدد الإلكترونات المنبعثة

→ تزداد (ج) تيار الإشعاع

\* حالات طاقة الفوتون  $h\nu$

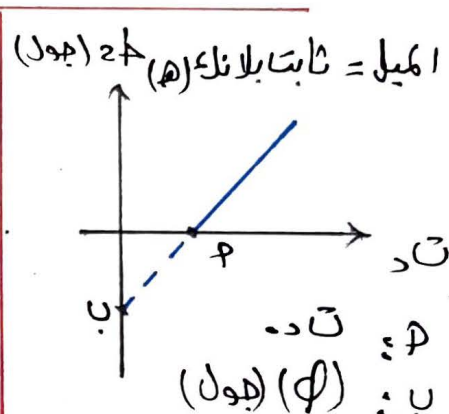
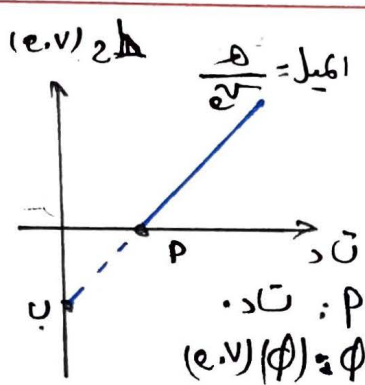
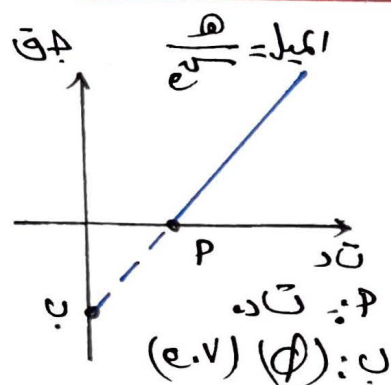
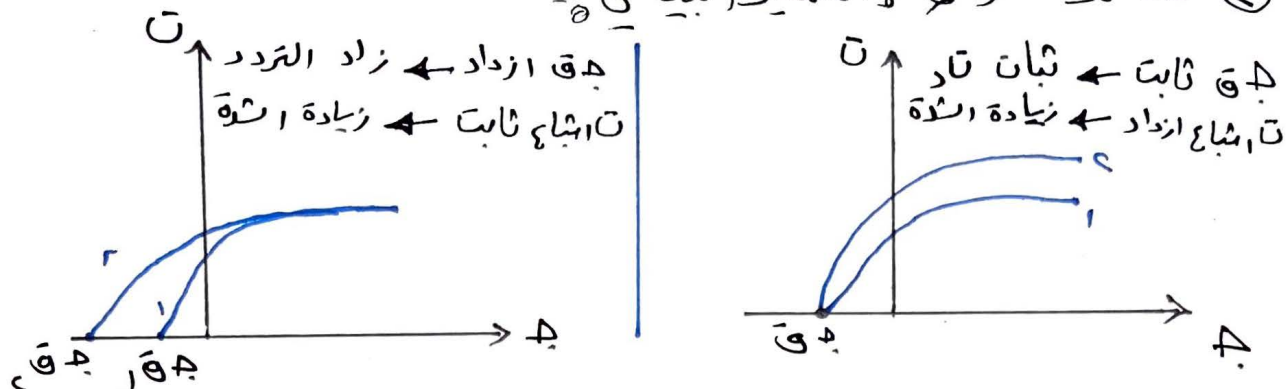
(1)  $h\nu < \phi$  ← تكرر (ع) فقط (أ)

(2)  $h\nu = \phi$  ← تكرر (ع) فقط

(3)  $h\nu > \phi$  ← لن تكرر (ع)



### ٥ مسائل الرسم والتشيل (لياني) ٥



\* خطوات لكل على معادلة الإشعاع الكهروضوئية في مسائل الظاهرة الكهروضوئية -  
(أ) نبدأ بالخطوط حسب القوانين التالية -

في حالة فشل هذه  
القوانين نلجأ لمعادلة  
إشعاع

$$hf + \phi = \text{فوتون}$$

فوتون	$h = hf$	$f = \frac{c}{\lambda}$
فوتون	$\phi = hf$	$f = \frac{c}{\lambda}$
إلكترون	$\frac{1}{2}mv^2 = hf - \phi$	$\frac{1}{2}mv^2 = hf - \phi$

\* ثانياً - متسلسلة ليمان ذرة الهيدروجين :-  
(أ) ليمان ← فوق بنفسجي  
(ب) بالمر ← ضوء مرئي  
(ج) باشتن ← تحت حمراء  
(د) براليت ← تحت حمراء  
(هـ) فوند ← تحت حمراء

\* أقصر طول موجي في المتسلسلة ب :-  
أقل تردد ← أكبر طاقة  
متسلسلة ليمان  
أطول طول موجي في المتسلسلة ب :-  
أقل تردد ← أكبر طاقة  
متسلسلة ليمان


\* أقصر طول موجي في أحد المتسلسلات :-  
أقل تردد ← أكبر طاقة  
متسلسلة ليمان

\* أقصر طول موجي في أحد المتسلسلات :-  
أقل تردد ← أكبر طاقة  
متسلسلة ليمان

## \* ثالثاً: نموذج بور الذري :-

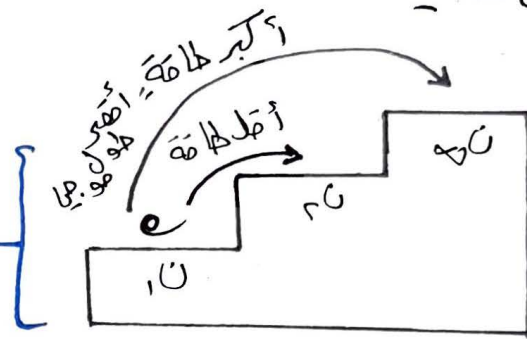
- طاقة التاني = المدار

- لكي ينتقل الإلكترون الى مدار أعلى أو أقل يجب أن تكون طاقة الفوتون المنبعث أو الممتص تساوي فرق الطاقة بين المستويين



مستوى الاستقرار  
n=1 - 13.6

- تعتبر العلاقة كالدرج فعند وجود (e) بالدرجة الأولى مثلاً ويريد أن ينتقل الى الدرجة الثانية فإنه يبذل أقل طاقة وبالتالي أقل تردد وأطول طول موجي  
- أما إذا انتقل الى أبعد درجة (e) فإنه يبذل أكبر طاقة أكبر تردد وأقصر طول موجي



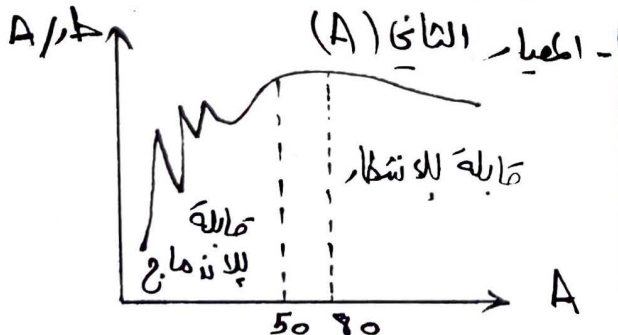
## \* رابعاً: أهم الأفكار الوزارية على الفصل :-

- (1) سؤال على الظاهرة الكهروضوئية - أحد المرححات (سؤال ثابت تقريباً)
- (2) فرضيات بور الاربعة
- (3) الحياض الذرية - المتسلسلات الطيفية المزدوجة للمادة
- (4) حلول موجة دي بروي
- (5) المادة المقلية (تعتبر الأهم)

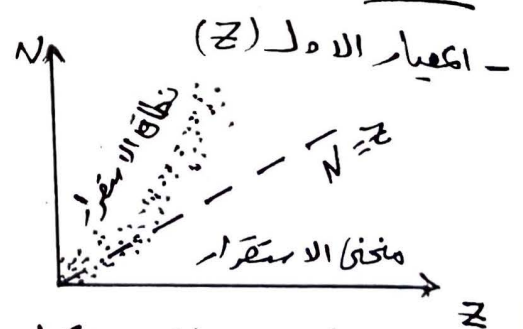


## \* الفصل الثامن :- الفيزياء النووية :-

القانون	استخداماته وكيفية الاستفادة منه
(1) $A = Z + N$	- الكتلة التقريبية للنواة
(2) $R = R_0 A^{1/3}$	- نصف قطر النواة
(3) $2 = \frac{4}{3} \pi R^3 \rho$	- حجم النواة
(4) $\rho = \frac{A}{\frac{4}{3} \pi R^3}$	- كثافة النواة (ثابتة لجميع الأنوية) (يستقار)
(5) $\Delta E = \Delta m c^2$ (جول)	← الطاقة النووية ← $\Delta E$ بوحدة كجم
$\Delta E = 931.5 \text{ MeV}$	← الطاقة النووية ← $\Delta E$ بوحدة م.ع.د
(6) $\Delta E = \{ (Z_1 + N_1) - (Z_2 + N_2) \} \times 931.5$	طاقة الربط النووية بوحدة (م.ع.د)
(7) $\frac{\Delta E}{A} = \text{طاقة الربط لكل نيوكليون}$	- حساب طاقة الربط النووي لكل نيوكليون وذلك من أجل معرفة استقرار النواة.

\* نمذلة :- استقرار النواة :- يوجد معيارين لاستقرار النواة حسب (Z) أو (A)

المعيار الثاني حسب (A/E) (نيوكليون)  
 إذ أنه إعطاء  $\Delta E$  بالوحدات طاقة الربط فيكون  
 (A/E)

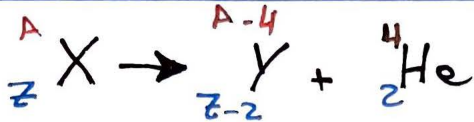


المعيار الأول حسب مخفى الاستقرار مقسمة  
 (Z)  $20 \geq Z$  خفيفة مستقرة  
 $20 < Z < 83$  متوسطة مستقرة  
 $83 \leq Z$  غير مستقرة

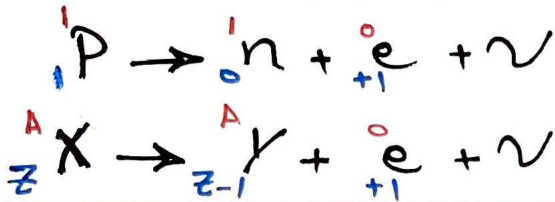


ثانياً :- النشاط الإشعاعي :-

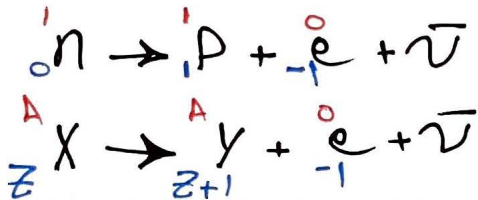
① اضمحلال ألفا (α)



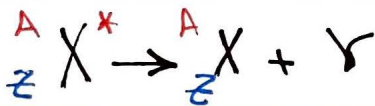
② اضمحلال بيتا الموجب



③ اضمحلال بيتا السالب



④ اضمحلال غاما (γ)



⑤ التفاعل النووي الصناعي



\* ثالثاً :- أهم الأفكار الوزارية على الفصل

(١) سؤال على إكمال المعادلات النووية

(٢) أمثلة معادلة ومثلة الحفظ

(٣) أمثلة على حساب الطاقة الربط النووية

\* إكمال المعادلات النووية مراعاة مايلي :-

① مبدأ حفظ العدد الكتلي ما لذري ② مادة من الأمثلة نلأه بالفراغات :-

(١) ${}^0_{+1} e$	(٤) ${}^1_1 \text{H}$	(٧) $\bar{\nu}$ أو $\nu$
(٢) ${}^0_{-1} e$	(٥) ${}^0_0 n$	(٨) ${}^A_Z X$
(٣) ${}^4_2 \text{He}$	(٦) $\gamma$	(٩) $X^*$

$Z \text{ قبل} = Z \text{ بعد}$

$Z \text{ قبل} = Z \text{ بعد}$

## المجال المغناطيسي

### 1- وضح المقصود بخط المجال المغناطيسي؟

هو المسار الوهمي الذي يسلكه قطب شمالي مفرد (افتراضي) عند وضعه حراً في مجال مغناطيسي.

### 2- اذكر خصائص خطوط المجال المغناطيسي؟

- خطوط المجال المغناطيسي مغلقة تخرج من القطب الشمالي وتدخل إلى القطب الجنوبي خارج المغناطيس وتكمل دورتها بالعكس داخل المغناطيس، لذلك لا يوجد قطب مغناطيسي منفرد.
- يدل اتجاه المماس لخطوط المجال على اتجاه المجال المغناطيسي عند تلك النقطة.
- خطوط المجال المغناطيسي لا تتقاطع.
- كثافة خطوط المجال المغناطيسي عند أي نقطة تدل مقدار المجال عند تلك النقطة.

### 3- فسر: لا يوجد قطب مغناطيسي منفرد؟

لأن خطوط المجال المغناطيسي مغلقة تخرج من القطب الشمالي وتدخل إلى القطب الجنوبي خارج المغناطيس وتكمل دورتها بالعكس داخل المغناطيس.

### 4- كيف يمكن رسم خطوط المجال المغناطيسي؟

باستخدام: برادة الحديد والبوصلة.

### 5- كيف يستدل تجريبياً على اتجاه المجال المغناطيسي ؟

من اتجاه القطب الشمالي البوصلة موضوعه في تلك النقطة.

### 6- فسر: التدفق المغناطيسي خلال أي سطح مغلق يحيط بالمغناطيس يساوي صفراً؟

لأن عدد خطوط المجال التي تخترق السطح من الداخل إلى الخارج يساوي عدد الخطوط التي تخترقه من الخارج للداخل لأنها خطوط.



7- عرف المجال المغناطيسي المنتظم في منطقة ما؟

المجال المغناطيسي الثابت مقدارا واتجاها عند نقاطه جميعا ويمثل بخطوط مستقيمة ومتوازية والمسافات بينها متساوية.

8- عرف المجال المغناطيسي عند نقطة ما؟

هو القوة المغناطيسية المؤثرة في وحدة الشحنات الموجبة لحظة مرورها بسرعة 1 م/ث عمودياً على اتجاه المجال عند تلك النقطة.

9- ما هي العوامل التي تعتمد عليها القوة المغناطيسية المؤثرة في شحنة كهربائية تتحرك في مجال مغناطيسي؟

ش: الشحنة المتحركة / ع: سرعة الشحنة / غ: المجال المغناطيسي / الزاوية بين ع و غ

10- ما هي الحالات التي تنعدم فيها القوة المغناطيسية المؤثرة في جسيم؟

- اذا كانت الشحنة الكهربائية ساكنة.
- اذا كانت الشحنة تتحرك باتجاه يوازي المجال المغناطيسي.
- اذا كان الجسم غير مشحون (متعادل).

11- فسر: جسيم مشحون يتحرك في مجال مغناطيسي ولا يتأثر بقوة؟

لانه يتحرك بشكل موازي للمجال المغناطيسي.

12- ما هو المقصود بالتسلا؟

هو مجال مغناطيسي يؤثر بقوة 1 نيوتن على شحنة مقدارها 1 كولوم تتحرك بسرعة ثابتة 1 م/ث عمودياً على المجال المغناطيسي.

13- ماذا نعني بقولنا أن المجال المغناطيسي لمغناطيس يساوي (3 تسلا)؟

أي أن المجال المغناطيسي يؤثر بقوة مغناطيسية مقدارها 3 نيوتن في شحنة مقدارها 1 كولوم تتحرك بسرعة 1 م/ث عمودياً على اتجاه المجال المغناطيسي.

14- فسر: يستخدم المجال المغناطيسي في المسارعات النووية؟

يستخدم لتوجيه الجسيمات المشحونة.



15- ما اسم القاعدة المستخدمة في تحديد اتجاه القوة المغناطيسية؟

قاعدة راحة اليد اليمنى.

16- اذكر ثلاثة أجهزة كهربائية تعتمد في عملها على القوة المغناطيسية؟

جهاز مكبر الصوت/ جهاز الغلفانوميتر/ محركات السيارات الهجينة.

17- ما المقصود بقوة لورنتز؟

هي محصلة قوتي المجال الكهربائي والمغناطيسي المؤثر في جسيم مشحون عند دخوله منطقة مجالين كهربائي ومغناطيسي.

18- عرف: منتقي السرعة؟

جهاز يستخدم لاختيار جسيمات ذات سرعة محددة وصلها عن باقي الجسيمات وتكون على شكل حزمة من الجسيمات المشحونة المتحركة بسرعة ثابتة بخط مستقيم .

19- وضح عمل منتقي السرعة؟

يستخدم مجالان كهربائي ومغناطيسي متعامدان يؤثر كل منهما في الشحنة المتحركة ويتم اختيار الشحنات المطلوبة من خلال النسبة بين مدوع وبالتالي الشحنات التي تتحرك بهذه السرعة ستتحرك بخط مستقيم بلا انحراف.

20- ما الشرط اللازم توفره لكي يعمل المجالان الكهربائي والمغناطيسي معا لانتقاء سرعة محددة للجسيمات المتحركة؟

يجب أن تكون القوة الكهربائية والمغناطيسية متساويتين في المقدار ومتعاكستين في الاتجاه.

21- عدد استخدامات مطياف الكتلة؟

1- يستخدم لفصل الأيونات المشحونة بعضها عن بعض وفق نسبة شحنة كل منها الى كتلتها لمعرفة كتلتها ونوع شحنتها.

2- دراسة مكونات المركبات الكيميائية.

22- وضح دور كل من المجال المغناطيسي لمنتقي السرعة والمجال المغناطيسي لمطياف الكتلة في جهاز مطياف الكتلة؟

الأول يعمل على توليد قوة مغناطيسية مساوية للقوة الكهربائية لضمان حركة الجسيمات بخط مستقيم أما الثاني يجبر الجسيمات على الحركة في مسار دائري يتناسب نصف قطره طرديا مع الكتلة.

23- فسر: الشغل الذي تبذله القوة المغناطيسية يساوي صفر دائما؟

لأن القوة المغناطيسية دائما عمودية على اتجاه حركة الشحنة حسب العلاقة  
(الشغل = ق × جتا  $\theta$ )

24- فسر: يسلك الجسيم المشحون مسارا دائريا عند دخوله مجال مغناطيسي منتظم بشكل  
عمودي على مساره ؟

بما أن القوة المغناطيسية دائما عمودية على اتجاه السرعة فإن الجسيم المشحون  
سوف يكتسب تسارعا ثابتا وعموديا دائما على السرعة ولكي نحدث هذه الحركة لابد من  
تغيير مستمر في اتجاه السرعة دون تغيير في مقدارها.

25- فسر: من المستحيل أن يحدث المجال المغناطيسي تغيرا في الطاقة الحركية لجسيم مشحون؟

لأن ق × جتا  $\theta$  عمودية على السرعة والإزاحة وبما أن الشغل = ق × جتا  $\theta$  وبما أن ش =  $\Delta$  ط × سيكون  $\Delta$  ط =  
صفر.

26- اذكر العوامل التي يعتمد عليها نصف قطر المسار الدائري الذي يسلكه الجسيم المشحون  
المقذوف عموديا على اتجاه مجال مغناطيسي منتظم ؟

- كتلة الجسم (طردى) - سرعة الجسم (طردى)  
- شحنة الجسم (عكسي) - مقدار المجال المغناطيسي (عكسي).

27- اذكر ثلاثا من العوامل التي تؤثر في اتجاه دوران جسيم مشحون قذف عموديا على اتجاه  
مجال مغناطيسي منتظم ؟

نوع الشحنة / اتجاه حركة الشحنة / اتجاه المجال المغناطيسي.

28- ما هو دور كل من المجال الكهربائي والمجال المغناطيسي في المسارعات النووية ؟

المجال الكهربائي يعمل على تسريع الجسيمات المشحونة أما المجال المغناطيسي  
فيعمل على توجيه الجسيمات المشحونة.

29- قارن القوة المغناطيسية والقوة الكهربائية المؤثرة في شحنة؟

• القوة الكهربائية

▪ تؤثر في الشحنات الساكنة والمتحركة.

- اتجاهها موازي لخطوط المجال المسبب لها الجسم المتأثر يسلك مسارا خطيا.
- نبذل شغلا ونغير طاقة الجسم الحركية (السرعة نغير).
- القوة المغناطيسية
  - تؤثر في الشحنات المتحركة ولا تؤثر في الساكنة.
  - اتجاهها يكون عمودي على المجال المسبب لها والجسم المتأثر يسلك مسارا دائريا.
  - لا نبذل شغلا ولا نغير طاقة الجسم الحركية (السرعة ثابتة).

30- عند قذف نيوترون بشكل عامودي على مجال مغناطيسي ، فإنه لا يتأثر بقوة مغناطيسية؟  
لأن النيوترون جسيم غير مشحون لذلك لن يتأثر بقوة مغناطيسية عند وجوده في مجال مغناطيسي.

31- ما هي العوامل التي تعتمد عليها القوة المغناطيسية المؤثرة في سلك يحمل تيار؟

قيمة التيار / طول السلك / قيمة المجال المغناطيسي / الزاوية المحصورة بين اتجاه التيار والمجال

32- وضح كيف يستدل عملياً على اتجاه القوة المغناطيسية المؤثرة في موصل يحمل تيار وموضوع في مجال مغناطيسي؟

- إنحناء الموصل: إذا كان الموصل قابل للانحناء.
- انزلاق الموصل: إذا كان الموصل قابل للحركة.

33- فسر: يتأثر الموصل الذي يحمل تيارا كهربائيا بقوة مغناطيسية عند وضعه في مجال مغناطيسي؟

التيار الكهربائي هو شحنات كهربائية متحركة باتجاه واحد وعندما يوضع سلك في مجال مغناطيسي فان المجال المغناطيسي سيؤثر بقوة مغناطيسية في الشحنات المتحركة فيه فيتأثر السلك بهذه القوة.

34- صف شكل خطوط المجال المغناطيسي الناشئ عن مرور تيار كهربائي في سلك مستقيم؟

دوائر مغلقة مركزها السلك مستواها عمودي على السلك.

35- اذكر العوامل التي يعتمد عليها المجال المغناطيسي الناشئ عن مرور تيار في سلك مستقيم؟

نوع الوسط المحيط بالسلك - مقدار التيار الكهربائي - بعد النقطة عن السلك.



36- ما اسم الطريقة المستخدمة في تحديد اتجاه المجال المغناطيسي الناشئ عن سلك مستقيم يحمل تيار؟  
قاعدة قبضة اليد اليمنى.

37- صف شكل خطوط المجال المغناطيسي الناشئ عن مرور تيار كهربائي في ملف دائري؟  
في المركز خطوط مستقيمة عمودية على مستوى الملف تنحرف كلما ابتعدنا عن المركز.

38- اذكر العوامل التي يعتمد عليها مقدار المجال المغناطيسي في مركز الملف الدائري؟  
نوع الوسط المحيط / مقدار التيار الكهربائي / عدد لفات الملف / نصف قطر الملف الدائري.

39- صف شكل خطوط المجال المغناطيسي الناشئ عن مرور تيار كهربائي في ملف لولبي؟  
- داخل الملف تكون خطوط المجال متوازية وتكون كثيفة  
- في خارج الملف تكون على شكل دوائر مركزها السلك .  
- خارج الملف يكون المجال مهمل ( بسبب صغیر قيمة مقارنة بداخله )  
- عند الأطراف : تبدأ خطوط المجال بالانتشار نحو الخارج فتقل قيمته ويصبح غير منتظم.

40- ما اسم الطريقة المستخدمة في تحديد اتجاه المجال المغناطيسي الناشئ عن ملف لولبي يحمل تيار؟  
قاعدة قبضة اليد اليمنى.

41- اذكر العوامل التي يعتمد عليها مقدار المجال المغناطيسي الناشئ عن ملف لولبي ؟  
عدد اللفات / مقدار تيار الملف / طول الملف / نوع الوسط المحيط .

42- تستخدم أسلاك رفيعة ومتراصة في صنع الملف اللولبي. علل ذلك؟  
للحصول على مجال مغناطيسي منتظم تماما داخل الملف اللولبي.

## 43- مما يتكون الملف اللولبي؟

يتكون من عدد من الحلقات الدائرية المتماثلة في نصف القطر ونقع مراكزها على خط مستقيم بحيث يكون المجال داخله هو ناتج الجمع الإنجائي للمجالات المغناطيسية جميعها الناتجة من مرور تيار في الحلقات الدائرية المكونة له.

## 44- ما الفرق الذي يميز الملف اللولبي عن المغناطيس المستقيم؟

يمتاز الملف اللولبي عن المغناطيس المستقيم بإمكانية التحكم في مقداره واتجاهه عن طريق التحكم في التيار المار فيه.

## 45- هل تتغير قيمة المجال المغناطيسي داخل الملف اللولبي عند الانتقال من منتصف محور الملف اللولبي نحو طرفيه ؟ فسر اجابتك ؟

نعم سوف يقل المجال المغناطيسي عند الاقتراب من طرفي الملف والسبب في ذلك هو تباعد خطوط المجال المغناطيسي عن بعضها كلما اقتربنا من الأطراف.

## 46- فسر: عدد خطوط المجال المغناطيسي داخل الملف اللولبي يكون كبيرا؟

لأنه يمثل المجال الناشئ عن تيار كل لفه من لفاته.

## 47- كيف تجعل المجال المغناطيسي داخل الملف اللولبي أكثر انتظاما؟

عن طريق جعل اللفات أكثر تراصا.

## 48- ما القطب المغناطيسي الذي يشير اليه الإبهام عند تطبيق قاعدة قبضة اليد اليمنى على الملف اللولبي؟

القطب الشمالي.

## الحث الكهرومغناطيسي

- 1- ما المقصود بالتدفق المغناطيسي وما وحدة قياسه؟  
هو عدد الخطوط التي تعبر سطحاً ما عمودياً عليه ووحدة قياسه الوبير.
- 2- ما المقصود بالويبر؟  
هو مقدار التدفق المغناطيسي على سطح مساحته  $1\text{ م}^2$  يتأثر بمجال مغناطيسي مقداره 1 تسلا يخترق سطحه عمودياً عليه.
- 3- كيف يمكن تغيير التدفق المغناطيسي الذي يخترق ملف؟  
تغيير المجال المغناطيسي / تغيير الزاوية بين المجال ومتجه المساحة / تغيير مساحة السطح الذي تخترقه خطوط المجال.
- 4- متى يكون للتدفق المغناطيسي قيمة عظمى؟  
عندما تكون خطوط المجال المغناطيسي عمودية على مستوى الملف (خطوط المجال ثوابت متجه المساحة).
- 5- متى ينعدم التدفق؟  
عندما تكون خطوط المجال المغناطيسي موازية لمستوى الملف (خطوط المجال تعامد متجه المساحة)
- 6- ما دلالة الإشارة السالبة والموجبة في التدفق المغناطيسي؟  
التدفق السالب يعني أن خطوط المجال المغناطيسي تخترق السطح داخله فيه التدفق الموجب يعني أن خطوط المجال المغناطيسي تخترق السطح خارجه منه.
- 7- ماذا نعني بقولنا أن التدفق المغناطيسي عبر سطح مغموور في مجال مغناطيسي يساوي 4 ويبر؟  
أي أن المجال المغناطيسي الذي يخترق سطحاً مساحته  $1\text{ م}^2$  عمودياً عليه يساوي 4 تسلا خارجاً منه



8- ماذا نعني بقولنا ان التدفق المغناطيسي عبر سطح مغموور في مجال مغناطيسي يساوي - 8 ويير؟

أي أن المجال المغناطيسي الذي يخترق سطحاً مساحته  $1\text{ م}^2$  عمودياً عليه يساوي -8 نسلاً داخلاً فيه

9- عرف التيار الحثي؟

هو التيار الناشئ من حركة الموصل في مجال مغناطيسي يقطع خطوط المجال.

10- ما هي الطرق التي يمكن من خلالها توليد تيار حثي في حلقة؟

تقليل مساحة الحركة/ تدوير الحلقة حول أحد أقطارها/ تحريك الحلقة خارج وداخل خطوط المجال وهي متعامدة مع المجال.

11- ما المقصود بظاهرة الحث الكهرومغناطيسي؟

ظاهرة تولد التيار الحثي بسبب تغير التدفق المغناطيسي عبر الملف.

12- فسر: تولد قوة دافعة كهربائية حثية في سلك مستقيم يتحرك عمودياً على مجال مغناطيسي منتظم؟

عند تحريك السلك بسرعة ع نتولد قوة مغناطيسية تعمل على تحريك الشحنات الموجبة على طرف السلك والشحنات السالبة على الطرف الآخر للسلك مما يؤدي الى توليد مجال كهربائي داخل السلك فيولد فرق في الجهد الكهربائي ينشأ عنه قوة دافعة كهربائية حثية.

13- فسر : اثناء سحب موصل بسرعة ثابتة باتجاه عمودي على خطوط مجال مغناطيسي منتظم تتوقف حركة الشحنات الحرة داخل الموصل باتجاه طرفيه بعد فترة ؟

بسبب انزاح القوة الكهربائية مع المغناطيسية (نساوي القوتان).

14- ماذا تسمى الطريقة المستخدمة في تحديد اتجاه القوة الدافعة الحثية؟

كف اليد اليمنى.

15- ماهي العوامل التي يعتمد عليها مقدار القوة الدافعة الحثية المتولدة في موصل؟  
طول الموصل / سرعة حركة الموصل / المجال المغناطيسي.

16- علام تدل الإشارة السالبة في القانون  $\mathcal{E} = - \frac{d\Phi}{dt}$  والقانون  $\mathcal{E} = - \frac{d\Phi}{dt}$ ؟  
أن القوة الدافعة الحثية تتولد بحيث تقاوم التغير في التدفق.

17- ما الشرط اللازم توفره حتى يتحرك سلك بسرعة ثابتة في مجال مغناطيسي؟  
وجود قوة خارجية تحرك الموصل مساوية للقوة المغناطيسية المؤثرة عليه ومعاكسة لها بالاتجاه.

18- عندما يتحرك موصل مستقيم بسرعة محددة في مجال مغناطيسي منتظم قد تتولد في الملف قوة دافعة حثية وقد لا تتولد وضح كيف يتم ذلك؟  
إذا كان طول موصل موازيا لاتجاه المجال المغناطيسي فإن متوسط القوة الدافعة سيكون صفرا، وذلك لعدم قطع خطوط المجال، أما في حالة كان طول الموصل عمودي على اتجاه المجال المغناطيسي فستتولد فيه قوة دافعة حثية تولد نيارا حثية عندما تكون الدارة مغلقة.

19- اذكر نص قانون فارادي؟  
القوة الدافعة الكهربائية الحثية تتناسب تناسب طرديا مع المعدل الزمني للتغير في التدفق المغناطيسي الذي يخترق الدارة الكهربائية.

20- اذكر نص قانون لنز؟  
يكون اتجاه التيار الحثي بحيث ينتج عنه مجال مغناطيسي يقاوم التغير في التدفق المغناطيسي المسبب له.

21- وضح المقصود بالحث الذاتي؟  
هو تولد قوة دافعة حثية ذاتية في الملف بسبب تغير التدفق المغناطيسي من الملف ذاته.



## 22- وضح المقصود بالقوة الدافعة الحثية الذاتية العكسية؟

نشأ قوة دافعة حثية لعاكس القوة الدافعة الكهربائية عند إغلاق الدارة وزيادة التيار الكهربائي لتقاوم الزيادة في التدفق.

## 23- وضح المقصود بالقوة الدافعة الحثية الذاتية الطردية؟

نشأ قوة دافعة حثية طردية القوة الدافعة الكهربائية عند فتح الدارة ونقصان التيار الكهربائي لتقاوم النقصان في التدفق.

24- فسر: عند غلق دائرة كهربائية تحتوي محاثا لا يصل التيار قيمته العظمى مباشرة (لا يضيء المصباح مباشرة)؟

لانه عند غلق المفتاح نتولد قوة دافعة حثية ذاتية عكسية تقاوم زيادة التدفق فيتكون تيار حثي اتجاهه عكس التيار الأصلي.

25- فسر: عند فتح الدارة الكهربائية التي تحتوي محاثا لا يصل التيار الى الصفر مباشرة (لا ينطفأ المصباح مباشرة)؟

لانه عند فتح المفتاح نتولد قوة دافعة حثية طردية تقاوم نقصان التدفق المغناطيسي كما في يكون اتجاه التيار الحثي مع التيار الأصلي.

## 26- ما المقصود بالمحثة ( معامل الحث الذاتي ) ؟ وما وحدة قياسها ؟

النسبة بين القوة الدافعة الكهربائية الحثية المتولدة فيه، والمعدل الزمني لتغير التيار فيه، وحدة قياس المحثة هي هنري = ( فولت . ث / أمبير ).

## 27- ما المقصود بالهنري؟

محثة محث نتولد فيه قوة دافعة كهربائية حثية ذاتية مقدارها فولت واحد عندما يتغير التيار فيه بمعدل أمبير واحد في الثانية الواحدة.



28- ما هي العوامل التي يعتمد عليها معامل الحث الذاتي لملف ( محث ) لولبي ؟ (كيف يمكن تغيير محاثه ملف لولبي)؟

- مساحة مقطع الملف (العلاقة طردية) - طول الملف (العلاقة عكسية) - مربع عدد لفات الملف (العلاقة طردية) - النفاذية المغناطيسية للمادة داخل الملف (العلاقة طردية).

29- ماذا نعني بقولنا أن محاثه محث تساوي 2 هنري؟

هذا يعني انه نتولد قوة دافعة حثية مقدارها 2 فولت عندما يكون المعدل الزمني لنمو التيار في المحث يساوي 1 امبير/ث.

30- فسر: القوة الدافعة الكهربائية الحثية المتولدة في ملف لولبي أكبر من تلك المتولدة في موصل مستقيم عندما يمر بهما التيار نفسه؟

لأنه عند تغير التيار في إحدى اللفات يتغير التدفق المغناطيسي الناتج منه ونتيجة ذلك نتولد قوة دافعة حثية في اللفة المجاورة وهكذا ولأن اللفات موصولة مع بعضها فان القوة الدافعة الحثية في الملف تكون كبيرة.

31- كيف يمكن زيادة معدل نمو التيار او تلاشيهِ؟

عن طريق تقليل محاثه المحث أو زيادته.

32- في دائرة تحتوي محث وعند فتح الدارة الكهربائية فإن التيار يتلاشى تدريجيا مع الزمن حتى ينعدم على ماذا تعتمد هذه الفترة الزمنية؟

- محاثه المحث (علاقة طردية).

33- اذكر العوامل التي يعتمد عليها معدل نمو التيار ( $\Delta I / \Delta t$ )؟

- معامل الحث (ح) (العلاقة عكسية) - مقدار المقاومة الكلية (العلاقة عكسية)

34- فسر: في دائرة مقاومة ومحث وبعد فترة من غلق الدارة الكهربائية يقل معدل نمو التيار عندما تكون محاثه المحث كبيرة ؟

لان معدل نمو التيار يتناسب عكسيا مع محاثه المحث مما يؤدي الى زيادة الفترة الزمنية المستغرقة ليصل التيار الى قيمته العظمى.



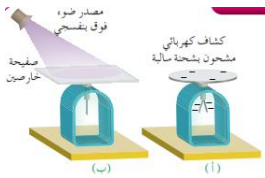
35- إذا حركت مغناطيس داخل ملف فستشعر بمقاومته لهذه الحركة، لماذا تكون هذه المقاومة أكبر في ملف عدد لفاته أكبر؟

عند دفع المغناطيس داخل الملف يتولد فيه قـر. ننتج تـ ينتج غـ معاكس للمجال الأصلي فتتولد قوة تنافر مغناطيسي بينهما فتعيق تقدم المغناطيس بإتجاه الملف وكلما زاد عدد لفات الملف يزداد كل من قـر و تـ وغـ لذلك تزداد قوة التنافر بينهما ونشعر بمقاومة أكبر أثناء إدخال المغناطيس.

يوسف غيث

## مقدمة إلى فيزياء الكم

- 1- اذكر احد اهم الانجازات للفيزياء الكلاسيكية؟  
أن الأجسام فوق درجة الصفر المطلق نشع طاقة وهذه الطاقة تتألف من موجات كهرومغناطيسية.
- 2- ما نوع انبعاث الطاقة من المادة وفقا للنظرية الكلاسيكية؟  
انبعاث متصل.
- 3- ما هو مفهوم بلانك للإشعاع؟  
افترض ماكس بلانك مفهوما جديدا للإشعاع باعتباره وحدات منفصلة وغير متصلة الطاقة تسمى (كمات) طاقة غير قابلة للتجزئة تتناسب مع تردد مصدر الاشعاع.
- 4- اكتب نص فرضية بلانك والتي تعرف باسم مبدأ تكمية الطاقة ؟  
الطاقة الإشعاعية المنبعثة او الممتصة تساوي عددا صحيحا من مضاعفات الكمية (هـ تـ ر).
- 5- ما الفرق بين تفسير بلانك للإشعاع الصادر عن الاجسام وتفسير الفيزياء الكلاسيكية؟  
نفترض الفيزياء الكلاسيكية أن الجسيمات المهتزة يمكن أن تمتلك أي مقدار من الطاقة ويمكن أن نشع أو نمتص أي مقدار من الطاقة ويكون متصلا ويأخذ أي قيمة وهذا يتعارض مع فرضية بلانك.
- 6- وضح المقصود بالظاهرة الكهروضوئية؟  
ظاهرة إطلاق الكترونات من سطح الفلزات عند سقوط ضوء مناسب عليها ذو تردد معين يسمى تردد العتبة، وتسمى الالكترونات المنبعثة الالكترونات الضوئية.
- 7- عند سقوط الضوء تنطلق الالكترونات كيف يمكن اثبات ذلك باستخدام الكشف الكهربائي ؟





إذا كان الكشاف مشحون بشحنة سالبة فإن ورقتي الكشاف نطبقان، والسبب في ذلك هو أنه عند سقوط الضوء، فوق البنفسجي على الخارصين فإنه يحرر الإلكترونات فتصبح شحنته موجبة تنتقل إلى الكشاف فتشحنه بشحنة موجبة فتطبق الورقتان إذا كان الكشاف مشحون بشحنة موجبة فإن ورقتي الكشاف نبقىان منفرجتين. والسبب في ذلك هو أنه عند سقوط الضوء، فوق البنفسجي على الخارصين فإنه يحرر الإلكترونات فتصبح شحنته موجبة تنتقل إلى الكشاف فتشحنه بشحنة موجبة فيزداد انفراج الورقتين.

8- فسر: في تجربة الظاهرة الكهروضوئية تم عكس أقطاب البطارية حيث وصل الباعث بالقطب الموجب والجامع بالقطب السالب؟

كي ينشأ مجال كهربائي يعاكس حركة الإلكترونات ويبطئ سرعتها.

9- ماذا نستنتج من أن قراءة الميكروميتر تتناقض تدريجياً؟

أن الإلكترونات المتحررة تتفاوت في طاقتها الحركية.

10- ما هي العوامل التي تعتمد عليها الطاقة الحركية العظمى للإلكترونات المنطلقة؟

- تردد الضوء، الساقط - فرق الجهد بين اللوح الجامع والباعث ( جهد القطع).

11- ما المقصود بجهد القطع ( الإيقاف )؟

هو فرق الجهد العكسي اللازم لإيقاف أسرع الإلكترونات والتي تمتلك طاقة حركية عظمى.

12- على ماذا يعتمد انبعاث الإلكترونات من سطح فلز ما؟

أن يكون تردد الضوء، الساقط أكبر من تردد العتبة لمادة الفلز.

13- ما المقصود بتردد العتبة تد؟

هو أقل تردد للضوء، الساقط (الفوتون) يمكنه من اكتساب طاقة كافية لتحرير الإلكترون من سطح الفلز ويختلف من فلز إلى آخر.

## مقدمة إلى فيزياء الكم

الأستاذ: يوسف غيث

مكتف مادة الفيزياء

- 14- ماذا نعني بقولنا أن تردد العتبة تد. للصوديوم يساوي  $1510 \times 2$  هيرتز؟  
هذا يعني أنه إذا سقط على سطح الصوديوم ضوء، نرده أقل من  $10 \times 2^{15}$  هيرتز فلن يتمكن من تحرير الإلكترونات.
- 15- ما الذي أثبتته تجربة لينارد؟  
التجربة أثبتت أن الطاقة الحركية للإلكترونات المنبعثة تعتمد فقط على تردد الضوء، وهذا ما لم نستطع الفيزياء الكلاسيكية تفسيره.
- 16- فسر: لا تنبعث الإلكترونات من سطح فلز ما عند سقوط الضوء عليه؟  
لأن تردد الضوء الساقط أقل من تردد العتبة لمادة الفلز.
- 17- وضح المقصود بالتيار الكهروضوئي؟  
التيار الناتج من حركة الإلكترونات المنبعثة من المهبط و المتجهة إلى المصعد.
- 18- وضح المقصود بتيار الأشباع؟  
هو التيار الكهروضوئي الناتج من حركة الإلكترونات الضوئية جميعها المتحررة من المهبط و الواصلة إلى المصعد.
- 19- ما المقصود باقتران الشغل؟  
أقل طاقة لازمة لتحرير الإلكترون من سطح الفلز ويرمز له  $(\phi)$
- 20- ما المقصود بالالكترون فولت؟  
الطاقة التي يكتسبها الكترون عندما يتحرك عبر فرق جهد مقداره 1 فولت.
- 21- ما الذي أثبتته تجربة لينارد ؟  
التجربة أثبتت أن الطاقة الحركية للإلكترونات المنبعثة تعتمد فقط على تردد الضوء، وهذا ما لم نستطع الفيزياء الكلاسيكية تفسيره.
- 22- تتناقض الفيزياء الكلاسيكية مع نتائج تجربة لينارد؟ علل؟



( فرضيات الفيزياء الكلاسيكية ) لأن الفيزياء الكلاسيكية افترضت ما يلي:

- 1- الإلكترونات تمتص الطاقة على نحو مستمر فمن المتوقع أن زيادة شدة الضوء، تؤدي إلى زيادة معدل امتصاص الطاقة وهذا يتنافى مع التجربة.
- 2- وفق الكلاسيكية من المتوقع أن يحتاج الإلكترون إلى بعض الوقت لامتناس الطاقة الكافية ونجميعها ليتحرر من الفلز.
- 3- نتوقع الفيزياء الكلاسيكية أن نتبع الإلكترونات من سطح الفلز مهما كان تردد الضوء، بشرط أن تكون شدة الضوء مناسبة.

23- ما الخاصيتان اللتان جعلتا الظاهرة الكهروضوئية معضلة للفيزياء الكلاسيكية؟

- حتى نتبع الإلكترونات من سطح الفلز لابد أن يكون تردد الضوء أكبر من تردد العتبة بغض النظر عن شدة الضوء.
- ازدياد طاقة الحركة للإلكترونات المنبعثة بازدياد تردد الضوء الساقط.

24- في الظاهرة الكهروضوئية فسر ثبات التيار الكهربائي على الرغم من زيادة فرق الجهد الموجب؟

هذا يعني أن الإلكترونات المتحررة من المهبط جميعها قد وصلت المصعد.

25- ما الذي قدمه اينشتين لتفسير الظاهرة الكهروضوئية؟

- عمم مبدأ تكميم الطاقة لبلاذك
- افترض أن الضوء ينبعث على شكل كميات من الطاقة سماها فوتونات
- الفوتون الواحد عند سقوطه على الفلز يعطي طاقته كاملة للإلكترون واحد (أي أن عملية امتصاص الطاقة غير مستمرة)

26- كيف فسر اينشتين النتائج التجريبية للظاهرة الكهروضوئية ؟

- 1- عند زيادة شدة الضوء، على فلز مع بقاء التردد ثابت فإن عدد الفوتونات الساقطة يزداد وحيث أن كل إلكترون متحرر يمتص فوتون واحد فإن عدد الإلكترونات المتحررة يزداد فيزداد التيار الإشباع.
- 2- نتحرر الإلكترونات الضوئية فور سقوط الضوء، الفوتون عليها وذلك عندما تكون  $\phi_{\text{فوتون}} > \phi$
- 3- وفق معادلة اينشتين فإن أقل طاقة يمتلكها فوتون نلزم لتحرير إلكترون من سطح الفلز تساوي اقتران الشغل  $\phi_{\text{فوتون}} = \phi$

27- لن تتحرر الكتروونات من سطح الفلز إذا كان تردد الضوء الساقط أقل من تردد العتبة علل؟



## مقدمة إلى فيزياء الكم

الأستاذ: يوسف غيث

مكتف مادة الفيزياء

وفق معادلة اينشتاين فإن اقل طاقة يمتلكها فوتون لنظم لتحرير الكترون من سطح الفلز تساوي اقتران الشغل  $\phi$  للفوتون =

حالات طاقة الفوتون الساقط على سطح فلز

$\phi < \text{طهون}$	تحرر الإلكترونات ونعطى طاقة حركية
$\phi = \text{طهون}$	تحرر الإلكترونات فقط من سطح الفلز دون إعطائها طاقة حركية
$\phi > \text{طهون}$	لا يتحرر أي إلكترون

28- كيف فسّر اينشتاين انبعاث الالكترونات الضوئية بسرعات مختلفة؟

عندما نتحرر الإلكترونات من سطح الفلز نصطدم الإلكترونات الأعمق بالذرات التي في طريق خروجها فاقدة جزءاً من طاقتها الحركية لذا تتفاوت الإلكترونات الضوئية في سرعة انبعاثها من سطح الفلز والسرعة التي نحدد تجريبياً هي فقط السرعة العظمى عن طريق قياس جهد القطع.

29- فسّر: تتفاوت الالكترونات المتحررة في طاقتها الحركية؟

نبحث لموقعها في الذرة (بعد الالكترون عن سطح الفلز).

30- فسّر: الطاقة اللازمة لتحرير الكترون من سطح الفلز اقل من الطاقة اللازمة لانتزاع الالكترون من داخل الفلز؟

الالكترونات على سطح الفلز لا نصطدم بذرات الفلز قبل تحررها بينما الالكترونات داخل الفلز نصطدم بذرات الفلز فتخسر طاقة حركية قبل تحررها.

31- كيف يمكن تحرير الكترون من سطح فلز دون اكسابه طاقة حركية؟

عندما تكون طاقة الفوتون مساوية لاقتران الشغل للفلز.

32- فسّر: يبقى فرق جهد القطع ثابتاً على الرغم من زيادة شدة الضوء الساقط ؟

لأن زيادة شدة الإضاءة تعني زيادة عدد الفوتونات فقط، لذلك تبقى طاقتها الحركية ثابتة.

33- وضح المقصود بطول موجة العتبة؟

هو أكبر طول موجي ( $\lambda$ ) للضوء، الساقط يمكنه من تحرير الإلكترونات من سطح اللغز دون اكتسابه طاقة حركية.

34- ماذا يحدث للتيار الكهربائي عند زيادة شدة الإضاءة؟ كيف تفسر ذلك؟

يزداد التيار الكهربائي لأن عدد الفوتونات الساقطة يزداد وبالتالي يزداد عدد الإلكترونات المتحررة.

35- ماذا يحدث لفرق جهد القطع عند زيادة تردد الضوء الساقط مع بقاء شدة الضوء ثابتة؟ يزداد فرق جهد القطع بسبب زيادة طاقة الفوتونات المتحررة وزيادة طاقتها الحركية.

36- عدد انواع الاطياف الذرية؟ وكيف تنتج؟

1- الطيف المتصل: هو طيف ينبعث عن الأجسام عند تسخينها.

2- طيف خطي: ويقسم الى نوعين:

- طيف انبعاث خطي: يظهر على هيئة خطوط ملونة على خلفية سوداء، ويكون لهذه الخطوط أطوال موجية محددة وينبعث عن الغازات ذات الضغط المنخفض في أنابيب التفريغ الكهربائي، ولكل عنصر طيف انبعاث خطي خاص به.

- طيف امتصاص خطي: يظهر على هيئة خطوط سوداء، تتخلل الطيف المتصل للضوء، الأبيض ويظهر عن طريق تحليل الضوء، الأبيض عند مروره في غاز معين، ولكل غاز طيف امتصاص خطي خاص به.

37- ما هي فرضيات بور بالنسبة لذرة الهيدروجين؟

1- يتحرك الإلكترون حول النواة في مدارات دائرية بتأثير قوة الجذب الكهربائية بين الإلكترون السالب والنواة الموجبة.

2- هناك مجموعة محددة من المدارات التي يمكن للإلكترون أن يتواجد فيها ويكون لها طاقة ثابتة ونسمى مستويات الطاقة ولا يمكن للإلكترون أن يشع إذا بقي في نفس مستوى الطاقة.

## مقدمة إلى فيزياء الكم

الأستاذ: يوسف غيث

مكتف مادة الفيزياء

3- يشع الإلكترون طاقة مكتمة على شكل فوتون اذا انتقل من مستوى طاقة عال الى مستوى اقل، واذا انتقل من مستوى طاقة منخفض الى عال فانه يجب ان يمتص فوتون له طاقة تساوي فرق الطاقة بين المستويين  $E_{\text{فوتون}} = E_{\text{ط}} - E_{\text{د}}$ .

4- يمتلك الإلكترون زخما زاويا يعطى بالعلاقة التالية  
الزخم الزاوي (  $L$  ) =  $\hbar$   $m$   $\ell$  ويكون زخمه من مضاعفات المقدار  $(\hbar/2)$  أي أن الزخم مكتمل حسب المدار الذي يسمح للإلكترون التواجد فيه.  
38- ما معنى أن تكون الطاقة الكلية للمدار سالبة (ما معنى الإشارة السالبة في القانون  $E = -13.6/n^2$  ط)؟

هذا يعني أنه يجب تزويد الإلكترون بطاقة لتحريره من مداره في الذرة دون اعطائه طاقة حركية.

39- ما المقصود بمستوى الاستقرار؟  
أدنى مستوى للطاقة يمكن أن يكون فيه الإلكترون وهو عندما  $n=1$ .

40- ماذا تسمى المستويات التي تعلو المستوى الأول؟  
مستويات الانارة.

41- ماذا نعني بقولنا ان الإلكترون موجود في مستوى الانارة الثالث؟  
هذا يعني ان الإلكترون يتواجد في مستوى الطاقة الرابع.

42- عدد نتائج نظرية بور (انجازات بور)؟  
- حساب أنصاف أقطار المدارات التي من المسموح للإلكترون أن يوجد فيها.  
- حساب طاقة المدارات

- حساب الزخم الزاوي للإلكترون في مداره.  
43- ما اسم الجهاز الذي يستخدم في تحليل الطيف؟  
المطياف.

44- فسر: يعد طيف الانبعاث الخطي صفة مميزة للعنصر؟  
لان لكل عنصر طيف خاص به.



## مقدمة إلى فيزياء الكم

الأستاذ: يوسف غيث

مكتف مادة الفيزياء



45- ما معنى أن تكون الطاقة الكلية للمدار سالبة؟

هذا يعني أنه يجب تزويد الإلكترون بطاقة لتحريره من الذرة دون إعطائه طاقة حركية

46- ما هو النموذج الذي نجح في تفسير الظاهرة الكهروضوئية؟

النموذج الجسيمي.

47- ما هو الاقتراح الذي قدمه دي بروي للجسيمات المادية؟

اقترح أن للجسيمات المادية خصائص موجية.

48- ما هي التجارب التي يسلك فيها جسم مثل الإلكترون سلوك الموجات؟

نداخل الضوء، وحيود الضوء.

49- ما هي التجارب التي يسلك فيها الضوء سلوك الجسيمات؟

الظاهرة الكهروضوئية.

50- فسر: الطبيعة الموجية لا تظهر بوضوح في عالم الأجسام الكبيرة (الجاهرية)؟

لأن طول موجتها صغير جداً والسبب هو أن كتلتها كبيرة والعلاقة بين كتلتها وطول الموجة عكسية.

## الفيزياء النووية

- 1- **وضح المقصود بالنيوكليونات؟**  
مجموع البروتونات والنيوكليونات ويسمى العدد الكتلي.
- 2- **وضح المقصود بالنظائر للعنصر؟**  
الذرات التي لتساوى في عددها الذري وتختلف في عددها الكتلي (تختلف في عدد النيوترونات).
- 3- **وضح المقصود بالقوة النووية؟**  
قوة تجاذب ذات مدى قصير تنشأ بين النيوكليونات جميعها بغض النظر عن شحنتها.
- 4- **عدد مكونات النواة التي تنشأ بينها قوى نووية؟**  
تنشأ القوة النووية بين بروتون و نيوترون وبين نيوترونين و بين بروتونين.
- 5- **ما هي أهم الخصائص للقوة النووية؟**  
ذات مدى قصير/ تنشأ بين النيوكليونات المتجاورة/ قوة تجاذب/ لا تعتمد على نوع النيوكليون.
- 6- **فسر: عدد النيوترونات يعتبر عاملا مهما في استقرار النواة؟**  
لانه كلما زاد عدد النيوترونات على عدد البروتونات كلما سادت القوة النووية على القوة الكهربائية.
- 7- **اكتب صيغة رياضية تقريبية لكتلة النواة؟**  
بما أن  $(Z + N = A)$  وكتلة النيوترونات تساوي البروتون تقريبا فان كتلة النواة  $= A \cdot m_p$ .
- 8- **ماذا نعني بقولنا: "نوى العناصر ذات العدد الذري الأكبر من 83 غير مستقرة" ؟**

## الفيزياء النووية

الأستاذ: يوسف غيث

مكتف مادة الفيزياء

كلما زاد العدد الذري فهذا يعني زيادة القوى الكهربائية داخل النواة وبالتالي قل استقرارها.

الجدول يبين استقرار النواة بناء على العدد الذري

نوى خفيفة مستقرة	$20 \geq Z$
نوى متوسطة مستقرة	$20 < Z < 83$
نوى غير مستقرة	$Z \geq 83$

الجدول يبين استقرار النواة بناء على العدد الكتلي

قابلة للإندماج	$50 > A$
أعلى طاقة ربط نووي (الأكثر استقراراً)	$80 \geq A \geq 50$
قابلة للإندماج	$A > 80$

9- وضح المقصود بطاقة الربط النووي؟

مقدار الطاقة التي يجب أن نزود بها النواة لفصل مكوناتها.

10- فسر: كتلة النواة دائماً أقل من مجموع كتل مكوناتها؟

لأن الفرق في الكتلة يمثل مقدار الطاقة اللازم لنزويد النواة بها لفصل مكوناتها.

11- كيف تصبح النواة أكثر استقراراً؟

عندما تتحول إلى نواة ذات كتلة أقل وطاقة ربط أعلى عن طريق الإشعاع (الاضمحلال).

12- ما هو العامل الأهم في تحديد مدى استقرار النواة؟

طاقة الربط النووي لكل نيوكليون.

13- وضح المقصود بالنشاط الإشعاعي؟

هو نتائج عملية اضمحلال لنوى غير مستقرة.

## 14- عرّف النشاط الإشعاعي؟

عملية الانبعاث التلقائي للإشعاع من النوى غير مستقرة.

## 15- ماذا نعني بقولنا أن النواة اضمحلت؟

أي أن النوى غير المستقرة تتحول إلى نواة جديدة ذات كتلة أقل وطاقة ربط أعلى ويصاحب هذا التحول انبعاث إشعاع.

## 16- ماهي انواع الاشعاع المنبعث من النواة؟

اشعة ألفا  $\alpha$  واشعة بيتا  $\beta$  واشعة جاما  $\gamma$

## 17- ما هي المبادئ الأربعة التي تخضع لها جميع التفاعلات النووية؟

- مبدأ حفظ الشحنة/ مبدأ حفظ الكتلة ( العدد الكتلي ) / مبدأ حفظ الزخم/ مبدأ حفظ الطاقة- الكتلة.

## 18- كيف يمكن التمييز بين انواع الاشعاع الثلاث؟

يمكن التمييز بينها باستخدام مجال مغناطيسي فعند مرورها في مجال مغناطيسي نحو الداخل نتجة اشعة ألفا نحو اليسار واشعة بيتا نحو اليمين أما جاما فلا تتأثر بالمجال المغناطيسي.

## مقارنة بين الإشعاعات الثلاث

نوع الإشعاع	$\alpha$	$\beta$	$\gamma$
المقارنة			
الطبيعة	جسيمات ${}^4_2\text{He}$	الكترونات أو بوزيترونات	أشعة كهرومغناطيسية
الشحنة	موجبة $2+$	موجبة أو سالبة	لا شحنة لها
الكتلة	كبيرة جداً كتلة الهيليوم	كتلة الإلكترون وأقل من ألفا	ليس لها كتلة
السرعة	الأبطأ	أعلى سرعة من ألفا	سرعة الضوء (الأسرع)
القدرة على التأين	الأعلى قدرة	أقل قدرة من ألفا	الأقل قدرة
القدرة على النفاذية	الأقل قدرة	أعلى قدرة من ألفا	الأعلى قدرة





19- لماذا تعد اشعة ( $\alpha$ ) الأكثر قدرة على تأيين الأجسام؟

بسبب كبر كتلتها وشحنتها مما يجعل احتمال تصادمها مع الذرات كبيراً.

20- اين يكمن الخطر الحقيقي للاشعاع النووي؟

يكن في قدرتها على التأيين ففي الكائنات الحية ينجم عن عملية التأيين تفاعلات كيميائية تؤدي إلى تخریب الأنسجة داخل الخلايا ونسب الطفرات وتحول الخلايا الى خلايا سرطانية.

21- ما هي العوامل التي يعتمد عليها مقدار الضرر البيولوجي للاشعاع ؟

نوع الاشعاع / مقدار طاقته / العضو المعرض له

22- فسر: اذا كان مصدر الاشعاع خارج جسم الانسان فتكون اشعة الفا هي الاقل ضرراً؟

لأنها تمتلك اقل قدرة على الاختراق.

23- اذا كان مصدر الاشعاع داخل جسم الانسان فان اشعة الفا هي الأكثر ضرراً؟

لأنها الأعلى قدرة على التأيين.

24- فسر: عند تعرض منطقة للاشعاع فان الضرر يكون ناتج عن اشعة  $\gamma$  و  $\beta$  فقط ؟

لان اشعة الفا هي الأقل قدرة على الاختراق فلا نتمكن من اختراق الجسم كما ان مداها قصير جداً.

25- ما التغير الذي يطرأ على النواة غير المستقرة عندما تشع جسيم الفا (العدد الكتلي والعدد الذري)؟

يقل العدد الذري بمقدار 2 والعدد الكتلي بمقدار 4 عن كل جسيم الفا.

26- ما التغير الذي يطرأ على النواة غير المستقرة عندما تشع جسيم بيتا؟

يزداد العدد الذري بمقدار 1 والعدد الكتلي يبقى ثابتاً.

27- ما التغير الذي يطرأ على النواة غير المستقرة عندما تشع اشعة غاما؟

العدد الذري يبقى ثابت وكذلك العدد الكتلي.

28- ما التغير الذي يطرأ على النواة غير المستقرة عندما تشع جسيم بيتا الموجب (بوزترون)؟

يقل العدد الذري بمقدار 1 والعدد الكتلي يبقى ثابت.

29- فسر: اشعاع نواة عنصر ما لجسيم بيتا مع ان الالكترونات ليست من مكونات النواة ؟

عندما يتحلل مثلاً أحد نيوترونات النواة ينتج الكترون وبروتون وبسبب صغر كتلة الإلكترون ووفق فرضية دي بروي يكون الطول الموجي المصاحب للإلكترون كبيراً فتبعته النواة خارجها بينما يبقى البروتون بالداخل بسبب كبر كتلته مقارنة مع البروتون.

30- فسر: خروج الالكترون من النواة بينما يبقى كل من النيوترون والبروتون داخلها؟

لان الالكترون كتلته صغيره فانه يخرج من النواة بينما يبقى كل من البروتون والنيوترون داخلها بسبب كتلتهما الكبيرة.

31- متى تبعث النواة أشعة غاما (لماذا تبعث النواة أشعة غاما)؟

عندما تبعث نواة ما جسيم الفا او بيتا، فان النواة الناتجة تكون غالباً في مستوى إثارة لا تمتلكها طاقة زائدة عن الوضع الطبيعي لها فتبعث أشعة غاما وتنتقل الى مستوى الاستقرار ولا يتأثر كل من العدد الكتلي والذري للنواة الباعثة.

32- وضح المقصود بسلاسل الاضمحلال الاشعاعي الطبيعي؟

وهي مجموعه التحولات المتتالية التي تبدأ بنواة نظير مشع لعنصر ثقيل وتنتهي بنواة نظير مستقر اخر ويصاحب كل تحول انبعاث الفا او بيتا.

33- وضح المقصود بسلسلة الاضمحلال الشعاعي؟

مجموعة العناصر المشعة التي يضمحل احدها ليعطي عنصر جديد بحيث تنتهي عند الحصول على عنصر مستقر.



34- ما المقصود بالإشعاع الصناعي (تفاعل نووي صناعي)؟

هو إنتاج نوى مشعة بواسطة تفاعلات نووية يتم فيها تغيير خصائص النوى المستقرة عن طريق قذفها بجسيمات صغيرة.

35- عدد سلاسل الاضمحلال الاشعاعي الطبيعي؟

- سلسلة اليورانيوم/ سلسلة الثوريوم/ سلسلة الاكتينيوم.

36- وضح المقصود بالتفاعل النووي؟

هو العملية التي يتم فيها احداث تغيير في مكونات النواة.

37- كيف يحدث التفاعل النووي بين نواة وجسيم؟

يتم تسريع الجسيم ( القذيفة ) باستخدام أجهزة خاصة تسمى المسارعات النووية فتكتسب القذيفة كافيّة حركيّة كافية لمكّنها من اختراق النواة الهدف واحداث التحولات النووية.

38- أين تكمن أهمية التفاعلات النووية الصناعية؟

في إمكانية تحويل عنصر معين إلى عنصر آخر وإنتاج النظائر المشعة وكذلك الحصول على جسيمات أو أشعة ذات طاقة عالية.

39- أعط مثالين على استخدامات الأشعة النووية والنظائر المشعة في المجال الطبي؟

1- التعقب 2- العلاج بالإشعاع

40- ما هي الأمور التي يجب مراعاتها عند استخدام الأشعة النووية للعلاج على الرغم من منافعها العديدة؟

- 1- تحديد نوع الإشعاع وطاقته والعضو المعرض له
- 2- زمن التعرض للإشعاع.
- 3- مدى قرب الجسم من الإشعاع.

41- ما هي التغيرات التي تطرأ على النواة الهدف عند التحامها بقذيفة في أي تفاعل نووي؟

نمتص النواة الهدف القذيفة مشكلة نواة مركبة في إحالة إثارة ثم ما نلبث النواة الجديدة أن نضمحل في فترة زمنية قصيرة جدا.

42- وضح المقصود بالانشطار النووي؟

تفاعل نووي يحدث فيه انقسام نواة ثقيلة عند قذفها بنيوترون إلى نواتين متوسطتي الكتلة ويصاحب ذلك نقص في الكتلة يتحول إلى طاقة.

43- وضح المقصود بالتفاعل المتسلسل؟

هو نتاج انشطار النوى الثقيلة مثل اليورانيوم نتيجة قذفها بنيوترونات نبعث من نوى يورانيوم انشطرت سابقا.

44- ما هي الشروط الواجب توافرها لحدوث التفاعل المتسلسل؟

ابطاء سرعة النيوترونات الناتجة من التفاعل ولا بد أن تكون كتلة الوقود النووي اليورانيوم مساوية للكتلة الحرجة وإذا قلت عن الكتلة الحرجة فإنه سيؤدي إلى تسرب النيوترونات إلى الخارج بفعل سرعتها العالية.

45- وضح المقصود بالكتلة الحرجة؟

هو الحد الأدنى من كتلة المادة المشعة اللازمة لحدوث تفاعل متسلسل.

46- وضح المقصود بالاندماج النووي؟

عملية اتحاد نواتين خفيفتين لتكوين نواة جديدة كتلتها أقل من مجموع كتلتيهما.

47- وضح المقصود بالتفاعل النووي الحراري؟

هو التفاعل الذي يتطلب حدوثه حرارة لكي يبدأ.

48- لماذا سمي تفاعل الاندماج بالتفاعل النووي الحراري؟

لحدوث هذا التفاعل يجب أن تكون سرعة النوى كبيرة لتقترب كثيرا من بعضها عن طريق رفع درجة حرارة المواد المتفاعلة لدرجة هائلة جدا.

49- اعط امثلة على الاندماج النووي؟

تفاعلات النجوم: تعد مصدرا للطاقة الشمسية (في النجوم تحدث سلسلة اندماج النوى الهيدروجين لتكون نواة هيليوم لتعطي كميات هائلة من الطاقة).

50- فسر: تفاعل الاندماج عكس الانشطار وفي كلا التفاعلين ينتج طاقة؟

في كلا الحالتين يحدث فرق في الكتلة بين المواد الداخلة والمواد الناتجة يولد الطاقة.



51- قارن بين تفاعلي الانشطار والاندماج النووي من حيث الوقود المستخدم والطاقة الناتجة وشروط حدوث التفاعل.

المقارنة	الوقود المستخدم	الطاقة الناتجة	شروط حدوث التفاعل
الانشطار	يورانيوم ونيوترونات	كبيرة جداً	1- نيوترونات بطيئة 2- كتلة حرجية
الاندماج	الهيدروجين او الديتيروم او التريتيوم	أضعاف مضاعفة من طاقة الانشطار	توفير حرارة هائلة جداً

يوسف غيث

## اسئلة وزارة

الأستاذ: يوسف غيث

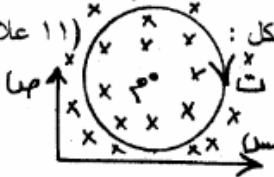
مكتف مادة الفيزياء

### المجال المغناطيسي

## اسئلة وزارة مرتبة حسب الفصول

شتوي 2008

ج- ملف دائري عدد لفاته (٧) لفات، ونصف قطره  $(4 \times 10^{-2})$  م يمر فيه تيار كهربائي مقداره (٢) أمبير، مغمور في مجال مغناطيسي خارجي مقداره  $(1 \times 10^{-3})$  تسلا كما في الشكل: (١١ علامة)



أولاً: (١) احسب مقدار واتجاه المجال المحصل في مركز الملف (م).

(٢) ما اسم القاعدة التي استخدمتها لتحديد اتجاه المجال المغناطيسي عند مركز الملف (م) ؟

(٣) احسب مقدار واتجاه القوة التي يؤثر بها المجال المحصل على شحنة مقدارها  $(-1 \times 10^{-3})$  كولوم تتحرك باتجاه يوازي محور السينات الموجب بسرعة  $(1 \times 10^2)$  م/ث.

ثانياً: يسلك الجسم المشحون مساراً دائرياً عند دخوله مجال مغناطيسي منتظم بشكل عمودي على مساره. فسّر ذلك.

صيفي 2008

ج- (س) سلك طويل مستقيم لا نهائي، يحمل تياراً كهربائياً مقداره (٨) أمبير باتجاه خارج من الصفحة ومغمور كلياً في مجال مغناطيسي خارجي مقداره  $(10 \times 10^{-3})$  تسلا كما في الشكل المجاور. بالاستعانة بالقيم المثبتة عليه احسب:

(٩ علامات)

$$E = 10 \times 10^{-3} \text{ تسلا}$$

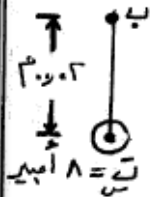
١- القوة المغناطيسية المؤثرة في وحدة الأطوال من السلك (س).

٢- محصلة المجال المغناطيسي عند النقطة (ب).

٣- وزن جسيم شحنته  $(+4 \times 10^{-1})$  كولوم لحظة مروره من

النقطة (ب) محافظاً على اتجاه حركته بسرعة  $(10^2)$  م/ث

وباتجاه عمودي على الصفحة للأعلى.



## اسئلة وزارة

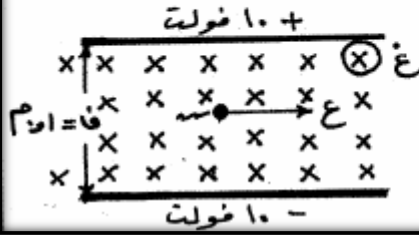
الأستاذ: يوسف غيث

مكتف مادة الفيزياء

### المجال المغناطيسي

شتوي 2009

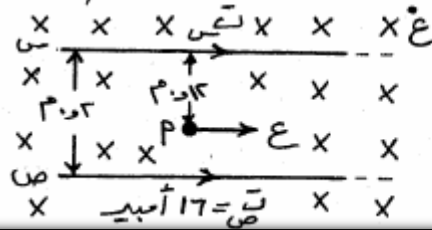
ب- صفيحتان مشحونتان ومغمورتان في مجال مغناطيسي منتظم مقداره  $(0,2)$  تسلا، تحرك جسيم مهمل للكتلة مشحون بشحنة موجبة مقدارها  $(2 \times 10^{-1})$  كولوم بسرعة  $(1 \times 10^4)$  م/ث. بالاستعانة بالقيم والاتجاهات المثبتة على الشكل احسب :



- (١) القوة المغناطيسية المؤثرة في الجسيم مقداراً واتجاهاً.
- (٢) القوة الكهربائية المؤثرة في الجسيم مقداراً واتجاهاً.
- (٣) القوة المحصلة المؤثرة في الجسيم أثناء حركته، وماذا تسمى هذه القوة ؟

صيفي 2009

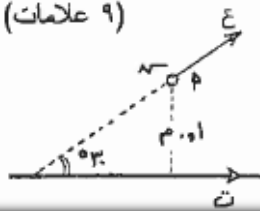
ب) يُمثل الشكل المجاور سلكين مستقيمين معزولين متوازيين لا نهائين في الطول، ومغمورين في مجال مغناطيسي منتظم مقداره  $(2 \times 10^{-1})$  تسلا، يسري في كل منهما تيار كهربائي، فإذا علمت أن المجال المغناطيسي المؤثر في النقطة (أ) والناجم عن السلك (س) يساوي  $(2 \times 10^{-1})$  تسلا، مستعيناً بالقيم المثبتة على الشكل احسب :



- (١) المجال المغناطيسي الكلي عند النقطة (أ).
- (٢) التيار الكهربائي المار في السلك (س).
- (٣) القوة المغناطيسية المؤثرة في إلكترون يتحرك نحو الشرق بسرعة  $(10^6)$  م/ث لحظة مروره بالنقطة (أ).

صيفي 2010

ج) سلك مستقيم لا نهائي الطول يحمل تياراً كهربائياً مقداره  $(1,5)$  أمبير. إذا تحرك جسيم مشحون بشحنة  $(4 \times 10^{-9})$  كولوم ومهمل الكتلة بسرعة  $(5 \times 10^4)$  م/ث باتجاه "يصنع زاوية  $(30^\circ)$  مع اتجاه التيار" كما في الشكل، فاحسب :



- (١) مقدار واتجاه المجال المغناطيسي عند النقطة ٢ .
- (٢) مقدار القوة التي يؤثر بها السلك في الجسيم لحظة مروره في النقطة ٢ .

## اسئلة وزارة

الأستاذ: يوسف غيث

مكتف مادة الفيزياء

### المجال المغناطيسي

#### شتوي 2013

أ) سلك مستقيم طوله (٢٠) سم يسري فيه تيار كهربائي مقداره (٥) أمبير، موضوع في مجال مغناطيسي منتظم مقداره (٠,٦) تسلا، وكلاهما يقع في مستوى الورقة كما في الشكل. احسب مقدار القوة المغناطيسية المؤثرة في السلك وحدد اتجاهها.

(٦ علامات)

#### صيفي 2013

ب) سلكان مستقيمان متوازيان لا نهائيا الطول في مستوى الصفحة يحملان تيارين (ت<sub>١</sub> = ٦ أمبير)، (ت<sub>٢</sub>) كما في الشكل، احسب مقدار واتجاه (ت<sub>٢</sub>) ليصبح المجال المغناطيسي المحصل عند النقطة (د) يساوي (٤ × ١٠<sup>-٥</sup>) تسلا نحو الناظر.

(٨ علامات)

#### شتوي 2014

ج) قذف جسم مشحون عمودياً على مجال مغناطيسي منتظم، فاتخذ مساراً دائرياً. أجب عما يأتي:

- ١- فسر اتخاذ الجسم مساراً دائرياً.
- ٢- هل يبذل المجال المغناطيسي شغلاً على الجسم المشحون؟ فسر إجابتك.
- ٣- ماذا يحدث لنصف قطر المسار الدائري في الحالتين الآتيتين:
  - أ- إذا أصبحت سرعة الجسم مثلي ما كانت عليه.
  - ب- إذا أصبح المجال المغناطيسي مثلي ما كان عليه.

(٦ علامات)

#### صيفي 2014

ج) يُمثل الشكل المجاور مسار جسامين مشحونين بشحنتين متساويتين في المقدار ولهما نفس مقدار السرعة. أجب عما يأتي:

- ١- ما نوع شحنة كل منهما؟
- ٢- أي الجسيمين أكبر كتلة، فسر إجابتك؟

(٤ علامات)



## اسئلة وزارة

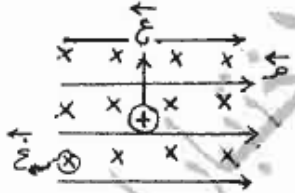
الأستاذ: يوسف غيث

مكثف مادة الفيزياء

## المجال المغناطيسي

شتوي 2015

(ب) الشكل المجاور يمثل مجال كهربائي منتظم يؤثر نحو اليمين ومتعامداً مع مجال مغناطيسي منتظم (5 علامات) مبتعداً عن الناظر، تحركت شحنة كهربائية موجبة تحت تأثير المجالين بسرعة ثابتة نحو الأعلى.



اعتماداً على الرسم أجب عما يأتي:

١. ماذا تسمى محصلة القوى المؤثرة على هذه الشحنة ؟

٢. احسب سرعة الشحنة إذا كان مقدار المجال الكهربائي

( ٤٠٠ ) فولت/م ، والمجال المغناطيسي (٠,٨) تسلا.

٣. صف حركة الشحنة الكهربائية إذا كانت الشحنة سالبة. فسر إجابتك.

صيفي 2015

(ب) (س ، ص) سلكان مستقيمان لا نهائيي الطول ومتوازيان

مغموران في مجال مغناطيسي منتظم مقداره ( ٢ × ١٠<sup>-٥</sup> ) تسلا،

يسري في كل منهما تيار كهربائي كما في الشكل المجاور،

إذا علمت أن المجال المغناطيسي عند النقطة (أ) والناتج عن

السلك (س) يساوي ( ٢ × ١٠<sup>-٥</sup> ) تسلا.

معتماً على الشكل وبياناته احسب كل مما يأتي:

١- التيار الكهربائي المار في السلك (س).

٢- المجال المغناطيسي الكلي عند النقطة (أ).



شتوي 2017

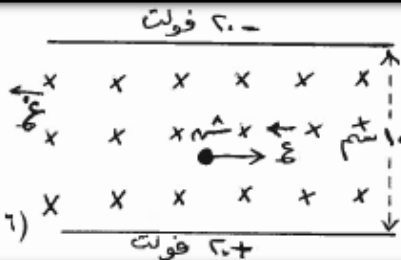
(د) صفيحتان فلزيتان مشحونتان ومغمورتان في مجال

مغناطيسي منتظم مقداره (٠,٣) تسلا، يتحرك داخله

جسيم شحنته (٢ × ١٠<sup>-٥</sup>) كولوم بسرعة ثابتة مقدارها

(١ × ١٠<sup>٢</sup>) م/ث، كما في الشكل، بإهمال كتلة الجسيم

احسب مقدار القوة المؤثرة فيه أثناء حركته.



(٦ علامات)

## اسئلة وزارة

الأستاذ: يوسف غيث

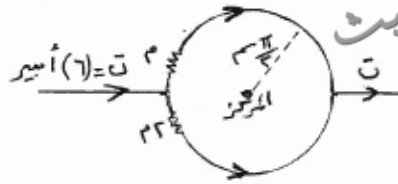
مكتشف مادة الفيزياء

## المجال المغناطيسي

شتوي 2017

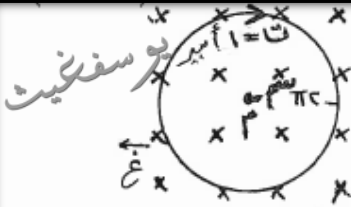
ب) يُمثل الشكل المجاور حلقة فلزية دائرية تتكون من لفة واحدة. فإذا علمت أن المقاومة الكهربائية للنصف السفلي من الحلقة يساوي مثلي المقاومة الكهربائية للنصف العلوي منها. وباعتماد على الشكل وبياناته، احسب :

(٨ علامات)



- ١- المجال المغناطيسي عند مركز الحلقة.
- ٢- القوة المغناطيسية المؤثرة في شحنة كهربائية مقدارها  $(3 \times 10^{-10})$  كولوم تتحرك بسرعة  $(40)$  م/ث نحو الشرق لحظة مرورها بمركز الحلقة. وحدد اتجاهها.

صيفي 2017



- د) ملف دائري ينطبق مستواه على الصفحة، وعدد لفاته (٢) لفة، ويؤثر عليه مجال مغناطيسي منتظم (غ) بالاتجاه الموضح في الشكل المجاور، ولحظة مرور شحنة كهربائية نقطية مقدارها  $(3 \times 10^{-10})$  كولوم عند النقطة (م) وبسرعة  $(2 \times 10^{-1})$  م/ث نحو اليمين، تأثرت بقوة مغناطيسية مقدارها  $(36 \times 10^{-6})$  نيوتن باتجاه (ص)، احسب مقدار المجال المغناطيسي المنتظم (غ).

(٩ علامات)

## الإجابات النموذجية

**ششوی 2008**

1- غ =  $\frac{\text{برکت}}{\pi c}$  - 1

①  $|x|^{-\alpha} \otimes x$  داخل الصفحة.

$\frac{1}{2} \times \frac{1}{2} = \frac{1}{4}$

① ۳ - ۱۹ = ۱۶ غ صا ۱

یوسف خیر

①  $1 \times (10^{-6} \times 10^3) \times (10^{-6} \times 10^3) \times (10^{-6} \times 10^3) =$   
 $10^{-6} \times 10^3 \times 10^3 \times 10^3 =$   
 $10^{-6} \times 10^9 = 10^3 = 1000$   
 $\frac{1000}{1000} = 1$

ثانياً: بما ان القوة المضطاطية تعاد دائماً أثناء الحركة، فإن الجسم المشرفاً  
 (أ) يتحرك متسارعاً ثابت المقدار، وعودي دائماً على السرعة، مما يؤدي  
 الى تغير مستمر في اتجاه السرعة، دون تغير في مقدارها، مما يعني  
 (ب) سلوك الجسم مساراً دائرياً.

## صيفي 2009

[illegible]

**ششوی 2009**

[illegible]



## صيفي 2009

[illegible]

## صيفي 2010

⑤  $\frac{\text{میرت}}{\pi c} = \frac{1.5 \times 10^8}{\pi c}$   
 ①  $\frac{1}{\pi c} = \frac{1.5 \times 10^8}{\pi c}$   
 ②  $\frac{1}{\pi c} = \frac{1.5 \times 10^8}{\pi c}$   
 ③  $\frac{1}{\pi c} = \frac{1.5 \times 10^8}{\pi c}$   
 ④  $\frac{1}{\pi c} = \frac{1.5 \times 10^8}{\pi c}$   
 ⑤  $\frac{1}{\pi c} = \frac{1.5 \times 10^8}{\pi c}$   
 ⑥  $\frac{1}{\pi c} = \frac{1.5 \times 10^8}{\pi c}$   
 ⑦  $\frac{1}{\pi c} = \frac{1.5 \times 10^8}{\pi c}$   
 ⑧  $\frac{1}{\pi c} = \frac{1.5 \times 10^8}{\pi c}$   
 ⑨  $\frac{1}{\pi c} = \frac{1.5 \times 10^8}{\pi c}$   
 ⑩  $\frac{1}{\pi c} = \frac{1.5 \times 10^8}{\pi c}$

**ششما ۲۰۱۳**

[illegible]

## المجال المغناطيسي

## صيفي 2013

①  $\mu = \frac{7 \times 6}{10} = 4.2$   
 با توجه عمودی عددهای فوق  
 ②  $7 \times 6 = 42$   
 ③  $7 \times 6 = 42$   
 ④  $7 \times 6 = 42$

## ششوی 2015

١ - ٥٠ = ٥٠ - ٥٠ = ٠  
٢ - ٥٠ = ٥٠ - ٥٠ = ٠  
٣ - ٥٠ = ٥٠ - ٥٠ = ٠

## صيفي 2015

[illegible]

# اسئلة وزارة

الأستاذ: يوسف غيث

مكتشف مادة الفيزياء

## المجال المغناطيسي

شتوي 2017

$$\textcircled{5} \quad \vec{v} = \vec{v}_1 + \vec{v}_2 = 2\vec{v} \quad \textcircled{1}$$

$$\textcircled{1} \quad \vec{v}_1 = \vec{v} - \vec{v}_2 = \vec{v} - \vec{v} = \vec{0} \quad \textcircled{1}$$

$$\vec{v}_1 = \vec{0} \quad \textcircled{1}$$

$$\vec{v}_2 = \vec{v} - \vec{v}_1 = \vec{v} - \vec{0} = \vec{v} \quad \textcircled{1}$$

$$\vec{v}_2 = \vec{v} \quad \textcircled{1}$$

$$\vec{v}_1 = \vec{0} \quad \textcircled{1}$$

$$\vec{v}_2 = \vec{v} \quad \textcircled{1}$$

$$\vec{v}_1 = \vec{0} \quad \textcircled{1}$$

$$\vec{v}_2 = \vec{v} \quad \textcircled{1}$$

شتوي 2017

$$\textcircled{8} \quad \vec{v}_1 = \vec{v} - \vec{v}_2 = \vec{v} - \vec{v} = \vec{0} \quad \textcircled{1}$$

$$\vec{v}_2 = \vec{v} - \vec{v}_1 = \vec{v} - \vec{0} = \vec{v} \quad \textcircled{1}$$

$$\vec{v}_1 = \vec{0} \quad \textcircled{1}$$

$$\vec{v}_2 = \vec{v} \quad \textcircled{1}$$

$$\vec{v}_1 = \vec{0} \quad \textcircled{1}$$

$$\vec{v}_2 = \vec{v} \quad \textcircled{1}$$

$$\vec{v}_1 = \vec{0} \quad \textcircled{1}$$

$$\vec{v}_2 = \vec{v} \quad \textcircled{1}$$

يوسف غيث

صيفي 2017

$$\textcircled{9} \quad \vec{v}_1 = \vec{v} - \vec{v}_2 = \vec{v} - \vec{v} = \vec{0} \quad \textcircled{1}$$

$$\vec{v}_2 = \vec{v} - \vec{v}_1 = \vec{v} - \vec{0} = \vec{v} \quad \textcircled{1}$$

$$\vec{v}_1 = \vec{0} \quad \textcircled{1}$$

$$\vec{v}_2 = \vec{v} \quad \textcircled{1}$$

$$\vec{v}_1 = \vec{0} \quad \textcircled{1}$$

$$\vec{v}_2 = \vec{v} \quad \textcircled{1}$$

$$\vec{v}_1 = \vec{0} \quad \textcircled{1}$$

$$\vec{v}_2 = \vec{v} \quad \textcircled{1}$$

## اسئلة وزارة

الأستاذ: يوسف غيث

مكتف مادة الفيزياء


### الحث الكهرومغناطيسي

## اسئلة وزارة مرقبة حسب الفصول

شتوي 2009

٤) لحظة غلق الدارة المرسومة جانباً، فإن التيار الحثي المتولد في الحلقة يكون :

( أ ) مع عقارب الساعة ليقاوم الزيادة في التدفق المغناطيسي  
 ( ب ) مع عقارب الساعة ليقاوم النقصان في التدفق المغناطيسي  
 ( ج ) عكس عقارب الساعة ليقاوم النقصان في التدفق المغناطيسي  
 ( د ) عكس عقارب الساعة ليقاوم الزيادة في التدفق المغناطيسي



شتوي 2009

ب- ملف لولبي مكون من  $(10^2)$  لفّة ومساحة مقطعه العرضي  $(1 \times 10^{-2})$  م<sup>2</sup> وطوله  $(4 \times \pi \times 10^{-2})$  م مغمور في مجال مغناطيسي منتظم مقداره  $(0,2)$  تسلا باتجاه عمودي على مستواه، فإذا عكس اتجاه المجال المغناطيسي خلال  $(0,1)$  ث فاحسب :

(٩ علامات)

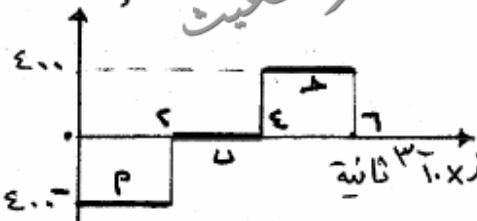
(١) محالة الملف.  
 (٢) القوة الدافعة الكهربائية الحثية المتولدة في الملف أثناء تغير المجال المغناطيسي.  
 (٣) معدل نمو التيار في الملف أثناء عكس اتجاه المجال المغناطيسي.

صيفي 2009

أ) يُمثّل الرسم البياني المجاور العلاقة بين القوة الدافعة الكهربائية الحثية والزمن، لملف دائري عدد لفاته  $(10^3)$  لفّة مستواه يتغير باستمرار من وضع يكون فيه مواز لخطوط المجال المغناطيسي إلى وضع يكون مستواه عمودي على خطوط المجال المغناطيسي.

مستعيناً بالقيم المثبتة على الرسم أجب عما يلي :

(١) احسب التغير في التدفق المغناطيسي في كل مرحلة من المراحل (أ ، ب ، ج).  
 (٢) ارسم خطأً بيانياً يوضح العلاقة بين التغير في التدفق المغناطيسي والزمن.



## استئلة وزارة

الأستاذ: يوسف غيث

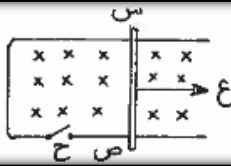
مكثف مادة الفيزياء

### الحث الكهرومغناطيسي

صيفي 2010

ب) يؤثر مجال مغناطيسي منتظم مقداره  $(0.4)$  تسلا على ملف مكون من  $(600)$  لفة، مساحة اللفة الواحدة  $(12 \times 10^{-2})$  م<sup>2</sup>، والزوايا بين متجه المجال ومتجه مساحة اللفة  $(60^\circ)$ . خلال  $(0.1)$  ث " انخفض المجال المغناطيسي إلى  $(0.1)$  تسلا وأصبحت الزاوية بين متجه المجال ومتجه مساحة اللفة صفراً " . احسب متوسط القوة الدافعة الكهربائية المتولدة في الملف أثناء تلك الفترة الزمنية. (٧ علامات)

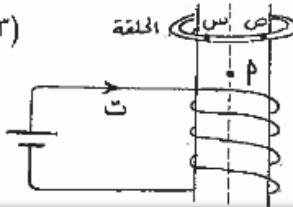
شتوي 2011 عل



٣) القوة اللازمة لتحريك السلك (س ص) حر الحركة نحو اليمين بسرعة ثابتة والمفتاح (ح) مغلق تكون أكبر منها عندما يكون المفتاح (ح) مفتوحاً. السـؤال الثالث: (١٨ علامة)

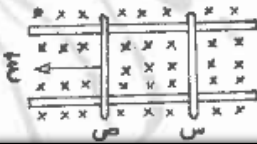
صيفي 2011

ب) أسقطت حلقة فلزية وهي في وضع أفقي باتجاه محور ملف لولبي كما هو مبين في الشكل، أجب عما يأتي:  
١) ما القطب المغناطيسي الذي يمثله الرمز (٢) ؟  
٢) كيف يتغير التدفق المغناطيسي المتولد في الحلقة عبر الجزء القريب من الناظر (س ص)؟



شتوي 2012

أ) (س ، ص) سلكان فلزيان قابلان للحركة على مجرى فلزي، غُمرا في مجال مغناطيسي (٤ علامات)  
منتظم كما في الشكل. إذا سُحب السلك (ص) نحو اليسار بسرعة ثابتة، ماذا يحدث للسلك (س)؟ مفسراً إجابتك.





## استئلة وزارة

الأستاذ: يوسف غيث

مكتشف مادة الفيزياء

### الحث الكهرومغناطيسي

صيفي 2014

(د) مصباح مضيء يتصل مع حلقة دائرية مغمورة في مجال مغناطيسي منتظم عمودياً على مستوى الحلقة كما في الشكل المجاور. ماذا يحدث لإضاءة المصباح مفسراً إجابتك في الحالتين الآتيتين:

١- عند حركة الحلقة داخل المجال بحيث يبقى مستواها عمودياً على المجال.

٢- أثناء خروج الحلقة من منطقة المجال.

(٤ علامات)

صيفي 2014

(د) ملف مستطيل الشكل عدد لفاته (١٠٠) لفة موضوع في مجال مغناطيسي منتظم مقداره (٠,٢) تسلا عمودياً على مستواه كما في الشكل المجاور. احسب القوة الدافعة الحثية المتوسطة المتولدة في الملف عندما يدور ربع دورة بحيث يصبح مستواه موازياً لخطوط المجال في زمن قدره (٠,٢) ثانية.

(٤ علامات)

شتوي 2015

(ب) أولاً: ملف دائري عدد لفاته (ن) ومساحته (٩) ومتصل مع مقاومة كهربائية (م) ومستواه متعامد مع مجال مغناطيسي منتظم (غ)، إذا انعكس المجال المغناطيسي خلال فترة من الزمن أثبت أن مقدار الشحنة الكهربائية التي عبرت المقطع العرضي لسلك الملف خلال تلك الفترة تُعطى بالعلاقة :  $\Delta \Phi = 20 \text{ غ} \cdot \text{س}$

(٥ علامات)

شتوي 2015

(ج) موصل (س ص) طوله (٢٠) سم يتحرك بسرعة ثابتة على سلكين متوازيين ومتصلين بمقاومة (٥) أوم ويوجد مجال مغناطيسي منتظم (٤) تسلا كما في الرسم المجاور ، تكون فرق جهد بين طرفي الموصل (١٠) فولت، أجب عما يأتي:

١. ما سبب تكون فرق الجهد الكهربائي بين طرفي الموصل (س ص) ؟

٢. احسب مقدار السرعة التي يتحرك بها الموصل.

٣. احسب مقدار القوة الخارجية المؤثرة على الموصل.

(٧ علامات)

## اسئلة وزارة

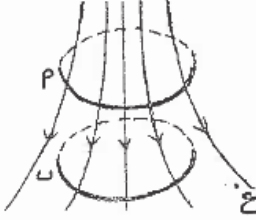
الأستاذ: يوسف غيث

مكثف مادة الفيزياء

### الحث الكهرومغناطيسي

صيفي 2015

(٦ علامات)




د) ملف عند ألفاته (١٠٠) لفة سقط من الموضع (أ) إلى الموضع (ب) محافظاً على مستوى الأفقي كما في الشكل خلال (٠,١) ثانية، فكان متوسط القوة الدافعة الكهربائية الحثية المتولدة فيه تساوي (٠,٢) فولت، فإذا كان التدفق المغناطيسي عند الموضع (أ) يساوي  $(5 \times 10^{-4})$  ويبر، احسب:

يوسف غيث

- ١- التدفق المغناطيسي عند الموضع (ب).
- ٢- فسر تولد القوة الدافعة الكهربائية الحثية في الملف.

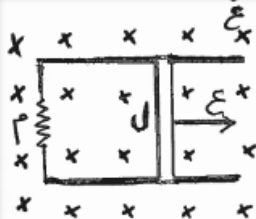
صيفي 2017



(٤ علامات)

أ) عند مرور تيار كهربائي في ملف لولبي تولدت قوة دافعة كهربائية حثية بالاتجاه الموضح في الشكل المجاور. اذكر حالتين تصف فيهما التيار المار في الملف يُسبب القوة الدافعة الكهربائية الحثية الذاتية فيه.

صيفي 2017



٢) قارن بين الفوتون الساقط والفوتون المتشتت من حيث: الطول الموجي، والسرعة.

ب) موصل طوله (ل) قابل للحركة على سلكين فليزيين متوازيين منطبقين على مستوى الصفحة ومتصلين مع مقاومة (م)، كما في الشكل المجاور. إذا تحرك الموصل بسرعة ثابتة (ع) نحو اليمين وباتجاه متعامد مع مجال مغناطيسي منتظم في الاتجاه الموضح على الشكل، أثبت أن القوة المغناطيسية المؤثرة على الموصل أثناء حركته تُعطى بالعلاقة الآتية:

يوسف غيث


$$Q = \left( \frac{l^2 B^2}{m} \right) \cdot e$$

## الإجابات النموذجية

## ششوی 2009

[illegible]

## صيفي 2009



## الحث الكرم مغناطيسي

## صيفي 2010

$(\emptyset - \emptyset) = \emptyset \Delta$     ①  $\emptyset \Delta \cap = \emptyset - \emptyset$   
 $\textcircled{1} \quad \emptyset \Delta \cap = \emptyset \Delta$   
 $\textcircled{5} \quad (1 \times 1 - 1 \times 1) \times 1 =$   
 $\textcircled{13} \quad 1 \times 1 =$   
 $\textcircled{1} \quad 1 \times 1 = 1$

## صيفي 2011

۱- به نقل از طبرستان شاهی  
۲- نزد امامت فقیه

یزسفینیت

## ششوی 2012

١١٢	٥) نحو الميار. بسبب بكرة إغناطيوس
١٢٦	١) التي تؤثر في الحال عليه نتيجة تدل يا - حتى نأخذ منه جميع
السخنة (أفرجه جيد) ٤) طرقي الموص (ص) * إذا كنت تتركه إلى اللفظ يا فزع عليه * إذا كنت تتركه إلى اللفظ يا فزع عليه	

## الحث الكرم مغناطيسي

## صيفي 2014

[illegible]

**ششوی 2015**

$\phi = \phi$ ,  $\phi = \phi$  ①  $\phi \Delta \cup = \dots$   
 ②  $[\phi - \phi] \cup = \dots$   
 P.E.  $\cup \Gamma = \dots$  ③  $\frac{\partial \phi \Gamma}{\partial t} = \dots$



## اسئلة وازارة

### الأستاذ: يوسف غيث

## مكتشف مادة الضيياء

## الحث الكرم مغناطيسي

**ششوی 2015**

نتیجہ حرکت المرحلہ دس اثر استثناء ① مقابله تركز الستاء  
الموجبة عند الطرف (ص) ② استثناء الياية عند الطرف (ص)  
الموجبة عند الطرف (ص) ③ او مضاعفة الستاء  
فد = ٤٤ × ٤ = ١٠ ④ ٤ × ٤ × ٠.٢ = ٣.٢ ⑤ ١.٢ = ١.٢  
١.٢ = ١.٢ = ١.٢  
٢ = ٢ = ٢  
٢ = ٢ = ٢

## صيفي 2015

$$1 - \frac{1}{\Delta} = \frac{\phi}{\Delta} \Leftrightarrow \frac{\phi}{\Delta} = 0.2$$

$$\phi = 1.2 \times 10^{-3} \text{ Wb}$$

عند تحويل الملف نقل التدفق المغناطيسي الذي  
 أو يتغير التدفق  $\phi$  أو يتغير المجال المغناطيسي

## صيفي 2017

(۹) ۱- عند مرور نیاں فی لمحت جو (کبیرہ) متناقص<sup>(۱)</sup> ثلاثی = تناقص  
۲- عند مرور نیاں فی لمحت جو امیار<sup>(۴)</sup> متنزید<sup>(۳)</sup> (موج = التزايد)

## صيف 2017

[illegible]

## استئلة وزارة

الأستاذ: يوسف غيث

مكتشف مادة الفيزياء

## فيزياء الكم

### استئلة وزارة مرقبة حسب الفصول

شتوي 2008

أ - إلكترون نرة هيدروجين مثارة موجود في مستوى الطاقة الثالث ( $n = 3$ )، بين أن طول الموجة المصاحبة له يعطى بالعلاقة ( $\lambda = 6\pi$  نوب). (حيث نوب : نصف قطر المدار الأول) (5 علامات)

شتوي 2008

أ - يمثل الشكل العلاقة بين تردد الضوء الساقط على سطح فلز والطاقة الحركية العظمى للإلكترونات المنطلقة من سطح الفلز. اعتماداً عليه احسب قيمة كل مما يأتي :

(1) اقتران الشغل ( $\phi$ ).  
(2) فرق جهد القطع.

التردد  $\times 10^{15} \text{ Hz}$

الطاقة الحركية العظمى (eV)

(7 علامات)

صيفي 2008

أ - الرسم البياني المجاور يمثل نتائج تجربة أجريت باستخدام خلية كهروضوئية وذلك لدراسة العلاقة بين فرق الجهد والتيار الكهربائي المار فيها. معتمداً على الرسم أجب عما يأتي :

(4 علامات)

1- أي المنحنيين يمثل شدة الضوء الساقط الأكبر على باعث الخلية ولماذا ؟  
2- ماذا تمثل كل من النقطتين (أ ، ب) ؟  
3- أي المنحنيين يمثل تردد الضوء الساقط الأكبر ؟

التيار الكهربائي

المنحنى (1)  
المنحنى (2)

فرق الجهد

U<sub>0</sub> U<sub>1</sub>

شتوي 2010

أ ) عند زيادة شدة الضوء الساقط على باعث الخلية كهروضوئية، ما الذي يحدث لكل مما يلي مفسراً إجابتك لكل حالة : (1) تيار الخلية. (2) فرق جهد القطع. (6 علامات)

## اسئلة وزارة

الأستاذ: يوسف غيث

مكتشف مادة الفيزياء

## فيزياء الكم

### صيفي 2010

ب) تمثل المعادلة  $R = \frac{1}{\lambda} \left( \frac{1}{n} - \frac{1}{m} \right)$  ،  $n = 2, 3, 4, \dots$  إحدى العلاقات التجريبية التي تعطي طيف ذرة الهيدروجين :  
(٤ علامات)  
(١) ما اسم المتسلسلة التي تمثلها هذه المعادلة؟  
(٢) ماذا يسمى الثابت  $R$  وما وحدته؟

### صيفي 2010

ب) سقط فوتون تردده  $(1 \times 10^{15})$  هيرتز على فلز دالة الشغل له  $(3,3 \times 10^{-19})$  جول. احسب :  
(١) تردد العتبة للفلز.  
(٢) الطاقة الحركية العظمى للإلكترونات المنبعثة بوحدة الجول.  
(٣) الزخم الخطي للفوتون الساقط.  
(٨ علامات)

### صيفي 2011

أ) عُلِّلْ كلاً مما يأتي:  
(١) أسقط فوتونان مختلفان في التردد على فلز واحد، فأنطلق من الفلز إلكترونان متساويان في الطاقة الحركية.  
(٥ علامات)

### صيفي 2011

أ) إلكترون ذرة هيدروجين مثارة، موجود في المستوى الثالث للطاقة، احسب:  
(١) مقدار الطاقة (بوحدة الإلكترون فولت) اللازم إعطائها للإلكترون ليغادر الذرة نهائياً.  
(٢) نصف قطر مدار هذا الإلكترون.  
(٥ علامات)

### صيفي 2012

٨) يُمثَّل الرسم البياني المجاور العلاقة بين جهد القطع وتردد الضوء الساقط في الخلية الكهروضوئية، ميل هذه العلاقة يساوي:  
(أ) ثابت بلانك (هـ) (ب) شحنة الإلكترون  
(ج) ثابت بلانك (هـ) (د) اقتران الشغل  $(\Phi)$   
(٥ علامات)



# استئلة وزارة

الأستاذ: يوسف غيث

مكتشف مادة الفيزياء

## فيزياء الكم

شتوي 2013

(٧ علامات)

أ) انتقل إلكترون ذرة الهيدروجين من مستوى الطاقة الثاني إلى مستوى

طاقته  $(-0.85)$  إلكترون فولت، احسب:

يوسف غيث

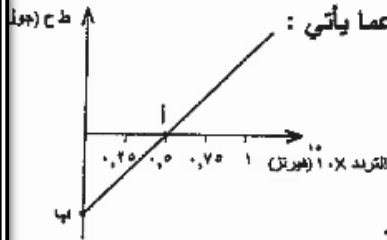
١) نصف قطر المدار الثاني في ذرة الهيدروجين.

٢) طاقة الفوتون الممتص عند انتقال الإلكترون بين المستويين السابقين.

(٦ علامات)

ب) الشكل المجاور يمثل العلاقة بين تردد الضوء الساقط والطاقة الحركية العظمى

للإلكترونات المتحررة في خلية كهروضوئية. اعتماداً على الشكل أجب عما يأتي :



١) ماذا تمثل كل من النقطتين (أ ، ب) ؟

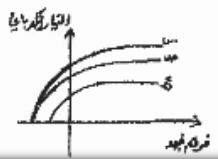
٢) ماذا يمثل ميل الخط البياني ؟

٣) إذا سقط ضوء تردده  $(0.25 \times 10^{10})$  هيرتز على باعث

الخلية السابقة فهل يتمكن من تحرير إلكترونات منها؟ فسّر إجابتك.

صيفي 2013

٣- في تجربة لدراسة الظاهرة الكهروضوئية، استخدمت ثلاثة إشعاعات (س، ص، ع). إذا كانت المنحنيات



البيانية تمثل نتائج العلاقة بين التيار الكهربائي وفرق الجهد. من الشكل نستنتج أن:

• تردد س < تردد ص < تردد ع • تردد س = تردد ص = تردد ع

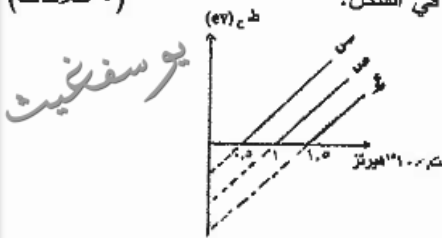
• تردد س = تردد ص < تردد ع • تردد س = تردد ص > تردد ع

صيفي 2013

أ) تعرضت سطوح ثلاثة فلزات (س، ص، ع) لضوء طول موجته  $(300)$  نـم ، فكانت العلاقة بين الطاقة

(٥ علامات)

الحركية العظمى للإلكترونات المنبعثة وتردد الضوء الساقط كما في الشكل.



معتمداً على الشكل أجب عما يأتي:

١- لماذا تكون المنحنيات متوازية ؟

٢- أي من الفلزات الثلاث يستطيع يبعث إلكترونات

من سطحه بطاقة حركية. ولماذا ؟

ب) أعطي إلكترون ذرة الهيدروجين طاقة مقدارها  $(2.05)$  إلكترون فولت فانتقل إلى المستوى الرابع: (٤ علامات)

١- احسب تردد الفوتون الممتص.

٢- إذا عاد الإلكترون إلى المستوى الذي انتقل منه، ما اسم المتسلسلة التي ينتمي إليها الإشعاع المنبعث؟

# استئلة وزارة

الأستاذ: يوسف غيث

مكثف مادة الفيزياء

## فيزياء الكم

شتوي 2014

(ج) يوضح الشكل المجاور مخططاً لمستويات الطاقة ومتسلسلات خطوط طيف ذرة الهيدروجين. معتمداً على الشكل وبياناته، أجب عما يأتي:

١- ما اسم المتسلسلة رقم (٣) ؟

٢- احسب اقصر طول موجي في المتسلسلة رقم (٢).

٣- إذا انتقل إلكترون من المستوى الذي طاقته - ١,٥ إلكترون فولت إلى المستوى الذي طاقته - ٣,٤ إلكترون فولت. فاحسب تردد الفوتون المنبعث.

(٧ علامات)

صيفي 2014

السؤال الخامس : (٢١ علامة)

(أ) في تجربة لدراسة الظاهرة الكهروضوئية تم استخدام الدارة المبينة في الشكل المجاور.

أجب عما يأتي:

١- كيف تفسر انبعاث إلكترونات من سطح الباعث؟

٢- ما العوامل التي تعتمد عليها الطاقة الحركية العظمى للإلكترونات المنبعثة؟

٣- عند عكس أقطاب البطارية وزيادة فرق الجهد تدريجياً لوحظ أن قراءة الميكروأميتر تتناقص إلى أن تصبح صفراً. على ماذا يدل ذلك ؟

٤- ارسم العلاقة البيانية بين فرق الجهد ( بين الباعث والجامع) وتيار الخلية، ثم حدّد على الرسم فرق جهد القطع.

(٦ علامات)

صيفي 2015

(ج) يمتلك إلكترون ذرة الهيدروجين في أحد المدارات طاقة كلية تساوي ( - ٣,٤ ) إلكترون فولت.

أجب عما يأتي:

١- ما رقم المدار الموجود به الإلكترون؟

٢- ما معنى الإشارة السالبة في مقدار طاقة الإلكترون؟

٣- احسب تردد الفوتون المنبعث عندما يعود الإلكترون إلى مستوى الاستقرار.

٤- احسب الزخم الزاوي للإلكترون في مستوى الاستقرار.





يوسف غيث

# اسئلة وزارة

الأستاذ: يوسف غيث

مكتف مادة الفيزياء

## فيزياء الكم

### الإجابات النموذجية

شتوي 2008

إذا

P - باستخدام كلا من:

①  $\frac{h}{\lambda} = \frac{mv}{\lambda} = \frac{mv}{\frac{h}{mv}} = mv$

②  $\frac{h}{\lambda} = \frac{mv}{\lambda} = \frac{mv}{\frac{h}{mv}} = mv$

③  $\frac{h}{\lambda} = \frac{mv}{\lambda} = \frac{mv}{\frac{h}{mv}} = mv$

④  $\frac{h}{\lambda} = \frac{mv}{\lambda} = \frac{mv}{\frac{h}{mv}} = mv$

شتوي 2008

P - 1 -  $\frac{h}{\lambda} = \frac{mv}{\lambda} = \frac{mv}{\frac{h}{mv}} = mv$

①  $\frac{h}{\lambda} = \frac{mv}{\lambda} = \frac{mv}{\frac{h}{mv}} = mv$

②  $\frac{h}{\lambda} = \frac{mv}{\lambda} = \frac{mv}{\frac{h}{mv}} = mv$

③  $\frac{h}{\lambda} = \frac{mv}{\lambda} = \frac{mv}{\frac{h}{mv}} = mv$

④  $\frac{h}{\lambda} = \frac{mv}{\lambda} = \frac{mv}{\frac{h}{mv}} = mv$

صيفي 2008

P - 1 - المتيق (1) يمثل شدة الضوء الأكبر ① لأن صدى البار أكبر

②  $(u, p)$  متساويان فرق جهد القطع ③

④  $(c)$  يمثل تردد الضوء الأقل الأكبر ①

## فیزیکاء الڪم

## ششوی 2010

م. در زیاد الیه، اگر بانی، زیاد برده الضو، یعنی زیاد عدد الغوٹوں  
 و البانی زیاد عدد الالٹوں، یعنی - ①  
 ع. یعنی ثانیاً، جسہ لقطع بعد عما طافہ، اگر عدد الغوٹوں، زیاد  
 ① برده الضو، لا تزيد من طاقت الغوٹوں، اگر عدد ①

## صيفی 2010

[illegible]

## صيفی 2011

٢- لأن الألكتروليتات لها أماكن مختلفة من القطب (١) حيث أن الفوتون ذو الزخم الأعلى ينتزع الإلكترون من محف معين للقطب (١)

## صيف 2011

$$4. P - 0. P = P \Delta - 1. P$$

$$\text{ev. } 1.0 = \frac{1}{13.7} = 4. P$$

$$1.0 + (-1.0) = 0 = P \Delta$$

$$1.0 \times 9 = 9$$

$$1.0 \times 9 = 9$$

**شماره ۲۰۱۳**

[illegible]

## صيفي 2013

۱. اے یوں ملتا ہے کہ  $\frac{1}{2} \times 10 = 5$  ہوتا ہے  
 اور اسے (تقریباً) طاقتہ الحکمہ کے اندر سے نکال دیا جائے  
 ۲.  $\frac{1}{2} \times 10 = 5$  ہوتا ہے  
 ۳.  $\frac{1}{2} \times 10 = 5$  ہوتا ہے  
 ۴.  $\frac{1}{2} \times 10 = 5$  ہوتا ہے  
 ۵.  $\frac{1}{2} \times 10 = 5$  ہوتا ہے

# استئلة وزارة

الأستاذ: يوسف غيث

مكتشف مادة الفيزياء

## فيزياء الكم

شتوي 2014

١- باحث في الفيزياء الحديثة قد اقترح أن تكون الإلكترونات في الذرة لها طاقة حركية معينة، وأن هذه الطاقة تتغير مع تغير نصف قطر المدار. فلو كانت هذه الطاقة تتغير مع نصف قطر المدار كما يلي:

$$E_n = \left[ \frac{1}{n^2} - \frac{1}{n^2} \right] R = \frac{1}{n^2} R$$

حيث  $R$  ثابت، و  $n$  عدد صحيح موجب. فلو كانت هذه الطاقة تتغير مع نصف قطر المدار كما يلي:

$$E_n = \frac{1}{n^2} R = \frac{1}{n^2} R$$

فما هي الطاقة الحركية للإلكترون في المدار  $n=1$ ؟

٢- لو كانت الطاقة الحركية للإلكترون في المدار  $n=1$  تساوي  $13.6$  إلكترون فولت، فما هي الطاقة الحركية للإلكترون في المدار  $n=2$ ؟

٣- لو كانت الطاقة الحركية للإلكترون في المدار  $n=1$  تساوي  $13.6$  إلكترون فولت، فما هي الطاقة الحركية للإلكترون في المدار  $n=2$ ؟

٤- لو كانت الطاقة الحركية للإلكترون في المدار  $n=1$  تساوي  $13.6$  إلكترون فولت، فما هي الطاقة الحركية للإلكترون في المدار  $n=2$ ؟

٥- لو كانت الطاقة الحركية للإلكترون في المدار  $n=1$  تساوي  $13.6$  إلكترون فولت، فما هي الطاقة الحركية للإلكترون في المدار  $n=2$ ؟

٦- لو كانت الطاقة الحركية للإلكترون في المدار  $n=1$  تساوي  $13.6$  إلكترون فولت، فما هي الطاقة الحركية للإلكترون في المدار  $n=2$ ؟

٧- لو كانت الطاقة الحركية للإلكترون في المدار  $n=1$  تساوي  $13.6$  إلكترون فولت، فما هي الطاقة الحركية للإلكترون في المدار  $n=2$ ؟

٨- لو كانت الطاقة الحركية للإلكترون في المدار  $n=1$  تساوي  $13.6$  إلكترون فولت، فما هي الطاقة الحركية للإلكترون في المدار  $n=2$ ؟

٩- لو كانت الطاقة الحركية للإلكترون في المدار  $n=1$  تساوي  $13.6$  إلكترون فولت، فما هي الطاقة الحركية للإلكترون في المدار  $n=2$ ؟

١٠- لو كانت الطاقة الحركية للإلكترون في المدار  $n=1$  تساوي  $13.6$  إلكترون فولت، فما هي الطاقة الحركية للإلكترون في المدار  $n=2$ ؟

صيفي 2014

١- لو كانت الطاقة الحركية للإلكترون في المدار  $n=1$  تساوي  $13.6$  إلكترون فولت، فما هي الطاقة الحركية للإلكترون في المدار  $n=2$ ؟

٢- لو كانت الطاقة الحركية للإلكترون في المدار  $n=1$  تساوي  $13.6$  إلكترون فولت، فما هي الطاقة الحركية للإلكترون في المدار  $n=2$ ؟

٣- لو كانت الطاقة الحركية للإلكترون في المدار  $n=1$  تساوي  $13.6$  إلكترون فولت، فما هي الطاقة الحركية للإلكترون في المدار  $n=2$ ؟

٤- لو كانت الطاقة الحركية للإلكترون في المدار  $n=1$  تساوي  $13.6$  إلكترون فولت، فما هي الطاقة الحركية للإلكترون في المدار  $n=2$ ؟

٥- لو كانت الطاقة الحركية للإلكترون في المدار  $n=1$  تساوي  $13.6$  إلكترون فولت، فما هي الطاقة الحركية للإلكترون في المدار  $n=2$ ؟

٦- لو كانت الطاقة الحركية للإلكترون في المدار  $n=1$  تساوي  $13.6$  إلكترون فولت، فما هي الطاقة الحركية للإلكترون في المدار  $n=2$ ؟

٧- لو كانت الطاقة الحركية للإلكترون في المدار  $n=1$  تساوي  $13.6$  إلكترون فولت، فما هي الطاقة الحركية للإلكترون في المدار  $n=2$ ؟

٨- لو كانت الطاقة الحركية للإلكترون في المدار  $n=1$  تساوي  $13.6$  إلكترون فولت، فما هي الطاقة الحركية للإلكترون في المدار  $n=2$ ؟

٩- لو كانت الطاقة الحركية للإلكترون في المدار  $n=1$  تساوي  $13.6$  إلكترون فولت، فما هي الطاقة الحركية للإلكترون في المدار  $n=2$ ؟

١٠- لو كانت الطاقة الحركية للإلكترون في المدار  $n=1$  تساوي  $13.6$  إلكترون فولت، فما هي الطاقة الحركية للإلكترون في المدار  $n=2$ ؟



## اسئلة وازارة

### الأستاذ: يوسف غيث

## مكتشف مادة الفيزياء

## فیزیکاء الڪم

## صيفي 2015

[illegible]

## ششوی 2016

[illegible]

## اسئلة وزارة

الأستاذ: يوسف غيث

مكتف مادة الفيزياء

## الفيزياء النووية

### اسئلة وزارة مرقبة حسب الفصول

شتوي 2009

(٧) نواة عنصر غير مستقر، أطلقت أربع جسيمات بيتا وجسيم ألفا واحد، فإن النواة الناتجة تكون :

أ (  $\begin{smallmatrix} A-4 \\ Z+2 \end{smallmatrix} Y$  ) ب (  $\begin{smallmatrix} A-2 \\ Z-4 \end{smallmatrix} Y$  ) ج (  $\begin{smallmatrix} A+2 \\ Z+4 \end{smallmatrix} Y$  ) د (  $\begin{smallmatrix} A+4 \\ Z-2 \end{smallmatrix} Y$  )

ترسفت

صيفي 2009

ج) انقل إلى دفتر إجابتك المعادلات النووية الآتية وأكملها موزونة، (٤ علامات)

مستخدماً الرموز الفيزيائية الصحيحة.

$$4 \left( \begin{smallmatrix} 1 \\ 1 \end{smallmatrix} H \right) \longrightarrow \begin{smallmatrix} 4 \\ 2 \end{smallmatrix} He + \dots$$

$$\begin{smallmatrix} 14 \\ 6 \end{smallmatrix} C \longrightarrow \begin{smallmatrix} 14 \\ 7 \end{smallmatrix} N + \dots + \dots$$

ترسفت

صيفي 2010

ب) يمكن التعبير عن تفاعل الاندماج النووي بالمعادلة :

$$\begin{smallmatrix} 3 \\ 1 \end{smallmatrix} H + \begin{smallmatrix} 2 \\ 1 \end{smallmatrix} H \longrightarrow \begin{smallmatrix} 4 \\ 2 \end{smallmatrix} He + \begin{smallmatrix} 1 \\ 0 \end{smallmatrix} n$$

١) لماذا سمى هذا التفاعل بالتفاعل النووي الحراري؟

٢) احسب طاقة الربط النووية لنواة  $\begin{smallmatrix} 4 \\ 2 \end{smallmatrix} He$  بوحدة (و.ك.ذ.).

٨) (علامات)

ك  $\begin{smallmatrix} 4 \\ 2 \end{smallmatrix} He = (4,0039)$  و.ك.ذ.

ترسفت

## اسئلة وزارة

الأستاذ: يوسف غيث

مكتف مادة الفيزياء

## الفيزياء النووية

### شتوي 2011

٥) عدد جسيمات ألفا وبيتا المنبعثة من سلسلة تحولات تضمحل خلالها نواة (Th) إلى نواة (Rn) هي:

(أ) ٢ ألفا ، ٣ بيتا (ب) ٣ ألفا ، ٤ بيتا (ج) ٢ ألفا ، ٢ بيتا (د) ٣ ألفا ، ٢ بيتا

٦) القوة التي تنشأ بين بروتون ونيوترون داخل النواة هي:

(أ) تجاذب نووي فقط (ب) تجاذب كهربائي فقط

### شتوي 2012

٩) عدد النيوترونات في النوى المستقرة يكون:

(أ) أكبر من عدد البروتونات للنوى الخفيفة (ب) أقل من عدد البروتونات للنوى الخفيفة

(ج) أكبر من عدد البروتونات للنوى الثقيلة (د) أقل من عدد البروتونات للنوى الثقيلة

### صيفي 2012

(٧ علامات)

١- ما عدد جسيمات ألفا وبيتا المنبعثة من اضمحلال Rn إلى Bi ؟

٢- مثل اضمحلال الرصاص Pb بمعادلة نووية موزونة.

٣- اكتب اثنين من المبادئ التي يخضع لها الاضمحلال الإشعاعي.

ب) يبين الشكل المجاور جزءاً من سلسلة الاضمحلال الإشعاعي لليورانيوم (٢٣٨)، معتمداً على الشكل:

### صيفي 2013

٢- تمر نواة غير مستقرة بسلسلة اضمحلالات إشعاعية، فنجد أن العدد الكتلي للنواة الناتجة يقل بثمانية وحدات عن النواة الأصلية بينما يبقى العدد الذري كما هو. نستنتج أن عدد جسيمات ألفا وبيتا المنبعثة:

• (٢ ألفا ، ٢ بيتا) • (٢ ألفا ، ٤ بيتا) • (١ ألفا ، ٢ بيتا) • (١ ألفا ، ١ بيتا)

# استئلة وزارة

الأستاذ: يوسف غيث

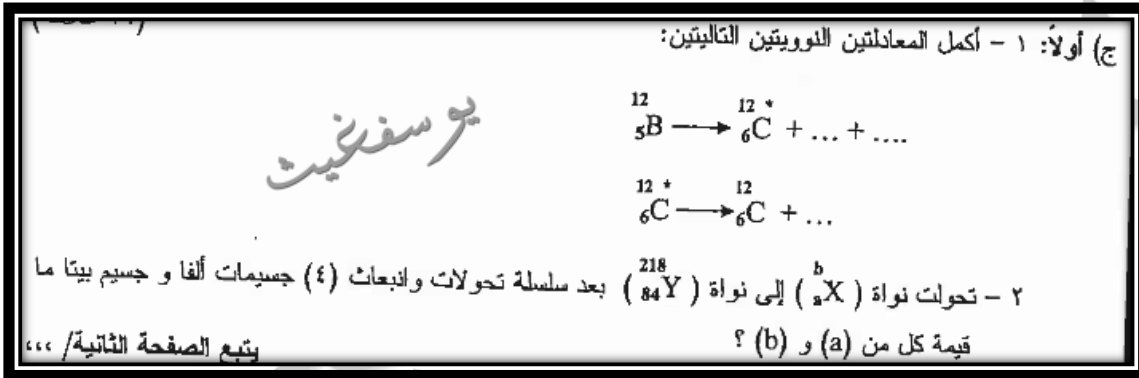
مكثف مادة الفيزياء

## الفيزياء النووية

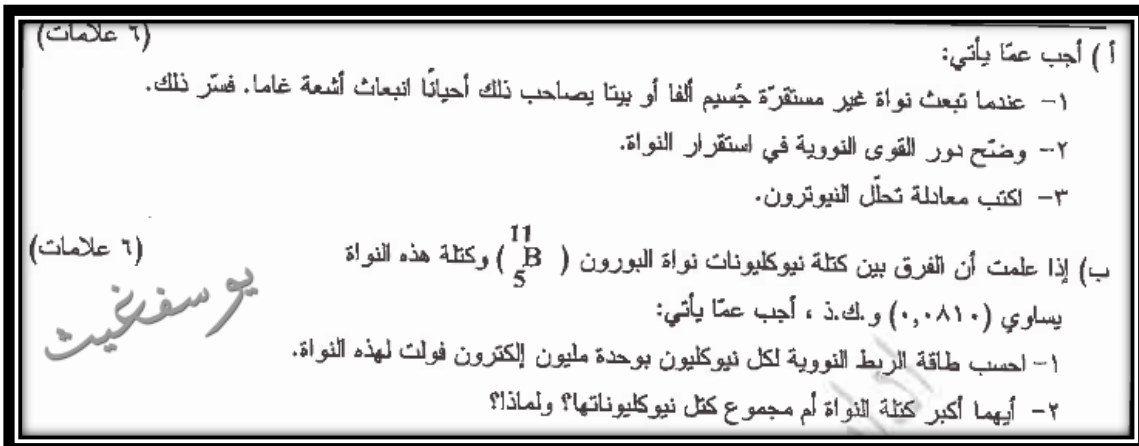
صيفي 2014



شتوي 2015



صيفي 2015



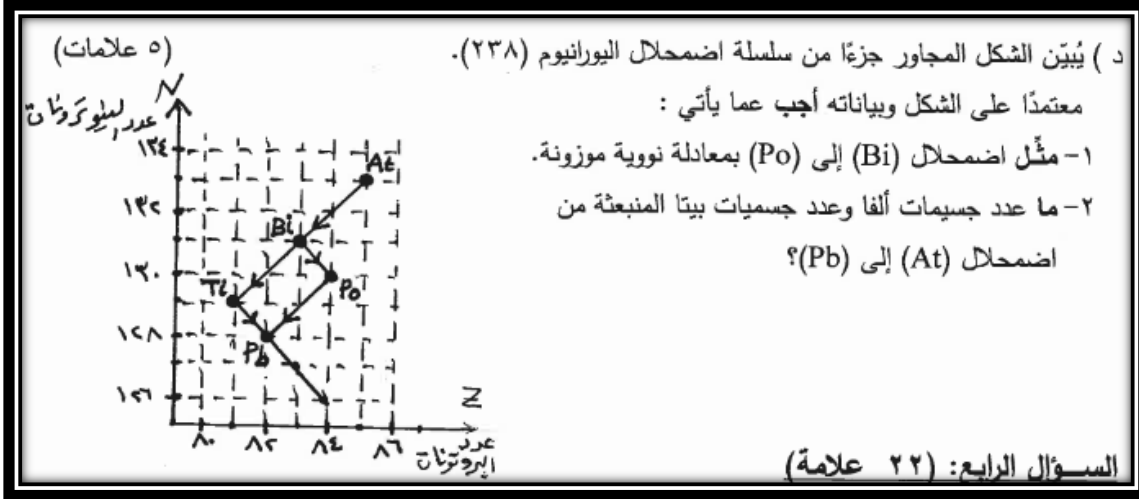
## اسئلة وزارة

الأستاذ: يوسف غيث

مكتف مادة الفيزياء

## الفيزياء النووية

شتمبر 2017





# اسئلة وزارة

الأستاذ: يوسف غيث

مكتف مادة الفيزياء

## الفيزياء النووية

### الإجابات النموذجية

صيفي 2010

بملاحظة أن  $m$  و  $n$  هما عددان صحيحان موجبان

$$\textcircled{1} \quad \Delta E = h \nu$$

$$\textcircled{2} \quad \Delta E = (m \nu + n \nu) = (m + n) h \nu$$

$$\textcircled{3} \quad 6.626 \times 10^{-34} \times (1.07 \times 10^{15} + 1.07 \times 10^{15}) =$$

$$6.626 \times 10^{-34} \times 2.14 \times 10^{15} =$$

$$1.41 \times 10^{-18} \text{ جول}$$

يوسف غيث

شتوي 2011

$$\textcircled{1} \quad \Delta E = h \nu$$

$$\textcircled{2} \quad \Delta E = (m \nu + n \nu) = (m + n) h \nu$$

$$\textcircled{3} \quad 6.626 \times 10^{-34} \times (1.07 \times 10^{15} + 1.07 \times 10^{15}) =$$

$$6.626 \times 10^{-34} \times 2.14 \times 10^{15} =$$

$$1.41 \times 10^{-18} \text{ جول}$$

يوسف غيث

# اسئلة وزارة

الأستاذ: يوسف غيث

مكثف مادة الفيزياء

## الفيزياء النووية

صيفي 2012

① ①  
 فرع (ب) ١- عدد الجسيمات : (٥) ألفا + (١) بيتا  
 ⑤ ⑤ ① ①  

$${}_{82}^{214}\text{Pb} \rightarrow {}_{83}^{214}\text{Bi} + {}_{-1}^0\beta + {}_0^0\bar{\nu}$$
 ٢- المعادلة :  
 ٣- اشرح مما يأتي :-  
 ⑤  
 حفظ ( الطاقة - الكتلة )  
 حفظ الزخم  
 حفظ العدد الكتلي  
 حفظ العدد الذري ( الشحنة )

صيفي 2013

٢٢ ٢٢ ٢٢  
 ⑤  
 ترسفتيت

صيفي 2014

① ① ①  
 ١- هـ أ و ث نواة مشعرة - - -  
 ٢- هـ نواة تبعث دقيقتين ألفا - - -  
 ٣- هـ تبعث دقيقتين بيتا - - -  
 ① ① ①


## اسئلة وازارة

### الأستاذ: يوسف غيث

## مكتشف مادة الفيزياء

## الفيزياء النووية

**2015** 



## صيفی 2015

[illegible]

## ششوی 2017

# اسئلة وزارة

الأستاذ: يوسف غيث

مكتف مادة الفيزياء

## الفيزياء النووية

٤- نكتب التفاعل النووي التالي (١)

٥- اكتب عدد جسيمات ألفا و عدد جسيمات بيتا في التفاعل النووي التالي (١)

$${}_{83}^{214}\text{Bi} \rightarrow {}_{84}^{214}\text{Po} + {}_{-1}^0\text{e}$$

٦- اكتب عدد جسيمات ألفا و عدد جسيمات بيتا في التفاعل النووي التالي (١)

$${}_{83}^{214}\text{Bi} \rightarrow {}_{84}^{214}\text{Po} + {}_{-1}^0\text{e}$$

٧- اكتب عدد جسيمات ألفا و عدد جسيمات بيتا في التفاعل النووي التالي (١)

$${}_{83}^{214}\text{Bi} \rightarrow {}_{84}^{214}\text{Po} + {}_{-1}^0\text{e}$$

يوسف غيث

## اسئلة ضع دائرة على الفصل الدراسي الثاني

- ١ - تحرك إلكترون وبروتون في مستوى الصفحة إلى اليمين ، ثم دخلا في مجال مغناطيسي باتجاه عامودي على الصفحة إلى الداخل ، المجال يؤثر عليهما بقوة لحظة دخولهما كما يلي :
  - أ. البروتون مع عقارب الساعة والإلكترون عكس عقارب الساعة .
  - ب. البروتون عكس عقارب الساعة والإلكترون مع عقارب الساعة .
  - ج. البروتون لليمين والإلكترون للييسار .
  - د. البروتون للييسار والإلكترون لليمين .
- ٢ - إذا تغير اتجاه الجسم وبقيت سرعته ثابتة فإنه :
  - أ. يسير بسرعة ثابتة مقدارا واتجاها .
  - ب. يتحرك حركة دائرية بتسارع متغير المقدار .
  - ج. يتحرك حركة دائرية بتسارع ثابت المقدار .
  - د. يسير بتسارع خطي منتظم .
- ٣ - إذا اثر مجال مغناطيسي باتجاه يعامد حركة بروتون وإلكترون يتجهان بنفس الاتجاه فإنهما :
  - أ. يتحركان بشكل معاكس لبعضهما .
  - ب. يتحركان بشكل معامد لبعضهما .
  - ج. يبقيان في نفس الاتجاه .
  - د. البروتون يتحرك حركة دائرية والإلكترون يتوقف .
- ٤ - المجال المغناطيسي في مركز ملف دائري لا يعتمد على :
  - أ. النفاذية المغناطيسية
  - ب. تيار الملف
  - ج. نصف قطر الملف
  - د. مساحة مقطع الملف
- ٥ - إذا مر تيار كهربائي في سلك مستقيم عامودي على الصفحة وكان اتجاه التيار نحو الناظر فان المجال المغناطيسي فوق السلك تماما يكون نحو :
  - أ. الشرق
  - ب. الغرب
  - ج. الشمال
  - د. الجنوب
- ٦ - إذا تعرضت شحنة ساكنة لمجالين كهربائي ومغناطيسي احدهما يتجه للشمال والآخر للجنوب ، فإنها ستتأثر :
  - أ. بقوة كهربائية فقط .
  - ب. بقوة مغناطيسية فقط .
  - ج. بالقوتين معاً .
  - د. لا تتأثر بأي قوة .
- ٧ - إذا تعرضت شحنة ساكنة لمجالين كهربائي ومغناطيسي احدهما يتجه شمالا والآخر غربا ، فإنها ستتأثر :
  - أ. بقوة كهربائية فقط .
  - ب. بقوة مغناطيسية فقط .
  - ج. بالقوتين معاً .
  - د. لا تتأثر بأي قوة .
- ٨ - يقاس المجال المغناطيسي بوحدة :
  - أ. جول/كولوم
  - ب. ويبر/ث
  - ج. تسلا
  - د. كولوم/ث
- ٩ - المجال المغناطيسي المنتظم هو المجال الذي يكون فيه :
  - أ. المقدار ثابت والاتجاه متغير .
  - ب. المقدار متغير والاتجاه ثابت .
  - ج. المقدار والاتجاه ثابتين .
  - د. المقدار والاتجاه متغيرين .
- ١٠ - يكون شكل المجال المغناطيسي المتولد عن مرور تيار كهربائي في سلك موصل مستقيم هو :
  - أ. خطوط مستقيمة خارجة من السلك .
  - ب. خطوط لولبية حول السلك .
  - ج. خطوط منحنية غير متوازية .
  - د. حلقات دائرية تتحد بالمركز .



١١- شدة المجال المغناطيسي عند نقطة داخل ملف لولبي تتناسب عكسياً مع :  
 أ- عدد لفاته . ب- طول الملف . ج- التيار المار بالملف . د- النفاذية المغناطيسية للوسط .

١٢- يتأثر السلك المجاور بقوة مغناطيسية باتجاه :  
 أ- عمودي على الورقة وللخارج . ب- الجنوب .  
 ج- عمودي على الورقة وللداخل . د- الشمال .

١٣- إذا تحرك الكترون سرعته  $1,6 \times 10^6$  م / ث ، داخل مجال مغناطيسي مقداره  $9,1 \times 10^{-4}$  تسلا ، فان

نصف قطر دورانه داخل المجال يساوي :  
 أ- ١ م . ب- ١ سم . ج- ١٠ سم . د- ١٠ م .

١٤- عند دخول الكترون عامودياً داخل مجال مغناطيسي منتظم بسرعة مقدارها  $(4 \times 10^6 \text{ م / ث})$  ، فان الكمية الفيزيائية التي تساوي صفر هي :

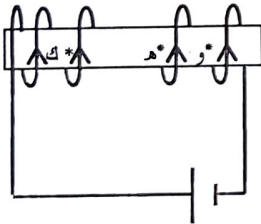
أ- الطاقة الحركية . ب- القوة المغناطيسية .  
 ج- الشغل المبذول من القوة المغناطيسية . د- سرعة الالكترتون .

١٥- القوة المغناطيسية المتولدة من مرور شحنة عامودياً على مجال مغناطيسي منتظم تكون :  
 أ- متعامدة مع اتجاه المجال المغناطيسي فقط . ب- متعامدة مع اتجاه حركة الشحنة فقط .  
 ج- متعامدة مع اتجاه المجال واتجاه حركة الشحنة . د- موازية لاتجاه المجال المغناطيسي .

١٦- أهم مصادر المجال المغناطيسي هو :  
 أ- التيار الكهربائي . ب- المغناطيس الطبيعي . ج- قوة لورنتز . د- قاعدة قبضة اليد اليمنى .

١٧- تستخدم العلاقة  $(\frac{v}{c} = \frac{B}{\mu_0})$  لحساب المجال المغناطيسي لـ :

أ- ملف دائري . ب- سلك لا نهائي . ج- ملف لولبي . د- محث .



١٨- يمثل الشكل المجاور ملف لولبي يسري به تيار ، فان :

أ-  $B = \mu_0 I$  ،  $B = \mu_0 I$  .  
 ب-  $B = \mu_0 I$  ،  $B < \mu_0 I$  .  
 ج-  $B = \mu_0 I$  ،  $B > \mu_0 I$  .  
 د-  $B = \mu_0 I$  ،  $B > \mu_0 I$  .

١٩- الأثر الذي يحدثه المجال المغناطيسي على الجسيمات المشحونة داخل المسارع النووي هو :  
 أ- تسريعها . ب- إكسابها طاقة . ج- توجيهها . د- إبطاؤها .



٢٠- يمكن الحصول على المجال المغناطيسي المنطبق على مستوى سطح الورقة

عن طريق امرار تيار كهربائي في سلك مستقيم موضوع :

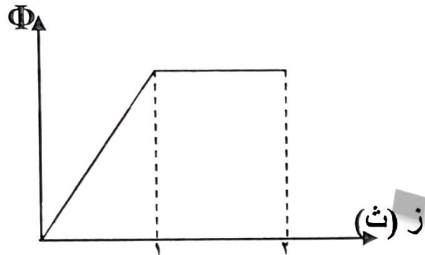
أ- في مستوى الورقة ويمر فيه تيار باتجاه الشمال .  
 ب- عمودياً على مستوى الورقة ويمر فيه تيار خارجاً من الصفحة ( نحو الناظر ) .  
 ج- في مستوى الورقة ويمر فيه تيار باتجاه الغرب .  
 د- عمودياً على مستوى الورقة ويمر فيه تيار داخلاً بالصفحة ( بعيداً عن الناظر ) .

٢١ - تتولد قوة دافعة كهربائية حثية ذاتية طردية في محث عند:

- أ. زيادة التيار في المحث  
ب. نقصان مقاومة الدارة  
ج. زيادة مقاومة الدارة  
د. لحظة إغلاق الدارة

٢٢ - في دارة الحث الذاتي لزيادة الفترة الزمنية ليصل التيار لقيمته العظمى يجب أن:

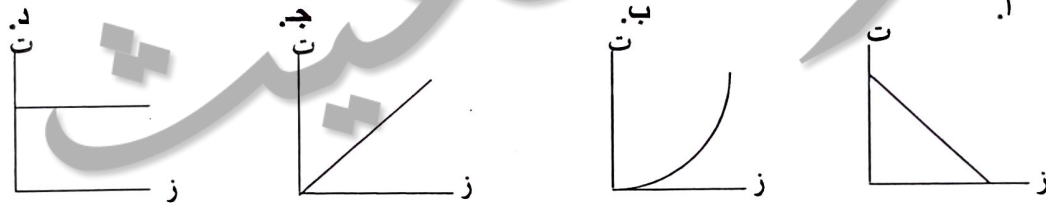
- أ. نزيد محاثة المحث  
ب. نزيد معدل تغير التيار  
ج. نثبت قيمة المقاومة  
د. نقلل قيمة محاثة المحث



٢٣ - إذا تغير التدفق المغناطيسي الذي يعبر ملف حسب الرسم البياني المبين في الشكل المجاور فإنه سيتولد بالملف قوة دافعة كهربائية حثية أثناء:

- أ. الثانية الأولى فقط  
ب. الثانية الثانية فقط  
ج. الثانيةين معاً  
د. فترة ثبوت التدفق

٢٤ - العلاقة التالية توضح العلاقة بين التيار والزمن في دارة تحوي جهاز كهربائي وبطارية فقط:



٢٥ - ( يكون اتجاه التيار الحثي في الملف بحيث ينشئ تدفقاً مغناطيسياً يقاوم التغير في التدفق المغناطيسي الذي أحدثه ) تسمى هذه القاعدة:

- أ - لنز  
ب - فارادي  
ج - جول  
د - هنري

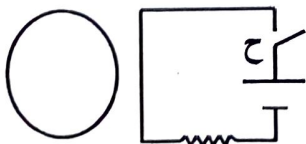
٢٦ - إذا أردنا زيادة المدة الزمنية لإضمحلال التيار في دارة مقاومة ومحث فإننا:

- أ) نزيد قيمة المحاثة . ب) نقلل قيمة المحاثة . ج) نقلل قيمة (ق) . د) نثبت قيمة (ق) .

٢٧ - لتوليد قوة دافعة حثية فإن أول ما يحدث من الكميات التالية هو:

- أ)  $\Phi \Delta$  ب)  $\Delta \mathcal{E}$  ج)  $\mathcal{E}$  د)  $\mathcal{E}$

٢٨ - لحظة غلق الدارة المرسومة جانباً ، فإن التيار الحثي المتولد في الحلقة يكون:

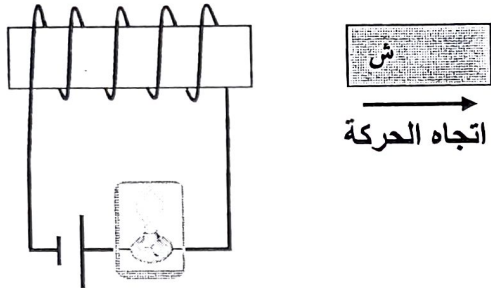


- أ) مع عقارب الساعة ليقاوم الزيادة في التدفق المغناطيسي .  
ب) مع عقارب الساعة ليقاوم النقصان في التدفق المغناطيسي .  
ج) عكس عقارب الساعة ليقاوم النقصان في التدفق المغناطيسي .  
د) عكس عقارب الساعة ليقاوم الزيادة في التدفق المغناطيسي .

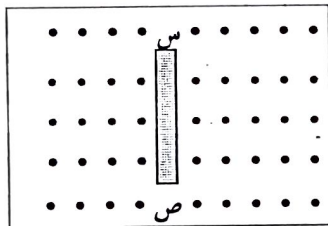
٢٩ - ملف حلزوني عدد لفاته (ن) لفة ، ومحاثته (ح) هنري ، اذا زيدت عدد لفاته بنفس اتجاه اللف لتصبح (٢ن) لفة مع بقاء طوله ثابتاً ، فان محاثته تصبح مساوية لـ :

- (أ) ٤ ح (ب) ٢ ح (ج) ح (د) ٠,٥ ح

٣٠ - لحظة تحريك المغناطيس بالاتجاه المبين في الشكل يتولد في الملف تيار حثي يولد فيه مجالاً مغناطيسياً يكون :



- (أ) باتجاه مجال المغناطيس فتقل إضاءة المصباح .  
(ب) باتجاه مجال المغناطيس فتزداد إضاءة المصباح .  
(ج) بعكس اتجاه مجال المغناطيس فتقل إضاءة المصباح .  
(د) بعكس اتجاه مجال المغناطيس فتزداد إضاءة المصباح .



٣١ - السلك (س ص) في الشكل المجاور يقع في مستوى أفقي داخل مجال مغناطيسي منتظم عمودي على مستوى الورقة نحو الخارج ، لكي يصبح الطرف (س) موجباً بالنسبة للطرف (ص) ينبغي تحريك السلك نحو :

- (أ) اليمين . (ب) اليسار . (ج) الأعلى . (د) الأسفل .

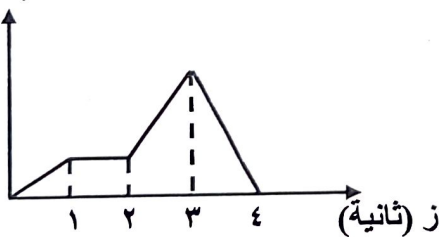
٣٢ - تعتمد محاثة الملف الحلزوني على :

- (أ) التيار الكهربائي المار به .  
(ب) التدفق المغناطيسي الذي يخترقه .  
(ج) المجال المغناطيسي المتولد خلاله .  
(د) الأبعاد الهندسية له .

٣٣ - وحدة المحاثة ( هنري ) تكافئ :

- (أ) فولت.أمبير/ث . (ب) أمبير.ث/فولت . (ج) فولت.ث/أمبير . (د) فولت.ث/أمبير .

(ويبر)  $\Phi$



٣٤ - يتغير التدفق المغناطيسي ( $\Phi$ ) عبر ملف مع الزمن

- (ز) حسب الرسم البياني الموضح في الشكل المجاور ، يكون مقدار القوة الدافعة الكهربائية الحثية المتولدة في الملف أكبر ما يمكن خلال الثانية :  
(أ) الأولى . (ب) الثانية . (ج) الثالثة . (د) الرابعة .



۱۰	۹	۸	۷	۶	۵	۴	۳	۲	۱
د	ج	ج	ج	ا	ب	د	ا	ج	ب
۲۰	۱۹	۱۸	۱۷	۱۶	۱۵	۱۴	۱۳	۱۲	۱۱
د	ج	ا	ب	ا	ج	ج	ب	د	ب
۲۷	۲۶	۲۵	۲۴	۲۳	۲۲	۲۱	۲۰	۱۹	۱۸
ب	ا	ا	د	ا	ا	ج	ا	ج	ب
۳۴	۳۳	۳۲	۳۱	۳۰	۲۹	۲۸	۲۷	۲۶	۲۵
د	ج	د	ب	ا	ا	د	ج	ج	ب

یوسف زین

# اسئلة ضع دائرة على الفصل الدراسي الثاني

\* اختر رمز الاجابة الصحيحة فيما يلي :

١. تزداد طاقة حركة الالكترونات الضونية بزيادة :  
 أ. طول موجة الضوء الساقط  
 ب. تردد العتبة للفلز  
 ج. تردد الضوء الساقط  
 د. شدة الضوء الساقط
٢. إذا انتقل إلكترون من المدار الثالث إلى الأول فان الطيف الكهرومغناطيسي المنبعث ينتمي إلى سلسلة :  
 أ. ليمان  
 ب. بالمر  
 ج. باشن  
 د. براكيت
٣. إذا انتقل إلكترون من مستوى الطاقة الثاني إلى مستوى الطاقة الثالث فان تردد الإشعاع الممتص يساوي :  
 أ.  $4,6 \times 10^{14}$  هيرتز  
 ب.  $5,5 \times 10^{14}$  هيرتز  
 ج.  $2,9 \times 10^{14}$  هيرتز  
 د.  $3,4 \times 10^{14}$  هيرتز
٤. إحدى الخصائص الآتية لا تنطبق على أشعة ألفا :  
 أ. تتكون من نوى ذرات الهيليوم  
 ب. تتأثر بالمجال المغناطيسي  
 ج. قدرتها العالية على النفاذ  
 د. قدرتها العالية على التأيين
٥. إذا اقترب نيوكليونان ليكونا نواة معينة ، فان كتلة النواة الناتجة :  
 أ. تقل  
 ب. تزداد قليلاً  
 ج. ثابتة  
 د. تزداد بمقدار كبير
٦. تمتاز القوى النووية بالخصائص الآتية ما عدا أنها :  
 أ. ذات مدى قصير  
 ب. ذات قوى كهربائية  
 ج. لا تعتمد على نوع النيوكليونات  
 د. قوة تجاذب
٧. إحدى المواد التالية تستخدم كمهدئات في المفاعل النووي :  
 أ. قضبان الكادميوم  
 ب. الديتيريوم  
 ج. الغرافيت  
 د. الهدروجين الثقيل
٨. تحتوي نواة التريتيوم ( $^3\text{H}$ ) في التركيب النووي على عدد من النيوكليونات يساوي :  
 أ. ١  
 ب. ٢  
 ج. ٣  
 د. صفر
٩. العناصر التي لها عدد كتلي من ( ٥٠ - ٨٠ ) هي :  
 أ. الأكثر اشعاعاً  
 ب. الأقل استقراراً  
 ج. الأقل ترابطاً  
 د. الأكثر استقراراً
١٠. كتلة الذرة مركزة في جزء صغير كروي الشكل هو النواة ، وكثافة النواة لنوى العناصر جميعها :  
 أ. تعتمد على حالة العنصر  
 ب. ثابتة للعناصر جميعها



ج- كبيرة للعناصر الثقيلة . د- صغيرة للعناصر الكبيرة .

١١. اذا أشعت نواة عنصر ما جسيم ألفا فإن العدد الذري لها :

أ- يزداد بمقدار ٤ ب- يزداد بمقدار ٢ ج- يقل بمقدار ٢ د- يقل بمقدار ٤

١٢. ينتمي الطيف الكهرومغناطيسي المنبعث الى سلسلة براكيت ، اذا انتقل الكترون

ذرة الهيدروجين من مستوى الطاقة السادس الى مستوى الطاقة :

أ- الخامس . ب- الرابع . ج- الثالث . د- الثاني .

١٣. اذا انتقل الكترون ذرة الهيدروجين من مستوى الطاقة الخامس (  $n=5$  ) الى

مستوى الطاقة الثالث (  $n=3$  ) ، فإن الاشعاع الناتج هو :

أ- ضوء مرئي . ب- أشعة فوق بنفسجية . ج- أشعة تحت حمراء . د- ضوء أبيض .

١٤. النيوتريـنو جسيم نووي ينتج عن عملية :

أ- تحلل البروتون الى نيوترون وبوزترون . ب- خروج إلكترون من النواة .

ج- تحلل النيوترون الى بروتون وإلكترون . د- خروج بيتا السالب من النواة .

١٥. لكي تصبح النوى غير المستقرة أكثر استقراراً فإنها تتحول الى نوى ذات :

أ- كتلة أقل وطاقة ربط أعلى . ب- كتلة أكبر وطاقة ربط أقل .

ج- كتلة أكبر وطاقة ربط أعلى . د- كتلة أقل وطاقة ربط أقل .

١٦. عندما تتفاعل الفوتونات مع الالكترونات كما في ظاهرة كومبتون فإن الفوتون :

أ- يفقد جزءاً من طاقته وتزداد سرعته . ب- يفقد جزءاً من طاقته وتقل سرعته

ج- يخفي وتنتقل طاقته الى الالكترون . د- يفقد جزءاً من طاقته وتبقى سرعته ثابتة

١٧. في استقرار النواة البروتونات تتجاذب بفعل القوى النووية كما أنها :

أ- تتنافر بفعل القوى المغناطيسية . ب- تتجاذب بفعل القوى المغناطيسية .

ج- تتجاذب بفعل القوى الكهربائية . د- تتنافر بفعل القوى الكهربائية .

١٨. للحصول على موجات تزيد من قوة التمييز للمجهر الالكتروني نلجأ الى :

أ- زيادة زخم الالكترونات مما يقلل طول موجتها .

ب- زيادة زخم الالكترونات مما يزيد طول موجتها .

ج- تقليل زخم الالكترونات مما يقلل طول موجتها .

د- تقليل زخم الالكترونات مما يزيد طول موجتها .

١٩. يُطلق على أقل فرق جهد يلزم لجعل التيار الكهروضوئي صفر بالظاهرة

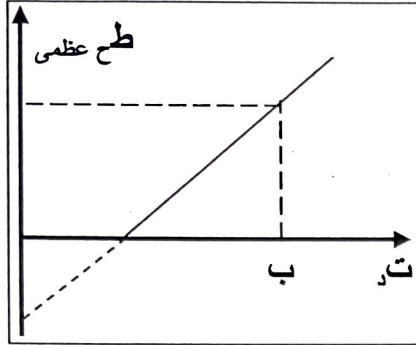
الكهروضوئية اسم :

أ - فرق الجهد الطردي . ب - فرق الجهد العكسي .

ج - فرق جهد العتبة . د - فرق جهد الاشباع .

٢٠. افترض العلماء أن الضوء :

- أ - عبارة عن موجات .  
ب - للضوء طبيعة جسيمية .  
ج - جسيمات مادية .  
د - للضوء طبيعة مزدوجة ( موجية وجسيمية ) .



٢١. الكمية الفيزيائية التي تمثل بالرمز ( ب )

في الشكل المجاور هي :

- أ - سالب اقتران الشغل .  
ب - ط ح عظمى للالكترونات .  
ج - تردد العتبة للفلز .  
د - تردد الضوء الساقط .

٢٢ - تثبت ظاهرة كومبتون أن :

- أ - الضوء له طبيعة جسيمية .  
ب - الضوء عبارة عن موجات .  
ج - الجسيمات لها كتلة وشحنة .  
د - الجسيمات لها طبيعة موجية .

٢٣ - الطيف الذي هو عبارة عن خطوط ملونة ذات أطوال موجية محددة وتظهر على خلفية سوداء هو طيف :

- أ - متصل .  
ب - امتصاص خطي .  
ج - انبعاث خطي .  
د - ضوء غير مرئي .

٢٤ - تختص المتسلسلات بطيف :

- أ - متصل .  
ب - انبعاث وامتصاص .  
ج - امتصاص فقط .  
د - انبعاث فقط .

٢٥ - طول موجة الخط الطيفي الرابع في متسلسلة باشن ينتقل من المدار :

- أ - ٤ .  
ب - ٥ .  
ج - ٦ .  
د - ٧ .

٢٦ - الطاقة التي يجب أن تزود بها الالكترون ليحرر من الذرة من غير اكسابه طاقة حركية تُسمى :

- أ - طاقة امتصاص .  
ب - طاقة التأين .  
ج - طاقة الاستقرار .  
د - طاقة الربط .

٢٧ - التطبيق العملي على فرضية دي بروي للموجات المصاحبة للجسام المادية هو :

- أ - المجهر الالكتروني .  
ب - المطياف .  
ج - مطياف الكتلة .  
د - المفاعل النووي .

٢٨ - الكمية التي تحدد نوع مادة العنصر هي عدد :

- أ - الكتلي .  
ب - النيوكليونات .  
ج - النيوترونات .  
د - البروتونات .

٢٩ - احدى الكميات التالية لا يمكن أن تكون لفوتون :

- أ - الشحنة .  
ب - الطاقة .  
ج - سرعة ثابتة .  
د - التردد .

٣٠- احدى الانوية التالية مستقرة :

- أ -  ${}^9_5X$       ب -  ${}^{30}_{15}X$       ج -  ${}^{50}_{25}X$       د -  ${}^{230}_{85}X$

٣١- تتميز الانوية المستقرة عن الانوية غير المستقرة باللون :

- أ - الابيض .      ب - الاحمر .      ج - الأزرق .      د - الأخضر .

٣٢- تمكن العلماء من تعيين كتل النوى ومكوناتها بدقة كبيرة بعد اكتشاف جهاز :  
أ - المجهر الالكتروني .      ب - المطياف .      ج - مطياف الكتلة .      د - المفاعل النووي .

٣٣- نوع الاشعاع الذي ليس له كتلة هو :

- أ - الفا .      ب - بيتا .      ج - جاما .      د - البوزترون .

٣٤- نوع الأشعة التي لها أعلى قدرة على التأين هي :

- أ - الفا .      ب - بيتا .      ج - جاما .      د - البوزترون .

٣٥- النواة غير المستقرة التي تبعث ألفا تفقد :

- أ - نيوترونين .      ب - ٤ نيوترونات .      ج - بروتونين فقط .      د - ٤ بروتونات .

٣٦- الاضمحلال الذي لا يُغير نوع المادة هو اضمحلال :

- أ - الفا .      ب - بيتا السالب .      ج - بيتا الموجب .      د - جاما .

٣٧- جسيم النيوتريينو يرافق انبعاث :

- أ - الفا .      ب - بيتا السالب .      ج - بيتا الموجب .      د - جاما .

٣٨- تنتهي سلسلة الثوريوم بنواة نظير الرصاص المستقر ذات العدد الكتلي :

- أ - ٢٠٦ .      ب - ٢٠٧ .      ج - ٢٠٨ .      د - ٢٠٩ .

٣٩- تمر نواة غير مستقرة بسلسلة اضمحلات اشعاعية ، نجد أن العدد الكتلي للنواة الناتجة يقل بثمانى وحدات عن النواة الأصلية بينما يبقى العدد الذري كما هو . نستنتج أن عدد دقائق ألفا وبيتا المنبعثة :

- أ - ( ٢ ألفا ، ٢ بيتا )      ب - ( ٢ ألفا ، ٤ بيتا )  
ج - ( ١ ألفا ، ٢ بيتا )      د - ( ٢ ألفا ، ١ بيتا )

٤٠- الجزء الذي يقوم بتحويل بخار الماء الفائض بالمفاعل النووي الى ماء هو :

- أ - توربين البخار .      ب - أبراج التبريد .      ج - المبادل الحراري .      د - المكثف .



۹	۸	۷	۶	۵	۴	۳	۲	۱
د	ج	ج	ب	ا	ج	ا	ا	ج
۱۸	۱۷	۱۶	۱۵	۱۴	۱۳	۱۲	۱۱	۱۰
ا	د	د	ا	ا	ج	ب	ج	ب
۲۷	۲۶	۲۵	۲۴	۲۳	۲۲	۲۱	۲۰	۱۹
ا	ب	د	د	ج	ا	د	د	ب
۳۶	۳۵	۳۴	۳۳	۳۲	۳۱	۳۰	۲۹	۲۸
د	ا	ا	ج	ج	ج	ب	ا	د
				۴۰	۳۹	۳۸	۳۷	
				د	ب	ج	ج	

یوسفی